

7

الفصل الأول

كتاب

الأساس

الدراسات الاجتماعية

إعداد الأستاذ / إياد محمد خضر

العام الدراسي

الدولة الإسلامية  
عابرة للقارّات

الوحدة  
الأولى

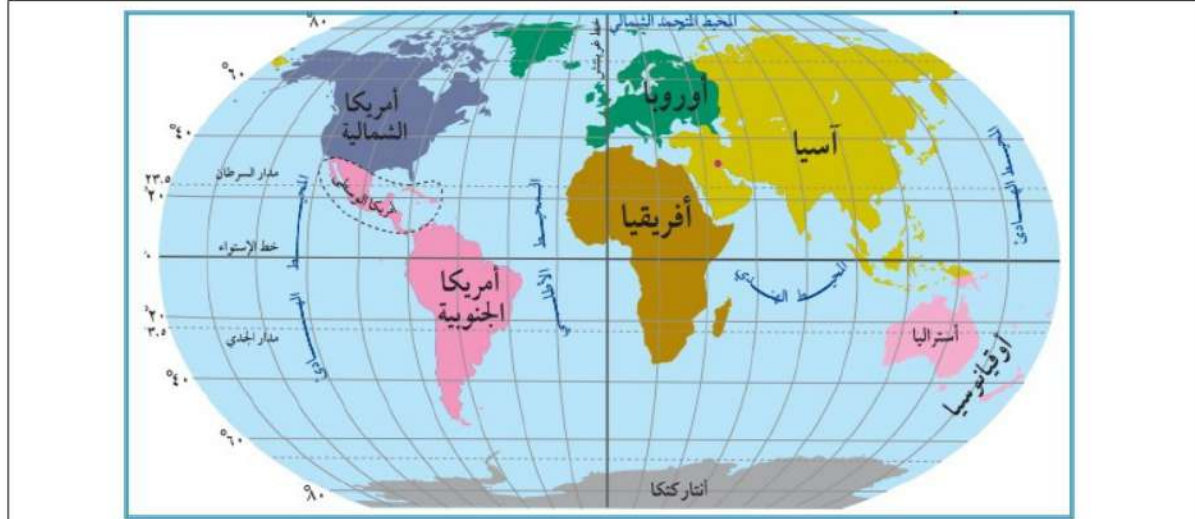


شجرة (الرضوان) في قلب الصحراء ربطت الجغرافيا بالتاريخ  
وأُسست لبناء دولة امتدت من مشارق الأرض إلى مغاربها.

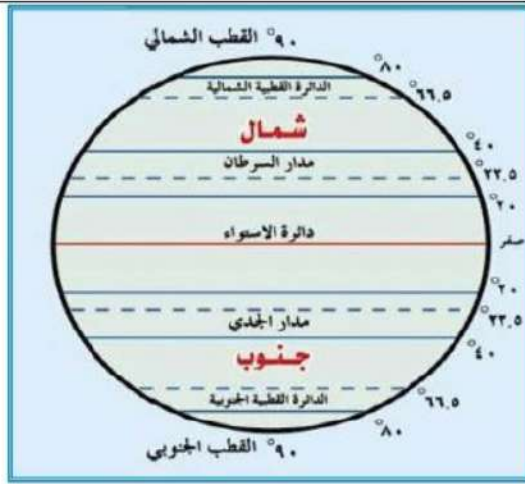
## الدرس الأول: قارة آسيا وامتداد الدولة الإسلامية فيها

### خطوط الطول ودوائر العرض

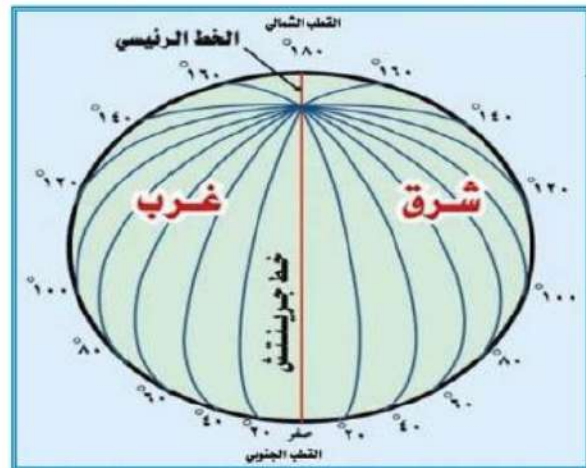
نشاط (١) : نلاحظ الخريطة، والأشكال، ثم نقوم بما يأتي :



خريطة قارات العالم



دوائر العرض



خطوط الطول



١. نعين القارات التي تظهر على الخريطة ؟

قارة آسيا ، قارة أفريقيا ، قارة أوروبا ، قارة أمريكا الشمالية ، قارة أمريكا الجنوبية ، قارة أنتاركتيكا .

٢. نحدد أهم خطوط الطول و دوائر العرض الرئيسية ؟

خط الطول الرئيسي : خط غرينتش .

دوائر العرض الرئيسية :

الدائرة العرضية	خط الاستواء	مدار السرطان	مدار الجدي	القطبية الشمالية	القطبية الجنوبية
الدرجة الفلكية	صفر	٢٣.٥ شمالاً	٢٣.٥ جنوباً	٦٦.٥ شمالاً	٦٦.٥ جنوباً

٣. نستنتج أهمية خطوط الطول و دوائر العرض ؟

تساعد خطوط الطول ودوائر العرض تحديد أي مكان على سطح الأرض .  
أهمية خطوط الطول :

١ . معرفة التوقيت العالمي .

٢ . معرفة مواقع البلدان بالنسبة لخط غرينتش .

أهمية دوائر العرض :

١ . تحديد مواعيد فصول السنة .

٢ . تحديد المناطق الحرارية والمناخ لأي منطقة في العالم .

٣ . معرفة حركة الرياح والسحب و الأمطار باختلاف الضغط الجوي .

ما المقصود بخطوط الطول ودوائر العرض ؟

هي خطوط وهمية ، رسمها العلماء على الخرائط والمجسمات ؛ بهدف تحديد الموقع الفلكي والوقت .

كم يبلغ عدد خطوط الطول ، وما أهمها ؟

يبلغ عدد خطوط الطول ٣٦٠ خطاً ، أهمها خط غرينتش الذي يقسم الكرة الأرضية إلى قسمين شرقي و غربي .

ما أهمية خطوط الطول ؟

١ . معرفة التوقيت العالمي .  
٢ . معرفة مواقع البلدان بالنسبة لخط غرينتش .

كم يبلغ عدد دوائر العرض ، وما أهمها ؟

يبلغ عدد دوائر العرض ١٨٠ دائرة ، أهمها خط الاستواء الذي يقسم الكرة الأرضية إلى قسمين شمالي و جنوبي .

ما أهمية دوائر العرض ؟

١ . تحديد مواعيد فصول السنة .

٢ . تحديد المناطق الحرارية والمناخ لأي منطقة في العالم .

٣ . معرفة حركة الرياح والسحب و الأمطار باختلاف الضغط الجوي .

ما الفرق بين خط غرينتش و خط الاستواء ؟

خط غرينتش : أهم خط طول ودرجته صفر ، ويقسم الكرة الأرضية لقسمين شرقي و غربي .

خط الاستواء : أهم دائرة عرض ودرجته صفر ، ويقسم الكرة الأرضية لقسمين شمالي و جنوبي .

## الموقع الجغرافي والفلكي لقارة آسيا :

نشاط (٢) : نلاحظ الخريطة، ونستنتج ، ثم نجيب على الأسئلة التي تليها :



خريطة قارة آسيا السياسية

١. نحدد الموقع الفلكي لقارة آسيا ؟

تمتد قارة آسيا بين :  
دائرتي عرض ( ١٠° جنوب خط الاستواء إلى ٨٣° شماله ) أي تمر به ( ٩٣ دائرة عرض ) ،  
وبين خطي طول ( ٢٥° - ١٨٠° ) شرق خط غرينتش أي يمر بها ( ١٥٥ خط طول ) .

٢. نحدد الموقع الجغرافي لقارة آسيا ؟

المحيط المتجمد الشمالي .	الشمال
المحيط الهادي ، ومضيق بيرنج الذي يفصلها عن أمريكا الشمالية .	الشرق
المحيط الهندي .	الجنوب
سلسلة جبال أورال ، ومضيق البسفور والدرديل اللذين يفصلاها عن أوروبا ، وفصلها البحر الأحمر وقناة السويس عن قارة أفريقيا .	الغرب

٣. نحدد موقع فلسطين في قارة آسيا ؟

تقع فلسطين جنوب غرب قارة آسيا على الساحل الشرقي للبحر المتوسط ، وتبلغ مساحتها ٢٧٠٢٧ كم<sup>٢</sup> .

ما المقصود بالموقع الفلكي ؟

موقع المكان بالنسبة لخطوط الطول ودوائر العرض .

ما المقصود بالموقع الجغرافي ؟

موقع المكان بالنسبة لليابس والمسطحات المائية المجاورة .

## مظاهر السطح و تأثيرها في مناخ القارة :

نشاط (٣) : نلاحظ الخريطة ، ثم نجيب على الأسئلة التي تليها :



خريطة قارة آسيا الطبيعية

١. نحدد الصفة الغالبة لقارة آسيا ؟

يغلب على قارة آسيا الطابع الهضبي ( الجبال والهضاب والسهول ) .

٢. نعين على الخريطة أهم التضاريس في قارة آسيا ؟

### الجبال

سلسلة جبال الهمالايا في نيبال و أعلى قمة فيها قمة أفرست .	جبال الأورال في شرق سيبيريا .
جبل الجرمق في فلسطين .	جبال سليمان في باكستان .
جبال هندكوش في أفغانستان	جبال التاي في تركستان .

### الهضاب

هضبة التبت في الصين وهي أعلى هضبة في العالم .	هضبة الأناضول في تركيا .
هضبة نجد في السعودية .	هضبة الدكن في الهند .
هضبة بامير و هضبة إيران	

### السهول

السهول الساحلية	السهول الفيضية
السهل الساحلي الفلسطيني على البحر المتوسط .	سهول نهر دجلة والفرات في العراق .
السهول الساحلية على المحيط الهندي .	سهول نهر السند في باكستان .



٣. نستنتج الآثار المترتبة على اتساع مساحة قارة آسيا ؟

١. تنوع الأقاليم المناخية .

٢. تنوع مظاهر السطح في قارة آسيا .

٤. نبيّن أثر التضاريس على مناخ قارة آسيا ؟

أدى امتداد جبال الهمالايا جنوب قارة آسيا بشكل عرضي من الشرق إلى الغرب إلى منع وصول المؤثرات الدافئة نحو الشمال والمؤثرات الباردة نحو الجنوب .

ما النتيجة المترتبة على اتساع و امتداد قارة آسيا ؟

أدى اتساع قارة آسيا وامتدادها إلى تنوع مظاهر السطح والمناخ فيها .

ما النتيجة المترتبة على وجود السهول الفيضية في قارة آسيا ؟

السهول الفيضية على ضفاف الأنهار أدى إلى تشكل مناطق زراعية خصبة ، نشأت على ضفافها عدد من الحضارات القديمة .

ما أهم الحضارات التي نشأت على ضفاف السهول الفيضية في قارة آسيا

الحضارة الآشورية والبابلية في العراق .

الحضارة الكنعانية والفينيقية في فلسطين .

ما سبب قيام الحضارات على ضفاف الأنهار في قارة آسيا ؟

بسبب خصوبة التربة ووفرة المياه .

أين تقع السهول الساحلية والسهول الفيضية ؟

السهول الساحلية : تقع على المسطحات المائية .

السهول الفيضية : تقع على ضفاف الأنهار .

أوصف مناخ قارة آسيا ؟

شتاء	صيفاً	
تنخفض الحرارة بشكل كبير وتصبح أكثر برودة.	تنخفض الحرارة كلما اقتربنا من القطب الشمالي .	النصف الشمالي
تنخفض الحرارة نسبياً .	ترتفع درجة الحرارة	النصف الجنوبي
تتركز على السواحل الغربية للقارة .	تسقط شرق ووسط وجنوب القارة . تتعرض القارة للأعاصير المدارية ( رياح نشطة و أمطار غزيرة .	الأمطار

بماذا يمتاز مناخ فلسطين ؟

يمتاز مناخ فلسطين في قارة آسيا بالاعتدال بشكل عام .

تسقط المطر في فصل الشتاء بسبب المنخفضات الجوية ، و يمتاز فصل الصيف في فلسطين أنه حار جاف .

**نفكر وناقش :** على الرغم من صغر مساحة فلسطين ، إلا أنها تتميز بالتنوع المناخي فيها .

لأنها تتبع لإقليم البحر المتوسط المعتدل ، و بها المناخ المداري و المناخ الصحراوي و شبه الصحراوي . و كان لوقوع فلسطين في شرق البحر المتوسط أثراً بارزاً في تنوع مناخها الذي ارتبط بمناخ البحر المتوسط الذي تؤثر فيه الرياح الغربية المرافقة للمنخفضات الجوية خاصة في المناطق الشمالية من فلسطين ،

## خصائص القارة :

نشاط (٤) : نلاحظ الصور ، ثم نقوم بما يأتي :



### ١. نستنتج أهم الخصائص التي تتميز بها قارة آسيا ؟

١. تحتل قارة آسيا المرتبة الأولى من حيث عدد السكان ، فبلغ عددهم حوالي ٤ مليارات و ٥٨٦ ألف نسمة حسب إحصائية عام ٢٠١٩ م .
٢. تحتل قارة آسيا المرتبة الأولى من حيث المساحة ، حيث تبلغ مساحتها ٤٤ مليون كم<sup>٢</sup> .
٣. فيها أكثر بحار العالم ملوحة وهو البحر الميت ونسبة ملوحة مياهه ٣٤ % .
٤. كثرة تعرجات سواحلها وكثرة موانئها .
٥. فيها أقدم مدينة في العالم وهي أريحا في فلسطين .
٦. فيها أقدم عاصمة في العالم وهي دمشق في سوريا .
٧. تمتلك ٣٢ % من مساحة أراضيها للزراعة ، حيث تُنتج العديد من المحاصيل مثل الأرز والشاي .
٨. فيها العديد من الثروات المعدنية مثل البترول والذهب .
٩. تشهد دولها تطوراً صناعياً مثل اليابان والصين وكوريا الجنوبية وماليزيا .

### ٢. نُفسر تناقص مساحة البحر الميت ، وانخفاض منسوب مياهه ؟

- بسبب التبخر الشديد لمياهه .  
 قلة المياه الواصلة إليه من نهر الأردن .  
 استغلال مياهه في استخراج المعادن .

### علل : قارة آسيا تحتوي على الكثير من التناقضات .

- لأن فيها أبرد منطقة ( سهول سيبيريا ) ، و أشد منطقة حرارة ( صحراء الربع الخالي ) .  
 لأن فيها أعلى قمة جبلية ( قمة إفرست ) ، و أخفض منطقة ( البحر الميت ) .



## الفتوحات الإسلامية في قارة آسيا خلال العصرين الأموي والعباسي :

نشاط (٥) : نلاحظ الخريطة ، و نستنتج ، ثم نجيب عن الأسئلة التي تليها :



١. نسمي المناطق التي فتحها المسلمون في قارة آسيا في العصرين الأموي والعباسي ؟

المناطق التي فتحها المسلمون في قارة آسيا في العصر الأموي

المناطق الشمالية من قارة آسيا

معظم أرمينيا .

المناطق الشرقية من قارة آسيا

١. بلاد ما وراء النهر ( نهر جيحون ) .
٢. بلاد السند ( شرق إيران ) مثل :

- بخارى و سمرقند ( أوزبكستان ) .
- بلخ ( أفغانستان ) .
- مرو ( تركمانستان ) .
- الوصول لحدود الهند ، والصين التي تعتبر أقصى اتساع للدولة الإسلامية في شرق آسيا .

قادة الفتوحات الإسلامية :

- قتيبة بن مسلم الباهلي : فتح آسيا الوسطى .
- محمد بن القاسم الثقفي : فتح بلاد السند .

المناطق التي فتحها المسلمون في قارة آسيا في العصر العباسي

مدينة طرطوس ( سوريا ) ، مدينة عمورية ( تركيا ) .

٢. نفسر انتشار الإسلام السريع والواسع في قارة آسيا ؟

١. الظلم الواقع على الشعوب في هذه المناطق من قبل الحكام .
٢. القيم الإسلامية التي تحلّى بها المسلمين الفاتحين والتجار .

تكلم عن الفتوحات الإسلامية في قارة آسيا في العصر الأموي ؟

كانت الفتوحات الإسلامية في قارة آسيا في العصر الأموي في منطقتين هما :

المنطقة الشرقية : تشمل بلاد ما وراء النهر ( نهر جيحون ) ، بلاد السند ( شرق إيران ) ، و الوصول لحدود الهند ، والصين التي تعتبر أقصى اتساع للدولة الإسلامية في شرق آسيا .  
المنطقة الشمالية : كانت تحت الحكم البيزنطي وتم فتح معظم أرمينيا .

من هم قادة الفتوحات الإسلامية في المنطقة الشرقية لقارة آسيا في العصر الأموي ؟

قتيبة بن مسلم الباهلي : قائد مسلم تولى الفتوحات الإسلامية في المنطقة الشرقية من قارة آسيا ، ووصلت فتوحاته حتى حدود الصين .  
محمد بن القاسم الثقفي : قائد مسلم فتح بلاد السند ، ووصلت فتوحاته منطقة كشمير على الحدود الهندية .

ما هي مدن بلاد السند ؟

- بخارى و سمرقند ( أوزبكستان ) .
- بلخ ( أفغانستان ) .
- مرو ( تركمانستان ) .

في عهد أي خليفة أموي تم فتح المنطقة الشمالية لقارة آسيا ؟

في عهد الخليفة معاوية بن أبي سفيان .

تكلم عن الفتوحات الإسلامية في قارة آسيا في العصر العباسي ؟

- لم يتوسع المسلمون كثيراً في قارة آسيا .
- ركزوا جهودهم في الحفاظ على الحدود واسترداد المناطق التي يحتلها البيزنطيون ، وفتح بعض المناطق التي عُرفت باسم الثغور ( مناطق الحدود ) وتحصينها . وتسكين المسلمين فيها لحمايتها .
- المناطق التي فُتحت : مدينة طرطوس ( سوريا ) ، مدينة عمورية ( تركيا ) .

علل : لم يتوسع المسلمون كثيراً في قارة آسيا في العصر العباسي .

لأنهم ركزوا جهودهم في الحفاظ على الحدود واسترداد المناطق التي يحتلها البيزنطيون ، وفتح بعض المناطق التي عُرفت باسم الثغور ( مناطق الحدود ) وتحصينها . وتسكين المسلمين فيها لحمايتها .

**نبحث ونناقش :** بالعودة إلى مكتبة المدرسة و الانترنت نبحث عن سبب قيام الخليفة المعتصم بفتح مدينة عمورية .

مدينة عمورية تقع في منطقة الأناضول الواقعة في الجزء الجنوبي الغربي من مدينة أنقرة في تركيا، وتسمى في الوقت الحاضر باسم (سيفلي حصار) ، ولمدينة عمورية مكانة عند البيزنطيين . كان فتح عمورية أحد الفتوحات الإسلامية التي حدثت في شهر رمضان المبارك عام ٢٢٣هـ، وكانت عمورية واحدة من أقوى وأمعن الحصون الرومية .

يعود سبب فتح مدينة عمورية أن امرأة مسلمة في أحد الأسواق اعتدى عليها رجل من الروم و حاول أن يتحرش بها و امسك بطرف ثوبها فصرخت وقالت ( و امعتصماه ) ، فسخر منها الرومي ، ولما بلغ الخبر للخليفة العباسي المعتصم بالله استعظم ما حدث ، فنادى من ساعته النفير النفير ، و احضر جماعة من أهل العلم والرأي ، وأشهدهم على أملاكه ، فجعل ثلثاً منها لولده ، وثلثاً لله ، وثلثاً لمواليه ، ثم بعث بنجدة لأهل الثغور المعتدى عليهم يؤمنهم ويطمننهم و يطلب منهم العودة إلى قراهم وديارهم التي فروا منها . جهز الخليفة جيشاً عظيماً لم يجهزه أحد قبله ، و اخذ معه آلات الحرب و الأحمال و الدواب و تمكّن من هزيمة الروم، وفتح أرض عمورية عام ٢٢٣ هـ و أسر الرومي و أحضر المرأة لتراه و يراها .

### أختبر نفسي

السؤال الأول : اختر رمز الإجابة الصحيحة فيما يأتي :

١ . ما الذي يحد قارة آسيا من الشمال ؟	
أ	المحيط الهادئ .
ب	المحيط الهندي .
ج	المحيط المتجمد الشمالي .
د	المحيط الأطلسي .

٢ . ما المضيق الذي يفصل بين قارتي آسيا و أمريكا الشمالية ؟	
أ	بيرنج .
ب	باب المندب .
ج	هرمز .
د	جبل طارق .

ما أقدم مدينة في التاريخ ؟	
أ	دمشق .
ب	أريحا .
ج	القدس .
د	الرياض .

٤ . من القائد الذي تولى الفتوحات الإسلامية في المنطقة الشرقية في قارة آسيا ؟	
أ	المغيرة بن شعبة .
ب	عقبة بن نافع .
ج	قتيبة بن مسلم .
د	طارق بن زياد .



**السؤال الثاني : أكمل الفراغات بما يناسبها في الجمل الآتية :**

١. أعلى قمة جبلية في فلسطين هي : الجرمق .
٢. بلغ عدد سكان قارة آسيا عام ٢٠١٩ م : أربع مليارات و ٥٨٦ مليون نسمة .
٣. أقصى اتساع للدولة الإسلامية في شرق قارة آسيا هو حدود الصين .
٤. فتحت مدينة عمورية في العصر : العباسي .

**السؤال الثالث : أختار المفهوم المناسب ، وأضعه في المكان المخصص له:**

( الأعاصير المدارية ، خطوط الطول ودوائر العرض ، منطقة السند ، الموقع الجغرافي )

الموقع الجغرافي	موقع المكان بالنسبة لما يجاوره من يابس ، ومسطحات مائية.
الأعاصير المدارية	رياح نشطة مصحوبة بأمطار غزيرة .
خطوط الطول ودوائر العرض	خطوط ودوائر وهمية رسمها العلماء على الخرائط بهدف تحديد المواقع على سطح الأرض .
منطقة السند	المنطقة الواقعة شرقي إيران .

**السؤال الرابع : أحدد الموقع الفلكي لقارة آسيا ؟**

تمتد قارة آسيا فلكياً بين :  
دائرتي عرض ( ١٠° جنوب خط الاستواء إلى ٨٣° شماله ) ، وبين خطي طول ( ٢٥° - ١٨٠° ) شرق خط غرينتش .

**السؤال الخامس : أفسر ما يأتي:**

أ. تنوع مظاهر السطح في قارة آسيا.

بسبب اتساع مساحتها وامتدادها الكبير.

ب. المناطق الشمالية في آسيا باردة صيفاً وشتاءً.

بسبب قربها من المنطقة القطبية الشمالية وبعدها عن خط الاستواء.

**السؤال السادس : أبين الخصائص التي تتميز بها قارة آسيا ؟**

١. تحتل قارة آسيا المرتبة الأولى من حيث عدد السكان ، فبلغ عددهم حوالي ٤ مليارات و ٥٨٦ ألف نسمة حسب إحصائية عام ٢٠١٩ م .
٢. تحتل قارة آسيا المرتبة الأولى من حيث المساحة ، حيث تبلغ مساحتها ٤٤ مليون كم<sup>٢</sup> .
٣. فيها أكثر بحار العالم ملوحة وهو البحر الميت ونسبة ملوحة مياهه ٣٤ % .
٤. كثرة تعرجات سواحلها وكثرة موانئها .
٥. فيها أقدم مدينة في العالم وهي أريحا في فلسطين .
٦. فيها أقدم عاصمة في العالم وهي دمشق في سوريا .
٧. تمتلك ٣٢ % من مساحة أراضيها للزراعة ، حيث تُنتج العديد من المحاصيل مثل الأرز والشاي .
٨. فيها العديد من الثروات المعدنية مثل البترول والذهب .
٩. تشهد دولها تطوراً صناعياً مثل اليابان والصين وكوريا الجنوبية وماليزيا .
١٠. فيها العديد من التناقضات كأبرد منطقة (سهول سيبيريا) وأشد منطقة حرارة ( صحراء الربع الخالي ) ، وأعلى قمة (قمة افرست) ، و أخفض منطقة ( البحر الميت ) .

السؤال السابع : أوضح الأعمال التي قام بها العباسيون في قارة آسيا ؟

١. الحفاظ على الحدود واسترجاع المناطق التي كان يحتلها البيزنطيون.
٢. فتح بعض المناطق التي عرفت بالثغور وتحصينها وتسكين المسلمين فيها لحمايتها.
٣. فتحوا مدينتا طرطوس ( سوريا ) و عمورية ( تركيا ) .

السؤال السابع : أعين على خريطة آسيا الصماء ما يأتي :

- الجبال : الهمالايا.
- الهضاب : التبت ، والدكن.
- الأنهار : دجلة ، والفرات .
- الدول : اليابان، والهند، وماليزيا، وكشمير ، وأرمينيا ، والصين.
- المحيطات : الهندي، و الهادئ.

