

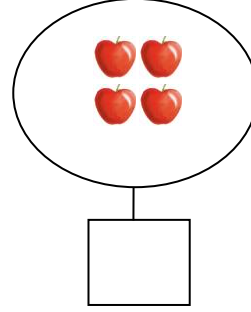
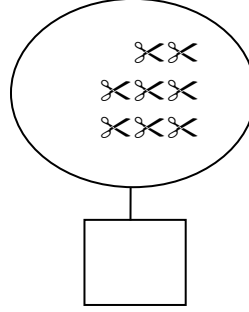
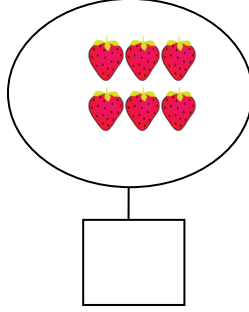

ورقة عمل تقييمية في مادة الرياضيات - للصف الأول الأساسي

اشهر سبتمبر (الفصل الأول) العام الدراسي ٢٠٢٢-٢٠٢٣ م

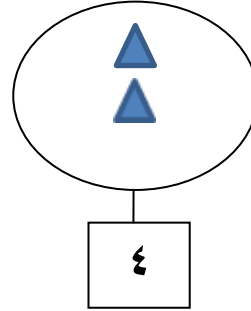
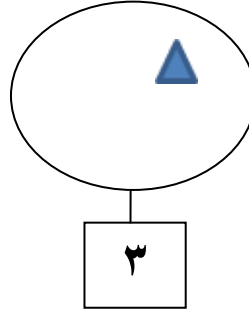
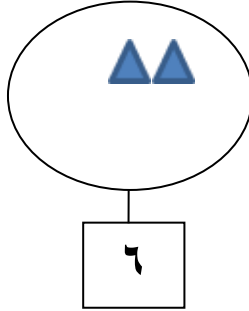
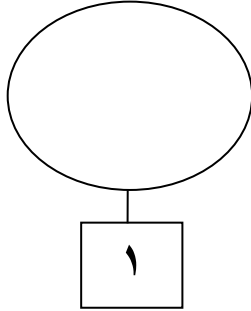
الدروس / الوحدة الأولى (الأعداد ١ - ٩)

اسم الطالب/ة: التقدير /



نشاط رقم (١) أكتب عدد عناصر كل مجموعة:



نشاط رقم (٢) أكمل رسم العناصر بحسب العدد المطلوب:



نشاط رقم (٣) أحصر عناصر حسب العدد المطلوب:



نشاط رقم (٤) أكمل متتالية الأعداد:



ملاحظات المعلم/ة:




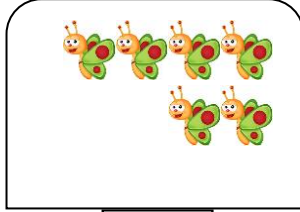
ورقة عمل تقييمية في مادة الرياضيات - للصف الأول الأساسي

شهر سبتمبر (الفصل الأول) العام الدراسي ٢٠٢٢-٢٠٢٣ م

الدروس / الوحدة الأولى (الأعداد ١ - ٩)

اسم الطالب/ة: / التقدير /

نشاط رقم (١) أكتب عدد عناصر كل مجموعة:





نشاط رقم (٢) ألون عناصر بحسب العدد المطلوب:

	٣
	١
	٥

نشاط رقم (٣) أكمل متتالية الأعداد:

٩				٥		٣	٢
---	--	--	--	---	--	---	---

نشاط رقم (٤) أقسم العناصر حسب المطلوب:



ملاحظات المعلم/ة:



ورقة عمل تقييمية في مادة الرياضيات - للصف الأول الأساسي

شهر سبتمبر (الفصل الأول) العام الدراسي ٢٠٢٢-٢٠٢٣ م









الدروس / الوحدة الأولى (الأعداد ١ - ٩)

اسم الطالب/ة: التقدير /

نشاط رقم (١) أكتب رمز العدد الذي أسمعته من المعلم:



نشاط رقم (٢) أصل بين المجموعة والعدد المناسب:



نشاط رقم (٣) أكمل الرسم حسب العدد المطلوب:

ملاحظات المعلم/ة: