

7

الفصل الأول

كتابه

السلامة

الدراسات الاجتماعية

إعداد الأستاذ / إياد محمد خضر

العام الدراسي

التحميل المزيد زوروا موقع زهور الأقصى [www.zohoralqsa.com](http://www.zohoralqsa.com)

الدولة الإسلامية  
عابرة للقارّات

الوحدة  
الأولى

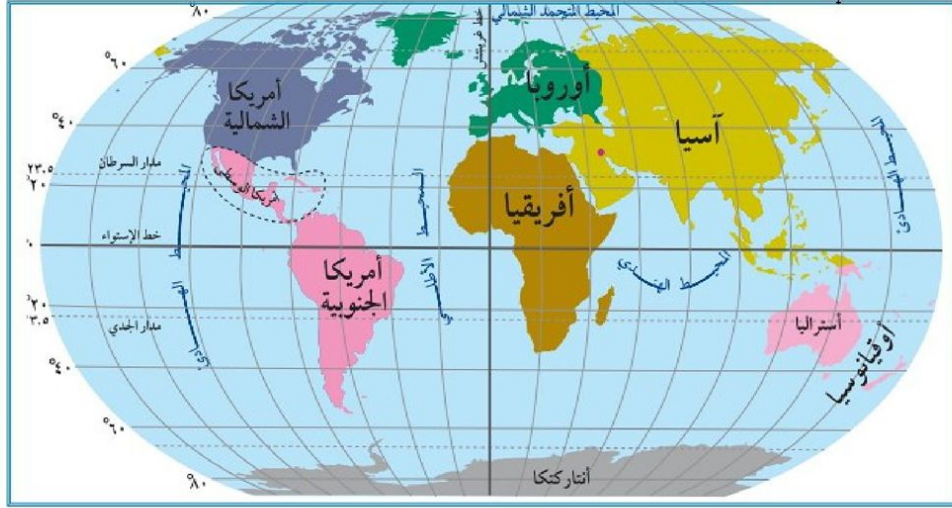


شجرة (الرضوان) في قلب الصحراء ربطت الجغرافيا بالتاريخ  
وأُسست لبناء دولة امتدت من مشارق الأرض إلى مغاربها.

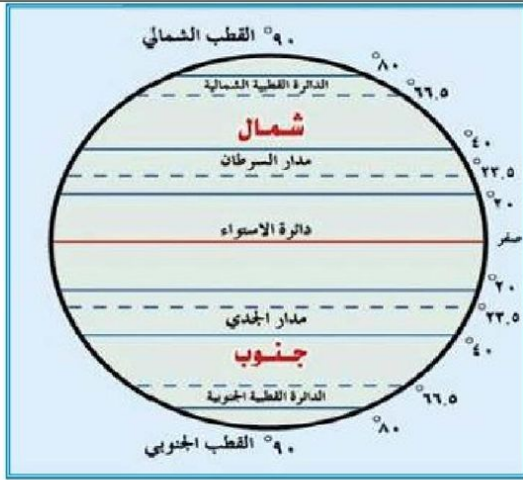
## الدرس الأول: قارة آسيا وامتداد الدولة الإسلامية فيها

### خطوط الطول ودوائر العرض

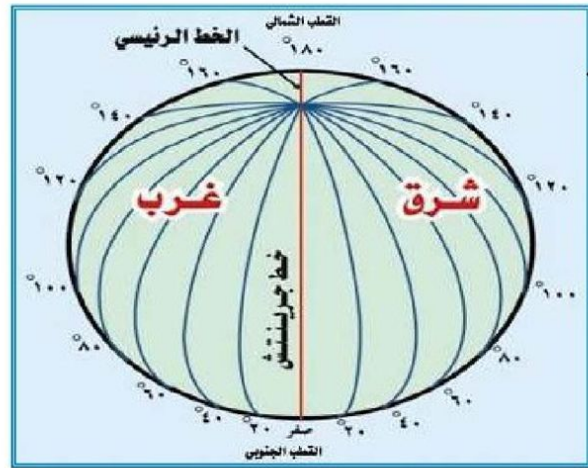
نشاط (١) : نلاحظ الخريطة، والأشكال، ثم نقوم بما يأتي :



خريطة قارات العالم



دوائر العرض



خطوط الطول



### ١. نعين القارات التي تظهر على الخريطة ؟

قارة آسيا ، قارة أفريقيا ، قارة أوروبا ، قارة أمريكا الشمالية ، قارة أمريكا الجنوبية ، قارة أنتاركتيكا .

### ٢. نحدد أهم خطوط الطول و دوائر العرض الرئيسية ؟

خط الطول الرئيسي : خط غرينتش .

دوائر العرض الرئيسية :

الدائرة العرضية	خط الاستواء	مدار السرطان	مدار الجدي	القطبية الشمالية	القطبية الجنوبية
الدرجة الفلكية	صفر	٢٣.٥ شمالاً	٢٣.٥ جنوباً	٦٦.٥ شمالاً	٦٦.٥ جنوباً

### ٣. نستنتج أهمية خطوط الطول و دوائر العرض ؟

تساعد خطوط الطول ودوائر العرض تحديد أي مكان على سطح الأرض .  
أهمية خطوط الطول :

١. معرفة التوقيت العالمي .

٢. معرفة مواقع البلدان بالنسبة لخط غرينتش .

أهمية دوائر العرض :

١. تحديد مواعيد فصول السنة .

٢. تحديد المناطق الحرارية والمناخ لأي منطقة في العالم .

٣. معرفة حركة الرياح والسحب و الأمطار باختلاف الضغط الجوي .

### ما المقصود بخطوط الطول ودوائر العرض ؟

هي خطوط وهمية ، رسمها العلماء على الخرائط والمجسمات ؛ بهدف تحديد الموقع الفلكي والوقت .

### كم يبلغ عدد خطوط الطول ، وما أهمها ؟

يبلغ عدد خطوط الطول ٣٦٠ خطاً ، أهمها خط غرينتش الذي يقسم الكرة الأرضية إلى قسمين شرقي و غربي .

### ما أهمية خطوط الطول ؟

١. معرفة التوقيت العالمي .  
٢. معرفة مواقع البلدان بالنسبة لخط غرينتش .

### كم يبلغ عدد دوائر العرض ، وما أهمها ؟

يبلغ عدد دوائر العرض ١٨٠ دائرة ، أهمها خط الاستواء الذي يقسم الكرة الأرضية إلى قسمين شمالي و جنوبي .

### ما أهمية دوائر العرض ؟

١. تحديد مواعيد فصول السنة .

٢. تحديد المناطق الحرارية والمناخ لأي منطقة في العالم .

٣. معرفة حركة الرياح والسحب و الأمطار باختلاف الضغط الجوي .

### ما الفرق بين خط غرينتش و خط الاستواء ؟

خط غرينتش : أهم خط طول ودرجته صفر ، ويقسم الكرة الأرضية لقسمين شرقي و غربي .

خط الاستواء : أهم دائرة عرض ودرجته صفر ، ويقسم الكرة الأرضية لقسمين شمالي و جنوبي .



## الموقع الجغرافي والفلكي لقارة آسيا :

نشاط (٢) : نلاحظ الخريطة، ونستنتج ، ثم نجيب على الأسئلة التي تليها :



خريطة قارة آسيا السياسية

١. نحدد الموقع الفلكي لقارة آسيا ؟

تمتد قارة آسيا بين :  
دائرتي عرض ( ١٠° جنوب خط الاستواء إلى ٨٣° شماله ) أي تمر به ( ٩٣ دائرة عرض ) ،  
وبين خطي طول ( ٢٥° - ١٨٠° ) شرق خط غرينتش أي يمر بها ( ١٥٥ خط طول ) .

٢. نحدد الموقع الجغرافي لقارة آسيا ؟

المحيط المتجمد الشمالي .	الشمال
المحيط الهادي ، ومضيق بيرنج الذي يفصلها عن أمريكا الشمالية .	الشرق
المحيط الهندي .	الجنوب
سلسلة جبال أورال ، ومضيق البسفور والدرديل اللذين يفصلها عن أوروبا ، وفصلها البحر الأحمر وقناة السويس عن قارة أفريقيا .	الغرب

٣. نحدد موقع فلسطين في قارة آسيا ؟

تقع فلسطين جنوب غرب قارة آسيا على الساحل الشرقي للبحر المتوسط ، وتبلغ مساحتها ٢٧٠٢٧ كم<sup>٢</sup> .

ما المقصود بالموقع الفلكي ؟

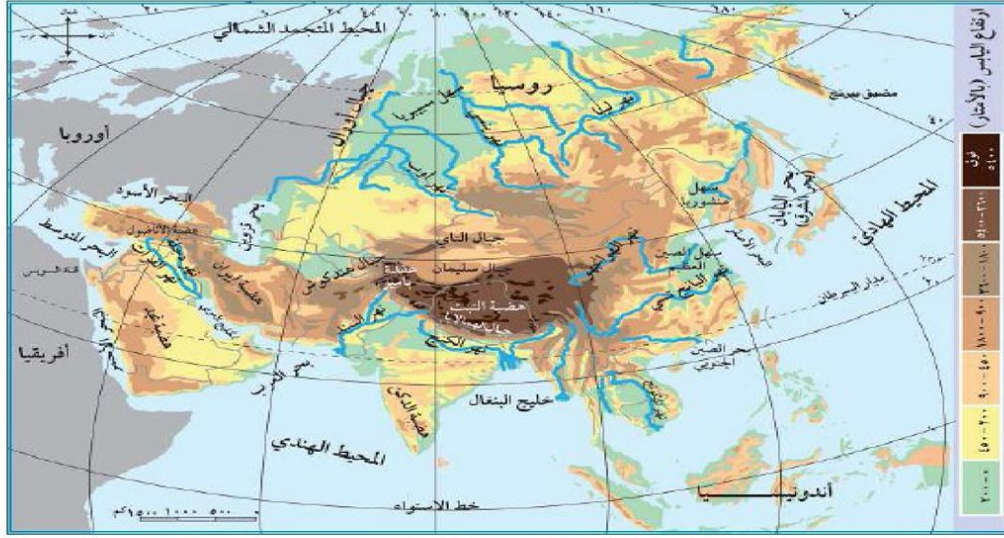
موقع المكان بالنسبة لخطوط الطول ودوائر العرض .

ما المقصود بالموقع الجغرافي ؟

موقع المكان بالنسبة لليابس والمسطحات المائية المجاورة .

## مظاهر السطح و تأثيرها في مناخ القارة :

نشاط (٣) : نلاحظ الخريطة ، ثم نجيب على الأسئلة التي تليها :



خريطة قارة آسيا الطبيعية

١. نحدد الصفة الغالبة لقارة آسيا ؟

يغلب على قارة آسيا الطابع الهضبي ( الجبال والهضاب والسهول ) .

٢. نعين على الخريطة أهم التضاريس في قارة آسيا ؟

### الجبال

سلسلة جبال الهمالايا في نيبال و أعلى قمة فيها قمة أفرست .	جبال الأورال في شرق سيبيريا .
جبل الجرمق في فلسطين .	جبال سليمان في باكستان .
جبال هندكوش في أفغانستان	جبال التاي في تركستان .

### الهضاب

هضبة التبت في الصين وهي أعلى هضبة في العالم .	هضبة الأناضول في تركيا .
هضبة نجد في السعودية .	هضبة الدكن في الهند .
هضبة بامير و هضبة إيران	

### السهول

السهول الساحلية	السهول الفيضية
السهل الساحلي الفلسطيني على البحر المتوسط .	سهول نهر دجلة والفرات في العراق .
السهول الساحلية على المحيط الهندي .	سهول نهر السند في باكستان .

٣. نستنتج الآثار المترتبة على اتساع مساحة قارة آسيا ؟

١. تنوع الأقاليم المناخية .

٢. تنوع مظاهر السطح في قارة آسيا .

٤. نبيّن أثر التضاريس على مناخ قارة آسيا ؟

أدى امتداد جبال الهمالايا جنوب قارة آسيا بشكل عرضي من الشرق إلى الغرب إلى منع وصول المؤثرات الدافئة نحو الشمال والمؤثرات الباردة نحو الجنوب .

ما النتيجة المترتبة على اتساع و امتداد قارة آسيا ؟

أدى اتساع قارة آسيا وامتدادها إلى تنوع مظاهر السطح والمناخ فيها .

ما النتيجة المترتبة على وجود السهول الفيضية في قارة آسيا ؟

السهول الفيضية على ضفاف الأنهار أدى إلى تشكل مناطق زراعية خصبة ، نشأت على ضفافها عدد من الحضارات القديمة .

ما أهم الحضارات التي نشأت على ضفاف السهول الفيضية في قارة آسيا

الحضارة الآشورية والبابلية في العراق .

الحضارة الكنعانية والفينيقية في فلسطين .

ما سبب قيام الحضارات على ضفاف الأنهار في قارة آسيا ؟

بسبب خصوبة التربة ووفرة المياه .

أين تقع السهول الساحلية والسهول الفيضية ؟

السهول الساحلية : تقع على المسطحات المائية .

السهول الفيضية : تقع على ضفاف الأنهار .

أوصف مناخ قارة آسيا ؟

شتاءً	صيفاً	
تنخفض الحرارة بشكل كبير وتصبح أكثر برودة.	تنخفض الحرارة كلما اقتربنا من القطب الشمالي .	النصف الشمالي
تنخفض الحرارة نسبياً .	ترتفع درجة الحرارة	النصف الجنوبي
تتركز على السواحل الغربية للقارة .	تسقط شرق ووسط وجنوب القارة . تتعرض القارة للأعاصير المدارية ( رياح نشطة و أمطار غزيرة .	الأمطار

بماذا يمتاز مناخ فلسطين ؟

يمتاز مناخ فلسطين في قارة آسيا بالاعتدال بشكل عام .

تسقط المطار في فصل الشتاء بسبب المنخفضات الجوية ، و يمتاز فصل الصيف في فلسطين أنه حار جاف .


**نفكر وناقش :** على الرغم من صغر مساحة فلسطين ، إلا أنها تتميز بالتنوع المناخي فيها .

لأنها تتبع لإقليم البحر المتوسط المعتدل ، و بها المناخ المداري و المناخ الصحراوي و شبه الصحراوي . و كان لوقوع فلسطين في شرق البحر المتوسط أثراً بارزاً في تنوع مناخها الذي ارتبط بمناخ البحر المتوسط الذي تؤثر فيه الرياح الغربية المرافقة للمنخفضات الجوية خاصة في المناطق الشمالية من فلسطين ،



## خصائص القارة :

نشاط (٤) : نلاحظ الصور ، ثم نقوم بما يأتي :



### ١. نستنتج أهم الخصائص التي تتميز بها قارة آسيا ؟

١. تحتل قارة آسيا المرتبة الأولى من حيث عدد السكان ، فبلغ عددهم حوالي ٤ مليارات و ٥٨٦ ألف نسمة حسب إحصائية عام ٢٠١٩ م .
٢. تحتل قارة آسيا المرتبة الأولى من حيث المساحة ، حيث تبلغ مساحتها ٤٤ مليون كم<sup>٢</sup> .
٣. فيها أكثر بحار العالم ملوحة وهو البحر الميت ونسبة ملوحة مياهه ٣٤ % .
٤. كثرة تعرجات سواحلها وكثرة موانئها .
٥. فيها أقدم مدينة في العالم وهي أريحا في فلسطين .
٦. فيها أقدم عاصمة في العالم وهي دمشق في سوريا .
٧. تمتلك ٣٢ % من مساحة أراضيها للزراعة ، حيث تُنتج العديد من المحاصيل مثل الأرز والشاي .
٨. فيها العديد من الثروات المعدنية مثل البترول والذهب .
٩. تشهد دولها تطوراً صناعياً مثل اليابان والصين وكوريا الجنوبية وماليزيا .

### ٢. نفسر تناقص مساحة البحر الميت ، وانخفاض منسوب مياهه ؟

- بسبب التبخر الشديد لمياهه .  
قلة المياه الواصلة إليه من نهر الأردن .  
استغلال مياهه في استخراج المعادن .

### علل : قارة آسيا تحتوي على الكثير من التناقضات .

- لأن فيها أبرد منطقة ( سهول سيبيريا ) ، و أشد منطقة حرارة ( صحراء الربع الخالي ) .  
لأن فيها أعلى قمة جبلية ( قمة إفرست ) ، و أخفض منطقة ( البحر الميت ) .

## الفتوحات الإسلامية في قارة آسيا خلال العصرين الأموي والعباسي :

نشاط (٥) : نلاحظ الخريطة ، ونستنتجُ ، ثم نُجيب عن الأسئلة التي تليها :



١. نسمي المناطق التي فتحها المسلمون في قارة آسيا في العصرين الأموي والعباسي ؟

المناطق التي فتحها المسلمون في قارة آسيا في العصر الأموي

المناطق الشمالية من قارة آسيا

معظم أرمينيا .

المناطق الشرقية من قارة آسيا

١. بلاد ما وراء النهر ( نهر جيحون ) .
٢. بلاد السند ( شرق إيران ) مثل : بخارى و سمرقند ( أوزباكستان ) .
- بلخ ( أفغانستان ) .
- مرو ( تركمانستان ) .
- الوصول لحدود الهند ، والصين التي تعتبر أقصى اتساع للدولة الإسلامية في شرق آسيا .

قادة الفتوحات الإسلامية :

- قتيبة بن مسلم الباهلي : فتح آسيا الوسطى .
- محمد بن القاسم الثقفي : فتح بلاد السند .

المناطق التي فتحها المسلمون في قارة آسيا في العصر العباسي

مدينة طرطوس ( سوريا ) ، مدينة عمورية ( تركيا ) .

٢. نفسر انتشار الإسلام السريع والواسع في قارة آسيا ؟

١. الظلم الواقع على الشعوب في هذه المناطق من قبل الحكام .
٢. القيم الإسلامية التي تحلّى بها المسلمين الفاتحين والتجار .

تكلم عن الفتوحات الإسلامية في قارة آسيا في العصر الأموي ؟

كانت الفتوحات الإسلامية في قارة آسيا في العصر الأموي في منطقتين هما :  
المنطقة الشرقية : تشمل بلاد ما وراء النهر ( نهر جيحون ) ، بلاد السند ( شرق إيران ) ، و الوصول لحدود الهند ، والصين التي تعتبر أقصى اتساع للدولة الإسلامية في شرق آسيا .  
المنطقة الشمالية : كانت تحت الحكم البيزنطي وتم فتح معظم أرمينيا .

من هم قادة الفتوحات الإسلامية في المنطقة الشرقية لقارة آسيا في العصر الأموي ؟

قتيبة بن مسلم الباهلي : قائد مسلم تولى الفتوحات الإسلامية في المنطقة الشرقية من قارة آسيا ، ووصلت فتوحاته حتى حدود الصين .  
محمد بن القاسم الثقفي : قائد مسلم فتح بلاد السند ، ووصلت فتوحاته منطقة كشمير على الحدود الهندية .

ما هي مدن بلاد السند ؟

- بخارى و سمرقند ( أوزباكستان ) .
- بلخ ( أفغانستان ) .
- مرو ( تركمانستان ) .

في عهد أي خليفة أموي تم فتح المنطقة الشمالية لقارة آسيا ؟

في عهد الخليفة معاوية بن أبي سفيان .

تكلم عن الفتوحات الإسلامية في قارة آسيا في العصر العباسي ؟

- لم يتوسع المسلمون كثيراً في قارة آسيا .
- ركزوا جهودهم في الحفاظ على الحدود واسترداد المناطق التي يحتلها البيزنطيون ، وفتح بعض المناطق التي عُرفت باسم الثغور ( مناطق الحدود ) وتحصينها . وتسكين المسلمين فيها لحمايتها .
- المناطق التي فُتحت : مدينة طرطوس ( سوريا ) ، مدينة عمورية ( تركيا ) .

علل : لم يتوسع المسلمون كثيراً في قارة آسيا في العصر العباسي .

لأنهم ركزوا جهودهم في الحفاظ على الحدود واسترداد المناطق التي يحتلها البيزنطيون ، وفتح بعض المناطق التي عُرفت باسم الثغور ( مناطق الحدود ) وتحصينها . وتسكين المسلمين فيها لحمايتها .



**نبحث ونناقش :** بالعودة إلى مكتبة المدرسة و الانترنت نبحث عن سبب قيام الخليفة المعتصم بفتح مدينة عمورية .

مدينة عمورية تقع في منطقة الأناضول الواقعة في الجزء الجنوبي الغربي من مدينة أنقرة في تركيا، وتسمى في الوقت الحاضر باسم (سيفلي حصار) ، ولمدينة عمورية مكانة عند البيزنطيين . كان فتح عمورية أحد الفتوحات الإسلامية التي حدثت في شهر رمضان المبارك عام ٢٢٣هـ، وكانت عمورية واحدة من أقوى وأمعن الحصون الرومية .

يعود سبب فتح مدينة عمورية أن امرأة مسلمة في أحد الأسواق اعتدى عليها رجل من الروم و حاول أن يتحرش بها و امسك بطرف ثوبها فصرخت وقالت ( و امعتصماه ) ، فسخر منها الرومي ، ولما بلغ الخبر للخليفة العباسي المعتصم بالله استعظم ما حدث ، فنادى من ساعته النفير النفير ، و احضر جماعة من أهل العلم والرأي ، وأشهدهم على أملاكه ، فجعل ثلثاً منها لولده ، وثلثاً لله ، وثلثاً لمواليه ، ثم بعث بنجدة لأهل الثغور المعتدى عليهم يؤمنهم ويطمننهم و يطلب منهم العودة إلى قراهم وديارهم التي فروا منها . جهز الخليفة جيشاً عظيماً لم يجهزه أحد قبله ، و اخذ معه آلات الحرب و الأحمال و الدواب و تمكن من هزيمة الروم، وفتح أرض عمورية عام ٢٢٣ هـ و أسر الرومي و أحضر المرأة لتراه ويراها .

**أختبر نفسي**

السؤال الأول : اختر رمز الإجابة الصحيحة فيما يأتي :

١. ما الذي يحد قارة آسيا من الشمال ؟	
أ	المحيط الهادئ .
ب	المحيط الهندي .
ج	المحيط المتجمد الشمالي .
د	المحيط الأطلسي .

٢. ما المضيق الذي يفصل بين قارتي آسيا و أمريكا الشمالية ؟	
أ	بيرنج .
ب	باب المنذب .
ج	هرمز .
د	جبل طارق .

ما أقدم مدينة في التاريخ ؟	
أ	دمشق .
ب	أريحا .
ج	القدس .
د	الرياض .

٤. من القائد الذي تولى الفتوحات الإسلامية في المنطقة الشرقية في قارة آسيا ؟	
أ	المغيرة بن شعبة .
ب	عقبة بن نافع .
ج	قتيبة بن مسلم .
د	طارق بن زياد .

**السؤال الثاني : أكمل الفراغات بما يناسبها في الجمل الآتية :**

١. أعلى قمة جبلية في فلسطين هي : الجرمق .
٢. بلغ عدد سكان قارة آسيا عام ٢٠١٩ م : أربع مليارات و ٥٨٦ مليون نسمة .
٣. أقصى اتساع للدولة الإسلامية في شرق قارة آسيا هو حدود الصين .
٤. فتحت مدينة عمورية في العصر : العباسي .

**السؤال الثالث : أختار المفهوم المناسب ، وأضعه في المكان المخصص له:  
( الأعاصير المدارية ، خطوط الطول ودوائر العرض ، منطقة السند ، الموقع الجغرافي )**

الموقع الجغرافي	موقع المكان بالنسبة لما يجاوره من يابس ، ومسطحات مائية.
الأعاصير المدارية	رياح نشطة مصحوبة بأمطار غزيرة .
خطوط الطول ودوائر العرض	خطوط ودوائر وهمية رسمها العلماء على الخرائط بهدف تحديد المواقع على سطح الأرض .
منطقة السند	المنطقة الواقعة شرقي إيران .

**السؤال الرابع : أحدد الموقع الفلكي لقارة آسيا ؟**

تمتد قارة آسيا فلكياً بين :  
دائرتي عرض ( ١٠° جنوب خط الاستواء إلى ٨٣° شماله ) ، وبين خطي طول ( ٢٥° - ١٨٠° ) شرق خط غرينتش .

**السؤال الخامس : أفسر ما يأتي:**

أ. تنوع مظاهر السطح في قارة آسيا.

بسبب اتساع مساحتها وامتدادها الكبير .

ب. المناطق الشمالية في آسيا باردة صيفاً وشتاءً.

بسبب قربها من المنطقة القطبية الشمالية وبعدها عن خط الاستواء.

**السؤال السادس : أبين الخصائص التي تتميز بها قارة آسيا ؟**

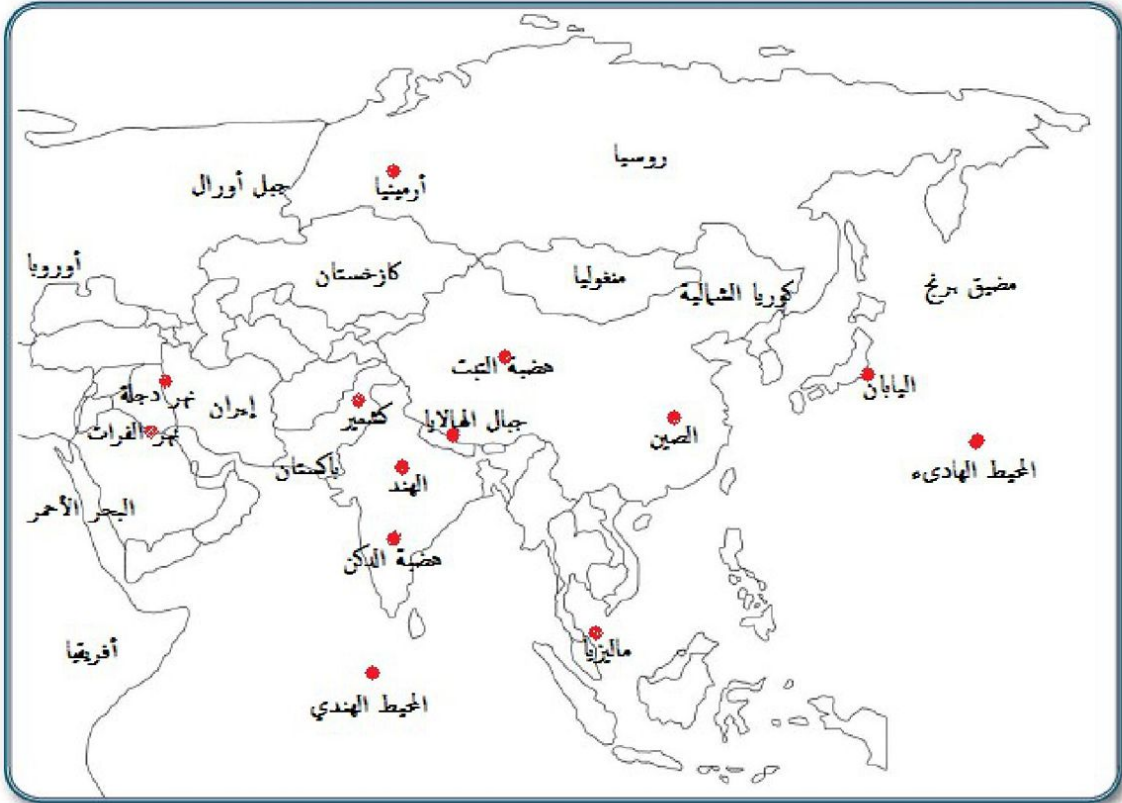
١. تحتل قارة آسيا المرتبة الأولى من حيث عدد السكان ، فبلغ عددهم حوالي ٤ مليارات و ٥٨٦ ألف نسمة حسب إحصائية عام ٢٠١٩ م .
٢. تحتل قارة آسيا المرتبة الأولى من حيث المساحة ، حيث تبلغ مساحتها ٤٤ مليون كم<sup>٢</sup> .
٣. فيها أكثر بحار العالم ملوحة وهو البحر الميت ونسبة ملوحة مياهه ٣٤ % .
٤. كثرة تعرجات سواحلها وكثرة موانئها .
٥. فيها أقدم مدينة في العالم وهي أريحا في فلسطين .
٦. فيها أقدم عاصمة في العالم وهي دمشق في سوريا .
٧. تمتلك ٣٢ % من مساحة أراضيها للزراعة ، حيث تُنتج العديد من المحاصيل مثل الأرز والشاي .
٨. فيها العديد من الثروات المعدنية مثل البترول والذهب .
٩. تشهد دولها تطوراً صناعياً مثل اليابان والصين وكوريا الجنوبية وماليزيا .
١٠. فيها العديد من التناقضات كأبرد منطقة (سهول سيبيريا) وأشد منطقة حرارة ( صحراء الربع الخالي ) ، وأعلى قمة (قمة افرست) ، و أخفض منطقة ( البحر الميت ) .

السؤال السابع : أوضح الأعمال التي قام بها العباسيون في قارة آسيا ؟

- ١ . الحفاظ على الحدود واسترجاع المناطق التي كان يحتلها البيزنطيون .
- ٢ . فتح بعض المناطق التي عرفت بالثغور وتحصنيها وتسكين المسلمين فيها لحمايتها .
- ٣ . فتحوا مدينتا طرسوس ( سوريا ) و عمورية ( تركيا ) .

السؤال السابع : أعين على خريطة آسيا الصماء ما يأتي :

- الجبال : الهمالايا .  
الهضاب : التبت ، والدكن .  
الأنهار : دجلة ، والفرات .  
الدول : اليابان ، والهند ، وماليزيا ، وكشمير ، وأرمينيا ، والصين .  
المحيطات : الهندي ، و الهادئ .

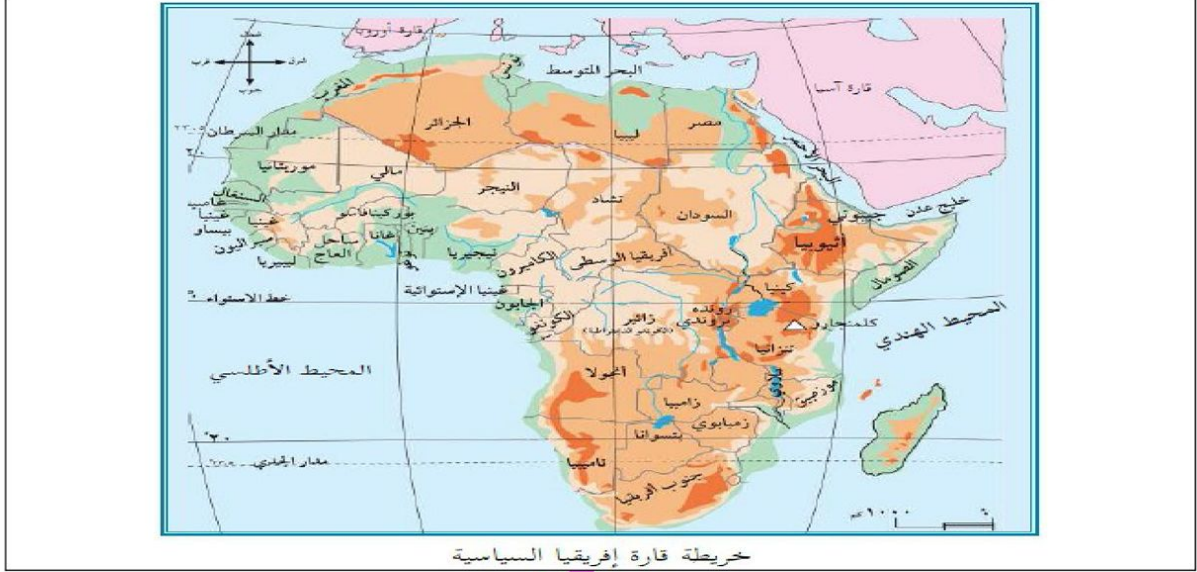




## الدرس الثاني : قارة إفريقيا وامتداد الدولة الإسلامية فيها

### الموقع الفلكي والجغرافي لقارة إفريقيا :

نشاط (١) : نلاحظ الخريطة ، ثم نقوم بما يأتي :



خريطة قارة إفريقيا السياسية

### ١. نستنتجُ الموقع الفلكي لقارة إفريقيا ؟

تمتد قارة إفريقيا بين دائرتي عرض ( ٣٧° ) شمال خط الاستواء إلى ( ٣٥° ) جنوب خط الاستواء ، أي تمر بها ( ٧٢ دائرة عرض ) .  
و بين خطي طول ( ١٧° ) غرب خط غرينتش و ( ٥١° ) شرق خط غرينتش أي يمر بها ٣٤ خط طول.

### ٢. نُحدِّدُ الموقع الجغرافي لقارة إفريقيا ؟

تقع إلى الجنوب الغربي من قارة أوراسيا ( أوروبا ، آسيا ) .

البحر المتوسط ، تتصل مع أوروبا من خلال مضيق جبل طارق .	الشمال
المحيط الهندي ، والبحر الأحمر ، وقناة السويس .	الشرق
المحيط الأطلسي ، و المحيط الهندي .	الجنوب
المحيط الأطلسي .	الغرب

### ٣. نُعيِّنُ الدول العربية في قارة إفريقيا ؟

مصر ، ليبيا ، السودان ، الجزائر ، تونس ، المغرب ، الصومال ، جيبوتي ، موريتانيا ، جزر القمر .

## مظاهر السطح في قارة إفريقيا :

نشاط (٢) : نلاحظ الخريطة ، ثم نجيب على الأسئلة التي تليها :



خريطة قارة إفريقيا الطبيعية

١. نبيِّن المظهر التضاريسي الغالب على قارة إفريقيا ؟

المظهر التضاريسي الغالب على قارة إفريقيا المظهر الهضبي .

٢. نسمي بعض مظاهر السطح في قارة إفريقيا ؟

### الهضاب :

- هضبة البحيرات الاستوائية وسط القارة حول خط الاستواء .
- هضبة الصحراء الإفريقية الكبرى شمال القارة .
- هضبة الفلد جنوب القارة .
- هضبة إثيوبيا وسط القارة وشرقها .

### الجبال :

١. كتل متناثرة :

- جبل كلمنجارو : يقع شرق القارة في دولة ( تنزانيا ) ، وهو أعلى جبل في القارة .
- جبل طوبقال : يقع في دولة المغرب ، وهو أعلى قمة في جبال أطلس .

٢. سلاسل جبلية

- جبال أطلس : تقع شمال غرب القارة في بلاد المغرب العربي .
- جبل العوينات : تقع في منطقة حدود ليبيا-مصر-السودان .
- جبال تيببستي : تقع وسط الصحراء الإفريقية الكبرى في شمال تشاد وأقصى جنوب ليبيا .
- جبال الهكار : تقع في أقصى جنوب شرقي القارة ( الجزائر ) .
- جبال داركنزبرج : تقع جنوب شرق القارة .

### السهول :

١. السهول الساحلية ( على سواحل البحار والمحيطات ) :
  - تمتد على طول سواحل البحر المتوسط شمال القارة .
  - تمتد على طول سواحل المحيط الأطلسي والهندي .
٢. السهول الفيضية ( على ضفاف الأنهار ) :
  - سهول نهر النيل الذي يمر في دول مثل ، مصر والسودان و أثيوبيا ، وهو أطول أنهار العالم.
  - سهول نهر النيجر .
  - سهول نهر الكونغو.
  - سهول نهر الزمبيزي : تقع عليه شلالات فيكتوريا .

### البحيرات :

- بحيرة فيكتوريا : تقع البحيرة بين دول أوغندا وكينيا وتنزانيا، وتعد أحد منابع نهر النيل ، وهي ثاني أكبر بحيرة عذبة في العالم .
- بحيرة تشاد : تقع البحيرة في غرب و وسط أفريقيا .

### ٣. نستنتجُ أثر الموقع الفلكي في مُناخ قارة إفريقيا ؟

أدى امتداد خط الاستواء في وسط القارة ، ومداري السرطان والجدي من قارة إفريقيا إلى تعاكس الفصول فيها ، بمعنى أنه إذا كان القسم الشمالي من القارة صيفاً يكون القسم الجنوبي منها شتاءً و العكس صحيح .



أوصف مناخ قارة إفريقيا ؟		
أدى امتداد خط الاستواء في وسط القارة ، ومداري السرطان والجدي من قارة إفريقيا إلى تعاكس الفصول فيها ، بمعنى أنه إذا كان القسم الشمالي من القارة صيفاً يكون القسم الجنوبي منها شتاءً و العكس صحيح .		
النصف الشمالي		
صيفاً	شتاءً	
ترتفع درجة الحرارة ، وتعتدل قرب السواحل .	تنخفض الحرارة .	
تسقط الأمطار الموسمية على جنوب السودان ، ووسطه ، وعلى هضبة الحبشة.	تسقط الأمطار على سواحل البحر المتوسط	الأمطار
النصف الجنوبي		
صيفاً	شتاءً	
ترتفع درجة الحرارة بسبب تعامد الشمس على مدار الجدي	تنخفض الحرارة .	
تسقط الأمطار الموسمية على السواحل الشرقية والجنوبية للقارة .		الأمطار

أكتب المفهوم الدال لكل مما يلي :	
تعاكس الفصول	إذا كان القسم الشمالي من القارة صيفاً يكون القسم الجنوبي منها شتاءً و العكس صحيح .
مدار السرطان	تتعامد عليه الشمس في فصل الصيف و يكون في القسم الشمالي من قارة إفريقيا .
مدار الجدي	تتعامد عليه الشمس في فصل الصيف و يكون في القسم الجنوبي من قارة إفريقيا .

أكمل الفراغ لكل ما يأتي :	
١ .	في القسم الشمالي من قارة إفريقيا ترتفع درجة الحرارة في فصل الصيف وتعتدل قرب السواحل .
٢ .	تسقط الأمطار الموسمية الصيفية في القسم الشمالي من قارة إفريقيا على جنوب السودان ، ووسطه ، وعلى هضبة الحبشة.
٣ .	تسقط الأمطار الشتوية في الشتاء في القسم الشمالي من قارة إفريقيا على سواحل البحر المتوسط .
٤ .	في القسم الجنوبي من قارة إفريقيا ترتفع درجة الحرارة في فصل الصيف وتنخفض في فصل الشتاء.
٥ .	تسقط الأمطار الموسمية الصيفية في القسم الجنوبي من قارة إفريقيا على السواحل الشرقية و الجنوبية للقارة .

ما النتيجة المترتبة على مرور خط الاستواء ومدار الجدي والسرطان في قارة إفريقيا .
تعاكس الفصول في القارة .

علل ما يلي :
١. تعاكس الفصول في قارة إفريقيا .
بسبب مرور خط الاستواء ومدار الجدي والسرطان في قارة إفريقيا
٢. ترتفع درجة الحرارة في القسم الشمالي والجنوبي صيفاً .
ترتفع درجة الحرارة في القسم الشمالي بسبب تعامد الشمس على مدار السرطان .
ترتفع درجة الحرارة في القسم الجنوبي بسبب تعامد الشمس على مدار الجدي .
٣. تسقط الأمطار صيفاً على جنوب السودان ووسطها وهضبة الحبشة ؟
بسبب هبوب الرياح الموسمية الماطرة .

## خصائص قارة إفريقيا :

نشاط (٣) : نقرأ النص الآتي ، ثم نجيب على الأسئلة التي تليه :

على الرغم من اتساع مساحة قارة إفريقيا، وامتلاكها لعدد من الثروات الطبيعية، إلا أنها تعاني تحديات مختلفة، أبرزها التصحر الذي يهدد أراضيها الصالحة للزراعة، وكذلك الفقر، والمجاعات، والأزمات الغذائية، ولا تقتصر معاناة القارة الإفريقية على الجانب الاقتصادي فقط، وإنما تمتد لتشمل جوانب أخرى مهمة، وبخاصة في النواحي الصحية التي تؤثر على عمليات التنمية، ومن أبرز المشكلات الصحية انتشار عدد من الأمراض المتوطنة، مثل الإيدز، والملاريا، ومرض النوم، وهي من عوائق التنمية الخطيرة بإفريقيا، وتتكلف الدول الإفريقية أموالاً طائلة للقضاء عليها.

### ١. نستنتج التحديات التي تواجه قارة إفريقيا ؟

- التصحر الذي يهدد الأراضي الزراعية في القارة .
- الفقر ، والمجاعات ، و الأزمات الغذائية . ( الجوانب الاقتصادية )
- انتشار الأمراض و الأوبئة مثل مرض الإيدز ، والملاريا ، ومرض النوم مما يعيق عمل التنمية .
- الصراعات والحروب الأهلية .
- تجارة الرقيق خلال فترة الاستعمار الأوروبي .

### ٢. نقترح طرقاً للنهوض بالأوضاع الاقتصادية للقارة ؟

- استثمار الموارد الطبيعية للقارة ( الثروات الزراعية والحيوانية ) .
- إنتاج الأدوية واللقاحات للقضاء على الأمراض المتوطنة فيها .
- القضاء على الصراعات ووقف الحروب الأهلية .

### نستنتج أهم الخصائص التي تتميز بها قارة إفريقيا ؟

١. تحتل قارة إفريقيا المرتبة الثانية من حيث عدد السكان ، فبلغ عددهم حوالي مليار و ٣٠٥ ألف نسمة حسب إحصائية عام ٢٠١٩ م .
٢. تحتل قارة إفريقيا المرتبة الثانية من حيث المساحة ، حيث تبلغ مساحتها ٣٠ مليون كم<sup>٢</sup> .
٣. يتوزع سكان قارة إفريقيا على السواحل وفي المناطق الداخلية .
٤. تأخذ قارة إفريقيا شكل المثلث قاعدته في الشمال و رأسه في الجنوب .
٥. يوجد في قارة إفريقيا أكبر هضاب العالم مساحة ( هضبة الصحراء الإفريقية الكبرى ) .
٦. سواحل قارة إفريقيا شبه مستقيمة وقليلة التعاريج مما أدى إلى قلة الموانئ الطبيعية .
٧. وجود الكثير من الموارد الطبيعية مثل البترول والمعادن والمنتجات الزراعية .
٨. عانت خلال فترة الاستعمار الأوروبي من تجارة الرقيق الذي استنزف موارد القارة البشرية .

### علل ما يلي :

١. على الرغم من وجود الكثير من الموارد الطبيعية في قارة إفريقيا إلا أنها غير متطورة .  
بسبب الحروب والصراعات والفقر والتصحر والجفاف و الأمراض والفقر .
٢. عانت قارة أفريقيا خلال فترة الاستعمار الأوروبي من استنزاف موارد القارة البشرية ؟  
بسبب تجارة الرقيق.

### نبحثُ و نناقش :

موقف الإسلام والمواثيق الدولية كالإعلان العالمي لحقوق الإنسان عام ١٩٤٨ م من العبودية والرق .

حرم الإسلام الرق والعبودية حتى ذلك النوع الذي تفرزه الحروب ، وكان الإسلام مع حرية الإنسان يدعو إلى الحرية فالإنسان الحر يبدع وابتكر وينتج . وعبودية الإنسان تكون لله وحده وتحرره من عبودية أي مخلوق آخر ، و وضع الإسلام التدابير لوضع نهاية للرق والعبودية ومن هذه التدابير : تحرير الأرقاء كفارات للذنوب .

ومن الأقوال المأثورة للخليفة عمر بن الخطاب – رضي الله عنه - ( متى استعبدتم الناس وقد ولدتهم أمهاتهم أحرارا ) .

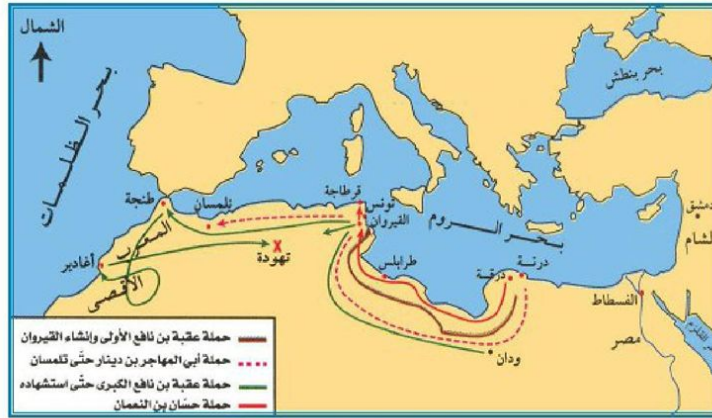
تخضع العبودية في القانون الدولي لعدد من المعاهدات والاتفاقيات والإعلانات. وفي المقام الأول من بين هذه القضايا الإعلان العالمي لحقوق الإنسان (عام ١٩٤٨) الذي ينص في المادة الرابعة على أنه " لا يجوز استرقاق أو استعباد أحد، فلا بد من القضاء على العبودية بكافة أشكاله " .



## الفتوحات الإسلامية في قارة إفريقيا :

نشاط (٤) : نقرأ النص الآتي ، ونلاحظ الخريطة ، ثم نُجيب :

استغرق فتح المسلمين للمغرب حوالي ثمانين عامًا تقريبًا، وهي مدة طويلة، مقارنة بالفتوحات الإسلامية في المناطق الأخرى؛ ويرجع ذلك إلى مساحة هذه المنطقة الكبيرة، وصعوبة تضاريسها الجغرافية، وشدة بأس سكانها البربر في القتال، ولكن سياسة المسلمين المتسامحة مع السكان، أدت إلى اعتناقهم الدين الإسلامي، واندماجهم في الحضارة العربية الإسلامية.



خريطة امتداد الدولة الإسلامية في قارة إفريقيا

١. نفيسر المدة الزمنية الطويلة التي استغرقها المسلمون لفتح المغرب .

- اتساع مساحة المغرب .
- صعوبة التضاريس الجغرافية ( صحاري حارة وجبال ) .
- شراسة سكانها البربر في القتال .

٢. نُحدّد المناطق التي فتحت في عهد الدولة الإسلامية .

بلغت الدولة الإسلامية أقصى اتساع لها في عهد لدولة الأموية فقد تم فتح :

مدن في شمال أفريقيا	بلاد الأندلس واقعة في القارة الأوروبية
<ul style="list-style-type: none"> <li>• القيروان في تونس .</li> <li>• تهودة في الجزائر .</li> <li>• قرطاجة في تونس .</li> <li>• طنجة في المغرب .</li> </ul>	<ul style="list-style-type: none"> <li>• بلاد الأندلس واقعة في القارة الأوروبية وهي تمثل إسبانيا في الوقت الحالي .</li> <li>• حزر البحر المتوسط .</li> </ul>

### تكلم عن الفتوحات الإسلامية في قارة إفريقيا ؟

- استأنف المسلمون فتوحاتهم في العصر الأموي في قارة إفريقيا :
- عقبة بن نافع : قام بفتح مدينة تونس ، وبنى مدينة القيروان فيها ، ووصل للمحيط الأطلسي ، واستشهد على يد البربر في منطقة تهودة في دولة الجزائر حالياً .
  - حسان بن النعمان الغساني : واصل الفتوحات ، وتمكن من الانتصار على البربر ، وفتح معظم المغرب الأوسط ( الجزائر ) .
  - موسى بن نصير : فتح ما تبقى من بلاد المغرب الأقصى حتى المحيط الأطلسي .

### لماذا قام عقبة بن نافع ببناء مدينة القيروان ؟

لتكون قاعدة للمسلمين .

### ماذا عمل ولاة المغرب المسلمون لكسب البربر إلى جانبهم ؟

- ١ . نشر الإسلام بينهم .
- ٢ . ضمهم لجيش المسلمين .
- ٣ . تعيين فقهاء منهم .
- ٤ . استخدام سياسة التسامح .

### ما النتيجة المترتبة لكل من :

- ١ . سياسة المسلمين المتسامحة مع البربر .  
دخول البربر في الإسلام ، وتعلمهم اللغة العربية ، والانضمام للجيش الإسلامي ، واندماجهم في الدولة الإسلامية .
- ٢ . تجارة الرقيق في قارة إفريقيا خلال الاستعمار الأوروبي ؟  
استنزاف موارد القارة البشرية .

### ما سبب انتشار الإسلام في مناطق كثيرة في قارة إفريقيا ؟

بسبب التجار والدعاة المسلمين ، حيث انتشر الإسلام في نيجيريا ، السنغال ، مالي .

## أختبر نفسي

السؤال الأول : اختر رمز الإجابة الصحيحة فيما يأتي :

١. ما أعلى جبال قارة إفريقيا؟		
أ	أطلس .	ب طوبقال .
ج	كلمنجارو .	د الهكار .

٢. ما دائرة العرض الرئيسية التي تمر من وسط قارة إفريقيا ؟		
أ	مدار السرطان .	ب مدار الجدي .
ج	خط الاستواء .	د خط غرينتش .

٣. ما المضيق الذي يصل قارة إفريقيا مع قارة أوروبا ؟		
أ	بيرنج .	ب جبل طارق .
ج	قناة السويس .	د باب المندب .

٤. ما أطول أنهار قارة إفريقيا ؟		
أ	الكزنغو .	ب النيجر .
ج	الزمبيزي .	د النيل .

٥. ما ترتيب قارة إفريقيا من حيث المساحة بين قارات العالم ؟		
أ	الأولى .	ب الثانية .
ج	الثالثة .	د الرابعة .

٦. أين استشهد عقبة بن نافع ؟		
أ	القيروان .	ب برقة .
ج	تهودة .	د قرطاجة .

السؤال الثاني : أفسر ما يأتي:

١ . قلة الموائئ الطبيعية على سواحل قارة إفريقيا.
بسبب قلة التعرجات فيها وشبه استقامة السواحل.
٢ . تعاكس الفصول في القسم الجنوبي عن القسم الشمالي في قارة إفريقيا.
بسبب مرور خط الاستواء ومداري الجدي والسرطان في القارة.



### السؤال الثالث: أوضح أهم خصائص قارة إفريقيا؟

١. تحتل قارة إفريقيا المرتبة الثانية من حيث عدد السكان ، فبلغ عددهم حوالي مليار و ٣٠٥ ألف نسمة حسب إحصائية عام ٢٠١٩ م .
٢. تحتل قارة إفريقيا المرتبة الثانية من حيث المساحة ، حيث تبلغ مساحتها ٣٠ مليون كم<sup>٢</sup> .
٣. يتوزع سكان قارة إفريقيا على السواحل وفي المناطق الداخلية .
٤. تأخذ قارة إفريقيا شكل المثلث قاعدته في الشمال و رأسه في الجنوب .
٥. يوجد في قارة إفريقيا أكبر هضاب العالم مساحة ( هضبة الصحراء الإفريقية الكبرى ) .
٦. سواحل قارة إفريقيا شبه مستقيمة وقليلة التعاريج مما أدى إلى قلة الموانئ الطبيعية .
٧. وجود الكثير من الموارد الطبيعية مثل البترول والمعادن والمنتجات الزراعية .
٨. عانت خلال فترة الاستعمار الأوروبي من تجارة الرقيق الذي استنزف موارد القارة البشرية .

### السؤال الرابع: أحسب عدد دوائر العرض وخطوط الطول التي تمتد عليها القارة الإفريقية.

القاعدة الأساسية لحساب خطوط الطول ودوائر العرض:

- ± إذا كان الموقع ( شرق وغرب ) خط جرينتش ، أو ( شمال وجنوب ) خط الاستواء ، نجمع الأرقام.
- ± إذا كان الموقع ( شرق مع شرق ) أو ( غرب مع غرب ) خط جرينتش ، أو ( شمال مع شمال ) أو ( جنوب مع جنوب ) خط الاستواء ، نطرح الأرقام.

١. تمتد قارة إفريقيا بين دائرتي عرض ٣٧° شمال و ٣٥° جنوب خط الاستواء إذن هي تمتد بين جهتين مختلفتين ( شمال وجنوب ) و عليه نجمع  $37 + 35 = 72$  دائرة عرض .
  ٢. تمتد قارة إفريقيا بين خطي طول ١٧° غرب و ٥١° شرق خط جرينتش إذن هي تمتد بين جهتين مختلفتين ( غرب وشرق ) و عليه نجمع  $17 + 51 = 68$  خط طول .
- عدد دوائر العرض التي تمتد عليها إفريقيا هي ٧٢ دائرة عرض .  
عدد خطوط الطول التي تمتد عليها إفريقيا هي ٢٨ خط طول.

### السؤال الخامس: أوازن بين درجات الحرارة في قارة إفريقيا صيفاً وشتاءً؟

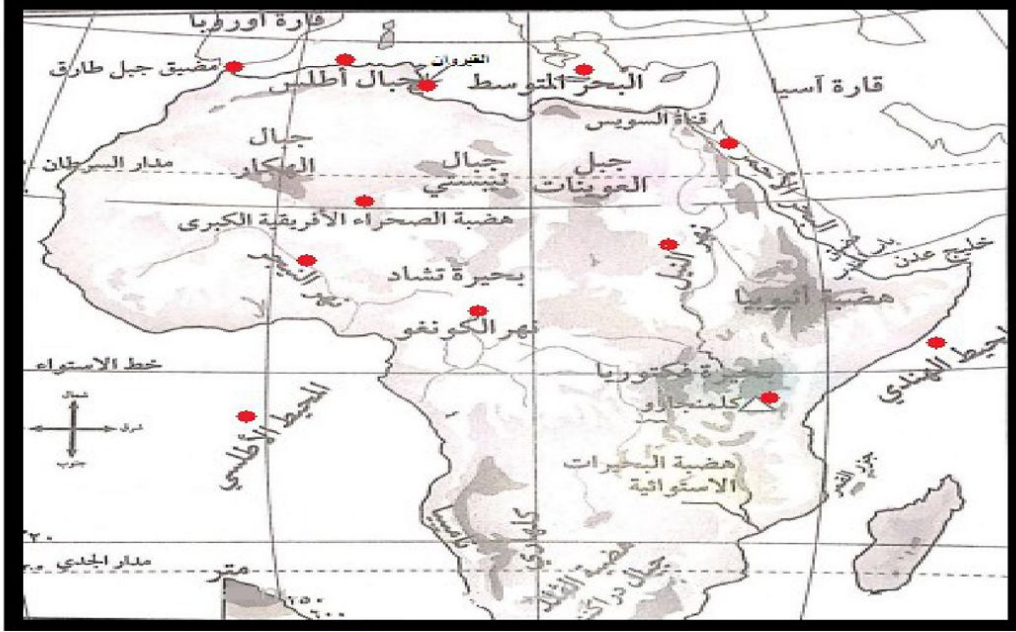
القسم الجنوبي من القارة	القسم الشمالي من القارة	
درجات الحرارة مرتفعة لتعتمد أشعة الشمس على مدار الجدي .	درجات الحرارة مرتفعة لتعتمد أشعة الشمس على مدار السرطان .	الصيف
تنخفض درجات الحرارة بشكل عام.	تنخفض درجات الحرارة بشكل عام.	الشتاء

### السؤال السادس: أوضح امتداد الدولة الإسلامية في قارة إفريقيا خلال العصرين الأموي؟

- استأنف المسلمون فتوحاتهم في العصر الأموي في قارة إفريقيا :
- عقبة بن نافع : قام بفتح مدينة تونس ، و بنى مدينة القيروان فيها ، ووصل للمحيط الأطلسي ، واستشهد على يد البربر في منطقة تهودة في دولة الجزائر حالياً .
  - حسان بن النعمان الغساني : واصل الفتوحات ، وتمكن من الانتصار على البربر ، وفتح معظم المغرب الأوسط ( الجزائر ) .
- موسى بن نصير : فتح ما تبقى من بلاد المغرب الأقصى حتى المحيط الأطلسي .

السؤال السابع: أعين على خريطة قارة إفريقيا الصماء ما يلي:

- الأنهار : النيل ، و الكونغو ، والنيجر .
- المحيطات : الأطلسي ، والهندي .
- الجبال : أطلس ، و كلمنجارو .
- الهضاب : هضبة الصحراء الإفريقية الكبرى .
- البحار و المضائق : البحر المتوسط ، والبحر الأحمر ، ومضيق جبل طارق .
- المدن : القيروان .



## الدرس الثالث : قارة أوروبا وامتداد الدولة الإسلامية فيها

### الموقع الفلكي والجغرافي لقارة أوروبا :

نشاط (١) : نلاحظ الخريطة ، ثم نقوم بما يأتي :



خريطة قارة أوروبا السياسية

### ١. نُحدِّدُ الموقعَ الفلكيَ لقارة أوروبا ؟

تمتد قارة أوروبا :

بين دائرتي عرض (٣٤°) إلى (٨٠°) شمال خط الاستواء ، أي تمر بها (١١٤) دائرة عرض .  
بين خطي طول (١٠°) غرب خط غرينتش و (٦٠°) شرق خط غرينتش ، أي يمر بها (٥٠) خط طول .

### ٢. نُحدِّدُ الموقعَ الجغرافيَ لقارة أوروبا ؟

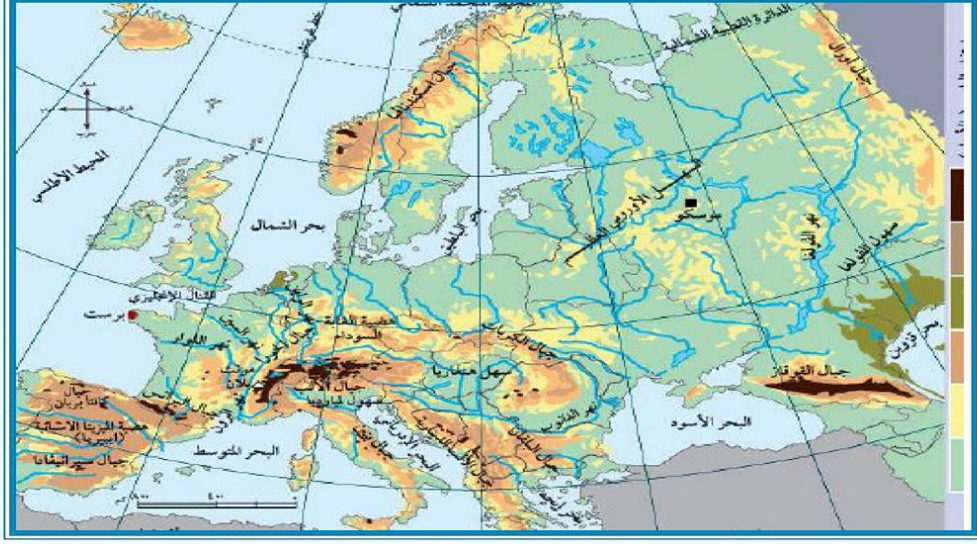
تقع إلى الغرب من قارة آسيا .

المحيط المتجمد الشمالي .	الشمال
بحر قزوين ، سلسلة جبال الأورال التي تفصلها عن آسيا .	الشرق
البحر المتوسط ، والبحر الأسود ، وبحر مرمرة .	الجنوب
المحيط الأطلسي .	الغرب



## مظاهر السطح في قارة أوروبا :

نشاط (٢) : نلاحظ الخريطة ، ثم نقوم بما يأتي :



خريطة قارة أوروبا الطبيعية

١. نحدد المظهر التضاريسي السائد في قارة أوروبا ؟

المظهر التضاريسي السائد في قارة أوروبا ( السهول ) .

٢. نسمي بعض التضاريس لقارة أوروبا ؟

تتنوع مظاهر السطح في قارة أوروبا فمنها :

### السهول :

السهل الأوروبي العظيم : يمتد من السواحل الغربية للقارة حتى سلسلة جبال الأورال شرقاً ، ويتخلله نهر الدانوب الذي يُعد أطول نهر في قارة أوروبا .

### الجبال :

- السلاسل الجبلية :
  ١. سلسلة جبال الألب تمتد في الجنوب .
  ٢. سلسلة جبال البرانس التي تفصل إسبانيا عن فرنسا .
- جبل مونت بلان ( القمة البيضاء ) في فرنسا أعلى جبال قارة أوروبا .

### الهضاب :

- هضبة المزيثا الإسبانية .
- هضبة الغابة السوداء في ألمانيا .

### ٣. نستنتجُ أثر التضاريس على مناخ قارة أوروبا ؟

أدى الامتداد العرضي لجبال الألب إلى منع المؤثرات الدافئة الجنوبية من الوصول إلى الشمال ، ومنع المؤثرات الشمالية الباردة من الوصول إلى الجنوب ، كما أدى إلى توغل الرياح الغربية داخل القارة .

فصل الصيف	فصل الشتاء
<ul style="list-style-type: none"><li>• ترتفع درجة الحرارة كلما اتجهنا من الشمال للجنوب ، ومن الغرب للشرق .</li><li>• تسقط الأمطار على معظم أجزاء القارة باستثناء المناطق الجنوبية المطلة على البحر المتوسط التي تتميز بالجفاف في هذا الفصل الشتاء .</li></ul>	<ul style="list-style-type: none"><li>• تنخفض درجة الحرارة كلما اتجهنا من الجنوب للشمال ، ومن الغرب للشرق .</li><li>• تسقط الأمطار والثلوج على جميع أجزاء القارة ، وتزداد كميتها كلما اتجهنا للغرب .</li></ul>

### خصائص قارة أوروبا :

نشاط (٣) : نقرأ النص الآتي ، و نستنتجُ ، ثم نجيب على الأسئلة التي تليه :

على الرغم من أنّ كثيرًا من المهاجرين غير الشرعيين يموتون في طريقهم إلى أوروبا، بحثًا عن حياة كريمة، لكنّ دول القارة العجوز ليست خالية من المشاكل؛ إذ يواجه بعضها تحديات كبيرة، منها تراجع معدلات نمو المواليد، وارتفاع نسبة كبار السن؛ بسبب تفضيل شعوبها الزواج المتأخر، وإنجاب عدد قليل من الأطفال، منها ألمانيا، وبينما تحاول القارة الأوروبية السيطرة على تدفق اللاجئين والمهاجرين؛ لدواعٍ سياسية، وأمنية، وحضارية، لكنّها تحتاج إليهم؛ لزيادة نسبة سكانها؛ لدواعٍ اقتصادية؛ بسبب معاناتها من الشيخوخة.

#### ١. نوضّح أهم المشاكل التي تعاني منها القارة الأوروبية ؟

- تراجع معدلات النمو .
- ارتفاع نسبة كبار السن .
- إنجاب عدد قليل من الأطفال .

#### ٢. نبيّن موقف الدول الأوروبية من تدفق الهجرة غير الشرعية ؟

تحاول القارة الأوروبية السيطرة على تدفق اللاجئين والمهاجرين لدواعٍ سياسية و أمنية ، وحضارية ، لكنها تحتاج إليهم لزيادة نسبة سكانها لدواعٍ اقتصادية

أفسر ما يأتي:
١ . تسمية قارة أوروبا بالقارة العجوز ؟
بسبب ارتفاع نسبة كبار السن وتراجع معدلات نمو المواليد .
٢ . تراجع معدلات نمو المواليد وارتفاع نسبة كبار السن ؟
بسبب الزواج المتأخر وإنجاب عدد قليل من الأطفال .
٣ . تعاني قارة أوروبا من مشكلة التناقص في أعداد السكان .
بسبب تأخر سن الزواج ، وارتفاع نسبة كبار السن فيها .
٤ . تمتاز قارة أوروبا بطول سواحلها .
بسبب كثرة التعاريج فيها وتداخل اليابس مع الماء .
٥ . تمتاز أوروبا بتطورها في مختلف المجالات الاقتصادية .
لأن منها بدأت الثورة الصناعية ، و بها شبكة مواصلات برية ، بحرية وجوية متطورة .

نستنتج أهم الخصائص التي تتميز بها قارة أوروبا ؟
١ . تحتل قارة أوروبا المرتبة الثالثة من حيث عدد السكان ، فبلغ عددهم حوالي ٧٤٥ مليون نسمة حسب إحصائية عام ٢٠١٩ م .
٢ . تحتل قارة أوروبا المرتبة الخامسة من حيث المساحة حيث تبلغ مساحتها ١٠.٥ مليون كم <sup>٢</sup> .
٣ . أكثر القارات من حيث الكثافة السكانية ؛ بسبب صغر مساحتها مقارنة مع عدد سكانها .
٤ . تمتاز بتطورها في مختلف المجالات الاقتصادية .
٥ . بدأت فيها الثورة الصناعية .
٦ . يتوافر في القارة شبكات مواصلات برية ، و بحرية ، وجوية متطورة .
٧ . من أشهر دول قارة أوروبا : ألمانيا ، فرنسا ، بريطانيا .
٨ . هي القارة التي استعمرت الوطن العربي ومنها فلسطين .
٩ . تمتاز بطول سواحلها ، وتداخل اليابس مع الماء .
٣ . يتوزع سكان قارة إفريقيا على السواحل وفي المناطق الداخلية .
٤ . تأخذ قارة إفريقيا شكل المثلث قاعدته في الشمال و رأسه في الجنوب .
٥ . يوجد في قارة إفريقيا أكبر هضاب العالم مساحة ( هضبة الصحراء الإفريقية الكبرى ) .
٦ . سواحل قارة إفريقيا شبه مستقيمة وقليلة التعاريج مما أدى إلى قلة الموانئ الطبيعية .
٧ . وجود الكثير من الموارد الطبيعية مثل البترول والمعادن والمنتجات الزراعية .
٨ . عانت خلال فترة الاستعمار الأوروبي من تجارة الرقيق الذي استنزف موارد القارة البشرية .

علماء النتيجة المترتبة على : طول سواحل قارة أوروبا وكثرة التعاريج فيها .
تشكّل الموانئ الطبيعية ، ونشاط حركة الصيد .

<b>للتذكير :</b>
وقعت فلسطين تحت الانتداب البريطاني من عام ١٩٢٢ م إلى عام ١٩٤٨ م .



## الفتوحات الإسلامية في قارة أوروبا :

نشاط (٤) : نلاحظ الخريطة ، ثم نُجيب عن السؤال الذي يليها :



١. نسمي المناطق التي فتحها المسلمون في قارة أوروبا في العصرين الأموي والعباسي ؟

### في العصر الأموي :

فتح المسلمون بلاد الأندلس ( إسبانيا ، والبرتغال ) ، ووصل الفتح إلى شمال إسبانيا قرب فرنسا . تم فتح عدد من المدن المهمة ، مثل : قرطبة ، إشبيلية ، ماردة ، طليطلة ، سرقسطة .

### في العصر العباسي :

فتح المسلمون جزر البحر المتوسط ، مثل : كريت ، قبرص ، صقلية ، البليار .

تلكم عن الفتوحات الإسلامية في قارة إفريقيا ؟

- انتصر طارق بن زياد على الإسبان في معركة وادي لكة سنة ٩٢ هـ / ٧١١ م .
- لحق موسى بن نصير بطارق بن زياد إلى الأندلس ( إسبانيا والبرتغال ) والتقى شمال إسبانيا ( فرنسا حالياً ) وفتحها في طريقهما قرطبة ، إشبيلية ، ماردة ، طليطلة ، سرقسطة .
- حاول المسلمون التوغل داخل فرنسا بقيام حملة كبيرة عام ١١٤ هـ / ٧٣٢ م تسمى معركة بلاط الشهداء بقيادة عبد الرحمن الخافقي ، وهزم فيها المسلمين بعد استشهاد قائدهم .
- في العصر العباسي اقتصرت الفتوحات على بعض جزر البحر المتوسط ، مثل : كريت ، قبرص ، صقلية ، البليار .

أذكر الاسم الأخر لمعركة بلاط الشهداء ؟

الاسم الأخر لمعركة بلاط الشهداء هو بواتيه

أذكر نتائج معركة بلاط الشهداء ؟

١. استشهاد القائد عبد الرحمن الغافقي .
٢. هزيمة المسلمين .
٣. توقف الفتوحات الإسلامية البرية في قارة أوروبا .

ما النتيجة المترتبة على : فتح المسلمين لجزيرة صقلية عام ٢١٢ هـ / ٨٢٨ م ؟

أصبحت بلداً تسوده الحضارة العربية الإسلامية ، و أسلم عدد كبير من سكانها الصقليين .

قارن بين معركة وادي لكة ومعركة بلاط الشهداء ( بواتيه ) من حيث :


وجه المقارنة	معركة وادي لكة	معركة بلاط الشهداء ( بواتيه )
سنة الحدوث	٩٢ هـ / ٧١١ م	١١٤ هـ / ٧٣٢ م
القائد	طارق بن زياد	عبد الرحمن الغافقي
الأطراف	المسلمين ، سكان الأندلس	المسلمين ، الفرنسيين
النتائج	فتح الأندلس ، وإشبيلية ، و قرطبة ، و ماردة ، و طليطلة ، و سرقسطة .	استشهاد عبد الرحمن الغافقي . توقف الفتوحات الإسلامية البرية في أوروبا

## المظاهر الحضارية و الاجتماعية في الأندلس:

نشاط (٥) : نلاحظ الصورتين ، و نستنتج ، ثم نجيب عن السؤال الذي يليهما :



مكتبة إسلامية في الأندلس



مدينة الزهراء التي بناها عبد الرحمن الناصر قرب قرطبة

١. نبيّن مدلول الصورتين من ناحية حضارية ؟

أن الأندلس منارة للعلم والعلماء ، و أن المسلمين أقاموا حضارة شاملة راقية متميزة في الأندلس .

من الذي بنى مدينة الزهراء في قرطبة ؟  
بنى مدينة الزهراء عبد الرحمن الناصر قرب قرطبة .

من هو مؤسس الدولة الأموية في الأندلس ؟  
مؤسس الدولة الأموية في الأندلس عبد الرحمن الداخل الملقب بصقر قريش عام ١٣٨ هـ / ٧٥٦ م.

ماذا أقام عبد الرحمن الداخل في الأندلس ؟  
أقام عبد الرحمن الداخل في الأندلس أمانة وراثية ، سُميت باسم الدولة الأموية في الأندلس .

ما الأعمال التي قام بها عبد الرحمن الداخل في الأندلس ؟  
• تطوير النظام الإداري والعسكري والاقتصادي .  
• العمل على تنشيط الحركة العلمية حتى أصبحت منارة للعلم والعلماء .

ما النتيجة المترتبة على : تنشيط الحركة العلمية في الأندلس .  
أصبحت الأندلس منارة للعلم والعلماء .

أذكر المنشآت العمرانية التي أقامها المسلمون في الأندلس ؟  
• مسجد قرطبة .  
• مدينة الزهراء .  
• قصر الحمراء .

ما هي مكونات المجتمع الأندلسي ؟  
١ . المسلمون من العرب والبربر .  
٢ . المولدين .  
٣ . الإسبان .  
٤ . الصقالبة .

أكتب المفهوم الدال لكل مما يلي :

المولدين	هم الذين وُلدوا من آباء مسلمين و أمهات إسبانيات .
الإسبان	سكان الأندلس الأصليين الذين ظلوا على ديانتهم المسيحية ، وتعلموا اللغة العربية ، وظهر منهم أدباء وشعراء وعلماء .
الصقالبة	الأوروبيون الذين يأتون للأندلس لأسباب مختلفة .

كيف عاشت طبقات المجتمع الأندلسي ؟  
عاشت طبقات المجتمع الأندلسي في ظل مجتمع واحد ونظام واحد يسوده التسامح.



## أختبر نفسي

السؤال الأول : اختر رمز الإجابة الصحيحة فيما يأتي :

١. ما المرتبة التي تحتلها قارة أوروبا من حيث عدد السكان ؟			
أ	الأولى .	ب	الثانية .
ج	الثالثة .	د	الرابعة .

٢. ما الصفة التي تغلب على مناخ جنوب قارة أوروبا صيفاً ؟			
أ	ارتفاع الحرارة والجفاف .	ب	سقوط الأمطار ، واعتدال الحرارة .
ج	الجفاف ، والبرودة	د	سقوط الأمطار ، والبرودة .

٣. من مؤسس الدولة الأموية في الأندلس ؟			
أ	عبد الرحمن الداخل .	ب	موسى بن نصير .
ج	الوليد بن عبد الملك .	د	عبد الرحمن الغافقي .

السؤال الثاني : أكمل الفراغات بما يناسبها في الجمل الآتية :			
١ . تقع قارة أوروبا إلى <u>الغرب</u> من قارة آسيا.			
٢ . يحد قارة أوروبا من الغرب <u>المحيط الأطلسي</u> .			
٣ . أعلى جبال قارة أوروبا <u>مونت بلان</u> .			
٤ . الجبال التي تفصل اسبانيا عن فرنسا هي <u>جبال البرانس</u> .			
٥ . انتصر طارق بن زياد على الأسبان في معركة <u>وادي لكة</u> .			

السؤال الثالث : أفسر ما يأتي:			
١ . تطور الصناعة في قارة أوروبا .			
بسبب توفر مقومات الصناعة فيها، من ( مواد خام و رأس مال وتطور وسائل المواصلات ) ومنها انطلقت الثورة الصناعية. وأيضاً الاستقرار السياسي والاجتماعي فيها.			
٢ . طول ساحل قارة أوروبا .			
بسبب كثرة التعاريج ، و تداخل اليابس مع الماء (الفيوردات ) .			

السؤال الرابع : أبين النتائج التي ترتبت على معركة بلاط الشهداء؟			
● استشهاد عبد الرحمن الغافقي.			
● توقف الفتوحات الإسلامية البرية في قارة أوروبا في العصر الأموي.			

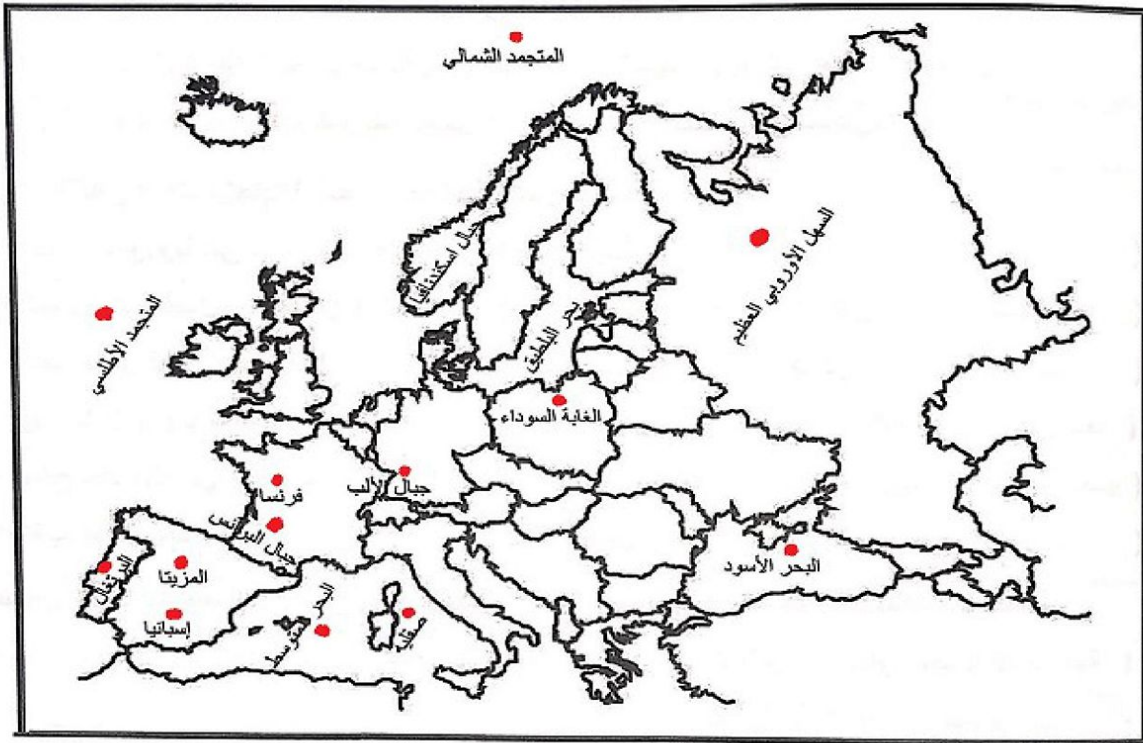
السؤال الخامس : أصف التركيب السكاني في المجتمع الإسلامي الأندلس ؟			
● المسلمون من العرب والبربر .			
● المولدين في الأندلس من آباء مسلمين وأمهات إسبانيات .			
● الأسبان الذين ظلوا على ديانتهم المسيحية .			
● الصقالبة وهم الأوروبيين الذين كانوا يأتوا لأسباب مختلفة .			

السؤال السادس: أبين امتداد الفتوحات الإسلامية في قارة أوروبا في العصر العباسي؟

في العصر العباسي اقتصرت الفتوحات على بعض جزر البحر المتوسط، مثل: كريت، قبرص، صقلية، البليار.

السؤال السابع: أعيّن على خريطة قارة أوروبا الصماء ما يلي:

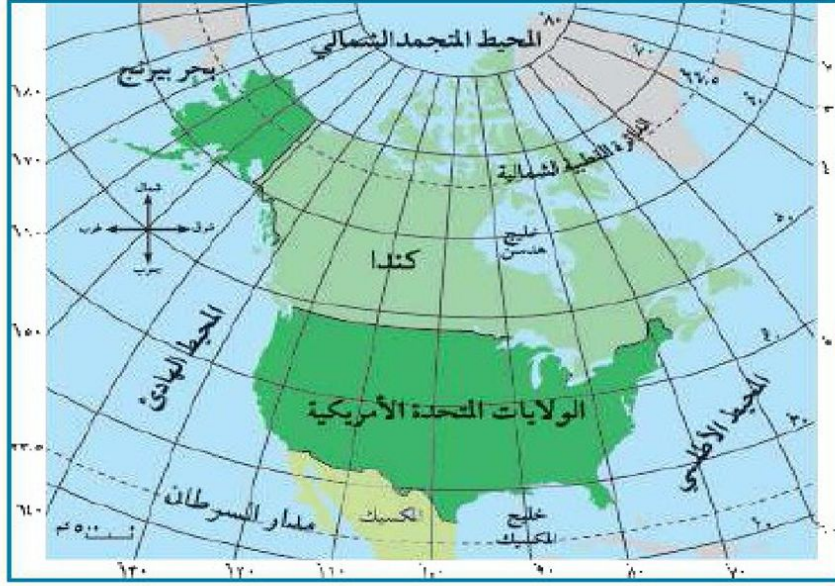
- . المحيطات: الأطلسي، والمتجمد الشمالي.
- . البحار: البحر المتوسط، والبحر الأسود.
- . الجبال: الألب، والبرانس.
- . الهضاب: المزيتا، الغاية السوداء.
- . السهول: السهل الأوروبي العظيم.
- . الدول: فرنسا، صقلية، إسبانيا، البرتغال.



## الدرس الرابع : قارة أمريكا الشمالية

### الموقع الفلكي والجغرافي لقارة أمريكا الشمالية :

نشاط (١) : نلاحظ الخريطة ، ثم نقوم بما يأتي :



خريطة قارة أمريكا الشمالية السياسية

١. نحدّد الموقع الجغرافي لقارة أمريكا الشمالية ؟

تقع في النصف الشمالي من الكرة الأرضية .

المحيط المتجمد الشمالي .	الشمال
المحيط الأطلسي .	الشرق
خليج المكسيك ، والبحر الكاريبي .	الجنوب
المحيط الهادئ .	الغرب

٢. نبيّن الموقع الفلكي لقارة أمريكا الشمالية ؟

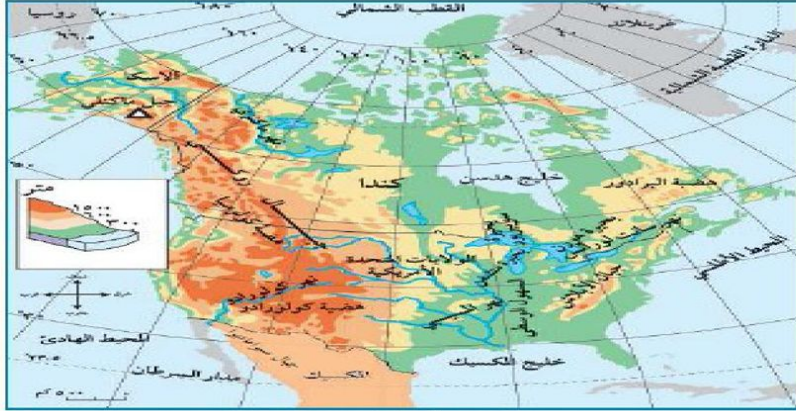
تمتد قارة أمريكا الشمالية :

بين دائرتي عرض ( ١٥ ° ) إلى ( ٨٣ ° ) شمال خط الاستواء ، أي تمر بها ( ٩٥ ) دائرة عرض .  
بين خطي طول ( ٤٨ ° ) إلى ( ١٧٠ ° ) غرب خط غرينتش ، أي يمر بها ( ١٢٢ ) خط طول .



## مظاهر السطح في قارة أمريكا الشمالية و خصائصها العامة :

نشاط (٢) : نلاحظ الخريطة ، ثم نقوم بما يأتي :



خريطة قارة أمريكا الشمالية الطبيعية

### ١. نحدد المظاهر التضاريسية في قارة أمريكا الشمالية ؟

تتكون قارة أمريكا الشمالية من ثلاث مظاهر :

#### السهول :

السهول الساحلية والوسطى : يجري فيها نهر المسيسيبي ، وتوجد فيها البحيرات الخمس العظمى \* .

#### الجبال :

##### المرتفعات الشرقية :

تُعرف بجبال الأبلش ، وتوجد فيها هضبة لبرادور الغنية بإنتاجها الزراعي والصناعي .

##### المرتفعات الغربية :

تُعرف بجبال الروكي ، هي أكثر ارتفاعاً من الشرقية ، وتوجد فيها هضبة كولومبيا .

##### المرتفعات الجنوبية :

تُعرف بجبال سيرامديرا .

#### الهضاب :

هضبة لبرادور في الشمال الشرقي . هضبة كولومبيا وهضبة كولورادو و كولومبيا في الغرب

### ٢. نستنتج الخصائص العامة لقارة أمريكا الشمالية ؟

١. تحتل قارة أمريكا الشمالية المرتبة الخامسة من حيث عدد السكان ، فيبلغ عددهم حوالي ٤٩٢ مليون نسمة حسب إحصائية عام ٢٠١٩ م .
٢. تحتل قارة أوروبا المرتبة الثالثة من حيث المساحة حيث تبلغ مساحتها ٢٤ مليون كم<sup>٢</sup> .
٣. أقل عدد قارات العالم في عدد الدول ، فيها ثلاث دول ( الولايات المتحدة الأمريكية ، كندا ، المكسيك ) .
٤. من قارات العالم المتقدمة .
٥. تمتاز بالإنتاج الزراعي والحيواني والصناعي العالي .
٦. فيها بعض الجاليات الفلسطينية .

### \* للإطلاع :

البحيرات الخمس العظمى هي سوبيريور، و ميتشيجان، و هيورون، و إيري، و أونتاريو.

### تكلم عن مناخ قارة أمريكا الشمالية ؟

#### مناخ قارة أمريكا الشمالية صيفاً :

ترتفع درجة الحرارة كلما اتجهنا جنوباً ، و تسقط الأمطار الصيفية على القارة .

#### مناخ قارة أمريكا الشمالية شتاءً :

تنخفض درجة الحرارة ، و تسقط الأمطار والثلوج على القارة ككل ، وتتميز الأطراف المطلة على خليج المكسيك بالدفء .

### أفسر ما يأتي:

١ . دفء الأطراف الجنوبية المطلة على خليج المكسيك في قارة أمريكا الشمالية ؟

بسبب الاقتراب من المنطقة المدارية الحارة وتأثيرها بتيار الخليج الدافئ .

٢ . تتميز قارة أمريكا الشمالية بإنتاج زراعي عالٍ ؟

بسبب تنوع أقاليمها المناخية، و اتساع سهولها، وخصوبة تربتها، واستخدام التقنيات الزراعية الحديثة .

٣ . تعاني قارة أوروبا من مشكلة التناقص في أعداد السكان .

بسبب تأخر سن الزواج ، وارتفاع نسبة كبار السن فيها .

### نبحث وناقش : لماذا لم تصل الفتوحات الإسلامية إلى قارة أمريكا الشمالية ؟

- قارة أمريكا الشمالية من قارات العالم الجديد تم اكتشافها في القرن الخامس عشر .
- البعد الجغرافي عن الدولة الإسلامية حيث يفصلها المحيط الأطلسي .
- ضعف الدولة العثمانية في أواخر حكمها .
- النهضة الأوروبية الذي جعل أمريكا الشمالية مطمع للاستعمار الأوروبي .

### أختبر نفسي

### السؤال الأول : اختر رمز الإجابة الصحيحة فيما يأتي :

١ . كم تبلغ مساحة قارة أمريكا الشمالية ؟

أ	٢ مليون كم <sup>٢</sup> .	ب	٩.٥ مليون كم <sup>٢</sup> .
ج	٢٤ مليون كم <sup>٢</sup> .	د	٤٤ مليون كم <sup>٢</sup> .

٢ . ماذا يحد قارة أمريكا الشمالية من الغرب ؟

أ	المحيط المتجمد الشمالي .	ب	المحيط الهادئ .
ج	المحيط الأطلسي .	د	البحر الكاريبي .

٣ . بماذا تعرف المرتفعات الشرقية في قارة أمريكا الشمالية ؟

أ	جبال سيراماديرا .	ب	جبال الأنديز .
ج	جبال روكي .	د	جبال الأبلش .

### السؤال الثاني : أحدد الموقع الفلكي لقارة أمريكا الشمالية ؟

تمتد قارة أمريكا الشمالية :  
بين دائرتي عرض ( ١٥ ° ) إلى ( ٨٣ ° ) شمال خط الاستواء ، أي تمر بها ( ٩٥ ) دائرة عرض .  
بين خطي طول ( ٤٨ ° ) إلى ( ١٧٠ ° ) غرب خط غرينتش ، أي يمر بها ( ١٢٢ ) خط طول .

### السؤال الثالث : أصف مناخ قارة أمريكا الشمالية صيفاً ؟

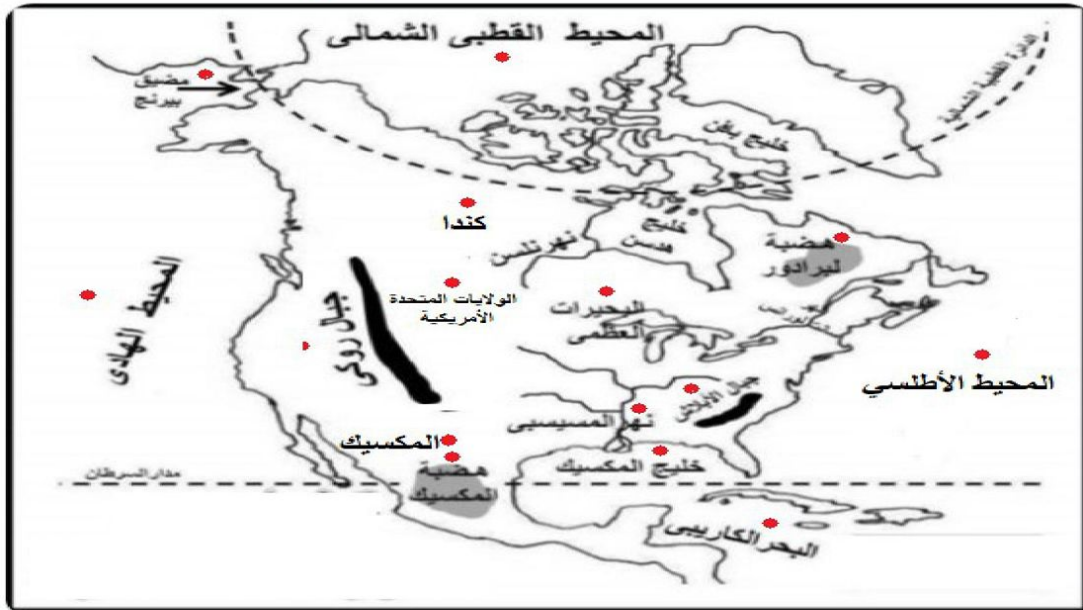
**مناخ قارة أمريكا الشمالية صيفاً :**  
ترتفع درجة الحرارة كلما اتجهنا جنوباً ، و تسقط الأمطار الصيفية على القارة .

### السؤال الرابع : أذكر أهم الخصائص العامة لقارة أمريكا الشمالية ؟

١. تحتل قارة أمريكا الشمالية المرتبة الخامسة من حيث عدد السكان ، فبلغ عددهم حوالي ٤٩٢ مليون نسمة حسب إحصائية عام ٢٠١٩ م .
٢. تحتل قارة أمريكا الشمالية المرتبة الثالثة من حيث المساحة حيث تبلغ مساحتها ٢٤ مليون كم<sup>٢</sup> .
٣. أقل عدد قارات العالم في عدد الدول ، فيها ثلاث دول ( الولايات المتحدة الأمريكية ، كندا ، المكسيك ) .
٤. من قارات العالم المتقدمة .
٥. تمتاز بالإنتاج الزراعي والحيواني والصناعي العالي .
٦. فيها بعض الجاليات الفلسطينية .

### سؤال إضافي : أعين على خريطة قارة أمريكا الشمالية الصماء ما يلي:

- المحيطات : الأطلسي ، و المتجمد الشمالي ، المحيط الهادئ .
- البحار والخلجان : البحر الكاريبي ، و البحيرات العظمى ، خليج المكسيك .
- الجبال : روكي ، و الأبلش .
- الهضاب : هضبة المكسيك ، هضبة لبرادور .
- الأنهار : نهر المسيسيبي .
- الدول : الولايات المتحدة الأمريكية ، المكسيك ، كندا .





## الدرس الخامس : قارة أمريكا الجنوبية ( اللاتينية )

### الموقع الفلكي والجغرافي لقارة أمريكا الجنوبية :

نشاط (١) : نلاحظ الخريطة ، ونستنتجُ ، ثم نُجيب عن الأسئلة التي تليها :



الخريطة السياسية لقارة أمريكا اللاتينية (الجنوبية والوسطى)

#### ١. نُحدِّدُ الموقعَ الفلكيَ لقارة أمريكا الجنوبية ؟

تمتد قارة أمريكا الجنوبية :

بين دائرتي عرض (١٥°) شمالاً إلى (٥٦°) جنوباً ، أي تمر بها (٤١) دائرة عرض .  
بين خطي طول (٣٥°) إلى (١٠٥°) غرب خط غرينتش ، أي يمر بها (١٤٠) خط طول .

#### ٢. نُبينُ الموقعَ الجغرافيَ لقارة أمريكا الشمالية ؟

البحر الكاريبي ، و أمريكا الشمالية .	الشمال
المحيط الأطلسي .	الشرق
المحيط المتجمد الجنوبي	الجنوب
المحيط الهادئ .	الغرب

## مظاهر السطح في قارة أمريكا الجنوبية و خصائصها العامة :

نشاط (٢) : نلاحظ الخريطة ، ثم نُجيب عن الأسئلة التي تليها :



خريطة قارة أمريكا الجنوبية الطبيعية

١. نحدد أهم المظاهر التضاريسية في قارة أمريكا الجنوبية ؟

تتكون قارة أمريكا الجنوبية من ثلاث مظاهر :

**السهول :**

السهول الساحلية والوسطى : تمتد بين الهضاب الشرقية وجبال الأنديز .

**الجبال :**

**المرتفعات الغربية :**

تُعرف بجبال الأنديز وهي امتداد لجبال الروكي في أمريكا الشمالية .  
من أهم أنهار القارة نهر الأمازون الذي يُعتبر أعرض نهر في العالم .

**الهضاب :**

- هضبة جيانا في شمال شرق قارة أمريكا الجنوبية .
- هضبة البرازيل في وسط قارة أمريكا الجنوبية .
- هضبة باتاجونيا في جنوب قارة أمريكا الجنوبية .

## ٢. نبين أثر مرور مدار الجدي على مناخ قارة أمريكا الجنوبية؟

- ترتفع درجة الحرارة على القارة صيفاً ، و تعتدل على السواحل ، و تسقط الأمطار الصيفية على القارة .
- تنخفض درجة الحرارة شتاءً ، و تسقط الأمطار على معظم أجزاء القارة
- تعاكس الفصول المناخية بين جنوب القارة و دول أمريكا الوسطى .

## ٣. نستنتج الخصائص العامة لقارة أمريكا الشمالية؟

١. تحتل قارة أمريكا الجنوبية المرتبة الرابعة من حيث عدد السكان ، فبلغ عددهم حوالي ٦٤٤.٥ مليون نسمة حسب إحصائية عام ٢٠١٩ م ، منهم ٤٢٥ مليون نسمة في أمريكا الجنوبية ، و ٢١٩.٥ مليون نسمة في أمريكا الوسطى .
٢. يتركز معظم السكان في السواحل والسهول الفيضية ، ويقل تركيزهم في مناطق سهل الأمازون وقمم الجبال والهضاب .
٣. تحتل قارة أمريكا الجنوبية المرتبة الرابعة من حيث المساحة حيث تبلغ مساحتها ١٨ مليون كم<sup>٢</sup> .
٤. تتخذ القارة شكل المثلث رأسه في الجنوب ( رأس هورن ) ، وقاعدته في الشمال .
٥. مستقيمة السواحل مما حال دون وجود موانئ طبيعية .
٦. يوجد في القارة بعض الدول الداعمة للقضية الفلسطينية مثل كوبا ، وفنزويلا .

## تكلم عن مناخ قارة أمريكا الجنوبية؟

- مناخ قارة أمريكا الجنوبية صيفاً :**  
ترتفع درجة الحرارة على القارة صيفاً ، و تعتدل على السواحل ، و تسقط الأمطار الصيفية على القارة .
- مناخ قارة أمريكا الجنوبية شتاءً :**  
تنخفض درجة الحرارة شتاءً ، و تسقط الأمطار على معظم أجزاء القارة .

## أفسر ما يأتي:

١. أهمية نهر الأمازون بالنسبة للعالم .  
بسبب أن نهر الأمازون رئة العالم و يوفر نسبة عالية من الأكسجين .
٢. عدم وجود موانئ طبيعية في قارة أمريكا الجنوبية .  
بسبب استقامة سواحلها .

## نبحث وناقش : أ. لماذا لم تصل الفتوحات الإسلامية إلى قارة أمريكا الجنوبية؟

- قارة أمريكا الجنوبية من قارات العالم الجديد .
- البعد الجغرافي عن الدولة الإسلامية حيث يفصلها المحيط الأطلسي .
- ضعف الدولة العثمانية في أواخر حكمها وسقوط الأندلس .
- النهضة الأوروبية الذي جعل أمريكا الشمالية مطمع للاستعمار الأوروبي .

## نبحث وناقش : ب. نبحث عن دول أخرى في قارة أمريكا الجنوبية داعمة للقضية الفلسطينية؟

باراغواي ، كوستاريكا ، جمهورية الدومينيكان ، البرازيل ، الأرجنتين ، بوليفيا ، الإكوادور ، بيرو ، شيلي ، غوايانا ، سورينام ، السلفادور ، الهندوراس ، غواتيمالا ، هايتي .



## أختبر نفسي

السؤال الأول : اختر رمز الإجابة الصحيحة فيما يأتي :

١. ماذا يحد قارة أمريكا الجنوبية من الشمال ؟			
أ	البحر الكاريبي .	ب	المحيط الهادئ .
ج	المحيط المتجمد الشمالي .	د	المحيط الأطلسي .

٢. ما أهم الدول الداعمة للقضية الفلسطينية في أمريكا الجنوبية ؟			
أ	كوبا .	ب	المكسيك .
ج	كندا .	د	الولايات المتحدة الأمريكية .

٣. كم تبلغ مساحة أمريكا الجنوبية والوسطى ؟			
أ	٩ مليون كم <sup>٢</sup> .	ب	١٩ مليون كم <sup>٢</sup> .
ج	١٨ مليون كم <sup>٢</sup> .	د	٤٤ مليون كم <sup>٢</sup> .

السؤال الثاني : أحدد الموقع الفلكي لقارة أمريكا الجنوبية ؟		
تمتد قارة أمريكا الجنوبية :		
بين دائرتي عرض ( ١٥° ) شمالاً إلى ( ٥٦° ) جنوباً ، أي تمر بها ( ٤١ ) دائرة عرض .		
بين خطي طول ( ٣٥° ) إلى ( ١٠٥° ) غرب خط غرينتش ، أي يمر بها ( ١٤٠ ) خط طول .		

السؤال الثالث : أبين أهم المظاهر التضاريسية في قارة أمريكا الجنوبية ؟		
تتكون قارة أمريكا الجنوبية من ثلاث مظاهر :		
١. السهول الساحلية والوسطى : تمتد بين الهضاب الشرقية وجبال الأنديز .		
٢. المرتفعات الغربية : تعرف بجبال الأنديز وهي امتداد لجبال الروكي في أمريكا الشمالية ، ومن أهم أنهار القارة نهر الأمازون الذي يُعتبر أعرض نهر في العالم .		
٣. الهضاب :		
<ul style="list-style-type: none"> <li>• هضبة جيانا في شمال شرق قارة أمريكا الجنوبية .</li> <li>• هضبة البرازيل في وسط قارة أمريكا الجنوبية .</li> <li>• هضبة بتاجونيا في جنوب قارة أمريكا الجنوبية .</li> </ul>		

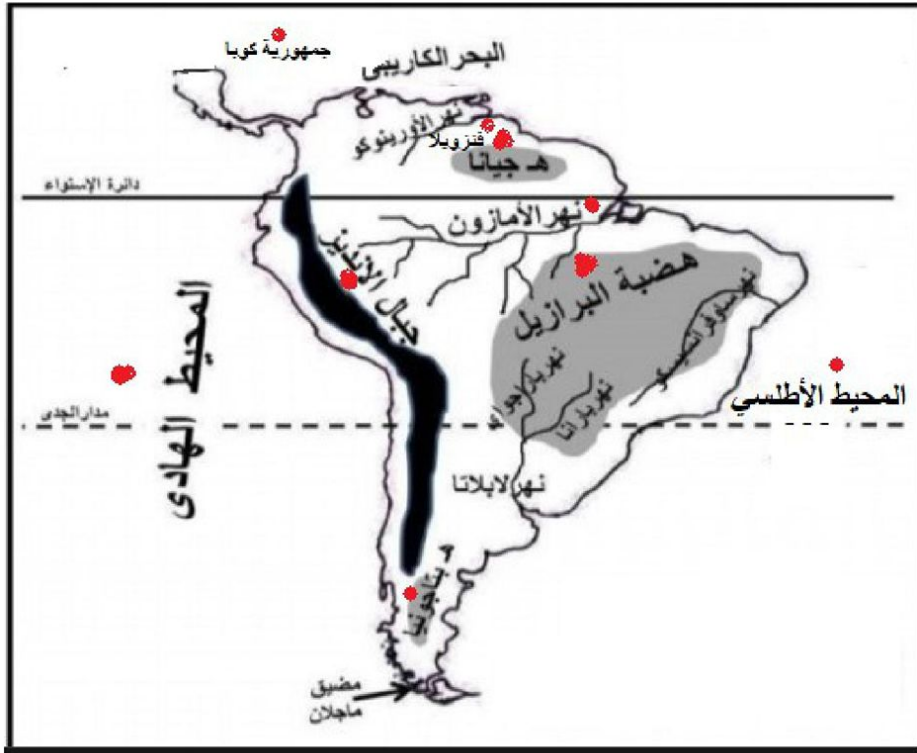
السؤال الرابع : أصف مناخ قارة أمريكا الجنوبية ؟		
مناخ قارة أمريكا الجنوبية صيفاً :		
ترتفع درجة الحرارة على القارة صيفاً ، و تعتدل على السواحل ، و تسقط الأمطار الصيفية على القارة .		
مناخ قارة أمريكا الجنوبية شتاءً :		
تنخفض درجة الحرارة شتاءً ، و تسقط الأمطار على معظم أجزاء القارة .		

### السؤال الخامس : أذكر أهم الخصائص العامة لقارة أمريكا الجنوبية ؟

١. تحتل قارة أمريكا الجنوبية المرتبة الرابعة من حيث عدد السكان ، فبلغ عددهم حوالي ٦٤٤.٥ مليون نسمة حسب إحصائية عام ٢٠١٩ م ، منهم ٤٢٥ مليون نسمة في أمريكا الجنوبية ، و ٢١٩.٥ مليون نسمة في أمريكا الوسطى .
٢. يتركز معظم السكان في السواحل والسهول الفيضية ، ويقل تركيزهم في مناطق سهل الأمازون وقمم الجبال والهضاب .
٣. تحتل قارة أمريكا الجنوبية المرتبة الرابعة من حيث المساحة حيث تبلغ مساحتها ١٨ مليون كم<sup>٢</sup> .
٤. تتخذ القارة شكل المثلث رأسه في الجنوب ( رأس هورن ) ، وقاعدته في الشمال .
٥. مستقيمة السواحل مما حال دون وجود موانئ طبيعية .
٦. يوجد في القارة بعض الدول الداعمة للقضية الفلسطينية مثل كوبا ، وفنزويلا .

### سؤال إضافي : أعين على خريطة قارة أمريكا الجنوبية الصماء ما يلي:

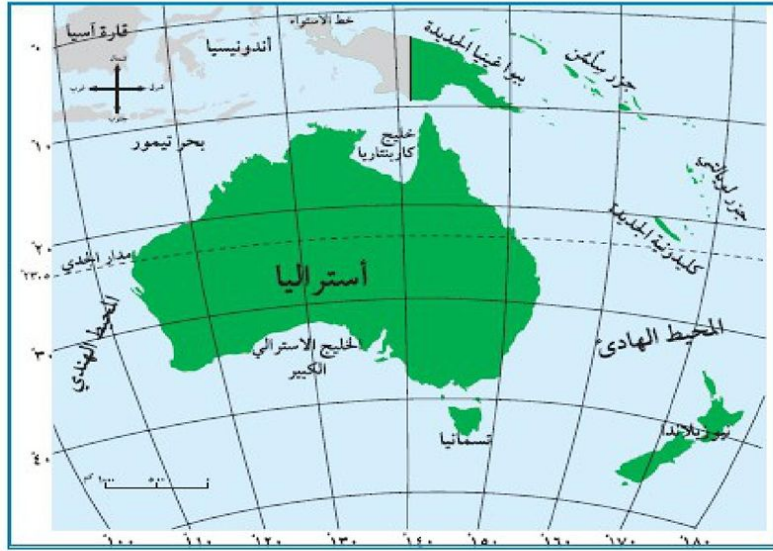
- المحيطات : الأطلسي ، المحيط الهادئ .
- البحار : البحر الكاريبي .
- الجبال : الأنديز .
- الهضاب : هضبة جيانا ، هضبة البرازيل ، هضبة بتاجونيا .
- الأنهار : نهر الأمازون .
- الدول : جمهورية كوبا ، فنزويلا .



## الدرس السادس : قارة أوقيانوسيا

### الموقع الفلكي والجغرافي لقارة أوقيانوسيا :

نشاط (١) : نتأمل الخريطة ، ثم نُحدد عليها الموقع الفلكي والجغرافي لقارة أوقيانوسيا :



خريطة قارة أوقيانوسيا السياسية

### ١. نُحددُ الموقع الفلكي لقارة أوقيانوسيا ؟

تمتد قارة أوقيانوسيا :

بين دائرتي عرض (٥°) إلى (٥٠°) جنوب خط الاستواء ، أي تمر بها (٥٥) دائرة عرض .  
بين خطي طول (١١٥°) إلى (١٨٠°) شرق خط غرينتش ، أي يمر بها (٢٨٥) خط طول .

### ٢. نُبين الموقع الجغرافي لقارة أوقيانوسيا ؟

تقع قارة أوقيانوسيا على المحيط الهادئ ، و تحيط المياه بالقارة من جميع الجهات ، وتشمل القارة أستراليا ،  
جزر نيوزيلاندا ، جزيرة تسمانيا .

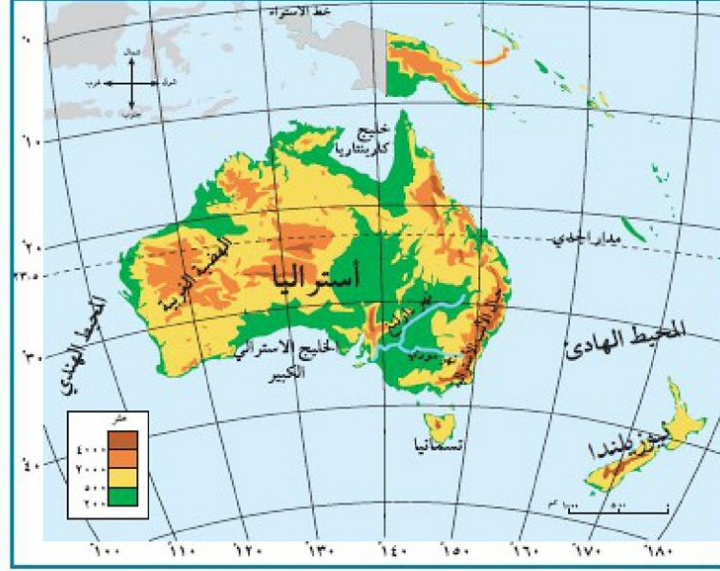
### ٣. أذكر أهم الجزر المكونة لقارة أوقيانوسيا ؟

١. جزر نيوزيلاندا .
٢. جزر لويالتي .
٣. جزر سلمن .
٤. جزر كيلونيه الجديدة .
٥. جزر تسمانيا .
٦. جزر بابواغينيا .



## مظاهر السطح في قارة أوقيانوسيا و خصائصها العامة :

نشاط (٢) : نتأمل الخريطة ، ونستنتجُ ، ثم نقوم بما يأتي :



خريطة قارة أوقيانوسيا الطبيعية

### ١. نحدد أهم المظاهر التضاريسية في قارة أوقيانوسيا ؟

تتكون قارة أوقيانوسيا من مظاهر تضاريسية متنوعة ما بين السهول الساحلية والفيضية والهضاب والمرتفعات .  
من السهول الساحلية : سهول المحيط الهادئ .  
من الهضاب : الهضبة الغربية .

### ٢. نبيّن أثر المسطحات المائية على الحرارة في قارة أوقيانوسيا ؟

- اعتدال درجات الحرارة في المناطق الساحلية للقارة .
- سقوط الأمطار الموسمية على السواحل الشمالية والشرقية بسبب هبوب الرياح الموسمية القادمة من المحيط الهادئ .

### ٣. نناقش : لا يتزامن فصل الشتاء في قارة أوقيانوسيا مع فصل الشتاء في فلسطين ؟

بسبب تعاكس الفصول بين المنطقتين ، واختلاف الموقع الفلكي بينهما .  
فلسطين تقع في النصف الشمالي للكرة الأرضية ، وقارة أوقيانوسيا في النصف الجنوبي للكرة الأرضية .  
فيكون النصف الشمالي من العالم صيفاً عند تعامد الشمس على مدار السرطان القريب منه .  
فيكون النصف الجنوبي من العالم صيفاً عند تعامد الشمس على مدار الجدي القريب منه .

أصف مناخ قارة أوقيانوسيا ؟

**مناخ قارة أوقيانوسيا صيفاً :**

ترتفع درجة الحرارة على القارة صيفاً ، و تعتدل على السواحل ، و تسقط الأمطار الصيفية على القارة .

**مناخ قارة أوقيانوسيا شتاءً :**

تعتدل درجة الحرارة شتاءً ، و تسقط الأمطار .

أذكر أهم الخصائص العامة لقارة أوقيانوسيا ؟

١. تحتل قارة أوقيانوسيا المرتبة السادسة من حيث عدد السكان ، فبلغ عددهم حوالي ٤٢.٥ مليون نسمة حسب إحصائية عام ٢٠١٩ م .

٢. السكان مزيج من شعوب مختلفة ، يتركزون على السواحل .

٣. تحتل قارة أوقيانوسيا المرتبة السادسة من حيث المساحة حيث تبلغ مساحتها ٨.٥ مليون كم<sup>٢</sup> .

٤. تسمح قوانين قارة أوقيانوسيا بالهجرة إليها .

٥. أهم الحرف فيها صيد الأسماك ، وتربية الأغنام ، والزراعة .

٦. سواحلها قليلة التعرجات .

٧. تحتوي على أكبر حاجز مرجاني في العالم .

كيف انتشر الإسلام في قارة أوقيانوسيا ، وأمريكا الشمالية والجنوبية ؟

انتشر الإسلام عن طريق المهاجرين ، والتجار ، و الدعاة ، و تجارة الرقيق .

انضم بعض دول قارة أوقيانوسيا إلى منظمة التعاون الإسلامي . أذكرها ؟

دولة سورينام ، و دولة غويانا الواقعتين في أمريكا الجنوبية .

أفسر ما يأتي:

١. سكان أوقيانوسيا هم مزيج من شعوب العالم .

بسبب قوانين الهجرة تسمح بالهجرة إليها .

٢. عدم وجود موانئ طبيعية في قارة أوقيانوسيا .

بسبب قلة تعرج سواحلها .

**أختبر نفسي**

السؤال الأول : أضع إشارة ( ✓ ) أمام العبارة الصحيحة، وإشارة ( X ) أمام العبارة الغير صحيحة:

X	١- يتميز سكان قارة أوقيانوسيا بأنهم شعب واحد .
✓	٢- البرودة هي الصفة الغالبة على مناخ قارة أوقيانوسيا.
✓	٣- سورينام هي من الدول التي انضمت الي منظمة التعاون الإسلامي.
X	٤- تشمل قارة أوقيانوسيا دولة استراليا فقط.
X	٥- تقع قارة أوقيانوسيا إلى الغرب من خط غرينتش.

السؤال الثاني : أحدد الموقع الجغرافي لقارة أوقيانوسيا ؟

تقع قارة أوقيانوسيا على المحيط الهادئ ، و تحيط المياه بالقارة من جميع الجهات ، وتشمل القارة أستراليا ، جزر نيوزيلاندا ، جزيرة تسمانيا .

### السؤال الثالث : أعدد المظاهر التضاريسية في قارة أوقيانوسيا ؟

تتكون قارة أوقيانوسيا من مظاهر تضاريسية متنوعة ما بين السهول الساحلية والفيضية والهضاب والمرتفعات .  
من السهول الساحلية : سهول المحيط الهادئ .  
من الهضاب : الهضبة الغربية .

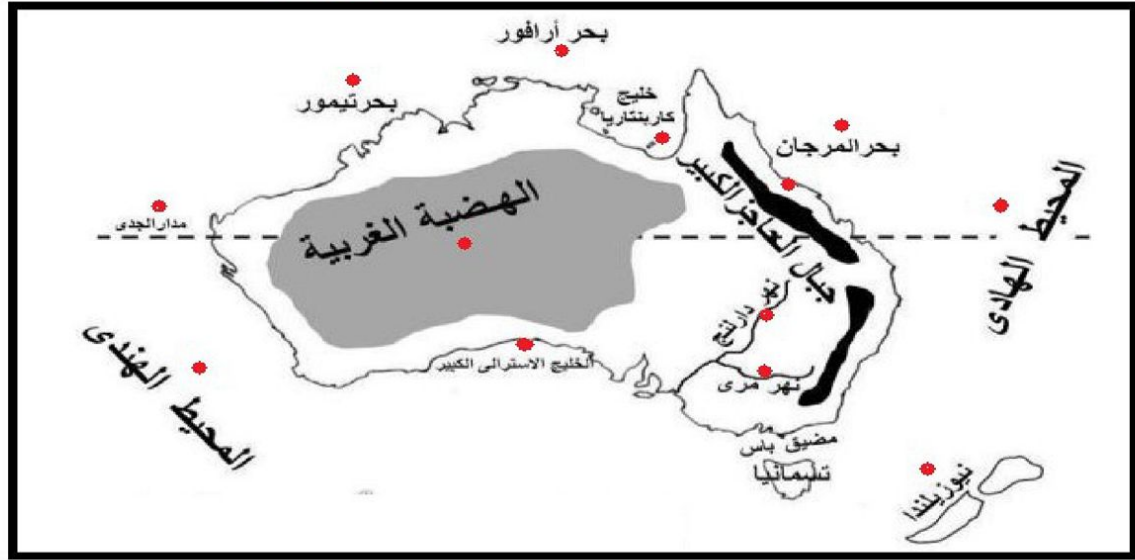
### السؤال الرابع : أبين الخصائص العامة لقارة أوقيانوسيا ؟

١. تحتل قارة أوقيانوسيا المرتبة السادسة من حيث عدد السكان ، فبلغ عددهم حوالي ٤٢.٥ مليون نسمة حسب إحصائية عام ٢٠١٩ م .
٢. السكان مزيج من شعوب مختلفة ، يتركزون على السواحل .
٣. تحتل قارة أوقيانوسيا المرتبة السابعة من حيث المساحة حيث تبلغ مساحتها ٨.٥ مليون كم<sup>٢</sup> .
٤. تسمح قوانين قارة أوقيانوسيا بالهجرة إليها .
٥. أهم الحرف فيها صيد الأسماك ، وتربية الأغنام ، والزراعة .
٦. سواحلها قليلة التعرجات .
٧. تحتوي على أكبر حاجز مرجاني في العالم .

السؤال الخامس: أبين طرق انتشار الإسلام في قارات أمريكا الشمالية ، والجنوبية ، و أوقيانوسيا ؟  
انتشر الإسلام عن طريق المهاجرين ، والتجار ، و الدعاة ، وتجارة الرقيق .

### سؤال إضافي : أعين على خريطة قارة أوقيانوسيا الصماء ما يلي:

المحيطات : الهندي ، المحيط الهادئ .  
البحار والخلجان : بحر آرافور ، بحر المرجان ، بحر تيمور ، الخليج الأسترالي الكبير ، خليج كارينتاريا  
الجبال : جبال الحاجز الكبير .  
الهضاب : الهضبة الغربية ،  
الأنهار : نهر دارلينج ، نهر مري .  
الدول : نيوزيلاندا .  
مدار الجدي .





### تذكر!!!!

ترتيب القارات حسب عدد السكان حسب إحصائية عام ٢٠١٩ م .		
القارة	المرتبة	عدد السكان
آسيا	الأولى	٤ مليارات و ٥٨٦ ألف نسمة
إفريقيا	الثانية	٣٠٥ مليار و ٣٠٥ ألف نسمة
أوروبا	الثالثة	٧٤٥ مليون نسمة
أمريكا الجنوبية	الرابعة	٤٩٢ مليون نسمة
أمريكا الشمالية	الخامسة	٦٤٤.٥ مليون نسمة
أوقيانوسيا	السادسة	٤٢.٥ مليون نسمة

ترتيب القارات حسب المساحة حسب إحصائية عام ٢٠١٩ م .		
القارة	المرتبة	المساحة
آسيا	الأولى	٤٤ مليون كم <sup>٢</sup>
إفريقيا	الثانية	٣٠ مليون كم <sup>٢</sup>
أمريكا الشمالية	الثالثة	٢٤ مليون كم <sup>٢</sup>
أمريكا الجنوبية	الرابعة	١٨ مليون كم <sup>٢</sup>
أوروبا	الخامسة	١٠.٥ مليون كم <sup>٢</sup>
أوقيانوسيا	السادسة	٨.٥ مليون كم <sup>٢</sup>

الموقع الفلكي للقارات حسب دوائر العرض و عددها		
عدد دوائر العرض	تمتد القارة بين	
٩٣	دائرتي ( ١٠° جنوب خط الاستواء إلى ٨٣° شماله )	آسيا
٧٢	دائرتي ( ٣٧° شمال خط الاستواء إلى ٣٥° جنوبه )	إفريقيا
١١٤	دائرتي ( ٣٤° إلى ٨٠° شمال خط الاستواء )	أوروبا
٤١	دائرتي ( ١٥° شمال خط الاستواء إلى ٥٦° جنوبه )	أمريكا الجنوبية
٩٥	دائرتي ( ١٥° إلى ٨٣° شمال خط الاستواء )	أمريكا الشمالية
٥٥	دائرتي ( ٥° إلى ٥٠° جنوب خط الاستواء )	أوقيانوسيا

الموقع الفلكي للقارات حسب خطوط الطول و عددها		
عدد خطوط الطول	تمتد القارة بين	
١٥٥	خطي طول ( ٢٥° - ١٨٠° ) شرق خط غرينتش .	آسيا
٣٤	خطي طول ( ١٧° غرب خط غرينتش - ٥١° شرقه ) .	إفريقيا
٥٠	خطي طول ( ١٠° غرب خط غرينتش - ٦٠° شرقه ) .	أوروبا
١٤٠	خطي طول ( ٣٥° - ١٠٥° ) غرب خط غرينتش .	أمريكا الجنوبية
١٢٢	خطي طول ( ٤٨° - ١٧٠° ) غرب خط غرينتش .	أمريكا الشمالية
٢٨٥	خطي طول ( ١١٥° - ١٨٠° ) غرب خط غرينتش .	أوقيانوسيا

الموقع الجغرافي للقارات		
إفريقيا	آسيا	
البحر المتوسط	المحيط المتجمد الشمالي .	الشمال
المحيط الهندي ، والبحر الأحمر ، وقناة السويس.	المحيط الهادي ، ومضيق بيرنج	الشرق
المحيط الأطلسي .	سلسلة جبال أورال ، مضيق البسفور والدرديل .	الغرب
المحيط الأطلسي ، و المحيط الهندي.	المحيط الهندي .	الجنوب

الموقع الجغرافي للقارات		
أمريكا الشمالية	أوروبا	
المحيط المتجمد الشمالي .	المحيط المتجمد الشمالي .	الشمال
المحيط الأطلسي .	بحر قزوين ، سلسلة جبال الأورال	الشرق
المحيط الهادي .	المحيط الأطلسي .	الغرب
خليج المكسيك ، والبحر الكاريبي .	البحر المتوسط ، والبحر الأسود ، وبحر مرمرية .	الجنوب

الموقع الجغرافي للقارات		
أوقيانوسيا	أمريكا الجنوبية	
تقع قارة أوقيانوسيا على المحيط الهادي ، و تحيط المياه بالقارة من جميع الجهات ، وتشمل القارة أستراليا ، جزر نيوزيلاندا ، جزيرة تسمانيا .	البحر الكاريبي ، و أمريكا الشمالية .	الشمال
	المحيط الأطلسي .	الشرق
	المحيط الهادي .	الغرب
	المحيط المتجمد الجنوبي	الجنوب

مناخ قارة آسيا			
شتاءً		صيفاً	
الأمطار	الحرارة	الأمطار	الحرارة
تتركز على السواحل الغربية للقارة .	تتخفض الحرارة بشكل كبير في معظم أجزاء القارة .	تسقط شرق ووسط وجنوب القارة . تتعرض القارة للأعاصير المدارية .	تتخفض كلما اقتربنا من القطب الشمالي. ترتفع في النصف الجنوبي .

مناخ قارة إفريقيا			
شتاءً في النصف الشمالي		صيفاً في النصف الشمالي	
الأمطار	الحرارة	الأمطار	الحرارة
تسقط الأمطار على سواحل البحر المتوسط	تتخفض الحرارة	تسقط الأمطار الموسمية على جنوب السودان ، ووسطه ، وعلى هضبة الحبشة.	ترتفع ، وتعتدل قرب السواحل .
شتاءً في النصف الجنوبي		صيفاً في النصف الجنوبي	
الأمطار	الحرارة	الأمطار	الحرارة
تسقط الأمطار	تتخفض الحرارة .	تسقط الأمطار الموسمية على السواحل الشرقية والجنوبية للقارة .	ترتفع بسبب تعامد الشمس على مدار الجدي

مناخ قارة أوروبا			
شتاءً		صيفاً	
الأمطار	الحرارة	الأمطار	الحرارة
تسقط الأمطار والثلوج على جميع أجزاء القارة ، وتزداد كميتها كلما اتجهنا للغرب .	تنخفض درجة الحرارة كلما اتجهنا من الجنوب للشمال ، ومن الغرب للشرق .	تسقط الأمطار على معظم أجزاء القارة باستثناء المناطق الجنوبية المطلة على البحر المتوسط التي تتميز بالجفاف في هذا الفصل الشتاء .	ترتفع درجة الحرارة كلما اتجهنا من الشمال للجنوب ، ومن الغرب للشرق.

مناخ قارة أمريكا الشمالية			
شتاءً		صيفاً	
الأمطار	الحرارة	الأمطار	الحرارة
تسقط الأمطار والثلوج على القارة ككل ، وتتميز الأطراف المطلة على خليج المكسيك بالدفء .	تنخفض درجة الحرارة	تسقط الأمطار الصيفية على القارة	ترتفع درجة الحرارة كلما اتجهنا جنوباً

مناخ قارة أمريكا الجنوبية			
شتاءً		صيفاً	
الأمطار	الحرارة	الأمطار	الحرارة
تسقط الأمطار على معظم أجزاء القارة	تنخفض درجة الحرارة	تسقط الأمطار الصيفية على القارة .	ترتفع درجة الحرارة على القارة ، و تعادل على السواحل

مناخ قارة أوقيانوسيا			
شتاءً		صيفاً	
الأمطار	الحرارة	الأمطار	الحرارة
تسقط الأمطار	تعادل درجة الحرارة	تسقط الأمطار الصيفية على القارة	ترتفع درجة الحرارة على القارة ، و تعادل على السواحل



مظاهر السطح في القارات	
<b>الجبال</b>	
آسيا	<p>جبال الهمالايا في نيبال و أعلى قمة فيها قمة افرست .  جبل الجرمق في فلسطين .  جبال هندكوش في أفغانستان .  جبال الأورال في شرق سيبيريا .  جبال سليمان في الباكستان .  جبال التاي في تركستان .</p>
إفريقيا	<p>جبل كلمنجارو في دولة ( تنزانيا ) ، وهو أعلى جبل في القارة .  جبل طوبقال في دولة المغرب ، وهو أعلى قمة في جبال أطلس .  جبال أطلس في بلاد المغرب العربي .  جبل العوينات في منطقة حدود ليبيا -مصر- السودان .  جبال تيببستي :تقع وسط الصحراء الأفريقية الكبرى في شمال تشاد وأقصى جنوب ليبيا .  جبال الهكار في الجزائر .  جبال داركنزبرج تقع جنوب شرق القارة .</p>
أوروبا	<p>جبال الألب .  جبال البرانس التي تفصل إسبانيا عن فرنسا .  جبل مونت بلان ( القمة البيضاء ) في فرنسا أعلى جبال قارة أوروبا .</p>
أمريكا الجنوبية	<p><b>المرتفعات الغربية :</b>  جبال الأنديز وهي امتداد لجبال الروكي في أمريكا الشمالية .  أهم أنهار القارة نهر الأمازون الذي يُعتبر أعرض نهر في العالم .</p>
أمريكا الشمالية	<p><b>المرتفعات الشرقية :</b> جبال الأبالاش .  <b>المرتفعات الغربية :</b> جبال الروكي .  <b>المرتفعات الجنوبية :</b> جبال سيراماديرا .</p>
أوقيانوسيا	

مظاهر السطح في القارات	
الهضاب	
آسيا	هضبة التبت في الصين وهي أعلى هضبة في العالم . هضبة الأناضول في تركيا . هضبة الدكن في الهند . هضبة نجد في السعودية .
إفريقيا	هضبة البحيرات الاستوائية وسط القارة حول خط الاستواء . هضبة الصحراء الإفريقية الكبرى شمال القارة . هضبة الفلد جنوب القارة . هضبة إثيوبيا وسط القارة وشرقها .
أوروبا	هضبة المزييتا الإسبانية . هضبة الغابة السوداء في ألمانيا .
أمريكا الجنوبية	هضبة جياتا في شمال شرق قارة أمريكا الجنوبية . هضبة البرازيل في وسط قارة أمريكا الجنوبية . هضبة بتاجونيا في جنوب قارة أمريكا الجنوبية .
أمريكا الشمالية	هضبة لبرادور في الشمال الشرقي . هضبة كولومبيا . هضبة كولورادو . هضبة كولومبيا في الغرب
أوقيانوسيا	الهضبة الغربية .

مظاهر السطح في القارات		
السهول		
السهول الفيضية	السهول الساحلية	
سهول نهر دجلة والفرات في العراق . سهول نهر السند في باكستان .	تمتد على البحر المتوسط. تمتد على المحيط الهندي	آسيا
سهول نهر النيل يمر في مصر والسودان و إثيوبيا ، وهو أطول أنهار العالم . سهول نهر النيجر . سهول نهر الكونغو . سهول نهر الزمبيزي : تقع عليه شلالات فيكتوريا . بحيرة تشاد . بحيرة فيكتوريا .	تمتد على طول سواحل البحر المتوسط شمال القارة . تمتد على طول سواحل المحيط الأطلسي والهندي .	إفريقيا
السهل الأوروبي العظيم : يمتد من السواحل الغربية للقارة حتى سلسلة جبال الأورال شرقاً ، ويتخلله نهر الدانوب الذي يُعد أطول نهر في قارة أوروبا .		أوروبا
السهول الساحلية والوسطى : تمتد بين الهضاب الشرقية وجبال الأنديز .		أمريكا الجنوبية
السهول الساحلية والوسطى : يجري فيها نهر المسيسيبي ، وتوجد فيها البحيرات الخمس العظمى* .		أمريكا الشمالية
سهول المحيط الهادئ .		أوقيانوسيا

إنجازات الدولة  
الإسلامية

الوحدة  
الثانية





ظهور منصب ولاية العهد في الدولة الإسلامية :

نشاط (١) : نلاحظ الشكل الآتي ، ونستنتجُ ، ثم نُجيب عن الأسئلة التي تليه :



١. كيف كان يتم اختيار الخليفة الأموي في العهد الراشدي ؟

يتم اختيار الخليفة الأموي في العهد الراشدي عن طريق الشورى .

٢. نوضح المقصود بولاية العهد ؟

الشخص الذي يعهد إليه الخليفة أو الحاكم تولي الحكم بعد وفاته .

ماذا فعل معاوية بن أبي سفيان قبل وفاته سنة ٦٠ هـ / ٦٧٩ م ؟

قام بتعيين ابنه يزيد ولياً للعهد .

متى تغيرت طريقة اختيار الخلفاء في الدولة الإسلامية ؟

تغيرت منذ العهد الأموي .

قارن بين اختيار الخليفة في العصرين الراشدي و الأموي ؟

يتم اختيار الخليفة في العهد الراشدي عن طريق الشورى ، بينما يتم اختيار الخليفة في العهد الأموي عن طريق الوراثة .

قارن بين اختيار الخليفة في الدولة الإسلامية والحاكم في العصر الحالي ؟

طريقة اختيار الخلفاء في الدولة الإسلامية تغيرت من الشورى إلى الوراثة .  
يتم اختيار الحاكم في العصر الحديث عن طريق الانتخابات ، وهناك أنظمة ملكية يكون فيها الحاكم عن طريق الوراثة وولاية العهد .

ما هي طرق اختيار الحاكم في العصر الحديث ؟  
الانتخابات ؛ جمهوري : حيث ينتخب الشعب الرئيس .  
ملكي : حيث يكون الحاكم عن طريق الوراثة .  
ولاية العهد .

من هو الخليفة الذي استحدث منصب ولاية العهد ؟  
الخليفة معاوية بن أبي سفيان .

ما هي أنماط الحكم في دول الوطن العربي ؟

انتخابات	مصر - العراق - لبنان - سوريا - فلسطين - الجزائر - تونس - ليبيا - إيران - الصومال - السودان - موريتانيا - جيبوتي - اليمن .
ملكي	السعودية - الإمارات - البحرين - الكويت - قطر - سلطنة عُمان - الأردن - المغرب .

## نشأة الوزارة وتطورها في الدولة الإسلامية :

نشاط (٢) : نقرأ الآيات القرآنية الكريمة الآتية ، ثم نجيب عن الأسئلة التي تليها :

قال تعالى : ﴿ وَاجْعَلْ لِي وَاوِيًّا مِنْ أَهْلِي ﴾ (٢٩) هَازُونَ أَخِي ﴾ (٣٠) اشْتَدُّ بِهِ أَزْرِي ﴾ (٣١) وَأَشْرِكُهُ فِي أَمْرِي ﴾ (٣٢) طه (٢٩- ٣٢)

١. نبحت في أحد معاجم اللغة العربية عن معنى كلمة وزير ؟  
الوزير هو خاصّة الملك الذي يحمل ثقله ويُعيّنه برأيه .  
كلمة وزير مشتقة من وَزَرَ ، وتعني الثقل  
الوزير في اللغة اشتقاق من الوزارة ، أي الحبل الذي يعتصم به لينجي من الهلاك

٢. نستنتج أهمية الوزارة ؟  
١. مساعدة الخليفة على تحمل أعباء الرئاسة .  
٢. تقديم المعاونة والمشورة للرئيس .

٣. نعدد بعض الوزارات في دولة فلسطين في وقتنا الحاضر ؟  
وزارة التربية والتعليم ، وزارة الصحة ، وزارة الداخلية ، وزارة الاقتصاد ، وزارة الشباب والرياضة ، وزارة الحكم المحلي ، وزارة الشؤون الاجتماعية ، وزارة السياحة ، وزارة المالية ، ..... .

ما المقصود بالوزير ؟  
منصب سياسي مهم بعد رئيس الدولة ، مهمته مساعدة الرئيس وتقديم المشورة له .

متى ظهر منصب الوزير لأول مرة في الإسلام ؟  
ظهر منصب الوزير لأول مرة في الإسلام في العصر العباسي .

أذكر أول من تقلّد منصب الوزارة عند قيام الدولة العباسية ؟  
أبو سلمة الخلال

الأهم القديمة كالفرس وغيرهم عرفوا منصب الوزارة .

## نشأة الدواوين و أهميتها :

نشاط (٣) : نقرأ النص الآتي ، ثم نُجيب عن الأسئلة التي تليه :

قدم أبو هريرة عامل عمر بن الخطاب رضي الله عنه من البحرين إلى المدينة المنورة ، ومعه مال كثير ، فتعب عمر في قسمته بين الناس ، فأشار إليه أحد المسلمين بإنشاء الديوان ، وقال له : " رأيت ملوك الشام يدونون " فاستحسن عمر الفكرة ، ووضع ديوان العطاء .

١. نستنتج أهمية إنشاء الدواوين في الدولة الإسلامية ؟

١. تنظيم شؤون الدولة المختلفة .

٢. حفظ السجلات الرسمية .

٢. نُبين المؤسسة المسؤولة عن تنظيم الشؤون الأمنية والعسكرية في دولة فلسطين ؟

وزارة الداخلية و الأمن الوطني .

ما المقصود بالديوان ؟

هو المكان الذي تحفظ فيه السجلات الرسمية للدولة .

من هو أول من أنشأ الدواوين في الإسلام ؟

الخليفة عمر بن الخطاب .

ما هي العوامل التي أدت إلى ظهور الدواوين ؟

١. اتساع حدود الدولة الإسلامية .

٢. زيادة الحاجة إلى تنظيم شؤون الدولة المختلفة .

٣. التحرر من التبعية الاقتصادية الأجنبية .

أفسر ما يأتي :

١. نشأة الدواوين في الدولة الإسلامية .

بسبب

١. اتساع حدود الدولة الإسلامية .

٢. زيادة الحاجة إلى تنظيم شؤون الدولة المختلفة .

٣. التحرر من التبعية الاقتصادية الأجنبية .

٢. تعريب المسلمون للدواوين .

تحرير اقتصاد الدولة الإسلامية من التبعية الأجنبية .

٣. إبقاء المسلمين على الموظفين السابقين الذين يعملون عند الفرس والروم بكتابة الدواوين .

لأنه لم يكن لدى المسلمين خبرة كافية في كتابة الدواوين

٤. قيام الخليفة عبد الملك بن مروان بتعريب الدواوين

لأنه لم يعد من المناسب لدولة واسعة أن تكتب دواوينها بغير لغتها الرسمية .

٥. انتشار اللغة العربية بين كتّاب الدواوين من غير العرب .

من أجل الاحتفاظ بوظائفهم .



ما هي اللغات التي كُتبت فيها الدواوين في كل من :		
العراق	بلاد الشام	مصر
اللغة الفارسية	اللغة الرومانية	اللغة القبطية

أذكر من هو الخليفة الأموي الذي قام بتعريب الدواوين ؟  
الخليفة الأموي عبد الملك بن مروان .

ما المقصود بتعريب الدواوين ؟  
هو تغيير لغة كتابة الدواوين من اللغة الفارسية و الرومانية والقبطية إلى اللغة العربية .

ما النتيجة المترتبة على كل من :  
١. تعريب الدواوين في الدولة الإسلامية .

- أكدت على مبدأ سيادة الدولة .
- انتشار اللغة العربية .
- سهلت مراقبة الدواوين ومراجعتها وتدقيقها .

## النظام القضائي في الدولة الإسلامية :

نشاط (٤) : نقرأ النص الآتي ، ثم نجيب عن السؤالين اللذين يليه :

جاء في رسالة عمر بن الخطاب رضي الله عنه التي وضع فيها أسس القضاء في الإسلام إلى أبي موسى الأشعري عندما عينه قاضياً على البحرين :

البينة على من ادعى ، واليمين على من أنكر ، والصُّلْحُ جائزٌ بين المسلمين ، إلا صلحاً أحلَّ حراماً ، أو حرّمَ حلالاً ، ارجع عن حكم أصدرته ، إن تبين لك أنه غير صحيح ، وقس المشكلة بما يشبهها ؛ لتصل للحكم الصحيح ، وأعط من يدعي أن له حقاً ، ولديه بيّنة ( دليل ) مدة كافية ؛ لإحضارها ، فإن أحضرها حكمت له ، وإن لم يفعل حكمت عليه ( لخصمه ) .

١. نوضح المبادئ الأساسية للقضاء ، كما وردت في النص ؟

- البينة على من ادعى .
- اليمين على من أنكر .
- الصُّلْحُ جائزٌ بين المسلمين ، إلا صلحاً أحلَّ حراماً ، أو حرّمَ حلالاً .
- الرجوع عن حكم صادر ، إن تبين أنه غير صحيح .
- قياس المشكلة بما يشابهها للوصول إلى الحكم الصحيح .
- إعطاء الحق لمن لديه دليل .

٢. نستنتج أهمية تطبيق القضاء العادل في المجتمع ؟

- نشر العدالة والمساواة بين الناس .
- تحقيق العدالة الاجتماعية .

ما المقصود بالقضاء ؟

هو الفصل بين الناس في الخصومات طبقاً لأحكام الشريعة الإسلامية المستمدة من الكتاب والسنة .

إلى ماذا كان يتحاكم العرب قبل الإسلام ؟

كان العرب قبل الإسلام يتحاكمون على العادات والتقاليد .

من الذي كان يحل الخلافات بين الناس بعد مجيء الإسلام ؟

بعد مجيء الإسلام كان النبي ﷺ يحل الخلافات بين الناس .

من هو الخليفة الأموي الذي أنشأ ديوان ( النظر في المظالم ) ؟

الخليفة عبد الملك بن مروان .

ما المقصود بديوان النظر في المظالم ؟

هو ديوان أنشأه الخليفة عبد الملك بن مروان ، يشبه محكمة الاستئناف العليا ، وقاضي المظالم أعلى سلطة من القاضي العادي .

ما هي وظيفة ديوان النظر في المظالم ؟

١. تنظر في تعدي الولاة ، وذوي السلطة على الرعية .

ما هي التطورات التي حدثت لنظام القضاء ؟

١. قيام الخليفة الأموي عبد الملك بن مروان بإنشاء ديوان النظر في المظالم .
٢. ظهور المذاهب الفقهية السنية الأربعة ( الحنفي - المالكي - الشافعي - الحنبلي ) .

متى استُحدث منصب قاضي القضاة ؟

استُحدث منصب قاضي القضاة في عهد الخليفة هارون الرشيد .

ما المقصود بالسلطة القضائية ؟

هي إحدى السلطات الثلاث في الدولة الحديثة و مستقلة عن السلطتين التنفيذية والتشريعية .

أفسر ما يأتي :

١. تعتبر مؤسسة القضاء من المؤسسات المهمة في الدولة .  
لأنها تُشرف على الفصل بين الخصومات بين الناس ، وتعاقب اللصوص والخارجين عن القانون .

ما النتيجة المترتبة على:

١. استقلال القضاء في الدولة .  
تحقيق العدالة الاجتماعية والنزاهة والشفافية .



## تطور النظام العسكري في الدولة الإسلامية :

نشاط (٥) : نلاحظ الصور الآتية ، ثم نجيب عن السؤال الذي يليها :



أسطول حربي



منجنيق



جيش إسلامي

نوازن بين النظام العسكري في الدولة الإسلامية ، والنظام العسكري في العصر الحديث ؟

النظام العسكري في الدولة الإسلامية :

- استخدمت أسلحة خفيفة مثل السيوف والرماح والسهام
- استخدمت أسلحة ثقيلة مثل المنجنيق ،
- استخدمت السفن و الأسطول في الحروب البحرية .

النظام العسكري في العصر الحديث :

استخدمت أسلحة ثقيلة وفتاكة مثل القنابل والطائرات والدبابات و الأسلحة المحرمة دولياً .

متى بدأ تنظيم الجيش الإسلامي ؟

بدأ تنظيم الجيش الإسلامي في عهد الخليفة عمر بن الخطاب .

ماذا أسس الخليفة عمر بن الخطاب لتنظيم الجيش ؟

أسس ديوان الجُند .

متى ظهر التجنيد الإجباري ؟

ظهر التجنيد الإجباري في عهد عبد الملك بن مروان في العراق .

كيف كان نظام الجيش في العصر الأموي والعهد العباسي ؟

كان نظام الجيش في العصر الأموي عربياً .

أما في العصر العباسي دخلت عليه عناصر غير عربية مثل الفرس و الأتراك وغيرهم .

ما سبب إنشاء الأساطيل البحرية في الدولة الإسلامية ؟

لأن المدن الإسلامية الساحلية في بلاد الشام ، مصر ، وشمال إفريقيا لها شواطئ بحرية طويلة فأصبحت عرضة لهجمات الأسطول البيزنطي .

أين تم إنشاء أول أسطول بحري إسلامي ؟

تم إنشاء أول أسطول بحري إسلامي في بلاد الشام .

ما نتيجة اهتمام الأمويين والعباسيين ببناء الأساطيل البحرية ؟

١. منافسة البيزنطيين ببناء الأساطيل البحرية .
٢. السيطرة على البحر المتوسط ، وفتح معظم جزره .
٣. محاصرة القسطنطينية عاصمة الدولة البيزنطية أكثر من مرة .

ما الأسلحة التي استخدمها المسلمون في الدولة الإسلامية ؟

استخدمت الأسلحة في البر والبحر ، مثل السيوف ، والرماح ، والمنجنيق ، والسفن .

ما الأسلحة التي تستخدم في العصر الحديث ؟

استخدمت أسلحة ثقيلة وفتاكة مثل القنابل والطائرات والدبابات و الأسلحة المحرمة دولياً .

علل / سبب ظهور الاتفاقيات الدولية التي تدعو إلى الحد من استخدام الأسلحة وتحريم أسلحة أخرى.

لما لهذه الأسلحة من آثار سلبية في المجالين البشري والمادي .

أذكر بعض الاتفاقيات الدولية التي تدعو إلى الحد من استخدام الأسلحة وتحريم أسلحة أخرى ؟

١. اتفاقية جنيف الرابعة عام ١٩٤٩ م .
٢. اتفاقية لاهاي عام ١٩٥٤ م .

ماذا تسبب الحروب ؟

١. آثار سلبية على المجالين البشري والمادي .
٢. معاناة خاصة للمدنيين الذين لا يشاركون في القتال .

## أختبر نفسي

السؤال الأول : اختر رمز الإجابة الصحيحة فيما يأتي :

١. من الخليفة الذي استحدث منصب ولاية العهد ؟

- |   |                       |   |                      |
|---|-----------------------|---|----------------------|
| أ | عمر بن الخطاب .       | ب | عثمان بن عفان .      |
| ج | معاوية بن أبي سفيان . | د | عبد الملك بن مروان . |

٢. في أي عصر تم تعريب الدواوين ؟

- |   |           |   |           |
|---|-----------|---|-----------|
| أ | الراشدي . | ب | الأموي .  |
| ج | العباسي . | د | الفاطمي . |

٣. كيف كان العرب قبل الإسلام يتخاصمون فيما بينهم ؛ للفصل بالخصومات ؟

- |   |                     |   |                 |
|---|---------------------|---|-----------------|
| أ | الإجماع .           | ب | المحاكم .       |
| ج | العادات والتقاليد . | د | القرآن الكريم . |

٤. من أول من تقلد منصب الوزارة في الدولة الإسلامية ؟

- |   |                       |   |                         |
|---|-----------------------|---|-------------------------|
| أ | أبو سلمة الخلال .     | ب | يحيى البرمكي .          |
| ج | معاوية بن أبي سفيان . | د | الحجاج بن يوسف الثقفي . |

السؤال الثاني: أختار المفهوم المناسب , وأضعه في المكان المخصص له: ( القضاء - الديوان - ولاية العهد )	
ولاية العهد	يعهد إليه الخليفة أو الحاكم بتولي الحكم من بعده.
القضاء	الفصل بين الناس في الخصومات , طبقاً لأحكام الشريعة الإسلامية.
الديوان	المكان الذي تحفظ فيه السجلات الرسمية.

السؤال الثالث: استنتج العوامل التي أدت إلى ظهور الدواوين ؟	
١.	اتساع حدود الدولة الإسلامية .
٢.	زيادة الحاجة إلى تنظيم شؤون الدولة المختلفة .
٣.	التحرر من التبعية الاقتصادية الأجنبية .

السؤال الرابع: في ضوء دراستي للنظام القضائي في الدولة الإسلامية ، أناقش ما يلي:	
أ. تحقيق العدالة الاجتماعية في الدولة الإسلامية	
كانت الدولة الإسلامية تحكم بعقل كامل , وقد سنت الدواوين لتضمن شفافية الأحكام والحكام فأنشأت ديوان النظر في المظالم لكي تضمن عدم ظلم الولاة أو القضاة للعبيد والمحكومين ، وسأوت بين أهل الكتاب والمسلمين في الأحكام والقانون.	
ب. أهمية استقلال القضاء في العصر الحديث في تحقيق العدالة الإسلامية.	
لأنه يضمن عدم تبعية القاضي للمسؤول في أحكامه مهما علا شأن هذا المسؤول أو دنى فإن القاضي يعتبر سلطة مستقلة لا يستطيع أي حاكم عزله أو سجنه من محض إرادته ، و أيضا يستطيع قاضي القضاة والمحكمة العليا أن تعرض المسؤول نفسه للمحاكمة وبالتالي لن يتعرض أي أحد للظلم بسبب أمر من الحاكم أو لغيره ، وبالتالي كان لاستقلال القضاء أهمية في تحقيق العدالة و المساواة.	

السؤال الخامس: أناقش اهتمام الدولة الإسلامية بإنشاء الأسطول البحري .	
لأن المدن الإسلامية الساحلية في بلاد الشام ، ومصر ، وشمال إفريقيا لها شواطئ بحرية طويلة فأصبحت عرضة لهجمات الأسطول البيزنطي .	



## الإنجازات المعمارية في الدولة الإسلامية

الدّرس  
الثاني

مفهوم العمارة في الدولة الإسلامية وتطورها :

نشاط (١) : نلاحظ الصور الآتية ، ثم نُجيب عن الأسئلة التي تليها :



مقام النبي موسى ( فلسطين / أريحا )



قلعة عجلون / الأردن



جامع الزيتونة / تونس



بركة السلطان ( فلسطين / الخليل )

١. نستنتج استخدامات المباني الظاهرة في الصور السابقة ؟

- بركة السلطان : استخدمت في سقاية الحجاج من الشام إلى الحجاز .
- جامع الزيتونة : للصلاة .
- قلعة عجلون : نقطة ارتكاز لحماية المنطقة من الأعداء .
- مقام النبي موسى : يوجد به مصلى .

٢. نذكر أشكالاً أخرى للعمارة ؟

المساجد ، الأعمدة ، القباب ، القصور – المشربيات - القلاع

ما المقصود بالعمارة ؟

فن إقامة مبانٍ بأشكال و أحجام مختلفة لخدمة الناس

بم بدأت العمارة الإسلامية ؟

بدأت العمارة الإسلامية ببناء مسجد قباء في المدينة المنورة الذي تميز بالبساطة في بنائه .

ما السمة الغالبة على العمارة الإسلامية في العصر الراشدي ؟

السمة الغالبة البساطة في العمارة .

ما التطور الذي دخل على بناء المساجد في عمارتها ؟

بناء المآذن والمحاريب .  
في العصر الحديث دخلت عناصر معمارية جديدة في بناء المساجد ، وخاصة الامتداد العمودي .

أفسر ما يأتي :

١. اهتمام المسلمين بفن العمارة .

- لخدمة الناس و تسهيل حياتهم الدينية ، والسياسية ، والاقتصادية ، والاجتماعية .
- انتشار الإسلام .
- توسّع الدولة الإسلامية .
- احتكاك العرب بالشعوب في البلاد المفتوحة .
- زيادة الرخاء والثراء المادي .
- إظهار قوة الدولة الإسلامية ومنعتها

٢. اهتمام المسلمين ببناء المساجد .

بسبب ازدياد أعداد المصلين ، وقيام المساجد بأكثر من دور في حياة المسلمين .

٣. اتخذت المساجد الامتداد الأفقي في بنائها .

كي تتسع لأكبر عدد من المصلين .

## مجالات العمارة في الإسلامية :

نشاط (١) : نلاحظ الشكل الآتي ، ونستنتج ، ثم نجيب عن السؤالين اللذين يليه :



١. نعطى أمثلة من فلسطين على كل مجال من مجالات العمارة الإسلامية ؟

المباني الدينية المسجد الأقصى ، الحرم الإبراهيمي ، مقام النبي موسى ، المسجد العُمري ، جامع النبي يونس ، مسجد الجزائر ، جامع البيك ، جامع يافا الكبير .

المباني السكنية قصر الباشا ، قصر هشام ، قصر آل قاسم .

المباني الخدمائية حمام السمرة ، برك سليمان ، سوق القيسارية ، لبيمارستان الصلاحي و الفاطمي والمنصوري .

المباني الحربية قلعة برقوق ، قلعة القدس الشريف ، قلعة عكا ، قلعة كوكب ، قلعة صانور ، قلعة كوكب الهوا ، سور القدس ، وسور عكا .

٢. نفسّر تركيز الدولة الإسلامية في بداياتها على المباني الدينية ؟

لاهتمام المسلمين بالجانب الديني ، و اتساع رقعة الإسلام ، وزيادة عدد المصلين .

بماذا ظهرت المباني الدينية في العمارة الإسلامية ؟  
ظهرت المباني الدينية في المساجد ، والزوايا ، والمقامات ، والمدارس ، والكتاتيب ، والكنائس التي سمحت الدولة الإسلامية ببنائها وترميمها في فلسطين .

ما المقصود بالمقامات ؟  
مؤسسات دينية صغيرة استخدمت كمصليات .

أين يقع مقام النبي موسى ؟  
يقع بين القدس و أريحا .

ما أهمية مقام النبي موسى في الحركة الوطنية الفلسطينية ؟  
لعب مقام النبي موسى في الحركة الوطنية الفلسطينية دوراً مهماً ، فقد اندلعت أولى الثورات الفلسطينية ضد الانتداب البريطاني في موسم النبي موسى عام ١٩٢٠ م .

أعدد أقسام المباني السكنية في العمارة الإسلامية ؟  
ظهرت المباني السكنية في القصور ، دور الأمراء ، دور الوزراء ، الطبقات العليا في المجتمع ، البيوت البسيطة .

أعدد أقسام المباني الحربية في العمارة الإسلامية ؟  
ظهرت المباني الحربية في القلاع ، الحصون ، الأبراج ، الأسوار .

أعدد أقسام المباني الخدمية في العمارة الإسلامية ؟  
ظهرت المباني الخدمية في البيمارستانات ( المستشفيات ) ، الخانات ( محطات الإستراحة ) ، الحمامات العامة ، الأسواق ، البرك .

أين يوجد كل من :			
جامع الزيتونة	تونس	مقام النبي موسى	فلسطين / أريحا
قلعة عجلون	الأردن	بركة سليمان	فلسطين / الخليل
قصر عمرة	الأردن	حمام الشفاء	فلسطين / نابلس
المسجد الأقصى	فلسطين / القدس	المسجد الإبراهيمي	فلسطين / الخليل
المسجد العمري	فلسطين / غزة	المتحف الإسلامي	فلسطين / القدس
قلعة هشام بن عبد الملك	فلسطين / أريحا		



## خصائص العمارة في الإسلامية :

نشاط (٣) : نلاحظ الصورتين ، ثم نقوم بما يأتي :



الأقواس والأعمدة والنقش على الجدران



المشربيات

١. نستنتج دلالة تنوع وجمال العمارة الإسلامية ؟

العمارة الإسلامية اعتمدت على عناصر معمارية مختلفة ، استخدمت الأعمدة ، و الأقواس ، والمشربيات ، والطرق المتعرجة داخل الأسوار ، الفناء المكشوف في المباني الواسعة .

٢. نعطى أمثلة من فلسطين على مبانٍ تمتاز بالميزات المعمارية الإسلامية ؟

المسجد الأقصى في القدس ، المسجد الإبراهيمي في الخليل ، المسجد العمري في غزة ، مقام النبي موسى في أريحا ، قلعة هشام بن عبد الملك في أريحا ، المتحف الإسلامي في القدس .

أبين مميزات العمارة الإسلامية ؟

١. توافقه مع تعاليم الدين الإسلامي ومبادئه .
٢. احترامها للعادات والتقاليد العربية والإسلامية .
٣. النقش على الحجارة والكتابة على الجدران بخطوط جميلة .
٤. اعتمدت على عناصر معمارية مختلفة مثل ، الأعمدة ، و الأقواس ، والمشربيات ، والطرق المتعرجة داخل الأسوار .
٥. وجود الفناء المكشوف في المباني الواسعة .
٦. عدم استخدام صور ذات الأرواح في المباني .

أبين العناصر المعمارية التي امتازت بها العمارة الإسلامية ؟

استخدمت الأعمدة ، و الأقواس ، والمشربيات ، والطرق المتعرجة داخل الأسوار ، و الفناء المكشوف في المباني الواسعة .

ما المقصود بالمشربيات ، القلاع ؟

المشربيات : نوافذ سدّ بستائر شبكية من الخشب .  
القلاع : أبنية محصنة أقيمت من الحجارة القوية على رأس جبل أو طريق تجارية .

علل ما يأتي :

١. يتم استبدال صور ذات الأرواح بالزخرفة الهندسية أو الرسومات .  
لأنها محرمة شرعاً ، واحتراماً للعادات والتقاليد العربية والإسلامية .

٢. العمارة الإسلامية لها طابع خاص ومميز ومن الصعب خلطه بالعمائر الأخرى .

لوجود عناصر معمارية مختلفة مثل ، الأعمدة ، و الأقواس ، والمشربيات وهي غير موجودة في غيرها .

## عمارة المدن :

نشاط (٤) : نقرأ النص الآتي ، ثم نجيب عن السؤالين اللذين يليه :

رأى عقبة بن نافع أن يعمل على توطيد نفوذ المسلمين في إفريقيا، بأن يقوم ببناء مدينة تكون بمثابة قاعدة عسكرية لهم فيها، وعلى هذا الأساس اختطّ (بنى) مدينة القيروان، واختار لها موقعاً استراتيجياً مهماً؛ فجعلها بعيدة عن البحر، خوفاً من غارات البيزنطيين، وبعيدة عن جوف الصحراء، خوفاً من غارات البربر.

١. نناقش أسباب اختيار عقبة بن نافع لموضع مدينة القيروان ؟

لموقعها الإستراتيجي المهم لبعدها عن البحر ، وبعدها عن جوف الصحراء .

٢. نفسر أسباب اهتمام المسلمين ببناء المدن ؟

لإغراض عسكرية و إدارية أو اتخاذها كعواصم

علل ما يأتي :

١. بناء مدينة القيروان بعيداً عن البحر .

لحمايتها من غارات البيزنطيين .

٢. بناء مدينة القيروان بعيداً عن جوف الصحراء .

لحمايتها من غارات البربر .

٣. اهتمام الدولة الإسلامية بإقامة المباني الحربية .

المراقبة والحراسة ، تسهيل السيطرة على المناطق المجاورة ، إقامة الجيوش ، الدفاع عن المدن والحدود ، قواعد هجومية ومراكز انطلاق للحملات العسكرية والفتوحات ، تأمين البريد وسفر الحجاج والخطوط التجارية.

أبين أهداف الدولة الإسلامية وقيامها ببناء المدن ؟

تم إنشاء بعض المدن وجعلها :

معسكرات حربية : مدينة القيروان في تونس .

أغراض إدارية : مدينة واسط في العراق .

عواصم للدول : مدينة بغداد في العراق ، مدينة القاهرة في مصر .


مناطق تحصينية ثم أصبحت مدنية : مدينة الرباط في المملكة المغربية .

أذكر سبب بناء المدن التالية :

سبب البناء	مكان توأجدها	المدينة
معسكرات حربية	تونس	القيروان
أغراض إدارية	العراق	واسط
عواصم للدول	العراق	بغداد
عواصم للدول	مصر	القاهرة
تحولت للطابع المدني بعد أن كانت تحصينية ضد الأعداء .	المملكة المغربية	الرباط

## عمارة القصور :

نشاط (٥) : نلاحظ الصورة ، ونستنتج ، ثم نجيب عن السؤالين اللذين يليها :



قصر عمرة في الأردن

١. نبيّن الفئات الاجتماعية التي تقوم ببناء القصور ؟

الخلفاء ، الأمراء ، الوزراء ، الطبقات العليا في المجتمع .

٢. نسمّي بعض القصور التي بنتها الدولة الإسلامية في بلاد الشام ؟

اسم القصر	مكان تواجده	اسم القصر	مكان تواجده
قصر سليمان بن عبد الملك	فلسطين / الرملة	قصر عمرة	الأردن
قصر هشام بن عبد الملك	فلسطين / أريحا	قصر المشتي	الأردن
قصر الصنبرة	فلسطين / طبريا	قصر الحير الغربي	البادية السورية
قصر المنية	فلسطين / طبريا		

ما سبب اهتمام الخلفاء الأمويين ببناء القصور ؟

١. اتخاذها أماكن للراحة والاستجمام بعيداً عن الصخب والأمراض التي تحدث في المدن .

٢. اتخاذها قاعدة عسكرية للمسلمين خاصة في شمال إفريقيا .

لماذا بنى بعض الخلفاء الأمويين قصورهم على الجبال ، والبعض الآخر في مناطق منخفضة كالأغوار ؟

بعض الخلفاء الأمويين قصورهم على الجبال لتكون مصايف .

بعض الخلفاء الأمويين قصورهم في مناطق منخفضة كالأغوار لتكون مشاتي .

بماذا اتسمت القصور الإسلامية ؟

- السعة والجمال ، ودقة الزخرفة ، والأعمدة الرخامية ، والفسيفساء ، وتعدد غرفها .
- الأدوار العلوية مخصصة للنساء ، و السفلية مخصصة لاستقبال الضيوف .
- القصور محاطة بالحدائق المليئة بالأشجار .

علل ما يأتي :

بناء الأدوار العلوية ، والسفلية في القصور الإسلامية .

الأدوار العلوية مخصصة للنساء ، و السفلية مخصصة لاستقبال الضيوف



## أختبر نفسي

السؤال الأول : اختر رمز الإجابة الصحيحة فيما يأتي :

١. من بنى مدينة القيروان ؟		
أ	موسى بن نصير .	ب طارق بن زياد .
ج	عقبة بن نافع .	د عمرو بن العاص .

٢. ما المباني التي بدأت بها العمارة الإسلامية ؟		
أ	المساجد .	ب القلاع .
ج	القصور .	د الأسواق .

٣. أين يقع قصر عمرة ؟		
أ	في الأردن .	ب في فلسطين .
ج	في مصر .	د في العراق .

٤. ما الهدف من إقامة الأديار السفلية في القصور الإسلامية ؟		
أ	للتدريب على القتال .	ب لقضاء وقت الراحة .
ج	لإقامة النساء .	د للاستقبالات .

السؤال الثاني : أضع إشارة ( √ ) أمام العبارة الصحيحة, وإشارة ( X ) أمام العبارة الغير صحيحة:

١-	اشتملت العمارة الإسلامية على التماثيل البشرية .	X
٢-	بدأت العمارة الإسلامية ببناء مسجد قباء في المدينة المنورة .	✓

السؤال الثالث : أعدد أقسام المباني الحربية ؟  
القلاع ، الحصون ، الأبراج ، الأسوار .

السؤال الرابع : أعلل ما يأتي :	
١.	اهتمام الدولة الإسلامية بإقامة المباني الحربية . المراقبة والحراسة ، تسهيل السيطرة على المناطق المجاورة ، إقامة الجيوش ، الدفاع عن المدن والحدود ، قواعد هجومية ومراكز انطلاق للحملات العسكرية والفتوحات ، تأمين البريد وسفر الحجاج والخطوط التجارية.
٢.	قيام الخلفاء المسلمين بإقامة القصور خارج المدن . اتخاذها أماكن للراحة والاستجمام بعيداً عن الصخب والأمراض التي تحدث في المدن .

**السؤال الخامس : أبين مميزات العمارة الإسلامية ؟**

- ١ . توافقها مع تعاليم الدين الإسلامي ومبادئه .
- ٢ . احترامها للعادات والتقاليد العربية والإسلامية .
- ٣ . النقش على الحجارة والكتابة على الجدران بخطوط جميلة .
- ٤ . اعتمدت على عناصر معمارية مختلفة مثل ، الأعمدة ، والأقواس ، والمشربيات ، والطرق المتعرجة داخل الأسوار .
- ٥ . وجود الفناء المكشوف في المباني الواسعة .
- ٦ . عدم استخدام صور ذات الأرواح في المباني .

**السؤال السادس : ناقش توافق العمارة الإسلامية مع العادات والتقاليد العربية الإسلامية ؟**

حيث خلت المباني الدينية من ذوات الأرواح وتم استبدالها بالزخرفة بإشكال هندسية أو رسومات نباتية.

**السؤال السابع : أبين أسباب قيام الدولة الإسلامية ببناء المدن ؟**

- تم إنشاء بعض المدن وجعلها :
- معسكرات حربية : مدينة القيروان في تونس .
  - أغراض إدارية : مدينة واسط في العراق .
  - عواصم للدول : مدينة بغداد في العراق ، مدينة القاهرة في مصر .
  - مناطق تحصينية ثم أصبحت مدنية : مدينة الرباط في المملكة المغربية .

## نماذج من الإنجازات المعمارية الإسلامية في فلسطين

### ١. المدن :

نشاط ( ١ - أ ) : نلاحظ الخريطة ، ثم نُجيب عن الأسئلة المجاورة لها :



١. نذكر أسماء مدن فلسطينية بُنيت في العصر الإسلامي .

اللد - الرملة - عسقلان - قيسارية - عكا

٢. نستنتج كثرة المدن في وسط فلسطين وشمالها ، وقلتها في جنوبها .

كثرة المدن في وسط فلسطين وشمالها : بسبب اعتدال المناخ وخصوبة التربة .

قلة المدن في جنوب فلسطين : بسبب وجود صحراء النقب .

٣. نذكر أسماء مدن جديدة بُنيت في فلسطين .

رام الله ، جنين ، طولكرم ، نابلس ، غزة ، قلقيلية ، الناصرة ، صفد ، الخليل ، ..... .

متى وُجدت المدن الكنعانية في فلسطين ؟

وُجدت منذ أقدم العصور التاريخية .

بماذا اهتمت الدولة الإسلامية عندما فتح المسلمون فلسطين ؟

ترميم المدن القديمة وصيانتها .

ما الأعمال التي قامت بها الدولة الأموية في فلسطين ؟

١. ترميم أسوار مدين القدس في عهد الخليفة الأموي معاوية بن أبي سفيان .

٢. بناء مدين عسقلان وتحصينها .

٣. وسعوا قيسارية وعكا ، ورمموا منشآتها .

٤. اهتموا بحيفا وأريحا .

ما هو أكبر إنجاز للدولة الأموية في فلسطين في مجال العمارة ؟

بناء مدينة الرملة في عهد الخليفة سليمان بن عبد الملك




## ٢. القلاع و الأبراج :


نشاط ( ١ - ب ) : نلاحظ الصور الآتية ، ونستج ، ثم نجيب عن الأسئلة التي تليها :



قلعة القدس الشريف



قلعة شفا عمرو



قلعة خان يونس

### ١. لماذا بُنيت القلاع في العصر الإسلامي ؟

- المراقبة والحراسة ، وتسهيل السيطرة على المناطق المجاورة .
- لإغراض عسكرية : قواعد هجومية ، مراكز انطلاق الحملات العسكرية ، والفتوحات .
- إقامة الولاية والحكام والجيوش .
- ضبط الخطوط التجارية .
- تأمين البريد وسفر الحجاج والمسافرين .

### ٢. كيف أثر بناء القلاع و الأبراج على تطور التجارة و ازدهارها في العصر الإسلامي ؟

ازدهرت التجارة في العصر الإسلامي ، بفعل بناء القلاع التي عملت على تأمين الطرق التجارية وضبط الخطوط التجارية .

### ما المقصود بالقلاع ؟

أبنية محصنة ، أقيمت من الحجارة القوية على رأس جبل مشرف أو طريق تجارية أو حتى داخل المدن .

### أوضح سبب بناء القلاع ؟

- المراقبة والحراسة .
- تسهيل السيطرة على المناطق المجاورة .

### كيف يمكن الاستفادة من القلاع والأبراج في العصر الحالي ؟

١. استخدامها للمراقبة والحراسة بعد ترميمها .
٢. جعلها مناطق سياحية أثرية .

### أذكر أهم القلاع في فلسطين ؟

قلعة القدس الشريف .  
قلعة المراد : بالقرب من برك سليمان إلى الجنوب الغربي من مدينة بيت لحم .  
قلعة شفا عمرو : بناها ظاهر العمر الزيداني .

- معظم القلاع و الأسوار التي بُنيت حول المدن الفلسطينية ، رافقتها إنشاء الأبراج .
- اشتملت قلعة القدس على برج بناه الملك المعظم عيسى بالقرب من باب الخليل .
- بناء برج خلف السور الخارجي لمدينة عكا .

### ٣. القصور :

نشاط ( ١ - ج ) : نقرأ النص الآتي ، ونلاحظ الصورة ، ثم نقوم بما يأتي :



فسيفساء قصر هشام بن عبد الملك في أريحا

لم تقتصر عبادة الخلفاء المسلمين على بناء المدن فحسب، بل اهتموا ببناء القصور، وقد امتازت بدقة الزخارف التي تزين بها الأعمدة، وتيجانها، وكانت الأرضيات تزين بالفسيفساء، والسقوف من الخشب المحفور والمزجج بالفتوش البديعة.

#### ١. نبيّن مميزات القصور الإسلامية ؟

- دقة الزخرفة والسعة التي امتازت بها الأعمدة الرخامية وتيجانها .
- تزيين الأرضيات والسقوف بالفسيفساء .
- تعدد الغرف وتخصيص غرف للنساء في الأدوار العلوية ، وغرف لاستقبال الضيوف في الأدوار السفلية .

#### ٢. نستنتج دور العمارة في الحفاظ على كيان الدولة ، واستقلالها ؟

حافظت العمارة على كيان الدولة من خلال استقلال مؤسساتها ، وظهور الملامح الوطنية والدينية عليها في المساجد والمدارس والقصور والقلاع والحصون والمباني الخدمانية .

#### ما سبب اهتمام الدولة الأموية بفلسطين ؟

لمكانتها الدينية المقدسة .

#### أذكر أسماء بعض القصور بُنيت في فلسطين ؟

- قصر الصنبرة بالقرب من بحيرة طبريا .
- قصر المنية في طبريا .
- قصر سليمان بن عبد الملك في مدينة الرملة .
- قصر هشام بن عبد الملك في أريحا .

#### ما هي القصور التي بُنيت في عهد الوليد بن عبد الملك ؟

هناك ثلاثة قصور بُنيت في عهد الوليد بن عبد الملك في مدينة القدس . قصر المنية في طبريا .

## نشاط تطبيقي : ننظم زيارة إلى قصر هشام في مدين أريحا ، ونعد تقريراً عن أقسام القصر ، وفنونه المعمارية .

قصر هشام يقع على بعد ٥ كيلومتر إلى الشمال من مدينة أريحا. كان القصر الذي شيده الخليفة الأموي هشام بن عبد الملك سنة ٧٢٤-٧٤٣ م والوليد بن يزيد ٧٤٣-٧٤٩ م مقراً للدولة، فمن المعروف أن السلالة الأموية العربية قد حكمت إمبراطورية تمتد من الهند إلى فرنسا، وكما هو الحال مع معظم الخلفاء العرب فقد فضل الخليفة هشام بن عبد الملك حرية الصحراء على حياة المدينة في العاصمة دمشق.

يتكون القصر من مجموعة من البنايات والحمامات والجوامع وقاعات مليئة بالأعمدة الأثرية، وتعتبر الفسيفساء والزخارف والحلي من الأمثلة الرائعة للفن والعمارة الإسلامية القديمة. يقول الخبراء بأن زلزالاً عنيفاً قد ضرب المنطقة ودمر الأبنية في قصر هشام قبل أن تكتمل. وبفعل الأتربة والأنقاض المتراكمة حفظت الفسيفساء والرسومات الرائعة الموجودة في القصر.

وتعتبر الفسيفساء الموجودة على أرضية الحمامات إلى جانب شجرة الحياة الموجودة في غرفة الضيوف من أهم عناصر الجذب للسياح والزوار، هذه الفسيفساء تعتبر واحدة من أجمل الأعمال الفنية القديمة في العالم. العديد من الزخارف المنقوشة من الموجودات في القصر توجد في متحف روكفلر في القدس.

### نجمة قصر هشام :

النجمة السداسية كشكل هندسي مستخدمة بكثرة في العمارة الإسلامية على مر العصور، هي والنجمة الثمانية أيضاً.

يوجد إلى يمين المدخل متحف صغير يضم مجموعة من الأواني الخزفية التي اكتشفت في الموقع .

حفظ



## مدينة الرملة :

نشاط ( ٢ ) : نلاحظ الصورة الآتية ، ونستج ، ثم نجيب عن الأسئلة التي تليها



الرملة .. ومارتها .. وأهلها - سنة ١٩٤٣ م

١. نناقش ما نشاهده في الصورة أعلاه ؟

نشاهد صورة لمدينة الرملة في فلسطين منذ سنة ١٩٤٣ م ، من حيث منارتها ، وأهلها .

٢. نعين موقع مدينة الرملة على خريطة فلسطين ؟

تقع مدينة الرملة غرب فلسطين وسط السهل الساحلي الفلسطيني ، على الطريق الواصل بين مدينة يافا ومدينة القدس .

من الذي بنى مدينة الرملة ؟

بنى سليمان بن عبد الملك مدينة الرملة أثناء ولايته على فلسطين في خلافة أخيه الوليد بن عبد الملك .

ما سبب تسمية مدينة الرملة بهذا الاسم ؟

من الراجح أن الاسم جاء من الرمال التي تحيط بالمدينة .

ما دوافع بناء مدينة الرملة ؟

دوافع البناء تعود إلى الاحتكاك اليومي بين الجنود والسكان المحليين في اللد ، لذا فضل سليمان إخراج جنوده من المدينة إلى منطقة الرملة .

لماذا أخرج سليمان بن عبد الملك جنوده إلى منطقة الرملة ؟

لأنه يميل إلى الهدوء والراحة بعيداً عن الضجيج اليومي الذي انتشر في مدينة اللد .

- أقيم في مدين الرملة منشآت عُمرانية مثل قصر سليمان بن عبد الملك ، ولا تزال بعض من جدرانه موجودة حتى الآن .
- حوّل الإنجليز مكان قصر سليمان بن عبد الملك إلى حديقة تُعرف بحديقة البلدية .

أذكر بعض المنشآت العُمرانية في مدين الرملة ؟

١. قصر سليمان بن عبد الملك .
٢. الجامع الأبيض الذي دمره الإفرنج ، وأعادَه صلاح الدين الأيوبي ، وجدده الظاهر بيبرس .


ماذا أضاف السلطان محمد بن قلاوون للجامع الأبيض في مدينة الرملة ؟  
أضاف المئذنة في القرن الرابع عشر الميلادي .

متى احتلت العصابات الصهيونية مدينة الرملة ؟  
احتلت العصابات الصهيونية مدينة الرملة بتاريخ ١٢ / ٧ / ١٩٤٨ م .

ما نتيجة احتلال مدينة الرملة ؟  
تهجير سكانها تحت تهديد السلاح ، ومنع الأهالي من العودة رغم الاتفاق على ذلك ، وما زالت المدينة تحت الاحتلال الصهيوني .

### مظاهر اهتمام الأمويين والعباسيين بمدينة القدس :

نشاط ( ٣- أ ) : نلاحظ الصور الآتية ، ونستنج ، ثم نجيب عن السؤالين اللذين يليها :



باب الخليل



باب العامود



باب الجديد

١. نعلل سبب بناء الأسوار للمدن في العصور الماضية ؟

لحماية سكانها من هجمات الأعداء والغزو الخارجي وقطاع الطرق .

٢. نسمي أبواباً أخرى لمدينة القدس ؟

أبواب مدينة القدس : باب الرحمة والتوبة ، باب الأسباط ، باب الساهرة ، باب النبي داوود ، باب المغاربة ، باب الواحد ، باب المثلث ، الباب المزدوج ، باب الجنائز .

متى آخر مرة تم ترميم سور القدس بعد تعرضه للهدم ؟

تم ترميمه في العصر العثماني ، فترة السلطان سليمان القانوني بين الأعوام ( ١٥٣٦ - ١٥٤١ م ) .

أذكر مواصفات سور القدس ؟

- مبني بالشيد والحجر المنحوت .
- يبلغ طوله حوالي ٤٠٠٠ متر .
- ارتفاع السور يتراوح بين ١٢.٥ متر ، و ١٣.٥ متر .
- يتخلل السور سبعة أبواب هي : باب الخليل ، الجديد ، العامود ، الساهرة ، الأسباط ، المغاربة ، النبي داوود .

نشاط ( ٣ - ب ) : نلاحظ الصورتين ، ثم نقوم بما يأتي :



مسجد قبة الصخرة المشرفة



المسجد القبلي

١. نستنتج الفرق بين المسجد الأقصى ، والمسجد القبلي ؟

المسجد الأقصى : هو المسجد الواقع جنوب شرق القدس ، وهو كل ما يحيط به السور والبالغ مساحته ١٤٤ دونم ، ويحتوي على ٢٠٠ معلم تقريبا ، منها المسجد القبلي وقبة الصخرة .  
المسجد القبلي : هو المصلى الواقع جنوب المسجد الأقصى ويمتاز بقبته الرصاصية .

٢. ناقش مكانة المسجد الأقصى عند المسلمين ؟

تأتي أهمية المسجد الأقصى لدى المسلمين نظرا لقيمته الدينية فهو أولى القبلتين وثالث الحرمين ومسرى رسول الله محمد عليه الصلاة والسلام، فضلا عن كونه ثاني مسجد بني في الإسلام بعد المسجد الحرام ، وتُشد إليها الرحال ، والصلاة فيها تعادل ٥٠٠ صلاة .

لقيت مدينة القدس اهتماماً كبيراً من الدولتين الأموية والعباسية . وضح ذلك ؟

مظاهر اهتمام الدولة الأموية بمدينة القدس :

- الإكثار من زيارتها .
  - تنشيط الحركة العلمية فيها .
  - بنوا فيها القصور ، واهتموا بترميم أسوارها .
  - أوجدوا فيها دار لضرب النقود ( سك النقود ) التي حملت بداية اسم إيلياء .
  - عبّدوا الطرق من دمشق إلى القدس .
  - بناء مسجد قبة الصخرة في عهد عبد الملك بن مروان .
- مظاهر اهتمام الدولة العباسية بمدينة القدس :
- زارها خلفاء الدولة ، مثل : أبو جعفر المنصور ، المهدي ، المأمون .

لماذا قام الأمويين بتعبيد الطريق من دمشق إلى مدينة القدس ؟

لتسهيل سفر التجار والزوار .

من الذي أشرف على بناء قبة الصخرة في عهد عبد الملك بن مروان ؟

يزيد بن سلام المقدسي ، ورجاء بن حيوة الكندي البيساني .

من الذي بنى المسجد القبلي ؟

عبد الملك بن مروان و ابنه الخليفة الوليد بن عبد الملك .



من الذي قام بترميم المسجد القبلي وقبة الصخرة في العهد العباسي ؟
ترميم المسجد القبلي : أبو جعفر المنصور . ترميم قبة الصخرة : المأمون .

ما الأعمال التي قام بها الخليفة المأمون في القدس ؟
• ترميم قبة الصخرة . • ضرب النقود .

ما الأعمال التي قام بها كل من :	
ترميم أسوار مدين القدس .	معاوية بن أبي سفيان
أنشأ قرية كفر لام بالقرب من حيفا . بناء ثلاث قصور في القدس . بناء قصر المنية في طبريا . بناء المسجد القبلي	الوليد بن عبد الملك
بناء مدينة الرملة . بناء قصر سليمان بن عبد الملك في مدينة الرملة . الجامع الأبيض	سليمان بن عبد الملك
بناء قلعة شفا عمرو .	ظاهر العمر الزيداني
بناء برج في قلعة القدس بالقرب من باب الخليل .	الملك المعظم عيسى
بناء قصر هشام بن عبد الملك في مدينة أريحا	هشام بن عبد الملك
أضاف مئذنة للجامع الأبيض في مدينة الرملة في القرن الرابع عشر الميلادي .	محمد بن قلاوون
في عهده تم بناء قبة الصخرة ، والمسجد القبلي .	عبد الملك بن مروان
الإشراف على بناء قبة الصخرة .	يزيد بن سلام المقدسي ، رجاء بن حيوة الكندي
ترميم قبة الصخرة ، ضرب النقود .	الخليفة المأمون
ترميم المسجد القبلي .	أبو جعفر المنصور

نشاط تطبيقي : نبحث عن عدد أبواب المسجد الأقصى و أسمائها مع صورة لكل منها ؟



باب الغوامة




باب الملك فيصل



باب حطة



باب الأسباط



باب المطهرة



باب القطّاتين



باب الحديد



باب الناظر ( المجلس )



باب الرحمة



باب المغارية



باب السلسلة



باب السكينة



الباب المنفرد



الباب الثلاثي



الباب المزدوج



باب الجنائز



## الأخطار التي تتعرض لها الآثار الإسلامية في القدس :

نشاط ( ٤ ) : نقرأ النص ، ونستج ، ثم نجيب عن السؤالين اللذين يليه :

تمكّنت العصابات الصهيونية سنة ١٩٤٨م من الاستيلاء على الجزء الأكبر من فلسطين، وأكملت سيطرتها عليها سنة ١٩٦٧م، ودخلت القوات الصهيونية القدس، ومنذ ذلك الوقت، بدأ الصهاينة في انتهاج سياسة قائمة على طمس المعالم العربية والإسلامية في فلسطين، خاصة في مدينة القدس، وعلى الرغم من صدور قرار مجلس الأمن الدولي (٢٥٢) بتاريخ ١٩٦٨/٥/٢١م والذي يعتبر أنّ كلّ الإجراءات الصهيونية في مدينة القدس باطلة، إلّا أنّ الاحتلال الصهيوني استمرّ في سياسته حتى الآن.

١. نعطى أمثلة على محاولات الاحتلال الصهيوني طمس المعالم العربية و الإسلامية في مدينة القدس ؟

- تغيير هوية المدينة العربية والإسلامية وتحويلها للطابع الصهيوني .
- صادر الاحتلال الصهيوني الأراضي الفلسطينية في القدس و بنى عليها المستوطنات.
- هدم المنازل وتهجر سكان مدينة القدس الأصليين .
- سحب هوية سكان القدس الأصليين وفصلها عن محيطها العربي .
- تحويل حائط البراق إلى حائط المبكى .
- هدم حي المغاربة وتغيير طابعه العربي الإسلامي .
- إزالة بعض الحجارة من سور القدس واستبدالها بأخرى عليها رسومات و أشكال صهيونية .
- افتتح الاحتلال الصهيوني الكنس الصهيونية في البلدة القديمة .
- يحاول الاحتلال الصهيوني في هذه الأيام السيطرة على الحرم القدسي الشريف .
- منع أي ارتباط إسلامي بهذا المكان المقدس عند المسلمين .
- رفض منح تراخيص بناء للمقدسيين .
- بناء جدار الفصل العنصري

٢. نعدد الأماكن الدينية المقدسة المسيحية في مدينة القدس ؟  
كنيسة القيامة ، طريق الآلام .

ما هو نص قرار مجلس الأمن الدولي ( ٢٥٢ ) الصادر بتاريخ ١٩٦٨ / ٥ / ٢١ م ؟

يعتبر أن جميع الإجراءات الإدارية والتشريعية، وجميع الأعمال التي قامت بها إسرائيل، بما في ذلك مصادرة الأراضي والأماكن التي من شأنها أن تؤدي إلى تغيير في الوضع القانوني للقدس- هي إجراءات باطلة، ولا يمكن أن تغير في وضع القدس. يدعو إسرائيل، بإلحاح، إلى أن تبطل هذه الإجراءات، وأن تمتنع فوراً من القيام بأي عمل آخر من شأنه أن يغير في وضع القدس.

لماذا ضيق الاحتلال الصهيوني على سكان مدينة القدس الأصليين ؟  
لإرغامهم على ترك المدينة ، وإحلال المستوطنين مكانهم .



## أختبر نفسي

السؤال الأول : أضع إشارة ( √ ) أمام العبارة الصحيحة, وإشارة ( X ) أمام العبارة الغير صحيحة:

✓	1- يبلغ طول سور القدس حوالي ٤٠٠٠ متر.
X	2- بنيت قبة الصخرة أيام الدولة العباسية.
✓	3- صدر قرار مجلس الأمن الدولي ٢٥٢ عام ١٩٦٨ م .
✓	4- حول الاحتلال الصهيوني اسم حائط البراق إلى حائط ( المبكى ) .

السؤال الثاني : اختر رمز الإجابة الصحيحة فيما يأتي :

١. ماذا يحد فلسطين من الجهة الشرقية ؟			
أ	العراق .	ب	اليمن .
ج	مصر .	د	الأردن .

٢. من السلطان العثماني الذي بنى سور القدس الحالي ؟			
أ	سليمان القانوني .	ب	سليم الأول . .
ج	مراد الرابع .	د	عبد الحميد الأول .

٣. في أي عصر بنيت مدينة الرملة ؟			
أ	العباسي .	ب	الأموي .
ج	المملوكي .	د	العثماني .

٤. أي المواقع الآتية يقع بالقرب منها قصر الصنبرة ؟			
أ	بحيرة الحولة .	ب	البحر الميت .
ج	بحيرة طبريا .	د	بحيرة ناصر .

السؤال الثالث : أعلل ما يأتي :

١. اهتمام الدولة الأموية بفلسطين.

بسبب مكانتها الدينية المقدسة.

٢. قدسية أرض فلسطين عند المسلمين.

لوجود المسجد الأقصى فيها ولأنها أولى القبلتين وثالث الحرمين ومسرى الرسول ﷺ .

السؤال الرابع : أعدد أبواب مدينة القدس ؟

باب الخليل ، باب الحديد ، باب العامود ، باب الساهرة ، باب الأنباط ، باب المغاربة ، باب النبي داوود .

السؤال الخامس : أسمى مدناً فلسطينية تقع في السهل الساحلي الفلسطيني؟

عكا ، حيفا ، يافا ، المجدل ، عسقلان ، غزة .

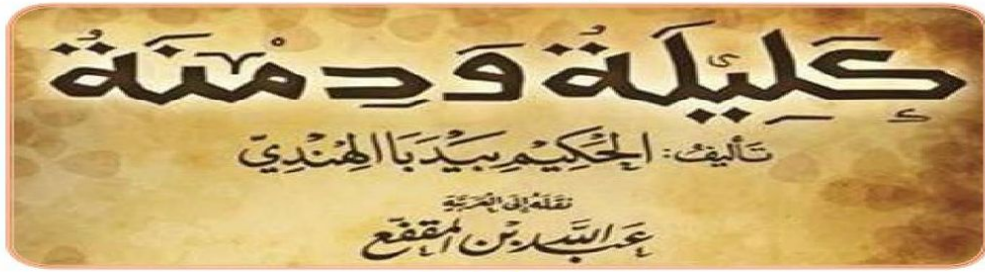
**السؤال السادس : أبين بعض الإجراءات الصهيونية الهادفة إلى طمس المعالم العربية الإسلامية في مدينة القدس ؟**

- تغيير هوية المدينة العربية والإسلامية وتحويلها للطابع الصهيوني .
- صادر الاحتلال الصهيوني الأراضي الفلسطينية في القدس و بنى عليها المستوطنات.
- هدم المنازل وتهجر سكان مدينة القدس الأصليين .
- سحب هوية سكان القدس الأصليين وفصلها عن محيطها العربي .
- تحويل حائط البراق إلى حائط المبكى .
- هدم حي المغاربة وتغيير طابعه العربي الإسلامي .
- إزالة بعض الحجارة من سور القدس واستبدالها بأخرى عليها رسومات و أشكال صهيونية .
- افتتاح الاحتلال الصهيوني الكنس الصهيونية في البلدة القديمة .
- يحاول الاحتلال الصهيوني في هذه الأيام السيطرة على الحرم القدسي الشريف.
- منع أي ارتباط إسلامي بهذا المكان المقدس عند المسلمين .
- رفض منح تراخيص بناء للمقدسيين .
- بناء جدار الفصل العنصري

إنجازات العرب والمسلمين العلمية :

أ. حركة الترجمة :

نشاط ( ١ - أ ) : نلاحظ الصورة الآتية ، ثم نُجيب عن الأسئلة التي تليها



١. نذكر اسم الكاتب الذي ترجم كتاب كليلة ودمنة إلى اللغة العربية ؟  
عبد الله بن المقفع .

٢. نستنتج مفهوم حركة الترجمة ؟  
تحويل العديد من اللغات الأجنبية إلى اللغة العربية .

٣. نوضح أهمية الترجمة من اللغات الأجنبية إلى اللغة العربية ؟  
نقل المعرفة والعلوم من الشعوب الأجنبية إلى المجتمع العربي .

من هو مؤلف كتاب كليلة ودمنة ؟  
الحكيم بيدبا الهندي .

ماذا أمر الرسول ﷺ زيد بن ثابت بعد الهجرة ؟  
أمره بتعلم لغة اليهود .

ما هي اللغات التي تعلمها المسلمون في عهد الرسول ﷺ ؟  
السريانية ، الفارسية ، الرومانية .

متى زادت حركة الترجمة ؟  
زادت في العصر العباسي .

ماذا أسس العباسيون في بغداد لتساعد في حركة الترجمة ؟  
أسس العباسيون دار الحكمة في بغداد .



أين يوجد بيت الحكمة ؟

يوجد بيت الحكمة في بغداد ، ولعب دوراً مهماً في حركة الترجمة .

أذكر أشهر المترجمين في العصر العباسي ؟


حنين بن إسحاق في الطب .  
عبد الله بن المقفع في الأدب والتاريخ .

ما هي اللغات التي ترجم عنها المسلمون في العصر العباسي ؟

اليونانية ، الرومانية ، الفارسية .

## ب. علوم الحديث واللغة العربية :

نشاط ( ١ - ب ) : نقرأ النص ، ونلاحظ الصورة التي تجاوره ، ثم نجيب



أما بعد، حفظكم الله يا أهل صناعة الكتابة، وأحاطكم، فجعلكم معشر الكتاب، في أشرف الجهات، وأهل الأدب، والمروعة، والعلم، والرواية، فتنافسوا يا معشر الكتاب في صنوف الآداب، والأشعار.

(من رسالة عبد الحميد الكاتب)

١. نستنتج الفكرة التي يدعو لها عبد الحميد الكاتب ؟

التنافس في صنوف الأدب و الأشعار .

٢. نصف ما نشاهده في لصورة أعلاه .

نشاهد كتاب صحيح البخاري للإمام أبو عبد الله محمد بن إسماعيل البخاري .

ما سبب اهتمام المسلمون بعلم الحديث ؟

لأنه يأتي بعد القرآن الكريم كمصدر من مصادر التشريع الإسلامي .

ما المقصود بعلم الحديث ؟

أحد العلوم التي تفردت بها الأمة الإسلامية. وهو دراسة شاملة للحديث النبوي من حيث السند والمتن .

من هو الخليفة الأموي الذي اهتم بعلم الحديث ؟

الخليفة عمر بن عبد العزيز .

كيف يظهر اهتمام الخليفة الأموي عمر بن عبد العزيز بعلم الحديث ؟  
قام بتوكيل العلماء بجمع الأحاديث النبوية الصحيحة ونسخها و إرسالها إلى الولايات الإسلامية .

أذكر أشهر علماء الحديث ؟

مُجد بن إسماعيل البخاري ، في كتابة ( صحيح البخاري ) .  
أبو الحسن مسلم بن الحجاج ، في كتابه ( صحيح مسلم ) .

ما سبب اهتمام المسلمون بعلوم اللغة العربية ؟

دخول كثير من الأعاجم ( غير العرب ) في الإسلام .  
انتشار اللحن والخطأ اللغوي .

ما النتيجة المترتبة على دخول كثير من الأعاجم ( غير العرب ) في الإسلام ؟

- انتشار اللحن والخطأ اللغوي .
- ظهور المدارس النحوية في العراق .

أذكر أهم أعمال كل من :

الخليل بن أحمد الفراهيدي	وضع أول معجم في اللغة العربية وهو معجم ( العين ) .
أبو الأسود الدؤلي	قام بضبط قراءة القرآن الكريم .

ما المقصود بالنتثر ؟

هو الكلم الغير موزون .

من هو شاعر الرسول ﷺ



حسان بن ثابت .

من هو مؤسس الكتابة الفنية وواضع أصولها وقواعدها ؟

عبد الحميد الكاتب .

## ج. التاريخ والجغرافيا :

نشاط ( ١ - ج ) : نلاحظ الصورتين ، ونستنتج ، ثم نجيب عن السؤالين اللذين يليهما



١. نفسر رسم الإدريسي خريطة العالم .

رسم الإدريسي خريطة العالم ليضع فيها كل ما استكشفه من رحلات وبيان المناطق والبلدان الإسلامية وما حولها .

٢. كيف يمكن الاستفادة من كتابة التاريخ في بناء المجتمع وتطوره ؟

- نقل الخبرات والتجارب السابقة للاستفادة منها .
- استكمال ما وصل إليه السابقين من إنجازات .

بماذا اهتم العرب والمسلمين في بدايتهم ؟

اهتموا بتدوين سيرة الرسول ﷺ ، و مغازيه .

أذكر أشهر مؤلفات العرب في التاريخ ؟

- كتاب تاريخ الطبري .
- كتاب تاريخ اليعقوبي .

ما سبب اهتمام المسلمين بعلم الجغرافيا ؟

- توسع امتداد رقعة الدولة الإسلامية .
- النشاط التجاري البري والبحري .
- أداء مناسك الحج .

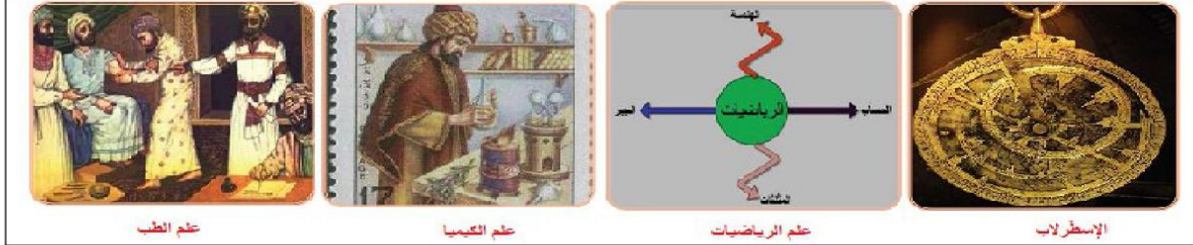
أذكر أشهر مؤلفات العرب في الجغرافيا ؟

معجم البلدان لياقوت الحموي .



## د. العلوم الطبيعية :

نشاط ( ١ - د ) : نلاحظ الصور ، ونستنتج الفكرة الأساسية منها :



نستنتج الفكرة الأساسية التي تمثلها الصور السابقة ؟

اهتمام العرب والمسلمون بالعلوم الطبيعية ( العلوم العقلية ) مثل ، الكيمياء ، والرياضيات ، الجغرافيا ، الطب .

ماذا أخذ المسلمون عن الهنود في علم الرياضيات ؟

أخذوا عن الهنود نظام الترقيم .

أذكر إنجاز المسلمون في علم الرياضيات ؟

أوجدوا رقم الصفر .

ما المقصود بعلم الفلك ؟

هو العلم الذي يبحث في النجوم والكواكب وحركاتها ومواقعها .

ما هو الإسطرلاب ؟

هو آلة لرصد حركة النجوم والكواكب . .

ما سبب اهتمام المسلمون بعلم الفلك ؟

لأنه يخدم الأغراض الدينية ، مثل : تحديد أوقات الصلاة ، و اتجاه القبلة .

أذكر إنجاز المسلمون في علم الفلك ؟

تطوير الإسطرلاب الذي يستخدم في الملاحة ، و رصد حركة الكواكب والنجوم ، و تحديد الوقت .

من هو أشهر علماء المسلمين في الرياضيات ؟

الخوارزمي .

أذكر إنجاز المسلمون في علم الطب ؟

برعوا في علم الطب لمعرفة الأمراض و إجراء العمليات الجراحية ، والتخدير ، و خياطة الجروح من أمعاء الحيوانات .

من هو أشهر أطباء العرب ؟

أشهر أطباء العرب ابن سينا مؤلف كتاب ( القانون في الطب ) .

## أهمية التواصل و الانفتاح بين الحضارات الإنسانية :

نشاط ( ٢ ) : نلاحظ الخريطة والصّور ، ثم نُجيب عن الأسئلة التي تليها :



### ١. نناقش المظاهر الحضارية الموجودة في الصور أعلاه ؟

وجود العديد من المظاهر المعمارية في الصور في جميع أنحاء العالم ومنها : سور الصين ، تاج محل في الهند ، مدائن صالح في اليمن ، المدرجات الرومانية في الأردن ، الأهرامات في مصر ، مدرج كولوسيم في روما ، معبد ايتزا في المكسيك .

### ٢. نستنتج دلالات الصور الموجودة ؟

الصور تدل على التبادل الحضاري بين المسلمين وغيرهم من شعوب العالم في مجالات مختلفة مثل ، فن العمارة ، العلوم الطبيعية . وهذا يدل على أهمية التواصل والانفتاح بين الحضارات .

ما النتيجة المترتبة على تقدم المسلمين الحضاري و احتكاكهم بالأوروبيين ؟  
قيام أوروبا بالاقتراس عن المسلمين .

### أبيّن الطرق التي انتقلت بها الحضارة العربية الإسلامية إلى أوروبا ؟

- عن طريق الفتوحات الإسلامية في الأندلس ، و صقلية ،
- عن طريق الحروب الفرنجية ، و التجارة ، و البعثات العلمية .

### ماذا أخذ الأوروبيون عن المسلمين ؟

أخذوا فن العمارة والبناء ، الأساليب الزراعية ، بعض الصناعات ، مثل : الحرير والسكر ، واقتناء الكتب ، ورسم الخرائط .

### فسّر أهمية التواصل والانفتاح بين الحضارات الإنسانية في العصر الحديث .

إيجاد بيئة دولية سليمة ومستقرة تقوم على أساس الاحترام المتبادل والمساواة بين الثقافات والحضارات المختلفة .

## أختبر نفسي

السؤال الأول : اختر رمز الإجابة الصحيحة فيما يأتي :

١. أين أسس العباسيون بيت الحكمة ؟		
أ	في بغداد .	ب
ج	في دمشق .	د
		في القاهرة .
		في الأندلس

٢. من مؤسس الكتابة الفنية ، وواضع أصولها وقواعدها ؟		
أ	عبد الله بن المقفع .	ب
ج	عبد الحميد الكاتب .	د
		الخوارزمي .
		حسان بن ثابت .

٣. ما أسباب اهتمام العرب والمسلمين بعلم الجغرافيا ؟		
أ	انحسار رقعة الدولة الإسلامية .	ب
ج	أداء مناسك الحج .	د
		توسّع النشاط الصناعي .
		تطوير علم الرياضيات .

السؤال الثاني : أختار المفهوم المناسب ، و أضعه في المكان المخصص له :  
( النثر ، علم الفلك ، الإسطرلاب )

النثر	الكلام غير الموزون.
الإسطرلاب	آلة لرصد حركة الكواكب والنجوم.
علم الفلك	يبحث في النجوم والكواكب وحركاتها ومواقعها وأسباب تغير مظاهرها وأمكنتها.

السؤال الثالث : أوفق بين الكتاب في العمود ( أ ) ومؤلفه في العمود ( ب ) فيما يأتي:

العمود ( أ )	العمود ( ب )
القانون في الطب	أبو جعفر محمد بن جرير الطبري
معجم البلدان	أبو علي ابن سينا
تاريخ الأمم والملوك	ياقوت الحموي

السؤال الرابع : أنظم جدولاً لإنجازات المسلمين في العلوم الآتية :

الرياضيات	أخذوا نظام الترقيم عن الهنود وأوجدوا رقم الصفر.
الطب	إجراء العمليات الجراحية والتخدير وخياطة الجروح من أمعاء الحيوانات .
الفلك	بحثوا في النجوم والكواكب ومواقعها وأسباب تغير مكانها .

السؤال الخامس : أبين الطرق التي انتقلت بها الحضارة العربية الإسلامية إلى أوروبا ؟

- عن طريق الفتوحات الإسلامية في الأندلس ، و صقلية ، .
- عن طريق الحروب الفرنجية ، و التجارة ، و البعثات العلمية .

السؤال السادس : تناقش أهمية التواصل والانفتاح بين الحضارات .

إيجاد بيئة دولية سليمة ومستقرة تقوم على أساس الاحترام المتبادل والمساواة بين الثقافات والحضارات المختلفة .



## الإنجازات الاقتصادية في الدولة الإسلامية

### الموارد الاقتصادية في الدولة الإسلامية :

نشاط ( ١ ) : نلاحظ الشكل الآتي ، ونستنتجُ ، ثم نُجيب عن السؤالين اللذين يليه :



١. نعدد الموارد الاقتصادية للدولة الإسلامية ؟

الزكاة ، الخراج ، الغنيمة ، الجزية ، الفية ، الرّكاز .

٢. نُوضّح المقصود بالموارد الاقتصادية للدولة ؟

هي الأموال التي كانت تدخل إلى بيت مال المسلمين من مختلف الجهات ، وبدونه لن يكون هناك أي نشاط اقتصادي للدولة قائم عليه .

نُوضّح سبب زيادة الموارد الاقتصادية للدولة الإسلامية بعد توسعها ؟

- |  |  |
|--|--|
| <ul style="list-style-type: none"> <li>الجزية التي تؤخذ من أهل الذمة .</li> <li>الزكاة التي فرضت على المسلمين .</li> <li>العُشر .</li> </ul> | <ul style="list-style-type: none"> <li>الضرائب التي كانت تُجبي عن الأراضي الزراعية .</li> <li>خمس الغنائم .</li> <li>الفيه التي يحصل عليها المسلمون من العدو بقتال أو بدونه .</li> </ul> |
|--|--|

ما هي نفقات الدولة الإسلامية ؟

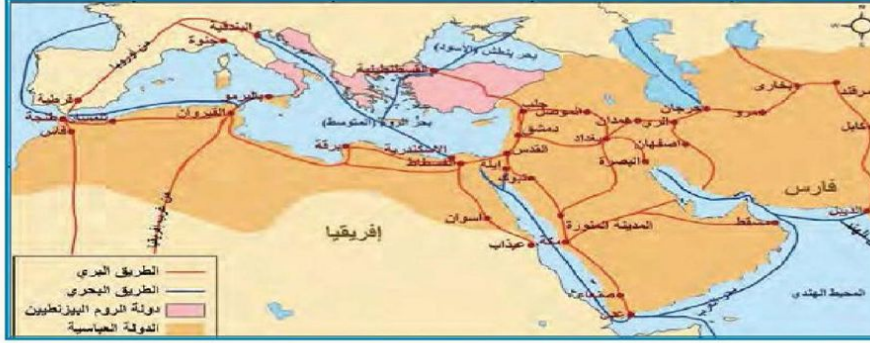
- دفع مرتبات المقاتلين ، والموظفين .
- رعاية الفقراء والمساكين .
- الإنفاق على الخدمات العامة .

أكتب المفهوم الدال لكل من :	
الموارد الاقتصادية	هي الأموال التي كانت تدخل إلى بيت مال المسلمين من مختلف الجهات ، وبدونه لن يكون هناك أي نشاط اقتصادي للدولة قائم عليه .
الزكاة	مبلغ من المال يُفرض على البالغين من المسلمين ؛ ليُرد إلى الفقراء ، وهي ركن من أركان الإسلام .
الخراج	هو المورد الرئيسي للدولة الإسلامية ويفرض على الأراضي الزراعية .
الغنيمة	هي الأموال التي كان يحصل عليها المسلمون من العدو بقتال ، ووصف في القرآن الكريم " الأنفال " .
الفيء	الأموال التي كان يحصل عليها المسلمون من العدو بدون قتال .
العشر	زكاة تساوي عُشر الإنتاج على بعض المحاصيل الزراعية كالقمح ، والزيتون .
العشور	ضريبة تُفرض على التجار اللذين يأتون للتجارة في الدولة الإسلامية .
الركاز	ضريبة تُفرض على كل من يستخرج من باطن الأرض من معادنها وغيرها .
الجزية	هي الأموال التي تؤخذ من أهل الذمة ( اليهود والنصارى ) مقابل حمايتهم ، ويعفى منها النساء ، و الرهبان ، و الأطفال ، وغير القادرين .

## الموارد النشاط التجاري في الدولة الإسلامية :

نشاط ( ٢ ) : نقرأ الآيات القرآنية الكريمة ، ونلاحظ الخريطة ، ونستنتج ، ثم نُجيب :

قال تعالى : " لِإِيلَافِ قُرَيْشٍ (١) إِيْلَافِهِمْ رِحْلَةَ الشِّتَاءِ وَالصَّيْفِ (٢) فَلْيَعْبُدُوا رَبَّ هَذَا الْبَيْتِ (٣) الَّذِي أَطْعَمَهُمْ مِنْ جُوعٍ وَآمَنَهُمْ مِنْ خَوْفٍ " قريش ١-؛



الطرق التجارية في الدولة العباسية

١. نحدد المناطق التي كان يتاجر فيها العرب قبل الإسلام .

العراق ، اليمن ، الحجاز ، بلاد الشام ، مصر ، شمال إفريقيا ، جنوب أوروبا .

٢. نُنتبِع طريقاً تجارياً بين شبه الجزيرة العربية وبلاد الشام .

الطريق البري بين المدينة المنورة ، وغزة ، والقدس ، ودمشق ، وبيروت .

أذكر سبب تطور التجارة الداخلية والخارجية في الدولة الإسلامية ؟

بسبب :

- اتساع الدولة الإسلامية .
- وفرة المحاصيل الزراعية والموارد الطبيعية .
- سيادة الأمن على الطرق التجارية .
- الرخاء المادي .
- إقبال الناس على استثمار أموالهم في التجارة .

فسّر كل مما يأتي :

انتشار الإسلام في عدد من مناطق العالم الإسلامي التي لم تصلها الفتوحات الإسلامية ؟

تحلي التجار المسلمون بالصدق و الأمانة في تعاملهم مع الآخرين .

إقبال الناس في مناطق العالم الإسلامي على تعلم اللغة العربية .

ليتمكنوا من قراءة القرآن الكريم ، وتعلم الدين الإسلامي ، والتعامل مع التجار المسلمين .

ما هي المناطق التي لم تصلها الفتوحات الإسلامية وانتشر فيها الإسلام ؟

إندونيسيا ، ماليزيا ، شرق إفريقيا ووسطها .



## تطور النظام النقدي في الدولة الإسلامية :

نشاط ( ٣ ) : نلاحظ الصورتين ، ثم نقوم بما يأتي :



١. نناقش أهمية تداول العملة في تسهيل التبادل التجاري .  
ساهم تداول العملة في تسهيل حركة الصادرات والواردات ، وتحقيق أرباح تجارية ، وتحديد سعر السلع حسب العرض والطلب ، وإعطاء الحرية في شراء المنتج الذي تحتاجه الدولة .
٢. نستنتج أهمية وجود عملة وطنية للدولة .  
تحرير الاقتصاد من التبعية الاقتصادية الأجنبية .  
تخليص العملة من الغش .
٣. نناقش ، لماذا لا يوجد عملة وطنية فلسطينية ؟  
بسبب الاحتلال الصهيوني للدولة الفلسطينية ، والتبعية الاقتصادية .

ما هي العملة التي كان يتعامل بها العرب في تجارتهم وتعاملاتهم المالية ؟  
الدينار البيزنطي ، الدرهم الفارسي .

من الذي قام بتعريب النقود ؟

الخليفة الأموي عبد الملك بن مروان .

من الدور الذي قام به الخليفة الأموي عبد الملك بن مروان لتعريب النقود ؟

١. أصدر عملة خاصة بالمسلمين .
٢. ضبط وزن وعيار العملة بسبب الغش الذي تتعرض له .
٣. النقش على النقود الإسلامية عبارات باللغة العربية بدلاً من البيزنطية والفارسية .

ما المقصود بتعريب النقود ؟

عملية إصدار عملة خاصة بالمسلمين والنقش عليها باللغة العربية بدل الفارسية والبيزنطية .

فسّر كل مما يأتي :

تعريب الدولة الإسلامية للنقود .

تحرير الاقتصاد الإسلامي من التبعية الاقتصادية الأجنبية ، ولما أصبحت تتعرض له من غش .

ما المقصود بناظر السكة ؟


هو منصب جديد أوجده الخليفة العباسي هارون الرشيد للإشراف على دور الضرب .

### ما النتيجة المترتبة على تعريب النقود ؟

١. تحرير الاقتصاد الإسلامي من التبعية الاقتصادية .
٢. تخليص العملة من الغش .
٣. ثقة الناس والتجار المحليين و الأجانب بالعملة الإسلامية ، والتعامل معها باطمئنان .

### أهم الحرف في الدولة الإسلامية :

نشاط ( ٤ ) : نقرأ النص ، و نلاحظ الصورة ، ثم نجيب عن الأسئلة التي تليها :



عمل المسلمون في الزراعة، والصناعة، والتجارة، فكان هناك عصر الزيتون وتجفيف الفواكه في بلاد الشام، والسكر في مصر، والأقمشة القطنية والكتانية، والسجاد، والحريز في العراق وإيران، والحدادة، والدباغة، والصيرفة، والقصابة في جميع أرجاء الدولة.

### ١. نصنف أنواع الصناعة في الدولة الإسلامية ؟

- عصر الزيتون ، تجفيف الفواكه في بلاد الشام .  
صناعة السكر في مصر .  
صناعة الأقمشة القطنية والكتانية والسجاد والحريز في العراق و إيران .  
الحدادة و الدباغة و الصيرفة و القصابة في أرجاء الدولة .

### ٢. نبيّن أهمية الصناعة للدولة .

- توفير فرص عمل ومحاربة البطالة .
- تنشيط الاقتصاد .
- زيادة الدخل اليومي .
- توفير المواد المصنعة من المواد الخام .

### ٣. نعطى أمثلة على صناعات وطنية امتازت بها فلسطين .

- صناعة الصابون .  
صناعة الحجر القدسي ، والرخام والزجاج .  
تعليب الفواكه .  
صناعة الملابس .  
صناعة البُسط .  
صناعة الأحذية .  
صناعة البسكويت والعصائر .

بم تفسّر :

قدوم أصحاب الحرف والصناعات من المناطق المجاورة للعالم الإسلامي؟

نقل خبرتهم الصناعية للدولة التي رعت الصناعات ، وأصحاب الحرف .  
توافر المواد الخام ، والأسواق ، وفرص العمل .

ما النتيجة المترتبة على :

١. الفتوحات الإسلامية ، و امتداد الدولة الإسلامية الكبير .

اختلاط العرب والمسلمين بأهل البلاد المفتوحة .  
قدوم أصحاب الحرف والصناعات من المناطق المجاورة للعالم الإسلامي .  
توافر المواد الخام النباتية والحيوانية والمعدنية .  
المساهمة في تنشيط الاقتصاد وتوافر الأسواق ، وفرص العمل .  
التسامح الإسلامي ، والحرية الدينية .

٢. توافر المواد الخام النباتية والحيوانية والمعدنية .

توفر الوضع الاقتصادي الحيض في الدولة الإسلامية .

٣. قدوم أصحاب الحرف والصناعات من المناطق المجاورة للعالم الإسلامي .

نقل خبراتهم للدولة الإسلامية .

٤. اختلاط العرب والمسلمين بأهل البلاد المفتوحة .

تنشيط الاقتصاد الإسلامي ، وتوافر فرص العمل .

ماذا استفاد المسلمون من الصناعات والحرف؟

تنشيط الاقتصاد ، وتوافر فرص العمل .



## أختبر نفسي


السؤال الأول : أفسر يأتي :

١. لجوء الدولة الإسلامية إلى فرض العشور على التجارة.  
لان الدول المجاورة لها ( الروم ) كانت تأخذ من التجار المسلمين ضرائب , فوجب العمل بالمثل.
٢. قيام الدولة الإسلامية بتعريب النقود.  
لما حدث من غش في العملة البيزنطية فعملت على ضبط وزنها و عيارها والنقش على النقود باللغة العربية.

السؤال الثاني : أعتبر بيت مال المسلمين أعظم مؤسسة مالية في الدولة الإسلامية , في ضوء ذلك:

١. أبين ثلاثة من وارداته.  
الفيء ، الغنائم ، الزكاة ، الخمس .
٢. أحدد اثنين من نفقاته.  
دفع نفقات الموظفين .  
الإففاق على الخدمات العامة .

السؤال الثالث : نفكر فيما تدل عليه العبارات الآتية في الكلمات المتقاطعة:



كل ما يحصل عليه المسلمون من غنائم أثناء فتوحاتهم الإسلامية.	الغنيمة
ضريبة كانت تؤخذ على كل ما يستخرج من باطن الأرض من معادن.	الركاز
مقدار من المال يفرض على المسلمين القادرين ليرد على فقرائهم.	الزكاة
ضريبة تؤخذ على بضائع التجار الغير مسلمين مقابل مرور تجارتهم داخل حدود الدولة الإسلامية .	العشور
ضريبة كانت تفرض على ما تنتجه الأرض الزراعية التي فتحها المسلمون أو أخذوها صلحاً ,وتقدر قيمتها حسب جودة الأرض الزراعية.	الخراج
مبلغ من المال يؤخذ من أهل الذمة ( اليهود والنصارى ) مقابل حمايتهم ويعفى منها النساء والرهبان والأطفال وغير القادرين.	الجزية

المجتمع المدني

الوحدة  
الثالثة



إذا أردت أن تصنع الناس، فاصنع المجتمع أولاً.

## المجتمع المدني :

نشاط ( ١ ) : نلاحظ الشكل الآتي ، ونستنتج ، ثمّ نقوم بما يأتي :



شكل (١): المجتمع المدنيّ

١. نقترح اسماً للتنظيمات التطوعية الحرّة ، وفق الخصائص المبينة في الشكل ؟  
المجتمع المدني .

٢. أذكر سمة واحدة من السمات الظاهرة في الشكل ، وناقشها .

لا تسعى لتحقيق الأرباح المالية .	غير ربحية
لا تتبع السلطة الحاكمة ، وتقع تحت إشراف المجتمع .	غير حكومية
لا تنظر إلى الاعتبارات الشخصية كاللون والجنس والدين .	تحتترم التنوع والاختلاف
مؤسسة لجميع أفراد المجتمع في المشاركة والهدف .	أساسها التعددية والمشاركة
التواصل مع أفراد المجتمع بما يفيد عن طريق التفاهم والحوار .	تقوم على الحوار في المجتمع
هدفها تحقيق المصلحة المجتمعية وليس المصلحة السياسية .	لا تسعى إلى الحكم

ما المقصود بكل من :

المجتمع المدني هو جميع الهيئات والمنظمات والمؤسسات التي تعمل في مجالات حياتية مختلفة في إطار مستقل عن الدولة و إشرافها المباشر .

ما هي أهداف المجتمع المدني ؟

١. تعزيز حقوق الإنسان .
٢. تعزيز الديمقراطية .
٣. تنمية المجتمع وتطوره .
٤. المشاركة السياسية والمجتمعية .
٥. تقديم الأنشطة والفعاليات .



ما هي مجالات عمل منظمات المجتمع المدني ؟

تعمل منظمات المجتمع المدني في مجالات اقتصادية ، وسياسية ، و اجتماعية ، و ثقافية .

ما الفئات التي تسعى مؤسسات المجتمع المدني لخدمتها؟

- ١ . المجتمع ككل .
- ٢ . الفئات المهمشة .
- ٣ . لصالح أفراد مهنة واحدة .

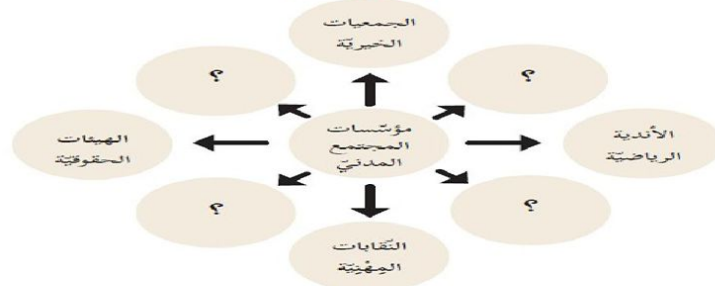
قضية بحثية:

باستخدام شبكة الإنترنت، نبحث عن تعريفات أخرى لمفهوم المجتمع المدني، ونقارنها بالمفهوم الذي ورد سابقاً.

يشير مصطلح المجتمع المدني إلى مجموعة واسعة النطاق من المنظمات غير الحكومية والمنظمات غير الربحية التي لها وجود في الحياة العامة، وتنهض بعبء التعبير عن اهتمامات وقيم أعضائها أو الآخرين، استناداً إلى اعتبارات أخلاقية، أو ثقافية أو سياسية أو علمية أو دينية أو خيرية .

## مؤسسات المجتمع المدني :

نشاط ( ٢ ) : نلاحظ الشكل الآتي ، ونستنتج ، ثم نقوم بما يأتي :



شكل (٢): مؤسسات المجتمع المدني

١. نكمل الشكل مكان علامة الاستفهام بأمثلة على مؤسسات المجتمع المدني ، ووفق سماتها التي وردت في النشاط الأول ؟

الأحزاب السياسية ، الاتحادات الطلابية ، الاتحادات النسائية ، النقابات العمالية .

٢. نكمل الجدول الآتي :

مؤسسات المجتمع المدني	أمثلة على مؤسسات المجتمع المدني
الجمعيات الخيرية	جمعية إنعاش الأسرة .
التقانات العمالية	نقابة عمال البناء .
التقانات المهنية	نقابة الأطباء .
الأحزاب والتنظيمات السياسية	حركة التحرير الوطني الفلسطيني ، حركة المقاومة الإسلامية .
الأندية الرياضية	مركز الشوا ، مركز هولست ، مركز جباليا الرياضي .
الهيئات الحقوقية	الهيئة المستقلة لحقوق الإنسان .
الاتحادات النسائية	الاتحاد العام للمرأة الفلسطينية .
مراكز الشباب ، والاتحادات الطلابية	الاتحاد العام لطلبة فلسطين .

### ما المقصود بمؤسسات المجتمع المدني؟

مجموعة من المنظمات والجمعيات ، والمؤسسات التي يقوم بإنشائها مجموعة من الأشخاص .

### ما هي مؤسسات المجتمع المدني؟

النقابات العمالية ، النقابات المهنية ، المنظمات غير الحكومية ، المنظمات الدينية ، منظمات حقوق الإنسان ، منظمات العمل الإنساني ، المنظمات الخيرية

### ما هي مميزات مؤسسات المجتمع المدني؟

1. وجود مجموعة من المنظمات والجمعيات والمؤسسات .
2. مستقلة عن القطاعين الحكومي والخاص .

### أذكر بعض الأمثلة على مؤسسات المجتمع المدني في فلسطين؟

1. جمعية الهلال الأحمر الفلسطيني .
2. جمعية إنعاش الأسرة .
3. نقابة العمال .
4. الهيئة المستقلة لحقوق الإنسان .
5. مؤسسة الحق من أجل القانون .
6. مؤسسة الإغاثة الطبية والزراعية .
7. الإتحاد العام للمعلمين .
8. الإتحاد العام للمرأة الفلسطينية .
9. الإتحاد العام للكتاب و الأدباء .
10. التنظيمات السياسية
11. النوادي الرياضية .

نشاط تطبيقي: ننظم زيارة إلى إحدى مؤسسات المجتمع المدني، ونتعرف إلى المهام، والمسؤوليات التي تقوم بها تجاه المجتمع.

#### جمعية الإغاثة الطبية الفلسطينية

##### الرسالة :

يسعى لتحسين الجسد بشكل عام والعقل و الرفاه الاجتماعي لجميع الفلسطينيين، بغض النظر عن العرق أو السياسة أو الأوضاع الاجتماعية أو الاقتصادية أو الدين أو الجنس.  
الخدمات الصحية الجيدة تركز على احتياجات أعضاء المجتمع الفلسطيني الأكثر ضعفا : النساء والأطفال وذوي الاحتياجات الخاصة والفقراء في القرى الريفية ومخيمات اللاجئين والمراكز الحضرية.

##### الأهداف:

يتمثل الهدف الأسمى للإغاثة الطبية في توفير الصحة النوعية للجميع، وذلك بالاعتماد على مبادئ الرعاية الصحية الأولية، ومشاركة المجتمعات المحلية وتمكينها لتقوم بدور فاعل في حل مشاكلها الصحية، والتأثير في السياسات الوطنية نحو تبني سياسات ونظم عمل تكفل تحقيق المساواة والعدالة الاجتماعية وتوفير الصحة النوعية للجميع.

## دور مؤسسات المجتمع المدني في تنمية المجتمع وتطويره :

نشاط ( ٣ ) : نقرأ النص الآتي ، ونستنتج ، ثم نجيب عن الأسئلة التي تله :

ترجع أهمية مؤسسات المجتمع المدني في تنمية المجتمع وتطويره، إلى تراجع دور الحكومات في تقديم الخدمات للمواطنين، وعدم قدرتها على تحقيق التنمية الشاملة للقطاعات كافة؛ بسبب تطور الأوضاع السياسية والاقتصادية، حيث أصبح من الضروري أن يكون هناك جانب مشارك للدولة، يتحمل جزءاً من الأعباء التي كانت موكلةً إليها، فجاء دور المجتمع ليكمل دور الحكومات، وأحياناً يكون موازياً لها في تقديم الخدمات للمواطنين، والمشاركة في عمليات التنمية، وخاصة للفئات، والمناطق المهمشة.

١. ناقش الدور الذي تقوم به مؤسسات المجتمع المدني في تقديم الخدمات للمواطنين في المجالات التعليمية والصحية والزراعية .

- في المجالات التعليمية :
  ١. إنشاء المدارس والجامعات ودور الحضنة .
  ٢. تنفيذ مشاريع تربية .
- في المجالات الصحية :
  ١. فتح العيادات المتنقلة والطبية والمستشفيات .
  ٢. نشر الوعي للوقاية من الأمراض .
- في المجالات الزراعية :
  ١. إمداد المزارعين بالمستلزمات الزراعية .
  ٢. نشر الوعي في المجال الزراعي .

٢. نختار إحدى المناطق المهمشة القريبة من منطقتنا ، ونبين الخدمات التي تقدمها مؤسسات المجتمع المدني للمواطنين فيها .

### جمعية التنمية الزراعية :

مؤسسة وطنية تنموية تعمل لتنمية القطاع الزراعي وتعزيز صمود المزارعين والوصول إلى الفئات الفقيرة والمهمشة وأطرها ، وحشد وتطوير طاقات سكان الريف لتمكينهم من السيطرة على مصادرهم، وذلك من خلال طاقم متميز ومتطوعين منتمين لمجتمعهم في إطار برامج ريادية وممارسات إدارية وفنية وعصرية وشفافة، لبناء مجتمع فلسطيني حر وديمقراطي تسوده قيم العدالة الاجتماعية .

الأهداف :

١. المساهمة في بناء نماذج تنموية مستدامة في المجال الزراعي.
٢. مساعدة المزارعين في التحول إلى الإنتاج باستخدام الممارسات الزراعية الفضلى.
٣. مساعدة المزارعين في الوصول إلى التراخيص التي تؤهلهم من الوصول إلى الأسواق مثل (NOP ، G.G).
٤. المساهمة في تطوير المعايير الخاصة بالمنتج الزراعي الفلسطيني، بالتعاون مع الجهات المختصة.
٥. زيادة وتعزيز استخدام التكنولوجيا في القطاع الزراعي، مع الحفاظ على استدامته.
٦. المساهمة في تأسيس وتطوير المركز الفلسطيني للزراعة العضوية.
٧. المساهمة في بناء نماذج تنموية مستدامة في المجال الزراعي.
٨. رفع إنتاجية وجودة الوحدات الزراعية.
٩. توظيف التكنولوجيا والممارسات البيئية المستدامة وتوظيفها في خدمة القطاع الزراعي.



ما هو سبب ظهور مؤسسات المجتمع المدني ؟

- تراجع الحكومات في تقديم الخدمات للمواطنين .
- عدم قدرة الحكومات على تحقيق التنمية الشاملة للقطاعات كافة .
- تطور الأوضاع السياسية والاقتصادية جعل من الضرورة وجود هذه المؤسسات تتحمل جزء من الأعباء التي كانت تتحملها الحكومة .

بمّ تفسّر : تراجع الحكومات في تقديم الخدمات للمواطنين ، وعدم قدرتها على تحقيق التنمية الشاملة للقطاعات كافة .

بسبب تطور الأوضاع السياسية والاقتصادية .

ما النتيجة المترتبة على:

وجود منظمات المجتمع المدني في الدولة .

لمؤسسات المجتمع المدني دور مكمل لدور الحكومة ، و أحيانا موازياً لها في تقديم الخدمات للمواطنين ، والمشاركة في عمليات التنمية للفئات والمناطق المهمشة .

مؤسسات المجتمع المدني شريك حقيقي في التنمية الاجتماعية ، والاقتصادية ، والثقافية والسياسية .

جعلها مرشحة لتحل دوراً بارزاً في العملية التنموية .

ما دور مؤسسات المجتمع المدني في تنمية المجتمع وتطوره ؟

- 1 . تقديم الخدمات الاجتماعية للمواطنين في المجالات التعليمية .
- 2 . رعاية الشباب الفلسطيني من الجنسين .
- 3 . الاهتمام بقضايا المرأة ، والأشخاص ذوي الإعاقة ، والأطفال .
- 4 . تعزيز مفاهيم التعددية ، والتسامح ، وقبول الاختلاف .

ناقش الدور الذي تقوم به المؤسسات المدنية في تقديم الخدمات في المجالات الآتية :

التعليمية	فتح رياض الأطفال ، و دور الحضانة ، و المدارس ، والجامعات . تنفيذ برامج ومشاريع تنموية .
الصحية	حملات التطعيم ، وتوفير الأدوية ، فتح العيادات الطبية والمستشفيات .
الزراعية	إمداد المزارعين بالأدوات الزراعية الحديثة . شق الطرق الزراعية .
مكافحة الفقر	تقديم مشاريع صغيرة للأسر الفقيرة والمهمشة .

بين دور مؤسسات المجتمع المدني تجاه رعاية الشباب الفلسطيني من الجنسين ؟

- 1 . توعيتهم على حقوقهم .
- 2 . الحفاظ على هويتهم الوطنية .
- 3 . نشر ثقافة التطوع لخدمة المجتمع .
- 4 . تعزيز القيم الاجتماعية الإيجابية .

بين دور مؤسسات المجتمع المدني تجاه ذوي الإعاقة و الأطفال ؟

١. تأهيل الأطفال ، وتدريبهم على القيادة .
٢. مساعدة الأشخاص ذوي الإعاقة على الاندماج في مجتمعاتهم.
٣. تامين الحاجات الأساسية لهم ، وتعليمهم وتدريبهم .
٤. إيجاد فرص عمل تتناسب مع قدراتهم.

بين دور مؤسسات المجتمع المدني تجاه الاهتمام بقضايا المرأة ؟

تقديم البرامج والمشاريع التي تدعم المرأة ، وتمكنها في مجالات الحياة العامة .

بين دور مؤسسات المجتمع المدني في تعزيز مفاهيم التعددية والتسامح وقبول الاختلاف ؟

إذ ينتمي لهذه المؤسسات أعضاء عديدون ، بغض النظر عن الديانة أو الثقافة أو العرق أو اللغة أو الوضع الاجتماعي أو الاقتصادي أو الإعاقة ، بالإضافة مساعدة جميع البشر دون تمييز .

فسّر سبب ضرورة الحفاظ على الهوية الوطنية .

لمواجهة سياسة التثوية والتزوير التي يمارسها الاحتلال الصهيوني .

قضية للنقاش:

ما التحديات والصعوبات التي تواجه مؤسسات المجتمع المدني في فلسطين ؟

١. الهجمات والانتهاكات التي ترتكبها سلطات الاحتلال الإسرائيلي بحق الجمعيات الأهلية والعاملين فيها.
٢. الضغوط المتواصلة على المانحين لوقف تمويل المؤسسات الفلسطينية .
٣. صعوبة الحصول على تراخيص مؤسسات المجتمع المدني .

أختبر نفسي

السؤال الأول : اختر رمز الإجابة الصحيحة فيما يأتي :

١. أي من هذه المؤسسات تُعدّ من المنظمات الحكومية في فلسطين؟؟

أ	هيئة مقاومة الجدار والاستيطان .	ب	النادي الأرثوذكسي .
ج	لجان أموال الزكاة .	د	بيوت المسنين .

٢. ما واجب الدولة تجاه مؤسسات المجتمع المدني ؟

أ	معارضتها ، ومواجهتها .	ب	رعايتها ، وتسهيل عملها .
ج	وضعها تحت الرقابة الأمنية .	د	تركها تعمل كما يحلو لها .

٣. أي هذه المؤسسات تُعدّ من مكونات المجتمع المدني ؟

أ	جامعة فلسطين التقنية ( خضوري )	ب	وزارة الشؤون الاجتماعية .
ج	جمعية دار اليتيم العربي .	د	مركز تطوير المناهج .

السؤال الثاني : أصنّف المؤسسات الآتية إلى مؤسسات حكومية ، و أخرى غير حكومية ، وفق الجدول أدناه :

مدرسة الشهداء الثانوية ، غرفة تجارة غزة ، وصناعتها ، نقابة صيادي الأسماك ، الإتحاد العام للكُتاب والأدباء الفلسطينيين ، الأحزاب السياسية ، وزارة التربية والتعليم ، الهيئة العامة للبتترول ، نادي الأسير ، بلدية الخليل ، هيئة تسوية الأراضي .

مؤسسات حكومية	مؤسسات غير حكومية
وزارة التربية والتعليم الهيئة العامة للبتترول هيئة تسوية الأراضي	مدرسة الشهداء الثانوية غرفة تجارة غزة ، وصناعتها نقابة صيادي الأسماك الإتحاد العام للكُتاب والأدباء الفلسطينيين الأحزاب السياسية نادي الأسير بلدية الخليل

السؤال الثالث : أوضّح المقصود بالمجتمع المدني ؟

هو جميع الهيئات والمنظمات والمؤسسات التي تعمل في مجالات حياتية مختلفة في إطار مستقل عن الدولة و إشرافها المباشر .

السؤال الرابع : استنتج أبرز سمات المجتمع المدني ؟

1. منظمات طوعية ، وغير ربحية .
2. تعمل لصالح المجتمع ككل أو لبعض فئاته المهمشة ، أو لصالح أفراد مهنة واحدة.
3. المشاركة السياسية والمجتمعية .

السؤال الخامس : أبين دور مؤسسات المجتمع المدني في فلسطين في المجالات التعليمية والصحية والزراعية ؟

- في المجالات التعليمية :
  1. إنشاء المدارس والجامعات ودور الحضارة .
  2. تنفيذ مشاريع تربية وتعليمية ، ومسابقات ثقافية .
- في المجالات الصحية :
  1. فتح العيادات المتنقلة والطبية والمستشفيات .
  2. نشر الوعي للوقاية من الأمراض .
- في المجالات الزراعية :
  1. إمداد المزارعين بالمستلزمات الزراعية .
  2. شق الطرق الزراعية .
  3. نشر الوعي في المجال الزراعي .
  4. تقديم المساعدات الاجتماعية لبعض الأسر الفقيرة .

السؤال السادس : بم تفسّر كثرة مؤسسات المجتمع المدني في دولة ما ؟

تراجع دور الحكومة في تقديم الخدمات للمواطنين ، وعدم قدرتها على تحقيق التنمية الشاملة للقطاعات كافة بسبب تطور الأوضاع السياسية والاقتصادية .



**السؤال السابع : أكتب فقرة ، أبين فيها دور الاحتلال الصهيوني في إعاقة تطور المجتمع المدني في فلسطين ؟**

- حرمان الشعب الفلسطيني في ممارسة تقرير المصير .
- فرض السيطرة على الضفة الغربية وعزلها عن قطاع غزة وعزل مدينة القدس وفرض الحصار الداخلي والخارجية .
- إعاقة تنقل وصول منظمات المجتمع المدني ، وقصفها وتدميرها .
- فرض رقابة شديدة على تمويل منظمات المجتمع المدني الفلسطيني .
- تقطيع أواصر الترابط بين محافظات الوطن، مما أضعف من الخدمات المقدمة للمجتمع .
- السيطرة على المعابر والحدود مكنته من السيطرة على حركة التجارة الفلسطينية والأفراد .
- بناء جدار الضم العنصري الذي التهم الأرض الفلسطينية ومقدراتها .
- الإغلاق الشامل للمدن والقرى الفلسطينية .

مفهوم القيم المدنية :

نشاط ( ١ ) : نلاحظ الصور الآتية ، ونستنتج ، ثم نقوم بما يأتي :



١. نناقش مدلولات الصور في النشاط ؟

٢. نذكر القيم التي تدل عليها كل صورة .

الرابعة	الثالثة	الثانية	الأولى	الصورة
معاناة الأسرى	المبادرة والتعاون	المساواة بين الرجل و المرأة	المشاركة السياسية	مدلولات الصورة
الحرية	العمل التطوعي	العدل	الانتخابات	القيمة التي تدل عليها

ما المقصود بالقيمة ؟

لغويًا : الاستقامة والاعتدال .  
اصطلاحًا : مجموعة المعايير ، والمبادئ التي نحكم من خلالها على السلوك المرغوب وغير المرغوب للأفراد .

أذكر بعض القيم المشتركة بين القيم للمجتمعات ؟

- الكرامة الإنسانية .
- الحرية .
- العدالة ، والمساواة .
- التضامن .

ما أهمية تطبيق القيم و الالتزام بها ؟

- حفظ حقوق المواطنين .
- ترسيخ العدالة الاجتماعية .
- تقوية الروابط المجتمعية .
- إشاعة السلم الأهلي .
- تحقيق الأمن والاستقرار .
- تعزيز المساواة بين الناس .

أضع إشارة ( ✓ ) أمام العبارة الصحيحة, وإشارة ( X ) أمام العبارة الغير صحيحة:

✓	تختلف القيم من مجتمع لآخر .	١-
✓	بالرغم من وجود كونية ( عالمية ) مشتركة بين القيم ، إلا أنه قد يتفاوت تطبيقها من مجتمع لآخر .	٢-
✓	تكمُن أهمية القيم في تطبيقها والالتزام بها في حفظ حقوق المواطنين .	٣-
X	تعمل القيم على تفكيك المجتمعات وتضعف الروابط المجتمعية .	٤-
✓	أقيم المجتمعية تعزز المساواة بين الناس بغض النظر عن الجنس ، أو الدين ، أو العرق ، أو الوضع الاقتصادي ، أو الاجتماعي ، أو الإعاقة .	٥-

### قيم المجتمع المدني :

نشاط ( ٢ ) : نكتب عكس القيم الموجودة في الجدول الآتي ، ونستنتج الآثار السلبية لغياب ممارسة هذه القيم في المجتمع :

الآثار السلبية لغياب ممارستها في المجتمع	عكسها	القيمة
ضعف الروابط بين أفراد المجتمع .	الصراع	التعاون
الظلم والقهر والذل .	التقييد .	الحرية
القمع والاستبداد بالسلطة .	الديكتاتورية .	الديمقراطية
انتشار النزاعات والصراعات بالعنف .	التعصب .	التسامح
انتشار الوساطة والمحسوبية .	المصلحة الخاصة .	المصلحة العامة
الفشل وعدم الاعتماد على النفس .	الإهمال و اللامبالاة .	الشعور بالمسؤولية
حرمان المجتمع من خدمات مؤسسات المجتمع المدني .	العمل الجبري .	العمل التطوعي
الحرمان من تنمية وتطوير المجتمع .	العمل الفردي .	المشاركة المجتمعية
انتشار الفوضى والجريمة والعنف ، وانعدام الشعور بالأمان	الانفلات المجتمعي و الأمني .	سيادة القانون
انتشار الفساد في مؤسسات الدولة .	التزوير .	الشفافية

### ما ابرز قيم المجتمع المدني ؟

تتنوع قيم المجتمع المدني ، وتتكامل ، وهي شاملة لمختلف نواحي الحياة ، ومن أبرزها :

- ١ . القيم الوطنية .
- ٢ . القيم السياسية .
- ٣ . القيم الاجتماعية .
- ٤ . القيم الاقتصادية .
- ٥ . القيم الثقافية .
- ٦ . القيم الدينية .




صنف قيم المجتمع المدني بحسب مدلولاتها في الجدول فيما يأتي :	
(القيم الثقافية ، القيم السياسية ، القيم الدينية ، القيم الاقتصادية ، القيم الاجتماعية ، القيم الوطنية)	
القيم الوطنية	حب الوطن ، التضحية ، النضال في سبيل حريته وتطوره ، الدفاع عن الوطن .
القيم السياسية	الحرية ، الديمقراطية ، سيادة القانون ، العدالة والمساواة ، المساواة ، احترام الرأي والرأي الآخر .
القيم الاجتماعية	احترام الكرامة الإنسانية ، التسامح ، التكافل الاجتماعي ، الاهتمام بالتعليم ، الصدق ، الإخلاص ، الأمانة ، التعاون ، الإيثار .
القيم الاقتصادية	العدالة في توزيع الثروات ، عدم الإسراف ، احترام العمل وفق القانون ، احترام الوقت ، تقدير العمل اليدوي ، تحريم الغش في المعاملات التجارية ، تعزيز النزاهة ، محاربة الفساد بجميع أشكاله .
القيم الثقافية	اهتمام الفرد بالثقافة و الأدب والفن ، والبحث والقراءة ، اعتماد الحوار كوسيلة للتفاهم ، استخدام البحث العلمي في تطوير جوانب الحياة .
القيم الدينية	قيم مستمدة من الدين وخاصة العقيدة وعلى رأسها الإيمان بالله ، العدل ، المساواة ، احترام حقوق الإنسان ، التسامح ، نبذ العنصرية والتطرف .

نناقش : دور الأسرة والمدرسة في تعزيز ممارسة القيم المدنية في المجتمع.	
دور المدرسة	تقديم المواد والبرامج المختلفة ، والنشطة المتنوعة التي تعزز القيم الأخلاقية ، وترسيخها وتثبيتها في نفوس الطلاب .
دور الأسرة	تربية الأطفال على أداء واجباتهم ، والتمسك بحقوقهم ، وغرس القيم الحميدة ، وتقديم النصح والإرشاد .

## الحرية والعدالة من قيم المجتمع المدني :

نشاط ( ٣ ) : نلاحظ الشكلين ، ثم نجيب عن الأسئلة التي تليهما :



شكل (٢)



شكل (١)

١. نستنتج دلالة الصورة في الشكل ( ١ ) ، ثم نقترح مفهوماً مناسباً لها ؟  
الناس سواسية ولا فرق بينهم سواء من حيث الجنس ، أو الدين أو العرق أو الوضع الاجتماعي والاقتصادي أو الإعاقة .

المفهوم المناسب للصورة : العدالة .

٢. نناقش العبارة المكتوبة في صورة الشكل ( ٢ ) ، وما الذي يمكن استنتاجه منها ؟  
الحرية حق إنساني وهبها الله لعباده ، ولا يحق لأحد استعباد أو تقييد أو حرمان أحد منها .

٣. نبيّن أهمية تطبيق قيم الحرية والعدالة في المجتمع ؟

أهمية تطبيق قيم الحرية : تطوير طاقات المجتمع وتنظيم الحياة الاجتماعية .  
أهمية تطبيق قيم العدالة : تحقيق المساواة ، وإزالة الظلم ، ونشر الأمن و الأمان ، والمحبة بين أفراد المجتمع ، والشعور بالرضا .

### قضية بحثية:

نبحث عن الحادثة التي قيلت فيها العبارة المكتوبة في الشكل ( ٢ ) ، " متى استعبدتم الناس وقد ولدتهم أمهاتهم أحراراً ؟ "

تعود تلك المقولة الشهيرة للحادثة التاريخية التي وقعت في سياق للخيل حيث كان يقوم به ويُشارك فيه محمد بن عمرو بن العاص وقد شاركه السباق ذلك الشاب القبطي ، وعندما انتهت جولة السباق وتجاذبا الحديث حول أيهما الفائز فاشتاط محمد بن عمرو غضباً وضربه بالسوط وهو يقول : خذها وأنا ابن الأكرمين ، خذها وأنا ابن الأكرمين مردداً ذلك مرتين .  
وحينما علم أبوه بالتطاول و الاعتداء عليه فسافر بصحبته من مصر قاصداً المدينة المنورة لأنّ فيها خليفة لا تُضيع عنده الحقوق ويُستجار عنده الخائف واللهفان وقد سارت بقصص عدله الركبان ، فشكى الرجل القبطي إلى عمر الفاروق ما فعله ابن عمرو بن العاص فاستدعاه مع أبيه والذي كان والياً على مصر ، وعندما قدما وتحقق من ثبوت الاعتداء وقد شاهد الابن وهو لاندُ خلف أبيه فقال عمر : أين الولد المصري ؟ فقال : هأنذا ، فقال عمر : دونك الدرة واضرب ابن الأكرمين ، وكررها ثلاثاً فضرب الولد محمد بن عمرو بن العاص حتى أوجعه ، ولم يكتف عمر بن الخطاب بهذا الحكم بل قال له : ضعها على صلعة عمرو بن العاص !! فوالله ما ضربك إلا بفضل سلطان أبيه ، فقال الولد : يا أمير المؤمنين لقد ضربت من ضربني فقال عمر : أما والله لو ضربته ما حلنا بينك وبينه ثم التفت عمر بن الخطاب إلى عمرو بن العاص وقال له : عبارته الشهيرة أيا عمرو! ( متى استعبدتم الناس وقد ولدتهم أمهاتهم أحراراً ؟ ) بعدها التفت إلى المصري وقال له وكأنه يُطمئنه : انصرف راشداً فإن رابك ريب فاكتب إليّ.

ما المقصود بكل مما يأتي :	
الحرية	هي الحالة التي لا يخضع فيها الإنسان لقهر أو قيد ، ويكون اختياره ، وتصرفاته طبقاً لإرادته ، بشرط عدم الاعتداء على حريات الآخرين .
العدالة	مفهوم واسع تنادي به جميع الشعوب ، وتطمح لتحقيقه ، نظراً لأهميته في إيجاد نوع من المساواة بين مختلف فئات الشعب .

ما أهمية قيمة الحرية للفرد والمجتمع ؟	
<ol style="list-style-type: none"> <li>١ . ممارسة الفرد لقدراته ، وتطوير طاقاته ، ومهاراته .</li> <li>٢ . مشاركة الشعب في صياغة القوانين ، والتشريعات .</li> <li>٣ . زيادة الإحساس بالمسؤولية لدى الفرد والمجتمع .</li> </ol>	

ما أهمية قيمة العدالة في الفرد ؟	
<ol style="list-style-type: none"> <li>١ . الإيمان بأن جميع الناس سواسية لا تمييز بينهم .</li> <li>٢ . لكل شخص حقوق وواجبات يجب أن يلتزم بها .</li> </ol>	

ما النتائج المترتبة على : تطبيق قيمة العدالة في المجتمع ؟	
<ol style="list-style-type: none"> <li>١ . تحقيق المساواة ، والعدالة بين أفراد المجتمع .</li> <li>٢ . تحقيق الأمن و الأمان دون الشعور بالخوف من الظلم .</li> <li>٣ . نشر المحبة و الألفة بين جميع أفراد المجتمع .</li> </ol>	

علل : تنادي جميع الشعوب بتحقيق العدالة .	
لأهميتها في إيجاد نوع من المساواة في الحقوق والواجبات بين مختلف فئات الشعب .	

أضع إشارة ( ✓ ) أمام العبارة الصحيحة، وإشارة ( X ) أمام العبارة الغير صحيحة:

✓	الحرية حق من حقوق الإنسان ، فليس لأحد الحق في حرمان آخر منها .	-١
✓	يحق للشعب المشاركة في صناعة القوانين والتشريعات .	-٢
✓	لكل شخص حق التمتع بمجموعة من الحقوق ، كما أن عليهم مسؤوليات يجب أن يلتزم بأدائها .	-٣



## أختبر نفسي

السؤال الأول : اختر رمز الإجابة الصحيحة فيما يأتي :

١. ما القيمة التي تُعبّر عن تخلي الإنسان عن مصالحه الشخصية من أجل الآخرين ؟					
أ	الصدق .	ب	التعاون .	ج	الإيثار .
د	الحياء .				

٢. ما التصنيف الذي يُطلق على قيمة حب الوطن ، والتضحية في سبيله ؟					
أ	القيم الاقتصادية .	ب	القيم السياسية .	ج	القيم الوطنية .
د	القيم الجمالية .				

٣. أي من الآتي تُعد من القيم السياسية ؟					
أ	سيادة القانون .	ب	الإصلاح بين الناس .	ج	العدالة في توزيع الثروات .
د	نُبذ العنصرية ، والتطرف .				

السؤال الثاني : أوضّح المقصود بالآتي :	
القيم	مجموعة المعايير ، والمبادئ التي تحكم من خلالها على السلوك المرغوب وغير المرغوب للأفراد .
القيم المدنية	جزء من المنظومة القيمية التي يعتمدها المواطن في علاقته مع الناس والدولة ، وهي في هذا السياق قيم واتجاهات حاكمة للمواطنة كسلوك داخل المجتمع المدني .
الحرية	هي الحالة التي لا يخضع فيها الإنسان لقهر أو قيد ، ويكون اختياره ، وتصرفاته طبقاً لإرادته ، بشرط عدم الاعتداء على حريات الآخرين .
العدالة	مفهوم واسع تنادي به جميع الشعوب ، وتطمح لتحقيقه ، نظراً لأهميته في إيجاد نوع من المساواة بين مختلف فئات الشعب .

السؤال الثالث : أعطي مثلاً على كل من :	
القيم الدينية	المساواة ، احترام حقوق الإنسان ، التسامح ، نبذ العنصرية والتطرف .
القيم الاجتماعية	احترام الكرامة الإنسانية ، التسامح ، التكافل الاجتماعي ، الاهتمام بالتعليم ، الصدق ، الإخلاص ، الأمانة ، التعاون ، الإيثار .
القيم الاقتصادية	العدالة في توزيع الثروات ، عدم الإسراف ، احترام العمل وفق القانون .

السؤال الرابع : أوضّح أهمية ممارسة قيم الحرية والعدالة ، والتسامح ، والنزاهة في المجتمع ؟	
ممارسة قيم الحرية في المجتمع	إيجاد نوع من المساواة بين مختلف فئات الشعب الواحد ، و أن جميع الناس سواسية ، لا تمييز بينهم .
ممارسة قيم العدالة في المجتمع	تنظيم الحياة الاجتماعية ، إيجاد تجانس بين فئات المجتمع لتحقيق السعادة ، إزالة الظلم ، مساهمة الشعب في صياغة القوانين والتشريعات .
ممارسة قيم التسامح في المجتمع	تقبل الآخرين بالرغم من وجود اختلاف في العرق أو اللون أو الدين .
ممارسة قيم النزاهة في المجتمع	تحقق الاستقامة في الحياة والسالمة للمجتمع بشكل عام . حماية البلاد ومؤسساته من آفة الفساد . تحقيق الأمن الاقتصادي والاجتماعي . تعزز ثقة المواطن بالمؤسسات الوطنية .

السؤال الخامس : استنتج أهمية محاربة الفساد .	
وضع الرجل المناسب في المكان المناسب ، والعمل تحت شعار " من أين لك هذا " . تعيين القيادات الشابة النشيطة المؤمنة بالتطوير والتغيير .	

اللهم مع تمنياتكم بالتوفيق والنجاح