

مدرسة ذكور هاشم الابتدائية (ب) للاجئين

مراجعة في مبحث الدراسات الاجتماعية

الصف الخامس

الفصل الأول

إعداد المعلمة: هالة سعيد المغني

تحت إشراف

المديرة المساعدة: نهلة زقوت

مدير المدرسة: محمد سالم

متابعة

المختص التربوي: فريد أحمد

العام الدراسي

٢٠٢٢/٢٠٢١

الدرس الأول شكل الأرض وحركاتها

أولا : اختر الإجابة الصحيحة مما بين القوسين :

- ١ - من المحاصيل الصيفية في فلسطين
 - ٢ - تتعامد الشمس في فصل الربيع على
 - ٣ - الكوكب الذي يطلق عليه كوكب الحياه
 - ٤ - تتخذ الأرض الشكل
 - ٥ - ينتج عن دوران الأرض حول نفسها
 - ٦ - تدور جميع كواكب المجموعة الشمسية حول
 - ٧ - تتم الأرض دورة كاملة حول الشمس كل
 - ٨ - من شهور فصل الخريف
- (البرتقال - الملفوف - **العنب**)
(**خط الاستواء** - مدار السرطان - مدار الجدي)
(**الأرض** - المريخ - المشتري)
(المثلث - **الكروي** - المربع)
(الفصول الأربعة - **الليل والنهار** - كسوف الشمس)
(**الشمس** - الأرض - القمر)
(٣٥٦ يوم - **٣٦٥ يوم** - ٣٣٦ يوم)
(**أيلول** - أذار - اب)

السؤال الثاني : ضع علامة (√) أو (×)

- ١ - عدد فصول السنة أربع فصول (√)
- ٢ - تتنوع المحاصيل الزراعية في فلسطين (√)
- ٣ - ضيق التنفس وأمراض الجهاز التنفسي من الأمراض التي تنتشر في فصل الصيف (×)
- ٤ - تتم الأرض دورة كاملة كل ١٢ ساعة (×)
- ٥ - الملفوف من المحاصيل الشتوية في فلسطين (√)

السؤال الثالث : صوب ما تحته خط :

- ١ - يحتل كوكب عطارد المرتبة الثالثة من كواكب المجموعة الشمسية
 - ٢ - تتعامد الشمس على مدار الجدي صيفا في النصف الشمالي من الكرة الأرضية
 - ٣ - تدور الأرض حول نفسها في مدار متحرك
- [.....**الاولي**.....]
[.....**السرطان**.....]
[.....**ثابت**.....]

السؤال الرابع : أجب عن الأسئلة التالية :

أولا : بم تفسر :

- ١ - تتنوع المحاصيل الزراعية في فلسطين :
بسبب تنوع المناخ وتنوع أشكال سطح الأرض وتنوع التربة
- ٢ - تعاقب الفصول الأربعة :
بسبب دوران الأرض حول الشمس

ثانيا: ما هي النتيجة المترتبة على :

- ١ - دوران الأرض حول نفسها :
أدى الى تعاقب الليل والنهار
- ٢ - اعتدال درجة حرارة كوكب الأرض :
أصبحت الكوكب الوحيد الملائم للحياة ويعيش عليه الانسان

الدرس الثاني سطح الأرض

اختر الإجابة الصحيحة مما بين القوسين :

- ١ - أكبر قارات العالم مساحة
 - ٢ - أعلى القمم الجبلية في فلسطين
 - ٣ - تبلغ نسبة اليابسة من الكرة الأرضية
 - ٤ - تقع فلسطين في الجزء من قارة اسيا
 - ٥ - أصغر قارات العالم مساحة
 - ٦ - تبلغ مساحة فلسطين
 - ٧ - تتخذ هضبة النقب الشكل
 - ٨ - أكبر المحيطات مساحة
- (أسيا - أفريقيا - أوروبا)
(عيبال - الجرمق - القدس)
(٤٩٪ - ٢٩٪ - ٣٦٪)
(الجنوبي الغربي - الشمالي الغربي - الجنوبي الشرقي)
(أمريكا الشمالية - أوقيانوسيا - أنتركتিকা)
(٣٧,٢٧ كم - ٣٨,٢٧ كم - ٢٧,٠٢٧ كم)
(الدائري - المثلث - البيضاوي)
(المحيط الهادي - المحيط الأطلسي - المحيط المتجمد الشمالي)

السؤال الثاني : ضع علامة: (✓) أو (×)

- ١ - يبلغ عدد قارات العالم سبع قارات (✓)
- ٢ - يعتبر نهر النيل من أطول أنهار العالم (✓)
- ٣ - يزداد تركيز المياه في النصف الشمالي من الكرة الأرضية (×)
- ٤ - تبلغ نسبة الماء على سطح الكرة الأرضية ٧١٪ (✓)
- ٥ - تشكل هضبة النقب نصف مساحة فلسطين (✓)
- ٦ - لبنان من الدول التي تجاور فلسطين من جهة الشرق (×)

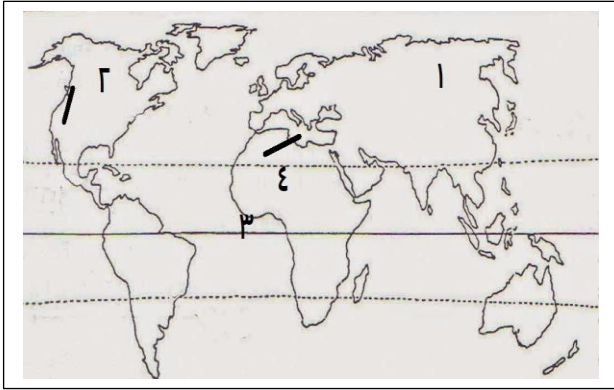
السؤال الثالث : اكتب ما تدل عليه العبارات التالية :

- ١ - [.....المحيط...] مسطحات مائية واسعة تحيط بالكرة الأرضية
- ٢ - [.....الأنهار...] مجاري مائية عذبة تنحدر من المناطق المرتفعة لتصب في بحر أو محيط
- ٣ - [.....الخليج...] جزء من مياه البحر أو المحيط تمتد داخل اليابسة
- ٤ - [.....القارة...] كتلة كبيرة من اليابسة تحتوي على تضاريس متنوعة
- ٥ - [.....الجبال...] مناطق مرتفعة لها قمم بارزة وجوانب منحدره
- ٦ - [.....الهضبة...] أرضي مرتفعة عما حولها سطحها منبسط
- ٧ - [.....السهول...] أرضي واسعة منبسطة
- ٨ - [.....الأودية...] مناطق منخفضة وضيقة محصورة بين جبلين
- ٩ - [.....الأغوار...] ظاهرة تضاريسية نادرة وهي أخفض بقاع الأرض
- ١٠ - [سهل مرج بن عامر...] من أنواع السهول المحصورة بين الجبال

السؤال الرابع : أجب عن الأسئلة التالية :

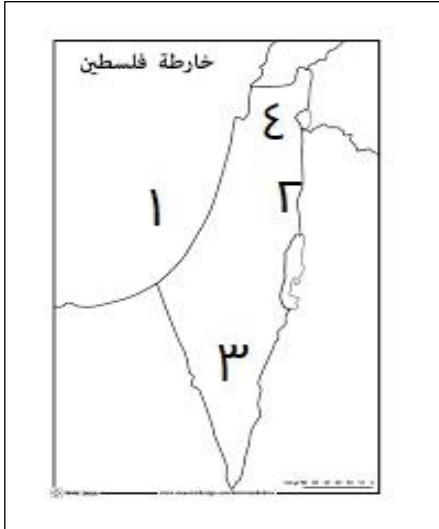
أولا : بم تفسر :

- ١ - تركيز معظم سكان العالم في نصف الكرة الشمالي :
بسبب تركيز معظم قارات العالم في النصف الشمالي
- ثانيا : ما هي النتيجة المترتبة على :
١ - تركيز المياه في نصف الكرة الجنوبي :
أدى الى تركيز السكان في النصف الشمالي من قارات العالم



- السؤال الخامس: اختر ما تشير اليه الأرقام التالية**
- ١ - قارة (أسيا - أفريقيا - أوروبا)
 - ٢ - جبال (الهملايا - روكي - الانديز)
 - ٣ - مدار السرطان - خط الاستواء - مدار الجدي)
 - ٤ - البحر المتوسط - الأحمر - بحر العرب)

السؤال السادس: تأمل خريطة فلسطين ثم أجب عن الأسئلة التي تليها :



- ١ - البحر:.....الأبيض المتوسط.....
- ٢ - نهر.....الأردن.....
- ٣ - هضبة.....النقب.....
- ٤ - أعلى جبل في فلسطين.....الجرمق.....

الدرس الثالث

مقومات الحياه على الأرض

- (الشمس - النفط - الهواء)
 (التربة - الشمس - الماء)
 (الشمس - الماء - الهواء)
 (التربة - الهواء - الماء)
 (الهواء - الماء - التربة)

السؤال الأول: اختر الإجابة الصحيحة

- ١ - من الموارد الطبيعية والتي لا تنفذ ما عدا
- ٢ - مورد طبيعي يشكل مصدر الضوء والحرارة لجميع الكائنات
- ٣ - مورد طبيعي يعد عنصر الحياه والمصدر الرئيسي للشرب
- ٤ - أحد الموارد الطبيعية والتي يتم فيه زراعة الأشجار والمحاصيل
- ٥ - من الموارد الطبيعية والتي تدخل في صناعة الفخار

السؤال الثاني: صوب ما تحته خط :

- ١ - تعد الشمس من الموارد البشرية
- ٢ - تعد محافظة غزة من أشهر المحافظات الفلسطينية في صناعة الرخام
- ٣ - الحديد من الأمثلة على الموارد المتجددة

السؤال الثالث: اكتب ما تدلل عليه العبارات التالية :

- ١ - [.....الموارد الاقتصادية] تحويل الانسان الموارد الطبيعية الى سلعة أو خدمة يستفاد منها
- ٢ - [.....الهواء.....] من الموارد الطبيعية والذي يساعد على الاشتعال وهو مصدر للصوت

السؤال الرابع: أجب عن السؤال التالي

بم تفسر :

أهمية الموارد الاقتصادية:

لأنها توفر فرص العمل - تساعد على تحسين الدخل المالي - وتحسين المستوى المعيشي لسكان الدولة

الدرس الرابع الكوارث الطبيعية

أولاً : اختر الإجابة الصحيحة مما بين القوسين

- ١ - جميع ما يلي من الأمثلة على الكوارث الطبيعية ما عدا
 - ٢ - الذي يتحمل التخفيف من اثار الكوارث الطبيعية هو
 - ٣ - تترك الكوارث الطبيعية اثار سلبية على
 - ٤ - الزلزال الشهير الذي تعرضت له فلسطين عام ١٩٢٧ م هو زلزال
- (الفيضانات - الحروب - الزلازل)
(الدولة - الفرد - الدولة والفرد معاً)
(الأرض - الانسان - البيئة - جميع ما سبق)
(صغد - وسط فلسطين - أريحا ونابلس)

السؤال الثاني : صوب ما تحته خط :

- ١ - يعد الجفاف من المخاطر البشرية
 - ٢ - ذوبان كميات كبيرة من الثلوج يؤدي الى الجفاف
 - ٣ - مراعاة قوانين السلامة يزيد من اثار الكوارث الطبيعية
- [.....الطبيعية.....]
[.....الفيضانات.....]
[..... يقلل.....]

السؤال الثالث : اكتب ما تدلل عليه العبارات التالية :

- ١ - [الكوارث الطبيعية...] حوادث ناجمة عن عوامل طبيعية لا علاقة للإنسان في حدوثها
- ٢ - [البراكين...] انبعاث المواد المنصهرة والغازات والابخرة من باطن الأرض الى سطحها
- ٣ - [الزلازل...] اهتزازات أرضية متتالية تحدث في باطن الأرض وتصل الى سطحها
- ٤ - [الجفاف...] انحباس الأمطار عن منطقة ما لفترات طويلة
- ٥ - [الفيضانات...] غمر الأرض بالمياه بفعل زيادة في سقوط الأمطار

السؤال الرابع : أجب عن السؤال التالي :

أولاً بـم تفسر :

- ١ - أسباب حدوث الزلازل: بسبب حدوث انكسارات في الطبقات الصخرية
- ٢ - أسباب حدوث البراكين: بفعل ارتفاع حرارة باطن الأرض ومن ثم انبعاث المواد المنصهرة والغازات والابخرة من باطن الأرض الى سطحها
- ٣ - أسباب حدوث الفيضانات : بسبب الزيادة في معدل سقوط الأمطار وذوبان كميات كبيرة من الثلوج
- ٤ - أسباب حدوث الجفاف : بسبب انحباس الأمطار لفترة طويلة

ثانياً: ما هي النتيجة المترتبة على :

حدوث الكوارث الطبيعية ؟

تؤدي الى تدمير المباني والطرق والمنشآت والمحاصيل الزراعية - خسائر في الأرواح وهجرة السكان والمجاعات

ثالثاً : اقترح حلولاً :

للتخفيف من اثار الكوارث الطبيعية :

تطوير أجهزة الدفاع المدني - إجلاء الأشخاص الذين يعيشون في مناطق الكوارث - توفير الأدوية واللقاحات لمنع انتشار الأمراض - تعزيز التعاون الدولي بين دول العالم للقضاء على الفقر والجوع

الدرس الخامس الكوارث البشرية

السؤال الأول: اختر الإجابة الصحيحة مما بين القوسين

- ١ - دخول مواد غريبة الى الغلاف الجوي يعرف ب (التلوث الهوائي - التلوث المائي - التلوث الضوضائي)
- ٢ - دخول مواد غريبة الى الماء يعرف ب (التلوث الهوائي - تلوث التربة - التلوث المائي)
- ٣ - أي صوت يؤدي الى الازعاج يعرف ب (التلوث الهوائي - التلوث الضوضائي - التلوث المائي)
- ٤ - انتشار الأمراض والمجاعات وسقوط القتلى من اثار الحروب على (الحيوان - الانسان - البنية التحتية)
- ٥ - تعرف الحرب التي حدثت في فلسطين عام ١٩٤٨ م ب (النكسة - النكبة - الحرب العالمية الأولى)
- ٦ - النفايات الصلبة والاستخدام المفرط للأسمدة والمبيدات الحشرية يؤدي الى تلوث (التربة - الهوائي - الضوضائي)
- ٧ - وقعت حرب حزيران عام (١٩٦٥ م - ١٩٧٦ م - ١٩٦٧ م)

السؤال الثاني: ضع علامة (v) أو (x) :

- ١ - يؤدي تسرب النفط في المياه الى زيادة أعداد الكائنات البحرية (x)
- ٢ - تؤثر الحرب سلبا على الانسان والحيوان والبيئة (✓)
- ٣ - الأصوات المزعجة من الآلات تؤدي الى تلوث هوائي (x)
- ٤ - يؤدي التلوث الى تدمير الغطاء النباتي (✓)
- ٥ - يوجد مخيم الوحدات في دولة سوريا (x)

السؤال الثالث: أكتب ما تشير اليه العبارات التالية

- ١ - [الحرب.....] نزاع مسلح بين دولتين أو أكثر
- ٢ - [الكوارث البشرية.....] الاضرار التي يتسبب بها الانسان لنفسه وللبيئة
- ٣ - [التلوث المائي.....] دخول مواد غريبة الى المياه تجعلها غير صالحة للاستخدام
- ٤ - [التلوث الهوائي.....] دخول مواد غريبة الى الغلاف الجوي تجعله مضر بصحة الانسان
- ٥ - [تلوث التربة.....] دخول مواد غريبة الى التربة تجعلها غير صالحة للزراعة
- ٦ - [التلوث الضوضائي..] أي صوت يؤدي الى الازعاج الناجم عن وسائل النقل

السؤال الرابع: أجب عن الأسئلة التالية

أولاً: بم تفسر - أسباب حدوث التلوث

- ١ - الهوائي: بسبب دخول مواد غريبة الى الغلاف الجوي تضر بصحة الانسان والنبات والحيوان مثل ثاني أكسيد الكربون
 - ٢ - المائي: بسبب دخول مواد غريبة الى الماء تجعله غير صالح للاستخدام مثل تسرب النفط
 - ٣ - التربة: بسبب دخول مواد غريبة الى التربة تجعلها غير صالحة للزراعة مثل الاستخدام المفرط للمبيدات الكيماوية
 - ٤ - الضوضائي: بسبب الأصوات الناجمة عن الآلات ووسائل النقل وعمليات البناء
- ** ما هي أسباب حدوث الحروب بين الدول: لتحقيق مصالح مختلفة
- ثانياً: ما هي النتيجة المترتبة على:

- ١ - تعرض الانسان للتلوث: يؤدي الى اصابته بأمراض الجهاز التنفسي وأمراض العيون والتوتر والصداع والقلق
- ماذا يحدث لو : الافراط في استخدام الأسمدة الكيماوية للتربة :

تصبح التربة غير صالحة للزراعة وتلف المحاصيل الزراعية
اقترح حلاً : للتقليل من تلوث الهوائي في البيئة: بناء المصانع بعيداً عن السكان - زراعة الأشجار في الشوارع - عدم حرق المخلفات في الشارع .

الوحدة الثانية (الدرس الأول مظاهر حياة الانسان قديما)

السؤال الأول: اختر الإجابة الصحيحة مما بين القوسين:

- ١ - تميزت حياة الانسان قديما قبل اكتشاف الزراعة ب
 - ٢ - عاش الانسان القديم قبل معرفته بالزراعة في
 - ٣ - يطلق على القبائل المتنقلة في الوقت الحالي ب
 - ٤ - من أسباب تنقل الانسان القديم بحثا عن
 - ٥ - لجأ الانسان القديم لسد احتياجاته اليومية الى استخدام
 - ٦ - يتوجه أهل البادية في فصل الشتاء الى منطقة
 - ٧ - استخدم أجدادنا النقود قبل حوالي ٥٠٠٠ سنة
- (الاستقرار - **التنقل** - التقدم)
(المدن - القرى - **الكهوف**)
(**البدو** - السياح - أهل المدن)
(العمل - **الغذاء** - العلاج)
(**المقايضة** - البنوك - الاستدانة)
(الساحل - الجبال - **الأغوار**)
(الفراعنة - **الكنعانيون** - الآشوريون)

السؤال الثاني: ضع علامة (√) أو (×) :

- ١ - ينتقل البدو في فصل الصيف والربيع الى المناطق الجبلية
 - ٢ - تعتبر المقايضة هي أسهل في التعامل من النقود
 - ٣ - عاش الانسان القديم في الكهوف والمغاور
 - ٤ - عرف الانسان القديم الاستقرار بعد ممارسة الزراعة
 - ٥ - تميزت حياة الانسان قديما بالتنقل والترحال
- (√)
(×)
(√)
(√)
(√)

السؤال الثالث: اكتب ما تدلل عليه العبارات التالية:

- ١ - [..**المقايضة**.....] مبادلة سلعة بسلعة أخرى يحتاجها الانسان
- ٢ - [..**البدو**.....] سكان البادية الذين يسكنون الخيام ويعتمدون على رعي الماشية
- ٣ - [..**الكهوف**.....] أول مكان يعيش فيه الانسان القديم

السؤال الرابع: صوب ما تحته خط :

- ١ - استخدم الانسان القديم النقود عن طريق مبادلة سلعة متوافرة بسلعة أخرى يحتاجها [..**المقايضة**..]
- ٢ - استخدم الانسان القديم المقايضة بعد معرفته للنقود [..**قبل**.....]
- ٣ - استخدم الانسان القديم النقود لأنها أصعب من المقايضة [..**أسهل**.....]

السؤال الخامس: أجب عن الأسئلة التالية:

أولا: بم تفسر

- ١ - تميزت حياة الانسان القديم بالتنقل والترحال:
 - ٢ - يتوجه البدو في فصل الصيف والربيع الى المناطق الجبلية:
 - ٣ - يتوجه البدو في فصل الشتاء الى منطقة الأغوار:
- لتوفر فيها العشب والماء لماشيتهم
بسبب وجود الحشائش والأعشاب وأودية الماء ودفء طقسها

ثانيا : ما هي النتيجة المترتبة على :

- ١ - توفر أودية الماء والحشائش في منطقة الأغوار شتاءً:
- أدى الى توجه البدو الى هذه المناطق واستقرارهم فيها

الدرس الثاني الأدوات التي استخدمها الإنسان قديماً

السؤال الأول اختر الإجابة الصحيحة:

- ١ - استخدم الإنسان المدقات والمطارق ل
 - ٢ - صنع الإنسان القديم معظم أدواته من
 - ٣ - جميع ما يلي من المواد التي صنع منها الإنسان الحالي أدواته عدا (الزجاج - البلاستيك - أغصان الأشجار)
 - ٤ - عرف الإنسان القديم النار عن طريق
 - ٥ - يعرف العصر الذي استخدم فيه الإنسان معظم أدواته من الحجارة بالعصر (النحاسي - الحجري - البرونزي)
 - ٦ - من الظواهر الطبيعية التي عرف من خلالها الإنسان القديم النار (الكسوف - البراكين - العواصف الرملية)
 - ٧ - من استخدامات النار حديثاً
- (حصاد الحبوب - اشعال النار - طحن الحبوب)
(الحجارة - الزجاج - البلاستيك)
(الصدفة - التجرية - البحث)
(الصناعة - وسيلة اتصال - الدفاع عن النفس)

السؤال الثاني : ضع علامة (√) أو (×) :

- ١ - عرف الإنسان القديم النار عن طريق الصدفة (√)
- ٢ - استخدم الإنسان القديم السهام والحراب كوسيلة للدفاع عن النفس (√)
- ٣ - تنوعت استخدامات الإنسان للنار بشكل كبير (√)
- ٤ - استخدم الإنسان القديم النار في اضاءة كهفه فقط (×)
- ٥ - استخدم الإنسان القديم المنجل الحجري لصيد الحيوانات (×)

السؤال الثالث : اكتب ما تدلل عليه العبارات التالية :

- ١ - [حجر الصوان] الأداة التي ساعدت الإنسان على معرفة اشعال النار
- ٢ - [العصر الحجري] العصر الذي صنع فيه الإنسان القديم معظم أدواته من الحجارة
- ٣ - [المدق والمطارق الحجرية] من الأدوات التي استخدمها الإنسان قديماً في طحن الحبوب

السؤال الرابع: أجب عن الأسئلة التالية:

أولاً: بم تفسر :

١ - استخدم الإنسان القديم الحجارة الموجودة في الطبيعة كسلاح:

للدفاع فيها عن نفسة وصيد الحيوانات

٢ - سمي العصر الحجري بهذا الاسم :

لأن الإنسان القديم صنع معظم أدواته من الحجارة

٣ - استخدام الإنسان القديم حجر الصوان :

لأنه هو الموجود في الطبيعة ولاستخدامه في صناعة أدواته للصيد والزراعة والدفاع عن النفس

ثانياً : ما هي النتيجة المترتبة على :

١ - احتكاك حجرين من الصوان مع بعضهما البعض :

أدى الى معرفة الإنسان القديم كيفية اشعال النار

٢ - اكتشاف الإنسان القديم النار :

أدى الى استخدامها في الدفاء واطءاء كهفه والدفاع عن نفسه ووسيلة للاتصال

الدرس الثالث

مسكن الانسان القديم ولباسه

السؤال الأول : اختر الإجابة الصحيحة مما بين القوسين :

- ١ - من الأدوات التي استخدمها الانسان قديما في صناعة ملابسه (النول - المطارق الحجرية - المدقات)
- ٢ - استخدم الانسان القديم النول والسنارة في (صناعة الملابس - الزراعة - الصيد)
- ٣ - صنع الانسان القديم ملابسه من (القطن - جلود الحيوانات - النايلون)
- ٤ - يعد من أهم حاجات الانسان وحقوقه (الملابس - المسكن - الاثنان معا)
- ٥ - من الملابس التراثية الخاصة بالمرأة الفلسطينية (الكوفية - الثوب المطرز - العقال)
- ٦ - من الأدوات الحديثة في صناعة الملابس (النول - السنارة - الآلات النسيج)
- ٧ - من المواد الصناعية التي اعتمد عليها الانسان حاليا في صناعة ملابسه (القطن - الحرير - النايلون)

السؤال الثاني : ضع علامة (√) أو (×) :

- ١ - تعتبر الحطة من الملابس التراثية الخاصة بالرجل الفلسطيني (√)
- ٢ - لكل مجتمع ملابسه الخاصة التي تعكس هويته وتراثه (√)
- ٣ - القطن والنايلون من المواد التي صنع منها الانسان القديم ملابسه (×)
- ٤ - يعتبر النول من الأدوات الحديثة في صناعة الملابس (×)
- ٥ - صنع الانسان القديم مسكنه من أغصان الأشجار وجذوعها فقط (×)
- ٦ - تتشابه الملابس بين الشعوب والمجتمعات في العالم (×)

السؤال الثالث : صوب ما تحته خط :

- ١ - يعتبر الثوب المطرز من الملابس التراثية الخاصة بالرجل الفلسطيني [.....الحطة.....]
- ٢ - الآلات النسيج من الأدوات القديمة التي استخدمها الانسان في صناعة ملابسه [.....النول.....]
- ٣ - صنع الانسان ملابسه من جلود الحيوانات بعد معرفته للزراعة [.....الصيد.....]

السؤال الرابع : أكتب ما تدلل عليه العبارات التالية :

- ١ - [.....المسكن.....] المكان الذي يأوي اليه الانسان للعيش قضاء احتياجاته اليومية .
- ٢ - [جلود الحيوانات.....] من المواد الطبيعية التي اعتمد عليها الانسان القديم في صناعة ملابسه

السؤال الخامس : أجب عن الأسئلة التالية :

أولا : بم تفسر :

١ - أهمية الملابس والمسكن للإنسان :

المسكن لأنه يوفر له الأمن والحماية والاستقرار والملبس لأنه يحميه من برد الشتاء وحر الصيف والحشرات الضارة

٢ - قد يفقد الانسان مسكنه الذي يعيش فيه :

بفعل الحتلال والحروب والجوء والفقر

ثانيا : ما هي النتيجة المترتبة على :

١ - تعرض الانسان للحروب والجوء والاحتلال :

يفقد الانسان مسكنه وأمانه

ثالثا : لو كنت تعيش مع الانسان القديم // ما هي المواد التي كنت سوف تصنع منها ملابسك :

ملابس من جلود الحيوانات وكذلك من جذور النباتات

الدرس الرابع فلسطين موطن الانسان قديما

السؤال الأول : اختر الإجابة الصحيحة مما بين القوسين :

- ١ - تعد مدينة ... أقدم مدينة في العالم
 - ٢ - نشأت الحضارة النطوفية
 - ٣ - أول معدن اكتشفه الانسان القديم هو
 - ٤ - طين صلصالي صنع منه الانسان القديم الأوعية والأواني
 - ٥ - من المواقع الاثرية التي تقع بالقرب من حيفا مغارة
 - ٦ - معدن البرونز مزيج من
 - ٧ - يقع موقع عين الملاحه بالقرب من بحيرة
 - ٨ - يقدر عمر كهف شقبا بأكثر من
 - ٩ - تعد الحضارة ... الخطوة الأولى لبناء المجتمعات والقرى الزراعية
- (أريحا - رفح - غزة)
(مصر - فلسطين - لبنان)
(الحديد - النحاس - الذهب)
(الفخار - البرونز - النحاس)
(الواد - الطابون - السخول - جميع ما سبق)
(الحديد والنحاس - النحاس والقصدير - النحاس والذهب)
(طبريا - قزوين - ناصر)
(١٠٠ عام - ١٠٠٠ عام - ١٠٠٠٠ عام)
(الكنعانية - الفرعونية - النطوفية)

السؤال الثاني : ضع علامة (√) أو (×) :

- ١ - تعد مدينة أريحا أول مدينة مسورة في العالم
- ٢ - يقع كهف شقبا في شمال غرب مدينة القدس
- ٣ - ظهرت المساكن التي بناها الانسان بنفسه حيث كانت ذات أساسات من حجر وأشكالها دائرية
- ٤ - عرف الانسان الفخار في الفترات الأولى من حياته
- ٥ - عثر الانسان القديم على النحاس في منطقة تليلات الغسول شمال البحر الميت
- ٦ - ظهرت الحضارة النطوفية في شمال غرب القدس

السؤال الثالث : أكتب ما تدل عليه العبارات التالية :

- ١ - [الحوش الفلسطيني] ساحة متفاوتة من المساحة تكون لبيت واحد أو لعدة بيوت
- ٢ - [أريحا] أول مدينة وأقدم مدينة في العالم انتقل سكانها من حياة الكهوف الى البناء والاستقرار.
- ٣ - [الفخار] أواني مصنوعة من الطين الصلصالي يتم فيها تخزين فيها الغذاء
- ٤ - [النحاس] أول معدن اكتشفه الانسان
- ٥ - [البرونز] معدن مزيج من النحاس والقصدير
- ٦ - [القفزة] من المواقع الاثرية وتقع بالقرب من مدينة الناصرة

السؤال الرابع : أجب عن الأسئلة التالية :

أولاً: بم تفسر :

١ - قيام الحضارات في فلسطين :

بسبب اعتدال مناخها وخصوبة تربتها وموقعها المتميز

٢ - سميت الحضارة النطوفية بهذا الاسم :

نسبة الى وادي النطوف الذي يقع في شمال غرب القدس

٣ - أهمية تل السلطان (أريحا القديمة) :

لانها أقدم مدينة في العالم وأول مدينة انتقل فيها السكان من حياة الكهوف الى البناء والاستقرار وأول مدينة مسورة

٤ - يزور السياح مدينة أريحا بأعداد كبيرة سنوياً:

لما تملكه من اثار قديمة تعود لأكثر من ١٠٠٠٠ عام مثل تل السلطان وقصر هشام ولأنها أقدم مدينة في العالم

٥ - وجود الانسان القديم في فلسطين منذ القدم :
بسبب موقعها الجغرافي المتميز وخصوبة تربتها واعتدال مناخها

٦ - استخدام الانسان القديم الفخار :

لوضع الغذاء فيه أو حفظه وتخزينه

٧ - يعاني كهف شقبا للعديد من المخاطر التي تعرضه للتشقق:

بفعل مقالع الحجارة التابعة للاحتلال والتي تهدده بالتشقق

ثانيا: ما هي النتيجة المترتبة على :

١ - الموقع الجغرافي المتميز لفلسطين :

ساعد على وجود الانسان القديم فيها وأصبحت حلقة وصل بين قارات العالم القديم

٢ - اكتشاف الانسان القديم الزراعة :

أدى الى استقرار الانسان القديم وبناء بيت له واستخدام الفخار كأدوات لحفظ طعامه

ثالثا : رتب الأدوات التي استخدمها الانسان من الأقدم للأحدث :

(الفخار - عظام الحيوانات - البرونز - النحاس)

(عظام الحيوانات - الفخار - النحاس - البرونز)

السؤال الخامس : تأمل الخريطة ثم أجب عن الأسئلة التي تليها:

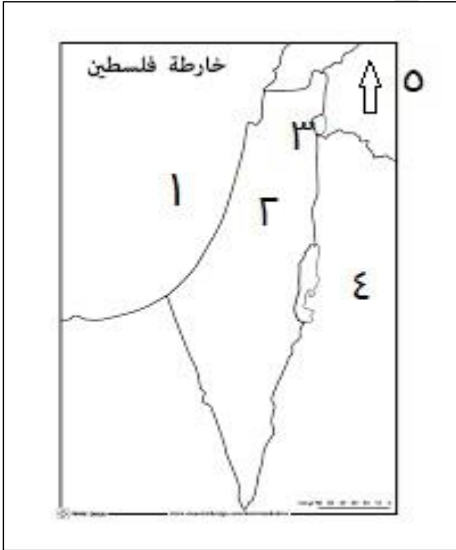
١ - البحر : ...المتوسط

٢ - كهف :شقبا

٣ - بحيرة :طبريا

٤ - دولة :الاردن

٥ - الجهة التي يشير اليها السهم جهة ...الشمال



الدرس الخامس

الاتصال والتواصل بين الناس

أولا : اختر الإجابة الصحيحة مما بين القوسين :

١ - من وسائل الاتصال التي استخدمها الانسان قديما

٢ - من وسائل الاتصال الحالي

٣ - من مهارات الاتصال والتواصل الفعال بين الناس

٤ - جميع ما يلي من وسائل الاتصال القديمة ما عدا

٥ - اختراع السومريون الكتابة

٦ - شهدت وسائل الاتصال تطورا كبيرا في القرن

(التلفاز - الانترنت - الإشارات بالأيدي)

(الدخان - الإذاعة - الرسم على الجدران)

(مقاطعة الآخرين - الحوار والتعبير - السخرية)

(الهاتف - ضوء النار ليلا - الخيول والجمال)

(الهجائية - الهيروغليفية - المسمارية)

(الثامن عشر - التاسع عشر - السادس عشر)

السؤال الثاني : ضع علامة (v) أو (x) :

- ١ - يساعد التواصل الفعال بين الناس على حل المشكلات (✓)
- ٢ - تطورت وسائل الاتصال بشكل كبير في القرن الواحد وعشرون (x)
- ٣ - استخدم الانسان القديم الصراخ والهمهمة للتعبير عن أفكاره (✓)
- ٤ - التواصل الذي يعتمد على المهارات الجيدة يحقق أفضل النتائج (✓)
- ٥ - سميت الكتابة عند السومريين بالكتابة المسمارية (✓)
- ٦ - اعتمد الانسان قديما على النار ليلا كأسلوب للتواصل (✓)
- ٧ - تعد مقاطعة الآخرين من مهارات الاتصال والتواصل الجيد (x)
- ٨ - يعتبر السخرية من الآخرين من مهارات التواصل الغير جيد (✓)
- ٩ - يساوي القرن ١٠٠ عام (✓)

السؤال الثالث : صوب ما تحته خط :

- ١ - يعد الحمام الزاجل من وسائل الاتصال والتواصل الحديثة [.....**الهاتف النقال**.....]
- ٢ - من مهارات التواصل الفعال مقاطعة الآخرين أثناء الحديث [.....**الحوار والتعبير**.....]

السؤال الرابع : أكتب المفهوم :

- ١ - [**الاتصال**] انتقال الأفكار والمعلومات بين طرفين أو أكثر من خلال وسائل وأساليب مختلفة
- ٢ - [**التواصل**] فهم متبادل بين طرفين أو أكثر وهو نوع من المشاركة والتفاعل .

السؤال الخامس : أجب عن الأسئلة التالية :

أولا : بم تفسر :

١ - أهمية الاتصال والتواصل في حياة الانسان :

لتبادل المعلومات والمعارف والتغلب على المشكلات ووسيلة لتقدم الشعوب وتقوية الروابط الاجتماعية

٢ - أصبح العالم في وقتنا الحاضر كأنه قرية صغيرة :

بفعل تطور وسائل الاتصال والتواصل والتي أصبحنا من خلالها نتعرف على أخبار العالم وتبادل الخبرات فيما بينها

ثانيا: ما هي النتيجة المترتبة على :

١ - الاتصال والتواصل الفعال بين الناس :

يؤدي الى تحقيق أفضل النتائج من تبادل الأفكار وحل المشكلات وقوة العلاقات بين الناس

لو كنت مكان الانسان القديم // ما هي وسائل الاتصال والتواصل التي سوف تستخدمها ؟

أرغب في استخدام ضوء النار ليلا والدخان نهارا وكذلك الإشارات بالأيدي .

الوحدة الثالثة المجتمع الذي نعيش فيه (درس الأسرة الفلسطينية)

السؤال الأول : اختر الإجابة الصحيحة مما بين القوسين :

- ١ - من الشروط الواجب توافرها في الجماعة
٢ - الأسرة التي تتكون من الأب والأم والأبناء هي الأسرة
٣ - تقوم العلاقات الاسرية الإيجابية على
٤ - التعاون في الأسرة بين
٥ - تسمى الوحدة الاجتماعية التي تربط بين أفرادها صلة القرابة (القرية - المدينة - الأسرة)
٦ - تكمن أهمية الأسرة في الحصول على
- (تبادل الآراء - تغليب المصلحة الفردية - التشدد للرأي)
(النوعية - الممتدة - الحمولة)
(التشاور - عدم الاحترام - التمييز)
(الأب والأم - الأم والذكور - جميع أفرادها)
(القرية - المدينة - الأسرة)
(الغذاء - الملابس - الاثنان معاً)

السؤال الثاني : ضع علامة (√) أو (×) :

- ١ - يستطيع الانسان أن يعيش منفرداً
٢ - الانسان بحاجة للأخريين لكي يستطيع أن يعيش
٣ - عندما تواجهني مشكلة يجب مشاركة أسرتي فيها
- (×)
(✓)
(✓)

السؤال الثالث : أكتب المفهوم :

- ١ - [الأسرة] جماعة من الناس تربط بينهم صلات القرى القوية
٢ - [الأسرة الصغيرة ..] تتكون من الأب والأم والأبناء
٣ - [الأسرة الكبيرة ...] تتكون من الأب والأم والأبناء والأعمام والأجداد

السؤال الرابع : صوب ما تحته خط :

- ١ - من الشروط الواجب توافرها في الجماعة تغليب المصلحة الفردية
٢ - تتكون الأسرة الممتدة من الأم والأب والأبناء
٣ - تكمن أهمية الجماعة أنها تضعف الفرد والمجتمع
- [...المصلحة العامة...]
[...الصغيرة...]
[...تقوي...]

السؤال الخامس : أجب عن الأسئلة التالية :

أولاً : بم تفسر :

١ - أهمية الأسرة في حياتنا :

الانجاب والتكاثر - توفير الغذاء والمسكن والملبس - توفير الأمان والتعليم والرعاية الصحية

٢ - أهمية الجماعة في المجتمع :

قوة المجتمع - تعطي عيبة للدولة - توفر الوقت والجهد - تبادل الخبرات والمعارف وتجعل الانسان اجتماعيا

ثانياً: ما هي النتيجة المترتبة على :

١ - العلاقات الأسرية الإيجابية بين أفراد الأسرة :

تؤدي الى تماسك وقوة العلاقات الاسرية والقدرة على حل المشكلات والمحبة والتفاهم بين أفراد الاسرة

ثالثاً: أكمل الفراغ :

من الشروط الواجب توافرها في الجماعة**التفاهم والتفاعل .. و ...عدم التشدد لرأي واحد.....**

..تبادل الآراء...تغليب المصلحة العامة على المصلحة الخاصة...و ...الاهتمام بالشأن العام

الدرس الثاني الدولة

السؤال الأول : اختر الإجابة الصحيحة مما بين القوسين :

- ١ - من واجبات الفرد تجاه الدولة (الدفاع عنها - تخريب الممتلكات العامة - مخالفة القوانين)
- ٢ - بقعة جغرافية محددة يعيش عليها سكانها ولها سلطة سياسية (الحقوق - الشعب - الدولة)
- ٣ - من مقومات الدولة كل ما يلي ما عدا (سلطة سياسية - استعمار - اعتراف دولي)
- ٤ - المجتمع الذي يتمتع أفراداه بجميع الحقوق يسود فيه (العدل - الطمأنينة - الاثنان معاً)
- ٥ - تمنح الدولة مواطنتها (فرص العمل - التعليم - الأمان - جميع ما سبق)

السؤال الثاني : صوب ما تحته خط :

- ١ - الالتزام بالقوانين و دفع الضرائب من واجبات الدولة [الفرد.....]
- ٢ - تمنح الأسرة مواطنتها الجنسية وتقديم الخدمات [الدولة.....]
- ٣ - من مقومات الأسرة أن يكون لها سلطة سياسية تدير شؤونها [الدولة.....]
- ٤ - من مقومات المخيم أن يكون معترف به دولياً [الدولة.....]

السؤال الثالث : ضع علامة (√) أو (×) :

- ١ - من واجبات الفرد تجاه دولته عدم الالتزام بالقوانين (×)
- ٢ - تمنح الدولة مواطنتها الجنسية (✓)
- ٣ - من واجبات الفرد تجاه دولته المحافظة على الممتلكات (✓)

السؤال الرابع : أكتب ما تدلل عليه العبارة التالية :

١ - [الدولة] بقعة جغرافية محددة يعيش فيها سكانها ولها سلطة سياسية

السؤال الخامس : أجب عن الأسئلة التالية :

أولاً : بم تفسر :

١ - أهمية وجود الدولة :

لأنها تمنح مواطنتها الجنسية وتقديم الخدمات كالكهرباء والماء والتعليم والصحة وفرص العمل والامن

ثانياً : ما هي النتيجة المترتبة على :

١ - التزام الأفراد بواجباتهم تجاه دولتهم :

يؤدي الى قوة المجتمع وتماسكه ونشر المحبة وجمال البيئة والحفاظ عليها من الأعداء

ثالثاً : ماذا يحدث عندما :

١ - يتم الاعتراف الكامل بدولة فلسطين :

يصبح الشعب الفلسطيني له حق تقرير مصيره بنفسه - وحرية التنقل من مكان لآخر - تقدم الدولة

مع تمنياتي لكم دوام التفوق والنجاح