

رسئلة مراجعة عامة

في الدراسات الاجتماعية للصف الثامن

مدرسة ذكور تل الهوا الإعدادية للاجئين

إعداد

المعلم / فؤاد محمود سلمان

متابعة

مدير المدرسة / أ. نايض الحطاب

المدير المساعد / أ. أحمد الخصري

الفصل الأول

٢٠٢٠ - ٢٠٢١

أسئلة على الوحدة الأولى رحلة في الوطن العربي من صفحة (٢) إلى صفحة (٥١)

الدرس الأول :- موقع الوطن العربي من صفحة (٤) إلى صفحة (١١)

السؤال الأول : ضع علامة (صح) أمام العبارة الصحيحة وعلامة (خطأ) أمام العبارة الخاطئة :-

- ١- () يمتد الوطن العربي من المحيط الأطلسي غرباً حتى الخليج العربي وبحر العرب شرقاً .
- ٢- () يمر خط الاستواء في دولة تونس .
- ٣- () يقع الوطن العربي بين خطي طول ١٧ غرب خط جرينتش إلى ٦٠ شرق خط جرينتش .
- ٤- () الحدود بين الدول العربية حدود سياسية اصطناعية .
- ٥- () يقع في الجناح الآسيوي ٧٧ % من مساحة الوطن العربي .
- ٦- () تعرض الوطن العربي في العصور القديمة للاحتلال الأوروبي .

السؤال الثاني : اختر الإجابة الصحيحة مما بين القوسين :-

- ١- يقع الوطن العربي في قارتي (آسيا وأفريقيا - آسيا وأوروبا - أفريقيا وأوروبا)
- ٢- يفصل بين قارتي آسيا وأفريقيا البحر (المتوسط - الأحمر - الأسود)
- ٣- يمتد الوطن العربي بين دائرتي عرض (٢ جنوباً إلى ٣٧,٥ شمالاً - ١٧ جنوباً إلى ٦٠ شمالاً - ٣٧,٥ جنوباً إلى ٢ شمالاً)
- ٤- تقع بين مدغشقر وساحل تنزانيا (الصومال - جيبوتي - جزر القمر)
- ٥- كل ما يلي يحد الوطن العربي من الجنوب ما عدا (المحيط الهندي - المحيط الأطلسي - الصحراء الكبرى)
- ٦- واحد من المسطحات المائية التالية يحد الوطن العربي من الغرب (المحيط الهندي - الخليج العربي - المحيط الأطلسي)
- ٧- جبال زاغروس والخليج العربي وخليج عمان يحدان الوطن العربي من جهة (الشرق - الغرب - الشمال)
- ٨- كل ما يلي دول عربية في قارة آسيا ما عدا (السعودية والعراق - ليبيا والمغرب - فلسطين وسوريا)
- ٩- تبلغ مساحة الوطن العربي حوالي (١١٤ مليون كم ٢ - ١٠ مليون كم ٢ - ١٤ مليون كم ٢)
- ١٠- أصغر الدول العربية مساحة دولة (البحرين - السودان - فلسطين)
- ١١- تشكل جبال طوروس حدود طبيعية بين الوطن العربي ودولة (تركيا - إيران - تشاد)
- ١٢- يصل بين الخليج العربي وخليج عمان مضيق (هرمز - باب المندب - جبل طارق)

السؤال الثالث : صحح ما تحته خط :-

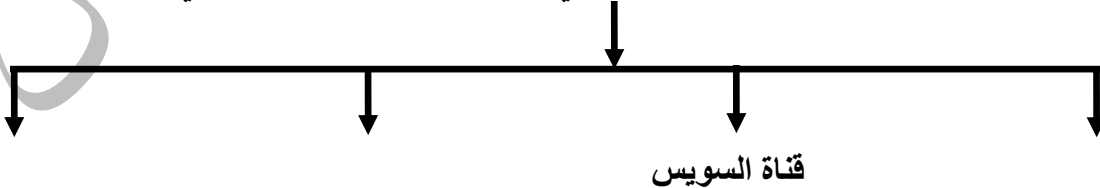
- ١- يمر خط جرينتش في دولة مصر
- ٢- يحد الوطن العربي من الشمال البحر المتوسط وجبال زاغروس
- ٣- تعد دولة الجزائر أكبر الدول العربية مساحة

السؤال الرابع : أكتب المصطلح العلمي :-

- ١- (.....) منطقة جغرافية تمثل موطن الأمة العربية وتشمل جميع الدول الأعضاء في الجامعة العربية .
- ٢- (.....) دائرة العرض الرئيسية ودرجتها صفر .
- ٣- (.....) خط الطول الرئيسي ودرجته صفر .
- ٤- (.....) الحدود التي تفصل بين الوطن العربي والدول المجاورة وتتمثل بالمظاهر الطبيعية مثل الجبال .
- ٥- (.....) حدود تفصل بين دول الوطن العربي وتكون عبارة عن أسلاك شائكة أو أعمدة إسمنتية .

السؤال الخامس : أكمل الخريطة المفاهيمية التالية :-

الممرات المائية والمضائق التي يشرف عليها الوطن العربي



السؤال السادس : برهن على أن :-

١. الوطن العربي كان مطمعاً للاستعمار منذ القدم .

الإجابة :

(١)

السؤال السابع : بم تفسر :-

١- أهمية الموقع الجغرافي للوطن العربي .

السبب /

٢- محاولة الدول الاستعمارية السيطرة على الوطن العربي . عبر العصور .

السبب /

السؤال الثامن : ما النتيجة المترتبة على :-

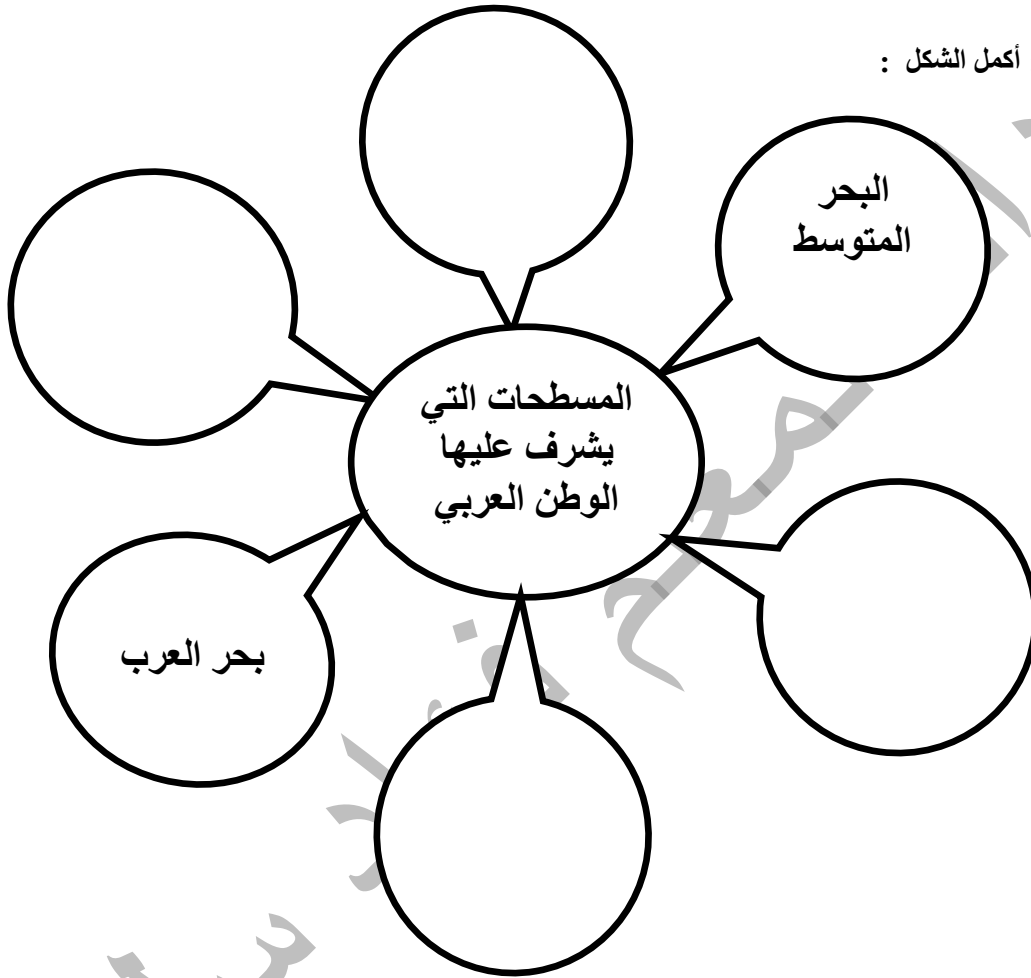
١- اتساع مساحة الوطن العربي .

النتيجة /

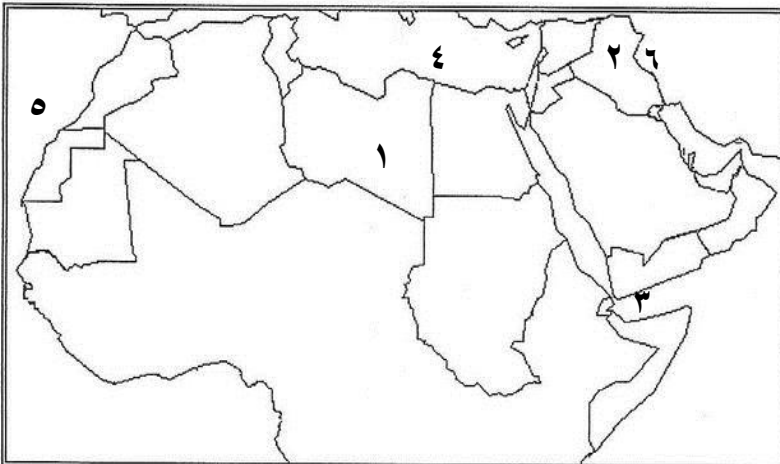
٢- موقع الوطن العربي .

النتيجة /

السؤال التاسع : أكمل الشكل :



السؤال العاشر : أمامك خريطة الوطن العربي أكتب ما تشير إليه الأرقام :-



١ . دولة : -----

٢ . دولة : -----

٣ . مضيق : -----

٤ . البحر : -----

٥ . المحيط : -----

٦ . جبال : -----

(٢)

أسئلة على الوحدة الأولى رحلة في الوطن العربي من صفحة (٢) إلى صفحة (٥١)

الدرس الثاني :- تضاريس الوطن العربي من صفحة (١٢) إلى صفحة (١٨)

السؤال الأول : ضع علامة (صح) أمام العبارة الصحيحة وعلامة (خطأ) أمام العبارة الخاطئة :-

- ١- () تنتشر الجبال في مناطق متفرقة من الوطن العربي .
- ٢- () كانت أرض الوطن العربي عبارة عن هضبة واحدة سابقاً .
- ٣- () تمتد هضبة الصحراء الكبرى من المحيط الأطلسي غرباً إلى جبال البحر الأحمر شرقاً .
- ٤- () تعد هضبة شبه الجزيرة العربية أوسع صحاري العالم .
- ٥- () يوجد بحر الرمال العظيم بين مصر وليبيا .
- ٦- () يوجد جبل العوينات على الحدود المصرية السودانية الليبية .

السؤال الثاني : اختر الإجابة الصحيحة مما بين القوسين :-

- ١- المظهر الرئيسي الذي يغلب على الوطن العربي (الجبال - الهضاب - السهول)
- ٢- كل ما يلي جبال التوائية في الوطن العربي ما عدا (جبال البحر الأحمر - جبال أطلس - جبال عمان)
- ٣- من الجبال الانكسارية في الوطن العربي (جبال أطلس - جبال عُمان - جبال بلاد الشام)
- ٤- أعلى قمة جبلية في الوطن العربي (جبل طوبقال - جبل الجرمق - جبل الشايب)
- ٥- يمتد أخدود البحر الأحمر في (غور الأردن - سوريا ولبنان - جميع ما ذكر)
- ٦- كل ما يلي من هضاب هضبة شبه الجزيرة العربية ما عدا (هضبة حضرموت - هضبة الشطوط - هضبة نجد)
- ٧- تعد جزء من هضبة الصحراء الأفريقية هضبة (الشطوط - بادية الشام - نجد)
- ٨- من التكوينات الرملية في الوطن العربي (صحراء النفوذ - صحراء الربع الخالي - الاثنان معاً)
- ٩- يوجد الجبال الأخضر في (مصر - ليبيا - المغرب)
- ١٠- توجد في ليبيا واحة (الكفرة - عين صالح - سيوة)
- ١١- كل ما يلي من أودية فلسطين ما عدا (وادي الخليل - وادي غزة - وادي العلاقي)
- ١٢- كل ما يلي من مميزات السهول الفيضية ما عدا (تربة خصبة - ارتفاع الكثافة السكانية - قلة المياه)
- ١٣- سهل مرج بن عامر في فلسطين سهل (ساحلي - فيضي - داخلي)

السؤال الثالث : صحح ما تحته خط :-

- ١- تكون أخدود البحر الأحمر نتيجة لحركات التوائية
- ٢- توجد هضبة الصحراء الكبرى في الجناح الآسيوي
- ٣- يوجد في دولة السعودية وادي الخليل
- ٤- توجد في الجزائر واحة الكفرة
- ٥- توجد سهول نهري دجلة والفرات في سوريا والأردن
- ٦- توجد سهول نهر النيل في المغرب

السؤال الرابع : ما النتيجة المترتبة على :-

- ١- حدوث الانكسارات والالتواءات .

النتيجة /

- ٢- تكون أخدود البحر الأحمر .

النتيجة /

السؤال الخامس : أكتب المصطلح العلمي :-

- ١- () تكونت نتيجة التواء الطبقات الصخرية وارتفاعها .
- ٢- () تكونت نتيجة انكسار الطبقات الصخرية فارتفعت أجزاء منها مشكله جبالاً .
- ٣- () تجمعات رملية صحراوية مختلفة الأشكال والأحجام كالكثبان الرملية .
- ٤- () منخفضات خضراء وسط الصحراء .
- ٥- () أودية تجري فيها المياه في موسم الأمطار فقط .
- ٦- () سهول تمتد على طول سواحل المسطحات المائية .
- ٧- () سهول كونتها الأنهار عن طريق ترسيب المواد العالقة بمياهها وتمتد على ضفاف الأنهار .
- ٨- () سهول تنحصر بين الجبال .

السؤال السادس : بم تفسر :-

١- أهمية جبال الوطن العربي .

السبب /

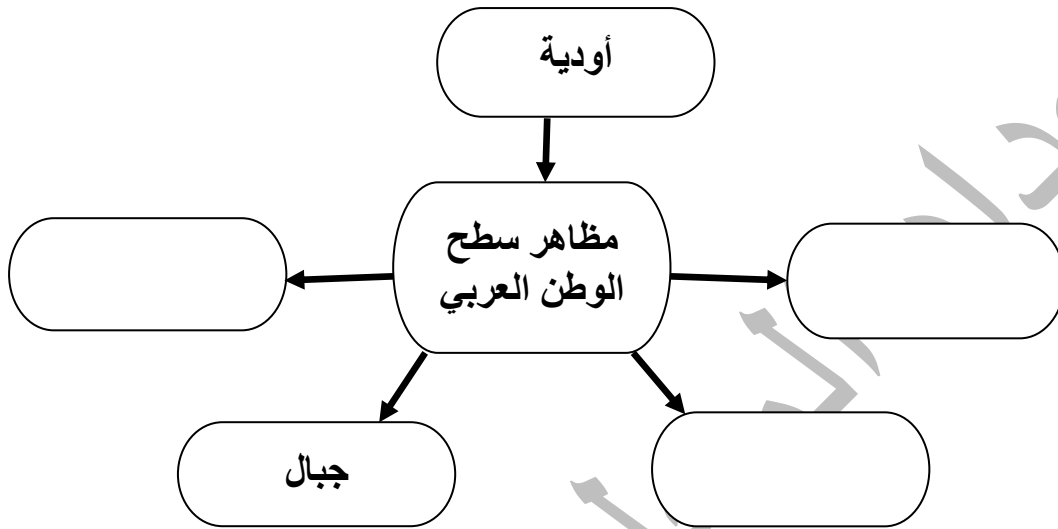
٢- أهمية السهول الساحلية في الوطن العربي .

السبب /

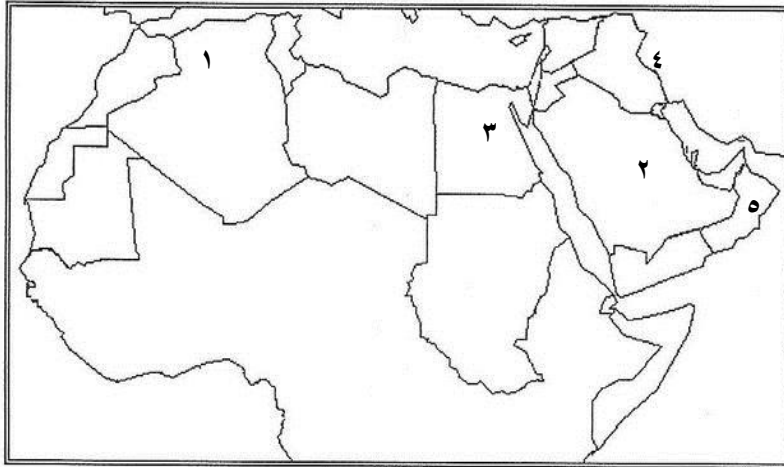
٣- خصوبة تربة السهول الفيضية .

السبب /

السؤال السابع : (أ) أكمل الشكل :



السؤال الثامن : (أ) أمامك خريطة الوطن العربي أكتب ما تشير إليه الأرقام :-



١- جبال -----

٢- هضبة -----

٣- سهول نهر -----

٤- جبال -----

٥- جبال -----

أسئلة على الوحدة الأولى رحلة في الوطن العربي من صفحة (٢) إلى صفحة (٥١)

الدرس الثالث :- المناخ في الوطن العربي من صفحة (١٩) إلى صفحة (٢٤)

السؤال الأول : ضع علامة (صح) أمام العبارة الصحيحة وعلامة (خطأ) أمام العبارة الخاطئة :-

- ١- () يؤدي انخفاض درجات الحرارة شتاءً إلى سرعة نمو الحاصلات الزراعية .
- ٢- () تنخفض درجات الحرارة في معظم أنحاء الوطن العربي صيفاً .
- ٣- () يختلف المناخ من منطقة إلى أخرى في الوطن العربي .
- ٤- () ترتفع درجة الحرارة كلما ابتعدنا عن خط الاستواء شمالاً في الوطن العربي .
- ٥- () معظم أراضي الوطن العربي تقع ضمن المنطقة المدارية الحارة .
- ٦- () ترتفع درجات الحرارة كلما ابتعدنا عن المسطحات المائية .
- ٧- () ترتفع درجة الحرارة كلما ارتفعنا إلى أعلى .
- ٨- () تمتاز جبال أطلس وبلاد الشام بانخفاض حرارتها ووفرة أمطارها وتلوجها شتاءً واعتدال حرارتها صيفاً .
- ٩- () الجبال المواجهة لهبوب الرياح أكثر مطراً من الواقعة في ظل المطر .
- ١٠- () مناخ البحر المتوسط يمتاز بأنه حار جاف شتاءً ومعتدل ممطر صيفاً .
- ١١- () يمتد الإقليم الصحراوي وشبه الصحراوي شمال إقليم البحر المتوسط .
- ١٢- () يمتاز المناخ الصحراوي وشبه الصحراوي بأنه حار صيفاً بارد ممطر شتاءً .
- ١٣- () المناخ الاستوائي شديد الحرارة ممطر طول العام .

السؤال الثاني : اختر الإجابة الصحيحة مما بين القوسين :-

- ١- تتساقط الأمطار الموسمية على المناطق التالية ما عدا (السودان - فلسطين - اليمن)
- ٢- تسقط الأمطار على جبال أطلس ومرتفعات بلاد الشام في فصل (الشتاء - الصيف - الربيع)
- ٣- كل من المسطحات التالية يتوغل كثيراً في يابس الوطن العربي ما عدا (البحر الأحمر - الخليج العربي - البحر المتوسط)
- ٤- أكثر الأقاليم المناخية امتداداً في الوطن العربي الإقليم (الصحراوي - الاستوائي - المداري)
- ٥- الدولة العربية التي لا يوجد فيها صحاري هي دولة (فلسطين - لبنان - عُمان)
- ٦- إقليم أمطاره في فصل الشتاء وتكون قليلة وغير منتظمة ونادرة إقليم (البحر المتوسط - الاستوائي - الصحراوي وشبه الصحراوي)
- ٧- جميع الدول التالية مناخ مداري موسمي ما عدا (اليمن وعمان - جنوب السودان - ليبيا)
- ٨- يمتاز المناخ ----- بأنه حار معظم أيام السنة وأمطاره صيفية إقليم (البحر المتوسط - المداري الموسمي - الاستوائي)

السؤال الثالث : صحح ما تحته خط :-

- ١- الجبال والأطراف الشمالية في الوطن العربي تقع ضمن المنطقة المدارية الحارة
- ٢- تتصف المناطق الساحلية بارتفاع درجة الحرارة في الصيف وانخفاضها في الشتاء
- ٣- جبال أطلس في بلاد المغرب والسفوح الغربية لبلاد الشام مناخ مداري موسمي
- ٤- تسقط الأمطار في الإقليم الاستوائي في فصل الشتاء

السؤال الرابع : أكتب المصطلح العلمي :-

- ١- (-----) حالة الجو خلال فترة زمنية قصيرة في منطقة محددة .
- ٢- (-----) حالة الجو خلال فترة زمنية طويلة لمنطقة واسعة .
- ٣- (-----) كمية بخار الماء التي يحملها الهواء .
- ٤- (-----) وزن عمود الهواء الواقع على وحدة المساحة .
- ٥- (-----) تحول بخار الماء في الجو من الحالة الغازية إلى الحالة الصلبة حيث يتساقط على شكل زغب من الريش .
- ٦- (-----) درجة سخونة جسم أو سطح ماء ويعبر عنها بالمقياس المنوي أو الفهرنهايتي .
- ٧- (-----) إقليم يتمثل في المناطق الشمالية من الوطن العربي .
- ٨- (-----) إقليم يسود في معظم أراضي الوطن العربي حتى أنه لا يخلو بلد عربي منه سوى لبنان .
- ٩- (-----) إقليم يشمل المناطق الواقع جنوب الإقليم الصحراوي وشبه الصحراوي .
- ١٠- (-----) إقليم يمتد في أقصى جنوب السودان والصومال .

السؤال الخامس : ما النتيجة المترتبة على :-

- ١- تشكل الصحاري في الأجزاء الداخلية من الوطن العربي .
النتيجة / -----
- ٢- عدم توغل المسطحات المائية في يابس الوطن العربي .
النتيجة / -----
- ٣- الصيد الجائر وقطع الأشجار .
النتيجة / -----

السؤال السادس : بم تفسر :-

١- يهتم الإنسان بمعرفة حالة الجو اليومية .

السبب /

٢- تعد الأمطار المصدر الرئيسي للمياه على سطح الأرض .

السبب /

٣- ترتفع درجة الحرارة في معظم أجزاء الوطن العربي في فصل الصيف .

السبب /

٤- تنخفض درجات الحرارة شتاءً في معظم أجزاء الوطن العربي .

السبب /

٥- اختلاف المناخ من منطقة إلى أخرى في الوطن العربي .

السبب /

٦- سقوط الأمطار على مرتفعات فلسطين الغربية بكميات أكبر من الشرقية .

السبب /

٧- لا يسود المناخ الصحراوي في دولة لبنان .

السبب /

٨- اختفاء العديد من الحيوانات البرية في فلسطين .

السبب /

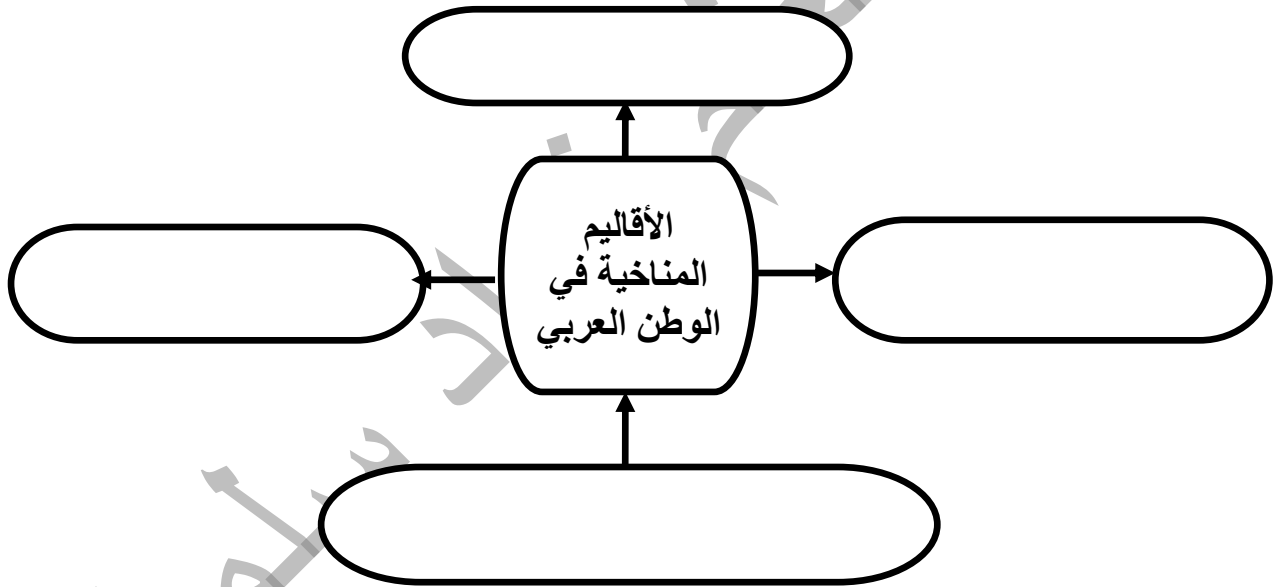
٩- يقال أن الغابات رنة العالم .

السبب /

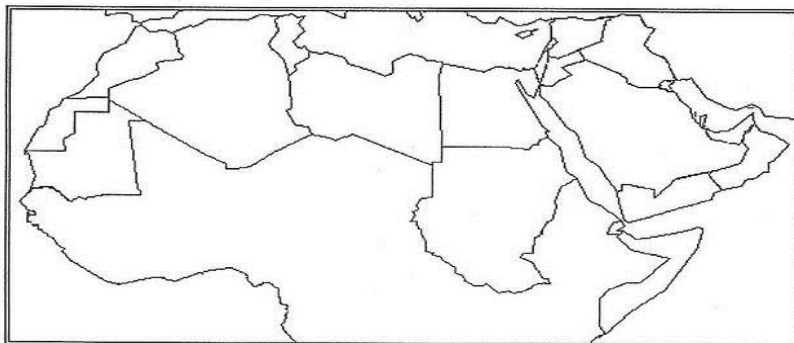
١٠- ترتفع درجة الحرارة في المناطق الداخلية من الوطن العربي .

السبب /

السؤال السابع : أكمل الشكل :-



السؤال الثامن : أمامك خريطة الوطن العربي حدد عليها الأقاليم المناخية :-



أسئلة على الوحدة الأولى رحلة في الوطن العربي من صفحة (٢) إلى صفحة (٥١)

الدرس الرابع :- السكان في الوطن العربي من صفحة (٢٥) إلى صفحة (٣٢)

السؤال الأول : ضع علامة (صح) أمام العبارة الصحيحة وعلامة (خطأ) أمام العبارة الخاطئة :-

- ١- () يشكل سكان الوطن العربي ما نسبته ٤,٥ % من سكان العالم .
- ٢- () تعاني دول الوطن العربي من نمو سكاني مع نمو اقتصادي بالدرجة نفسها .
- ٣- () أصبح التحدي العددي بين اليهود والفلسطينيين في فلسطين الخطر الذي يهدد وجود أغلبية يهودية في فلسطين .
- ٤- () قام الاحتلال الصهيوني بمذبحة في قرية لوبيا قضاء طبريا .
- ٥- () حق العودة للفلسطينيين لمدهم وقراهم من الثوابت الفلسطينية .
- ٦- () تعرف المجتمعات العربية بالمجتمعات الفتية أو الشابة .
- ٧- () ارتفاع نسبة صغار السن في الوطن العربي يؤدي إلى تنمية الموارد .
- ٨- () تتصف دول الوطن العربي بوجود عدد كبير من الاحتياطي في الأيدي العاملة في مجالات الانتاج الاقتصادي والخدمة العسكرية .
- ٩- () تشارك المرأة الفلسطينية مشاركة فاعلة في الثورة .
- ١٠- () يعيش المسيحيون جنباً إلى جنب مع المسلمين في فلسطين .
- ١١- () تعد العهدة العمرية نموذجاً للتمييز بين المسلمين والمسيحيين في فلسطين .
- ١٢- () تعد فلسطين مثلاً واقعياً للتعايش الإسلامي المسيحي .

السؤال الثاني : اختر الإجابة الصحيحة مما بين القوسين :-

- ١- بلغ عدد سكان الوطن العربي عام ٢٠١٩ حوالي (٤٢٩ مليار نسمة - ٤٢٩ مليون نسمة - ٤٢٩ ألف نسمة)
- ٢- أقل دول الوطن العربي سكاناً دولة (جيبوتي - جزر القمر - الاثنين معاً)
- ٣- بلغ عدد الفلسطينيين في الداخل حوالي (٧,٤ مليون نسمة - ٥,٠٣٩ مليون نسمة - ٥,٧٩ مليون نسمة)
- ٤- يبلغ معدل النمو السكاني في الوطن العربي حوالي (٣ % - ٤ % - ٥ %)
- ٥- يبلغ معدل النمو السكاني في العالم حوالي (٨,١١ % - ١,١٨ % - ٢,١٨ %)
- ٦- قام الاحتلال الصهيوني بمذبحة قرية _____ قضاء حيفا
- ٧- كتب العهدة العمرية للمسيحيين في فلسطين الخليفة (دير ياسين - لوبيا - الطنطورة)
- ٨- لجأ المقاومون عند اجتياح بيت لحم عام ٢٠٠٢م إلى كنيسة (عمر بن الخطاب - أبو بكر الصديق - علي بن أبي طالب)
- (القيامة - المهدي - البشارة)

السؤال الثالث : صحح ما تحته خط :-

- ١- تعتبر السودان أعلى دول الوطن العربي سكاناً
- ٢- قام الصهاينة بمذبحة قرية الطنطورة في القدس
- ٣- ترتفع نسبة الذكور بسبب الهجرة الوافدة في دولة المغرب
- ٤- نسبة فئة الشباب في الوطن العربي تساوي ٣٦ %

السؤال الرابع : برهن على :-

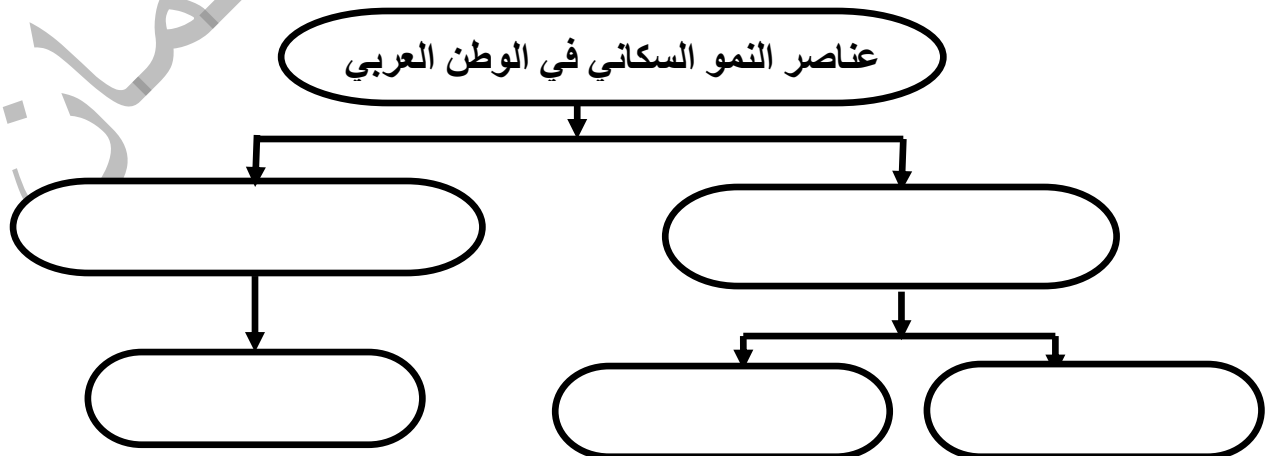
- ١- العوامل السياسية تلعب دوراً في النمو السكاني .

الإجابة /

- ٢- ارتفاع نسبة صغار السن في الوطن العربي تمثل عبأً على الدولة .

الإجابة /

السؤال الخامس : أكمل الخارطة المفاهيمية :-



(٧)

السؤال السادس : أكتب المصطلح العلمي :-

- ١- (-----) تصنيف السكان حسب العمر .
- ٢- (-----) تصنيف السكان حسب الجنس .
- ٣- (-----) الفئة العمرية من سن ١٤ سنة فأقل وتمثل ٣٦ % من سكان الوطن العربي .
- ٤- (-----) الفئة العمرية من سن ١٥ حتى ٦٤ سنة وتمثل ٦٠ % من سكان الوطن العربي .
- ٥- (-----) الفئة العمرية من سن ٦٥ سنة فأكثر وتمثل ٤ % من سكان الوطن العربي .

السؤال السابع : بم تفسر :-

١- يعد قطاع غزة من أعلى مناطق العالم كثافة سكانية .

السبب /

٢- ارتفاع معدل النمو السكاني في الوطن العربي .

السبب /

٣- قيام الاحتلال الصهيوني بالعديد من المجازر بحق القرى العربية .

السبب /

٤- ارتفاع نسبة الذكور في دول الخليج العربي .

السبب /

٥- وجود المخيمات الفلسطينية في غزة والضفة والدول العربية المجاورة .

السبب /

٦- لا يساهم جميع سكان الوطن العربي في النشاط الاقتصادي .

السبب /

٧- يقل الفرق في النسبة بين عدد الذكور وعدد الاناث كلما تقدم العمر .

السبب /

٨- ارتفاع نسبة الوفيات عند الذكور عنها بين الاناث .

السبب /

السؤال الثامن : ما النتيجة المترتبة على :-

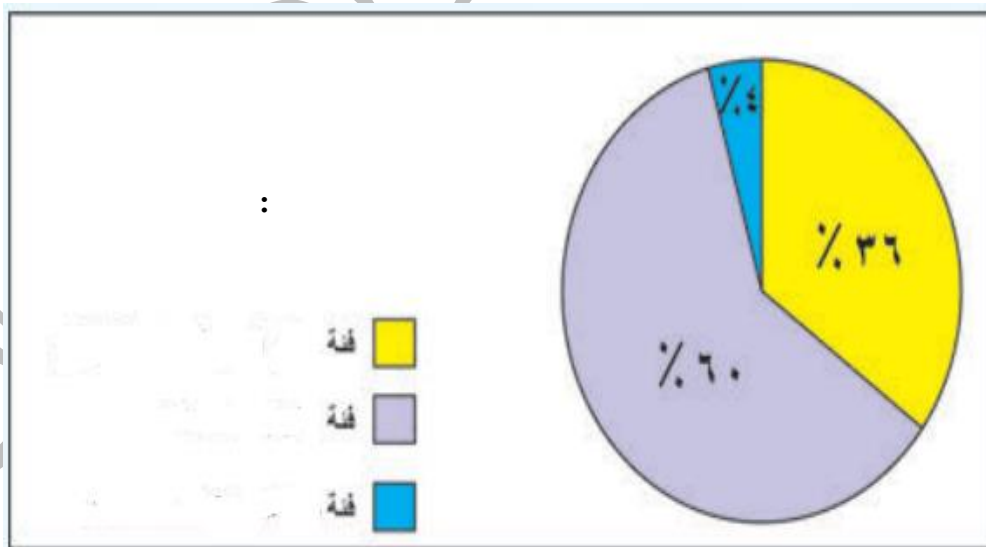
١- الزيادة السنوية الكبيرة للسكان في الوطن العربي مع عدم نمو اقتصادي بالدرجة نفسها .

النتيجة /

٢- هجرة الذكور من الريف إلى المدينة بحثاً عن فرص عمل .

النتيجة /

السؤال التاسع : اكتب الفئات العمرية حسب النسب الموجودة على الشكل :-



أسئلة على الوحدة الأولى رحلة في الوطن العربي من صفحة (٢) إلى صفحة (٥١)

الدرس الخامس :- الأنشطة الاقتصادية في الوطن العربي من صفحة (٣٤) إلى صفحة (٤٣)

السؤال الأول : ضع علامة (صح) أمام العبارة الصحيحة وعلامة (خطأ) أمام العبارة الخاطئة :-

- ١- () حرفة الرعي لا تكفي حاجة سكان الوطن العربي من الحيوانات .
- ٢- () على الرغم من تنوع الأنشطة الاقتصادية إلا أنها تتفاوت في حجمها من دولة إلى أخرى .
- ٣- () يسهم النشاط الزراعي بنسبة كبيرة في الدخل القومي وتشغيل الأيدي العاملة .
- ٤- () أدى اتساع المساحة الرعوية إلى قلة تربية الحيوانات .
- ٥- () عمل الاحتلال على إغراق الأسواق الفلسطينية بالمنتجات الوطنية .
- ٦- () حرم الاحتلال الصهيوني المنتجات الفلسطينية من المنافسة في الأسواق المحلية .
- ٧- () تعد فلسطين من الدول العربية المصدرة لحجارة البناء .
- ٨- () موقع الوطن العربي نقطة لقاء لطرق المواصلات العالمية برية وبحرية وجوية .
- ٩- () أهتمت الدول العربية حديثاً بإنشاء الطرق فيها .

السؤال الثاني : اختر الإجابة الصحيحة مما بين القوسين :-

- ١- يعمل معظم سكان السواحل في الوطن العربي بحرفة (الصيد - الصناعة - الزراعة)
- ٢- يمكن إبراز الوطن العربي كقوة اقتصادية مهمة في العالم من خلال تحقيق (الوحدة الوطنية- التكامل الاقتصادي- مصالح الدول العربية)
- ٣- كل ما يلي من مقومات الزراعة في الوطن العربي ما عدا (التربة الخصبة - قلة المياه - المناخ الملائم)
- ٤- تزرع في دول البحر المتوسط (الحبوب - الحمضيات - جميع ما ذكر)
- ٥- كل من الدول التالية يمارس حرفة صيد السمك بكثرة ما عدا (السودان - المغرب - موريتانيا)
- ٦- يمتلك الوطن العربي ما يقارب ----- من احتياطي النفط (٣٠ % - ٦٠ % - ٥٠ %)
- ٧- كل ما يلي من موانئ فلسطين ما عدا (حيفا - يافا - طنجة)
- ٨- يوجد مطار الملكة علياء في دولة (الأردن - الامارات - سوريا)
- ٩- من أهم التحديات التي تواجه الزراعة في الوطن العربي (الهجرة من المدينة إلى الريف - تذبذب كميات الأمطار - ارتفاع إنتاجية الأرض)

- ١٠- من مناطق السياحة الدينية في فلسطين (قصر هشام - البحر الميت - قبة الصخرة)
- ١١- كل ما يلي من إجراءات الاحتلال الصهيوني ضد الفلسطينيين ما عدا (أغلاق الطرق - السيطرة على المعابر - تسهيل حركة التجارة)

السؤال الثالث : صحح ما تحته خط :-

- ١- تعد الصناعة من أقدم الأنشطة الاقتصادية في الوطن العربي
- ٢- تحتل الصناعة المرتبة الأولى في الوطن العربي من حيث المساهمة في تشغيل الأيدي العاملة
- ٣- تعد القطارات من أهم وسائل النقل في الوطن العربي
- ٤- أدى إشراف الوطن العربي على جهات بحرية طويلة إلى إنشاء المطارات
- ٥- من مطارات دولة الإمارات العربية مطار المملكة علياء

السؤال الرابع : صنف الصناعات التالية إلى تقليدية أو حديثة :-

(السجاد - بتروكيماويات - استخراجية - الزجاج - الورق - الفخار)

صناعات حديثة	صناعات تقليدية

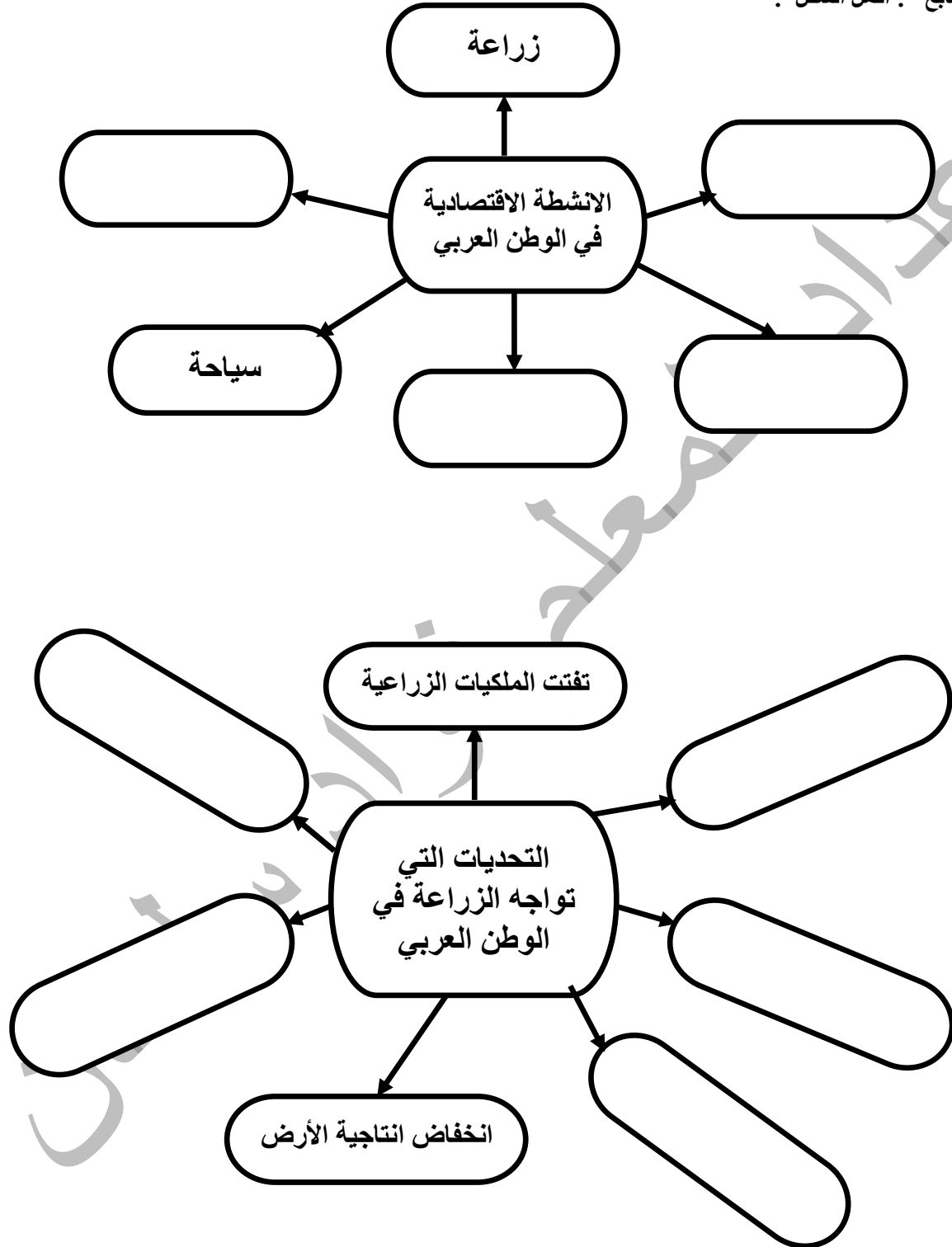
السؤال الخامس : أختَر من المجموعة (أ) ما يناسبها من المجموعة (ب) :-

- | | |
|------------|-----------------|
| (أ) | (ب) |
| الدولة | المعلم السياحي |
| ١- المغرب | () صرح الشهيد |
| ٢- الجزائر | () البحر الميت |
| ٣- العراق | () مدينة فاس |
| ٤- فلسطين | () الأهرامات |
| ٥- مصر | () حدائق بابل |

السؤال السادس : أكتب المصطلح العلمي :-

- ١- (.....) تحويل المواد الخام المستخرجة إلى سلع مصنعة .
- ٢- (.....) زيارة الأماكن المقدسة .
- ٣- (.....) انتقال الأفراد والبضائع من مكان لآخر بواسطة وسائل برية وبحرية وجوية .
- ٤- (.....) استخراج المعادن من الأرض .

السؤال السابع : أكمل الشكل :



السؤال الثامن : بم تفسر :-

١- تنوع النشاط الاقتصادي في الوطن العربي .

السبب /

٢- قلة الثروة الحيوانية في الوطن العربي .

السبب /

٣- معظم الحاصلات الزراعية تزرع في دول البحر المتوسط في الوطن العربي .

السبب /

٤- تناقص مساحات الأرض الزراعية في فلسطين .

السبب /

٥- تواجه الصناعة في الوطن العربي عدد من المعوقات .

السبب /

٦- اهتمام الدول العربية بإنشاء طرق المواصلات .

السبب /

٧- الطرق البرية أكثر انتشاراً من غيرها في الوطن العربي .

السبب /

٨- قلة السكك الحديدية في الوطن العربي .

السبب /

٩- زيارة الأشخاص حمامات ماعين والبحر الميت .

السبب /

١٠- أهمية النقل الجوي للوطن العربي .

السبب /

١١- تدني نسبة السياحة العربية إلى فلسطين

السبب /

السؤال التاسع : ما النتيجة المترتبة على :-

١- تعدد الموارد المعدنية في الوطن العربي .

النتيجة /

٢- توافر مقومات السياحة في الوطن العربي .

النتيجة /

٣- الهجرة من الريف إلى المدينة على الزراعة .

النتيجة /

٤- الآثار السلبية للصناعة على البيئة .

النتيجة /

٥- موقع الوطن العربي في قلب قارات العالم وصفاء سمائه .

النتيجة /

٦- تنوع وسائل النقل والمواصلات في الوطن العربي

النتيجة /

٧- إجراءات الاحتلال الصهيوني المستمرة ضد الفلسطينيين .

النتيجة /

السؤال العاشر : اقترح حلاً للمشكلات التالية :-

١- انخفاض إنتاجية الأرض .

الحل /

٢- تذبذب كميات الأمطار .

الحل /

٣- تملح التربة .

الحل /

٤- تناقص مساحة الأرض الزراعية في فلسطين .

الحل /

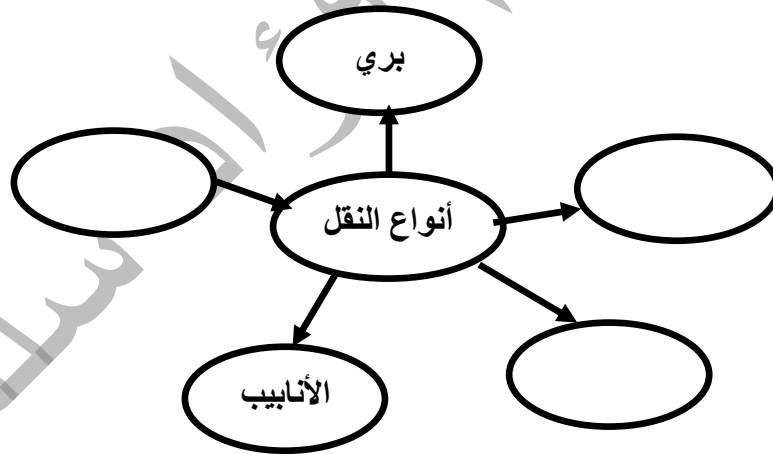
٥- ضعف الصناعة العربية .

الحل /

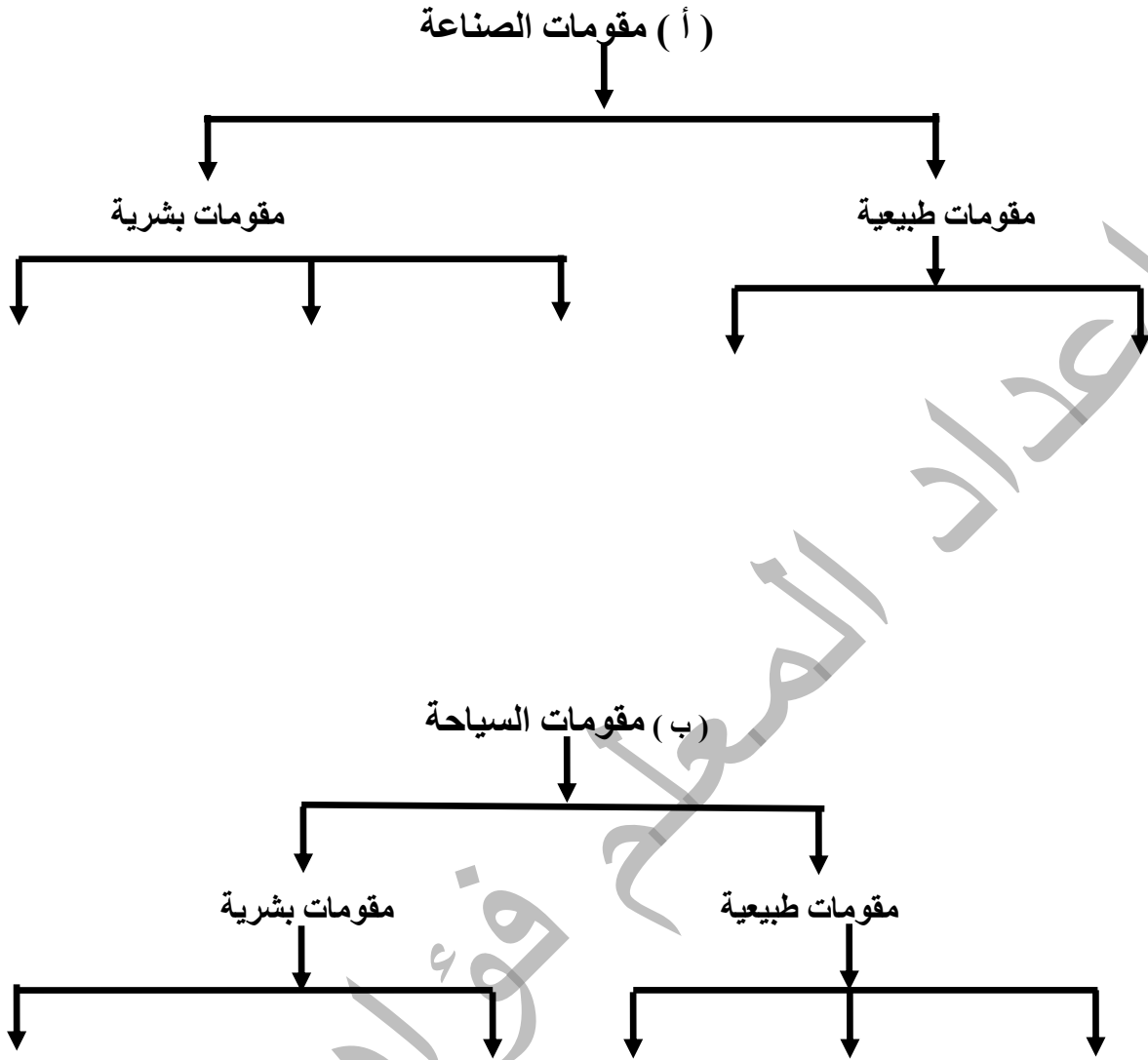
السؤال الحادي عشر : أكتب تحت السورة النشاط الاقتصادي الدالة عليه :-



السؤال الثاني عشر : أكمل الشكل :-



السؤال الثالث عشر : أكمل الخارطة المفاهيمية :-



أسئلة على الوحدة الأولى رحلة في الوطن العربي من صفحة (٢) إلى صفحة (٥١)

الدرس السادس :- الأمن المائي في الوطن العربي من صفحة (٤٤) إلى صفحة (٥١)

السؤال الأول : ضع علامة (صح) أمام العبارة الصحيحة وعلامة (خطأ) أمام العبارة الخاطئة :-

- ١- () تحظى مسألة المياه بأهمية كبيرة إقليمياً وعالمياً .
- ٢- () عمل الاستعمار الصهيوني على استغلال مياه نهر الأردن وتحويلها لصالح الضفة الغربية .
- ٣- () قام الاستعمار الصهيوني بالسيطرة على مصادر المياه وتدمير مضخات المياه على نهر الأردن .
- ٤- () بعد الاحتلال الصهيوني للبنان قام بالسيطرة على مصادر المياه في لبنان والمصادر المغذية لحوض نهر الأردن .
- ٥- () وفق القانون الدولي يحق للصهاينة الاستيلاء على مصادر المياه الفلسطينية .
- ٦- () يتحكم الاحتلال الصهيوني بالمياه الجوفية والسطحية في فلسطين .
- ٧- () تتعرض مصادر المياه العذبة في الوطن العربي للنضوب بشكل مستمر .
- ٨- () تعد منابع الأنهار العربية منابع داخلية .
- ٩- () بناء الآبار في المنازل لتجميع مياه الأمطار يسهم في حل الأزمة المائية .
- ١٠- () لا يجوز لأي دولة مشاطنة القيام بإنشاءات على المجرى المائي أو فروعه إلا بعد إخطار الدول المشاطنة معها .

السؤال الثاني : اختر الإجابة الصحيحة مما بين القوسين :-

- ١- كل ما يلي من أنهار الوطن العربي ما عدا (نهري دجلة والفرات - نهر الأمازون - نهر النيل)
- ٢- الأنهار التالية من الأنهار التي سيطر على مياهها الاستعمار الصهيوني في لبنان ما عدا (النيل - الليطاني - الحاصباني)
- ٣- انضمت فلسطين لاتفاقية الأمم المتحدة المتعلقة بقانون استخدام المجاري المائية عام (١٩٤٥م - ٢٠١٥م - ١٩٨٩م)

السؤال الثالث : صحح ما تحته خط :-

- ١- عمل الاحتلال الصهيوني على تجفيف بحيرة طبريا
- ٢- يعد الاستيلاء على مصادر المياه الفلسطينية انتهاك للحق الصهيوني وفق القانون الدولي
- ٣- معظم مياه سطح الأرض مياه عذبة

السؤال الرابع : برهن على أن :-

- ١- الاستعمار الصهيوني يسعى للسيطرة على مياه نهري النيل والفرات .

الإجابة /
٢- على أن الدين الإسلامي حث على أهمية المياه وعدم الإسراف في استخدامها .
الإجابة /

السؤال الخامس : أكتب المصطلح العلمي :-

- ١- (-----) ضمان توفر المياه بالكمية والنوعية المناسبين لتلبية احتياجات سكان الوطن العربي .

السؤال السادس : اكتب المشكلة التي تدل عليها الصورة :



السؤال السابع : اقرأ النص التالي ثم أجب عن الأسئلة التي تليه :
" سعى الاحتلال الصهيوني للسيطرة على مياه نهر الأردن وتحويلها إلى صحراء النقب كما عمل على تجفيف بحيرة الحولة عام ١٩٥١ م وتطورت مأساة بعد سنة ١٩٦٧ م واحتلال الجولان والضفة الغربية وقطاع غزة . "

١- إلى أين حول الاحتلال الصهيوني مياه نهر الأردن ؟

الإجابة /

٢- متى جفف الاحتلال بحيرة الحولة ؟

الإجابة /

٣- متى تطورت مأساة المياه في فلسطين ؟

الإجابة /

السؤال الثامن : بم تفسر :-

١- يعاني الوطن العربي من أزمة مائية رغم توفرها بغزارة على سطح الأرض .

السبب /

٢- لجوء فلسطين للانضمام لاتفاقية الأمم المتحدة المتعلقة بقانون استخدام المجاري المائية الدولية في الأغراض غير الملاحية .

السبب /

٣- أهمية المياه في حياة الانسان .

السبب /

٤- يجب العمل على ترشيد استهلاك المياه .

السبب /

٥- ضرورة اتفاق الدول المشاطنه الدول المشتركة بالشاطئ نفسة على أي أجرآت تقوم بها على المجاري المائية .

السبب /

٦- منع الاحتلال الصهيوني حفر الآبار الارتوازية في الضفة وغزة .

السبب /

السؤال التاسع : ما النتيجة المترتبة على :-

١- قلة المياه في الوطن العربي .

النتيجة /

٢- وقوع الحوضين الجوفيين الغربي والشمالي خلف جدار الضم العنصري .

النتيجة /

السؤال عاشر : اقترح حلاً للمشكلات التالية :-

٦- نقص المياه العذبة في الوطن العربي .

الحل /

٧- تلوث المياه السطحية في الوطن العربي .

الحل /

أسئلة على الوحدة الثانية التطورات السياسية في الوطن العربي من صفحة (٥٢) إلى صفحة (٧٤)
الدرس الأول :- القوى السياسية المسيطرة على الوطن العربي قبل الحكم العثماني من صفحة (٥٤) إلى صفحة (٥٩)

السؤال الأول : ضع علامة (صح) أمام العبارة الصحيحة وعلامة (خطأ) أمام العبارة الخاطئة :-

- ١- () خضع شمال أفريقيا لحكم أسر محلية .
- ٢- () كان نظام الحكم الصفوي نظام جمهوري .
- ٣- () كان الملك الصفوي فوق القانون وعلى الشعب أن يطيعه في كل شيء .
- ٤- () اعتمد الملك نجم الدين أيوب على المماليك في تثبيت دولته ومحاربة أعدائه .
- ٥- () كانت مدينة دمشق آخر معاقل الصليبيين .
- ٦- () قام المماليك ببناء العديد من المدارس والمستشفيات .

السؤال الثاني : اختر الإجابة الصحيحة مما بين القوسين :-

- ١- كل ما يلي من القوى السياسية التي سيطرت على الوطن العربي قبل الحكم العثماني ما عدا (المماليك - البرتغاليين - البريطانيون)
- ٢- خضعت بلاد الشام ومصر قبل الحكم العثماني لحكم
- ٣- سيطر الصفويين في الوطن العربي على
- ٤- انتهت الدولة الصفوية عام
- ٥- كل ما يلي من سلاطين المماليك ما عدا
- ٦- انتصر المماليك في معركة عين جالوت على
- ٧- وقعت معركة عين جالوت في
- ٨- كلمة مملوك تعني
- ٩- تقع دولة البرتغال في قارة

السؤال الثالث : صحح ما تحته خط :-

- ١- خضعت مسقط والبحرين لسيطرة الصفويين
- ٢- كان الملك الصفوي يلقب بالسلطان .
- ٣- انتصر المماليك على المغول في معركة حطين .
- ٤- نجم الدين أيوب ملك صفوي .
- ٥- نشأت الدولة المملوكية في بلاد الشام .

السؤال الرابع : برهن على أن :-

- ١- المماليك كانوا يتمتعون بقوة عسكرية .
- الإجابة /
- ٢- في الاتحاد قوة وفي التفرق ضعف .
- الإجابة /

السؤال الخامس : أكتب المصطلح العلمي :-

- ١- (-----) نشأت في إيران عام ١٥٠١ م وتوسعت في الشرق والغرب .
- ٢- (-----) أشتراهم الملك نجم الدين أيوب ودرهم تدريباً عسكرياً ليعتمد عليهم في تثبيت دولته وبعد ذلك سيطروا على مقاليد الحكم والسلطة .
- ٣- (-----) قوة استعمارية احتلت مسقط والبحرين ومضيق هرمز .

السؤال السادس : بم تفسر :-

- ١- تسمية الدولة الصفوية بهذا الاسم .
- السبب /
- ٢- تسمية المماليك بهذا الاسم .
- السبب /

السؤال السابع : ما النتيجة المترتبة على :-

١- قوة دولة المماليك .

النتيجة /

٢- الانقسام بين المسلمين .

النتيجة /

السؤال الثامن : أقرأ النص التالي ثم أجب عن الأسئلة التي تليه :-

" نشأت الدولة الصفوية في إيران عام ١٥٠١ م وتنسب إلى مؤسسها إسماعيل الصفوي وقد توسعت في الشرق والغرب باتجاه خراسان وأفغانستان وأذربيجان والعراق وديار بكر "


١- أين نشأت الدولة الصفوية ؟ ومتى ؟

الإجابة :

٢- ما هي المناطق التي توسعت فيها الدولة الصفوية ؟

الإجابة :

السؤال التاسع : ارسم خريطة موقع معركة عين جالوت وخط سير جيش المماليك وجيش المغول إلى المعركة :-



أسئلة على الوحدة الثانية التطورات السياسية في الوطن العربي من صفحة (٥٢) إلى صفحة (٧٤)

الدرس الثاني :- الحكم العثماني للوطن العربي من صفحة (٦٠) إلى صفحة (٦٤)

السؤال الأول : ضع علامة (صح) أمام العبارة الصحيحة وعلامة (خطأ) أمام العبارة الخاطئة :-

- ١- () هاجر سليمان جد عثمان من كردستان إلى الأناضول .
- ٢- () أسس العثمانيون دولة فتية أخذت بالاتساع تدريجياً .
- ٣- () كانت الدولة العثمانية دولة قوية ومستقرة وتمتلك أكبر المصادر الاقتصادية .
- ٤- () خضعت مراکش (المغرب) للحكم العثماني .
- ٥- () بعد ارسال شريف مكة مفاتيح الكعبة للسلطان العثماني امتلك العثمانيون الشرعية الدينية .
- ٦- () تسلم العثمانيون مفاتيح الكعبة من العباسيين بعد سيطرتهم على الوطن العربي .
- ٧- () بعد وفاة عثمان خلفه ابنه أرطغرل والذي يعتبر مؤسس الدولة العثمانية .
- ٨- () ما زالت مدينتنا سبته ومليلة تخضعان للاحتلال الأسباني .

السؤال الثاني : اختر الإجابة الصحيحة مما بين القوسين :-

- ١- مؤسس الدولة العثمانية هو (أرطغرل - عثمان - سليمان)
- ٢- السلطان العثماني الذي فتح الوطن العربي (سليم الأول - عبد الحميد الثاني - سليمان القانوني)
- ٣- هاجم الأسبان المغرب العربي واحتلوا جزيرة (سبته - مليلة - جميع ما ذكر)
- ٤- وقعت معركة جالديران عام (١٥١٥ م - ١٥١٦ م - ١٥١٤ م)
- ٥- ضم العثمانيون بلاد الشام بعد انتصارهم على المماليك في معركة (مرج دابق - جالديران - الريدانية)
- ٦- وقعت معركة مرج دابق عام (١٥٢٠ م - ١٥١٦ م - ١٥١٧ م)
- ٧- وقعت معركة الريدانية عام (١٥١٦ م - ١٥١٨ م - ١٥١٧ م)
- ٨- أرسل شريف مكة مفاتيح الكعبة للسلطان العثماني عام (١٥١٧ م - ١٥٢٠ م - ١٥١٥ م)

السؤال الثالث : صحح ما تحته خط :-

- ١- ساعد عثمان السلاجقة في قتالهم مع الروم
- ٢- أصبحت أنقرة تبهر أنظار الأوروبيين كأبرز مراكز الحضارة في العالم
- ٣- فتح العثمانيون مصر بعد معركة مرج دابق مع المماليك
- ٤- أرسل شريف مكة مفاتيح الكعبة للسلطان عبد الحميد الأول

السؤال الرابع : برهن على أن :-

- ١- الدولة العثمانية حافظت على وحدة الوطن العربي .

الإجابة /

السؤال الخامس : أكتب المصطلح العلمي :-

- ١- (عاصمة الدولة العثمانية)
- ٢- (معركة حاسمة انتصر فيها العثمانيون على الصفويين)
- ٣- (معركة انتصر فيها العثمانيون على المماليك وفتحوا بلاد الشام)
- ٤- (معركة انتصر فيها العثمانيون على المماليك وفتحوا مصر)

السؤال السادس : أكمل الفراغ بالكلمة المناسبة :-

- ١- عندما توفي أرطغرل خلفه ابنه _____
- ٢- من المناطق التي سيطر عليها العثمانيون في المرحلة الأولى من توسعهم _____ و _____ و _____
- ٣- انتقلت عاصمة العثمانيون من مدينة بورصة إلى _____ ثم إلى _____
- ٤- لم تخضع مراکش للحكم العثماني وبقيت تحت حكم _____ و _____

السؤال السابع : بم تفسر :-

١- تغير عاصمة الدولة العثمانية أكثر من مرة .

السبب /

٢- عانت الدولة العثمانية في أواخر عهدها من الضعف والتفكك .

السبب /

٣- توجه العثمانيون في فتوحاتهم نحو الوطن العربي .

السبب /

٤- الصراع بين الصفويين والعثمانيون .

السبب /

٥- محاربة العثمانيون للمماليك في مصر .

السبب /

السؤال الثامن : ما النتيجة المترتبة على :-

١- مساعدة العثمانيون للسلاجقة ضد الروم .

النتيجة /

٢- الثورات الداخلية والحركات الانفصالية ضد الدولة العثمانية .

النتيجة /

٣- معركة جالديران .

النتيجة /

٤- معركة الريدانية .

النتيجة /

٥- معركة مرج دابق .

النتيجة /

٦- ضم العثمانيون المغرب العربي لحكمهم .

النتيجة /

أسئلة على الوحدة الثانية التطورات السياسية في الوطن العربي من صفحة (٥٢) إلى صفحة (٧٤)
الدرس الثالث :- أحوال الوطن العربي تحت الحكم العثماني من صفحة (٦٥) إلى صفحة (٦٩)

- السؤال الأول : ضع علامة (صح) أمام العبارة الصحيحة وعلامة (خطأ) أمام العبارة الخاطئة :-
- ١- () كانت الدولة العثمانية تحكم وفق الشريعة الإسلامية .
 - ٢- () بدأت محاولات إصلاح الجيش ونظام الإدارة في القرن السابع عشر .
 - ٣- () خفف نظام الالتزام في جباية الضرائب على كاهل الفلاحين .
 - ٤- () أوجد نظام الالتزام طبقة إقطاعية غنية وطبقة فلاحين معدومة .
 - ٥- () النظام الاقتصادي الذي أتبعه العثمانيون في الوطن العربي هو النظام الاشتراكي .
 - ٦- () يعتبر الجيش أساس الدولة العثمانية وكان قائماً على الجند السباهية .
 - ٧- () اقتصر التعليم في الكتاتيب على تعلم القرآن والحساب .
 - ٨- () اهتم العثمانيون بالتعليم في الوطن العربي في أواخر عهدهم .
 - ٩- () شيخ الإسلام هو المفتي الأكبر .
 - ١٠- () يشرف الصدر الأعظم على الوظائف الدينية والقضاة والمفتين والخطباء والأئمة .

السؤال الثاني : اختر الإجابة الصحيحة مما بين القوسين :-

- ١- رأس النظام السياسي في الدولة العثمانية هو (السلطان - الصدر الأعظم - الجيش)
- ٢- نظام لجباية الضرائب قائم على أساس المزايدة (نظام الإقطاع - نظام الالتزام - الدفتردارية)
- ٣- اقتصر التعليم في القرى زمن العثمانيون على (الكتاتيب - المعاهد - المدارس)
- ٤- تتمثل الإدارة المالية في الدولة العثمانية في (الدفتر دارية - المتصرفية - نظام الالتزام)
- ٥- مهمته متابعة المصروفات والواردات وجمع الأموال في ولايته (الوالي - الدفتر دار - السلطان)
- ٦- مرجعية السلطان في إصدار القوانين والتشريع (مرجعية السلطان في إصدار القوانين والتشريع)
- ٧- قسم القضاء إلى (ناحية - قرية - لواء)

السؤال الثالث : صحح ما تحته خط :-

- ١- الجند الإنكشارية هم أقدم أنواع الجند في الدولة العثمانية
- ٢- ينوب الوالي عن السلطان أثناء غيابه
- ٣- تتكون الإدارة المالية من شيخ الإسلام
- ٤- كانت متصرفية دمشق ترتبط مباشرة بالعاصمة الأستانة

السؤال الرابع : برهن على أن :-

- ١- غير المسلمين في الدولة العثمانية كانوا يتمتعون بحقوقهم الشرعية .
- الإجابة /

السؤال الخامس : أكمل الفراغ بالكلمة المناسبة :-

- ١- من أهم الولايات العثمانية في الوطن العربي ----- و ----- و -----
- ٢- انقسم المجتمع في الدولة العثمانية إلى طبقتين هما طبقة ----- وطبقة -----
- ٣- كان التعليم زمن العثمانيين في الوطن العربي في المدن في ----- و -----
- ٤- كل ولاية عثمانية قسمت إلى -----
- ٥- كل لواء قسم إلى -----
- ٦- قسمت الناحية إلى -----

السؤال السادس : أكتب المصطلح العلمي :-

- ١- (-----) حاكم عثماني وهو نائب السلطان في حكم الولاية .
- ٢- (-----) مجموعة من الجند تكلف بمهمة حماية المراكز الحدودية والمواقع الاستراتيجية وقوافل الحج .
- ٣- (-----) نظام اقتصادي اجتماعي عسكري قائم على حيازة الأرض
- ٤- (-----) طبقة تشمل الإداريين والقوات المسلحة ورجال الدين .
- ٥- (-----) طبقة من عامة الناس والفلاحين وكانت تعاني من الظلم .

السؤال السابع : بم تفسر :-

١- قيام الدولة العثمانية بمحاولات لإصلاح الجيش ونظام الإدارة .

السبب /

٢- شهد الوطن العربي أواخر العهد العثماني تراجعاً في المجال الاقتصادي .

السبب /

٣- تقسيم الدولة العثمانية إدارياً وعسكرياً إلى ولايات .

السبب /

٤- انتشار الأمية والجهل في الوطن العربي في أواخر حكم الدولة العثمانية .

السبب /

السؤال الثامن : ما النتيجة المترتبة على :-

١- تطبيق العثمانيين نظام الأقطاع في الوطن العربي .

النتيجة /

٢- اتباع العثمانيين نظام الالتزام في جباية الضرائب .

النتيجة /

السؤال التاسع : أقرأ النص التالي ثم أجب عن الأسئلة التي تليه :-

" الحق في التعليم من الحقوق الأساسية التي يتمتع بها الإنسان وكفلتها المواثيق الدولية وتضمنتها الدساتير الوطنية

ويُفرض على الجهات المكلفة بالعمل على تنفيذ تلك الاتفاقيات والمواثيق الدولية "

١- ما هو الحق الذي ذكر في النص ؟

الاجابة :

٢- من هي الجهات المكلفة بالعمل على تنفيذ الاتفاقيات والمواثيق ؟

الاجابة :

أسئلة على الوحدة الثانية التطورات السياسية في الوطن العربي من صفحة (٥٢) إلى صفحة (٧٤)

الدرس الرابع :- فلسطين في العهد العثماني من صفحة (٧٠) إلى صفحة (٧٤)

السؤال الأول : ضع علامة (صح) أمام العبارة الصحيحة وعلامة (خطأ) أمام العبارة الخاطئة :-

- ١- () قسم العثمانيون فلسطين إلى سبعة سناجق .
- ٢- () حكم فخر الدين المعني لبنان وشمال فلسطين .
- ٣- () سيطر إبراهيم باشا على بلاد الشام وفلسطين حتى عام ١٨٤٠ م .
- ٤- () ساعدت الدول الأوروبية الدولة العثمانية في طرد إبراهيم باشا من بلاد الشام وفلسطين .
- ٥- () تمرد كثير من الأمراء والشيوخ المحليين في بدايات الحكم العثماني .
- ٦- () كانت الصناعات في العهد العثماني صناعات متطورة .
- ٧- () كانت التجارة في العهد العثماني رهينة الوضع السياسي والأمني .
- ٨- () لم تتأثر الأوضاع الاجتماعية في فلسطين بالصراعات التي كانت تقوم بين الزعامات المحلية .
- ٩- () شهدت فلسطين في العهد العثماني نهضة عمرانية كبيرة .
- ١٠- () لازلت الساعات الدقاقة التي بناها العثمانيون ماثلة في المدن الفلسطينية حتى الآن .

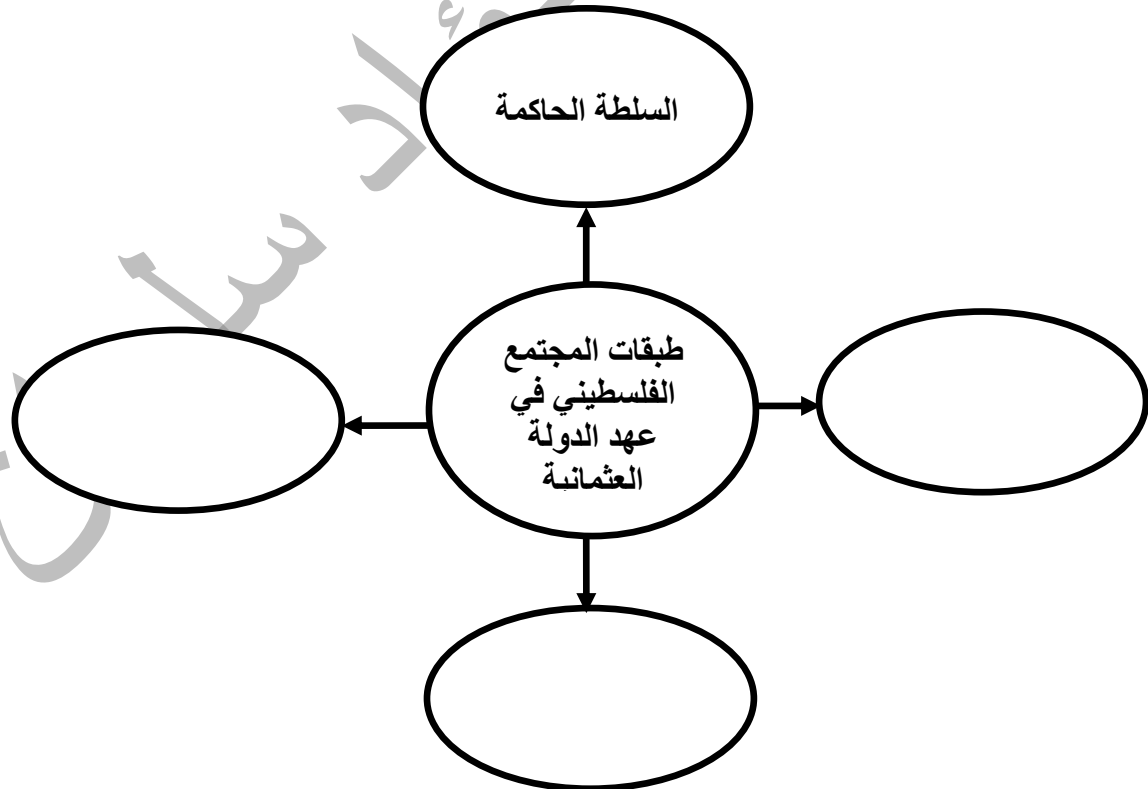
السؤال الثاني : اختر الإجابة الصحيحة مما بين القوسين :-

- ١- من أهم سناجق فلسطين سنجق (غزة - نابلس - القدس)
- ٢- قسمت بقية بلاد الشام إلى (٤ سناجق - ٦ سناجق - ٨ سناجق)
- ٣- حاكم عكا الذي تصدى لحصار نابليون لعكا هو (محمد علي - إبراهيم باشا - أحمد باشا الجزار)
- ٤- كل ما يلي من الصناعات اليدوية الفلسطينية في العهد العثماني ما عدا (الزجاج - المواد الغذائية - النحاس)
- ٥- قام بترميم كنيسة القيامة والأديرة السلطان (سليمان القانوني - سليم الأول - عبد الحميد الثاني)

السؤال الثالث : صحح ما تحته خط :-

- ١- تحول مسمى سنجق القدس إلى ولاية
- ٢- قضى أحمد باشا الجزار على ثورة فخر الدين المعني
- ٣- طبقة رجال الدين تشكل الغالبية العظمى من السكان زمن العثمانيين

السؤال الرابع : أكمل الشكل :-



السؤال الخامس : برهن على أن :-

١- العثمانيون أهتموا بالكنائس والأديرة .

الإجابة /

٢- أولى العثمانيون المقدسات الإسلامية في فلسطين اهتمام خاص .

الإجابة /

السؤال السادس : من أكون :-

١- () حكمت لبنان وشمال فلسطين وقمت بحركة انفصالية عن الدولة العثمانية عام ١٦٠٣ م .

٢- () قمت بحركة انفصالية عن الدولة العثمانية عام ١٦٨٩ م - ١٧٧٥ م .

٣- () توليت حكم عكا بعد القضاء على ثورة ظاهر العمر .

٤- () سيطرت على بلاد الشام وفلسطين عام ١٨٣١ م .

٥- () حاكم مصر وأرسلت ابني للسيطرة على بلاد الشام وفلسطين .

السؤال السابع : بم تفسر :-

١- تقسيم العثمانيون فلسطين إلى خمسة سناجق رغم صغر مساحتها .

السبب /

٢- ربط متصرفية القدس بالأستانة مباشرة .

السبب /

٣- لجوء الدولة العثمانية إلى التقسيمات الإدارية .

السبب /

٤- اهتمام القوى السياسية المجاورة لفلسطين بالسيطرة عليها .

السبب /

٥- نشاط حركة التجارة في بداية الحكم العثماني .

السبب /

٦- تراجع الوضع الاقتصادي في الوطن العربي أواخر الحكم العثماني .

السبب /

٧- إبقاء العثمانيون على الزعامات المحلية في الحكم عند سيطرتهم على فلسطين .

السبب /

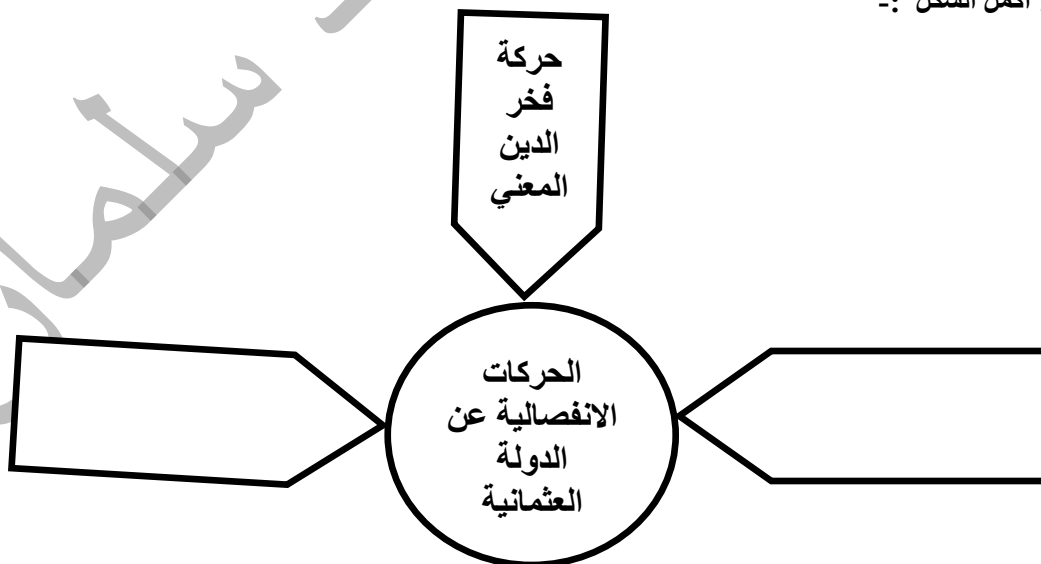
٨- بناء العثمانيون للساعات الدقاقة في المدن الفلسطينية .

السبب /

٩- وجود كثير من القلاع والحصون في فلسطين .

السبب /

السؤال الثامن : أكمل الشكل :-



السؤال التاسع : ما النتيجة المترتبة على :-

١- تصدى أحمد باشا الجزائر وأهالي فلسطين للغزو الفرنسي .

النتيجة /

٢- ضعف الدولة العثمانية في أواخر عهدها .

النتيجة /

٣- كثرة الضرائب على الفلاحين في العهد العثماني .

النتيجة /

السؤال العاشر : اختر من المجموعة (أ) ما يناسبها من المجموعة (ب) :-

المجموعة (ب)

المجموعة (أ)

١٧٩٩ م ()

١- حركة فخر الدين المعني عام

١٦٠٣ م ()

٢- تعيين أحمد باشا الجزائر والي عكا عام

١٨٣١ م ()

٣- حصار نابليون لعكا عام

١٨٤٠ م ()

٤- سيطرة إبراهيم باشا على الشام عام

١٧٧٥ م ()

٥- طرد إبراهيم باشا من الشام عام

أسئلة على الوحدة الثالثة المواطنة حقوق وواجبات من صفحة (٧٥) إلى صفحة (٩٢)

الدرس الأول :- المواطنة حقوق وواجبات من صفحة (٧٧) إلى صفحة (٨٣)

السؤال الأول : أكتب المصطلح العلمي :-

- ١- (علاقة تعاقدية بين الفرد والدولة وفق الأنظمة والقوانين المعمول بها .
- ٢- (المواطنة التي تهدف إلى تعزيز الحقوق المدنية للمواطنين وتكريس مبدأ سيادة القانون .
- ٣- (حق المواطن في المشاركة في إدارة الشأن العام والمشاركة السياسية .
- ٤- (مشاركة المواطنين الايجابية في تنمية مجتمعهم .
- ٥- (الشعور بالانتماء للمجتمع والذي يتخطى الحدود الجغرافية لشمول جميع البشر في العالم .
- ٦- (مجموعة القواعد والمعايير والأعراف والأفكار والمبادئ المتبعة في الاستخدام الأمثل للتكنولوجيا .
- ٧- (الالتزامات التي يؤديها المواطن تجاه وطنه ومجتمعه .
- ٨- (أن يكون المواطن مشاركاً إيجابياً تجاه قضايا مجتمعه المختلفة .
- ٩- (التزامات وواجبات الدولة التي يجب توفيرها للمواطنين .
- ١٠- (القيم التي يكتسبها المواطن وتنعكس بشكل إيجابي في سلوكه تجاه المجتمع .
- ١١- (شعور داخلي وجداني يجعل المواطن يحب وطنه ويعمل على تقدمه والدفاع عنه .
- ١٢- (مسؤوليات ضرورية ويجب عدم الإخلال بها ويحاسب عليها القانون .
- ١٣- (مسؤوليات لا يحاسب عليها في حالة عدم القيام بها .

السؤال الثاني : ضع علامة (صح) أمام العبارة الصحيحة وعلامة (خطأ) أمام العبارة الخاطئة :-

- ١- (يتم اختيار ممثلي الشعب عن طريق الاقتراع العام .
- ٢- (يسمح بعقد الاجتماعات العامة في حدود القانون .
- ٣- (المواطنة المسؤولة تعزز مفهوم المسؤولية المجتمعية .
- ٤- (التعايش السلمي والانتماء والمسؤولية تجاه الأرض والاهتمام بقضايا البيئة مواطنة رقمية .
- ٥- (يساهم الاستخدام الأمثل للتكنولوجيا في رقي المجتمع .
- ٦- (المواطن الرقمي هو المواطن الذي يستخدم الانترنت بشكل منظم وفعال وآمن .
- ٧- (يمكن تحقيق المواطنة الكاملة في المجتمع دون الالتزام بالواجبات .
- ٨- (يحاسب القانون على عدم القيام بالمسؤوليات الطوعية .
- ٩- (تدعيم المواطنة يؤدي إلى دعم السلم الأهلي والاستقرار السياسي .
- ١٠- (تدعيم المواطنة يضمن الشراكة الحقيقية في تنمية المجتمع .

السؤال الثالث : اختر الإجابة الصحيحة مما بين القوسين :-

- ١- كل ما يلي من الحقوق التي كفلتها المواطنة السياسية ما عدا (تشكيل الأحزاب - تشكيل النقابات - حرية العبادة)
- ٢- التصويت والترشح في الانتخابات حقوق كفلتها المواطنة (السياسية - الكونية - الرقمية)
- ٣- المشاركة الفاعلة في صنع القرارات والتأثير فيها مواطنة (سياسية - مسؤولة - كونية)
- ٤- كل ما يلي تقوم عليه المواطنة الكونية ما عدا (السلام والتسامح - احترام الثقافات - التمييز بين البشر)
- ٥- توجه الأفراد نحو منافع التكنولوجيا الحديثة وتحميه من أخطارها المواطنة (المسؤولة - الرقمية - الكونية)
- ٦- كل ما يلي من مكونات المواطنة ما عدا (الحقوق - المشاركة المجتمعية - عدم الانتماء)

السؤال الرابع : صحح ما تحته خط :-

- ١- أكدت المادة ٣٦ من القانون الأساسي على حق الفلسطينيين في المشاركة السياسية .
- ٢- يتم تقليد المناصب والوظائف العامة على قاعدة الواسطة .
- ٣- الاهتمام بالقضايا البيئية وجعلها أكثر استدامة مواطنة سياسية .
- ٤- المسؤوليات الملزمة تعد من صفات المواطن الايجابي الفاعل في المجتمع .
- ٥- تمتاز المسؤوليات بأنها طبيعية وعالمية وشاملة .

السؤال الخامس : بم تفسر :-

- ١- تعطي المواطنة المسؤولة المواطنين حق مساءلة من يشغلون الوظائف العامة .
السبب /
- ٢- يسمح القانون الأساسي الفلسطيني بحق المواطنين بالترشح في الانتخابات .
السبب /
- ٣- تعتبر المواطنة الرقمية توجيه وحماية .
السبب /

السؤال السادس : ما النتيجة المترتبة على :-

- ١- استخدام التكنولوجيا الحديثة .
النتيجة /
- ٢- تدعيم المواطنة في الدولة .
النتيجة /
- ٣- تنظيم العلاقة بين المواطنين والدولة على أساس الثقة المتبادلة .
النتيجة /
- ٤- الحد من الصراعات الداخلية الطائفية والحزبية داخل الدولة .
النتيجة /

أسئلة على الوحدة الثالثة المواطنة حقوق وواجبات من صفحة (٧٥) إلى صفحة (٩٢)
الدرس الثاني :- المواطنة تعزز مكافحة الفساد من صفحة (٨٤) إلى صفحة (٩٢)

السؤال الأول : اختر الإجابة الصحيحة مما بين القوسين :-

- ١- كل ما يلي من أسباب انتشار الفساد ما عدا . (سيادة القانون - انتشار الفقر والجهل - ضعف الجهاز القضائي)
- ٢- من جرائم الفساد المنتشرة في المجتمع . (غسل الأموال - إساءة استعمال السلطة - الاثنان معاً)
- ٣- كل ما يلي من جرائم الفساد ما عدا . (الوساطة والمحسوبية - استعمال السلطة حسب القانون - الكسب الغير مشروع)
- ٤- اعفاء الشركات أو المواطنين من الضرائب أو الجمارك المستحقة عليهم . (مساس بالمال العام - استغلال للمنصب - استغلال وظيفي)
- ٥- كل ما يلي من مؤسسات مكافحة الفساد الدولية ما عدا . (اتفاقية الأمم المتحدة لمكافحة الفساد - قانون مكافحة الفساد الفلسطيني - منظمة الشفافية الدولية)
- ٦- من القوانين الوطنية لمكافحة الفساد . (المجلس التشريعي - ديوان الرقابة المالية والإدارية - الاثنان معاً)

السؤال الثاني : أكتب المصطلح العلمي :-

- ١- (خروج عن القانون والنظام أو استغلال غيابهما من أجل تحقيق مكاسب فردية أو جماعية .)
- ٢- (طلب أموال أو عرضها أو قبولها من أجل تنفيذ عمل مخالف لأصول المهنة .)
- ٣- (تنفيذ أعمال لصالح فرد أو جهة ينتمي لها الشخص دون أن يكونوا مستحق لها .)
- ٤- (الحصول على أموال الدولة والتصرف فيها من غير وجه حق بشكل سري .)
- ٥- (العملية التي تتم بموجبها إعادة تدوير الأرباح المتولدة من الأنشطة الغير مشروعة .)

السؤال الثالث : بم تفسر :-

- ١- انتشار ظاهرة الفساد في المجتمع .

السبب :

- ٢- قيام بعض الأشخاص بالمساس بالمال العام .

السبب :

- ٣- ارتفاع نسبة البطالة في المجتمع الفلسطيني .

السبب :

- ٤- يؤثر الفساد سلباً على كمية الخدمات الصحية .

السبب :

- السؤال الرابع : ضع علامة (صح) أمام العبارة الصحيحة وعلامة (خطأ) أمام العبارة الخاطئة :-
- ١- () الفساد سلوك يخالف الواجبات الرسمية للمنصب العام .
 - ٢- () الفساد يعمل على تحقيق مكاسب للصالح العام .
 - ٣- () الجرائم المخلة بواجبات الوظيفة العامة تعتبر فساد .
 - ٤- () كل فعل يؤدي إلى المساس بالأموال العامة يعتبر فساد .
 - ٥- () غسل الأموال يمكن الأموال الغير مشروعة من الدخول بشكل مشروع داخل النظام المالي .
 - ٦- () تمتد آثار الفساد لتشمل مختلف الجوانب السياسية والاقتصادية والاجتماعية .
 - ٧- () كلما زاد الفساد زاد النمو الاقتصادي .
 - ٨- () عمل الاحتلال الصهيوني على تطوير الاقتصاد الفلسطيني .
 - ٩- () عدم توفير فرص عمل وتشغيل محلية وخارجية يؤدي إلى انتشار البطالة .
 - ١٠- () الفساد يؤثر تأثير ايجابي على كمية الخدمات الصحية .
 - ١١- () كلما زاد الفساد زاد دخل الفرد .

السؤال الخامس : ما النتيجة المترتبة على :-

١- غياب سيادة القانون وضعف الجهاز القضائي .

النتيجة :

٢- المساس بالمال العام .

النتيجة :

٣- غسل الأموال .

النتيجة :

٤- انتشار الفساد في المجتمع .

النتيجة :

٥- محاربة الفساد في المجتمع .

النتيجة :

إعداد المعطم فؤاد سلطان