




# ثانية حضانة



اسم



مديرة المدرسة  
..... / أ

هدية مجانية بيومي سمير ت/ 01064549464

1

التاريخ: .....



أكتب:-



مراجعة



5

4

3

2

1

التاريخ: .....



أكتب:-

064549464



9	8	7	6

التاريخ: .....



ميرت / 01064549464

3



## مراجعة

14

13

12

11

10



أكتب:-

هدية مجانية بيومي سمير ت/ 01064549464

5

مراجعة

19

18

17

16

15

التاريخ: .....

مراجعة عامة على ما سبق

هدية مجانية بيومي سمير ت/ 01064549464



24

23

22

21

20

التاريخ : .....



أكتب:-



هدية مجانية بيومي سمير ت/ 01064549464

لتحميل المزيد زوروا موقع زهور الأقصى [www.zohoralaqsa.com](http://www.zohoralaqsa.com)



29

28

27

26

25

التاريخ: .....

مراجعة





27

26

24

21

29

28

21

22

26

27

22

23

28

29

23

24



التاريخ: .....



مكونات العدد  
(1)

$$= 1 + 0$$

1



$$= 0 + 1$$

التاريخ: .....

مكونات العدد  
( 2 )

$$= 2 + 0$$

2

$$= 0 + 2$$

$$= 1 + 1$$



التاريخ: .....

# مراجعة

أكتب الناتج :-

$$= 1 + 0$$

$$= 0 + 1$$

$$= 0 + 2$$

$$= 2 + 0$$

$$= 1 + 1$$

التاريخ: .....



مكونات العدد  
( 3 )



$$= 0 + 3$$

$$= 3 + 0$$



3




$$= 2 + 1$$

$$= 1 + 2$$

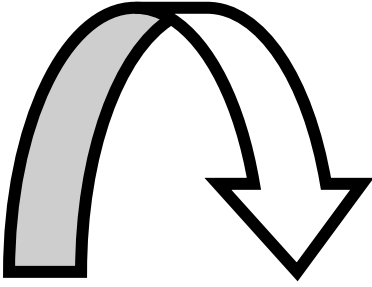


التاريخ: .....

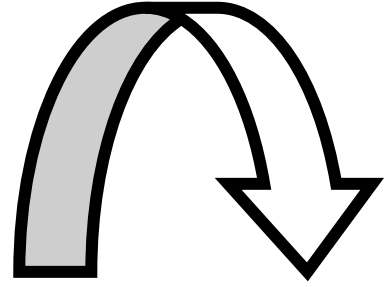


مكونات العدد  
( 4 )


4




$$= 0 + 4$$




$$= 4 + 0$$



$$= 1 + 3$$



$$= 3 + 1$$



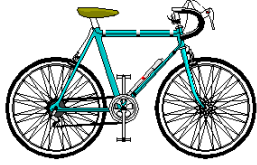
$$= 2 + 2$$





التاريخ: .....

# مراجعة



أكتب الناتج :-

$$= 4 + 0$$

$$= 3 + 0$$

$$= 0 + 4$$


$$= 0 + 3$$

$$= 1 + 3$$


$$= 2 + 1$$

$$= 3 + 1$$

$$= 1 + 2$$

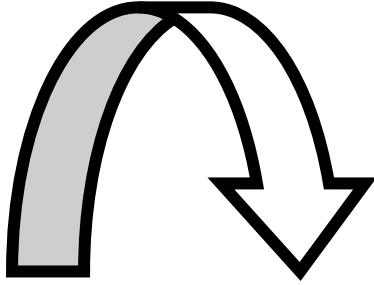


$$= 2 + 2$$

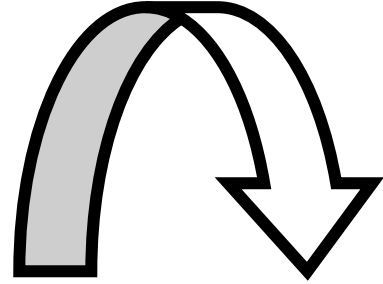


التاريخ: .....

مكونات العدد  
( 5 )





5



$$= 0 + 5$$





$$= 5 + 0$$



$$= 1 + 4$$

$$= 4 + 1$$



$$= 3 + 2$$

$$= 2 + 3$$

التاريخ: .....



# مراجعة



أكتب الناتج :-

$$= 5 + 0$$

$$= 0 + 5$$

$$= 4 + 1$$

$$= 1 + 4$$

$$= 2 + 3$$

$$= 3 + 2$$

التاريخ: .....



أكتب:-



34

33

32

31

30

التاريخ: .....



أكتب:-

064540

هدية مجانية



39

38

37

36

35

التاريخ: .....





30



33



36



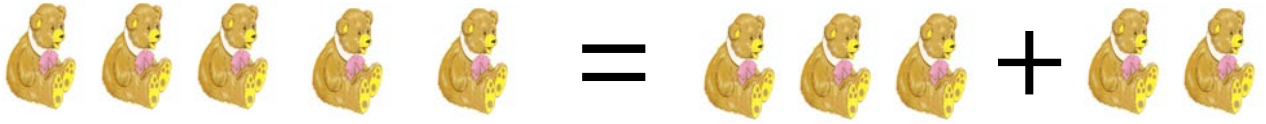
39

التاريخ: .....

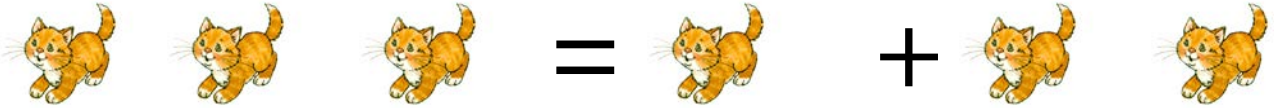
الشرح

الجمع

هدية مجانية لزمي سمير



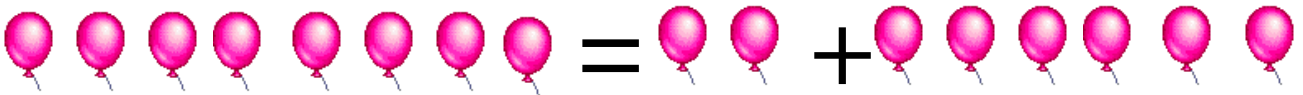
$$5 = 3 + 2$$



$$3 = 1 + 2$$



$$6 = 3 + 3$$



$$8 = 2 + 6$$

التاريخ: .....

أجمع

هدية



التاريخ: .....

مراجعة



أجمع:-

$$= 0 + 7$$

$$= 4 + 2$$

$$= 1 + 8$$

$$= 3 + 5$$

$$= 5 + 0$$

$$= 1 + 2$$

$$= 4 + 2$$

$$= 1 + 4$$

$$= 1 + 9$$

$$= 4 + 2$$

$$= 2 + 7$$

$$= 0 + 3$$

$$= 3 + 3$$

$$= 2 + 6$$



التاريخ: .....



الأعداد الزوجية  
( 10 , 8 , 6 , 4 , 2 , 0 )

2

0

6

4

10

8

التاريخ: .....

أكتب الأعداد الزوجية:-



10	8	6	4	2	0

التاريخ: .....



الأعداد الفردية  
( 9 , 7 , 5 , 3 , 1 )

3



1



5



9

7



التاريخ: .....

أكتب الأعداد الفردية:-




9	7	5	3	1

التاريخ: .....




# مراجعة على الأعداد الزوجية

لون الأعداد الزوجية باللون الأحمر و أكتب:-






التاريخ: .....



## مراجعة على الأعداد الفردية

لون الأعداد الفردية باللون الأخضر و أكتب:-

أكتب:-



التاريخ: .....



الجمع الكبير  
( أكبر من 10 )



$$= 5 + 7$$

$$= 4 + 10$$

$$= 5 + 11$$

$$= 8 + 10$$

$$= 8 + 12$$

$$= 5 + 6$$

$$= 7 + 6$$

$$= 7 + 8$$

$$= 8 + 9$$

$$= 8 + 11$$





التاريخ: .....

# مراجعة الجمع الكبير



أكمل:-

$$= 9 + 5$$

$$= 8 + 3$$

$$= 7 + 9$$

$$= 8 + 6$$

$$= 5 + 11$$

$$= 5 + 10$$

$$= 14 + 2$$

$$= 5 + 15$$



التاريخ: .....

علامة أكبر من  
( < )



$$1 < 5$$



$$3 < 8$$



$$2 < 6$$



$$2 < 4$$

التاريخ: .....

ضع علامة أكبر من  
( < )



5 9

4 10

3 8



2 6



1 4

3 5

6 7




التاريخ: .....

علامة أصغر من  
( > )



$$6 > 4$$



$$5 > 2$$



$$7 > 3$$



$$4 > 1$$

التاريخ: .....



ضع علامة أصغر من  
( > )

6 3

9 5

4 2

2 6

7 5

3 1

5 2

9 6

10 8

4 1



التاريخ: .....



مراجعة



ضع علامة (>, <) بين الأعداد الآتية :-

10	5
4	12
8	2

5	8
9	3
6	4

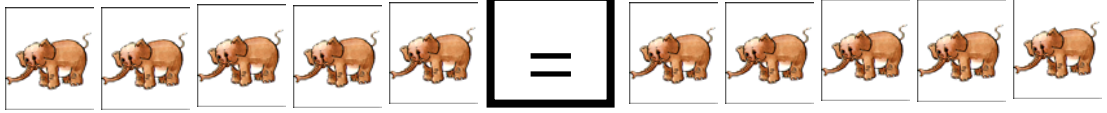
15	10
30	20
15	25

4	1
7	2
3	5

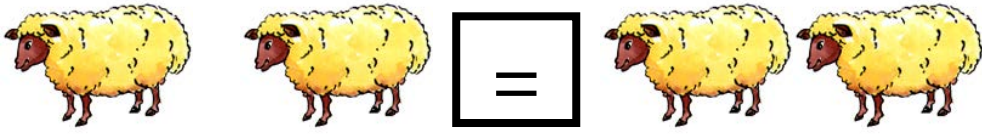


التاريخ: .....

علامة يساوي  
( = )



$$5 = 5$$



$$2 = 2$$



$$6 = 6$$



$$4 = 4$$

التاريخ: .....

علامة يساوي  
( = )



1 1

8 8



9 9

3 3



5 5

4 4





التاريخ: .....

## مراجعة

ضع علامة < , > , = بين الأعداد :-

3	3
5	10
9	8
6	3
20	21
8	8

5	1
2	8
6	6
9	5
4	3
7	7

التاريخ: .....



أكتب:-



44

43

42

41

40

التاريخ: .....



أكتب:-

064540

هدية مجانية



49

48

47

46

45

--

--

--

--

--

--

--

--

--

--

--

--

--

--

--

--

--

--

--

--

--

--

--

--

--

التاريخ: .....





\* أجمع :-

$$=0+7$$

$$=1+5$$

$$=3+6$$

$$=1+3$$

$$=4+4$$

\* ضع علامة < أو > أو = :-

2

6

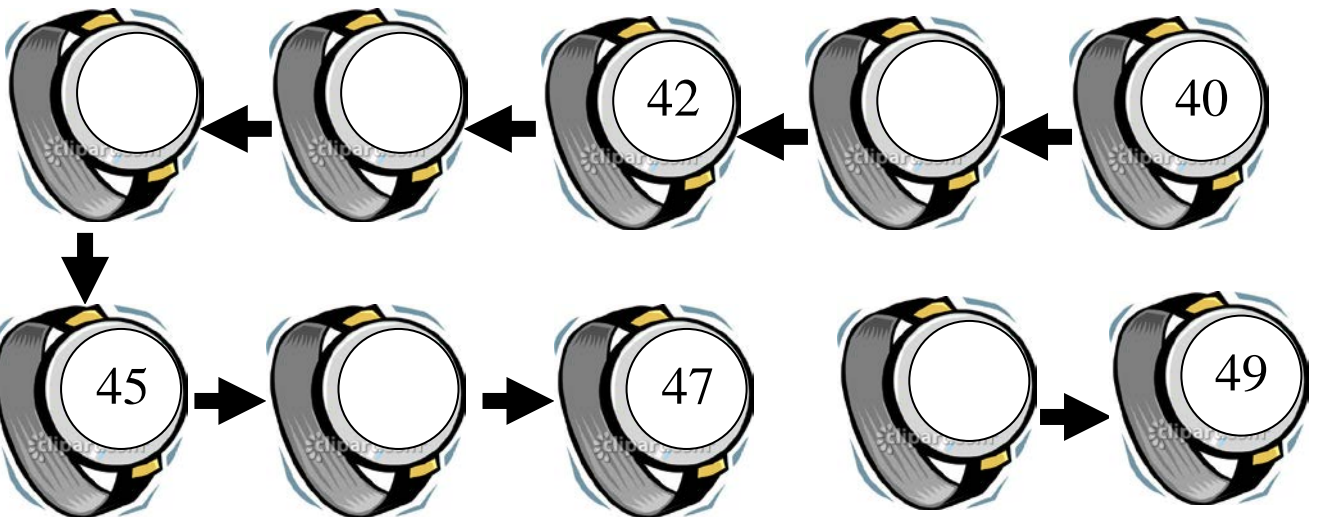
9

5

7


7

\* أكمل الرقم الناقص :-




## حساب

\* أكمل :-




\* أكمل :-



\* أكمل :-



\* أكمل :-

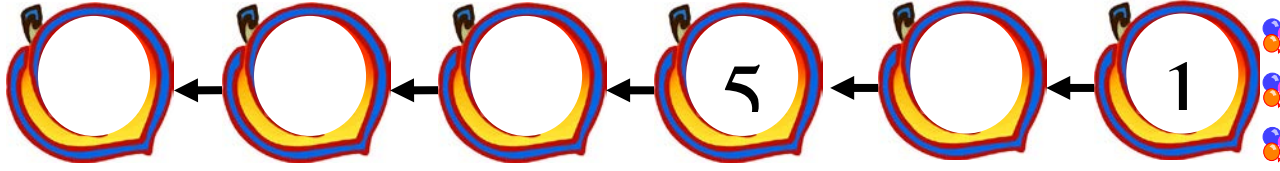


\* أجمع :-


$= 4 + 3$	$= 2 + 9$	$= 0 + 5$
$= 8 + 5$	$= 3 + 6$	$= 4 + 4$
$= 0 + 10$	$= 3 + 7$	$= 0 + 2$
$= 6 + 4$	$= 0 + 7$	$= 2 + 2$
$= 2 + 4$	$= 5 + 5$	$= 1 + 9$

## حساب

\* أكتب الأعداد الفردية :-



\* أكتب الأعداد الزوجية :-



\* ضع < أو > أو = :-

5

8

9

3

6

4

15

10

15

25

7

6

2

5

4

4

1

6

8

7

اختبار شهر نوفمبر  
الحساب

\* أجمع :-

$$= 0 + 5$$

$$= 6 + 4$$

$$= 1 + 3$$

$$= 2 + 2$$

\* رتب تصاعدي :-

40	37
38	39
37	36
36	38
39	40

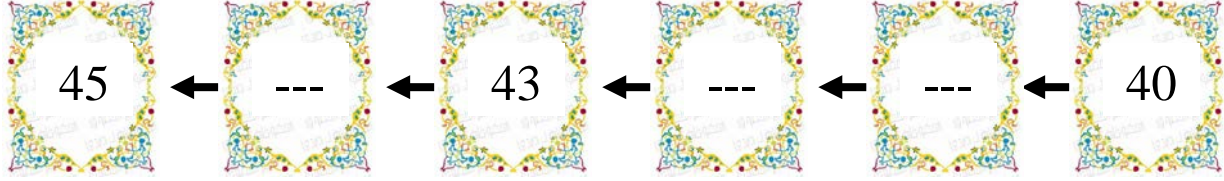
\* أكمل :-





## اختبار مهارات رياضية KG 2

\* أكمل :-



\* أجمع :-

$$= 4 + 6$$

$$= 3 + 5$$

$$= 2 + 10$$

$$= 0 + 9$$

\* ضع العلامة المناسبة :-

4  
2  
7  
6  
10


5  
3  
7  
9  
5

\* اكتب الأعداد الفردية :-


## امتحان مهارات رياضية

\* أكمل :-


16	-----	-----	13	-----	11
		20	-----	18	-----

\* أختار مما بين الأقواس :-

( 14 – 13 – 11 )



( 20 – 16 – 17 )



( 11 – 13 – 12 )



\* اكتب من ( 1 إلى 10 ) :-

--	--	--	--	--	--	--	--	--	--

