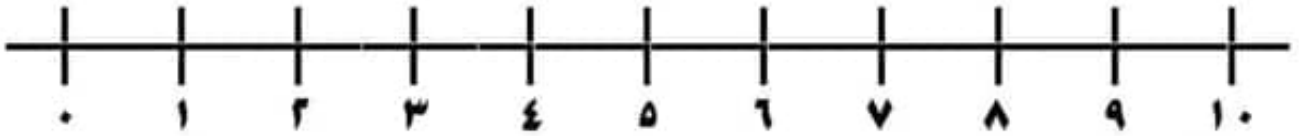
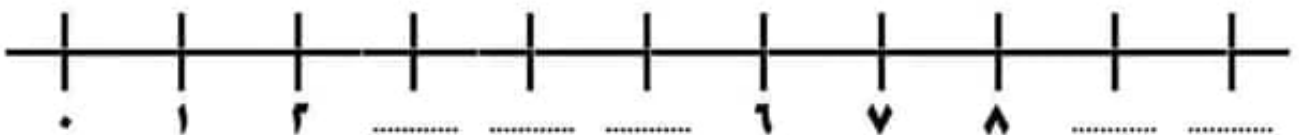
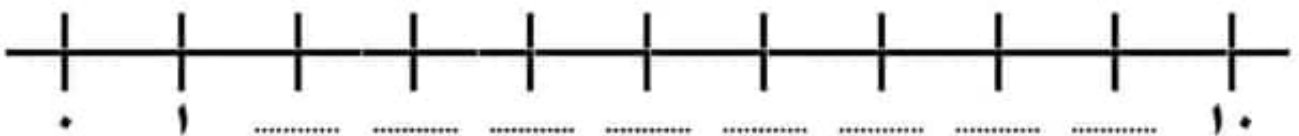
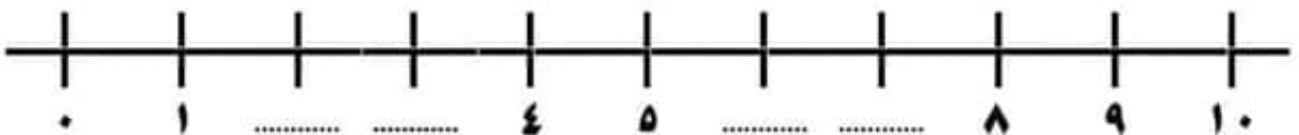
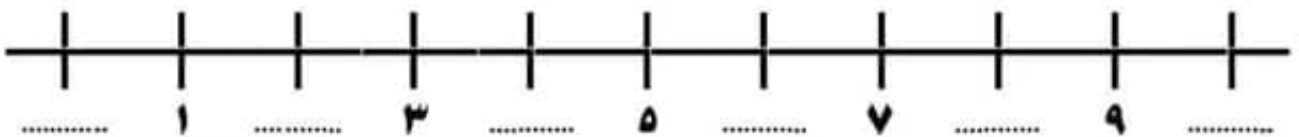


خط الأعداد



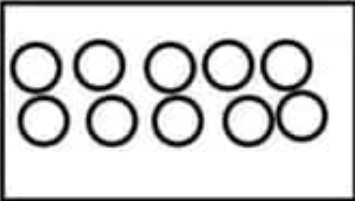
أكمل الأعداد على خط الأعداد



أكمل الجدول التالي :::::

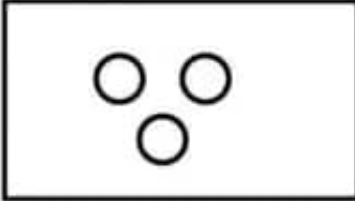
.....	■ صفر
.....	١ واحد
.....	٢ اثنان
.....	٣ ثلاثة
.....	٤ أربعة
.....	٥ خمسة
.....	٦ ستة
.....	٧ سبعة
.....	٨ ثمانية
.....	٩ تسعة
.....	١٠ عشرة

عد وصل كما بالمثل ::::



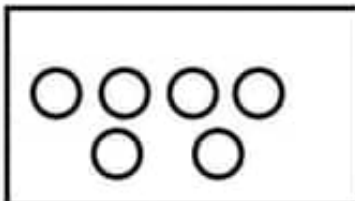
٣

أربعة



٥

عشرة



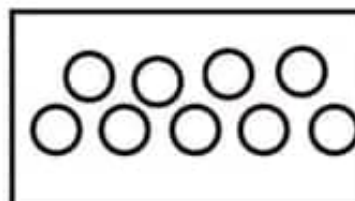
١٠

سبعة



٦

ثلاثة



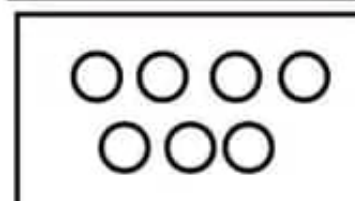
٩

ثمانية



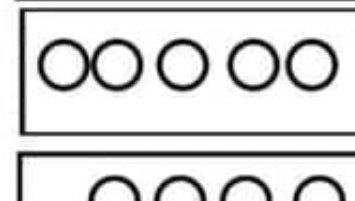
٨

تسعة



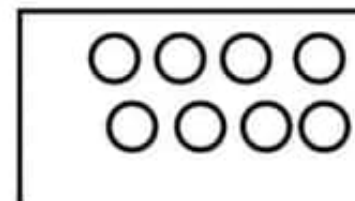
٧

خمسة



٦

اثنان



٤

ستة



عشرة



اكتب رقم (١٠) ثم لون



عشرة	١٠	١٠
.....
.....
.....

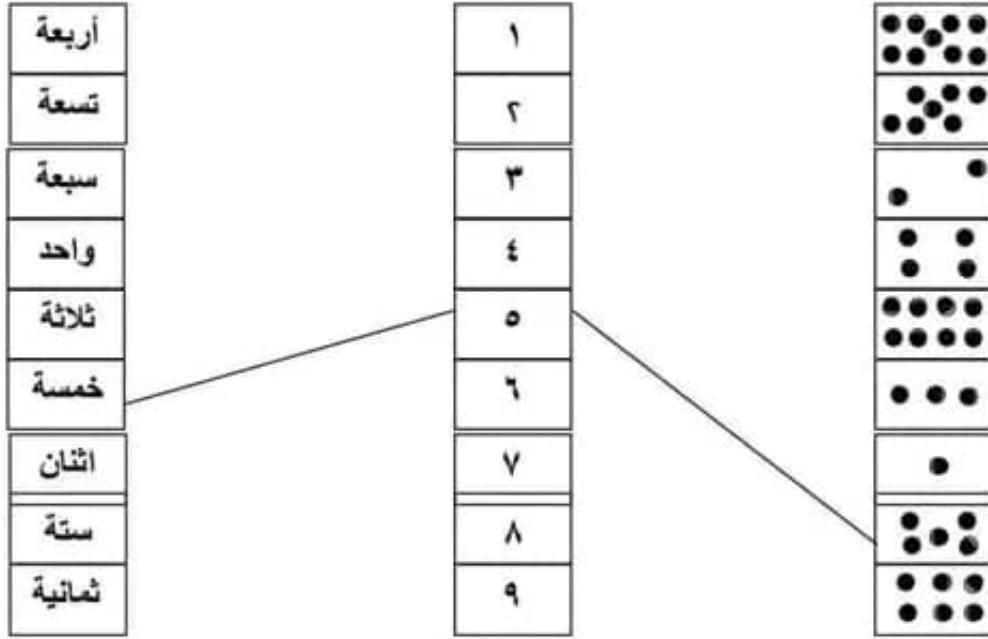
ارسم عشر دوائر داخل الاطار ::




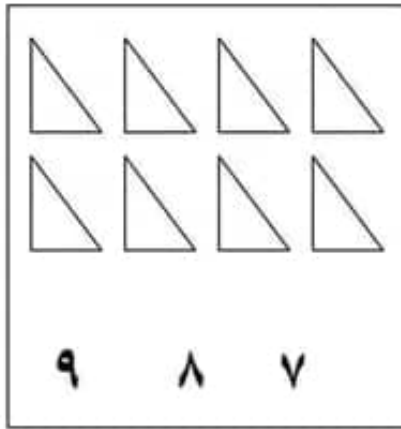
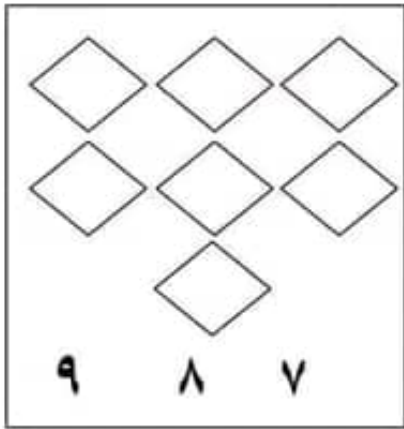
ارسم عشر نجومات داخل الاطار :::



عد وصل كما بالمثال :::



عد ثم ضع خطأً تحت عدد عناصر كل مجموعة من المجموعات الآتية ::



فكر كويس يا جميل ::

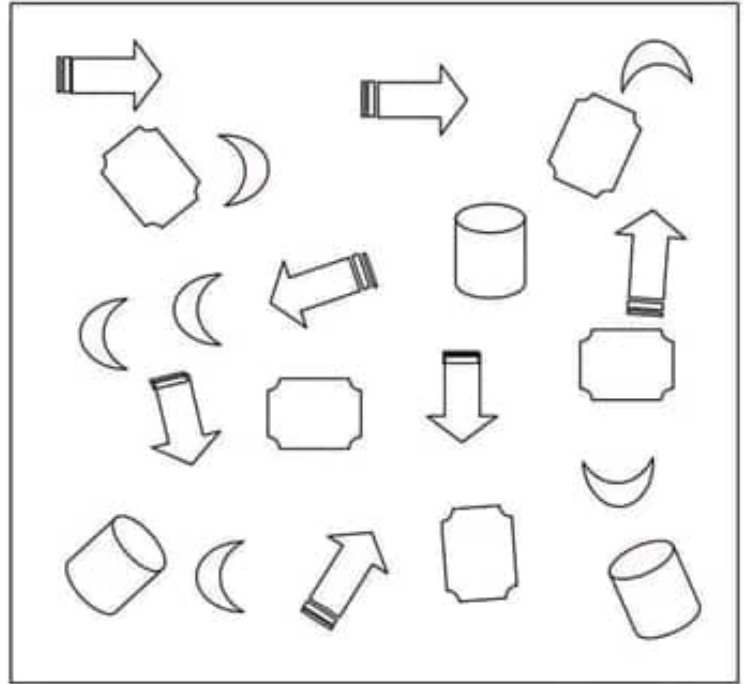

* العدد الذي يقع بين ٦ ، ٨ هو

* ما هو العدد الأصغر من ٩ وأكبر من ٧ ؟

* ما هو العدد الأكبر من ٣ وأصغر من ٥ ؟

* مع أيمن عدد من الأقلام يقل عن ٦ ويزيد عن ٤ هو

عد ثم أكمل تلوين المستطيلات بحسب العدد ::



أكمل ما يأتي ::

يمكن ترتيب الأعداد كما يلي : ١ ، ٢ ،

ويمكن ترتيبها كما يلي : ٩ ، ٨ ،

٩ أكبر من ، ، ، ، ، ، ،

١ أصغر من ، ، ، ، ، ، ،

٦ أكبر من ، ، ، ، ، ، ،

٨ أكبر من ، ، ، ، ، ، ،

أكتب عدد أحرف الكلمات الآتية

أبرار حروف

أسماء حروف

مصر حروف

سهيلة حروف

اكتشف النمط ثم أكمل ::

، ، ٥ ، ٧ ، ٩

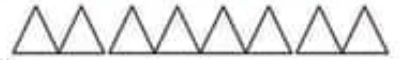
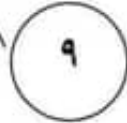
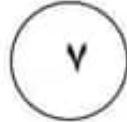
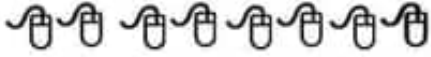
، ، ٦ ، ٧ ، ٨

، ، ٦ ، ٥ ، ٤

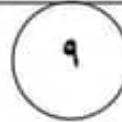
، ، ٤ ، ٥ ، ٦

، ، ٤ ، ٢

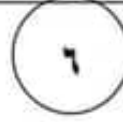
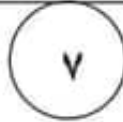
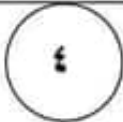




عد وصل كما بالمثال :::



ارسم عدد من الدوائر داخل الاطار بحسب العدد أسفله :::



لون بحسب العدد أسفل الاطار ::::



٩

تسعة

٨

ثمانية

٧

سبعة

٦

ستة

٥

خمسة

٤

أربعة

أكمل ::

						٧	٧	٧
					٨	٨	٨	٨
				٩	٩	٩	٩	٩

٩

تسعة

٨

ثمانية

٧

سبعة

٦

ستة

٥

خمسة

٤


أربعة

أكمل ::


						٧	٧	٧
					٨	٨	٨	٨
				٩	٩	٩	٩	٩

٩

تسعة



اكتب رقم (٩) ثم لون



تسعة

٩

عد و اكتب الرقم بالحروف




.....


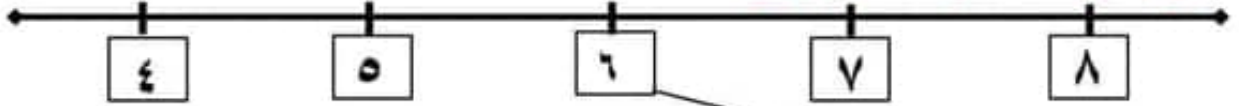


.....

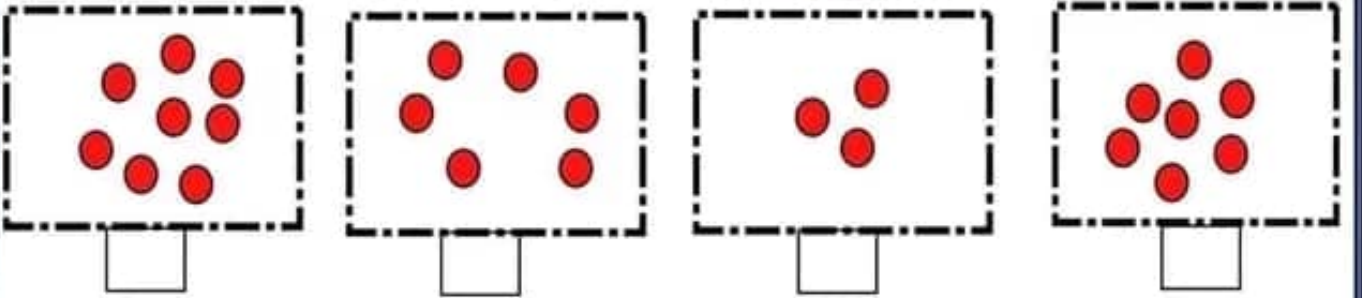
لون تسعة وردات:




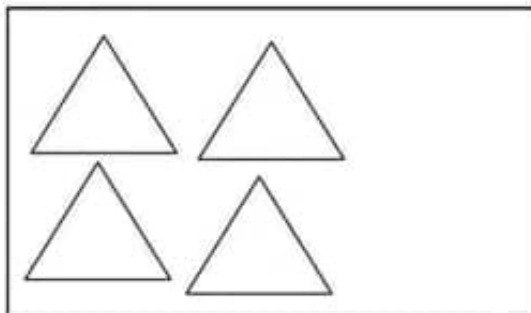
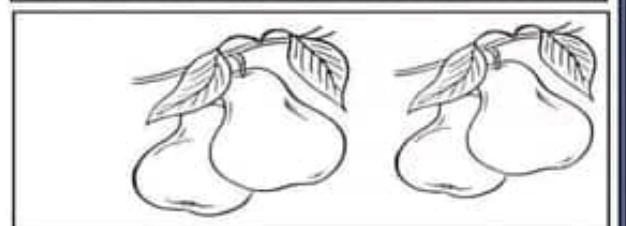


عد وصل كما بالمثل ::::



عد واكتب العدد داخل المربع ::



لون المجموعات المتساوية بنفس اللون ثم صل بينهما ::

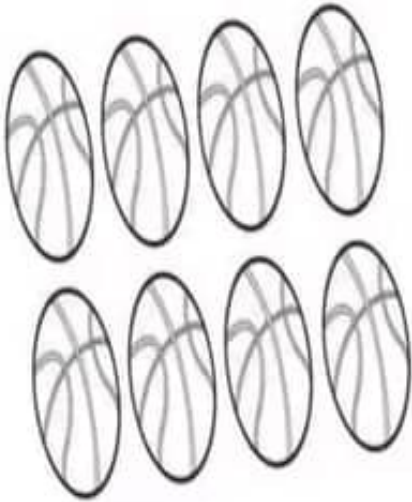




ثمانية





اكتب رقم (٨) ثم لون :



ثمانية	ثمانية	٨	٨
.....
.....
.....

ضع دائرة حول ثمانية




عد وصل كما بالمثال :::



٥



٤



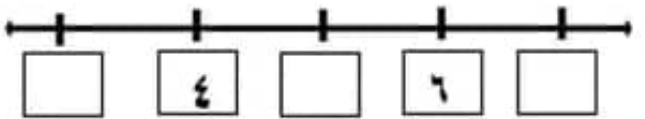
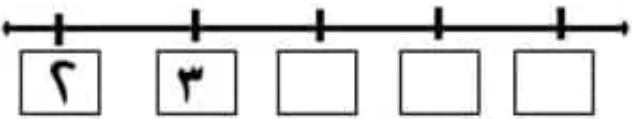
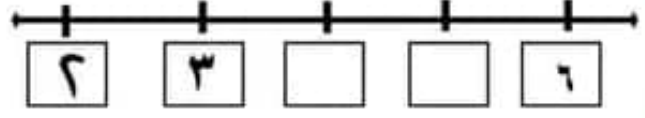
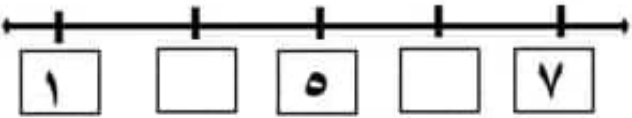
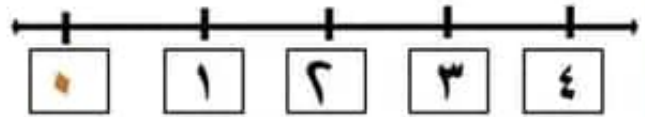
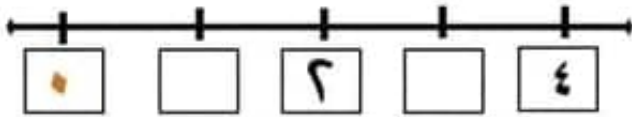
٧



٦



أكمل العدد على خط الأعداد كما بالمثال ::




عد وصل كما بالمثال :::



٥



٤



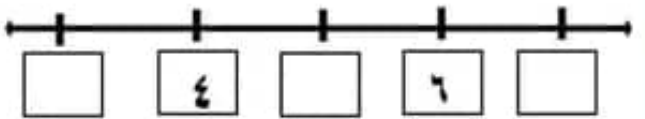
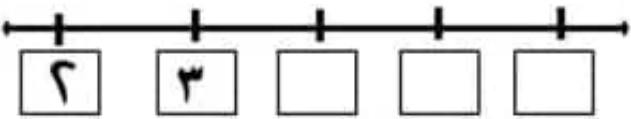
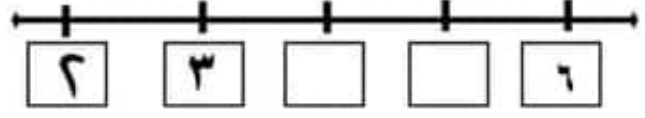
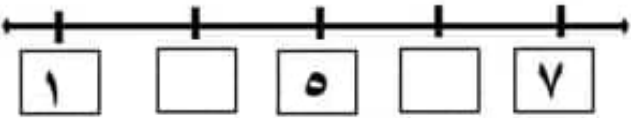
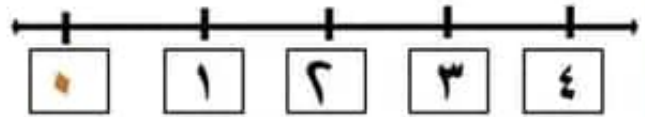
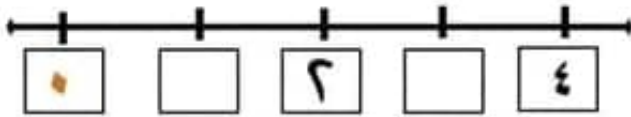
٧



٦



أكمل العدد على خط الأعداد كما بالمثال ::





سبعة



اكتب رقم (٧) ثم لون




سبعة	٧
.....
.....
.....



لون سبعة كتب

اكتب الأرقام من ٠ إلى ٧



عد واكتب العدد



٦



ستة



اكتب رقم (٦) ثم لون

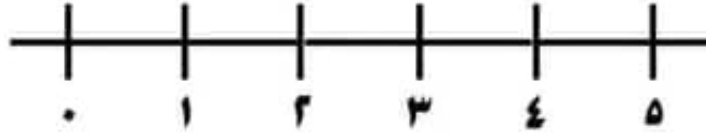


ستة
.....
.....
.....

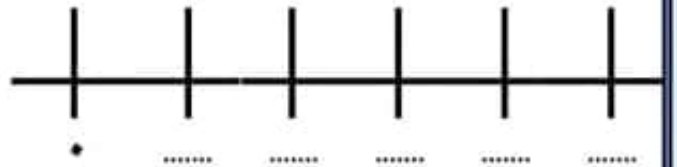
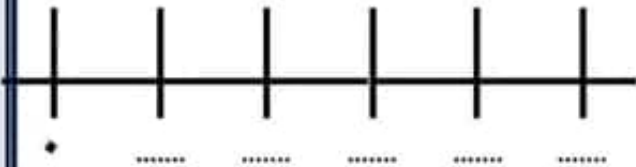
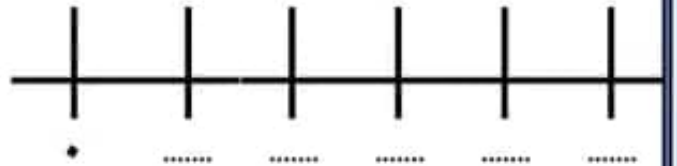
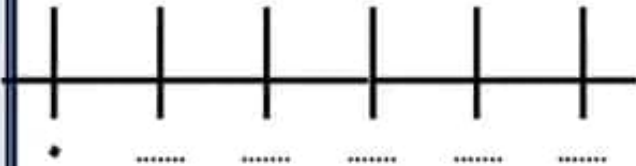
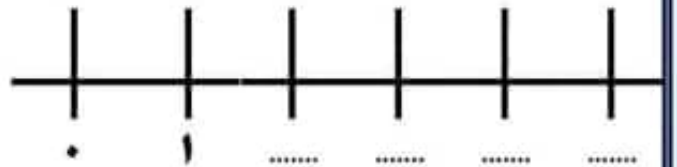
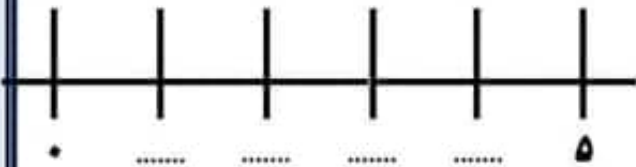
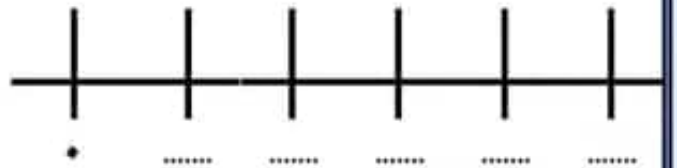
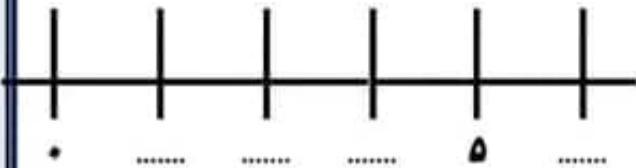
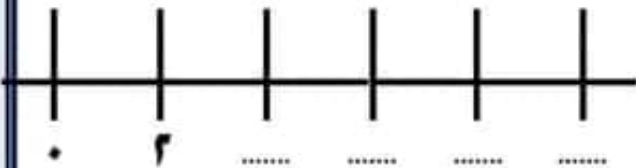
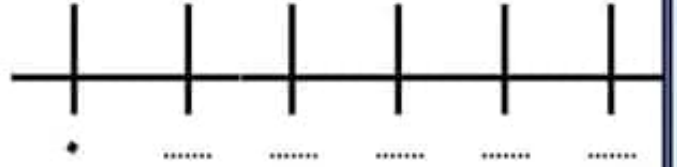
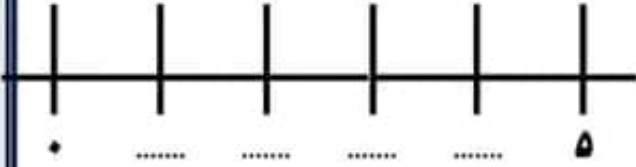
٦
.....
.....
.....




خط الأعداد



أكمل العدد على خط الأعداد



ارسم دائرة على العدد كما بالمثال :::



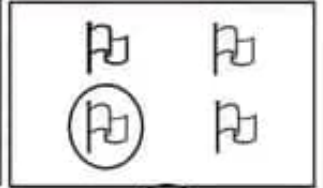
٣



٤



٥



١

حوظ حول العدد الأكبر ::




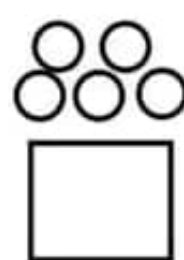
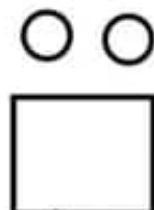
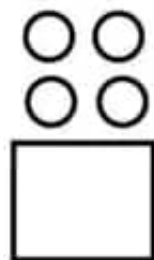
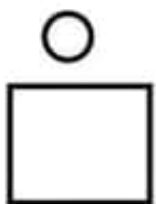
حوظ حول العدد الأصغر ::




يمكن ترتيب الأعداد كما يلي :: ٥ ٤ ٣ ٢ ١

ويمكن ترتيبها كما يلي ::: ١ ٢ ٣ ٤ ٥

اكتب العدد :::

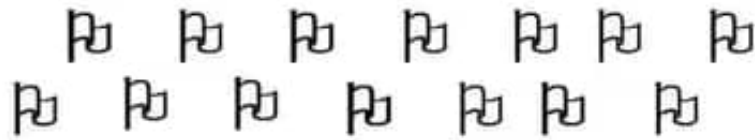


لون ٥ أرانب



ارسم ٥ وردات

لون هذه الأعلام بحيث يكون :
خمسة باللون الأحمر وأربعة باللون الأصفر وثلاثة باللون الأخضر واثنان باللون الأزرق



أكمل:

(أ) كم أذنًا بالوجه

(ب) كم أنفًا بالوجه




١




٢



٣



٤




٥




١




٢



٣



٤



٥






خمسة



لحن اكتب رقم (5) ثم لون



خمسة	خمسة	5	5
.....
.....
.....



5



4



3




2




1

خمسة



أربعة



ثلاثة




اثنان



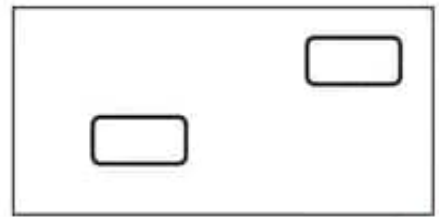
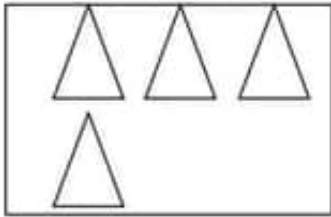


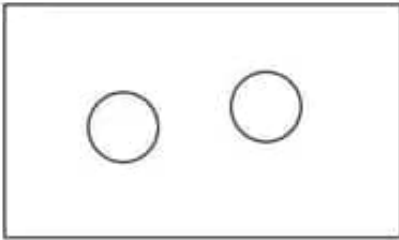
واحد



لون على حسب العدد المطلوب أسفل الصورة ::::



صل المجموعات المتساوية في العدد ::::



أكمل ::::

١ ، ٢ ، ٣ ، ٤ ، ٥ ، ٦ ، ٧ ، ٨ ، ٩ ، ١٠

١ ، ٢ ، ٣ ، ٤ ، ٥ ، ٦ ، ٧ ، ٨ ، ٩ ، ١٠

١ ، ٢ ، ٣ ، ٤ ، ٥ ، ٦ ، ٧ ، ٨ ، ٩ ، ١٠

٢ أصغر من ٣ ، ٤ ، ٥ ، ٦ ، ٧ ، ٨ ، ٩ ، ١٠

٣ أكبر من ١ ، ٢ ، ٤ ، ٥ ، ٦ ، ٧ ، ٨ ، ٩ ، ١٠

اكتب بالحروف ::::


٣

٦




١

٤

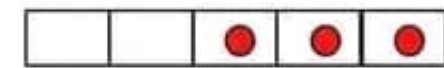
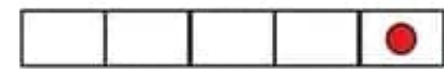
حوظ حول أربعة أشياء :::



عد وصل كما بالمثال :::



عد وصل كما بالمثال :::




٤



العدد أربعة




اكتب رقم (٤) ثم لون



أربعة	أربعة	٤	٤
.....
.....
.....

عد الأشكال التالية واكتب العدد



صل حسب الشكل ::



صل على حسب الحجم ::::



عد وصل كما بالمثال :::



ضع دائرة كما بالمثال :::



٣ ٢ ١

٣ ٢ ١

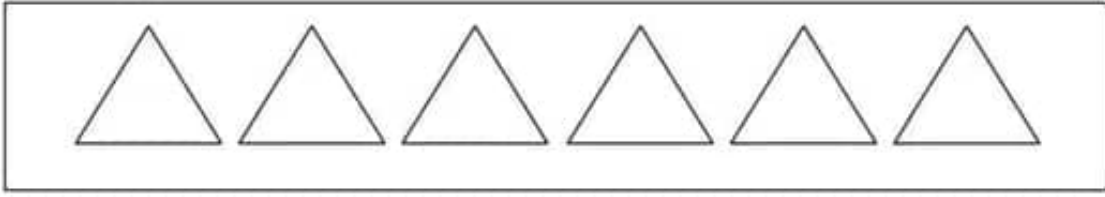
٣ ٢ ١

عد وصل كما بالمثال :::

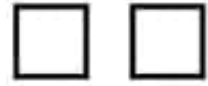


7




لون المثلثات التالية واحد باللون الأحمر اثنان باللون الأصفر ثلاثة باللون الأخضر



اكتب العدد ::



ارسم شكلاً داخل الدائرة بحسب العدد أسفلها ::::



ثلاثة (٣)


واحد (١)

اثنان (٢)

عد وصل كما بالمثل :::




٣




ثلاثة

لون ثلاثة تفاحات ::::

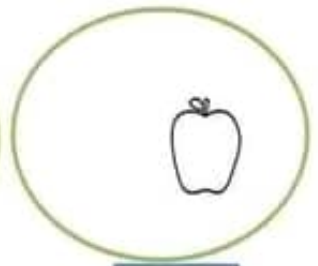


اكتب رقم (٣) ثم لون



ثلاثة	ثلاثة	٣	٣
.....
.....
.....

اكتب العدد داخل كل دائرة ::::



٢



اثنان

اكتب رقم (٢) ثم لون




اثنان	اثنان	٢	٢
.....
.....
.....


لون كل نجمتين بلون




لون كل كتابين بلون والقلمين بلون



اكتب عدد الدوائر



كون مجموعات متشابهة واكتب العدد





واحد

اكتب رقم (1) ثم لون



واحد	١	١
.....
.....
.....

فكر وركز ::::



كم عدد الكرات



كم عدد الأولاد

لون مثلث واحد ::



لون نجمة واحدة ::



ملزمة الصف الأول الابتدائي النظام الجديد

الصفير

اكتب رقم (٠)



صفير	صفير	٠	٠
.....
.....
.....



فكر وتأمل :

ما الذى يوجد فى هذا الطبق ؟؟؟؟

اكتب الرقم الموجود فى الطبق



فكر

كم بيضة مع الفرخة ؟؟؟؟

اكتب عدد البيض

تدريبات

أكمل بنفس التسلسل

١٠ □ □ □ □ ٥ □ □ □ ١

١٠ □ □ ٧ □ □ □ □ □ ١

١٠ □ □ □ □ □ □ ٣ □ ١

١٠ □ □ □ □ □ □ □ □ ١

١٠ □ □ □ □ □ □ □ □ ١

أكمل بنفس التسلسل

٠ □ □ □ □ □ □ □ □ ١٠

٠ □ □ □ □ ٥ □ □ □ ١٠

٠ ١ □ □ □ □ □ □ □ ١٠

اكتب العدد التالي



..... ٩
..... ٨
..... ١
..... ٥
..... ٣
..... ٦
..... ٠

..... ١
..... ٠
..... ٨
..... ٦
..... ٤
..... ٢
..... ١

..... ٦
..... ٤
..... ٢
..... ٩
..... ٧
..... ٥
..... ٣

..... ٩
..... ٧
..... ٥
..... ٣
..... ١
..... ٠
..... ٨

اكتب العدد السابق



٩
١
٨
٢
٧
٣
٦
٤


٢
٤
٦
٨
١
٣
٥
٧

٩
٧
٥
٣
١
٨
٦
٤

٨
٦
٤
٢
٩
٧
٥
٣

المجموعات


لون وأكمل كما بالمثل ::



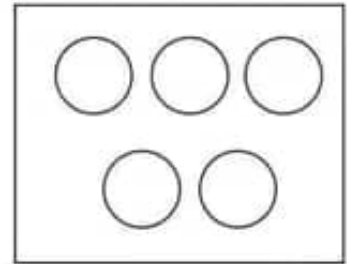
أسم المجموعة : مجموعة



أسم المجموعة : مجموعة النجوم




أسم المجموعة : مجموعة

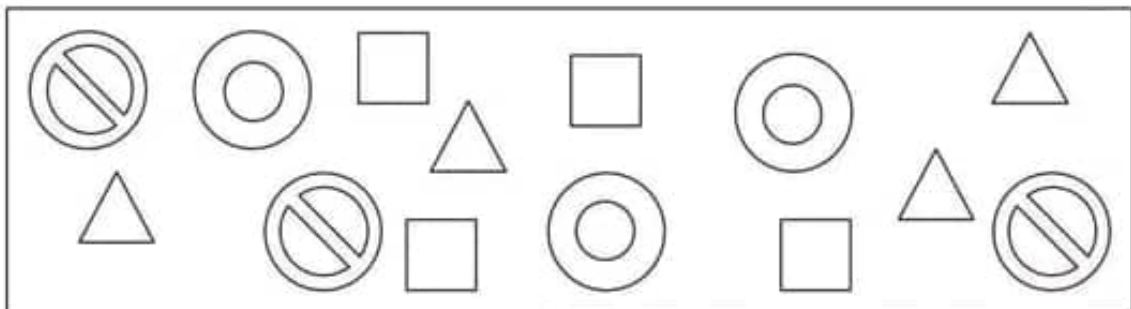


أسم المجموعة : مجموعة



لون مجموعة الكتب بلون ومجموعة الأقلام بلون آخر ::




لون مجموعات الأشكال المتشابهة بنفس اللون ::



لون الطيور من الأشكال الآتية ::




كون مجموعات الطيور المتشابهة ثم لونها ::



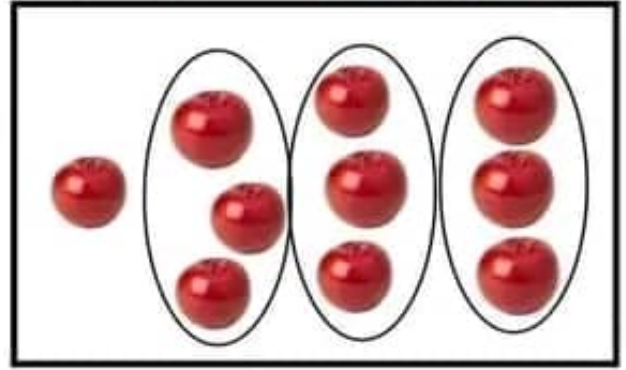
كون مجموعة السيارات في اطار واحد ومجموعة الدرجات في اطار واحد ::



حوظ مجموعة الطائرات في اطار واحد ومجموعة السفن في اطار واحد ::



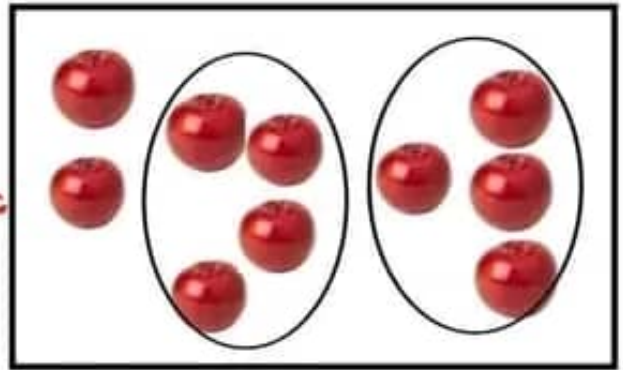
تحتوى كل مجموعة على ٣ تفاحات



عدد المجموعات = ٣

تفاحة = الباقي ١

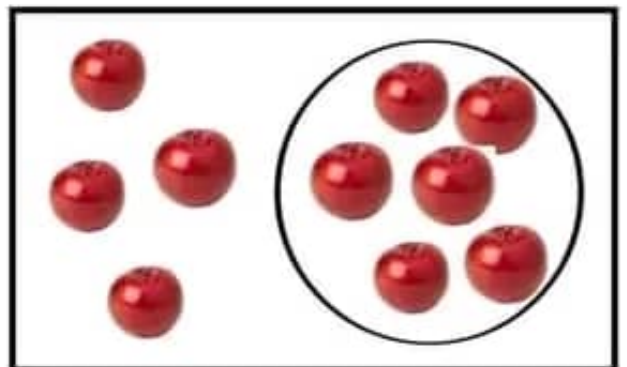
تحتوى كل مجموعة على ٤ تفاحات



عدد المجموعات =

تفاحة = الباقي =

تحتوى كل مجموعة على ٦ تفاحات



عدد المجموعات =

تفاحة = الباقي =


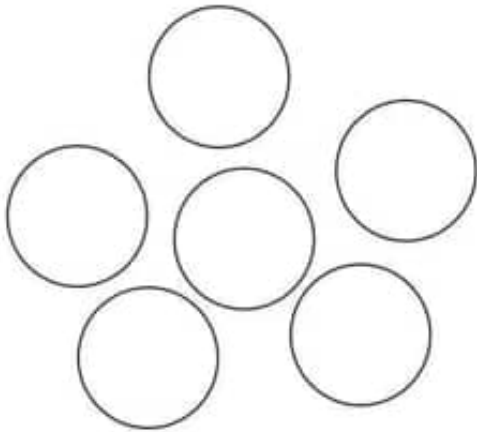
المقارنة بين المجموعات



أم



ضع خطأ حول الإجابة الصحيحة :: أيهما أكثر



أم



أيهما أكثر

ضع خطأ حول الإجابة الصحيحة ::

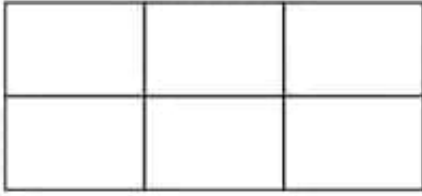
هل يوجد طبق لكل كوب :



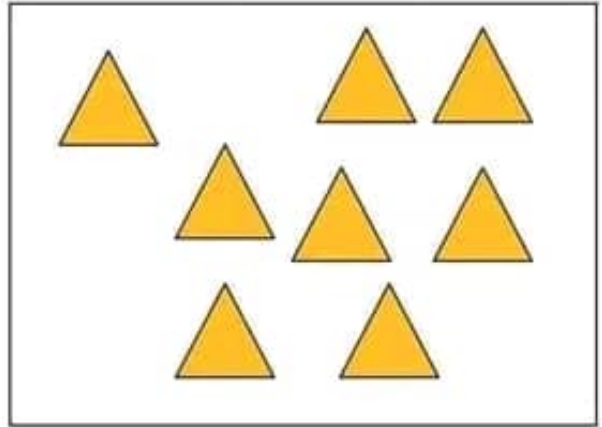
() لا

() نعم



أكمل الشكل الثاني برسم نفس النقط في أماكنها المناسبة



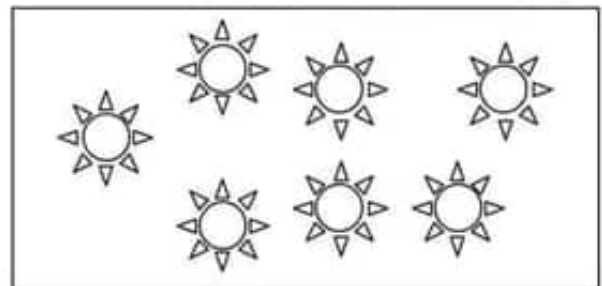

أكمل رسم المثلثات بحيث يكون نفس العدد للمجموعتين ::



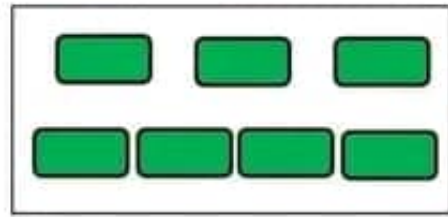
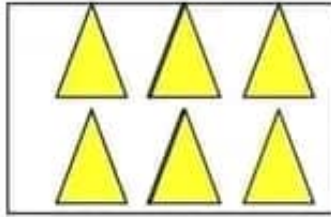


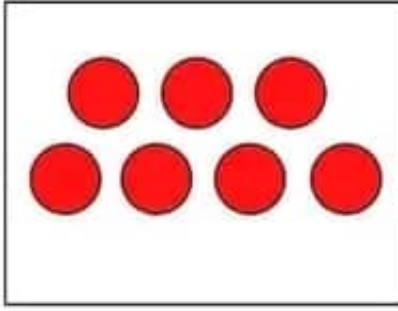
ضع علامة (✓) أسفل المجموعة الكبيرة ::




ضع علامة (✓) أسفل المجموعة الصغيرة ::



صل المجموعات المتساوية في العدد ::



كون مجموعات واكتب عدد كل مجموعة وضع علامة (✓) حول الأكبر ::





اختر الإجابة الصحيحة مما بين القوسين:



عدد المضارب (أكثر من ، أقل من) عدد الكور




عدد القطط (أكثر من ، يساوي ، أقل من) عدد الفئران ::




عدد الأقلام (أكثر من ، يساوي ، أقل من) عدد الكتب ::

الأعداد من ١١ : ١٥


الأعداد من
١٥ : ١١



عد ولاحظ ::::




١٢

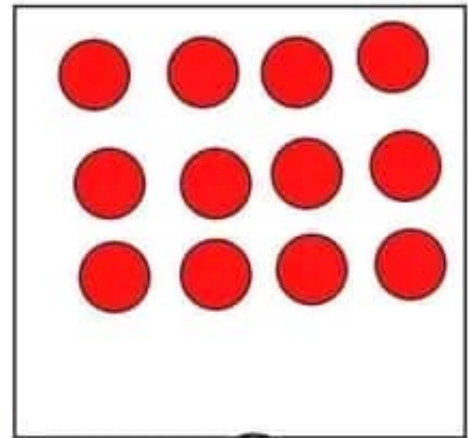


١٣

أكثر من

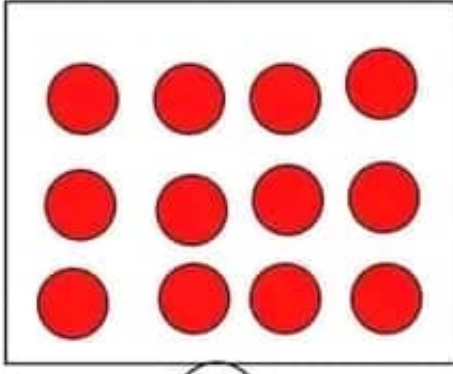


١٣




١٢

أقل من




١٢

يساوى




١٢



١١

أقل من



١٢

حوط على (أكبر من) أو (أصغر من) أو (يساوى) ::

أقل من يساوى أكبر من

٩

١٠

أقل من يساوى أكبر من

١٠

٨

أقل من يساوى أكبر من

١٠

١٣

أقل من يساوى أكبر من

١٠

١٠

أقل من يساوى أكبر من

١٢

١٣

اكتب العدد المناسب كما بالمثال ::

يساوي ٩

١٠ أكبر من ١١

أكبر من ٨

أصغر من

أصغر من ١٠

يساوي ١٣

اكتب العدد المناسب كما بالمثال ::

أكبر من ١١

١٢ أكبر من ١٣

أصغر من ٧

أصغر من ١٠

يساوي ١٣

يساوي ٩

يساوي ١١

١٠ أكبر من ١٢

١٥ أصغر من

أصغر من ٨

أكبر من ١٤

أصغر من ١٤

٩ أكبر من

أكبر من ١٥

يساوي ١٤

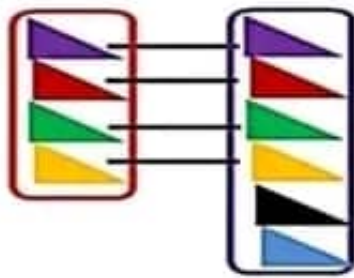
أصغر من ١٣

مقارنة الأعداد باستخدام العلامات < و > و =

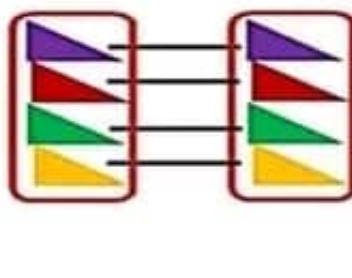
- > : أقل من (يرمز لها بالرمز)
 = : يساوي (يرمز لها بالرمز)
 < : أكبر من (يرمز لها بالرمز)

تمهيد :

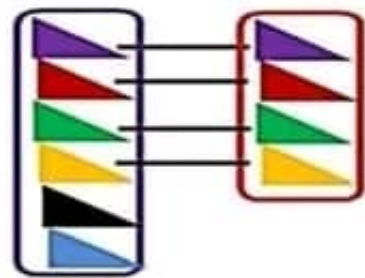
بملاحظة الشكل التالي تجد :



٦ أكبر من ٤
 و تكتب :
 $٤ < ٦$



٤ يساوي ٤
 و تكتب :
 $٤ = ٤$



٤ أقل من ٦
 و تكتب :
 $٦ > ٤$

ضع علامة (< أو > أو =)

٤ ٠
 ٣ ٥
 ٩ ٦
 ٢ ٢

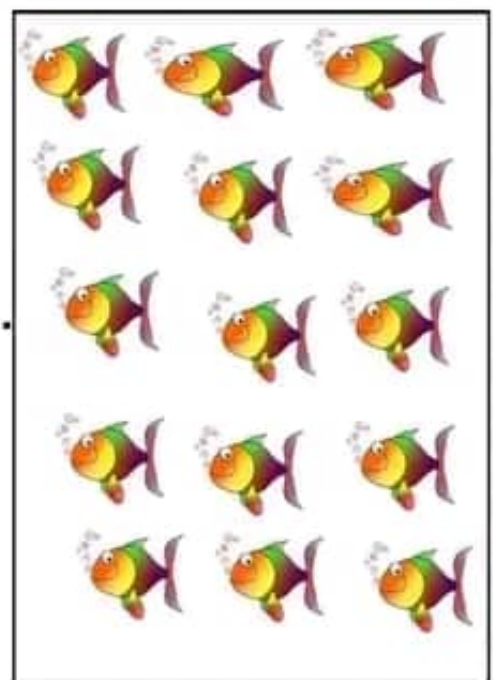



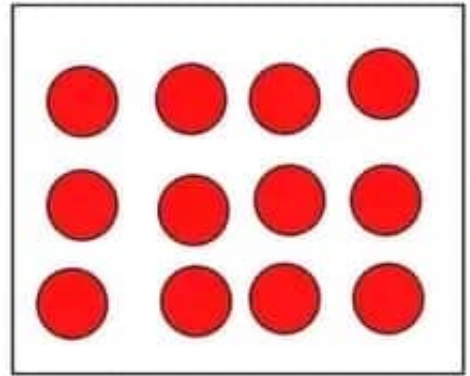



٥ ٧
 ٤ ٤
 ١٠ ٨
 ٣ ١

أكمل الأعداد ::::



عد واكتب العدد ثم ضع (<) أو (>) أو (=) ::



٢٠	١٩	١٨	١٧	١٦
.....
.....

الأعداد من
٢٠ : ١٦



• ضع دائرة حول العدد الأكبر

٤ ، ٩ ، ١ ، ٧



• ضع دائرة حول العدد الأصغر

٥ ، ١٥ ، ٨ ، ٣

اكتب الأرقام من ١٠ إلى ٢٠

١٠	٢٠	
----	------	------	------	------	------	------	------	------	------	------	----	--

أكمل بإحدى العلامات المناسبة

٢٠ ١١

٨ ١٤

٦ ٦

٣ ٧

٥ ١

١٢ ١٢

