



نسخة جريدة

كراسة الجل الفكري


تطلب من مكتبة زهور الأقصى
0599739185

النماذج التدريبية لمدارس الوكالة

الدراسات الاجتماعية

في مادة:

الفصل الدراسي الأول



أسئلة على الوحدة الأولى الدولة الإسلامية عابرة للقارات من صفحة (٢) إلى صفحة (٣٩)

الدرس الأول :- قارة آسيا امتداد الدولة الإسلامية من صفحة (٤) إلى صفحة (١٢)

السؤال الأول : أكتب المصطلح العلمي :-

- ١- (خطوط الطول ودوائر العرض) خطوط ودوائر وهمية رسمها العلماء على الخرائط والمجسمات بهدف تحديد الموقع .
- ٢- (الموقع الفلكي) موقع المكان بالنسبة لخطوط الطول ودوائر العرض .
- ٣- (الموقع الجغرافي) موقع المكان بالنسبة لليابس والمسطحات المائية المجاورة .
- ٤- (سهول ساحلية) سهول تمتد على طول المسطحات المائية .
- ٥- (سهول فيضية) سهول تمتد على ضفاف الأنهار .
- ٦- (الأعاصير المدارية) رياح نشطة مصحوبة بأمطار غزيرة .
- ٧- (بلاد السند) المنطقة الواقعة شرق إيران .

السؤال الثاني : اختر الإجابة الصحيحة مما بين القوسين :-

- ١- عدد خطوط الطول ----- خط
- ٢- خط الطول الرئيسي هو خط
- ٣- تمتد قارة آسيا بين خطي طول ----- شرق خط جرينتش
- ٤- يحد قارة آسيا من الشمال
- ٥- يحد قارة آسيا من الجنوب
- ٦- كل ما يلي من جبال قارة آسيا ما عدا
- ٧- توجد هضبة الأناضول في
- ٨- توجد هضبة نجد في
- ٩- تنخفض الحرارة في قارة آسيا في فصل
- ١٠- يمتاز مناخ فلسطين بالحرارة والجفاف في فصل
- ١١- تبلغ مساحة قارة آسيا حوالي
- ١٢- يقع بين فلسطين والأردن
- ١٣- تمتلك قارة آسيا ما نسبته ----- من الأراضي الزراعية في العالم
- ١٤- من الثروات المعدنية في قارة آسيا
- ١٥- كل ما يلي من الدول المتطورة صناعياً في آسيا ما عدا (اليابان والصين - كوريا الجنوبية وماليزيا - أفغانستان وفيتنام)
- ١٦- بلاد ما وراء النهر (نهر جيحون) هي بلاد (السند - الهند - إيران)
- ١٧- فتحت مدينتا طرطوس وعمورية زمن الخلافة (العباسية - الأموية - العثمانية)
- ١٨- مدينة طرطوس من مدن دولة (تركيا - سوريا - إيران)

السؤال الثالث : أكمل الفراغات بالكلمات المناسبة :-

- ١- تمتد قارة آسيا بين دائرتي عرض ١٠ جنوب خط الاستواء إلى ٨٣ شماله .
- ٢- يحد قارة آسيا من الغرب سلسلة جبال أورال ومضيقتا البسفور والدرديل .
- ٣- يفصل قارة آسيا عن إفريقيا البحر الأحمر وقناة السويس .
- ٤- تبلغ مساحة فلسطين ٢٧,٠٢٧ كم^٢ .
- ٥- تنقسم مظاهر سطح قارة آسيا إلى الجبال والهضاب والسهول .
- ٦- من هضاب قارة آسيا هضبة التبت وهضبة الأناضول وهضبة نجد .
- ٧- تنقسم سهول قارة آسيا إلى سهول ساحلية وسهول فيضية .
- ٨- ترتفع الحرارة في قارة آسيا في المناطق الجنوبية في فصل الصيف .
- ٩- يبلغ عدد سكان قارة آسيا حوالي ٤ مليارات و ٥٨٦ مليون نسمة حسب احصائية ٢٠١٩ م .
- ١٠- تعتبر مدينة أريحا أقدم مدن آسيا .
- ١١- تنتج قارة آسيا المحاصيل الزراعية مثل الأرز والشاي .
- ١٢- قاد الفتوحات الإسلامية في المنطقة الشرقية قتيبة بن مسلم و محمد بن القاسم .
- ١٣- من المدن التي فتحت في آسيا في العصر الأموي بخاري و سمرقند و بلخ و مرو .

السؤال الرابع : برهن على أن :-

- ١- قارة آسيا تحتوي على مجموعة من المتناقضات .
- الحل : وجود أعلى منطقة في العالم فيها وأخفض منطقة / وجود أبرد منطقة على سطح الأرض فيها وأكثر المناطق حرارة .

السؤال الخامس : ضع علامة (صح) أمام العبارة الصحيحة وعلامة (خطأ) أمام العبارة الخاطئة :-

- ١- (×) خط جرينتش يقسم الكرة الأرضية إلى قسمين شمالي وجنوبي .
- ٢- (√) يحد قارة آسيا من الشرق المحيط الهادي ومضيق برنج .
- ٣- (×) يفصل قارة آسيا عن قارة أفريقيا مضيقا البسفور والدردينل .
- ٤- (×) تقع فلسطين في جنوب شرق قارة آسيا .
- ٥- (√) توجد هضبة التبت في الصين .
- ٦- (×) نشأت الحضارة الكنعانية في العراق .
- ٧- (√) مناخ قارة آسيا متنوع .
- ٨- (×) تنخفض الحرارة في قارة آسيا كلما ابتعدنا عن القطب الشمالي .
- ٩- (√) تسقط الأمطار الصيفية في شرق ووسط وجنوب قارة آسيا .
- ١٠- (√) تتعرض قارة آسيا لرياح نشطة وأعاصير مدارية .
- ١١- (√) يمتاز مناخ فلسطين بالاعتدال بشكل عام .
- ١٢- (×) تأتي قارة آسيا في المرتبة الثانية من حيث عدد السكان والمساحة .
- ١٣- (√) تبلغ نسبة ملوحة مياه البحر الميت حوالي ٣٤% .
- ١٤- (√) تمتاز قارة آسيا بتعرجات في سواحلها وكثرة موانئها .
- ١٥- (√) يوجد في قارة آسيا أعلى بقاع الأرض وأخفضها .
- ١٦- (√) يوجد في قارة آسيا أبعد المناطق في العالم وأكثرها حرارة .
- ١٧- (×) كانت الفتوحات الإسلامية في آسيا في العهد الأموي في المنطقة الشرقية فقط .
- ١٨- (√) ساهم التجار والدعاة في نشر الإسلام في مناطق كثيرة .
- ١٩- (√) لم يتوسع المسلمون كثيراً في قارة آسيا في العصر العباسي .
- ٢٠- (√) أقصى اتساع للدولة الإسلامية في شرق قارة آسيا هو حدود الهند والصين .

السؤال السادس : صحح ما تحته خط :-

- ١- خط الطول الرئيسي هو خط الاستواء .
- ٢- عدد دوائر العرض ٣٦٠ دائرة .
- ٣- خط الاستواء يقسم العالم إلى قسمين شرقي وغربي .
- ٤- مضيق برنج يفصل قارة آسيا عن قارة أمريكا الجنوبية .
- ٥- أعلى قمة جبلية في فلسطين جبل النبي موسى .
- ٦- نشأت الحضارة الأشورية في فلسطين .
- ٧- الأجزاء الجنوبية في قارة آسيا هي الأكثر برودة .
- ٨- تسقط الأمطار في فصل الصيف على السواحل الغربية لقارة آسيا .
- ٩- يعتبر البحر المتوسط أكثر بحار العالم ملوحة .
- ١٠- تعتبر مدينة القاهرة أقدم العواصم في قارة آسيا .
- ١١- فتح المسلمين معظم أرمينيا زمن الخليفة عمر بن الخطاب .
- ١٢- كانت المنطقة الشرقية من قارة آسيا تحت حكم الفرس قبل الفتح الإسلامي .
- ١٣- تقع مدينة عمورية في دولة سوريا .

السؤال السابع : بم تفسر :-

- ١- أهمية خطوط الطول .
- السبب / معرفة الموقع والوقت
- ٢- أهمية دوائر العرض .
- السبب / معرفة الموقع والمناخ
- ٣- سقوط الأمطار على فلسطين شتاءً .
- السبب / وقوعها تحت تأثير المنخفضات الجوية
- ٤- لم يتوسع المسلمون في فتوحاتهم في العصر العباسي .
- السبب / لأنهم ركزوا جهودهم في الحفاظ على الحدود واسترداد المناطق التي أعاد احتلالها البيزنطيين
- ٥- تسكين المسلمين في المناطق الحدودية .
- السبب / لحمايتها والدفاع عنها من الأعداء
- ٦- تنوع مظاهر سطح قارة آسيا .
- السبب / اتساع قارة آسيا وامتدادها
- ٧- المناطق الشمالية من قارة آسيا باردة صيفاً وشتاءً .
- السبب / لقربها من القطب المتجمد الشمالي

السؤال الثامن : ما النتيجة المترتبة على :-

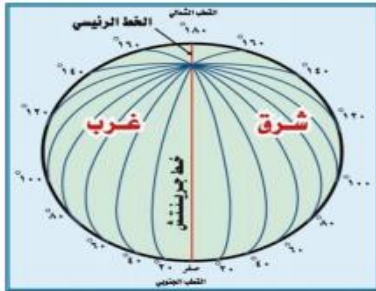
- ١- اتساع قارة آسيا وامتدادها .
- النتيجة / تنوع مظاهر السطح والمناخ فيها
- ٢- خصوبة التربة على ضفاف الأنهار في قارة آسيا .
- النتيجة / نشوء أقدم الحضارات مثل الحضارة الآشورية والكنعانية
- ٣- كثرة التعرجات في سواحل قارة آسيا .
- النتيجة / كثرة الموانئ على سواحلها
- ٤- توقف وصول مياه نهر الأردن إلى البحر الميت .
- النتيجة / زيادة ملوحته وتقلص مساحته

السؤال التاسع : اختر من المجموعة [أ] ما يناسبها من المجموعة [ب] فيما يأتي :

- | | |
|------------------|-----------------------------------|
| [أ] | [ب] |
| ١- منطقة السند | (٢) دولة أوزبكستان الحالية . |
| ٢- بخاري وسمرقند | (١) المنطقة الواقعة شرق إيران . |
| ٣- بلخ | (٤) تركمنستان . |
| ٤- مرو | (٣) أفغانستان . |

السؤال العاشر : من أكون :

- ١- (قتيبة بن مسلم الباهلي) القائد المسلم الذي تولى الفتوحات الإسلامية على الجهة الشرقية في آسيا .
- ٢- (محمد بن القاسم الثقفي) القائد المسلم الذي فتح منطقة السند ووصل إلى منطقة كشمير على الحدود الهندية .
- ٣- (معاوية بن أبي سفيان) الخليفة الأموي الذي فتحت في عهده معظم أرمينيا .



السؤال الحادي عشر : حدد على الشكل :-

- ١- خط الاستواء
- ٢- خط جرينتش
- ٣- مدار السرطان
- ٤- مدار الجدي

السؤال الثاني عشر : أمامك خريطة قارة آسيا أكتب ما تشير إليه الأرقام :-



- ١- المحيط الهادي
- ٢- هضبة نجد
- ٣- هضبة التبت
- ٤- المحيط الهندي
- ٥- مضيق برنج

أسئلة على الوحدة الأولى الدولة الإسلامية عابرة القارات من صفحة (٢) إلى صفحة (٣٩)

الدرس الثاني :- قارة إفريقيا وامتداد الدولة الإسلامية فيها من صفحة (١٣) إلى صفحة (١٩)

السؤال الأول : أكمل الفراغ بالكلمات المناسبة :

- ١- تمتد قارة إفريقيا بين دائرتي عرض ٢٧ شمال خط الاستواء إلى ٣٥ جنوبه .
- ٢- من مظاهر سطح إفريقيا الجبال و الهضاب و السهول .
- ٣- من هضاب قارة إفريقيا هضبة الصحراء الإفريقية الكبرى و هضبة أثيوبيا .
- ٤- تنقسم السهول في قارة إفريقيا إلى سهول ساحلية و سهول فيضية .
- ٥- من بحيرات قارة إفريقيا بحيرة فكتوريا و بحيرة تشاد .
- ٦- من التحديات التي تواجهها قارة إفريقيا التصحر و الفقر و المجاعات و الأمراض .
- ٧- بلغ عدد سكان قارة إفريقيا حوالي ١ مليار و ٣٠٥ مليون نسمة حسب إحصائية ٢٠١٩ م .
- ٨- استغرق فتح المسلمين للمغرب حوالي ثمانين عاماً تقريباً .
- ٩- من دول إفريقيا التي انتشر فيها الإسلام عن طريق التجارة والدعاة نيجيريا و السنغال و مالي .

السؤال الثاني : اختر الإجابة الصحيحة مما بين القوسين :-

- ١- تمتد إفريقيا بين خطي طول (١٧ غرب إلى ٥١ شرق - ٥١ غرب إلى ١٧ شرق - ٣٧ شرق إلى ٣٥ غرب)
- ٢- قارة أوراسيا هي (أفريقيا وآسيا - أوروبا وآسيا - أستراليا وآسيا)
- ٣- يحدج قارة إفريقيا من الغرب (البحر المتوسط - المحيط الهندي - المحيط الأطلسي)
- ٤- يحد إفريقيا من الشرق (المحيط الهندي - البحر الأحمر - الاثنان معاً)
- ٥- من السلاسل الجبلية في قارة إفريقيا (أطلس - الأنديز - الهمليا)
- ٦- أعلى جبال قارة إفريقيا جبل (الجرمق - كلمنجاروا - الهكار)
- ٧- أشهر أنهار قارة إفريقيا نهر (النيل - النيجر - السند)
- ٨- تسقط الأمطار الموسمية الصيفية على المناطق التالية ما عدا (جنوب ووسط السودان - هضبة الحبشة - سواحل البحر المتوسط)
- ٩- تعد قارة ----- ثاني قارات العالم من حيث المساحة (إفريقيا - آسيا - أمريكا الشمالية)
- ١٠- أكبر هضاب العالم مساحة هضبة (التبت - الصحراء الأفريقية الكبرى - نجد)
- ١١- قام بحملة عسكرية كبرى وصل فيها إلى المحيط الأطلسي (عقبة بن نافع - موسى بن نصير - حسان بن نعمان)
- ١٢- استشهد عقبة بن نافع في منطقة (طنجة - تهودة - تلسان)
- ١٣- خلف عقبة بن نافع في قيادة جيش المسلمين (موسى بن نصير - طارق بن زياد - حسان بن النعمان الغساني)

السؤال الثالث : ضع علامة (صح) أمام العبارة الصحيحة وعلامة (خطأ) أمام العبارة الخاطئة :-

- ١- (×) تقع قارة إفريقيا في الجنوب الشرقي من قارة أستراليا .
- ٢- (√) تقع هضبة أثيوبيا في وسط وشرق قارة إفريقيا .
- ٣- (×) يعتبر نهر النيل قصر أنهار العالم .
- ٤- (√) ترتفع الحرارة صيفاً وتعتدل قرب السواحل في قارة إفريقيا .
- ٥- (√) تنخفض درجات الحرارة في الأجزاء الشمالية من إفريقيا شتاءً .
- ٦- (×) تنخفض الحرارة في قارة إفريقيا صيفاً بشكل عام .
- ٧- (√) يتركز السكان على سواحل قارة إفريقيا وفي المناطق الداخلية .
- ٨- (√) يوجد في قارة إفريقيا أكبر هضاب العالم مساحة .
- ٩- (×) سواحل قارة إفريقيا كثيرة التعاريج .
- ١٠- (×) توجد منطقة تهودة في دولة المغرب الحالية .
- ١١- (√) تمكن حسان بن النعمان الغساني من الانتصار على البربر والاستيلاء على معظم المغرب .
- ١٢- (√) انتشر الإسلام في مناطق كثيرة من قارة إفريقيا عن طريق التجار والدعاة المسلمين .

السؤال الرابع : ما النتيجة المترتبة على :-

- ١- امتداد خط الاستواء ومدار السرطان والجدي من قارة إفريقيا .
النتيجة / تعاكس الفصول فيها .
- ٢- قلة التعاريج في سواحل قارة إفريقيا .
النتيجة / قلة الموانئ الطبيعية .
- ٣- تعرض قارة إفريقيا لتجارة الرقيق (الاتجار بالبشر) .
النتيجة / استنزاف موارد القارة البشرية .
- ٤- سياسة المسلمين المتسامحة مع سكان المغرب .
النتيجة / اعتناق سكان المغرب للإسلام ، واندماجهم في الحضارة الإسلامية ، وتعلمهم اللغة العربية ، وانضمامهم للجيش الإسلامي .

السؤال الخامس : صحح ما تحته خط :-

- البحر المتوسط
الجنوب
مضيق جبل طارق
الهمبى
شمال
تنزانيا
الشرقية الجنوبية
٣٠ مليون كم ٢
المثلث
عقبة بن نافع
موسى بن نصير

- ١- يحيط بقارة إفريقيا من الشمال البحر الأحمر .
- ٢- يحد إفريقيا من الشرق المحيط الأطلسي والهندي .
- ٣- تتصل أوروبا مع إفريقيا من خلال قناة السويس .
- ٤- يسود الطابع الجبلى مظاهر سطح إفريقيا .
- ٥- تقع هضبة الصحراء الإفريقية الكبرى في جنوب قارة إفريقيا .
- ٦- يقع جبل كلمنجارو في دولة تشاد .
- ٧- تسقط الأمطار الموسمية الصيفية على السواحل الغربية الشمالية من قارة إفريقيا .
- ٨- تبلغ مساحة قارة إفريقيا حوالي ٥٠ مليون كم ٢ .
- ٩- تأخذ قارة إفريقيا شكل المربع .
- ١٠- بنى موسى بن نصير مدينة القيروان .
- ١١- أكمل حسان بن النعمان الغساني فتح ما تبقى من بلاد المغرب .

السؤال السادس : بم تفسر :-

- ١- تعاكس الفصول في قارة أفريقيا .
- السبب / امتداد خط الاستواء ومدار السرطان والجدى من قارة إفريقيا .
- ٢- ارتفاع درجات الحرارة في المناطق الجنوبية من قارة أفريقيا صيفاً .
- السبب / تعامد الشمس على مدار الجدى .
- ٣- قلة الموانئ الطبيعية في قارة إفريقيا .
- السبب / لأن سواحلها شبه مستقيمة .
- ٤- عدم تطور قارة إفريقيا رغم غناها بالموارد الطبيعية .
- السبب / الصراعات والحروب الأهلية ، والجفاف ، والتصحر ، والأمراض ، والفقر .
- ٥- استغراق فتح المسلمين للمغرب مدة طويلة مقارنة بالمناطق الأخرى .
- السبب / المساحة الكبيرة ، وصعوبة تضاريسها ، وشراسة سكانها البربر في القتال .
- ٦- بناء مدينة القيروان في بلاد المغرب العربي .
- السبب / لتكون قاعدة للمسلمين هناك .

السؤال السابع : أمامك خريطة أفريقيا عين عليها :-



- ١- جبال الهكار - العوينات
- ٢- هضبة أثيوبيا - هضبة البحيرات
- ٣- نهر النيل - نهر الكونغو
- ٤- البحر المتوسط - مضيق جبل طارق
- ٥- مدينة القيروان

أسئلة على الوحدة الأولى الدولة الإسلامية عابرة القارات من صفحة (٢) إلى صفحة (٣٩)

الدرس الثالث :- قارة أوروبا وامتداد الدولة الإسلامية فيها من صفحة (٢٠) إلى صفحة (٢٧)

السؤال الأول : أكمل الفراغات بالكلمات المناسبة :-

- ١- تمتد قارة أوروبا بين خطي طول ١٠ غرب جرينتش إلى ٦٠ شرقه .
- ٢- من مظاهر سطح قارة أوروبا الجبال و الهضاب و السهول .
- ٣- يمتد السهل الأوروبي العظيم من السواحل الغربية لقارة أوروبا حتى سلسلة جبال الأورال شرقاً .
- ٤- تنخفض درجات الحرارة في أوروبا شتاءً كلما اتجهنا من الجنوب إلى الشمال .
- ٥- من أهم المشاكل التي تعاني منها القارة الأوروبية تراجع معدلات نمو المواليد و ارتفاع نسبة كبار السن .
- ٦- من أشهر دول قارة أوروبا ألمانيا و فرنسا و بريطانيا .
- ٧- من المدن التي فتحها المسلمون في إسبانيا قرطبة و أشبيلية و ماردة و طليطلة .
- ٨- من الآثار الإسلامية في الأندلس مسجد قرطبة و مدينة الزهراء وقصر الحمراء .

السؤال الثاني : اختر الإجابة الصحيحة مما بين القوسين :-

- ١- تمتد قارة أوروبا بين دائرتي عرض ----- شمال خط الاستواء . (٣٤ إلى ٨٠ - ٦٠ إلى ١٠)
- ٢- يحد قارة أوروبا من الشمال . (البحر المتوسط - المحيط الأطلسي - المحيط المتجمد الشمالي)
- ٣- يحد قارة أوروبا من الغرب . (بحر قزوين - المحيط الأطلسي - البحر الأسود)
- ٤- يحد قارة أوروبا من الشرق . (جبال الأورال - بحر قزوين - الألتان معاً)
- ٥- يتخلل السهل الأوروبي العظيم نهر . (الفرات - الدانوب - الكنفو)
- ٦- أعلى قمة جبلية في قارة أوروبا جبل . (مونت بلان - كلمنجاو - طبقال)
- ٧- كل ما يلي من جبال قارة أوروبا ما عدا . (مونت بلان - أطلس - البرانس)
- ٨- من هضاب قارة أوروبا هضبة . (الميزيتا - الغابة السوداء - الألتان معاً)
- ٩- توجد هضبة الميزيتا في دولة . (إسبانيا - ألمانيا - إيطاليا)
- ١٠- تبلغ مساحة قارة أوروبا حوالي . (١٥,٥ ملون كم ٢ - ١٠,٥ مليون كم ٢ - ٢٥,٥ مليون كم ٢)
- ١١- وقعت فلسطين تحت الانتداب البريطاني عام . (١٩٢٢ إلى ١٩٤٨ م - ١٩١٧ إلى ١٩٤٨ م - ١٩٢٠ إلى ١٩٤٨ م)
- ١٢- فتح المسلمين في العصر العباسي جزر . (البليار وصقلية - قبرص وكريت - جميع ما ذكر)
- ١٣- انتصر المسلمون على الإسبان في معركة . (اليرموك - وادي لكة - عين جالوت)
- ١٤- وقعت معركة وادي لكة عام . (٩٢ هـ / ٧١١ م - ١٤ هـ / ٧٣٢ م - ٣٨ هـ / ٧٥٦ م)
- ١٥- بلاد الفرنجة هي دولة ----- حالياً . (فرنسا - إيطاليا - إسبانيا)
- ١٦- لجأ عبد الرحمن الداخل بعد سيطرة العباسيين على الحكم إلى . (الأندلس - بريطانيا - فرنسا)

السؤال الثالث : ضع علامة (صح) أمام العبارة الصحيحة وعلامة (خطأ) أمام العبارة الخاطئة :-

- ١- (×) يفصل أوروبا عن آسيا سلسلة جبال أطلس .
- ٢- (√) تمتد سلسلة جبال الألب في جنوب قارة أوروبا .
- ٣- (×) يفصل إسبانيا عن فرنسا سلسلة جبال مونت بلان .
- ٤- (×) ترتفع درجات الحرارة في قارة أوروبا صيفاً كلما اتجهنا من الجنوب إلى الشمال .
- ٥- (√) ترتفع درجات الحرارة في قارة أوروبا من الغرب إلى الشرق .
- ٦- (√) تسقط الأمطار على معظم أجزاء قارة أوروبا صيفاً باستثناء المناطق الجنوبية .
- ٧- (√) تسقط الأمطار والثلوج على جميع أجزاء قارة أوروبا شتاءً .
- ٨- (×) تزداد كمية الأمطار كلما اتجهنا إلى الشرق من قارة أوروبا .
- ٩- (√) تعد قارة أوروبا من أكثر القارات من حيث الكثافة السكانية .
- ١٠- (√) تمتاز قارة أوروبا بتطورها في مختلف المجالات الاقتصادية .
- ١١- (×) تفتقر قارة أوروبا إلى شبكات المواصلات .
- ١٢- (√) جاء الاستعمار إلى الوطن العربي من قارة أوروبا .
- ١٣- (√) تمتاز قارة أوروبا بطول سواحلها وكثرة التعاريف فيها .
- ١٤- (×) فتح المسلمون بلاد الأندلس (إسبانيا) في العصر العباسي .
- ١٥- (√) انفرد بني أمية في حكم بلاد الأندلس .
- ١٦- (√) لا تزال الآثار الإسلامية من مساجد وقصور موجودة في جزيرة صقلية حتى اليوم .
- ١٧- (√) أصبحت الأندلس في عهد الدولة الأموية زمن عبد الرحمن الداخل منارة للعلم والعلماء .
- ١٨- (×) عاش سكان الأندلس في ظل الدولة الإسلامية في ظل مجتمع متطرف .
- ١٩- (×) تقع قارة أوروبا غرب خط جرينتش .

السؤال الرابع : صحح ما تحته خط :-

- ١- تقع قارة أوروبا إلى الغرب من قارة أفريقيا .
- ٢- يحد أوروبا من الشرق البحر المتوسط والبحر الأسود وبحر مرمرة .
- ٣- يوجد جبل مونت بلان في قارة آسيا .
- ٤- توجد هضبة الغابة السوداء في إسبانيا .
- ٥- بلغ عدد سكان قارة أوروبا حوالي ٤٧٠ مليون نسمة حسب احصائية ٢٠١٩ م .
- ٦- تعتبر قارة أوروبا ثاني قارات العالم من حيث عدد السكان .
- ٧- بدأت الثورة الصناعية في قارة آسيا .
- ٨- وقعت فلسطين تحت الانتداب الفرنسي .
- ٩- تحولت جزيرة قبرص خلال الحكم الإسلامي إلى بلد تسوده الحضارة .
- ١٠- لقب الأمير عبد الرحمن الداخل بصقر العرب .
- ١١- تقع قارة أوروبا جنوب خط الاستواء .

آسيا
الجنوب
أوروبا
ألمانيا
٧٤٥ مليون
ثالث
أوروبا
البريطاني
صقلية
صقر قريش
شمال

السؤال الخامس : ما النتيجة المترتبة على :-

- ١- عدم سقوط الأمطار على المناطق الجنوبية من قارة أوروبا صيفاً .
النتيجة / جفاف هذه المناطق في فصل الصيف .
- ٢- تأخر سن الزواج وارتفاع نسبة كبار السن في قارة أوروبا
النتيجة / تناقص أعداد السكان فيها .
- ٣- كثرة التعاريج وتداخل اليباس مع الماء في قارة أوروبا .
النتيجة / تشكل المونى الطبيعية ونشاط حركة الصيد البحرى .
- ٤- معركة وادي لكة .
- ٥- معركة بلاط الشهداء .
النتيجة / انتصار المسلمين وفتح العديد من المدن الإسبانية .
- ٦- إسلام عدد كبير من سكان صقلية .
النتيجة / تحولت إلى بلد تسوده الحضارة العربية الإسلامية .
- ٧- لجوء عبد الرحمن الداخل إلى الأندلس .
النتيجة / استطاع السيطرة عليها وإقامة دولة وراثية فيها سميت بالدولة الأموية في الأندلس .

السؤال السادس : بم تفسر :-

- ١- تطور قارة أوروبا في جميع المجالات .
السبب / التقدم العلمى والحضارى لجميع دول القارة .
- ٢- تعد قارة أوروبا أكثر قارات العالم كثافة سكانية .
السبب / اعتدال مناخها ، وخصوبة تربتها ، وتطورها في جميع المجالات
- ٣- ارتفاع نسبة كبار السن في قارة أوروبا .
السبب / تفضيل شعوبها الزواج المتأخر وانجاب عدد قليل من الأطفال .
- ٤- تحاول القارة الأوروبية السيطرة على تدفق اللاجئين .
السبب / لدواعى سياسية وأمنية وحضارية .
- ٥- تحتاج أوروبا للاجئين من الدول الأخرى .
السبب / لزيادة نسبة سكانها لدواعى اقتصادية بسبب معاناتها من الشيخوخة .
- ٦- سميت قارة أوروبا بالقارة العجوز .
السبب / لتراجع معدلات نمو المواليد فيها وارتفاع نسبة كبار السن .
- ٧- تعاني قارة أوروبا من التناقص في عدد السكان .
السبب / تأخر سن الزواج ، وارتفاع نسبة كبار السن .
- ٨- لجوء الأمير عبد الرحمن الداخل إلى الأندلس .
السبب / هرباً من العباسيين بعد سيطرتهم على الحكم

السؤال السابع : أختَر من المجموعة (أ) ما يناسبها من المجموعة (ب) :-

- | | |
|-----------------------------------|----------------------|
| المجموعة (أ) | المجموعة (ب) |
| ١- معركة وادي لكة | (٣) ١٣٨ هـ / ٧٥٦ م |
| ٢- معركة بلاط الشهداء | (١) ٩٢ هـ / ٧١١ م |
| ٣- قيام الدولة الأموية في الأندلس | (٢) ١١٤ هـ / ٧٣٢ م |
| | (٧) |

السؤال الثامن : أكتب المصطلح العلمي :-

- ١- (المولدين) الأشخاص الذين ولدوا في الأندلس من آباء مسلمين وأمهات إسبانيات .
- ٢- (الإسيان) الأشخاص اللذين ظلوا على ديانتهم المسيحية ولكنهم تعلموا اللغة العربية .
- ٣- (الصقالبة) الأوروبيين الذين كانوا يأتون للأندلس لأسباب مختلفة .

السؤال التاسع : من أكون :-

- ١- (موسى بن نصير) شاركت مع القائد طارق بن زياد في فتح الأندلس .
- ٢- (عبد الرحمن الغافقي) قادت حملة كبيرة داخل فرنسا عام ١١٤ هـ / ٧٣٢ م .
- ٣- (طارق بن زياد) قادت جيوش المسلمين في معركة وادي لكة .
- ٤- (عبد الرحمن الداخل) سيطرت على الأندلس وأقامت فيها الدولة الأموية بعد هروبي من العباسيين

السؤال العاشر : عين على خريطة أوروبا الصماء ما يلي :-

١- المحيط الأطلسي - المحيط المتجمد الشمالي

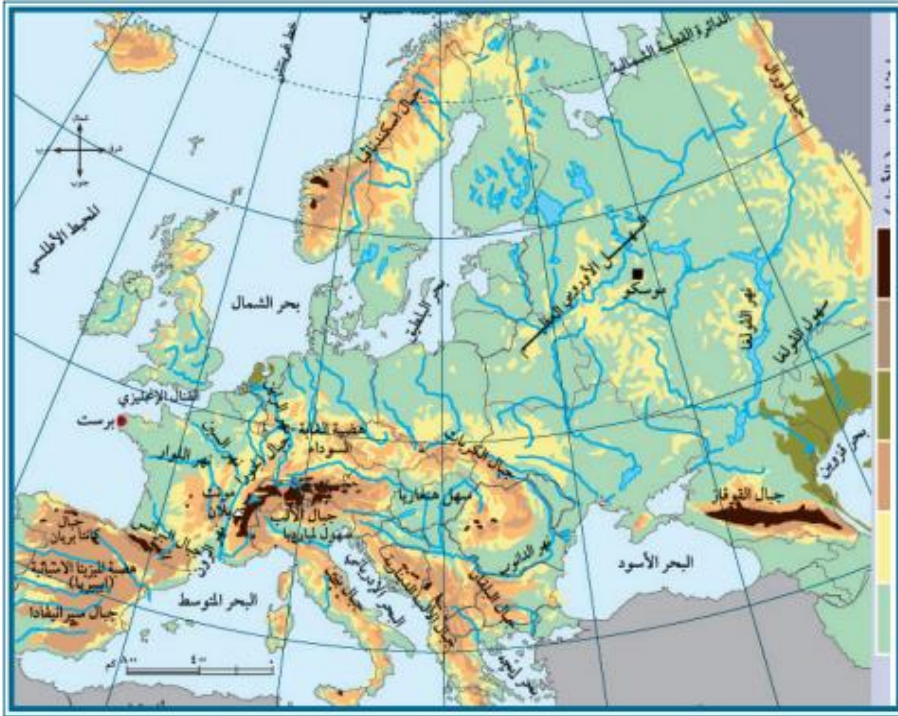
٢- البحر المتوسط - بحر البلطيق

٣- جبال الألب - جبال البرانس

٤- السهل الأوروبي العظيم

٥- هضبة الميزيتا

٦- نهر السين



تطلب من مكتبة زهور الأقصى
رفح - الشابورة - شارع النخلة بالقرب من مفترق الدخني
0599739185

أسئلة على الوحدة الأولى الدولة الإسلامية عابرة القارات من صفحة (٢) إلى صفحة (٣٩)

الدرس الرابع :- قارة أمريكا الشمالية من صفحة (٢٨) إلى صفحة (٣١)

السؤال الأول : أكمل الفراغات بالكلمات المناسبة :-

- ١- تقع قارة أمريكا الشمالية بين خطي طول ٤٨ إلى ١٧٠ غرب خط جرينيتش .
- ٢- يجري في السهول الساحلية الوسطى نهر الميسيسيبي .
- ٣- من هضاب المرتفعات الشرقية هضبة ليرادور .
- ٤- تعرف المرتفعات الجنوبية من قارة أمريكا الشمالية بجبال سيراماديرا .
- ٥- يتوزع سكان قارة أمريكا الشمالية على ثلاث دول هي كندا و الولايات المتحدة الأمريكية و المكسيك .
- ٦- تتميز قارة أمريكا الشمالية بإنتاج زراعي و صناعي على .

السؤال الثاني : اختر الإجابة الصحيحة مما بين القوسين :-

- ١- تقع قارة أمريكا الشمالية بين دائرتي عرض ---- شمال خط الاستواء . (٨٣ إلى ١٥ - ١٥ إلى ٨٣ - ٤٨ إلى ١٧٠)
- ٢- يحد قارة أمريكا الشمالية من الشمال . (المحيط المتجمد الشمالي - خليج المكسيك - البحر الكاريبي)
- ٣- يحد قارة أمريكا الشمالية من الشرق . (المحيط الهادي - البحر الكاريبي - المحيط الأطلسي)
- ٤- يوجد في السهول الساحلية الوسطى . (البحيرات الخمس - نهر الميسيسيبي - الاثنان معا)
- ٥- تعرف المرتفعات الغربية من قارة أمريكا الشمالية بمرتفعات . (الأبلش - روكي - الألب)
- ٦- تبلغ مساحة قارة أمريكا الشمالية حوالي . (٢٠ مليون كم ٢ - ٩,٥ مليون كم ٢ - ٢٤ مليون كم ٢)
- ٧- بلغ عدد سكان قارة أمريكا الشمالية حوالي ---- نسمة حسب احصائية ٢٠١٩ م . (٤٩٢ ملون - ٨٨٤ مليون - ٨٤٨ مليون)

السؤال الثالث : صحح ما تحته خط :-

- ١- تقع قارة أمريكا الشمالية غرب خط الاستواء .
- ٢- يحد قارة أمريكا الشمالية من الشرق خليج المكسيك .
- ٣- تُعرف المرتفعات الشرقية في قارة أمريكا الشمالية بجبال الألب .
- ٤- توجد هضبة ليرادور في المرتفعات الغربية .
- ٥- تعتبر قارة أمريكا الشمالية رابع قارات العالم مساحة .
- ٦- تعتبر قارة أمريكا الشمالية من قارات العالم النامي .
- ٧- تقع قارة أمريكا الشمالية جنوب خط الاستواء .

السؤال الرابع : ضع علامة (صح) أمام العبارة الصحيحة وعلامة (خطأ) أمام العبارة الخاطئة :-

- ١- (×) يحد قارة أمريكا الشمالية من الغرب المحيط الأطلسي .
- ٢- (√) تتكون قارة أمريكا الشمالية من ثلاث مظاهر تضاريسية .
- ٣- (√) هضبة ليرادور غنية بإنتاجها الزراعي والصناعي .
- ٤- (×) المرتفعات الشرقية في قارة أمريكا الشمالية أكثر ارتفاعاً من الغربية .
- ٥- (×) ترتفع درجات الحرارة صيفاً في قارة أمريكا الشمالية كلما اتجهنا شمالاً .
- ٦- (√) تسقط على قارة أمريكا الشمالية أمطار صيفية .
- ٧- (√) تنخفض درجات الحرارة شتاءً في قارة أمريكا الشمالية .
- ٨- (×) تتميز الأطراف الجنوبية المطلة على خليج المكسيك بالبرودة .
- ٩- (√) تسقط الأمطار والثلوج بشكل عام على قارة أمريكا الشمالية ككل .
- ١٠- (×) تعتبر قارة أمريكا الشمالية أقل قارات العالم من حيث عدد السكان .
- ١١- (√) توجد في قارة أمريكا الشمالية بعض الجاليات الفلسطينية .
- ١٢- (×) وصلت الفتوحات الإسلامية إلى قارة أمريكا الشمالية .
- ١٣- (×) تقع قارة أمريكا الشمالية شرق خط جرينيتش .

السؤال الخامس : بم تفسر :-

- ١- ترتفع درجات الحرارة في قارة أمريكا الشمالية كلما اتجهنا جنوباً .
السبب / لأنها تقترب من خط الاستواء .
- ٢- دفء الأطراف الجنوبية المطلة على خليج المكسيك في أمريكا الشمالية .
السبب / لقربها من مدار السرطان .
- ٣- انخفاض درجات الحرارة في قارة أمريكا الشمالية كلما اتجهنا شمالاً .
السبب / لقربها من المنطقة القطبية .
- ٤- لم تصل الفتوحات الإسلامية إلى قارة أمريكا الشمالية .
السبب / لأنها اكتشفت بعد انتهاء الفتوحات الإسلامية فهي من العالم الجديد .

السؤال السادس : أمامك خريطة قارة أمريكا الشمالية حدد عليها ما يلي :-



١- هضبة البرادور

٢- دولة كندا

٣- جبال روكي

٤- المحيط الهادي

٥- نهر المسيسيبي

أسئلة على الوحدة الأولى الدولة الإسلامية عابرة القارات من صفحة (٢) إلى صفحة (٣٩)
الدرس الخامس :- قارة أمريكا الجنوبية (اللاتينية) من صفحة (٣٢) إلى صفحة (٣٥)

السؤال الأول : أكمل الفراغات بالكلمات المناسبة :-

- ١- تقع قارة أمريكا الجنوبية بين دائرتي عرض ١٥ شمال خط الاستواء وإلى ٥٦ جنوبه .
- ٢- يحد قارة أمريكا الجنوبية من الجنوب المحيط المتجمد الجنوبي .
- ٣- تتكون قارة أمريكا الجنوبية من ثلاث مظاهر تضاريسية هي السهول الساحلية والوسطى و المرتفعات الغربية و الهضاب .
- ٤- تعتبر جبال الأنديز امتداد لجبال روكي في قارة أمريكا الشمالية .
- ٥- من الدول الداعمة للقضية الفلسطينية في قارة أمريكا الجنوبية كوبا و فنزويلا .

السؤال الثاني : ضع علامة (صح) أمام العبارة الصحيحة وعلامة (خطأ) أمام العبارة الخاطئة :-

- ١- (×) يحد قارة أمريكا الجنوبية من الشرق المحيط الهادي .
- ٢- (√) تمتد السهول الوسطى في قارة أمريكا الجنوبية بين الهضاب وجبال الأنديز .
- ٣- (×) يعتبر نهر الأمازون من أطول أنهار العالم .
- ٤- (√) تقع هضبة جيانا في شمال شرق قارة أمريكا الجنوبية .
- ٥- (×) ترتفع درجات الحرارة في قارة أمريكا الجنوبية شتاءً .
- ٦- (√) تعدل درجات الحرارة في المناطق الساحلية من قارة أمريكا الجنوبية .
- ٧- (√) تنخفض درجات الحرارة وتسقط الأمطار شتاءً على قارة أمريكا الجنوبية .
- ٨- (×) يتركز معظم سكان قارة أمريكا الجنوبية في المناطق الجبلية .
- ٩- (×) تتخذ قارة أمريكا الجنوبية شكل مثلث رأسه في الشمال وقاعدته في الجنوب .
- ١٠- (√) يوجد في قارة أمريكا الجنوبية بعض الدول الداعمة للقضية الفلسطينية .
- ١١- (√) لم تصل الفتوحات الإسلامية إلى قارة أمريكا الجنوبية .
- ١٢- (×) تقع قارة أمريكا الجنوبية شمال خط الاستواء .

السؤال الثالث : اختر الإجابة الصحيحة مما بين القوسين :-

- ١- تقع قارة أمريكا الجنوبية بين خطي طول . (٨١ إلى ٣٥ غرباً - ٣٥ إلى ٨١ غرباً - ١٥ إلى ٥٦ غرباً)
- ٢- يحد قارة أمريكا الجنوبية من الشمال . (أمريكا الشمالية - المحيط الأطلسي - المحيط الهادي)
- ٣- يحد قارة أمريكا الجنوبية من الغرب . (المحيط الأطلسي - المحيط المتجمد الجنوبي - المحيط الهادي)
- ٤- أشهر أنهار قارة أمريكا الجنوبية نهر . (النيل - الأمازون - المسيسيبي)
- ٥- كل ما يلي من هضاب قارة أمريكا الجنوبية ما عدا هضبة . (ليرادور - البرازيل - جيانا)
- ٦- تقع في وسط قارة أمريكا الجنوبية هضبة . (البرازيل - بتاجونيا - الميزيتا)
- ٧- تبلغ مساحة قارة أمريكا الجنوبية والوسطى حوالي . (٢٢٠ مليون كم^٢ - ٨١ مليون كم^٢ - ١٨ مليون كم^٢)
- ٨- بلغ عدد سكان أمريكا الجنوبية حسب احصائية ٢٠١٩ م . (٦٤٤,٥ مليون نسمة - ٢٢٠ مليون نسمة - ٦٦٠ مليون نسمة)
- ٩- يقل تركيز السكان في قارة أمريكا الجنوبية في . (السواحل - سهل نهر الأمازون - السهول الفيضية)

(١٠)

السؤال الرابع : صحح ما تحته خط :-

البحر الكاريبي
جبال الأنديز
أعرض
جنوب
صيفاً
٢١٩,٥ مليون
مثلث
غرب

- ١- يحد قارة أمريكا الجنوبية من الشمال البحر الأسود .
- ٢- تعرف المرتفعات الغربية في قارة أمريكا الجنوبية بجبال الألب .
- ٣- يعتبر نهر الأمازون من أطول أنهار العالم .
- ٤- تقع هضبة بتاجونيا في غرب قارة أمريكا الجنوبية .
- ٥- تسقط الأمطار على المناطق الساحلية شتاءً في قارة أمريكا الجنوبية .
- ٦- بلغ عدد سكان أمريكا الوسطى حوالي ٤٤٠ مليون نسمة .
- ٧- تتخذ قارة أمريكا الجنوبية شكل مربع .
- ٨- تقع قارة أمريكا الجنوبية شرق خط جرينيتش .

السؤال الخامس : بم تفسر :-

- ١- أهمية غابات نهر الأمازون .
السبب / تعتبر رنة العالم لأنها توفر نسبة كبيرة من الأكسجين .
- ٢- قلة السكان في سهول نهر الأمازون .
السبب / ارتفاع درجة حرارتها لقربها من خط الاستواء ، وكثافة غاباتها
- ٣- قلة السكان في المناطق الجبلية من قارة أمريكا الجنوبية .
السبب / وعورة السطح
- ٤- عدم وجود موانئ طبيعية في قارة أمريكا الجنوبية .
السبب / استقامة سواحلها وقلة التعاريج فيها .
- ٥- لم تصل الفتوحات الإسلامية إلى قارة أمريكا الجنوبية .
السبب / لأنها اكتشفت بعد توقف الفتوحات الإسلامية فهي من قارات العالم الجديد

السؤال السادس : ما النتيجة المترتبة على :-

- ١- استقامة سواحل قارة أمريكا الجنوبية .
النتيجة / عدم وجود موانئ طبيعية فيها .

السؤال السابع : أمامك خريطة قارة أمريكا الجنوبية حدد عليها ما يلي :-

١- نهر الأمازون

٢- جبال الأنديز

٣- هضبة البرازيل

٤- هضبة بتاجونيا

٥- المحيط الهادي



أسئلة على الوحدة الأولى الدولة الإسلامية عابرة القارات من صفحة (٢) إلى صفحة (٣٩)
الدرس السادس :- قارة أوقيانوسيا من صفحة (٣٦) إلى صفحة (٣٩)

السؤال الأول : أكمل الفراغات بالكلمات المناسبة :-

- ١- تقع قارة أوقيانوسيا بين خطي طول ١١٥ إلى ١٨٠ شرق خط جرينيتش .
- ٢- تشمل قارة أوقيانوسيا استراليا وجزر نيوزيلاندا .
- ٣- تتكون مظاهر سطح قارة أوقيانوسيا من السهول و الهضاب و المرتفعات الجبلية .
- ٤- تنقسم سهول قارة أوقيانوسيا إلى السهول الساحلية و الفيضية .
- ٥- من أهم الحرف في قارة أوقيانوسيا الزراعة و تربية الأغنام و صيد السمك .
- ٦- وصل الإسلام إلى قارة أوقيانوسيا وأمريكا الشمالية والجنوبية عن طريق المهاجرين و التجار .
- ٧- من الجزر التابعة لقارة أوقيانوسيا في المحيط الهادي سَلْمُن و نيوزيلاندا و تسمانيا و بيوغينيا الجديدة و كليدونية الجديدة .

السؤال الثاني : ضع علامة (صح) أمام العبارة الصحيحة وعلامة (خطأ) أمام العبارة الخاطئة :-

- ١- (×) تقع قارة أوقيانوسيا شمال خط الاستواء .
- ٢- (√) تحيط المياه بقارة أوقيانوسيا من جميع الجهات .
- ٣- (×) يتميز مناخ قارة أوقيانوسيا بانخفاض درجات الحرارة صيفاً .
- ٤- (√) تسقط الأمطار على قارة أوقيانوسيا صيفاً وشتاءً .
- ٥- (×) سكان قارة أوقيانوسيا عبارة عن شعب واحد .
- ٦- (√) يتركز سكان قارة أوقيانوسيا على السواحل .
- ٧- (×) لا تسمح قوانين قارة أوقيانوسيا بالهجرة إليها .
- ٨- (√) توجد في قارة أوقيانوسيا جبال الألب الأسترالية .

السؤال الثالث : صحح ما تحته خط :-

- ١- تقع قارة أوقيانوسيا غرب خط جرينيتش .
- ٢- تتعدل درجات الحرارة في قارة أوقيانوسيا في فصل الربيع .
- ٣- بلغ عدد سكان قارة أوقيانوسيا ٩ مليون نسمة .
- ٤- تمتاز قارة أوقيانوسيا بأنها كثيرة التعرجات .
- ٥- يمر بقارة أوقيانوسيا مدار السرطان .

شرق
الشتاء
٤٢,٥ مليون
قليلة
مدار الجدي

السؤال الرابع : اختر الإجابة الصحيحة مما بين القوسين :-

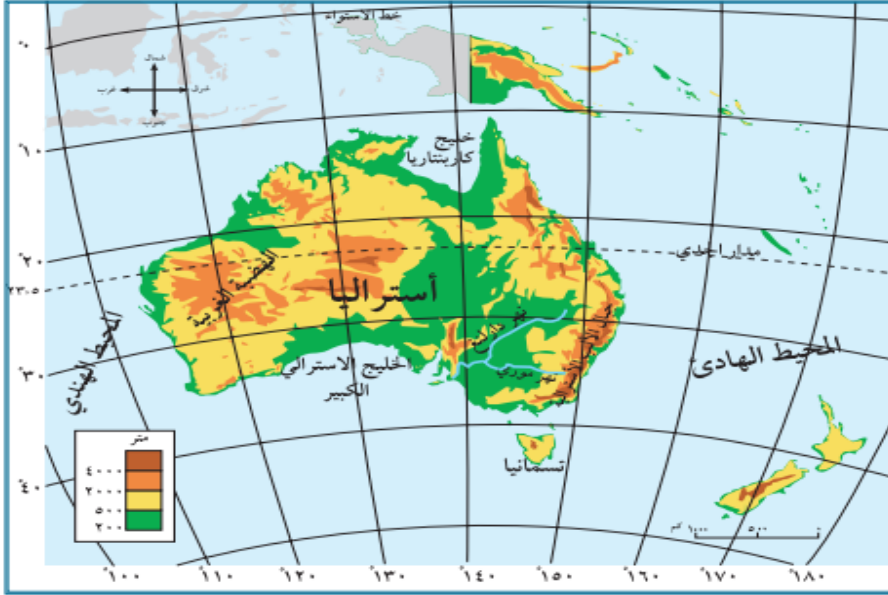
- ١- تقع قارة أوقيانوسيا بين دائرتي عرض ----- جنوب خط الاستواء . (٥٠ إلى ٥ - ٥٠ إلى ١١٥)
- ٢- تتعدل الحرارة في قارة أوقيانوسيا في المناطق . (الساحلية - الداخلية - الجبلية)
- ٣- أصغر قارات العام قارة . (إفريقيا - أمريكا الشمالية - أوقيانوسيا)
- ٤- تبلغ مساحة قارة أوقيانوسيا حوالي . (٩ مليون كم - ٢٠ مليون كم - ١٥ مليون كم)
- ٥- أكبر حاجر مرجاني يوجد في قارة . (آسيا - أوقيانوسيا - أوروبا)
- ٦- من الدول التي انضمت إلى منظمة التعاون الإسلامي من قارة أوقيانوسيا . (سورينام - غويانا - الإثنان معاً)
- ٧- كل ما يلي من طرق وصول الإسلام إلى قارة أوقيانوسيا ما عدا . (الفتوحات الإسلامية - الدعاة - تجار الرقيق)
- ٨- كل ما يلي من أنهار قارة أوقيانوسيا ما عدا . (نهر دارلنغ - نهر المسيسيبي - نهر موري)
- ٩- من خلجان قارة أوقيانوسيا خليج . (كاربنتاريا - الخليج الأسترالي الكبير - الإثنان معاً)

السؤال الخامس : بم تفسر :-

- ١- لم تصل الفتوحات الإسلامية إلى قارة أوقيانوسيا .
- السبب / لأنها اكتشفت بعد توقف الفتوحات الإسلامية فهي من العالم الجديد .
- ٢- لا يتزامن فصل الشتاء في قارة أوقيانوسيا مع فصل الشتاء في فلسطين .
- السبب / لأن قارة أوقيانوسيا تختلف مع فلسطين في الموقع الفلكي .
- ٣- سكان قارة أوقيانوسيا مزيج من شعوب مختلفة .
- السبب / بسبب استقبالها للهجرات من جميع مناطق العالم .
- ٤- عدم وجود موانئ طبيعية في قارة أوقيانوسيا
- السبب / استقامة سواحلها وقلة التعرجات .

- السؤال السادس : ما النتيجة المترتبة على :-
 ١- قلة التعرجات في سواحل قارة أوقيانوسيا .
 النتيجة / قلة الموانئ الطبيعية .
 ٢- أحاطه قارة أوقيانوسيا بالمسطحات المائية .
 النتيجة / اعتدال درجات الحرارة في المناطق الساحلية ، وسقوط الأمطار عليها صيفاً وشتاءً .

السؤال السابع : أمامك خريطة قارة أوقيانوسيا حدد عليها ما يلي :-



١- المحيط الهادي

٢- الخليج الأسترالي الكبير

٣- نهر دارلنغ

٤- الهضبة الغربية

٥- جزيرة تسمانيا

أسئلة على الوحدة الثانية انجازات الدولة الإسلامية من صفحة (٤٠) إلى صفحة (٧٣)
 درس الأول :- الانجازات الإدارية في الدولة الإسلامية من صفحة (٤٢) إلى صفحة (٤٧)

السؤال الأول : أكتب المصطلح العلمي :-

- ١- (ولاية العهد) الشخص الذي يعهد إليه الخليفة أو الحاكم تولي الحكم بعده .
- ٢- (الوزير) منصب سياسي مهم مهمته مساعدة الرئيس في تحمل الأعباء وتقديم المشورة له .
- ٣- (الديوان) المكان الذي تحفظ فيه السجلات الرسمية .
- ٤- (تعريب الدواوين) تحويل لغة الكتابة في الدواوين إلى اللغة العربية .
- ٥- (القضاء) الفصل بين الناس في الخصومات طبقاً لأحكام الشريعة الإسلامية .
- ٦- (ديوان المظالم) ديوان يشبه محكمة الاستئناف العليا في وقتنا الحاضر .

السؤال الثاني : ضع علامة (صح) أمام العبارة الصحيحة وعلامة (خطأ) أمام العبارة الخاطئة :-

- ١- (√) تغيرت طريقة اختيار الخليفة في عهد الدولة الأموية .
- ٢- (×) تغيرت طريقة اختيار الخلفاء في الدولة الإسلامية من الوراثة إلى الشورى .
- ٣- (√) نظام الحكم الوراثي في الدولة الأموية يشبه الأنظمة الملكية في الحكم الحالي .
- ٤- (√) تختلف طرق اختيار الحاكم في العصر الحديث .
- ٥- (×) ظهرت الدواوين في العصر الأموي .
- ٦- (√) لم يكن عند المسلمين عند انشاء الدواوين الخبرة الكافية .
- ٧- (×) تم تعريب الدواوين في العصر الإسلامي .
- ٨- (√) أخذ المسلمين الدواوين عن الفرس والروم .
- ٩- (√) بمجيء الإسلام أصبح الرسول (صلى الله عليه وسلم) يقوم بحل الخلافات بين الناس .
- ١٠- (√) قاضي المظالم أعلى سلطة من القاضي العادي .
- ١١- (×) لا يتدخل ديوان المظالم في تعدي الولاة على الرعية .
- ١٢- (√) السلطة القضائية سلطة مستقلة عن التنفيذية والتشريعية .
- ١٣- (√) زاد اهتمام المسلمين ببناء الأساطيل في العصر العباسي والأموي .
- ١٤- (√) سيطر المسلمين في العصر الأموي والعباسي على البحر المتوسط .

(١٣)

السؤال الثالث : اختر الإجابة الصحيحة مما بين القوسين :-

- ١- ظهر منصب ولاية العهد في الدولة الإسلامية زمن الخليفة . (يزيد بن معاوية - معاوية بن أبي سفيان - علي بن أبي طالب)
- ٢- توفي الخليفة معاوية بن أبي سفيان عام . (٦٠ هـ / ٦٧٩ م - ١٣٠ هـ / ٧٤٧ م - ٣٠ هـ / ٦٤٩ م)
- ٣- أول من تقلد منصب الوزير في الدولة العباسية . (يزيد بن معاوية - أبا سلمة الخلال - زيد بن ثابت)
- ٤- أول من أنشأ الدواوين في الإسلام الخليفة . (عمر بن الخطاب - عثمان بن عفان - علي بن أبي طالب)
- ٥- كتبت الدواوين في مصر باللغة . (الفارسية - الرومانية - القبطية)
- ٦- الخليفة الذي قام بتعريب الدواوين . (معاوية بن أبي سفيان - عبد الملك بن مروان - الوليد بن عبد الملك)
- ٧- أول ديوان أنشأ في الإسلام هو ديوان . (العطاء - المظالم - الماء)
- ٨- عامل الخليفة عمر بن الخطاب الذي قدم من البحرين ومعه مال كثير هو . (أبو موسى الأشعري - أبو هريرة - زيد بن ثابت)
- ٩- ظهر التجنيد الإجباري في العصر . (العباسي - الراشدي - الأموي)
- ١٠- وقعت اتفاقية جنيف الرابعة عام . (١٩٤٩ م - ١٩٥٤ م - ١٩٦٩ م)

السؤال الرابع : أكمل الفراغات بالكلمات المناسبة :-

- ١- عين الخليفة معاوية بن أبي سفيان ابنه يزيد ولي للعهد .
- ٢- في الدول التي تعتمد الانتخابات في أنظمة الحكم ينتخب الشعب الرئيس و المجالس النيابية .
- ٣- عرفت الأمم القديمة مثل الفرس منصب الوزير .
- ٤- كتبت الدواوين في بلاد الشام باللغة الرومانية .
- ٥- اتخذت الدواوين في العصر الحديث مسميات مختلفة مثل وزارة الداخلية و وزارة المالية .
- ٦- كان العرب قبل الإسلام يتحاكمون إلى العادات والتقاليد .
- ٧- السلطات الثلاث هي السلطة القضائية و التنفيذية و التشريعية .
- ٨- من العناصر الغير عربية التي دخلت الجيش الإسلامي الفرس و الأتراك .
- ٩- من الأسلحة البرية التي استخدمها المسلمين السيوف و السهام و المنجنيق .
- ١٠- من الاتفاقيات التي تطالب بالحد من استخدام الأسلحة اتفاقية جنيف الرابعة و لاهاي .

السؤال الخامس : صحح ما تحته خط :-

- ١- أطلق العرب اسم الوزير على من يعاون الخليفة في الحكم في العصر الأموي .
- ٢- كتبت الدواوين في العراق باللغة الرومانية .
- ٣- عين عمر بن الخطاب خالد بن الوليد قاضي على البحرين .
- ٤- ظهر التجنيد الإجباري في عهد عبد الملك بن مروان في مصر .
- ٥- دخلت إلى الجيش الإسلامي عناصر غير عربية في العصر الأموي .
- ٦- تم إنشاء أول أسطول بحري بلاد المغرب .
- ٧- حاصر المسلمون في العهد الراشدي القسطنطينية عاصمة البيزنطيين أكثر من مرة .
- ٨- المنجنيق من أسلحة المسلمين البحرية .
- ٩- وقعت اتفاقية جنيف عام ١٩٥٤ م .

العصر العباسي
الفارسية
أبو موسى الأشعري
العراق
العصر العباسي
بلاد الشام
الأموي والعباسي
السفن
لاهاي

السؤال السادس : بم تفسر :-

- ١- أهمية الوزارة في الدولة .
- السبب / تسهيل عمل الحكومة ، وتسهيل تقديم الخدمات للمواطنين ، وتحمل الأعباء عن الرئيس وتقديم له العون والمشورة
- ٢- أهمية إنشاء الدواوين في الدولة الإسلامية .
- السبب / تنظيم أمور الدولة .
- ٣- إبقاء المسلمين على الموظفين السابقين من الفرس والروم عند إنشاء الدواوين .
- السبب / لأن المسلمين لم يكن لهم الخبرة الكافية عند إنشاء الدواوين في مثل هذه الأعمال .
- ٤- تعريب المسلمين للدواوين .
- السبب / لأنه لم يعد من المناسب لدولة تمتد مساحتها على مساحة واسعة أن تكتب دواوينها بغير لغتها الرسمية .
- ٥- تعلم كتاب الدواوين من غير العرب اللغة العربية .
- السبب / للاحتفاظ بوظائفهم .
- ٦- تعد مؤسسة القضاء من المؤسسات المهمة في الدولة .
- السبب / لأنها تشرف على الفصل في الخصومات بين الناس ومعاقبة الخارجين عن القانون .
- ٧- إنشاء أسطول بحري إسلامي .
- السبب / لحماية المدن الساحلية من هجمات الأسطول البيزنطي .
- ٨- ظهور الاتفاقيات الدولية التي تدعو للحد من استخدام الأسلحة .
- السبب / الآثار السلبية التي ترتبت عليها في المجالين البشري والمادي .

السؤال السابع : ما النتيجة المترتبة على :-

- ١- تعريب الدواوين .
- النتيجة / أكدت على سيادة الدولة ، انتشار اللغة العربية بين كتاب الدواوين من غير العرب ، سهلت على الدولة مراقبة الدواوين .
- ٢- إنشاء ديوان المظالم .
- النتيجة / تحقيق العدالة الاجتماعية في الدولة الإسلامية .
- ٣- نظر ديوان المظالم في تعدي الولاة وذوي السلطة على الرعية .
- النتيجة / المساواة بين الحاكم والمحكوم .
- ٤- طول شواطئ الدولة الإسلامية على البحر المتوسط وتعرضها للاعتداءات البيزنطية .
- النتيجة / إنشاء أول أسطول إسلامي في بلاد الشام .
- ٥- استخدام الأسلحة الحديثة في الحروب .
- النتيجة / آثار سلبية في المجالين البشري والمادي ، ظهور اتفاقيات دولية تدعو للحد من استخدامها وتحريمها .
- ٦- استقلال مؤسسة القضاء في العصر الحديث .
- النتيجة / تحقيق العدالة الاجتماعية .

السؤال الثامن : من أكون :-

- ١- معاوية بن أبي سفيان (خليفة أموي قام بتعيين ابنه ولياً للعهد من بعده .
- ٢- عبد الملك بن مروان (خليفة قام بإنشاء ديوان النظر في المظالم .
- ٣- هارون الرشيد (خليفة استحدث منصب قاضي القضاة .
- ٤- عمر بن الخطاب (خليفة قام بتنظيم الجيش وتأسيس ديوان الجند .

أسئلة على الوحدة الثانية انجازات الدولة الإسلامية من صفحة (٤٠) إلى صفحة (٧٣)

الدرس الثاني :- الانجازات المعمارية في الدولة الإسلامية من صفحة (٤٨) إلى صفحة (٥٣)

السؤال الأول : أكمل الفراغات بالكلمات المناسبة :-

- ١- بدأت العمارة الإسلامية ببناء مسجد قباء في المدينة المنورة .
- ٢- تطورت عمارة المساجد فشملت بناء المآذن و المحاريب .
- ٣- ظهرت في الدولة الإسلامية المباني الدينية مثل المساجد و المدارس و الزوايا و المقامات و الكتاتيب و الكنائس .
- ٤- كانت الرسومات في المباني الإسلامية عبارة عن زخارف بأشكال هندسية أو رسومات نباتية .
- ٥- بنيت مدينة القاهرة في مصر وبغداد في العراق .
- ٦- من القصور التي بناها الخلفاء المسلمون قصر عمرة في الأردن .

السؤال الثاني : ضع علامة (صح) أمام العبارة الصحيحة وعلامة (خطأ) أمام العبارة الخاطئة :-

- ١- (√) أدى احتكاك العرب بالشعوب والأمم الأخرى في البلاد المفتوحة إلى الاهتمام بفن العمارة .
- ٢- (×) تميز مسجد قباء بالتعقيد في بنائه .
- ٣- (√) البساطة كانت السمة الغالبة على العمارة في العصر الراشدي .
- ٤- (×) أهتمت الدولة الإسلامية بالعمارة الدينية فقط .
- ٥- (√) لعب مقام النبي موسى دوراً مهماً في الحركة الوطنية الفلسطينية .
- ٦- (×) منعت الدولة الإسلامية بناء وترميم الكنائس في مناطق الدولة الإسلامية .
- ٧- (√) البيوت البسيطة تعتبر من المباني السكنية .
- ٨- (×) الحمامات العامة والأسواق والبرك مبانى سكنية .
- ٩- (√) امتازت العمارة الإسلامية بتوافقها مع تعاليم الإسلام ومبادئه .
- ١٠- (√) خلت المباني الإسلامية من ذوات الأرواح .
- ١١- (√) زينت المساجد بالكتابة بالخطوط الجميلة على جدرانها وخاصة الآيات القرآنية .
- ١٢- (×) تتشابه العمارة الإسلامية مع غيرها من العمارات الأخرى .
- ١٣- (√) كان أهل المغرب العربي إذا دخل عليهم أمير أظهروا الإسلام وإذا تركهم أرتد من أسلم منهم .
- ١٤- (×) بنيت مدينة القيروان في المملكة المغربية .
- ١٥- (×) ألف الخلفاء الراشدين حياة المدن واهتموا ببناء القصور .
- ١٦- (√) اتسمت القصور الإسلامية بالسعة والأعمدة الرخامية والفسيفساء .
- ١٧- (√) خصصت الطوابق العلوية من القصور للنساء .
- ١٨- (√) احيطت القصور بالحدائق المليئة بالأشجار .

السؤال الثالث : اختر الإجابة الصحيحة مما بين القوسين :-

- ١- توجد بركة السلطان في مدينة .
- ٢- يوجد جامع الزيتونة في دولة .
- ٣- يوجد مقام النبي موسى في مدينة.
- ٤- اندلعت ثورة في موسم النبي صالح عام .
- ٥- كل ما يلي من المباني السكنية ما عدا .
- ٦- من المباني الحربية في الدولة الإسلامية .
- ٧- البيمارستانات والخانات مباني .
- ٨- بنى مدينة القيروان .
- ٩- كل ما يلي مدن بنيت كعواصم للدول عدا .
- ١٠- من المدن التي بنيت كمناطق تحصينات ثم تحولت إلى الطابع المدني . (القيروان - الرباط - القاهرة)
- ١١- بنيت الطوابق السفلية من القصور الإسلامية لـ ----- .
- ١٢- بنيت مدينة ----- لأغراض إدارية في العراق . (واسط - بغداد - البصرة)

السؤال الرابع : صحح ما تحته خط :-

الامتداد العامودي

الإردن

الانتداب البريطاني

الحربية

نابلس

القيروان

المغرب

- ١- في العصر الحديث اتخذت المساجد الامتداد الأفقي .
- ٢- توجد قلعة عجلون في دولة العراق .
- ٣- اندلعت ثورة النبي موسى ضد الاحتلال الصهيوني .
- ٤- الحصون والأسواق من المباني الخدمائية .
- ٥- يوجد حمام الشفاء في فلسطين في مدينة رام الله .
- ٦- بنيت مدينة بغداد كمعسكر حربي .
- ٧- بنيت مدينة الرباط في دولة تونس .

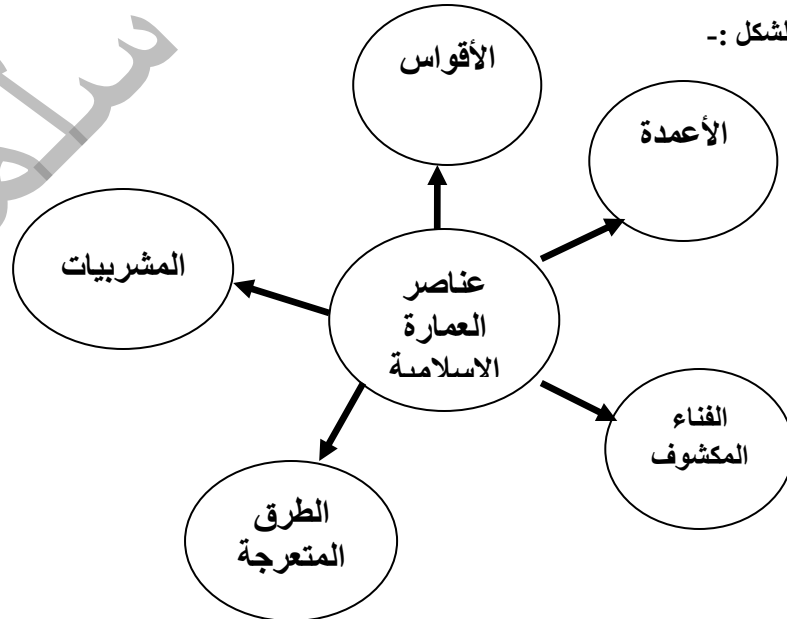
السؤال الخامس : أكتب المصطلح العلمي :-

- ١- (العمارة) فن إقامة مباني بأشكال وأحجام مختلفة لخدمة الناس وتسهيل حياتهم .
- ٢- (المشربيات) نوافذ سُدت بستائر شبكية من الخشب .
- ٣- (المدن) أنشأت كمعسكرات للجيش أو لأغراض إدارية أو عواصم للدول .
- ٤- (القصور) بنيت لقضاء الخليفة وقت الراحة والإقامة فيها بعيداً عن ضجيج المدن .

السؤال السادس : ما النتيجة المترتبة على :-

- ١- ازدياد عدد المصلين في الدولة الإسلامية .
- النتيجة / بناء المساجد الكبيرة التي استخدمت الحجارة في بنائها .
- ٢- انتشار الأمراض المعدية في الدولة الإسلامية .
- النتيجة / بناء الخلفاء للقصور بعيداً عن المدن

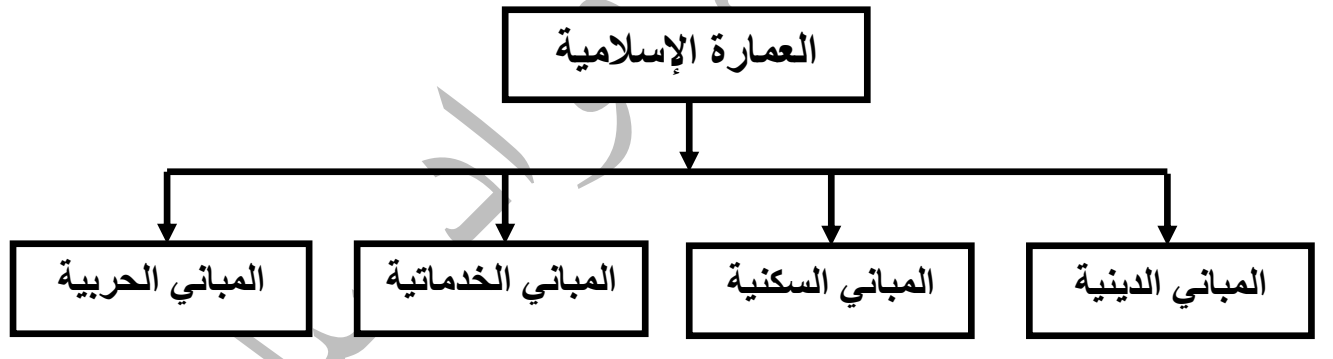
السؤال السابع : أكمل الشكل :-



السؤال الثامن : بم تفسر :-

- ١- اهتمام المسلمين بفن العمارة والبناء .
- السبب / اتساع الدولة ، زيادة الثراء والرخاء المادي ، رغبة الخلفاء والحكام والسلطين في اظهار قوة الدولة .
- ٢- بناء المساجد الكبيرة .
- السبب / ازدياد أعداء المصلين ، قيام المسجد بأكثر من دور في حياة المسلمين .
- ٣- اتخذت المساجد الامتداد الفقي .
- السبب / كي تتسع لأكثر عدد من المصلين .
- ٤- تركيز الدولة الإسلامية في بدايتها على المباني الدينية .
- السبب / لإقامة الشعائر الدينية ، ولأن الدولة كانت تدار من المساجد .
- ٥- خلو المباني الإسلامية من الرسومات والتمائيل ذوات الأرواح .
- السبب / لأن الدين الإسلامي حرمها .
- ٦- بناء مدينة القيروان .
- السبب / لتوطيد نفوذ المسلمين في أفريقيا ، ولتكون قاعدة عسكرية .
- ٧- بناء مدينة القيروان بعيداً عن البحر .
- السبب / خوفاً من غارات البيزنطيين .
- ٨- بناء مدينة القيروان بعيداً عن جوف الصحراء .
- السبب / خوفاً من غارات البربر .
- ٩- بناء المسلمين للمدن .
- السبب / لتكون معسكرات حربية / لأغراض إدارية / عواصم للدول .
- ١٠- بناء خلفاء المسلمين للمدن في البادية .
- السبب / لنقضاء وقت الراحة في البادية بعيداً عن ضجيج المدن .
- ١١- بناء خلفاء المسلمين للقصور على الجبال .
- السبب / للإقامة فيها صيفاً .
- ١٢- بناء خلفاء المسلمين للقصور في مناطق بعيدة عن المدن .
- السبب / للابتعاد عن المدن إذا ما انتشرت الأمراض والأوبئة المعدية

السؤال التاسع : أكمل الشكل :



أسئلة على الوحدة الثانية انجازات الدولة الإسلامية من صفحة (٤٠) إلى صفحة (٧٣)

الدرس الثالث :- نماذج من الانجازات المعمارية الإسلامية في فلسطين من صفحة (٥٤) إلى صفحة (٦١)

السؤال الأول : من أكون :-

- ١- (معاوية بن أبي سفيان) خليفة أموي قام بترميم أسوار مدينة القدس .
- ٢- (الوليد بن عبد الملك) خليفة أموي أنشأ قرية كفر لام بالقرب من حيفا .
- ٣- (سليمان بن عبد الملك) قائد أموي بنى مدينة الرملة في فلسطين .
- ٤- (ظاهر العمر الزيداني) قام ببناء قلعة شفا عمر .
- ٥- (عبد الملك بن مروان) خليفة أموي قام ببناء مسجد قبة الصخرة .

السؤال الثاني : أكتب المصطلح العلمي :-

- ١- (القلاع) أبنية محصنة أقيمت من الحجارة القوية على رأس جبل أو طريق تجارية .
- ٢- (الأبراج) رافقت بناء القلاع والأسوار حول المدن الفلسطينية .
- ٣- (الأسوار) بنيت حول المدن لتوفير عامل الحماية لها .

(١٧)

السؤال الثالث : أكمل الفراغات بالكلمة المناسبة :-

- ١- وجدت المدن الكنعانية في فلسطين منذ القدم .
- ٢- وسع الأمويين مدينة قيسارية و عكا ورمموا منشأتها .
- ٣- من القلاع التي بنيت في فلسطين قلعة خان يونس وقلعة شفا عمر وقلعة القدس الشريف .
- ٤- من المرافق التي يحتاجها الخليفة في القصر بركة سباحة و حمام و غرف و ديوان الخليفة .
- ٥- أعاد بناء المسجد الأبيض بعد تدميره من الفرنج صلاح الدين الأيوبي وجدد جدرانه الظاهر ببيرس .
- ٦- من أبواب سور القدس باب الجديد و العامود و الخليل و النبي داوود و الساهرة والأسباط و المغاربة .
- ٧- آخر مرة تم ترميم سور القدس فيها بين الأعوام ١٥٣٦ م إلى ١٥٤١ م .
- ٨- يتراوح ارتفاع سور القدس بين ١٢,٥ متر إلى ١٣,٥ م .
- ٩- نشط الخلفاء الأمويين الحركة العلمية في القدس وبنوا فيها القصور واهتموا بترميم أسوارها وأوجدوا فيها دار للضرب .
- ١٠- حملت دور ضرب النقود (سك النقود) في البداية اسم إيلياء .
- ١١- بنى المسجد القبلي الخليفة عبد الملك بن مروان وابنه الوليد بن عبد الملك .
- ١٢- قام بترميم مسجد قبة الصخرة وضرب النقود في القدس الخليفة المهدي و المأمون .
- ١٣- حول الاحتلال الصهيوني حائط البراق إلى حائط المبكى .
- ١٤- هدم الاحتلال الصهيوني حي المغاربة في مدينة القدس .

السؤال الرابع : ضع علامة (صح) أمام العبارة الصحيحة وعلامة (خطأ) أمام العبارة الخاطئة :-

- ١- (√) عندما فتح المسلمين فلسطين أهتموا بترميم المدن القديمة .
- ٢- (√) تقع قلعة القدس الشريف وقلعة مراد بالقرب من برك سليمان .
- ٣- (×) يوجد ثلاث أبراج خلف السور الخارجي لمدينة عكا .
- ٤- (×) بنى قصر المنية سليمان بن عبد الملك .
- ٥- (√) بنى سليمان بن عبد الملك مدينة الرملة في عهد أخيه الوليد بن عبد الملك .
- ٦- (×) حول الانجليز قصر سليمان في مدينة الرملة إلى متحف .
- ٧- (√) دُمر المسجد الأبيض في الرملة على يد الفرنج .
- ٨- (×) نص اتفاق تسليم مدينة الرملة للاحتلال الصهيوني على خروج الأهالي من مدينتهم .
- ٩- (×) مدينة الرملة تخضع اليوم للسلطة الوطنية الفلسطينية .
- ١٠- (√) تعرض سور القدس للهدم والبناء مرات عديدة .
- ١١- (√) بني سور القدس بالشيد والحجر المنحوت .
- ١٢- (×) لم يزور خلفاء الدولة الأموية مدينة القدس .
- ١٣- (√) بعد احتلال اسرائيل لفلسطين انتهجت سياسة طمس المعالم العربية والاسلامية .
- ١٤- (√) ضيق الاحتلال الصهيوني على سكان القدس لإرغامهم على ترك المدينة .
- ١٥- (×) عمل الاحتلال الصهيوني على دمج القدس مع محيطها العربي .
- ١٦- (√) أزال الاحتلال الصهيوني الحجارة من سور القدس واستبدلها بأخرى عليها رسومات وأشكال صهيونية .
- ١٧- (×) يمنع الاحتلال الصهيوني المستوطنين من دخول الحرم القدسي الشريف .
- ١٨- (√) فتح الاحتلال الصهيوني الكنس الصهيونية في البلدة القديمة .
- ١٩- (√) قام الاحتلال الصهيوني بعدد من الحفريات تحت المسجد الأقصى

السؤال الخامس : اختر الإجابة الصحيحة مما بين القوسين :-

- ١- أعادت الدولة الأموية بناء مدينة ---- وقاموا بتحسينها . (عسقلان - القدس - غزة)
- ٢- أهتم الأمويين بمدينة . (حيفا - أريحا - الإثنان معاً)
- ٣- أكبر إنجاز للدولة الأموية في فلسطين بناء مدينة . (اللد - الرملة - حيفا)
- ٤- اشتملت قلعة القدس على برج بناه . (عمرو بن العاص - الملك المعظم عيسى - الظاهر ببيرس)
- ٥- كل ما يلي من القصور التي بنيت في طبريا ما عدا . (قصر سليمان بن عبد الملك - قصر الصنبرة - قصر المنية)
- ٦- أضاف للمسجد الأبيض مأذنة السلطان . (محمد بن قلاوون - صلاح الدين الأيوبي - الظاهر ببيرس)
- ٧- احتلت العصابات الصهيونية مدينة الرملة في . (١٢ / ٧ / ١٩٦٧ م - ١٢ / ٧ / ١٩٤٨ م - ١٢ / ٧ / ١٩٥٦ م)
- ٨- آخر مرة رمم فيها صور القدس في العصر . (المملوكي - العثماني - الأيوبي)
- ٩- لقيت القدس اهتمام كبير في عهد الدولة . (الأموية - العباسية - الإثنان معاً)
- ١٠- أشرف على بناء مسجد قبة الصخرة . (يزيد المقدسي - رجاء البيساني - الإثنان معاً)
- ١١- سيطرت العصابات الصهيونية على الجزء الأكبر من فلسطين عام . (١٩٤٨ م - ١٩٦٧ م - ١٩٥٧ م)
- ١٢- قرار مجلس الأمن الذي اعتبر الاجراءات الصهيونية في القدس باطلة قرار رقم . (٢٥٢ - ٢٢٥)
- ١٣- صدر قرار مجلس الأمن الذي اعتبر الاجراءات الصهيونية في القدس باطلة في (٢١ / ٥ / ١٩٦٨ م - ٢١ / ٥ / ١٩٦٧ م - ٢١ / ٥ / ١٩٤٨ م)

بيت لحم
قصر الصنبرة
الرملة
القرميد الأحمر
المسجد الأبيض
سليمان القانوني
٤٠٠٠ متر
أبو جعفر المنصور
١٩٦٧ م

- السؤال السادس : صحح ما تحته خط :-
- ١- تقع قلعة القدس وقلعة مراد إلى الجنوب الغربي من مدينة القدس .
 - ٢- يوجد قصر هشام بالقرب من طبريا .
 - ٣- يوجد قصر سليمان بن عبد الملك في مدينة أريحا .
 - ٤- سقف ديوان الخليفة بالأسبست .
 - ٥- بنى سليمان بن عبد الملك المسجد العمري في مدينة الرملة .
 - ٦- آخر مرة رمم فيها سور القدس فترة حكم السلطان عبد الحميد الثاني .
 - ٧- يبلغ طول سور القدس حوالي ٦٠٠٠ متر .
 - ٨- أمر الخليفة العباسي المهدي بترميم المسجد القبلي .
 - ٩- احتلت إسرائيل فلسطين بالكامل عام ١٩٥٦ م .

السؤال السابع : بم تفسر :-

- ١- بناء المسلمين للقلع في فلسطين .
السبب / للمراقبة والحراسة ، وقواعد هجومية ، ومراكز انطلاق للحملات العسكرية ، ولإقامة الولاة والحكام والجيش
- ٢- تسمية مدينة الرملة بهذا الاسم .
السبب / نسبة للرمال التي كانت تحيط بالمدينة .
- ٣- بناء مدينة الرملة .
السبب / الاحتكاك اليومي بين الجنود والسكان المحليين في مدينة اللد فضل سليمان اخراج جنوده من المدينة إلى منطقة الرملة
- ٤- بناء المسلمين للأسوار حول المدن .
السبب / لتوفير عامل الحماية لها .
- ٥- تعبيد الأمويين للطرق من دمشق إلى القدس .
السبب / لتسهيل سفر التجار والزوار .
- ٦- تهدم قصر هشام بن عبد الملك .
السبب / بسبب الزلزال الذي ضرب المنطقة .
- ٧- سماح الاحتلال الصهيوني للمستوطنين بدخول الحرم القدسي الشريف يومياً .
السبب / تمهيداً للسيطرة عليه ومنع أي ارتباط إسلامي به

السؤال الثامن : ما النتيجة المترتبة على :-

- ١- انتشار الضجيج في مدينة اللد .
النتيجة / بناء سليمان مدينة الرملة لأنه كان يميل إلى الهدوء والراحة بعيداً عن الضجيج اليومي .
- ٢- احتلال العصابات الصهيونية لمدينة الرملة .
النتيجة / تهجير سكان المدينة تحت تهديد السلاح وتدمير البيوت .
- ٣- الاجراءات الصهيونية بعد احتلال فلسطين .
النتيجة / تغيير معالم المدن الفلسطينية وتحويلها للطابع الصهيوني ، ومصادرة الأراضي وبناء المستوطنات عليها وهدم المنازل ، وتهجير السكان .

تطلب من مكتبة زهور الأقصى
رفح - الشابورة - شارع النخلة بالقرب من مفترق الدخني
0599739185

أسئلة على الوحدة الثانية انجازات الدولة الإسلامية من صفحة (٤٠) إلى صفحة (٧٣)
الدرس الرابع :- الانجازات العلمية في الدولة الإسلامية من صفحة (٦٢) إلى صفحة (٦٨)

السؤال الأول : أكمل العبارات بالكلمات المناسبة :-

- ١- أمر الرسول (صلى الله عليه وسلم) زيد بن ثابت تعلم لغة اليهود .
- ٢- من اللغات التي تعلمها المسلمون السريانية و الفارسية و الرومانية .
- ٣- من أشهر كتب الحديث صحيح بخارى و صحيح مسلم .
- ٤- أول معجم في اللغة العربية سمي بمعجم العين .
- ٥- من أشهر مؤلفات المسلمين في التاريخ تاريخ الطبري و تاريخ اليعقوبي .
- ٦- أخذ المسلمون نظام الترقيم عن الهنود .
- ٧- أخذ الأوروبيون عن المسلمين فن العمارة والبناء و أساليب الزراعة و بعض الصناعات .
- ٨- من الصناعات التي نقلها الأوروبيون عن المسلمين صناعة الحرير و السكر .

السؤال الثاني : ضع علامة (صح) أمام العبارة الصحيحة وعلامة (خطأ) أمام العبارة الخاطئة :-

- ١- (✓) ترجم المسلمون عن اللغات اليونانية والرومانية والفارسية .
- ٢- (×) لم يهتم المسلمون بعلم الحديث .
- ٣- (×) يعتبر الحديث المصدر الأول للتشريع الإسلامي .
- ٤- (✓) كان حسان بن ثابت شاعر الرسول (صلى الله عليه وسلم) .
- ٥- (✓) أهتم المسلمون في البداية بكتابة سيرة النبي (صلى الله عليه وسلم) و مغازيه .
- ٦- (×) أهتم المسلمون بعلم التاريخ وأهملوا علم الجغرافيا .
- ٧- (✓) برع علماء المسلمين في وضع المعاجم الجغرافية .
- ٨- (✓) كتب المسلمون في التاريخ عن الممالك والبلدان والرحلات .
- ٩- (✓) أهتم المسلمون بالعلوم الطبيعية .
- ١٠- (×) ألف ابن سينا كتاب معجم البلدان في الطب .
- ١١- (✓) أخذ الأوروبيون عن المسلمين اقتناء الكتب ورسم الخرائط .
- ١٢- (✓) تواصلت الحضارات الانسانية في العصر الحديث في جوانب عدة منها الثقافية والعلمية .

السؤال الثالث : اختر الإجابة الصحيحة مما بين القوسين :-

- ١- الكاتب الذي ترجم كتاب كليلة ودمنة للعربية هو . (ابن سينا - حنين بن اسحاق - عبد الله بن المقفع)
- ٢- لعبت دوراً مهماً في حركة الترجمة . (بيت الحكمة - دار الحكمة - دار الأرقم)
- ٣- أمر الخليفة الأموي ----- بجمع الأحاديث النبوية الصحيحة . (عبد الملك بن مروان - عمر بن عبد العزيز - هارون الرشيد)
- ٤- قام بضبط قراءة القرآن الكريم . (أبو الأسود الدؤلي - الخليل بن أحمد - حسان بن ثابت)
- ٥- واضع أول معجم في اللغة العربية . (زيد بن ثابت - عبد الله بن المقفع - الخليل بن أحمد الفراهيدي)
- ٦- من شعراء المسلمون الشاعر . (حسان بن ثابت - عبد الحميد الكاتب - زيد بن ثابت)
- ٧- مؤلف كتاب تاريخ الأمم والملوك . (الإدريسي - الطبري - اليعقوبي)
- ٨- كل ما يلي من العلوم الطبيعية التي اهتم بها المسلمون ما عدا علم . (الجغرافيا - الفلك - الرياضيات)
- ٩- أشهر علماء الفلك المسلمين . (ابن سينا - الخوارزمي - ياقوت الحموي)
- ١٠- عرف المسلمون في علم الطب . (العمليات الجراحية - التخدير - الاثنان معاً)

السؤال الرابع : صحح ما تحته خط :-

- ١- زادت حركة الترجمة في عهد الخلفاء الراشدين .
- ٢- ظهرت المدارس اللغوية في مصر .
- ٣- مؤلف كتاب معجم البلدان اليعقوبي .
- ٤- أوجد الهنود رقم الصفر .
- ٥- استخدم المسلمون خيوط من النباتات لخياطة الجروح .

العصر العباسي
العراق
ياقوت الحموي
المسلمين
أمعاء الحيوانات

السؤال الخامس : أكتب المصطلح العلمي :-

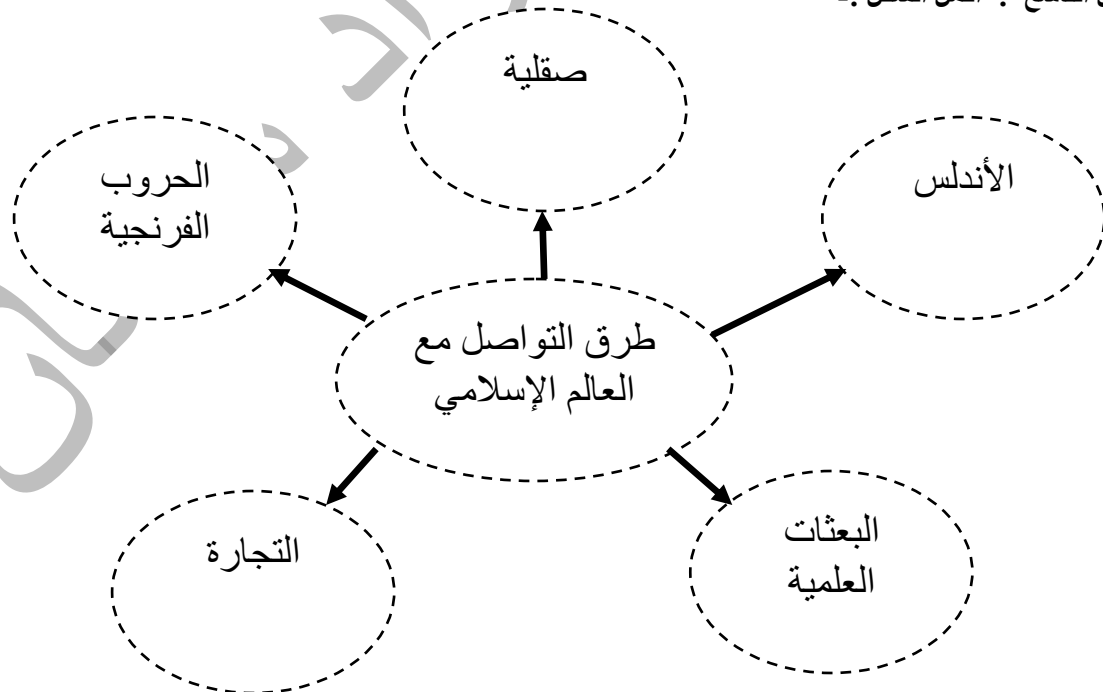
- ١- (الترجمة) تحويل لغة الكتب من لغتها الأصلية إلى اللغة العربية .
- ٢- (علم الحديث) المصدر الثاني من مصادر التشريع الإسلامي بعد القرآن الكريم .
- ٣- (النثر) الكلام الغير موزون .
- ٤- (علم التاريخ) علم يدرس الماضي لفهم الحاضر والتنبؤ بالمستقبل .
- ٥- (علم الجغرافيا) علم يدرس الأرض والظواهر البشرية والطبيعية والعلاقة بينهما .
- ٦- (علم الفلك) العلم الذي يبحث في النجوم والكواكب وحركاتها وموقعها .
- ٧- (الاسطرلاب) آلة لرصد حركة الكواكب والنجوم .

- السؤال السادس : بم تفسر :-
- ١- أهمية الترجمة من اللغات الأجنبية إلى العربية .
السبب / الاستفادة من علوم الأمم الأخرى والعمل على تطويرها وتعديل أخطاؤها .
 - ٢- اهتمام المسلمين بعلوم اللغة العربية .
السبب / دخول كثير من غير العرب في الإسلام ، وانتشار اللحن والخطأ اللغوي .
 - ٣- رسم الإدريسي خريطة العالم .
السبب / لتوضيح صورة كاملة عن سطح الأرض بناءً على طلب من ملك صقلية روجر الثاني .
 - ٤- اهتمام المسلمين بعلم الجغرافيا .
السبب / اتساع الدولة الإسلامية ، والنشاط التجاري البري والبحري ، وأداء مناسك الحج .
 - ٥- خص المسلمون علم الفلك باهتمام كبير .
السبب / لأنه يخدم الأغراض الدينية مثل تحديد أوقات الصلاة واتجاه القبلة .
 - ٦- اهتمام العرب بعلم الطب .
السبب / لمعرفة الأمراض ومعالجتها .
 - ٧- التواصل والانفتاح بين الحضارات في جميع الجوانب .
السبب / إيجاد بيئة عالمية سلمية ومستقرة تقوم على أساس الاحترام المتبادل والمساواة بين الحضارات المختلفة .

- السؤال السابع : ما النتيجة المترتبة على :-
- ١- دخول الكثير من غير العرب في الإسلام .
النتيجة / انتشار اللحن والخطأ اللغوي ، مما أدى إلى اهتمام المسلمين بعلوم اللغة العربية .
 - ٢- احتكاك المسلمين بالأوروبيين .
النتيجة / قيام أوروبا بالاقتراس عن المسلمين من خلال نقاط الاحتكاك .

- السؤال الثامن : من أكون :-
- ١- (حنين بن اسحاق) يعتبر من أشهر المترجمين في الطب .
 - ٢- (عبد الله بن المقفع) يعتبر من أشهر المترجمين في الأدب والتاريخ .
 - ٣- (عبد الحميد الكاتب) دعا الكتاب المسلمين للتنافس في كتابة الشعر والأدب .
 - ٤- (محمد بن اسماعيل البخاري) من أشهر علماء الحديث ومؤلف كتاب صحيح البخاري .
 - ٥- (أبو الحسن مسلم بن الحجاج) من أشهر علماء الحديث ومؤلف كتاب صحيح مسلم .
 - ٦- (عبد الحميد الكاتب) مؤسس الكتابة الفنية وواضع أصولها وقواعدها .
 - ٧- (أبو علي ابن سينا) من أشهر علماء الطب العرب .

السؤال التاسع : أكمل الشكل :-



أسئلة على الوحدة الثانية انجازات الدولة الإسلامية من صفحة (٤٠) إلى صفحة (٧٣)
الدرس الخامس :- الانجازات الاقتصادية للدولة الإسلامية من صفحة (٦٩) إلى صفحة (٧٣)

السؤال الأول : أكمل الفراغات بالكلمات المناسبة :-

- ١- أهل الذمة هم اليهود و النصارى .
- ٢- زكاة العشر تدفع على المحاصيل الزراعية مثل القمح و الزيتون .
- ٣- تحلى التجار المسلمين بالصدق و الأمانة في تعاملهم مع الآخرين .
- ٤- كان العرب يتعاملون بالدينار البيزنطى و الدرهم الفارسى .
- ٥- في عهد هارون الرشيد ضربت نقود تحمل اسم مدينة الرملة .
- ٦- عمل المسلمون في الزراعة و الصناعة و التجارة .

السؤال الثاني : ضع علامة (صح) أمام العبارة الصحيحة و علامة (خطأ) أمام العبارة الخاطئة :-

- ١- (√) بعد اتساع الدولة الإسلامية زادت مواردها الاقتصادية .
- ٢- (√) كانت الدولة الإسلامية تدفع رواتب للمقاتلين .
- ٣- (×) الجزية تؤخذ من نساء أهل الذمة .
- ٤- (√) أقبل الناس في الدولة الإسلامية على التجارة .
- ٥- (√) وصل الإسلام إلى شرق ووسط إفريقيا عن طريق التجار .
- ٦- (×) لم يقبل سكان إندونيسيا وماليزيا على تعلم اللغة العربية .
- ٧- (×) كانت رحلة الصيف التجارية إلى اليمن .
- ٨- (√) تاجر المسلمون مع بلاد الهند والصين .
- ٩- (√) عمل المسلمون على ضبط وزن و عيار النقود الإسلامية لمنع الغش .
- ١٠- (×) يشرف على دور الضرب في العصر العباسى وزير المالية .
- ١١- (√) بعد انشاء دور الضرب أصبح لدى التجار ثقة بالعملة الإسلامية .
- ١٢- (√) كانت الدولة الإسلامية تسك النقود في مناطق مختلفة .
- ١٣- (×) انتشرت صناعة السكر في العراق .

السؤال الثالث : اختر الإجابة الصحيحة مما بين القوسين :-

- ١- تنفق الدولة الإسلامية على .
- ٢- كل ما يلي من المناطق التي وصلها الإسلام عن طريق التجار ما عدا . (إسبانيا - إندونيسيا - ماليزيا)
- ٣- قام بتعريب النقود الخليفة . (الوليد بن عبد الملك - عبد الملك بن مروان - هارون الرشيد)
- ٤- أوجد منصب ناظر السكة في العصر . (الأموي - الراشدي - العباسى)
- ٥- يشرف ناظر السكة على . (دور الضرب - تعريب النقود - بيت المال)
- ٦- كانت النقود تحمل اسم القدس في عهد الخليفة . (هارون الرشيد - المأمون - الوليد بن عبد الملك)
- ٧- كانت صناعة عصر الزيتون وتجفيف الفواكه في . (بلاد الشام - مصر - إيران)
- ٨- انتشرت صناعة الأقمشة والسجاد والحريز في . (العراق - إيران - الأنتان معاً)
- ٩- انتشرت الدباغة والحداة والصيرفة والقصابة في . (بلاد الشام - جميع أنحاء الدولة الإسلامية - العراق)

السؤال الرابع : صحح ما تحته خط :-

- ١- يُدفع لبيت مال المسلمين ربع الغنائم .
- ٢- كانت رحلة الشتاء التجارية إلى بلاد الشام .
- ٣- نقش على النقود الإسلامية عبارات باللغة البيزنطية .
- ٤- أوجد منصب ناظر السكة الخليفة عبد الملك بن مروان .
- ٥- حملت النقود الإسلامية المبكرة اسم الرملة .

السؤال الخامس : أكتب المصطلح العلمي :-

- ١- (الزكاة) مقدار من المال يدفعه المسلم ويرد للفقراء .
- ٢- (الخراج) ضريبة تفرض على ما تنتجه الأرض الزراعية وتقدر حسب جودة الأرض .
- ٣- (الغنيمة) ما يحصل عليه المسلمون من الأعداء بقتال أثناء فتوحاتهم الإسلامية .
- ٤- (الجزية) مقدار من المال يؤخذ من أهل الذمة مقابل حمايتهم .
- ٥- (الفيء) ما يحصل عليه المسلمون من الأعداء دون قتال .
- ٦- (الزكارة) ضريبة تأخذ على كل ما يستخرج من باطن الأرض من معادن .
- ٧- (العشر) زكاة تساوي عُشر الانتاج على بعض المحاصيل الزراعية .
- ٨- (العشور) ضريبة تؤخذ على بضائع التجار غير المسلمين مقابل مرور تجارتهم داخ حدود الدولة الإسلامية .
- ٩- (تعريب النقود) إصدار عملة خاصة بالمسلمين منقوش عليها عبارات باللغة العربية .

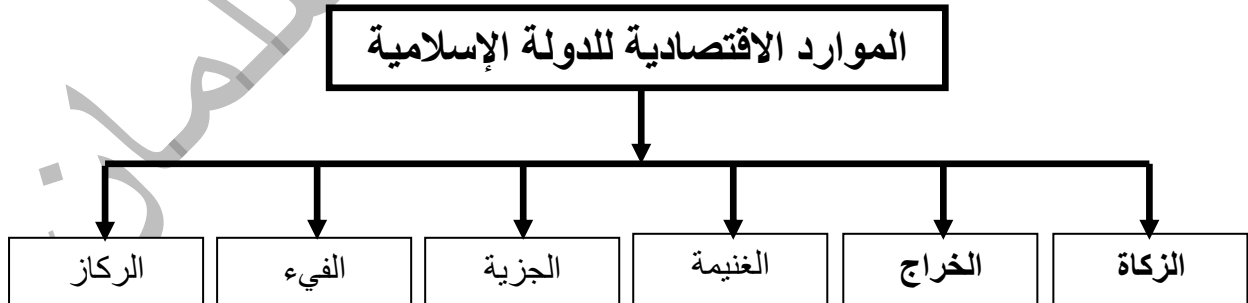
السؤال السادس : بم تفسر :-

- ١- زيادة الموارد الاقتصادية للدولة الإسلامية بعد توسعها .
السبب / الضرائب التي كانت تجبي من الأرض الزراعية ، ومن الغنائم والفيء التي يحصل عليها المسلمين من العدو .
- ٢- تطور التجارة الداخلية والخارجية في الدولة الإسلامية .
السبب / اتساع الدولة ، ووفرة المحاصيل الزراعية والموارد الطبيعية ، والأمن على الطرق التجارية ، والازدهار الاقتصادي .
- ٣- إقبال المسلمين على التجارة .
السبب / لأنها كانت تدر أرباحاً كثيرة .
- ٤- إقبال سكان إندونيسيا وماليزيا وشرق ووسط إفريقيا على تعلم اللغة العربية .
السبب / لقراءة القرآن الكريم ، وتعاليم الدين الإسلامي ، والتعامل مع التجار العرب .
- ٥- عمل المسلمون على ضبط وزن وعيار النقود .
السبب / لمنع الغش فيها .
- ٦- عدم وجود عملة وطنية فلسطينية .
السبب / لأن العملة مظهر من مظاهر الاستقلال والسيادة ، والاحتلال الصهيوني يمنع اصدار عملة فلسطينية
- ٧- أهمية وجود عملة وطنية .
السبب / تحرير الاقتصاد من التبعية الاقتصادية ، وتعمل على تطوير الاقتصاد الوطني .
- ٨- قدوم أصحاب الحرف والصناعات من المناطق المجاورة للعالم الإسلامي .
السبب / التسامح الإسلامي ، والحرية الدينية ، والوضع الاقتصادي الجيد ، ووفرة المواد الخام ، ووفرة الأسواق .
- ٩- أهمية الصناعة .
السبب / توفير احتياجات السكان من المواد المصنعة ، تعمل على تطور البلاد .

السؤال السابع : ما النتيجة المترتبة على :-

- ١- اتساع الدولة الإسلامية ووفرة الحاصلات الزراعية وسيادة الأمن على الطرق .
النتيجة / تطور التجارة الداخلية والخارجية ، وتنمية الاقتصاد .
- ٢- تحلي التجار المسلمون بالصدق والأمانة في تعاملهم .
النتيجة / انتشار الإسلام في عدد كبير من مناطق العالم التي لم تصلها الفتوحات الإسلامية .
- ٣- تعريب النقود وانتشار دور الضرب .
النتيجة / تحرير الاقتصاد الإسلامي من التبعية الاقتصادية وتخليص العملة من الغش .
- ٤- اختلاط المسلمين بأهالي البلاد المفتوحة .
النتيجة / اجتذاب المدن الإسلامية الصناعات المهرة والحرفيين .
- ٥- قدوم أصحاب الحرف والصناعات من المناطق المجاورة إلى العالم الإسلامي .
النتيجة / نقلوا خبراتهم الصناعية واستفاد المسلمين من الصناعات والحرف المعروفة لديهم
- ٦- انتشار الصناعة والحرف من المناطق المجاورة .
النتيجة / تنشيط الاقتصاد ، وتوفير فرص عمل

السؤال الثامن : أكمل الشكل :-



أسئلة على الوحدة الثالثة المجتمع المدني من صفحة (٧٤) إلى صفحة (٨٩)

الدرس الأول :- مؤسسات المجتمع المدني من صفحة (٧٦) إلى صفحة (٨٢)

السؤال الأول : أكمل الفراغات بالكلمات المناسبة :-

- ١- تعمل مؤسسات المجتمع المدني من أجل تعزيز حقوق الإنسان ونشر الديمقراطية وتنمية وتطوير المجتمع .
- ٢- من النقابات المهنية في المجتمع نقابة الأطباء ونقابة المرمضين ونقابة الصيدالة .
- ٣- تقدم منظمات المجتمع المدني خدمات اجتماعية للمواطنين في مجال التعليم و الصحة و الزراعة .
- ٤- تعمل منظمات المجتمع المدني على محاربة الفقر .
- ٥- تقدم منظمات المجتمع المدني خدمات في مجال الزراعة من خلال امداد المزارعين بالأدوات الزراعية و شق الطرق الزراعية .
- ٦- تعمل منظمات المجتمع المدني على محاربة الفقر من خلال تقديم المساعدات للأسر الفقيرة و المهمشة .
- ٧- تعزز منظمات المجتمع المدني مفاهيم التعددية و التسامح و قبول الاختلاف .

السؤال الثاني : ضع علامة (صح) أمام العبارة الصحيحة و علامة (خطأ) أمام العبارة الخاطئة :-

- ١- (√) تعددت تعريفات المجتمع المدني .
- ٢- (×) تعمل مؤسسات المجتمع المدني في إطار الدولة .
- ٣- (√) تعمل مؤسسات المجتمع المدني لصالح المجتمع ككل أو لبعض فئاته المهمشة .
- ٤- (√) تعمل مؤسسات المجتمع المدني لصالح أفراد مهنة واحدة .
- ٥- (√) تشارك مؤسسات المجتمع المدني في العمل السياسي والمجتمعي .
- ٦- (×) الجمعيات والمؤسسات تقوم بإنشائها الحكومة .
- ٧- (√) المنظمات الدينية والخيرية مؤسسات مجتمع مدني .
- ٨- (×) تقوم مؤسسات المجتمع المدني بدور بديل عن الحكومة .
- ٩- (√) تقوم منظمات المجتمع المدني بدور الشريك الفاعل في تنشئة أبناء المجتمع ورعايتهم .
- ١٠- (×) النوادي الرياضية مؤسسات حكومية .
- ١١- (√) تحتل منظمات المجتمع المدني دور بارز في عملية التنمية .
- ١٢- (×) تمنع الحكومة مؤسسات المجتمع المدني من فتح العيادات الطبية والمستشفيات .
- ١٣- (√) تعمل منظمات المجتمع المدني على توعية الشباب الفلسطيني بحقوقهم الاجتماعية والحفاظ على هويتهم الوطنية .
- ١٤- (×) لا تهتم مؤسسات المجتمع المدني بقضايا المرأة والأطفال .
- ١٥- (√) تعمل مؤسسات المجتمع المدني على تأهيل الأطفال وتدريبهم على القيادة .
- ١٦- (√) ينتمي إلى مؤسسات المجتمع المدني أعضاء عديدون بغض النظر عن دينهم أو عرقهم أو لغتهم .

السؤال الثالث : اختر الإجابة الصحيحة مما بين القوسين :-

- ١- مؤسسات المجتمع المدني . (طوعية – غير ربحية – الاثنان معاً)
- ٢- كل ما يلي من النقابات العمالية ما عدا . (نقابة عمال المطابع – نقابة عمال البناء – نقابة الأطباء)
- ٣- من الجمعيات الخيرية . (جمعية الهلال الأحمر – الاتحاد العام للمرأة – نقابة العمال)
- ٤- من الهيئات الحقوقية . (الهيئة المستقلة لحقوق الإنسان – مؤسسة الحق من أجل القانون – الاثنان معاً)
- ٥- من الاتحادات النسائية في المجتمع .
- ٦- كل ما يلي من الخدمات التعليمية التي تقدمها منظمات المجتمع المدني ما عدا . (الاتحاد العام لعمال فلسطين – الاتحاد العام للمرأة الفلسطينية – الاتحاد العام لطلبة فلسطين)
- ٧- فتح رياض الأطفال ودور الحضانة وتدريب المعلمين من الخدمات . (فتح المدارس – تطعيم الأطفال – تنفيذ مشاريع وبرامج تربية)
- ٨- من الخدمات الصحية التي تقدمها منظمات المجتمع المدني . (التطعيم – توفير الأدوية – الاثنان معاً)
- ٩- من واجب الدولة تجاه مؤسسات المجتمع المدني . (معاضتها – رعاية وتسهيل عملها – وضعها تحت الرقابة الأمنية)
- ١٠- أي من هذه المؤسسات تعتبر منظمات حكومية في فلسطين . (بيوت المسنين – النادي الأرثوذكسي – هيئة مقاومة الجدار والاستيطان)

السؤال الرابع : أكتب المصطلح العلمي :-

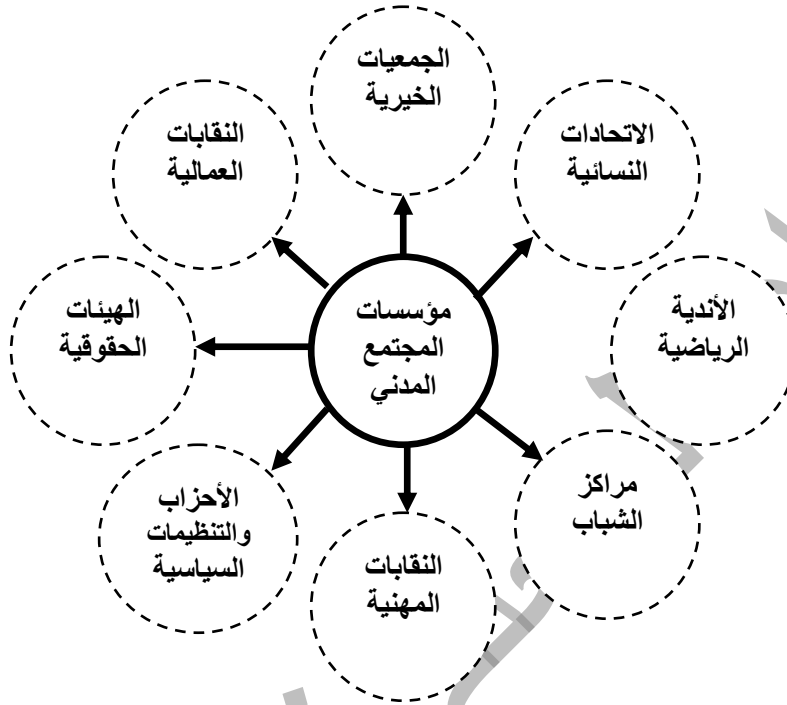
- ١- (المجتمع المدني) جميع الهيئات والمنظمات التي تعمل في مجالات حياتية مختلفة .
- ٢- (مؤسسات المجتمع المدني) مجموعة من المنظمات والجمعيات والمؤسسات التي يقوم بإنشائها مجموعة من الأشخاص

السؤال الخامس : صحح ما تحته خط :-

مكمل
مؤسسات مجتمع مدني
الحفاظ على
عدم التمييز (المساواة)
مجتمع مدني

- ١- تقوم مؤسسات المجتمع المدني بدور بديل عن الحكومة .
- ٢- الأحزاب والتنظيمات السياسية مؤسسات حكومية .
- ٣- تعمل مؤسسات المجتمع المدني على طمس الهوية الوطنية .
- ٤- تعمل مؤسسات المجتمع المدني على التمييز في مساعدة الناس .
- ٥- جمعية دار اليتيم العربي مؤسسة حكومية .

السؤال السادس : أكمل الخريطة المفاهيمية التالية :-



السؤال السابع : بم تفسر :-

- ١- أهمية مؤسسات المجتمع المدني في تنمية وتطوير المجتمع .
السبب / تراجع دور الحكومات في تقديم الخدمات للمواطنين وعدم قدرتها على تحقيق التنمية الشاملة .
- ٢- عدم قدرة الحكومات على تحقيق التنمية الشاملة .
السبب / تطور الأوضاع الاقتصادية والسياسية .
- ٣- تعمل منظمات المجتمع المدني على توعية الشباب بحقوقهم والحفاظ على هويتهم الوطنية .
السبب / لمواجهة سياسية التشويه والتزوير التي يمارسها التي يمارسها الاستعمار .
- ٤- يجب على الحكومة رعاية مؤسسات المجتمع المدني وتسهيل عملها .
السبب / لأن عملها مكمل لعمل الحكومة ، وتساهم في التخفيف عن أعباء الحكومة .
- ٥- قيام مؤسسات المجتمع المدني بالاهتمام برعاية الشباب .
السبب / لكي توعيهم بحقوقهم وتعزز انتمائهم الوطني وتشجعهم على المشاركة في الحياة السياسية ، وتعزيز القيم الاجتماعية الإيجابية

السؤال الثامن : ما النتيجة المترتبة على :-

- ١- عمل مؤسسات المجتمع المدني في إطار مستقل عن الدولة .
النتيجة / تعزيز حقوق الإنسان والديمقراطية ، وتنمية المجتمع وتطوره ، المشاركة السياسية والمجتمعية .
- ٢- استقلال مؤسسات المجتمع المدني عن القطاعين الحكومي والخاص من حيث المبدأ .
النتيجة / تقوم هذه المؤسسات بالعمل على الأرض ودورها غاية في الأهمية في ظل أي نظام ديمقراطي حقيقي .
- ٣- تراجع دور الحكومة في تقديم الخدمات للمواطنين .
النتيجة / ظهور مؤسسات المجتمع المدني كمكمل لعمل الحكومة .
- ٤- اهتمام مؤسسات المجتمع المدني بذوي الإعاقة .
النتيجة / رعاية المعاقين ، ودمجهم في المجتمع ، وتأمين احتياجاتهم الأساسية ، وتعليمهم ، وتدريبهم
- ٥- وجود منظمات المجتمع المدني في الدولة .
النتيجة / تقديم الخدمات للفئات المهمشة في المجتمع ، تقديم الخدمات لصالح أصحاب المهن المختلفة .

السؤال التاسع : أكمل الجدول :-

| الرقم | مؤسسات المجتمع المدني | أمثلة من مؤسسات المجتمع المدني |
|-------|----------------------------------|---|
| ١ | الجمعيات الخيرية | جمعية أنعاش الأسرة - جمعية الهلال الأحمر |
| ٢ | النقابات العمالية | نقابة العمال - نقابة عمال المطابع والنشر - نقابة عمال البناء |
| ٣ | النقابات المهنية | نقابة الأطباء - نقابة الصيادلة - نقابة الممرضين |
| ٤ | الأحزاب والتنظيمات السياسية | حزب الشعب - حزب فدا - فتح - حماس - الجهاد - الجبهة الشعبية |
| ٥ | الأندية الرياضية | نادي غزة الرياضي - نادي شباب دير البلح - نادي اتحاد الشجاعة |
| ٦ | الهيئات الحقوقية | الهيئة المستقلة لحقوق الإنسان - مؤسسة الحق من أجل القانون |
| ٧ | الاتحادات النسائية | الاتحاد العام للمرأة الفلسطينية |
| ٨ | مراكز الشباب والاتحادات الطلابية | الاتحاد العام للمعلمين - الاتحاد العام للطلبة - الاتحاد العام للكتاب والأدباء |

أسئلة على الوحدة الثالثة المجتمع المدني من صفحة (٧٤) إلى صفحة (٨٩)

الدرس الثاني :- قيم المجتمع المدني من صفحة (٨٣) إلى صفحة (٨٩)

السؤال الأول : أكتب المصطلح العلمي :-

- ١- (القيم) مجموعة من المعايير والمبادئ التي نحكم من خلالها على السلوك المرغوب وغير المرغوب .
- ٢- (القيم الثقافية) مجموعة القيم التي تتعلق باهتمام الفرد بالأدب والفن والبحث والقراءة .
- ٣- (القيم الدينية) القيم المستمدة من الدين وخاصة العقيدة والسلوك الفردي والجمعي .
- ٤- (الحرية) الحالة التي لا يخضع فيها الإنسان لقهر أو قيد .

السؤال الثاني : ضع علامة (صح) أمام العبارة الصحيحة وعلامة (خطأ) أمام العبارة الخاطئة :-

- ١- (×) القيم المشتركة بين المجتمعات تطبق بنفس الدرجة داخل المجتمعات .
- ٢- (√) القيم تعزز المساواة بين الناس بغض النظر عن الجنس أو الدين أو اللغة .
- ٣- (√) القيم متنوعة ومتكاملة وشاملة لمختلف مناحي الحياة .
- ٤- (×) الحرية والديمقراطية وسيادة القانون قيم وطنية .
- ٥- (×) احترام الرأي والرأي الآخر من القيم الاجتماعية .
- ٦- (√) لا يحق لأحد حرمان آخر من الحرية أو انقاصها أو تحديدها .
- ٧- (√) كما لكل شخص حق عليه أيضاً مسؤوليات يجب أن يلتزم بها .
- ٨- (×) الحرية تؤدي إلى الخوف من نشر المعلومات أو الادلاء بالتصريحات .
- ٩- (√) اشراك الشعب في صناعة القوانين والتشريعات يزيد من احساسهم بالمسؤولية .

السؤال الثالث : اختر الإجابة الصحيحة مما بين القوسين :-

- ١- كل ما يلي من أهمية تطبيق القيم والالتزام بها ما عدا (تعزيز المساواة - ضعف الروابط المجتمعية - إشاعة السلم الأهلي)
- ٢- من القيم الوطنية (حب الوطن - التضحية - الائتلاف معاً)
- ٣- احترام الرأي والرأي الآخر من القيم (السياسية - الاجتماعية - الوطنية)
- ٤- كل ما يلي من القيم الاجتماعية ما عدا (عدم الإسراف - التسامح - التكافل الاجتماعي)
- ٥- احترام الكرامة الإنسانية وتنمية روح الجماعة والاصلاح بين الناس من القيم (الثقافية - السياسية - الاجتماعية)
- ٦- من القيم الاقتصادية (عدم الإسراف - احترام العمل - الائتلاف معاً)
- ٧- العدالة في توزيع الثروات واحترام الوقت وتقدير العمل اليدوي من القيم (الاقتصادية - الدينية - الوطنية)
- ٨- اعتماد الحوار كوسيلة للتفاهم واستخدام البحث العلمي في تطوير جوانب الحياة من القيم (الدينية - الثقافية - السياسية)
- ٩- القيمة التي تعبر عن تخلي الإنسان عن مصالحه الشخصية من أجل الآخرين (التعاون - الحياء - الإيثار)
- ١٠- تكمن أهمية الحرية في (الإحساس بالمسؤولية - المساهمة في صناعة القوانين - الائتلاف معاً)

السؤال الرابع : أكمل العبارات بالكلمات المناسبة :-

- ١- توجد كونيّة مشتركة من القيم مثل الكرامة الإنسانية و الحرية و المساواة .
- ٢- النضال في سبيل حرية الوطن وتطوره والدفاع عنه من القيم الوطنية .
- ٣- الاهتمام بالتعليم والصدق والاخلاص والمواطنة المطلقة من القيم الاجتماعية .
- ٤- احترام العمل وتعزيز النزاهة واحترام الوقت قيم اقتصادية .
- ٥- الايمان بالله والعدل والمساواة من القيم الدينية .

السؤال الخامس : صحح ما تحته خط :-

- ١- تشابه القيم من مجتمع لآخر .
- ٢- سيادة القانون والعدالة والشفافية قيم ثقافية .
- ٣- تحريم الغش في المعاملات التجارية ومحاربة الفساد قيم دينية .
- ٤- التسامح ونبذ العنصرية والتطرف من القيم السياسية .
- ٥- تطبيق العدالة يعمل على التمييز بين أفراد المجتمع .

تختلف
قيم سياسية
قيم اقتصادية
قيم دينية
المساواة

السؤال السادس : بم تفسر :-

- ١- أهمية تطبيق القيم المدنية في المجتمع والالتزام بها .
- السبب / حفظ حقوق المواطنين ، وترسيخ العدالة الاجتماعية ، وتقوية الروابط الاجتماعية ، إشاعة السلم الأهلي تحقيق الأمن والاستقرار ، وتعزيز المساواة بين الناس .
- ٢- تطمح جميع الشعوب في تحقيق العدالة .
- السبب / لأنها تعمل على إيجاد نوع من المساواة بين مختلف فئات الشعب .
- ٣- أهمية الحرية .
- السبب / تؤدي إلى ممارسة الفرد لقدراته ، وتطوير طاقاته ومهاراته بمجهوده الشخصي .

السؤال السابع : ما النتيجة المترتبة على :-

- ١- تطبيق القيم في المجتمع .
- النتيجة / حفظ حقوق المواطنين ، وترسيخ العدالة الاجتماعية ، وتقوية الروابط الاجتماعية ، إشاعة السلم الأهلي تحقيق الأمن والاستقرار ، وتعزيز المساواة بين الناس .
- ٢- تمتع الإنسان الفلسطيني بالحرية .
- النتيجة / العمل على نيل الاستقلال ، والتحرر الوطني ، وبناء دولتنا المستقلة وعاصمتها القدس ، والتمسك بالحقوق واحترام وجهات نظر الآخرين .
- ٣- مساهمة الشعب في صناعة القوانين والتشريعات .
- النتيجة / شعور الشعب بأن الدولة تسير وفق مقترحاتهم ورغباتهم وعدم وجود مصدر خارجي يفرض عليهم قراراتهم ونظام حياتهم .
- ٤- تطبيق العدالة في المجتمع .
- النتيجة / تحقيق المساواة بين أفراد المجتمع بغض النظر عن مركز الشخص أو جنسه أو دينه ، وتحقيق الأمن والأمان .

السؤال الثامن : اختر من المجموعة (أ) ما يناسبها من المجموعة (ب) :-

- | | |
|-------------------|----------------------|
| (أ) القيمة | (ب) عكسها |
| ١- التعاون | (٢) التعصب |
| ٢- التسامح | (٤) المصلحة الخاصة |
| ٣- العمل التطوعي | (١) الصراع |
| ٤- المصلحة العامة | (٥) الدكتاتورية |
| ٥- الديمقراطية | (٣) العمل الجبري |

تطلب من مكتبة زهور الأقصى
رفح - الشابورة - شارع النخلة بالقرب من مفترق الدخني
0599739185