

رسئلة مراجعة عامة

في الدراسات الاجتماعية للصف السابع

مدرسة ذكور تل الهوا الإعدادية للاجئين

إعداد

المعلم / فؤاد محمود سلمان

متابعة

مدير المدرسة / أ. نايض العطاوي

المدير المساعد / أ. أحمد الخصري

الفصل الأول

٢٠٢٠ - ٢٠٢١

أسئلة على الوحدة الأولى الدولة الإسلامية عابرة للقارات من صفحة (٢) إلى صفحة (٣٩)

الدرس الأول :- قارة آسيا امتداد الدولة الإسلامية من صفحة (٤) إلى صفحة (١٢)

السؤال الأول : أكتب المصطلح العلمي :-

- ١- (-----) خطوط ودوائر وهمية رسمها العلماء على الخرائط والمجسمات بهدف تحديد الموقع .
- ٢- (-----) موقع المكان بالنسبة لخطوط الطول ودوائر العرض .
- ٣- (-----) موقع المكان بالنسبة لليابس والمسطحات المائية المجاورة .
- ٤- (-----) سهول تمتد على طول المسطحات المائية .
- ٥- (-----) سهول تمتد على ضفاف الأنهار .
- ٦- (-----) رياح نشطة مصحوبة بأمطار غزيرة .
- ٧- (-----) المنطقة الواقعة شرق إيران .

السؤال الثاني : اختر الإجابة الصحيحة مما بين القوسين :-

- ١- عدد خطوط الطول ----- خط
- ٢- خط الطول الرئيسي هو خط
- ٣- تمتد قارة آسيا بين خطي طول ----- شرق خط جرينتش
- ٤- يحد قارة آسيا من الشمال
- ٥- يحد قارة آسيا من الجنوب
- ٦- كل ما يلي من جبال قارة آسيا ما عدا
- ٧- توجد هضبة الأناضول في
- ٨- توجد هضبة نجد في
- ٩- تنخفض الحرارة في قارة آسيا في فصل
- ١٠- يمتاز مناخ فلسطين بالحرارة والجفاف في فصل
- ١١- تبلغ مساحة قارة آسيا حوالي
- ١٢- يقع بين فلسطين والأردن
- ١٣- تمتلك قارة آسيا ما نسبته ----- من الأراضي الزراعية في العالم
- ١٤- من الثروات المعدنية في قارة آسيا
- ١٥- كل ما يلي من الدول المتطورة صناعياً في آسيا ما عدا (اليابان والصين - كوريا الجنوبية وماليزيا - أفغانستان وفيتنام)
- ١٦- بلاد ما وراء النهر (نهر جيحون) هي بلاد (الهند - إيران)
- ١٧- فتحت مدينتا طرطوس وعمورية زمن الخلافة (العباسية - الأموية - العثمانية)
- ١٨- مدينة طرطوس من مدن دولة (تركيا - سوريا - إيران)

السؤال الثالث : أكمل الفراغات بالكلمات المناسبة :-

- ١- تمتد قارة آسيا بين دائرتي عرض ----- جنوب خط الاستواء إلى ----- شماله .
- ٢- يحد قارة آسيا من الغرب سلسلة جبال ----- ومضيقا ----- .
- ٣- يفصل قارة آسيا عن إفريقيا البحر ----- وقناة ----- .
- ٤- تبلغ مساحة فلسطين ----- كم ٢ .
- ٥- تنقسم مظاهر سطح قارة آسيا إلى الجبال و ----- و ----- .
- ٦- من هضاب قارة آسيا هضبة ----- وهضبة ----- وهضبة ----- .
- ٧- تنقسم سهول قارة آسيا إلى سهول ----- وسهول ----- .
- ٨- ترتفع الحرارة في قارة آسيا في المناطق الجنوبية في فصل ----- .
- ٩- يبلغ عدد سكان قارة آسيا حوالي ----- مليارات و ----- مليون نسمة حسب احصائية ٢٠١٩ م .
- ١٠- تعتبر مدينة ----- أقدم مدن آسيا .
- ١١- تنتج قارة آسيا المحاصيل الزراعية مثل ----- و ----- .
- ١٢- قاد الفتوحات الإسلامية في المنطقة الشرقية ----- و ----- .
- ١٣- من المدن التي فتحت في آسيا في العصر الأموي ----- و ----- و ----- و ----- .

السؤال الرابع : برهن على أن :-

- ١- قارة آسيا تحتوي على مجموعة من المتناقضات .

الحل :

- السؤال الخامس : ضع علامة (صح) أمام العبارة الصحيحة وعلامة (خطأ) أمام العبارة الخاطئة :-
- ٢- () خط جرينتش يقسم الكرة الأرضية إلى قسمين شمالي وجنوبي .
 - ٣- () يحد قارة آسيا من الشرق المحيط الهادي ومضيق برنج .
 - ٤- () يفصل قارة آسيا عن قارة أفريقيا مضيقا البسفور والدرديل .
 - ٥- () تقع فلسطين في جنوب شرق قارة آسيا .
 - ٦- () توجد هضبة التبت في الصين .
 - ٧- () نشأت الحضارة الكنعانية في العراق .
 - ٨- () مناخ قارة آسيا متنوع .
 - ٩- () تنخفض الحرارة في قارة آسيا كلما ابتعدنا عن القطب الشمالي .
 - ١٠- () تسقط الأمطار الصيفية في شرق ووسط وجنوب قارة آسيا .
 - ١١- () تتعرض قارة آسيا لرياح نشطة وأعاصير مدارية .
 - ١٢- () يمتاز مناخ فلسطين بالاعتدال بشكل عام .
 - ١٣- () تأتي قارة آسيا في المرتبة الثانية من حيث عدد السكان والمساحة .
 - ١٤- () تبلغ نسبة ملوحة مياه البحر الميت حوالي ٣٤% .
 - ١٥- () تمتاز قارة آسيا بتعرجات في سواحلها وكثرة موانئها .
 - ١٦- () يوجد في قارة آسيا أعلى بقاع الأرض وأخفضها .
 - ١٧- () يوجد في قارة آسيا أبعد المناطق في العالم وأكثرها حرارة .
 - ١٨- () كانت الفتوحات الإسلامية في آسيا في العهد الأموي في المنطقة الشرقية فقط .
 - ١٩- () ساهم التجار والدعاة في نشر الإسلام في مناطق كثيرة .
 - ٢٠- () لم يتوسع المسلمون كثيراً في قارة آسيا في العصر العباسي .
 - ٢١- () أقصى اتساع للدولة الإسلامية في شرق قارة آسيا هو حدود الهند والصين .

السؤال السادس : صحح ما تحته خط :-

- ١- خط الطول الرئيسي هو خط الاستواء .
- ٢- عدد دوائر العرض ٣٦٠ دائرة .
- ٣- خط الاستواء يقسم العالم إلى قسمين شرقي وغربي .
- ٤- مضيق برنج يفصل قارة آسيا عن قارة أمريكا الجنوبية .
- ٥- أعلى قمة جبلية في فلسطين جبل النبي موسى .
- ٦- نشأت الحضارة الآشورية في فلسطين .
- ٧- الأجزاء الجنوبية في قارة آسيا هي الأكثر برودة .
- ٨- تسقط الأمطار في فصل الصيف على السواحل الغربية لقارة آسيا .
- ٩- يعتبر البحر المتوسط أكثر بحار العالم ملوحة .
- ١٠- تعتبر مدينة القاهرة أقدم العواصم في قارة آسيا .
- ١١- فتح المسلمين معظم أرمينيا زمن الخليفة عمر بن الخطاب .
- ١٢- كانت المنطقة الشرقية من قارة آسيا تحت حكم الفرس قبل الفتح الإسلامي .
- ١٣- تقع مدينة عمورية في دولة سوريا .

السؤال السابع : بم تفسر :-

- ١- أهمية خطوط الطول .
- السبب /
- ٢- أهمية دوائر العرض .
- السبب /
- ٣- سقوط الأمطار على فلسطين شتاءً .
- السبب /
- ٤- لم يتوسع المسلمون في فتوحاتهم في العصر العباسي .
- السبب /
- ٥- تسكين المسلمين في المناطق الحدودية .
- السبب /
- ٦- تنوع مظاهر سطح قارة آسيا .
- السبب /
- ٧- المناطق الشمالية من قارة آسيا باردة صيفاً وشتاءً .
- السبب /

السؤال الثامن : ما النتيجة المترتبة على :-

١- اتساع قارة آسيا وامتدادها .

النتيجة /

٢- خصوبة التربة على ضفاف الأنهار في قارة آسيا .

النتيجة /

٣- كثرة التعرجات في سواحل قارة آسيا .

النتيجة /

٤- توقف وصول مياه نهر الأردن إلى البحر الميت .

النتيجة /

السؤال التاسع : اختر من المجموعة [أ] ما يناسبها من المجموعة [ب] فيما يأتي :

[أ]

[ب]

١- منطقة السند () دولة أوزبكستان الحالية .

١- منطقة السند

٢- المنطقة الواقعة شرق إيران . ()

٢- بخاري وسمرقند

٣- تركمنستان . ()

٣- بلخ

٤- أفغانستان . ()

٤- مرو

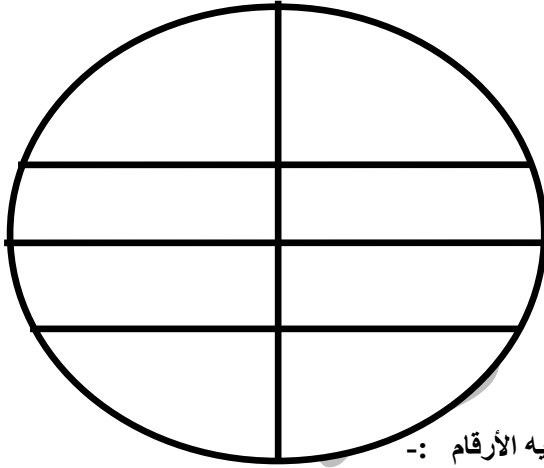
السؤال العاشر : من أكون :

١- () القائد المسلم الذي تولى الفتوحات الإسلامية على الجهة الشرقية في آسيا .

٢- () القائد المسلم الذي فتح منطقة السند ووصل إلى منطقة كشمير على الحدود الهندية .

٣- () القائد المسلم الذي فتح حصون عمورية وهرقلة .

٤- () الخليفة الأموي الذي فتحت في عهده معظم أرمينيا .



السؤال الحادي عشر : حدد على الشكل :-

١- خط الاستواء

٢- خط جرينتش

٣- مدار السرطان

٤- مدار الجدي

السؤال الثاني عشر : أمامك خريطة قارة آسيا أكتب ما تشير إليه الأرقام :-



١- المحيط : -----

٢- هضبة : -----

٣- هضبة : -----

٤- المحيط : -----

٥- مضيق : -----

أسئلة على الوحدة الأولى الدولة الإسلامية عابرة القارات من صفحة (٢) إلى صفحة (٣٩)

الدرس الثاني :- قارة إفريقيا وامتداد الدولة الإسلامية فيها من صفحة (١٣) إلى صفحة (١٩)

السؤال الأول : أكمل الفراغ بالكلمات المناسبة :

- ١- تمتد قارة إفريقيا بين دائرتي عرض ----- شمال خط الاستواء إلى ----- جنوبه .
- ٢- من مظاهر سطح إفريقيا الجبال و ----- و ----- .
- ٣- من هضاب قارة إفريقيا هضبة ----- و هضبة ----- .
- ٤- تنقسم السهول في قارة إفريقيا إلى سهول ----- وسهول ----- .
- ٥- من بحيرات قارة إفريقيا بحيرة ----- وبحيرة ----- .
- ٦- من التحديات التي تواجهها قارة إفريقيا ----- و ----- و ----- .
- ٧- بلغ عدد سكان قارة إفريقيا حوالي ----- ميار و ----- مليون نسمة حسب إحصائية ٢٠١٩ م .
- ٨- استغرق فتح المسلمين للمغرب حوالي ----- عاماً تقريباً .
- ٩- من دول إفريقيا التي انتشر فيها الإسلام عن طريق التجارة والدعاة ----- و ----- .

السؤال الثاني : اختر الإجابة الصحيحة مما بين القوسين :-

- ١- تمتد إفريقيا بين خطي طول (١٧ غرب إلى ٥١ شرق - ٥١ غرب إلى ١٧ شرق - ٣٧ شرق إلى ٣٥ غرب)
- ٢- قارة أوراسيا هي (أفريقيا وآسيا - أوروبا وآسيا - أستراليا وآسيا)
- ٣- يحدج قارة إفريقيا من الغرب (البحر المتوسط - المحيط الهندي - المحيط الأطلسي)
- ٤- يحد إفريقيا من الشرق (المحيط الهندي - البحر الأحمر - الاثنان معاً)
- ٥- من السلاسل الجبلية في قارة إفريقيا (أطلس - الأنديز - الهمليا)
- ٦- أعلى جبال قارة إفريقيا جبل (الجرمق - كلمنجاروا - الهكار)
- ٧- أشهر أنهار قارة إفريقيا نهر (النيل - النيجر - السند)
- ٨- تسقط الأمطار الموسمية الصيفية على المناطق التالية ما عدا (جنوب ووسط السودان - هضبة الحبشة - سواحل البحر المتوسط)
- ٩- تعد قارة ----- ثاني قارات العالم من حيث المساحة (إفريقيا - آسيا - أمريكا الشمالية)
- ١٠- أكبر هضاب العالم مساحة هضبة (التبت - الصحراء الأفريقية الكبرى - نجد)
- ١١- قام بحملة عسكرية كبرى وصل فيها إلى المحيط الأطلسي (عقبة بن نافع - موسى بن نصير - حسان بن نعمان)
- ١٢- استشهد عقبة بن نافع في منطقة (طنجة - تهودة - تلسان)
- ١٣- خلف عقبة بن نافع في قيادة جيش المسلمين (موسى بن نصير - طارق بن زياد - حسان بن النعمان الغساني)

السؤال الثالث : ضع علامة (صح) أمام العبارة الصحيحة وعلامة (خطأ) أمام العبارة الخاطئة :-

- ١- () تقع قارة إفريقيا في الجنوب الشرقي من قارة أستراليا .
- ٢- () تقع هضبة أثيوبيا في وسط وشرق قارة إفريقيا .
- ٣- () يعتبر نهر النيل قصر أنهار العالم .
- ٤- () ترتفع الحرارة صيفاً وتعتدل قرب السواحل في قارة إفريقيا .
- ٥- () تنخفض درجات الحرارة في الأجزاء الشمالية من إفريقيا شتاءً .
- ٦- () تنخفض الحرارة في قارة إفريقيا صيفاً بشكل عام .
- ٧- () يتركز السكان على سواحل قارة إفريقيا وفي المناطق الداخلية .
- ٨- () يوجد في قارة إفريقيا أكبر هضاب العالم مساحة .
- ٩- () سواحل قارة إفريقيا كثيرة التعاريج .
- ١٠- () توجد منطقة تهودة في دولة المغرب الحالية .
- ١١- () تمكن حسان بن النعمان الغساني من الانتصار على البربر والاستيلاء على معظم المغرب .
- ١٢- () انتشر الإسلام في مناطق كثيرة من قارة إفريقيا عن طريق التجار والدعاة المسلمين .

السؤال الرابع : ما النتيجة المترتبة على :-

١- امتداد خط الاستواء ومدار السرطان والجدي من قارة إفريقيا .

النتيجة / -----

٢- قلة التعاريج في سواحل قارة إفريقيا .

النتيجة / -----

٣- تعرض قارة إفريقيا لتجارة الرقيق (الاتجار بالبشر) .

النتيجة / -----

٤- سياسة المسلمين المتسامحة مع سكان المغرب .

النتيجة / -----

السؤال الخامس : صحح ما تحته خط :-

- ١- يحيط بقارة إفريقيا من الشمال البحر الأحمر .
- ٢- يحد إفريقيا من الشرق المحيط الأطلسي والهندي .
- ٣- تتصل أوروبا مع إفريقيا من خلال قناة السويس .
- ٤- يسود الطابع الجبلي مظاهر سطح إفريقيا .
- ٥- تقع هضبة الصحراء الإفريقية الكبرى في جنوب قارة إفريقيا .
- ٦- يقع جبل كلمنجارو في دولة تشاد .
- ٧- تسقط الأمطار الموسمية الصيفية على السواحل الغربية الشمالية من قارة إفريقيا .
- ٨- تبلغ مساحة قارة إفريقيا حوالي ٥٠ مليون كم ٢ .
- ٩- تأخذ قارة إفريقيا شكل المربع .
- ١٠- بنى موسى بن نصير مدينة القيروان .
- ١١- أكمل حسان بن النعمان الغساني فتح ما تبقى من بلاد المغرب .

السؤال السادس : بم تفسر :-

- ١- تعاكس الفصول في قارة إفريقيا .
السبب /
- ٢- ارتفاع درجات الحرارة في المناطق الجنوبية من قارة إفريقيا صيفاً .
السبب /
- ٣- قلة الموانئ الطبيعية في قارة إفريقيا .
السبب /
- ٤- عدم تطور قارة إفريقيا رغم غناها بالموارد الطبيعية .
السبب /
- ٥- استغراق فتح المسلمين للمغرب مدة طويلة مقارنة بالمناطق الأخرى .
السبب /
- ٦- بناء مدينة القيروان في بلاد المغرب العربي .
السبب /

السؤال السابع : أمامك خريطة إفريقيا عين عليها :-

- ١- جبال الهكار - العوينات
- ٢- هضبة أثيوبيا - هضبة البحيرات
- ٣- نهر النيل - نهر الكونغو
- ٤- البحر المتوسط - مضيق جبل طارق
- ٥- مدينة القيروان



أسئلة على الوحدة الأولى الدولة الإسلامية عابرة القارات من صفحة (٢) إلى صفحة (٣٩)

الدرس الثالث :- قارة أوروبا وامتداد الدولة الإسلامية فيها من صفحة (٢٠) إلى صفحة (٢٧)

السؤال الأول : أكمل الفراغات بالكلمات المناسبة :-

- ١- تمتد قارة أوروبا بين خطي طول ----- غرب جرينتش إلى ----- شرقه .
- ٢- من مظاهر سطح قارة أوروبا ----- و -----
- ٣- يمتد السهل الأوروبي العظيم من السواحل ----- لقارة أوروبا حتى سلسلة جبال ----- شرقاً .
- ٤- تنخفض درجات الحرارة في أوروبا شتاءً كلما اتجهنا من ----- إلى ----- .
- ٥- من أهم المشاكل التي تعاني منها القارة الأوروبية ----- و ----- .
- ٦- من أشهر دول قارة أوروبا ----- و ----- و ----- .
- ٧- من المدن التي فتحها المسلمون في إسبانيا ----- و ----- و ----- .
- ٨- من الآثار الإسلامية في الأندلس مسجد ----- ومدينة ----- وقصر ----- .

السؤال الثاني : اختر الإجابة الصحيحة مما بين القوسين :-

- ١- تمتد قارة أوروبا بين دائرتي عرض ----- شمال خط الاستواء . (٣٤ إلى ٨٠ - ٦٠ إلى ١٠ - ٨٠ إلى ٣٤)
- ٢- يحد قارة أوروبا من الشمال . (البحر المتوسط - المحيط الأطلسي - المحيط المتجمد الشمالي)
- ٣- يحد قارة أوروبا من الغرب . (بحر قزوين - المحيط الأطلسي - البحر الأسود)
- ٤- يحد قارة أوروبا من الشرق . (جبال الأورال - بحر قزوين - الاثنان معاً)
- ٥- يتخلل السهل الأوروبي العظيم نهر . (الفرات - الدانوب - الكنغو)
- ٦- أعلى قمة جبلية في قارة أوروبا جبل . (مونت بلان - كلمنجارو - طبقال)
- ٧- كل ما يلي من جبال قارة أوروبا ما عدا . (مونت بلان - أطلس - البرانس)
- ٨- من هضاب قارة أوروبا هضبة . (الميزيتا - الغابة السوداء - الاثنان معاً)
- ٩- توجد هضبة الميزيتا في دولة . (إسبانيا - ألمانيا - إيطاليا)
- ١٠- تبلغ مساحة قارة أوروبا حوالي . (١٥,٥ ملون كم ٢ - ١٠,٥ مليون كم ٢ - ٢٥,٥ مليون كم ٢)
- ١١- وقعت فلسطين تحت الانتداب البريطاني عام . (١٩٢٢ إلى ١٩٤٨ م - ١٩١٧ إلى ١٩٤٨ م - ١٩٢٠ إلى ١٩٤٨ م)
- ١٢- فتح المسلمين في العصر العباسي جزر . (البليار وصقلية - قبرص وكريت - جميع ما ذكر)
- ١٣- انتصر المسلمون على الإسبان في معركة . (اليرموك - وادي لكة - عين جالوت)
- ١٤- وقعت معركة وادي لكة عام . (٧١١ هـ / ٧١١ م - ٧٣٢ هـ / ٧٣٢ م - ٧٥٦ هـ / ٧٥٦ م)
- ١٥- بلاد الفرنجة هي دولة ----- حالياً . (فرنسا - إيطاليا - إسبانيا)
- ١٦- لجأ عبد الرحمن الداخل بعد سيطرة العباسيين على الحكم إلى . (الأندلس - بريطانيا - فرنسا)

السؤال الثالث : ضع علامة (صح) أمام العبارة الصحيحة وعلامة (خطأ) أمام العبارة الخاطئة :-

- ١- () يفصل أوروبا عن آسيا سلسلة جبال أطلس .
- ٢- () تمتد سلسلة جبال الألب في جنوب قارة أوروبا .
- ٣- () يفصل إسبانيا عن فرنسا سلسلة جبال مونت بلان .
- ٤- () ترتفع درجات الحرارة في قارة أوروبا صيفاً كلما اتجهنا من الجنوب إلى الشمال .
- ٥- () ترتفع درجات الحرارة في قارة أوروبا من الغرب إلى الشرق .
- ٦- () تسقط الأمطار على معظم أجزاء قارة أوروبا صيفاً باستثناء المناطق الجنوبية .
- ٧- () تسقط الأمطار والثلوج على جميع أجزاء قارة أوروبا شتاءً .
- ٨- () تزداد كمية الأمطار كلما اتجهنا إلى الشرق من قارة أوروبا .
- ٩- () تعد قارة أوروبا من أكثر القارات من حيث الكثافة السكانية .
- ١٠- () تمتاز قارة أوروبا بتطورها في مختلف المجالات الاقتصادية .
- ١١- () تفتقر قارة أوروبا إلى شبكات المواصلات .
- ١٢- () جاء الاستعمار إلى الوطن العربي من قارة أوروبا .
- ١٣- () تمتاز قارة أوروبا بطول سواحلها وكثرة التعاريف فيها .
- ١٤- () فتح المسلمون بلاد الأندلس (إسبانيا) في العصر العباسي .
- ١٥- () انفراد بني أمية في حكم بلاد الأندلس .
- ١٦- () لا تزال الآثار الإسلامية من مساجد وقصور موجودة في جزيرة صقلية حتى اليوم .
- ١٧- () أصبحت الأندلس في عهد الدولة الأموية زمن عبد الرحمن الداخل منارة للعلم والعلماء .
- ١٨- () عاش سكان الأندلس في ظل الدولة الإسلامية في ظل مجتمع متطرف .
- ١٩- () تقع قارة أوروبا غرب خط جرينتش .

السؤال الرابع : صحح ما تحته خط :-

- ١- تقع قارة أوروبا إلى الغرب من قارة أفريقيا .
- ٢- يحد أوروبا من الشرق البحر المتوسط والبحر الأسود وبحر مرمرة .
- ٣- يوجد جبل مونت بلان في قارة آسيا .
- ٤- توجد هضبة الغابة السوداء في إسبانيا .
- ٥- بلغ عدد سكان قارة أوروبا حوالي ٤٧٠ مليون نسمة حسب احصائية ٢٠١٩ م .
- ٦- تعتبر قارة أوروبا ثاني قارات العالم من حيث عدد السكان .
- ٧- بدأت الثورة الصناعية في قارة آسيا .
- ٨- وقعت فلسطين تحت الانتداب الفرنسي .
- ٩- تحولت جزيرة قبرص خلال الحكم الإسلامي إلى بلد تسوده الحضارة .
- ١٠- لقب الأمير عبد الرحمن الداخل بصقر العرب .
- ١١- تقع قارة أوروبا جنوب خط الاستواء .

السؤال الخامس : ما النتيجة المترتبة على :-

- ١- عدم سقوط الأمطار على المناطق الجنوبية من قارة أوروبا صيفاً .

- النتيجة /
- ٢- تأخر سن الزواج وارتفاع نسبة كبار السن في قارة أوروبا .
 - ٣- كثرة التعاريج وتداخل اليباس مع الماء في قارة أوروبا .
 - ٤- معركة وادي لكة .
 - ٥- معركة بلاط الشهداء .
 - ٦- إسلام عدد كبير من سكان صقلية .
 - ٧- لجوء عبد الرحمن الداخل إلى الأندلس .
- النتيجة /

السؤال السادس : بم تفسر :-

- ١- تطور قارة أوروبا في جميع المجالات .

- السبب /
- ٢- تعد قارة أوروبا أكثر قارات العالم كثافة سكانية .
 - ٣- ارتفاع نسبة كبار السن في قارة أوروبا .
 - ٤- تحاول القارة الأوروبية السيطرة على تدفق اللاجئين .
 - ٥- تحتاج أوروبا للاجئين من الدول الأخرى .
 - ٦- سميت قارة أوروبا بالقارة العجوز .
 - ٧- تعاني قارة أوروبا من التناقص في عدد السكان .
 - ٨- لجوء الأمير عبد الرحمن الداخل إلى الأندلس .
- السبب /

السؤال السابع : أختَر من المجموعة (أ) ما يناسبها من المجموعة (ب) :-

- | | |
|-----------------------------------|--------------------|
| المجموعة (أ) | المجموعة (ب) |
| ١- معركة وادي لكة | () ١٣٨ هـ / ٧٥٦ م |
| ٢- معركة بلاط الشهداء | () ٩٢ هـ / ٧١١ م |
| ٣- قيام الدولة الأموية في الأندلس | () ١١٤ هـ / ٧٣٢ م |

السؤال الثامن : أكتب المصطلح العلمي :-

- ١- (.....) الأشخاص الذين ولدوا في الأندلس من آباء مسلمين وأمهات إسبانيات .
- ٢- (.....) الأشخاص اللذين ظلوا على ديانتهم المسيحية ولكنهم تعلموا اللغة العربية .
- ٣- (.....) الأوروبيين الذين كانوا يأتون للأندلس لأسباب مختلفة .

السؤال التاسع : من أكون :-

- ١- (.....) شاركت مع القائد طارق بن زياد في فتح الأندلس .
- ٢- (.....) قادت حملة كبيرة داخل فرنسا عام ١١٤ هـ / ٧٣٢ م .
- ٣- (.....) قادت جيوش المسلمين في معركة وادي لكة .
- ٤- (.....) سيطرت على الأندلس وأقامت فيها الدولة الأموية

السؤال العاشر : عين على خريطة أوروبا الصماء ما يلي :-



١- المحيط الأطلسي - المحيط المتجمد الشمالي

٢- البحر المتوسط - بحر البلطيق

٣- جبال الألب - جبال البرانس

٤- السهل الأوروبي العظيم

٥- هضبة الميزيتا

٦- نهر السين

أسئلة على الوحدة الأولى الدولة الإسلامية عابرة القارات من صفحة (٢) إلى صفحة (٣٩)

الدرس الرابع :- قارة أمريكا الشمالية من صفحة (٢٨) إلى صفحة (٣١)

السؤال الأول : أكمل الفراغات بالكلمات المناسبة :-

- ١- تقع قارة أمريكا الشمالية بين خطي طول ----- إلى ----- غرب خط جرينيتش .
- ٢- يجري في السهول الساحلية الوسطى نهر ----- .
- ٣- من هضاب المرتفعات الشرقية هضبة ----- .
- ٤- تعرف المرتفعات الجنوبية من قارة أمريكا الشمالية بجبال ----- .
- ٥- يتوزع سكان قارة أمريكا الشمالية على ثلاث دول هي ----- و ----- و ----- .
- ٦- تتميز قارة أمريكا الشمالية بإنتاج ----- و ----- عِل .

السؤال الثاني : اختر الإجابة الصحيحة مما بين القوسين :-

- ١- تقع قارة أمريكا الشمالية بين دائرتي عرض ---- شمال خط الاستواء . (٨٣ إلى ١٥ - ١٥ إلى ٨٣ - ٤٨ إلى ١٧٠)
- ٢- يحد قارة أمريكا الشمالية من الشمال . (المحيط المتجمد الشمالي - خليج المكسيك - البحر الكاريبي)
- ٣- يحد قارة أمريكا الشمالية من الشرق . (المحيط الهادي - البحر الكاريبي - المحيط الأطلسي)
- ٤- يوجد في السهول الساحلية الوسطى . (البحيرات الخمس - نهر المسيسيبي - الاثنان معاً)
- ٥- تعرف المرتفعات الغربية من قارة أمريكا الشمالية بمرتفعات . (الأبلش - روكي - الألب)
- ٦- تبلغ مساحة قارة أمريكا الشمالية حوالي . (٢٠ مليون كم ٢ - ٩,٥ مليون كم ٢ - ٢٤ مليون كم ٢)
- ٧- بلغ عدد سكان قارة أمريكا الشمالية حوالي ---- نسمة حسب احصائية ٢٠١٩ م . (٤٩٢ ملون - ٨٨٤ مليون - ٨٤٨ مليون)

السؤال الثالث : صحح ما تحته خط :-

- ١- تقع قارة أمريكا الشمالية غرب خط الاستواء .
- ٢- يحد قارة أمريكا الشمالية من الشرق خليج المكسيك .
- ٣- تُعرف المرتفعات الشرقية في قارة أمريكا الشمالية بجبال الألب .
- ٤- توجد هضبة ليرادور في المرتفعات الغربية .
- ٥- تعتبر قارة أمريكا الشمالية رابع قارات العالم مساحة .
- ٦- تعتبر قارة أمريكا الشمالية من قارات العالم النامي .
- ٧- تقع قارة أمريكا الشمالية جنوب خط الاستواء .

السؤال الرابع : ضع علامة (صح) أمام العبارة الصحيحة وعلامة (خطأ) أمام العبارة الخاطئة :-

- ١- () يحد قارة أمريكا الشمالية من الغرب المحيط الأطلسي .
- ٢- () تتكون قارة أمريكا الشمالية من ثلاث مظاهر تضاريسية .
- ٣- () هضبة ليرادور غنية بإنتاجها الزراعي والصناعي .
- ٤- () المرتفعات الشرقية في قارة أمريكا الشمالية أكثر ارتفاعاً من الغربية .
- ٥- () ترتفع درجات الحرارة صيفاً في قارة أمريكا الشمالية كلما اتجهنا شمالاً .
- ٦- () تسقط على قارة أمريكا الشمالية أمطار صيفية .
- ٧- () تنخفض درجات الحرارة شتاءً في قارة أمريكا الشمالية .
- ٨- () تتميز الأطراف الجنوبية المطلة على خليج المكسيك بالبرودة .
- ٩- () تسقط الأمطار والثلوج بشكل عام على قارة أمريكا الشمالية ككل .
- ١٠- () تعتبر قارة أمريكا الشمالية أقل قارات العالم من حيث عدد السكان .
- ١١- () توجد في قارة أمريكا الشمالية بعض الجاليات الفلسطينية .
- ١٢- () وصلت الفتوحات الإسلامية إلى قارة أمريكا الشمالية .
- ١٣- () تقع قارة أمريكا الشمالية شرق خط جرينيتش .

السؤال الخامس : بم تفسر :-

- ١- ترتفع درجات الحرارة في قارة أمريكا الشمالية كلما اتجهنا جنوباً .

السبب / -----

- ٢- انخفاض درجات الحرارة في قارة أمريكا الشمالية كلما اتجهنا شمالاً .

السبب / -----

- ٣- دفء الأطراف الجنوبية المطلة على خليج المكسيك في أمريكا الشمالية .

السبب / -----

- ٤- لم تصل الفتوحات الإسلامية إلى قارة أمريكا الشمالية .

السبب / -----

السؤال السادس : أمامك خريطة قارة أمريكا الشمالية حدد عليها ما يلي :-



١- هضبة البرادور

٢- دولة كندا

٣- جبال روكي

٤- المحيط الهادي

٥- نهر المسيسيبي

أسئلة على الوحدة الأولى الدولية الإسلامية عابرة القارات من صفحة (٢) إلى صفحة (٣٩)
الدرس الخامس :- قارة أمريكا الجنوبية (اللاتينية) من صفحة (٣٢) إلى صفحة (٣٥)

السؤال الأول : أكمل الفراغات بالكلمات المناسبة :-

- ١- تقع قارة أمريكا الجنوبية بين دائرتي عرض ----- شمال خط الاستواء وإلى ----- جنوبه .
- ٢- يحد قارة أمريكا الجنوبية من الجنوب ----- .
- ٣- تتكون قارة أمريكا الجنوبية من ثلاث مظاهر تضاريسية هي ----- و ----- و ----- .
- ٤- تعتبر جبال الأنديز امتداد لجبال ----- في قارة أمريكا الشمالية .
- ٥- من الدول الداعمة للقضية الفلسطينية في قارة أمريكا الجنوبية ----- و ----- .

السؤال الثاني : ضع علامة (صح) أمام العبارة الصحيحة وعلامة (خطأ) أمام العبارة الخاطئة :-

- ١- () يحد قارة أمريكا الجنوبية من الشرق المحيط الهادي .
- ٢- () تمتد السهول الوسطى في قارة أمريكا الجنوبية بين الهضاب وجبال الأنديز .
- ٣- () يعتبر نهر الأمازون من أطول أنهار العالم .
- ٤- () تقع هضبة جيانا في شمال شرق قارة أمريكا الجنوبية .
- ٥- () ترتفع درجات الحرارة في قارة أمريكا الجنوبية شتاءً .
- ٦- () تعادل درجات الحرارة في المناطق الساحلية من قارة أمريكا الجنوبية .
- ٧- () تنخفض درجات الحرارة وتسقط الأمطار شتاءً على قارة أمريكا الجنوبية .
- ٨- () يتركز معظم سكان قارة أمريكا الجنوبية في المناطق الجبلية .
- ٩- () تتخذ قارة أمريكا الجنوبية شكل مثلث رأسه في الشمال وقاعدته في الجنوب .
- ١٠- () يوجد في قارة أمريكا الجنوبية بعض الدول الداعمة للقضية الفلسطينية .
- ١١- () لم تصل الفتوحات الإسلامية إلى قارة أمريكا الجنوبية .
- ١٢- () تقع قارة أمريكا الجنوبية شمال خط الاستواء .

السؤال الثالث : اختر الإجابة الصحيحة مما بين القوسين :-

- ١- تقع قارة أمريكا الجنوبية بين خطي طول . (٨١ إلى ٣٥ غرباً - ٣٥ إلى ٨١ غرباً - ١٥ إلى ٥٦ غرباً)
- ٢- يحد قارة أمريكا الجنوبية من الشمال . (أمريكا الشمالية - المحيط الأطلسي - المحيط الهادي)
- ٣- يحد قارة أمريكا الجنوبية من الغرب . (المحيط الأطلسي - المحيط المتجمد الجنوبي - المحيط الهادي)
- ٤- أشهر أنهار قارة أمريكا الجنوبية نهر . (النيل - الأمازون - المسيسيبي)
- ٥- كل ما يلي من هضاب قارة أمريكا الجنوبية ما عدا هضبة . (ليرادور - البرازيل - جيانا)
- ٦- تقع في وسط قارة أمريكا الجنوبية هضبة . (البرازيل - بتاجونيا - الميزيتا)
- ٧- تبلغ مساحة قارة أمريكا الجنوبية والوسطى حوالي . (٢٢٠ مليون كم٢ - ٨١ مليون كم٢ - ١٨ مليون كم٢)
- ٨- بلغ عدد سكان أمريكا الجنوبية حسب احصائية ٢٠١٩ م . (٦٤٤,٥ مليون نسمة - ٢٢٠ مليون نسمة - ٦٦٠ مليون نسمة)
- ٩- يقل تركيز السكان في قارة أمريكا الجنوبية في . (السواحل - سهل نهر الأمازون - السهول الفيضية)

السؤال الرابع : صحح ما تحته خط :-

- ١- يحد قارة أمريكا الجنوبية من الشمال البحر الأسود .
- ٢- تعرف المرتفعات الغربية في قارة أمريكا الجنوبية بجبال الألب .
- ٣- يعتبر نهر الأمازون من أطول أنهار العالم .
- ٤- تقع هضبة بتاجونيا في غرب قارة أمريكا الجنوبية .
- ٥- تسقط الأمطار على المناطق الساحلية شتاءً في قارة أمريكا الجنوبية .
- ٦- بلغ عدد سكان أمريكا الوسطى حوالي ٤٤٠ مليون نسمة .
- ٧- تتخذ قارة أمريكا الجنوبية شكل مربع .
- ٨- تقع قارة أمريكا الجنوبية شرق خط جرينيتش .

السؤال الخامس : بم تفسر :-

- ١- أهمية غابات نهر الأمازون .

السبب /

- ٢- قلة السكان في سهول نهر الأمازون .

السبب /

- ٣- قلة السكان في المناطق الجبلية من قارة أمريكا الجنوبية .

السبب /

- ٤- عدم وجود موانئ طبيعية في قارة أمريكا الجنوبية .

السبب /

- ٥- لم تصل الفتوحات الإسلامية إلى قارة أمريكا الجنوبية .

السبب /

السؤال السادس : ما النتيجة المترتبة على :-

- ١- استقامة سواحل قارة أمريكا الجنوبية .

النتيجة /

السؤال السابع : أمامك خريطة قارة أمريكا الجنوبية حدد عليها ما يلي :-

- ١- نهر الأمازون

- ٢- جبال الأنديز

- ٣- هضبة البرازيل

- ٤- هضبة بتاجونيا

- ٥- المحيط الهادي



أسئلة على الوحدة الأولى الدولة الإسلامية عابرة القارات من صفحة (٢) إلى صفحة (٣٩)
الدرس السادس :- قارة أوقيانوسيا من صفحة (٣٦) إلى صفحة (٣٩)

السؤال الأول : أكمل الفراغات بالكلمات المناسبة :-

- ١- تقع قارة أوقيانوسيا بين خطي طول ----- إلى ----- شرق خط جرينيتش .
- ٢- تشمل قارة أوقيانوسيا ----- وجزر ----- .
- ٣- تتكون مظاهر سطح قارة أوقيانوسيا من السهول و ----- و ----- .
- ٤- تنقسم سهول قارة أوقيانوسيا إلى السهول ----- و ----- .
- ٥- من أهم الحرف في قارة أوقيانوسيا الزراعة و ----- و ----- .
- ٦- وصل الإسلام إلى قارة أوقيانوسيا وأمريكا الشمالية والجنوبية عن طريق ----- و ----- .
- ٧- من الجزر التابعة لقارة أوقيانوسيا في المحيط الهادي ----- و ----- و ----- .

السؤال الثاني : ضع علامة (صح) أمام العبارة الصحيحة وعلامة (خطأ) أمام العبارة الخاطئة :-

- ١- () تقع قارة أوقيانوسيا شمال خط الاستواء .
- ٢- () تحيط المياه بقارة أوقيانوسيا من جميع الجهات .
- ٣- () يتميز مناخ قارة أوقيانوسيا بانخفاض درجات الحرارة صيفاً .
- ٤- () تسقط الأمطار على قارة أوقيانوسيا صيفاً وشتاءً .
- ٥- () سكان قارة أوقيانوسيا عبارة عن شعب واحد .
- ٦- () يتركز سكان قارة أوقيانوسيا على السواحل .
- ٧- () لا تسمح قوانين قارة أوقيانوسيا بالهجرة إليها .
- ٨- () توجد في قارة أوقيانوسيا جبال الألب الأسترالية .

السؤال الثالث : صحح ما تحته خط :-

- ١- تقع قارة أوقيانوسيا غرب خط جرينيتش .
- ٢- تتعدل درجات الحرارة في قارة أوقيانوسيا في فصل الربيع .
- ٣- بلغ عدد سكان قارة أوقيانوسيا ٩ مليون نسمة .
- ٤- تمتاز قارة أوقيانوسيا بأنها كثيرة التعرجات .
- ٥- يمر بقارة أوقيانوسيا مدار السرطان .

السؤال الرابع : اختر الإجابة الصحيحة مما بين القوسين :-

- ١- تقع قارة أوقيانوسيا بين دائرتي عرض ----- جنوب خط الاستواء . (٥٠ إلى ٥ - ٥٠ إلى ١١٥ - ١٨٠)
- ٢- تتعدل الحرارة في قارة أوقيانوسيا في المناطق . (الساحلية - الداخلية - الجبلية)
- ٣- أصغر قارات العام قارة . (إفريقيا - أمريكا الشمالية - أوقيانوسيا)
- ٤- تبلغ مساحة قارة أوقيانوسيا حوالي . (٩ مليون كم٢ - ١٥ مليون كم٢ - ٢٠ مليون كم٢)
- ٥- أكبر حاجز مرجاني يوجد في قارة . (آسيا - أوقيانوسيا - أوروبا)
- ٦- من الدول التي انضمت إلى منظمة التعاون الإسلامي من قارة أوقيانوسيا . (سورينام - غويانا - الإثنان معاً)
- ٧- كل ما يلي من طرق وصول الإسلام إلى قارة أوقيانوسيا ما عدا . (الفتوحات الإسلامية - الدعاة - تجار الرقيق)
- ٨- كل ما يلي من أنهار قارة أوقيانوسيا ما عدا . (نهر دارلنغ - نهر المسيسيبي - نهر موري)
- ٩- من خلجان قارة أوقيانوسيا خليج . (كارينتاريا - الخليج الأسترالي الكبير - الإثنان معاً)

السؤال الخامس : بم تفسر :-

- ١- لم تصل الفتوحات الإسلامية إلى قارة أوقيانوسيا .
السبب / -----
- ٢- لا يتزامن فصل الشتاء في قارة أوقيانوسيا مع فصل الشتاء في فلسطين .
السبب / -----
- ٣- سكان قارة أوقيانوسيا مزيج من شعوب مختلفة .
السبب / -----
- ٤- عدم وجود موانئ طبيعية في قارة أوقيانوسيا
السبب / -----

السؤال السادس : ما النتيجة المترتبة على :-

- ١- قلة التعرجات في سواحل قارة أوقيانوسيا .
النتيجة /
- ٢- أحاطه قارة أوقيانوسيا بالمسطحات المائية .
النتيجة /

السؤال السابع : أمامك خريطة قارة أوقيانوسيا حدد عليها ما يلي :-

١- المحيط الهادي

٢- الخليج الأسترالي الكبير

٣- نهر دارلنغ

٤- الهضبة الغربية

٥- جزيرة تسمانيا



أسئلة على الوحدة الثانية انجازات الدولة الإسلامية من صفحة (٤٠) إلى صفحة (٧٣)

الدرس الأول :- الانجازات الإدارية في الدولة الإسلامية من صفحة (٤٢) إلى صفحة (٤٧)

السؤال الأول : أكتب المصطلح العلمي :-

- ١- (-----) الشخص الذي يعهد إليه الخليفة أو الحاكم تولي الحكم بعده .
- ٢- (-----) منصب سياسي مهم مهمته مساعدة الرئيس في تحمل الأعباء وتقديم المشورة له .
- ٣- (-----) المكان الذي تحفظ فيه السجلات الرسمية .
- ٤- (-----) تحويل لغة الكتابة في الدواوين إلى اللغة العربية .
- ٥- (-----) الفصل بين الناس في الخصومات طبقاً لأحكام الشريعة الإسلامية .
- ٦- (-----) ديون يشبه محكمة الاستئناف العليا في وقتنا الحاضر .

السؤال الثاني : ضع علامة (صح) أمام العبارة الصحيحة وعلامة (خطأ) أمام العبارة الخاطئة :-

- ١- () تغيرت طريقة اختيار الخليفة في عهد الدولة الأموية .
- ٢- () تغيرت طريقة اختيار الخلفاء في الدولة الإسلامية من الوراثة إلى الشورى .
- ٣- () نظام الحكم الوراثي في الدولة الأموية يشبه الأنظمة الملكية في الحكم الحالي .
- ٤- () تختلف طرق اختيار الحاكم في العصر الحديث .
- ٥- () ظهرت الدواوين في العصر الأموي .
- ٦- () لم يكن عند المسلمين عند انشاء الدواوين الخبرة الكافية .
- ٧- () تم تعريب الدواوين في العصر الإسلامي .
- ٨- () أخذ المسلمين الدواوين عن الفرس والروم .
- ٩- () بمجيء الإسلام أصبح الرسول (صلى الله عليه وسلم) يقوم بحل الخلافات بين الناس .
- ١٠- () قاضي المظالم أعلى سلطة من القاضي العادي .
- ١١- () لا يتدخل ديوان المظالم في تعدي الولاة على الرعية .
- ١٢- () السلطة القضائية سلطة مستقلة عن التنفيذية والتشريعية .
- ١٣- () زاد اهتمام المسلمين ببناء الأساطيل في العصر العباسي والأموي .
- ١٤- () سيطر المسلمين في العصر الأموي والعباسي على البحر المتوسط .

السؤال الثالث : اختر الإجابة الصحيحة مما بين القوسين :-

- ١- ظهر منصب ولاية العهد في الدولة الإسلامية زمن الخليفة . (يزيد بن معاوية - معاوية بن أبي سفيان - علي بن أبي طالب)
- ٢- توفي الخليفة معاوية بن أبي سفيان عام . (٦٠ هـ / ٦٧٩ م - ١٣٠ هـ / ٧٤٧ م - ٣٠ هـ / ٦٤٩ م)
- ٣- أول من تقلد منصب الوزير في الدولة العباسية . (يزيد بن معاوية - أبا سلمة الخلال - زيد بن ثابت)
- ٤- أول من أنشأ الدواوين في الإسلام الخليفة . (عمر بن الخطاب - عثمان بن عفان - علي بن أبي طالب)
- ٥- كتبت الدواوين في مصر باللغة . (الفارسية - الرومانية - القبطية)
- ٦- الخليفة الذي قام بتعريب الدواوين . (معاوية بن أبي سفيان - عبد الملك بن مروان - الوليد بن عبد الملك)
- ٧- أول ديوان أنشأ في الإسلام هو ديوان . (العطاء - المظالم - الماء)
- ٨- عامل الخليفة عمر بن الخطاب الذي قدم من البحرين ومعه مال كثير هو . (أبو موسى الأشعري - أبو هريرة - زيد بن ثابت)
- ٩- ظهر التجنيد الإجباري في العصر . (العباسي - الراشدي - الأموي)
- ١٠- وقعت اتفاقية جنيف الرابعة عام . (١٩٤٩ م - ١٩٥٤ م - ١٩٦٩ م)

السؤال الرابع : أكمل الفراغات بالكلمات المناسبة :-

- ١- عين الخليفة معاوية بن أبي سفيان ابنه ----- ولي للعهد .
- ٢- في الدول التي تعتمد الانتخابات في أنظمة الحكم ينتخب الشعب ----- و ----- .
- ٣- عرفت الأمم القديمة مثل ----- منصب الوزير .
- ٤- كتبت الدواوين في بلاد الشام باللغة ----- .
- ٥- اتخذت الدواوين في العصر الحديث مسميات مختلفة مثل ----- و ----- .
- ٦- كان العرب قبل الإسلام يتحاكمون إلى ----- .
- ٧- السلطات الثلاث هي السلطة ----- و ----- و ----- .
- ٨- من العناصر الغير عربية التي دخلت الجيش الإسلامي ----- و ----- .
- ٩- من الأسلحة البرية التي استخدمها المسلمون ----- و ----- .
- ١٠- من الاتفاقيات التي تطلب بالحد من استخدام الأسلحة اتفاقية ----- و ----- .

السؤال الخامس : صحح ما تحته خط :-

- ١- أطلق العرب اسم الوزير على من يعاون الخليفة في الحكم في العصر الأموي .
- ٢- كتبت الدواوين في العراق باللغة الرومانية .
- ٣- عين عمر بن الخطاب خالد بن الوليد قاضي على البحرين .
- ٤- ظهر التجنيد الإجباري في عهد عبد الملك بن مروان في مصر .
- ٥- دخلت إلى الجيش الإسلامي عناصر غير عربية في العصر الأموي .
- ٦- تم إنشاء أول أسطول بحري بلاد المغرب .
- ٧- حاصر المسلمون في العهد الراشدي القسطنطينية عاصمة البيزنطيين أكثر من مرة .
- ٨- المنجنيق من أسلحة المسلمين البحرية .
- ٩- وقعت اتفاقية جنيف عام ١٩٥٤ م .

السؤال السادس : بم تفسر :-

- ١- أهمية الوزارة في الدولة .
السبب / -----
- ٢- أهمية إنشاء الدواوين في الدولة الإسلامية .
السبب / -----
- ٣- إبقاء المسلمين على الموظفين السابقين من الفرس والروم عند إنشاء الدواوين .
السبب / -----
- ٤- تعريب المسلمين للدواوين .
السبب / -----
- ٥- تعلم كتاب الدواوين من غير العرب اللغة العربية .
السبب / -----
- ٦- تعد مؤسسة القضاء من المؤسسات المهمة في الدولة .
السبب / -----
- ٧- إنشاء أسطول بحري إسلامي .
السبب / -----
- ٨- ظهور الاتفاقات الدولية التي تدعو للحد من استخدام الأسلحة .
السبب / -----

السؤال السابع : ما النتيجة المترتبة على :-

١- تعريب الدواوين .

النتيجة /

٢- إنشاء ديوان المظالم .

النتيجة /

٣- نظر ديوان المظالم في تعدي الولاة وذوي السلطة على الرعية .

النتيجة /

٤- طول شواطئ الدولة الإسلامية على البحر المتوسط وتعرضها للاعتداءات البيزنطية .

النتيجة /

٥- استخدام الأسلحة الحديثة في الحروب .

النتيجة /

٦- استقلال مؤسسة القضاء في العصر الحديث .

النتيجة /

السؤال الثامن : من أكون :-

١- () خليفة أموي قام بتعيين ابنه ولياً للعهد من بعده .

٢- () خليفة قام بإنشاء ديوان النظر في المظالم .

٣- () خليفة استحدث منصب قاضي القضاة .

٤- () خليفة قام بتنظيم الجيش وتأسيس ديوان الجند .

أسئلة على الوحدة الثانية انجازات الدولة الإسلامية من صفحة (٤٠) إلى صفحة (٧٣)

الدرس الثاني :- الانجازات المعمارية في الدولة الإسلامية من صفحة (٤٨) إلى صفحة (٥٣)

السؤال الأول : أكمل الفراغات بالكلمات المناسبة :-

١- بدأت العمارة الإسلامية ببناء مسجد ----- في المدينة المنورة .

٢- تطورت عمارة المساجد فشملت بناء ----- و ----- .

٣- ظهرت في الدولة الإسلامية المباني الدينية مثل ----- و ----- و ----- .

٤- كانت الرسومات في المباني الإسلامية عبارة عن زخارف بأشكال ----- أو رسومات ----- .

٥- بنيت مدينة القاهرة في ----- وبغداد في ----- .

٦- من القصور التي بناها الخلفاء المسلمين قصر ----- في الأردن .

السؤال الثاني : ضع علامة (صح) أمام العبارة الصحيحة وعلامة (خطأ) أمام العبارة الخاطئة :-

١- () أدى احتكاك العرب بالشعوب والأمم الأخرى في البلاد المفتوحة إلى الاهتمام بفن العمارة .

٢- () تميز مسجد قباء بالتعقيد في بنائه .

٣- () البساطة كانت السمة الغالبة على العمارة في العصر الراشدي .

٤- () أهتمت الدولة الإسلامية بالعمارة الدينية فقط .

٥- () لعب مقام النبي موسى دوراً مهماً في الحركة الوطنية الفلسطينية .

٦- () منعت الدولة الإسلامية بناء وترميم الكنائس في مناطق الدولة الإسلامية .

٧- () البيوت البسيطة تعتبر من المباني السكنية .

٨- () الحمامات العامة والأسواق والبرك مباني سكنية .

٩- () امتازت العمارة الإسلامية بتوافقها مع تعاليم الإسلام ومبادئه .

١٠- () خلقت المباني الإسلامية من ذوات الأرواح .

١١- () زينت المساجد بالكتابة بالخطوط الجميلة على جدرانها وخاصة الآيات القرآنية .

١٢- () تتشابه العمارة الإسلامية مع غيرها من العمارن الأخرى .

١٣- () كان أهل المغرب العربي إذا دخل عليهم أمير أظهروا الإسلام وإذا تركهم أرتد من أسلم منهم .

١٤- () بنيت مدينة القيروان في المملكة المغربية .

١٥- () ألف الخلفاء الراشدين حياة المدن واهتموا ببناء القصور .

١٦- () اتسمت القصور الإسلامية بالسعة والأعمدة الرخامية والفسيفساء .

١٧- () خصصت الطوابق العلوية من القصور للنساء .

١٨- () احيطت القصور بالحدائق المليئة بالأشجار .

السؤال الثالث : اختر الإجابة الصحيحة مما بين القوسين :-

- ١- توجد بركة السلطان في مدينة .
 - ٢- يوجد جامع الزيتونة في دولة .
 - ٣- يوجد مقام النبي موسى في مدينة.
 - ٤- اندلعت ثورة في موسم النبي صالح عام .
 - ٥- كل ما يلي من المباني السكنية ما عدا .
 - ٦- من المباني الحربية في الدولة الإسلامية .
 - ٧- البيمارستانات والخانات مباني .
 - ٨- بنى مدينة القيروان .
 - ٩- كل ما يلي مدن بنيت كعواصم للدول عدا .
 - ١٠- من المدن التي بنيت كمناطق تحصينات ثم تحولت إلى الطابع المدني . (القيروان - الرباط - القاهرة)
 - ١١- بنيت الطوابق السفلية من القصور الإسلامية لـ ----- .
 - ١٢- بنيت مدينة ----- لأغراض إدارية في العراق .
- (الخليل - القدس - رام الله)
 (الجزائر - مصر - تونس)
 (نابلس - أريحا - غزة)
 (١٩٢٠ م - ١٩٢١ م - ١٩٢٦ م)
 (القصور - الكتاتيب - دور الأمراء)
 (القلاع - الأبراج - الاثنان معاً)
 (خدماتية - سكنية - حربية)
 (سعد بن أبي وقاس - عقبة بن نافع - أسامة بن زيد)
 (بغداد - القاهرة - القيروان)
 (القيروان - الرباط - القاهرة)
 (إقامة النساء - قضاء وقت الراحة - للاستقبالات)
 (واسط - بغداد - البصرة)

السؤال الرابع : صحح ما تحته خط :-

- ١- في العصر الحديث اتخذت المساجد الامتداد الأفقي .
- ٢- توجد قلعة عجلون في دولة العراق .
- ٣- اندلعت ثورة النبي موسى ضد الاحتلال الصهيوني .
- ٤- الحصون والأسواق من المباني الخدماتية .
- ٥- يوجد حمام الشفاء في فلسطين في مدينة رام الله .
- ٦- بنيت مدينة بغداد كمعسكر حربي .
- ٧- بنيت مدينة الرباط في دولة تونس .

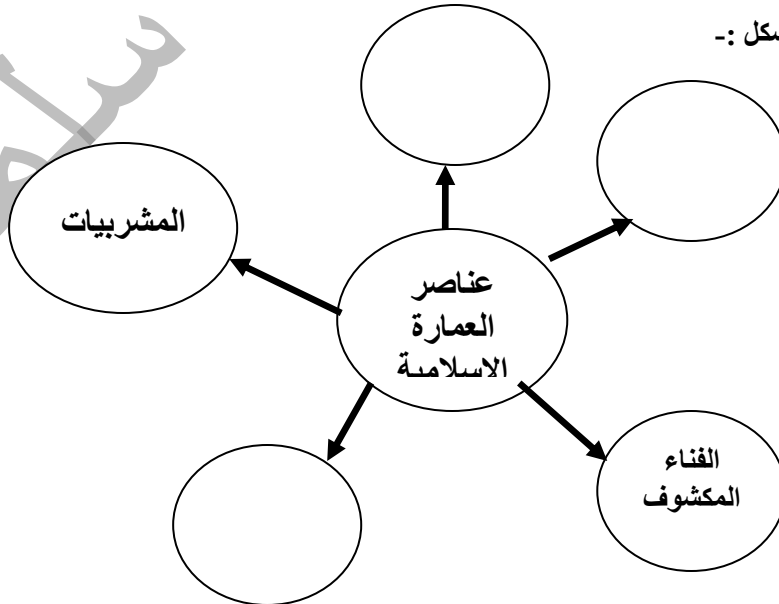
السؤال الخامس : أكتب المصطلح العلمي :-

- ١- (-----) فن إقامة مباني بأشكال وأحجام مختلفة لخدمة الناس وتسهيل حياتهم .
- ٢- (-----) نوافذ سدت يستائر شبكية من الخشب .
- ٣- (-----) منشآت كمعسكرات للجيش أو لأغراض إدارية أو عواصم للدول .
- ٤- (-----) بنيت لقضاء الخليفة وقت الراحة والاقامة فيها بعيداً عن ضجيج المدن .

السؤال السادس : ما النتيجة المترتبة على :-

- ١- ازدياد عدد المصلين في الدولة الإسلامية .
- النتيجة / -----
- ٢- انتشار الأمراض المعدية في الدولة الإسلامية .
- النتيجة / -----

السؤال السابع : أكمل الشكل :-



السؤال الثامن : بم تفسر :-

١- اهتمام المسلمين بفن العمارة والبناء .

السبب /

٢- بناء المساجد الكبيرة .

السبب /

٣- اتخذت المساجد الامتداد الفقي .

السبب /

٤- تركيز الدولة الإسلامية في بدايتها على المباني الدينية .

السبب /

٥- خلو المباني الإسلامية من الرسومات والتماثيل ذوات الأرواح .

السبب /

٦- بناء مدينة القيروان .

السبب /

٧- بناء مدينة القيروان بعيداً عن البحر .

السبب /

٨- بناء مدينة القيروان بعيداً عن جوف الصحراء .

السبب /

٩- بناء المسلمين للمدن .

السبب /

١٠- بناء خلفاء المسلمين للمدن في البادية .

السبب /

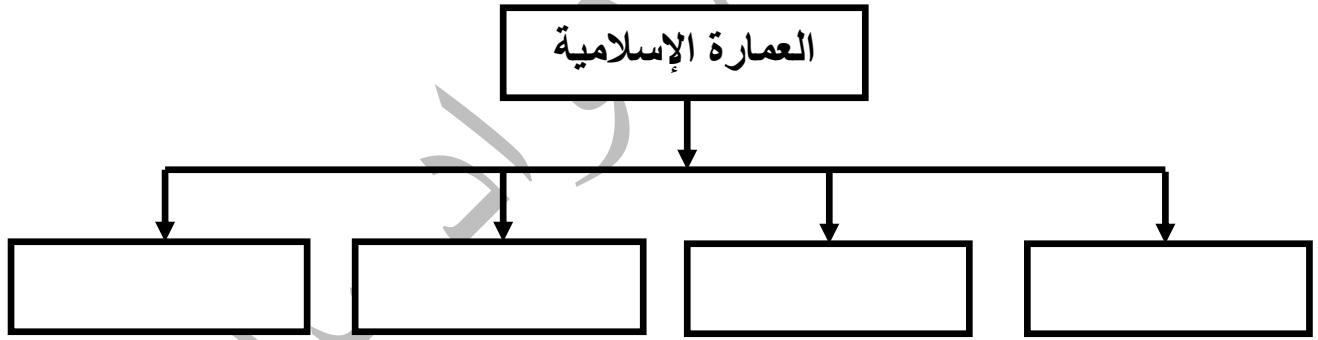
١١- بناء خلفاء المسلمين للقصور على الجبال .

السبب /

١٢- بناء خلفاء المسلمين للقصور في مناطق بعيدة عن المدن .

السبب /

السؤال التاسع : أكمل الشكل :



أسئلة على الوحدة الثانية انجازات الدولة الإسلامية من صفحة (٤٠) إلى صفحة (٧٣)

الدرس الثالث :- نماذج من الانجازات المعمارية الإسلامية في فلسطين من صفحة (٥٤) إلى صفحة (٦١)

السؤال الأول : من أكون :-

١- (-----) خليفة أموي قام بترميم أسوار مدينة القدس .

٢- (-----) خليفة أموي أنشأ قرية كفر لام بالقرب من حيفا .

٣- (-----) قائد أموي بنى مدينة الرملة في فلسطين .

٤- (-----) قام ببناء قلعة شفا عمر .

٥- (-----) خليفة أموي قام ببناء مسجد قبة الصخرة .

السؤال الثاني : أكتب المصطلح العلمي :-

١- (-----) أنبئة محصنة أقيمت من الحجارة القوية على رأس جبل أو طريق تجارية .

٢- (-----) رافقت بناء القلاع والأسوار حول المدن الفلسطينية .

٣- (-----) بنيت حول المدن لتوفير عامل الحماية لها .

(١٧)

السؤال الثالث : أكمل الفراغات بالكلمة المناسبة :-

- ١- وجدت المدن ----- في فلسطين منذ القدم .
- ٢- وسع الأمويين مدينة ----- و ----- ورمموا منشآتها .
- ٣- من القلاع التي بنيت في فلسطين قلعة ----- وقلعة ----- .
- ٤- من المرافق التي يحتاجها الخليفة في القصر ----- و ----- و ----- .
- ٥- أعاد بناء المسجد الأبيض بعد تدميره من الفرنج ----- وجدد جدرانه ----- .
- ٦- من أبواب سور القدس باب ----- و ----- و ----- .
- ٧- آخر مرة تم ترميم سور القدس فيها بين الأعوام ----- إلى ----- .
- ٨- يتراوح ارتفاع سور القدس بين ----- إلى ----- .
- ٩- نشط الخلفاء الأمويين الحركة العلمية في القدس وبنوا فيها ----- واهتموا بترميم ----- وأوجدوا فيها ----- .
- ١٠- حملت دور ضرب النقود (سك النقود) في البداية اسم ----- .
- ١١- بنى المسجد القبلي الخليفة ----- وابنه ----- .
- ١٢- قام بترميم مسجد قبة الصخرة وضرب النقود في القدس الخليفة ----- و ----- .
- ١٣- حول الاحتلال الصهيوني حائط البراق إلى حائط ----- .
- ١٤- هدم الاحتلال الصهيوني حي ----- في مدينة القدس .

السؤال الرابع : ضع علامة (صح) أمام العبارة الصحيحة وعلامة (خطأ) أمام العبارة الخاطئة :-

- ١- () عندما فتح المسلمين فلسطين أهتموا بترميم المدن القديمة .
- ٢- () تقع قلعة القدس الشريف وقلعة مراد بالقرب من برك سليمان .
- ٣- () يوجد ثلاث أبراج خلف السور الخارجي لمدينة عكا .
- ٤- () بنى قصر المنية سليمان بن عبد الملك .
- ٥- () بنى سليمان بن عبد الملك مدينة الرملة في عهد أخيه الوليد بن عبد الملك .
- ٦- () حول الانجليز قصر سليمان في مدينة الرملة إلى متحف .
- ٧- () دُمر المسجد الأبيض في الرملة على يد الفرنج .
- ٨- () نص اتفاق تسليم مدينة الرملة للاحتلال الصهيوني على خروج الأهالي من مدينتهم .
- ٩- () مدينة الرملة تخضع اليوم للسلطة الوطنية الفلسطينية .
- ١٠- () تعرض سور القدس للهدم والبناء مرات عديدة .
- ١١- () بني سور القدس بالشيد والحجر المنحوت .
- ١٢- () لم يزور خلفاء الدولة الأموية مدينة القدس .
- ١٣- () بعد احتلال اسرائيل لفلسطين انتهجت سياسة طمس المعالم العربية والاسلامية .
- ١٤- () ضيق الاحتلال الصهيوني على سكان القدس لإرغامهم على ترك المدينة .
- ١٥- () عمل الاحتلال الصهيوني على دمج القدس مع محيطها العربي .
- ١٦- () أزال الاحتلال الصهيوني الحجارة من سور القدس واستبدلها بأخرى عليها رسومات وأشكال صهيونية .
- ١٧- () يمنع الاحتلال الصهيوني المستوطنين من دخول الحرم القدسي الشريف .
- ١٨- () فتح الاحتلال الصهيوني الكنس الصهيونية في البلدة القديمة .
- ١٩- () قام الاحتلال الصهيوني بعدد من الحفريات تحت المسجد الأقصى

السؤال الخامس : اختر الإجابة الصحيحة مما بين القوسين :-

- ١- أعادت الدولة الأموية بناء مدينة ---- وقاموا بتحسينها . (عسقلان - القدس - غزة)
- ٢- أهتم الأمويين بمدينة ----- . (حيفا - أريحا - الاثنان معاً)
- ٣- أكبر انجاز للدولة الأموية في فلسطين بناء مدينة ----- . (اللد - الرملة - حيفا)
- ٤- اشتملت قلعة القدس على برج بناه ----- . (عمرو بن العاص - الملك المعظم عيسى - الظاهر بيبرس)
- ٥- كل ما يلي من القصور التي بنيت في طبريا ما عدا ----- . (قصر سليمان بن عبد الملك - قصر الصنبرة - قصر المنية)
- ٦- أضاف للمسجد الأبيض مأذنة السلطان ----- . (محمد بن قلاوون - صلاح الدين الأيوبي - الظاهر بيبرس)
- ٧- احتلت العصابات الصهيونية مدينة الرملة في ----- . (١٢ / ٧ / ١٩٦٧ م - ١٢ / ٧ / ١٩٤٨ م - ١٢ / ٧ / ١٩٥٦ م)
- ٨- آخر مرة رمم فيها صور القدس في العصر ----- . (المملوكي - العثماني - الأيوبي)
- ٩- لقيت القدس اهتمام كبير في عهد الدولة ----- . (الأموية - العباسية - الاثنان معاً)
- ١٠- أشرف على بناء مسجد قبة الصخرة ----- . (يزيد المقدسي - رجاء البيساني - الاثنان معاً)
- ١١- سيطرت العصابات الصهيونية على الجزء الأكبر من فلسطين عام ----- . (١٩٤٨ م - ١٩٦٧ م - ١٩٥٧ م)
- ١٢- قرار مجلس الأمن الذي اعتبر الاجراءات الصهيونية في القدس باطله قرار رقم ----- . (٢٥٢ - ٢٢٥)
- ١٣- صدر قرار مجلس الأمن الذي اعتبر الاجراءات الصهيونية في القدس باطله في ----- . (١٩٦٨ / ٥ / ٢١ م - ١٩٦٧ / ٥ / ٢١ م - ١٩٤٨ / ٥ / ٢١ م)

- ١- تقع قلعة القدس وقلعة مراد إلى الجنوب الغربي من مدينة القدس .
- ٢- يوجد قصر هشام بالقرب من طبريا .
- ٣- يوجد قصر سليمان بن عبد الملك في مدينة أريحا .
- ٤- سُفِّق ديوان الخليفة بالأسبيست .
- ٥- بنى سليمان بن عبد الملك المسجد العمري في مدينة الرملة .
- ٦- آخر مرة رمم فيها سور القدس فترة حكم السلطان عبد الحميد الثاني .
- ٧- يبلغ طول سور القدس حوالي ٦٠٠٠ متر .
- ٨- أمر الخليفة العباسي المهدي بترميم المسجد القبلي .
- ٩- احتلت إسرائيل فلسطين بالكامل عام ١٩٥٦ م .

السؤال السابع : بم تفسر :-

- ١- بناء المسلمين للقلاع في فلسطين .

السبب /

- ٢- تسمية مدينة الرملة بهذا الاسم .

السبب /

- ٣- بناء مدينة الرملة .

السبب /

- ٤- بناء المسلمين للأسوار حول المدن .

السبب /

- ٥- تعبيد الأمويين للطرق من دمشق إلى القدس .

السبب /

- ٦- تهدم قصر هشام بن عبد الملك .

السبب /

- ٧- سماح الاحتلال الصهيوني للمستوطنين بدخول الحرم القدسي الشريف يومياً .

السبب /

السؤال الثامن : ما النتيجة المترتبة على :-

- ١- انتشار الضجيج في مدينة اللد .

النتيجة /

- ٢- احتلال العصابات الصهيونية لمدينة الرملة .

النتيجة /

- ٣- الاجراءات الصهيونية بعد احتلال فلسطين .

النتيجة /

أسئلة على الوحدة الثانية انجازات الدولة الإسلامية من صفحة (٤٠) إلى صفحة (٧٣)
الدرس الرابع :- الانجازات العلمية في الدولة الإسلامية من صفحة (٦٢) إلى صفحة (٦٨)

السؤال الأول : أكمل العبارات بالكلمات المناسبة :-

- ١- أمر الرسول (صلى الله عليه وسلم) ----- تعلم لغة اليهود .
- ٢- من اللغات التي تعلمها المسلمين ----- و ----- و ----- .
- ٣- من أشهر كتب الحديث صحيح ----- وصحيح ----- .
- ٤- أول معجم في اللغة العربية سمي بمعجم ----- .
- ٥- من أشهر مؤلفات المسلمين في التاريخ تاريخ ----- وتاريخ ----- .
- ٦- أخذ المسلمون نظام الترقيم عن ----- .
- ٧- أخذ الأوروبيين عن المسلمين فن ----- وأساليب ----- وبعض ----- .
- ٨- من الصناعات التي نقلها الأوروبيين عن المسلمين صناعة ----- و ----- .

السؤال الثاني : ضع علامة (صح) أمام العبارة الصحيحة وعلامة (خطأ) أمام العبارة الخاطئة :-

- ١- () ترجم المسلمون عن اللغات اليونانية والرومانية والفارسية .
- ٢- () لم يهتم المسلمون بعلم الحديث .
- ٣- () يعتبر الحديث المصدر الأول للتشريع الإسلامي .
- ٤- () كان حسان بن ثابت شاعر الرسول (صلى الله عليه وسلم) .
- ٥- () أهتم المسلمون في البداية بكتابة سيرة النبي (صلى الله عليه وسلم) ومغازيه .
- ٦- () أهتم المسلمون بعلم التاريخ وأهملوا علم الجغرافيا .
- ٧- () برع علماء المسلمين في وضع المعاجم الجغرافية .
- ٨- () كتب المسلمون في التاريخ عن الممالك والبلدان والرحلات .
- ٩- () أهتم المسلمون بالعلوم الطبيعية .
- ١٠- () ألف ابن سينا كتاب معجم البلدان في الطب .
- ١١- () أخذ الأوروبيين عن المسلمين اقتناء الكتب ورسم الخرائط .
- ١٢- () تواصلت الحضارات الانسانية في العصر الحديث في جوانب عدة منها الثقافية والعلمية .

السؤال الثالث : اختر الإجابة الصحيحة مما بين القوسين :-

- ١- الكاتب الذي ترجم كتاب كليلة ودمنة للعربية هو . (ابن سينا - حنين بن اسحاق - عبد الله بن المقفع)
- ٢- لعبت ----- دوراً مهماً في حركة الترجمة . (بيت الحكمة - دار الحكمة - دار الأرقم)
- ٣- أمر الخليفة الأموي ----- بجمع الأحاديث النبوية الصحيحة . (عبد الملك بن مروان - عمر بن عبد العزيز - هارون الرشيد)
- ٤- قام بضبط قراءة القرآن الكريم . (أبو الأسود الدؤلي - الخليل بن أحمد - حسان بن ثابت)
- ٥- واضع أول معجم في اللغة العربية . (زيد بن ثابت - عبد الله بن المقفع - الخليل بن أحمد الفراهيدي)
- ٦- من شعراء المسلمون الشاعر . (حسان بن ثابت - عبد الحميد الكاتب - زيد بن ثابت)
- ٧- مؤلف كتاب تاريخ الأمم والملوك . (الإدريسي - الطبري - اليعقوبي)
- ٨- كل ما يلي من العلوم الطبيعية التي اهتم بها المسلمين ما عدا علم . (الجغرافيا - الفلك - الرياضيات)
- ٩- أشهر علماء الفلك المسلمين . (ابن سينا - الخوارزمي - ياقوت الحموي)
- ١٠- عرف المسلمون في علم الطب . (العمليات الجراحية - التخدير - الاثنان معاً)

السؤال الرابع : صحح ما تحته خط :-

- ١- زادت حركة الترجمة في عهد الخلفاء الراشدين .
- ٢- ظهرت المدارس اللغوية في مصر .
- ٣- مؤلف كتاب معجم البلدان اليعقوبي .
- ٤- أوجد الهنود رقم الصفر .
- ٥- استخدم المسلمون خيوط من النباتات لخياطة الجروح .

السؤال الخامس : أكتب المصطلح العلمي :-

- ١- (-----) تحويل لغة الكتب من لغتها الأصلية إلى اللغة العربية .
- ٢- (-----) المصدر الثاني من مصادر التشريع الاسلامي بعد القرآن الكريم .
- ٣- (-----) الكلام الغير موزون .
- ٤- (-----) علم يدرس الماضي لفهم الحاضر والتنبؤ بالمستقبل .
- ٥- (-----) علم يدرس الأرض والظواهر البشرية والطبيعية والعلاقة بينهما .
- ٦- (-----) العلم الذي يبحث في النجوم والكواكب وحركاتها وموقعها .
- ٧- (-----) آلة لرصد حركة الكواكب والنجوم .

السؤال السادس : بم تفسر :-

١- أهمية الترجمة من اللغات الأجنبية إلى العربية .

السبب /

٢- اهتمام المسلمين بعلوم اللغة العربية .

السبب /

٣- رسم الإدريسي خريطة العالم .

السبب /

٤- اهتمام المسلمين بعلم الجغرافيا .

السبب /

٥- خص المسلمون علم الفلك باهتمام كبير .

السبب /

٦- اهتمام العرب بعلم الطب .

السبب /

٧- التواصل والانفتاح بين الحضارات في جميع الجوانب .

السبب /

السؤال السابع : ما النتيجة المترتبة على :-

١- دخول الكثير من غير العرب في الإسلام .

النتيجة /

٢- احتكاك المسلمين بالأوروبيين .

النتيجة /

السؤال الثامن : من أكون :-

١- () يعتبر من أشهر المترجمين في الطب .

٢- () يعتبر من أشهر المترجمين في الأدب والتاريخ .

٣- () دعا الكتاب المسلمين للتنافس في كتابة الشعر والأدب .

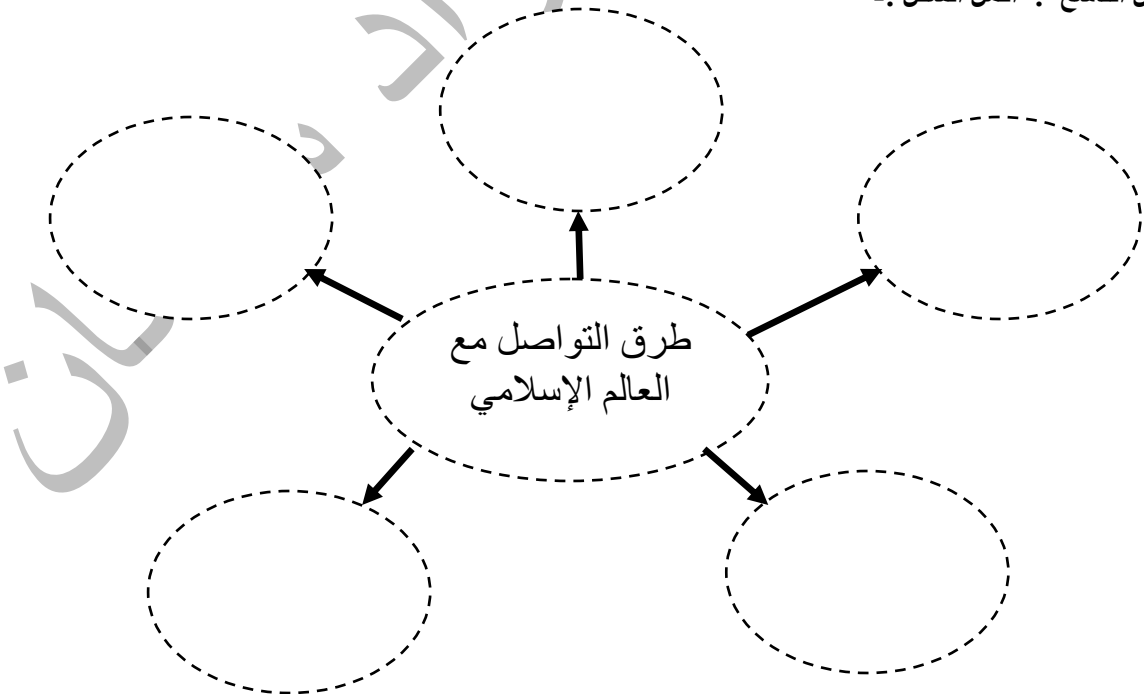
٤- () من أشهر علماء الحديث ومؤلف كتاب صحيح البخاري .

٥- () من أشهر علماء الحديث ومؤلف كتاب صحيح مسلم .

٦- () مؤسس الكتابة الفنية وواضع أصولها وقواعدها .

٧- () من أشهر علماء الطب العرب .

السؤال التاسع : أكمل الشكل :-



أسئلة على الوحدة الثانية انجازات الدولة الإسلامية من صفحة (٤٠) إلى صفحة (٧٣)
الدرس الخامس :- الانجازات الاقتصادية للدولة الإسلامية من صفحة (٦٩) إلى صفحة (٧٣)

السؤال الأول : أكمل الفراغات بالكلمات المناسبة :-

- ١- أهل الذمة هم ----- و ----- .
- ٢- زكاة العشر تدفع على المحاصيل الزراعية مثل ----- و ----- .
- ٣- تحلى التجار المسلمين بـ ----- و ----- في تعاملهم مع الآخرين .
- ٤- كان العرب يتعاملون بالدينار ----- والدرهم ----- .
- ٥- في عهد هارون الرشيد ضربت نقود تحمل اسم مدينة ----- .
- ٦- عمل المسلمون في الزراعة و----- و----- .

السؤال الثاني : ضع علامة (صح) أمام العبارة الصحيحة وعلامة (خطأ) أمام العبارة الخاطئة :-

- ١- () بعد اتساع الدولة الإسلامية زادت مواردها الاقتصادية .
- ٢- () كانت الدولة الإسلامية تدفع رواتب للمقاتلين .
- ٣- () الجزية تؤخذ من نساء أهل الذمة .
- ٤- () أقبل الناس في الدولة الإسلامية على التجارة .
- ٥- () وصل الإسلام إلى شرق ووسط إفريقيا عن طريق التجار .
- ٦- () لم يُقبل سكان إندونيسيا وماليزيا على تعلم اللغة العربية .
- ٧- () كانت رحلة الصيف التجارية إلى اليمن .
- ٨- () تاجر المسلمون مع بلاد الهند والصين .
- ٩- () عمل المسلمون على ضبط وزن و عيار النقود الإسلامية لمنع الغش .
- ١٠- () يشرف على دور الضرب في العصر العباسي وزير المالية .
- ١١- () بعد انشاء دور الضرب أصبح لدى التجار ثقة بالعملة الإسلامية .
- ١٢- () كانت الدولة الإسلامية تسك النقود في مناطق مختلفة .
- ١٣- () انتشرت صناعة السكر في العراق .

السؤال الثالث : اختر الإجابة الصحيحة مما بين القوسين :-

- ١- تنفق الدولة الإسلامية على (الفقراء والمساكين - الخدمات العامة - الاثنان معاً)
- ٢- كل ما يلي من المناطق التي وصلها الإسلام عن طريق التجار ما عدا (إسبانيا - إندونيسيا - ماليزيا)
- ٣- قام بتعريب النقود الخليفة (الوليد بن عبد الملك - عبد الملك بن مروان - هارون الرشيد)
- ٤- أوجد منصب ناظر السكة في العصر (الأموي - الراشدي - العباسي)
- ٥- يشرف ناظر السكة على (دور الضرب - تعريب النقود - بيت المال)
- ٦- كانت النقود تحمل اسم القدس في عهد الخليفة (هارون الرشيد - المأمون - الوليد بن عبد الملك)
- ٧- كانت صناعة عصر الزيتون وتجفيف الفواكه في (بلاد الشام - مصر - إيران)
- ٨- انتشرت صناعة الأقمشة والسجاد والحريز في (العراق - إيران - الاثنان معاً)
- ٩- انتشرت الدباغة والحداة والصيرفة والقصابة في (بلاد الشام - جميع أنحاء الدولة الإسلامية - العراق)

السؤال الرابع : صحح ما تحته خط :-

- ١- يُدفع لبيت مال المسلمين ربع الغنائم .
- ٢- كانت رحلة الشتاء التجارية إلى بلاد الشام .
- ٣- نقش على النقود الإسلامية عبارات باللغة البيزنطية .
- ٤- أوجد منصب ناظر السكة الخليفة عبد الملك بن مروان .
- ٥- حملت النقود الإسلامية المبكرة اسم الرملة .

السؤال الخامس : أكتب المصطلح العلمي :-

- ١- (-----) مقدار من المال يدفعه المسلم ويرد للفقراء .
- ٢- (-----) ضريبة تفرض على ما تنتجه الأرض الزراعية وتقدر حسب جودة الأرض .
- ٣- (-----) ما يحصل عليه المسلمون من الأعداء بقتال أثناء فتوحاتهم الإسلامية .
- ٤- (-----) مقدار من المال يؤخذ من أهل الذمة مقابل حمايتهم .
- ٥- (-----) ما يحصل عليه المسلمون من الأعداء دون قتال .
- ٦- (-----) ضريبة تُأخذ على كل ما يستخرج من باطن الأرض من معادن .
- ٧- (-----) زكاة تساوي عُشر الانتاج على بعض المحاصيل الزراعية .
- ٨- (-----) ضريبة تؤخذ على بضائع التجار غير المسلمين مقابل مرور تجارتهم داخ حدود الدولة الإسلامية .
- ٩- (-----) إصدار عملة خاصة بالمسلمين منقوش عليها عبارات باللغة العربية .

السؤال السادس : بم تفسر :-

١- زيادة الموارد الاقتصادية للدولة الإسلامية بعد توسعها .

السبب /

٢- تطور التجارة الداخلية والخارجية في الدولة الإسلامية .

السبب /

٣- إقبال المسلمين على التجارة .

السبب /

٤- إقبال سكان إندونيسيا وماليزيا وشرق ووسط إفريقيا على تعلم اللغة العربية .

السبب /

٥- عمل المسلمون على ضبط وزن و عيار النقود .

السبب /

٦- عدم وجود عملة وطنية فلسطينية .

السبب /

٧- أهمية وجود عملة وطنية .

السبب /

٨- قدوم أصحاب الحرف والصناعات من المناطق المجاورة للعالم الإسلامي .

السبب /

٩- أهمية الصناعة .

السبب /

السؤال السابع : ما النتيجة المترتبة على :-

١- اتساع الدولة الإسلامية ووفرة الحاصلات الزراعية وسيادة الأمن على الطرق .

النتيجة /

٢- تحلي التجار المسلمون بالصدق والأمانة في تعاملهم .

النتيجة /

٣- تعريب النقود وانتشار دور الضرب .

النتيجة /

٤- اختلاط المسلمين بأهالي البلاد المفتوحة .

النتيجة /

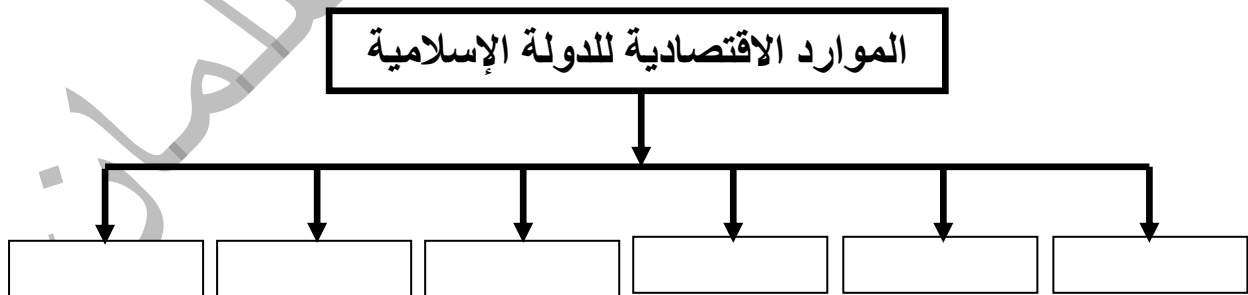
٥- قدوم أصحاب الحرف والصناعات من المناطق المجاورة إلى العالم الإسلامي .

النتيجة /

٦- انتشار الصناعة والحرف من المناطق المجاورة .

النتيجة /

السؤال الثامن : أكمل الشكل :-



أسئلة على الوحدة الثالثة المجتمع المدني من صفحة (٧٤) إلى صفحة (٨٩)

الدرس الأول :- مؤسسات المجتمع المدني من صفحة (٧٦) إلى صفحة (٨٢)

السؤال الأول : أكمل الفراغات بالكلمات المناسبة :-

- ١- تعمل مؤسسات المجتمع المدني من أجل تعزيز ----- ونشر ----- وتنمية وتطوير -----.
- ٢- من النقابات المهنية في المجتمع نقابة ----- ونقابة ----- ونقابة -----.
- ٣- تقدم منظمات المجتمع المدني خدمات اجتماعية للمواطنين في مجال ----- و ----- و -----.
- ٤- تعمل منظمات المجتمع المدني على محاربة -----.
- ٥- تقدم منظمات المجتمع المدني خدمات في مجال الزراعة من خلال ----- و ----- و -----.
- ٦- تعمل منظمات المجتمع المدني على محاربة الفقر من خلال تقديم المساعدات للأسر ----- و -----.
- ٧- تعزز منظمات المجتمع المدني مفاهيم ----- و ----- وقبول -----.

السؤال الثاني : ضع علامة (صح) أمام العبارة الصحيحة وعلامة (خطأ) أمام العبارة الخاطئة :-

- ١- () تعددت تعريفات المجتمع المدني .
- ٢- () تعمل مؤسسات المجتمع المدني في إطار الدولة .
- ٣- () تعمل مؤسسات المجتمع المدني لصالح المجتمع ككل أو لبعض فئاته المهمشة .
- ٤- () تعمل مؤسسات المجتمع المدني لصالح أفراد مهنة واحدة .
- ٥- () تشارك مؤسسات المجتمع المدني في العمل السياسي والمجتمعي .
- ٦- () الجمعيات والمؤسسات تقوم بإنشائها الحكومة .
- ٧- () المنظمات الدينية والخيرية مؤسسات مجتمع مدني .
- ٨- () تقوم مؤسسات المجتمع المدني بدور بديل عن الحكومة .
- ٩- () تقوم منظمات المجتمع المدني بدور الشريك الفاعل في تنشئة أبناء المجتمع ورعايتهم .
- ١٠- () النوادي الرياضية مؤسسات حكومية .
- ١١- () تحتل منظمات المجتمع المدني دور بارز في عملية التنمية .
- ١٢- () تمنع الحكومة مؤسسات المجتمع المدني من فتح العيادات الطبية والمستشفيات .
- ١٣- () تعمل منظمات المجتمع المدني على توعية الشباب الفلسطيني بحقوقهم الاجتماعية والحفاظ على هويتهم الوطنية .
- ١٤- () لا تهتم مؤسسات المجتمع المدني بقضايا المرأة والأطفال .
- ١٥- () تعمل مؤسسات المجتمع المدني على تأهيل الأطفال وتدريبهم على القيادة .
- ١٦- () ينتمي إلى مؤسسات المجتمع المدني أعضاء عديدون بغض النظر عن دينهم أو عرقهم أو لغتهم .

السؤال الثالث : اختر الإجابة الصحيحة مما بين القوسين :-

- ١- مؤسسات المجتمع المدني . (طوعية - غير ربحية - الاثنان معاً)
- ٢- كل ما يلي من النقابات العمالية ما عدا . (نقابة عمال المطابع - نقابة عمال البناء - نقابة الأطباء)
- ٣- من الجمعيات الخيرية . (جمعية الهلال الأحمر - الاتحاد العام للمرأة - نقابة العمال)
- ٤- من الهيئات الحقوقية . (الهيئة المستقلة لحقوق الإنسان - مؤسسة الحق من أجل القانون - الاثنان معاً)
- ٥- من الاتحادات النسائية في المجتمع .
- ٦- (الاتحاد العام لعمال فلسطين - الاتحاد العام للمرأة الفلسطينية - الاتحاد العام لطلبة فلسطين)
- ٧- كل ما يلي من الخدمات التعليمية التي تقدمها منظمات المجتمع المدني ما عدا . (فتح المدارس - تطعيم الأطفال - تنفيذ مشاريع وبرامج تربية)
- ٨- فتح رياض الأطفال ودور الحضانه وتدريب المعلمين من الخدمات . (التعليمية - الصحية - محاربة الفقر)
- ٩- من الخدمات الصحية التي تقدمها منظمات المجتمع المدني . (التطعيم - توفير الأدوية - الاثنان معاً)
- ١٠- من واجب الدولة تجاه مؤسسات المجتمع المدني . (معاضتها - رعاية وتسهيل عملها - وضعها تحت الرقابة الأمنية)
- ١١- أي من هذه المؤسسات تعتبر منظمات حكومية في فلسطين . (بيوت المسنين - النادي الأرثوذكسي - هيئة مقاومة الجدار والاستيطان)

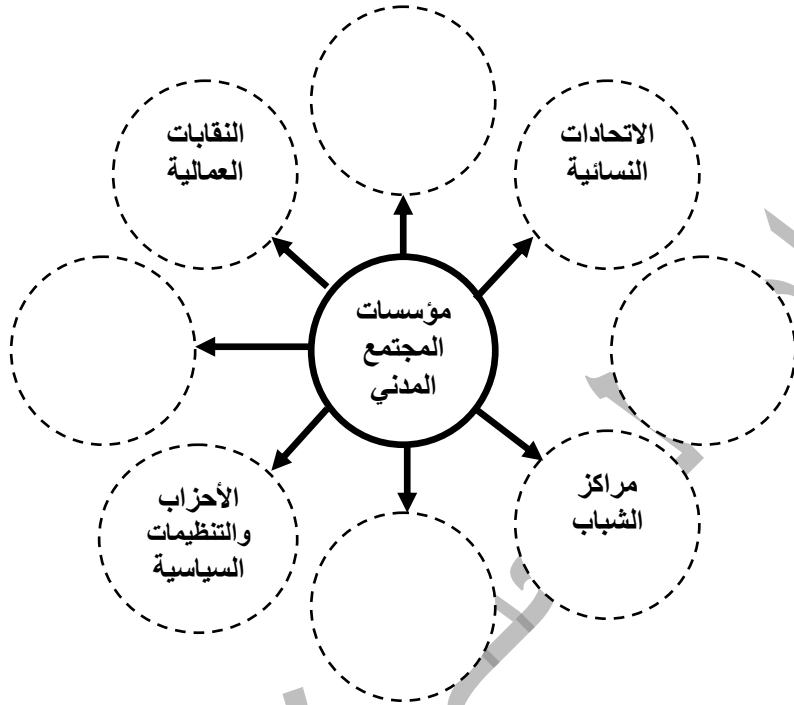
السؤال الرابع : أكتب المصطلح العلمي :-

- ١- (-----) جميع الهيئات والمنظمات التي تعمل في مجالات حياتية مختلفة .
- ٢- (-----) مجموعة من المنظمات والجمعيات والمؤسسات التي يقوم بإنشائها مجموعة من الأشخاص

السؤال الخامس : صحح ما تحته خط :-

- ١- تقوم مؤسسات المجتمع المدني بدور بديل عن الحكومة .
- ٢- الأحزاب والتنظيمات السياسية مؤسسات حكومية .
- ٣- تعمل مؤسسات المجتمع المدني على طمس الهوية الوطنية .
- ٤- تعمل مؤسسات المجتمع المدني على التمييز في مساعدة الناس .
- ٥- جمعية دار اليتيم العربي مؤسسة حكومية .

السؤال السادس : أكمل الخطة المفاهيمية التالية :-



السؤال السابع : بم تفسر :-

- ١- أهمية مؤسسات المجتمع المدني في تنمية وتطوير المجتمع .
السبب /
- ٢- عدم قدرة الحكومات على تحقيق التنمية الشاملة .
السبب /
- ٣- تعمل منظمات المجتمع المدني على توعية الشباب بحقوقهم والحفاظ على هويتهم الوطنية .
السبب /
- ٤- يجب على الحكومة رعاية مؤسسات المجتمع المدني وتسهيل عملها .
السبب /
- ٥- قيام مؤسسات المجتمع المدني بالاهتمام برعاية الشباب .
السبب /

السؤال الثامن : ما النتيجة المترتبة على :-

- ١- عمل مؤسسات المجتمع المدني في إطار مستقل عن الدولة .
النتيجة /
- ٢- استقلال مؤسسات المجتمع المدني عن القطاعين الحكومي والخاص من حيث المبدأ .
النتيجة /
- ٣- تراجع دور الحكومة في تقديم الخدمات للمواطنين .
النتيجة /
- ٤- اهتمام مؤسسات المجتمع المدني بذوي الاعاقة .
النتيجة /
- ٥- وجود منظمات المجتمع المدني في الدولة .
النتيجة /

السؤال التاسع : أكمل الجدول :-

الرقم	مؤسسات المجتمع المدني	أمثلة من مؤسسات المجتمع المدني
١	الجمعيات الخيرية	
٢	النقابات العمالية	نقابة العمال - نقابة عمال المطابع والنشر
٣	النقابات المهنية	
٤	الأحزاب والتنظيمات السياسية	
٥	الأندية الرياضية	نادي غزة الرياضي - نادي شباب دير البلح - نادي اتحاد الشجاعة
٦	الهيئات الحقوقية	
٧	الاتحادات النسائية	
٨	الاتحادات	

أسئلة على الوحدة الثالثة المجتمع المدني من صفحة (٧٤) إلى صفحة (٨٩)

الدرس الثاني :- قيم المجتمع المدني من صفحة (٨٣) إلى صفحة (٨٩)

السؤال الأول : أكتب المصطلح العلمي :-

- ١- (-----) مجموعة من المعايير والمبادئ التي نحكم من خلالها على السلوك المرغوب وغير المرغوب .
- ٢- (-----) مجموعة القيم التي تتعلق باهتمام الفرد بالأدب والفن والبحث والقراءة .
- ٣- (-----) القيم المستمدة من الدين وخاصة العقيدة والسلوك الفردي والجمعي .
- ٤- (-----) الحالة التي لا يخضع فيها الإنسان لقهر أو قيد .

السؤال الثاني : ضع علامة (صح) أمام العبارة الصحيحة وعلامة (خطأ) أمام العبارة الخاطئة :-

- ١- () القيم المشتركة بين المجتمعات تطبق بنفس الدرجة داخل المجتمعات .
- ٢- () القيم تعزز المساواة بين الناس بغض النظر عن الجنس أو الدين أو اللغة .
- ٣- () القيم متنوعة ومتكاملة وشاملة لمختلف مناحي الحياة .
- ٤- () الحرية والديمقراطية وسيادة القانون قيم وطنية .
- ٥- () احترام الرأي والرأي الآخر من القيم الاجتماعية .
- ٦- () لا يحق لأحد حرمان آخر من الحرية أو انقاصها أو تحديدها .
- ٧- () كما لكل شخص حق عليه أيضاً مسؤوليات يجب أن يلتزم بها .
- ٨- () الحرية تؤدي إلى الخوف من نشر المعلومات أو الادلاء بالتصريحات .
- ٩- () اشراك الشعب في صناعة القوانين والتشريعات يزيد من احساسهم بالمسؤولية .

السؤال الثالث : اختر الإجابة الصحيحة مما بين القوسين :-

- ١- كل ما يلي من أهمية تطبيق القيم والالتزام بها ما عدا (تعزيز المساواة - ضعف الروابط المجتمعية - إشاعة السلم الأهلي)
- ٢- من القيم الوطنية (حب الوطن - التضحية - الائتلاف معاً)
- ٣- احترام الرأي والرأي الآخر من القيم (السياسية - الاجتماعية - الوطنية)
- ٤- كل ما يلي من القيم الاجتماعية ما عدا (عدم الاسراف - التسامح - التكافل الاجتماعي)
- ٥- احترام الكرامة الإنسانية وتنمية روح الجماعة والاصلاح بين الناس من القيم (الثقافية - السياسية - الاجتماعية)
- ٦- من القيم الاقتصادية (عدم الاسراف - احترام العمل - الائتلاف معاً)
- ٧- العدالة في توزيع الثروات واحترام الوقت وتقدير العمل اليدوي من القيم (الاقتصادية - الدينية - الوطنية)
- ٨- اعتماد الحوار كوسيلة للتفاهم واستخدام البحث العلمي في تطوير جوانب الحياة من القيم (الدينية - الثقافية - السياسية)
- ٩- القيمة التي تعبر عن تخلي الإنسان عن مصالحه الشخصية من أجل الآخرين (التعاون - الحياء - الإيثار)
- ١٠- تكمن أهمية الحرية في (الإحساس بالمسؤولية - المساهمة في صناعة القوانين - الائتلاف معاً)

السؤال الرابع : أكمل العبارات بالكلمات المناسبة :-

- ١- توجد كونيّة مشتركة من القيم مثل ----- و ----- و ----- .
- ٢- النضال في سبيل حرية الوطن وتطوره والدفاع عنه من القيم ----- .
- ٣- الاهتمام بالتعليم والصدق والأخلاص والمواطنة المطلقة من القيم ----- .
- ٤- احترام العمل وتعزيز النزاهة واحترام الوقت قيم ----- .
- ٥- الإيمان بالله والعدل والمساواة من القيم ----- .

السؤال الخامس : صحح ما تحته خط :-

- ١- تشابه القيم من مجتمع لآخر .
- ٢- سيادة القانون والعدالة والشفافية قيم ثقافية .
- ٣- تحريم الغش في المعاملات التجارية ومحاربة الفساد قيم دينية .
- ٤- التسامح ونبذ العنصرية والتطرف من القيم السياسية .
- ٥- تطبيق العدالة يعمل على التمييز بين أفراد المجتمع .

السؤال السادس : بم تفسر :-

- ١- أهمية تطبيق القيم المدنية في المجتمع والالتزام بها .

السبب /

- ٢- تطمح جميع الشعوب في تحقيق العدالة .

السبب /

- ٣- أهمية الحرية .

السبب /

السؤال السابع : ما النتيجة المترتبة على :-

- ١- تطبيق القيم في المجتمع .

النتيجة /

- ٢- تمتع الإنسان الفلسطيني بالحرية .

النتيجة /

- ٣- مساهمة الشعب في صناعة القوانين والتشريعات .

النتيجة /

- ٤- تطبيق العدالة في المجتمع .

النتيجة /

السؤال الثامن : اختر من المجموعة (أ) ما يناسبها من المجموعة (ب) :-

- | | |
|-------------------|--------------------|
| (أ) القيمة | (ب) عكسها |
| ١- التعاون | () التعصب |
| ٢- التسامح | () المصلحة الخاصة |
| ٣- العمل التطوعي | () الصراع |
| ٤- المصلحة العامة | () الدكتاتورية |
| ٥- الديمقراطية | () العمل الجبري |