

ورقة عمل تقييمية في التربية الوطنية والحياتية - للصف الثاني الأساسي

شهر سبتمبر ( الفصل الأول ) العام الدراسي ٢٠٢١-٢٠٢٢م

الدروس / الوحدة الأولى

اسم الطالب/ة: ..... التقدير / .....

السؤال الأول: أضع إشارة (✓) أمام العبارة الصحيحة و إشارة x أمام العبارة الخاطئة:



١. ( ) بابور الكاز من الأدوات الحديثة.
٢. ( ) من الأمثال الشعبية "الجار قبل الدار"
٣. ( ) عدد ألوان علم فلسطين ستة ألوان.
٤. ( ) لون السهل على الخريطة أخضر.
٥. ( ) من الأدوات التراثية الزراعية المحراث والمذراة.
٦. ( ) يوجد المسجد الإبراهيمي في مدينة نابلس.

السؤال الثاني: أصل بين الصورة وما يناسبها:



قصر هشام

جبل جرزيم

مسجد قبة الصخرة

كنيسة البشارة

السؤال الثالث: أضع دائرة حول الإجابة الصحيحة مما بين القوسين:

- ١- يوجد الجامع الكبير في { الخليل - غزة - أريحا }
- ٢- من المواد التي يجذبها المغناطيس { قلم رصاص - دبابيس - مسطرة خشب }
- ٣- تسقط المواد على الأرض بفعل قوة { الدفع - السحب - الجاذبية }
- ٤- من الملابس التراثية للرجل { القمباز - الثوب - الجاكيت }

السؤال الرابع: أكمل النشيد بالكلمة المناسبة:



موطني موطني

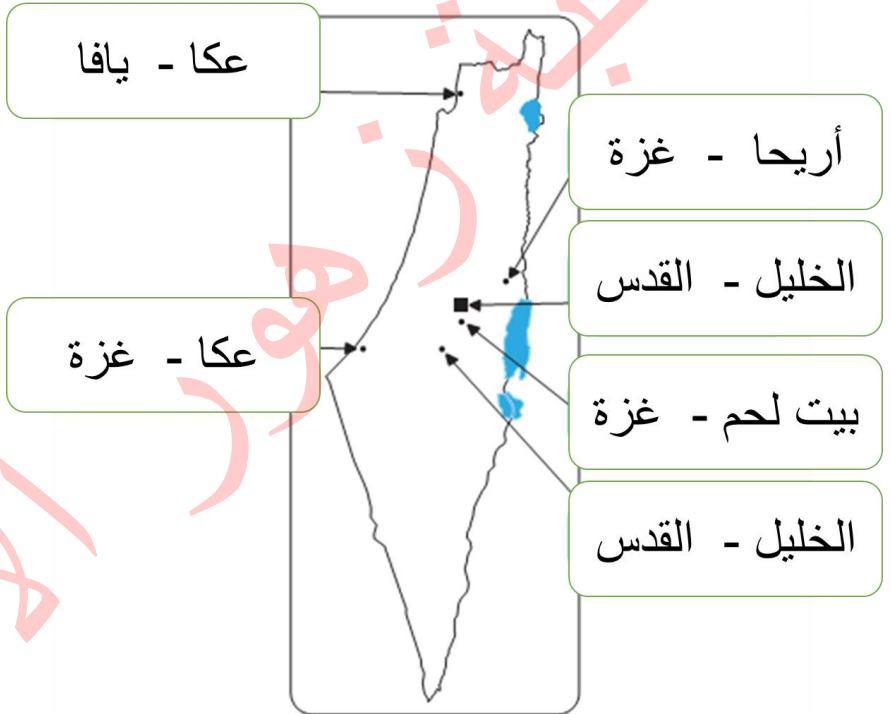
الجلال والجمال والسناء و \_\_\_\_\_

في رباك في \_\_\_\_\_

والحياة والنجاة والهناء و \_\_\_\_\_

في هواك في \_\_\_\_\_

السؤال الخامس: أختار اسم المدينة حسب السهم المشار إليها:



السؤال السادس: من أنا؟

إبريق فخار

سراج

طاحونة

١- أصنع من الصلصال، وأستخدم لحفظ الماء: \_\_\_\_\_

٢- أستخدم للإضاءة، ووقودي الكاز أو الزيت: \_\_\_\_\_

٣- أنا من الحجر، وأستخدم في طحن الحبوب: \_\_\_\_\_

أطيب الأمنيات بالنجاح والتميز

ورقة عمل تقييمية في التربية الوطنية والحياتية - للصف الثاني الأساسي

شهر سبتمبر ( الفصل الأول ) العام الدراسي ٢٠٢١-٢٠٢٢م

الدروس / الوحدة الأولى

اسم الطالب/ة: ..... التقدير / .....

السؤال الأول: أضع إشارة (✓) أمام العبارة الصحيحة و إشارة x أمام العبارة الخاطئة:



١. ( ) يوجد جامع الجزائر في مدينة عكا.
٢. ( ) لون المثلث في علم فلسطين أبيض.
٣. ( ) لون الصحراء على الخريطة أصفر.
٤. ( ) المذرة تستخدم في طحن الحبوب.
٥. ( ) من الأكلات الشعبية "المسخن"
٦. ( ) شد الحبل من أمثلة قوة الدفع.

السؤال الثاني: أصل بين الصورة وما يناسبها:



هاون

منجل

غريال

محرث

السؤال الثالث: أضع دائرة حول الإجابة الصحيحة مما بين القوسين:

- ١- من أمثلة قوة السحب { شد الحبل - الحجلة - المطر }
- ٢- يوجد جبل جرزيم في مدينة { القدس - نابلس - غزة }
- ٣- من المدن الفلسطينية { عكا - بيت لحم - الاثنتين معاً }
- ٤- لون البحر على الخريطة { أزرق - بني - بني }

السؤال الرابع: أكمل الفراغ بالكلمة المناسبة:

السحب - المقص - الجاذبية - الدفع





١- تتحرك الأجسام بفعل قوة \_\_\_\_\_ أو الدفع.

٢- يقوم المغناطيس بجذب \_\_\_\_\_

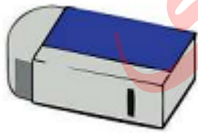
٣- يسقط المطر بفعل \_\_\_\_\_

٤- نغلق درج المكتب بفعل قوة \_\_\_\_\_

السؤال الخامس: أختار الإجابة الصحيحة حسب الصورة:

			
قمباز	قمباز	قوة سحب	قوة سحب
ثوب	ثوب	قوة دفع	قوة دفع

السؤال السادس: أصل الصورة بما يناسبها:



مواد لا يجذبها المغناطيس

مواد يجذبها المغناطيس

أطيب الأمنيات بالنجاح والتميز