

سلسلة بنك الامتحان

نماذج اختبارات

الثانوية العامة

للعام 2021-2022

لجميع المواد

الفرع الريادي

تطلب من مكتبة زهور الأقصى

واتس اب 0599739185



امتحان شهادة الدراسة الثانوية العامة  
لعام ٢٠٢١م - الدورة الأولى

اليوم: الخميس  
التاريخ: 2021/ 06 / 24م  
مدة الامتحان: ساعتان ونصف  
مجموع العلامات: ( 100 ) علامة

دولة فلسطين  
وزارة التربية والتعليم  
الإدارة العامة للقياس والتقويم والامتحانات  
الفرع: العلمي، الريادة والأعمال، التكنولوجي  
المبحث: اللغة العربية  
الورقة: -  
الجلسة: -

ملاحظة: عدد أسئلة الورقة (ثمانية) أسئلة، تتضمن أفرعاً اختيارية، يجيب المشترك حسب المطلوب

السؤال الأول: (20 علامة)

يتكوّن هذا السؤال من (10) فقرات من نوع اختيار من متعدد، من أربعة بدائل، اختر رمز الإجابة الصحيحة، ثم ضع إشارة (x) في المكان المخصص في دفتر الإجابة:

1. إلام ترمز كلمة (سيل) في قول أبي عبد الله في مسرحية "غروب الأندلس": "فإنه سيل طغي"؟  
(أ) العملاء والخونة. (ب) رؤوس العشائر. (ج) عامة الشعب. (د) جيش الإسبان.
2. ما معنى (المتشدقون)؟  
(أ) كثير الكلام تكلفاً. (ب) مدعو العلم. (ج) المنكبرون. (د) المتطاولون على الناس في الكلام.
3. في أيّ السجون تدور أحداث قصة "مرافعات أمام ضمير غائب"؟  
(أ) النقب. (ب) نفحة. (ج) هداريم. (د) تلموند.
4. على لسان من قيلت هذه العبارة في مسرحية (غروب الأندلس): "إن تفسد الرأس دبّ الـ فساد في الأوصال"؟  
(أ) ابن سراج. (ب) عائشة. (ج) أبي القاسم. (د) أبي عبد الله.
5. ما معنى (عقد) في عبارة: (رج شعبنا تحت الاحتلال عقوداً من الزمن)؟  
(أ) السقف المقوس. (ب) الاتفاق الموقع بين طرفين. (ج) ما تتزيّن به المرأة. (د) عشر سنوات.
6. أيّ عبارة من العبارات الآتية تعبّر عن استحالة نسيان الشاعر لمحبوبته ليلي؟  
(أ) يرسو بجفني حرمان يمص دمي. (ب) من لي بحذف اسمك الشفاف من لغتي. (ج) وأنت أيضاً ألا تبّت يداك. (د) لو كنتُ ذا ترف ما كنت رافضةً.
7. أيّ من العبارات الآتية وردت فيها كلمة (مساجد) ممنوعة من الصرف؟  
(أ) قال تعالى: (وإنما يعمر مساجد الله من آمن بالله واليوم والآخر). (ب) قال تعالى: (وإن المساجد لله فلا تدعوا مع الله أحدا). (ج) صلّيت في مساجد كثيرة. (د) زرت مساجد دمشق.
8. ما نوع (الواو) في قوله تعالى: (يا أيها الذين آمنوا لا تقربوا الصلاة وأنتم سكرى)؟  
(أ) حالية. (ب) عاطفة. (ج) استئنافية. (د) معية.
9. ما الموقع الإعرابي لـ (من) في جملة (من يفعل الخير لا يعدم جوازيه)؟  
(أ) اسم شرط مبني في محل رفع خبر. (ب) اسم شرط مبني في محل نصب مفعول به. (ج) اسم شرط مبني في محل رفع فاعل. (د) اسم شرط مبني في محل رفع مبتدأ.
10. ما الكلمة المناسبة عروضياً لملء الفراغ في البيت الشعري الآتي؟  
أقولُ لها وقد طازتُ شعاعاً \_\_\_\_\_  
من الأبطال ويحك لئن \_\_\_\_\_  
(أ) تذهبي. (ب) ثهاجري. (ج) تراعي. (د) تثارقي.

السؤال الثاني: (12 علامة)

يتكوّن هذا السؤال من ثلاثة أفرع (أ، ب، ج)، وعلى المشترك أن يجيب عن فرعين منها فقط.

(أ) اقرأ الآيات الآتية من (سورة يوسف)، ثم أجب عن الأسئلة التي تليها:

قال تعالى: " نَحْنُ نَقُصُّ عَلَيْكَ أَحْسَنَ الْقَصَصِ بِمَا أَوْحَيْنَا إِلَيْكَ هَذَا الْقُرْآنَ وَإِنْ كُنْتَ مِنْ قَبْلِهِ لَمِنَ الْغَافِلِينَ (3) إِذْ قَالَ يُوسُفُ لِأَيِّهِ يَا أَبَتِ إِنِّي رَأَيْتُ أَحَدَ عَشَرَ كَوْكَبًا وَالشَّمْسَ وَالْقَمَرَ رَأَيْتُهُمْ لِي سَاجِدِينَ (4) قَالَ يَا بَنِيَّ إِنِّي أَخُوتُكُمْ فَكَيْبِدُوا لَكُمْ كَيْدًا إِنَّ الشَّيْطَانَ لِلْإِنْسَانِ عَدُوٌّ مُبِينٌ (5) "

1. وصف الله - عزّ وجلّ - قصّة يوسف (عليه السلام) بأنها أحسن القصص لعدة أسباب، اذكر اثنين منها. (علامتان)
2. اذكر سبب نزول هذه السورة على سيدنا محمد (عليه الصلّاة والسلام). (علامة واحدة)
3. وردت في الآيات السابقة الكلمتان (أحسن؛ يوسف)، اكتب المعنى الصرفي للأولى، وإعراب الثانية. (علامتان)
4. علل: قال يعقوب لابنه يوسف (عليهما السلام): " لا تقصص رؤياك على إخوتك". (علامة واحدة)

(ب) اقرأ الفقرة الآتية من درس (القدس بوصلة ومجد)، ثم أجب عن الأسئلة التي تليها:

" يعبر القلب بؤابة المدينة كما يعبر العابد الخاشع تكبيرة الصلاة، وتسجد الزوج على بلاطها سجدتين، لكل ركن في الطريق عناق روح متلهفة، ومع كل حجر في البيوت والمحال على جانبي الطريق رباط مقدس".

1. رسمت الفقرة صورة جميلة للعلاقة بين العابد الخاشع والقدس، وضّح ملامح هذه الصورة. (علامتان)
2. اذكر ثلاثة من معالم القدس الواردة في درس (القدس بوصلة ومجد). (3 علامات)
3. وردت في الفقرة السابقة الكلمتان (سجدتين، المحال)، اكتب إعراب الأولى، والوزن الصرفي للثانية. (علامة واحدة)

(ج) اقرأ الفقرة الآتية من درس (البومة في غرفة بعيدة) لغسان كنفاني، ثم أجب عن الأسئلة التي تليها:

" سقطت الذكرى، بعد فترة، فاصلة مدوية صاخبة، فأورثتني دواراً مفاجئاً، والتمعت خلال الضباب المتكاثف كل الأشياء التي ذكرتها بها البومة المخيفة، ويذا لي أننا نعرف بعضنا جيداً".

1. وردت في الفقرة الكلمتان (مدوية، المتكاثف)، اكتب المعنى الصرفي للأولى، والمادة المعجمية للثانية. (علامتان)
2. وضّح الصورة الفنية في قول الكاتب (سقطت الذكرى). (علامة واحدة)
3. ما المعرفة بين غسان كنفاني والبومة؟ (علامة واحدة)
4. أين تكمن لحظة التأزم في القصة؟ (علامة واحدة)
5. اذكر مؤلفين من مؤلفات غسان كنفاني. (علامة واحدة)

السؤال الثالث: (15 علامة)

(أ) اقرأ النّصّ الآتي لمصطفى لطفى المنفلوطي، ثم أجب عن الأسئلة التي تليها:

" إنك لا تحتاج في بلوغك الغاية التي بلغها النابغون نفساً غير نفسك، لكنك في حاجة إلى نفس عالية كنفوسهم، وهمّة كهممهم، فغلوّ الهمة والفهم جناحان عظيمان يطير بهما المتعلم إلى سماء المجد والشرف، والعلم علمان: علم محفوظ، وعلم مفهوم، أما العلم المحفوظ، فيستوي صاحبه فيه مع الكتاب المرقوم، وأما العلم المفهوم، فهو الوسطة التي إذا جمع المتعلم بينها وبين غلوّ الهمة طار إلى المجد بجناحين".

1. وردت في النصّ الكلمتان: (الغاية، المرقوم) اكتب مرادف الأولى، والمعنى الصرفي للثانية. (علامتان)
2. ما الجناحان اللذان يطير بهما المتعلم إلى سماء المجد؟ (علامتان)
3. ما نوعا العلم كما ورد في الفقرة؟ وأيهما أنفع كما يرى الكاتب؟ (علامتان)
4. ما العلاقة بين كلمتي (المجد والشرف)؟ (علامة واحدة)
5. استخرج من النصّ أسلوب شرط. (علامة واحدة)

**تابع السؤال الثالث:**

(ب) من خلال دراستك لدروس المطالعة، أجب عن الأسئلة الآتية:

1. تطبيق أحداث مسرحية (غروب الأندلس) على واقعا في العصر الحاضر، وضّح ذلك. (علامتان)
2. بيّن النعيم الذي يحظى به الإنسان جزاء لحسن الخلق كما ورد في الحديث النبوي الشريف. (علامتان)
3. ارسم صورة الوطن كما يحلم به الأسير في قصة مرافعات أمام ضمير غائب. (علامتان)
4. وضّح التناصّ الوارد في العبارة الآتية: " تحملني السجون وهنأ على وهن". (علامة واحدة)

**السؤال الرابع: (10 علامات)**

**يتكوّن هذا السؤال من فرعين ( أ، ب )، وعلى المشترك أن يجيب عن فرع واحد منهما فقط.**

(أ) اقرأ الأبيات الآتية من قصيدة (أنا وليلى)، ثمّ أجب عن الأسئلة التي تليها:

خانتك عينك في زيف وفي كذب أم غزك البهرج الخذاع مولاتي  
فراشة جنت ألقى كُحل أجنحتي لديك فاحترقت ظلماً جناحتي  
أصبح والسيف مزروع بخاصرتي والغدر حطّم آمالي العريضات

1. وردت في النّص الكلمتان: (عينك، فراشة) اكتب إعراب الأولى، والمقصود بالثانية. (علامتان)
2. ما الذي حطّم آمال الشاعر؟ (علامتان)
3. وضّح الصورة الفنية في البيت الثالث. (علامتان)
4. حدّد بيتاً من الأبيات السابقة يدل على الفوارق الاجتماعية. (علامة واحدة)
5. اكتب ثلاثة أبيات تحفظها من قصيدة (وصية لاجئ). (3 علامات)

(ب) اقرأ الأسطر الشعرية الآتية من (رسالة إلى صديق قديم)، ثمّ أجب عن الأسئلة التي تليها:

سطورك في رسالتك الأثيرة | وتذلني الجمل  
لفها الخجل | تزيّن لي الرّحيل  
ثراودني الحروف ذليلة | كان لا يكفيك من رحلوا

1. ما مضمون الرسالة التي وجهها الصديق للشاعر؟ (علامتان)
2. ما العاطفة التي سيطرت على الشاعر في هذه الأسطر؟ (علامة واحدة)
3. وظف الشاعر أسلوب الحوار، ما أثر ذلك على جمال القصيدة؟ (علامتان)
4. وضّح جمال التصوير في قول الشاعر: "سطورك لفها الخجل". (علامتان)
5. اكتب ثلاثة أبيات تحفظها من قصيدة (وصية لاجئ). (3 علامات)

**السؤال الخامس: (9 علامات)**

(أ) اقرأ الأبيات الشعرية الآتية للشاعر (رشيد أيوب)، ثمّ أجب عن الأسئلة التي تليها:

يا غديراً جارياً بينَ الحـقول | في سكون اللّيل ما هذا الخير  
أنت تبكي مثل من يرعى العهود | أنت مثلي ما تلا الليل النهار  
إنّما أنت إلى البحر تسعود | وأنا هيهات عودي للدرار

1. عمّ يسأل الشاعر الغدير في البيت الأول؟ (علامة واحدة)
2. وازن الشاعر بين حاله وحال الغدير، ما أوجه الشّبه والاختلاف بينهما؟ (علامتان)
3. وضّح جمال التصوير في قول الشاعر: "أنت تبكي مثل من يرعى العهود". (علامة واحدة)
4. ما الفكرة العامة في الأبيات السابقة؟ (علامة واحدة)

(ب) قطع بيتاً واحداً من البيتين الآتيين، وأذكر تفعيلاته، وبحره العروضي:

1. بي مثل ما بكِ والأيام هاربة | تلممُ العمر لا تُبقي ولا تُدر  
2. وإن جنّ المساء فلا تراهم | من الإشفاق إلا ساجدينا

السؤال السادس: (9 علامات)

اقرأ الفقرة الآتية، ثم أجب عن الأسئلة التي تليها:

"إنّ الوطن غالي علينا، ولا يشك بذلك عاقل، وله حضارة عريقة يشهد لها القاصي والداني، فحافظوا على تاريخه، وكونوا قدوة يُهتدى بها، ولا تكونوا أداة لهدمه، وليكن حواركم وإعياً، ونقاشكم مجدياً، وتجنّبوا الجدل الهدام، فمن يتجنّبه فسيُدغم أوامر المحبة، وعالجوا مشكلاتكم بأسلوب راقٍ، لتصبح بلادنا أعظم رفعة، ولتكن وجهتكم في ذلك ما قاله الشاعر:  
لأستسهلنّ الصّعب أو أدرك المنى فما انقادت الآمال إلا لصابر."

(4 علامات)

1. استخرج من الفقرة:

- صفة ممنوعة من الصّرف مع ذكر السّبب.
- لا النّاهية.
- فعلاً مضارعاً مبنياً للمجهول.

(3 علامات)

2. أعرب ما تحته خطّ.

(علقتان)

3. بيّن نوعي (ما، الفاء) في كلّ من الآتي:

\* في ذلك ما قاله. \* فسيُدغم.

السؤال السابع: (10 علامات)

يتكوّن هذا السؤال من فرعين (أ، ب)، وعلى المشترك أن يجيب عن فرع واحد منهما فقط.

(6 علامات)

1. (أ) مثل لكل مما يأتي بجملة مفيدة، مع الضبط التام:

- \* صيغة منتهى الجموع مصروفة.
- \* من الاستفهامية.
- \* علماً مركباً تركيباً مزجياً.

(4 علامات)

2. صوّب الأخطاء النحوية الآتية:

- \* ما المتفهيقين؟
- \* لا تهمل؛ فتندم.

(4 علامات)

1. (ب) اقرأ الجمل الآتية، ثم أجب عن المطلوب أمام كلّ منها:

- \* يطيع والديه، يلقي رضا الله.
- \* وللحرية الحمراء باب.
- \* إنّ سليمان ذو مروءة، وكذلك برهان.
- \* كأن لا يكفيك من رحلوا.
- (اربط بين الجملتين بـ (من) الشرطية).
- (ما سبب صرف كلمة الحمراء؟).
- (استخرج ممنوعاً من الصرف واذكر السبب).
- (بيّن نوع لا).

(6 علامات)

2. أعرب ما تحته خطّ فيما يأتي إعراباً تاماً:

- \* قال تعالى: (وَالْفَجْرِ (1) وَلَيَالٍ عَشْرٍ (2)).
- \* قال تعالى: (وما تفعلوا من خير يعلمه الله).
- \* قال تعالى: (من ذا الذي يشفع عنده إلا بإذنه).
- \* الساكت عن الحقّ شيطانٌ أخرس.
- \* "ولا ترخّ السّماحة من بخيل".

**السؤال الثامن: (15 علامة)**

اكتب في واحد من الموضوعات الآتية:

1. قصة حول مضمون البيت الشعري الآتي: والبغي يصرغ أهله والظلم مرتعة وخيم.
2. الأمم القوية هي التي تحافظ على لغتها الأم، وتواجه التحديات التي تضعف من شأنها.
3. أجر حواراً بين أم وابنتها، تنتصر الأم فيه للكتاب، والابنة لوسائل التواصل الاجتماعي.

**انتهت الأسئلة**

مكتبة زهور الأقصى



## امتحان شهادة الدراسة الثانوية العامة لعام ٢٠٢١م - الدورة الأولى

اليوم: السبت

التاريخ: 26 / 06 / 2021م

مدة الامتحان: ساعتان ونصف

مجموع العلامات: (100) علامة

ملاحظة: عدد أسئلة الورقة (ثمانية) أسئلة، أجب عن (خمسة) منها فقط

القسم الأول: يتكون هذا القسم من (ستة) أسئلة، وعلى المشترك أن يجيب عن (أربعة) منها فقط، على أن يكون السؤال الأول (الموضوعي) منها إجبارياً.

### السؤال الأول: (20 علامة)

يتكون هذا السؤال من (10) فقرات من نوع اختيار من متعدد، من أربعة بدائل، اختر رمز الإجابة الصحيحة، ثم ضع إشارة (x) في المكان المخصص في دفتر الإجابة:

1. ماذا يُستدل من قول الرسول ﷺ (أنتم أعلم بأمر دنياكم)؟

(أ) أن كل ما أقر به الرسول ﷺ قابل للأخذ والرد.

(ب) أن ذلك الأمر يتعلق بالخبرات بالأمر الدنيوية البحتة.

(ج) أن الإيمان بالوحي الأساس في فهم السنة النبوية الشريفة.

(د) ضرورة جمع النصوص في الموضوع الواحد.

2. أي من الآتية حكمها مد لازم كلي مطلق؟

(أ) الصاخة. (ب) الآن.

3. في أي سورة نزلت براءة السيدة عائشة رضي الله عنها في حادثة الإفك؟

(أ) سورة التوبة. (ب) سورة الإسراء. (ج) سورة الثور. (د) سورة المؤمنون.

4. من القائل: "أيها الناس هذا يوم من أيام الله لا ينبغي فيه البغي ولا الفخر"؟

(أ) صلاح الدين الأيوبي. (ب) نور الدين زنكي.

(ج) العز بن عبد السلام. (د) نجم الدين أيوب.

5. ما أصل حرف المد في كلمة (إيمان)؟

(أ) همزة متحركة. (ب) همزة ساكنة.

6. ما الذي لا يُعد من ضوابط الجهاد في الإسلام؟

(أ) تحريم الخيانة والغدر.

(ب) تحريم قتل الرهبان.

(ج) سوء معاملة الأسرى.

(د) ما معنى "سبيل ثمره"؟

(أ) انتظره حتى صار سبلاً.

(ب) جففه حتى يحصد.

(ج) جعله في سبيل الله.

(د) صنع منه السنابل.

8. ما أشهر المصنفات في القرن الثاني الهجري؟

(أ) مسند الإمام أحمد بن حنبل.

(ب) سنن النسائي.

(ج) سنن أبي داود.

(د) موطأ الإمام مالك بن أنس.

9. ما الذي يُعد من آثار الإيمان على الفرد؟

(أ) الصبر وعدم الرضا.

(ب) الإصرار على الذنب.

(ج) استقامة السلوك.

(د) النصر والغلبة.

10. ما نوع الاستفهام في قوله تعالى: "وَمَنْ أَحْسَنُ مِنَ اللَّهِ حُكْمًا لِقَوْمٍ يُوقِنُونَ"؟

(أ) الإنكار. (ب) التوبيخ.

(ج) التأكيد. (د) النفي.

**السؤال الثاني: (20 علامة)**

- (أ) تدور قصة موسى عليه السلام مع الخضر على ثلاثة محاور عددها. (3 علامات)
- (ب) قارن بين اليمين اللغو والمنعقدة من حيث : (6 علامات)
1. المفهوم 2. حكمها 3. الكفارة
- (ج) اذكر مظاهر الشرك الأصغر أو الخفي. (5 علامات)
- (د) ما المعنى المستفاد من النصوص الشرعية الآتية : (6 علامات)
1. قال صلى الله عليه وسلم: " اكتب فوالذي نفسي بيده ما يخرج مني إلا الحق ".  
 2. قوله تعالى : " وَلَا تَمُوتُنَّ إِلَّا وَأَنْتُمْ مُسْلِمُونَ".  
 3. قوله صلى الله عليه وسلم: " يا بني فلان ... أنقذوا أنفسكم من النار ".  
 4. قوله تعالى : " أَفَحُكْمَ الْجَاهِلِيَّةِ يَنْعُونَ".  
 5. عندما سئل النبي صلى الله عليه وسلم عن أي ذنب أعظم قال : " أن تجعل الله نداً وهو خلقك".

**السؤال الثالث: (20 علامة)**

- (أ) اكتب الآيات الكريمة مما تقرر حفظه من قوله تعالى: "وَإِذْ قُلْنَا لِلْمَلَائِكَةِ اسْجُدُوا لِآدَمَ ... الثَّوَابُ الرَّحِيمُ" (4 علامات)
- (ب) اذكر شواهد تسامح القائد صلاح الدين الأيوبي . (3 علامات)
- (ج) فرق بيانياً بين المفردتين (تَسْتَطِيعُ / تَسْنِطُ) الواردتين في قوله تعالى: (6 علامات)
- "سَأَتَّبِعُكَ بِتَأْوِيلِ مَا لَمْ تَسْتَطِعْ عَلَيْهِ صَبْرًا" و " ذَلِكَ تَأْوِيلُ مَا لَمْ تَسْطِعْ عَلَيْهِ صَبْرًا".
- (د) أجب عما يأتي : (7 علامات)
1. ماهي آثار عدم الثقة في الدين؟  
 2. ما حكم الوفاء بالندب؟

**السؤال الرابع: (20 علامة)**

- (أ) عرّف المفاهيم والمصطلحات التالية : (5 علامات)
1. الثقة في الدين. 2. الإيمان. 3. اليمين. 4. سنن الله في المجتمعات. 5. المد الطبيعي.
- (ب) بيّن أقسام الحروف من حيث التثخين والترقيق مع مثال على كل نوع. (6 علامات)
- (ج) لم يشرع الجهاد في العهد المكي لحكم عديدة اذكرها. (4 علامات)
- (د) تعليم العلم من الأعمال التي لا ينقطع ثوابها بيّن ذلك مع التمثيل. (5 علامات)

**السؤال الخامس: (20 علامة)**

- (أ) وضّح الحالات التي يكون فيها الجهاد فرض عين. (3 علامات)
- (ب) بيّن الحكم الشرعي مع ذكر السبب أو الدليل. (6 علامات)
1. إسبال الثوب للرجال في ضوء الحديث الشريف (ثلاثة لا يكلمهم الله تعالى ولا ينظر إليهم...).
2. وقّف رجل في الشمس بنية التعبد .
3. أقسم رجل في شهادته أمام القاضي أن الأرض ليست لجاره .
- (ج) بيّن جهاد العزّ بن عبد السلام مع التتار . (5 علامات)
- (د) اشرح أقسام المد بسبب السكنون مع الأمثلة. (6 علامات)



**السؤال السادس: (20 علامة)**

- (أ) مثل على كل مما يأتي :
1. حالة يكون فيها الجهاد فرض كفاية .
  2. مراعاة النبي ﷺ لأحوال الناس .
  3. كرم وإحسان السيدة عائشة رضي الله عنها .
  4. الثمائم .
  5. الجوامع والسنن .
  6. التواضع في طلب العلم من قصة موسى عليه السلام مع الخضر .
- (ب) ما سبب نزول الآيات من سورة آل عمران : " يَا أَيُّهَا الَّذِينَ آمَنُوا إِن تَطِيعُوا فَرِيقًا مِّنَ الَّذِينَ أُوتُوا الْكِتَابَ "؟ (4 علامات)
- (ج) بيّن الحكمة من تعدد الشرائع. (4 علامات)
- (د) 1. من آثار الإيمان على الفرد العزة والشجاعة وضح ذلك مع الدليل. (3 علامات)
2. ما هي أسباب تميز السيدة عائشة رضي الله عنها في العلم والفقه؟ (3 علامات)

القسم الثاني: يتكون هذا القسم من سؤاليين وعلى المشترك أن يجيب عن أحدهما فقط.

**السؤال السابع: (20 علامة)**

- (أ) اكتب الآيات الكريمة مما تقرّر حفظه من قوله تعالى: " كَمَا أَرْسَلْنَا فِيكُمْ رَسُولًا ..... وَبَشِّرِ الصَّابِرِينَ " (5 علامات)
- (ب) قال تعالى: " وَمَا أَرْسَلْنَا مِن رَّسُولٍ إِلَّا بِلِسَانٍ قَوْمِهِ لِيُبَيِّنَ لَهُم فَيُضِلُّ اللَّهُ مَن يَشَاءُ وَيَهْدِي مَن يَشَاءُ وَهُوَ الْعَزِيزُ الْحَكِيمُ " . استخرج من الآيات الكريمة أحكام التّجويد الآتية: (5 علامات)
1. مد منفصل
  2. لأم لفظ الجلالة مفخمة
  3. راء مفخمة
  4. مد متصل
  5. مد عارض للسكون.
- (ج) بيّن معاني المفردات والتراكيب الآتية: (5 علامات)
1. مَحِيص
  2. ذرّوة ستام الإسلام.
  3. مِثْل
  4. حُقْبًا
  5. التّوَار.
- (د) علّل ما يأتي: (5 علامات)
1. شرع الجهاد في العهد المدني.
  2. تجريد الأحاديث النبوية وتمييزها عن غيرها في القرن الثالث الهجري.
  3. حرّم الله تعالى التّولة .
  4. لا ينبغي للمسلم أن يندهر بما يحقّقه أهل الباطل من علو وغلبة.

**السؤال الثامن: (20 علامة)**

- (أ) اكتب الآيات الكريمة من مما تقرّر حفظه من قوله تعالى: " وَاعْتَصِمُوا بِحَبْلِ اللَّهِ جَمِيعًا .. عَذَابٌ عَظِيمٌ " (5 علامات)
- (ب) بيّن معاني المفردات والتراكيب الآتية : (5 علامات)
1. حَبْلُ اللَّهِ .
  2. تكثير السّواد .
  3. يَسْمُونَكُمْ .
  3. صَدِيد .
  5. مُهْطَعِينَ .
- (ج) هات مثلاً على أحكام التّجويد الآتية: (5 علامات)
1. لام لفظ الجلالة مرفقة .
  2. مد لازم كلمي مثقل .
  3. مد منفصل .
  4. مد لين .
  5. راء مرفقة .
- (د) علّل ما يأتي : (5 علامات)
1. لا بد من دراسة المواقف من حياة النبي ﷺ .
  2. تُعد البدعة في العقيدة من أشد أنواع البدع .
  3. أعلم الخضر موسى عليه السلام أنه لن يكون له طاقة على مرافقته .
  4. آدم عليه السلام أحق بالخلافة من الملائكة .

انتهت الأسئلة



## امتحان شهادة الدراسة الثانوية العامة لعام 2021م - الدورة الثانية

اليوم: السبت  
التاريخ: 2021/08/21م  
مدة الامتحان: ساعتان ونصف  
مجموع العلامات: (100) علامة

دولة فلسطين  
وزارة التربية والتعليم  
الإدارة العامة للقياس والتقويم والامتحانات  
الفرع: جميع الفروع عدا الشرعي  
المبحث: التربية الإسلامية  
الورقة:  
الجلسة:

ملاحظة: عدد أسئلة الورقة (ثمانية) أسئلة، أجب عن (خمس) منها فقط

القسم الأول: يتكون هذا القسم من (سنة) أسئلة، وعلى المشترك أن يجيب عن (أربعة) منها فقط،  
على أن يكون السؤال الأول (الموضوعي) منها إجبارياً.

### السؤال الأول: (20 علامة)

يتكون هذا السؤال من (10) فقرات من نوع اختيار من متعدد، من أربعة بدائل، اختر رمز الإجابة الصحيحة، ثم ضع إشارة (×) في المكان المخصص في دفتر الإجابة:

- استثارت الآية الكريمة "أَفَلَا يَنْظُرُونَ إِلَى الْإِبْلِ كَيْفَ خُلِقَتْ" عقل الانسان للتفكير في:
  - أ) النَّفْس.
  - ب) عناصر الوجود.
  - ج) ما تشاهده العين من مخلوقات.
  - د) الأمور غير الظاهرة.
- في عهد من كان أول تدوين رسمي للسنة النبوية الشريفة؟
  - أ) أبي بكر الصديق.
  - ب) عمر بن الخطاب.
  - ج) صلاح الدين الأيوبي.
  - د) عمر بن عبد العزيز.
- ما المصطلح الدال على " الحلف دون قصد اليمين "؟
  - أ) اليمين الغموس.
  - ب) اليمين الكاذب.
  - ج) اليمين المنعقدة.
  - د) اليمين اللغو.
- أَيُّ من المعارك الآتية شارك فيها العزُّ بن عبد السلام وحضَّ النَّاسَ على القتال عام (658)هـ؟
  - أ) دمياط.
  - ب) عين جالوت.
  - ج) حطين.
  - د) بغداد.
- كم استغرق صلاح الدين الأيوبي في تحقيق الوحدة الإسلامية؟
  - أ) أكثر من 10 سنوات.
  - ب) أكثر من 5 سنوات.
  - ج) أقل من 10 سنوات.
  - د) ثمانية عشرة شهراً.
- ما حكم التَّوَلَّى في الإسلام؟
  - أ) الكراهة.
  - ب) الحرمة.
  - ج) الجواز.
  - د) الإباحة عند الحاجة.
- ما مقدار المدِّ في الجائر المنفصل؟
  - أ) حركتان جوازاً.
  - ب) (4-5) حركات وجوباً.
  - ج) (2-4-5) حركات جوازاً.
  - د) 6 حركات وجوباً.
- لِمَنِ الخِطَابُ فيما تحته خط من قوله تعالى: " وَكَيْفَ تَكْفُرُونَ وَأَنْتُمْ تُتْلَىٰ عَلَيْكُمْ آيَاتُ اللَّهِ وَفِيكُمْ رَسُولُهُ "
  - أ) أهل مكة.
  - ب) للأوس والخزرج.
  - ج) لليهود.
  - د) للمؤمنين في كل عصر.
- ما نوع المد في حرف اللام من ( الم )؟
  - أ) مد طبيعي.
  - ب) مد لازم حرفي متقل.
  - ج) مد لازم حرفي مخفف.
  - د) مد لازم كلمي متقل.
- ما المقصود بنص قطعي الدلالة:
  - أ) ما يحتمل أكثر من معنى.
  - ب) ما يفيد معنى واحد قطعي.
  - ج) ما ورد في القرآن الكريم وحده.
  - د) ما ورد تفصيله في السنة النبوية.

**السؤال الثاني: (20 علامة)**

- (أ) أكتب دليلاً شرعياً من القرآن الكريم أو السنة النبوية لكل من الآتية :
1. حديث يُحرم الكذب على الرسول ﷺ.
  2. لا يقبل إيمان من قال نأخذ بالقرآن الكريم ولا نأخذ بالسنة .
  3. حديث يُحرم الحلف بغير الله تعالى.
  4. تحريم الخمر تحريماً قطعياً.
  5. الشرك أعظم الذنوب.
- (ب) عرّف ما يأتي اصطلاحاً:
1. النذر.
  2. الجهاد.
  3. البدعة.
  4. الكتاب المنظور.
  5. التواكل.
- (ج) ما أثر جهود صلاح الدين الأيوبي في نشر العلم ؟
- (د) يتحقق ذكر الله تعالى بثلاث أمور بينها.

**السؤال الثالث: (20 علامة)**

- (أ) ما المعنى الشرعي المستفاد من النصوص الآتية :
1. قول النبي ﷺ لفاطمة : " غَيْرِ أَنْ لَكُمْ رَحماً سَابِلَهَا بِبِلَالِهَا " .
  2. قال تعالى : " قَالَا رَبَّنَا ظَلَمْنَا أَنفُسَنَا وَإِن لَّمْ تَغْفِرْ لَنَا وَتَرْحَمْنَا لَنَكُونَنَّ مِنَ الْخَاسِرِينَ " .
  3. قال تعالى : " وَلَوْ أَنَّ أَهْلَ الْقُرَىٰ آمَنُوا وَاتَّقَوْا لَفَتَحْنَا عَلَيْهِم بَرَكَاتٍ مِّنَ السَّمَاءِ " .
  4. قال تعالى : " وَلَنَبْلُوَنَّكُمْ بِشَيْءٍ مِّنَ الْخَوْفِ وَالْجُوعِ وَنَقْصٍ مِّنَ الْأَمْوَالِ وَالْأَنْفُسِ وَالثَّمَرَاتِ وَبَشِّرِ الصَّابِرِينَ " .
  5. قال تعالى : " فَسَجَدُوا إِلَّا إِبْلِيسَ أَبَىٰ وَاسْتَكْبَرَ وَكَانَ مِنَ الْكَافِرِينَ " .
- (ب) عدد خمسا من أسس وضوابط منهج التعامل مع نصوص القرآن الكريم والسنة الشريفة.
- (ج) أذكر أربعة أمور تدل على فضل التفقه في الدين.
- (د) هات مثالا واحداً لكل من الآتية :
1. الاختلاف المحمود.
  2. يمين مندوب.
  3. البدعة في العقيدة.
  4. موضع ورد فيه مد متصل ومنفصل معاً.
  5. مد لازم كلمي مخفف.
  6. الشرك الظاهر

**السؤال الرابع: (20 علامة)**

- (أ) ينقسم أهل الكتاب وفق علاقتهم بالمسلمين إلى قسمين وضحهما مبيناً كيفية التعامل مع كل قسم.
- (ب) بين الحكم الشرعي مع ذكر السبب أو الدليل.
1. طاف رجل حول الكعبة وجعل الحجر الأسود عن يمينه.
  2. وُصف الشهداء بالأموات.
  3. تاجر يكثر الحلف على السلع لبيعها .
- (ج) ما الحكمة في عدم فرض الجهاد في العهد المكي؟
- (د) خطاب القرآن الكريم للعقل من الأساليب التي ارتكز عليها في ترسيخ حقائق الإيمان وضح ذلك مع الدليل؟

**السؤال الخامس: (20 علامة)**

- (أ) وضح مقومات الإيمان.
- (ب) بين العبر المستفادة من قصة موسى ﷺ مع الخضر في مجال العلم والتعلم مع ذكر مثال لكل منها.
- (ج) من سنن الله في المجتمعات التغيير والاستبدال بين ذلك مع ذكر الدليل.
- (د) وضح أقسام البدع مع التمثيل على كل قسم.

### السؤال السادس: (20 علامة)

- (أ) بين الضوابط التي أوجب الإسلام على المقاتلين الالتزام بها. (5 علامات)
- (ب) ما هي ملامح وصفات السيدة عائشة \_ رَضِيَ اللهُ عَنْهَا \_ ؟ (5 علامات)
- (ج) فرق بين الجوامع والمسانيد من حيث التصنيف مع ذكر مثال على كل منها ؟ (4 علامات)
- (د) ما حكم التجويد في الأمثلة الآتية : (6 علامات)
1. صوّفَ. 2. ورائه. 3. أجزعنا أم صبرنا. 4. قوماً الله. 5. أودينا. 6. نوحياً.

القسم الثاني: يتكون هذا القسم من سؤالين وعلى المشترك أن يجيب عن أحدهما فقط.

### السؤال السابع: (20 علامة)

- (أ) أكتب الآيات الكريمة من قوله تعالى : ( يَا أَيُّهَا الَّذِينَ آمَنُوا اسْتَعِينُوا بِالصَّبْرِ ..... وَأُولَئِكَ هُمُ الْمُهْتَدُونَ ) (5 علامات)
- (ب) قال تعالى : " وَبَرَزُوا لِلَّهِ جَمِيعًا فَقَالَ الضُّعَفَاءُ لِلَّذِينَ اسْتَكْبَرُوا إِنَّا كُنَّا لَكُمْ تَبَعًا فَهَلْ أَنْتُمْ مُّعْتَدُونَ عَنَّا مِنْ عَذَابِ اللَّهِ مِنْ شَيْءٍ " استخرج من الآية الكريمة أحكام التجويد الآتية: (5 علامات)
1. راء مفخمة. 2. لام لفظ الجلالة مرققة. 3. ألف مفخمة. 4. مد متصل. 5. مد منفصل.
- (ج) وضح معاني المفردات والتراكيب الآتية : (5 علامات)
1. الحكمة. 2. رغداً. 3. شفا. 4. حزيه. 5. لا أبرح.
- (د) علل ما يأتي : (5 علامات)
1. استعلم الملائكة من ربه عن ايجاد خليفة في الأرض.
2. الاهتمام بالتدوين في نهاية القرن الأول الهجري.
3. منع أبناء عمرو بن الجموح والدهم من الخروج للقتال في غزوة بدر.

### السؤال الثامن: (20 علامة)

- (أ) أكتب الآيات الكريمة من قوله تعالى: ". يَا أَيُّهَا الَّذِينَ آمَنُوا إِن تَطِيعُوا فَرِيقًا..... هُمُ الْمُفْلِحُونَ ". (5 علامات)
- (ب) بين معاني المفردات والتراكيب الآتية : (5 علامات)
1. نفّس لك. 2. يستحيون نساءكم. 3. يُسيغة. 4. تشخص فيه الأبصار. 5. سربيلهم.
- (ج) قال تعالى : " وَإِذْ قَالَ مُوسَى لِقَوْمِهِ لِقَوْمِهِ اذْكُرُوا نِعْمَةَ اللَّهِ عَلَيْكُمْ إِذْ أَنْجَاكُمْ مِنْ آلِ فِرْعَوْنَ يَسُومُونَكُمْ سُوءَ الْعَذَابِ ". استخرج من الآية الكريمة أحكام التجويد الآتية : (5 علامات)
1. ألف مفخمة. 2. لام لفظ الجلالة مفخمة. 3. راء مرققة. 4. مد بدل. 5. مد متصل.
- (د) علل ما يأتي : (5 علامات)
1. كان للصحابه الكرام دور عظيم في تفسير القرآن الكريم والسنة النبوية الشريفة.
2. سمي العز بن عبد السلام بائع الأمراء.
3. يعد الرباط في سبيل الله من أفضل الأعمال التي يبقى ثوابها بعد موت صاحبها .
4. تجريد الأحاديث النبوية وتمييزها عن غيرها في القرن الثالث الهجري.
5. حذر الله تعالى عباده المؤمنين من طاعة المعادين من أهل الكتاب.

انتهت الأسئلة



## امتحان شهادة الدراسة الثانوية العامة لعام 2021م - الدورة الاستكمالية

الفرع: جميع الفروع عدا الشرعي

المبحث: التربية الإسلامية

الورقة:

الجلسة:

اليوم:  
التاريخ: 2021/ 12 /  
مدة الامتحان: ساعتان  
مجموع العلامات: (100) علامة

ملاحظة: عدد أسئلة الورقة (ثمانية) أسئلة، أجب عن (خمسة) منها فقط

القسم الأول: يتكون هذا القسم من (ستة) أسئلة، وعلى المشترك أن يجيب عن (أربعة) منها فقط، على أن يكون السؤال الأول (الموضوعي) منها إجبارياً.

### السؤال الأول: (20 علامة)

يتكون هذا السؤال من (10) فقرات من نوع اختيار من متعدد، من أربعة بدائل، اختر رمز الإجابة الصحيحة، ثم ضع إشارة (×) في المكان المخصص في دفتر الإجابة:

1. ما أول عمل أهتم به صلاح الدين الأيوبي في طريق تحرير بيت المقدس ؟

(أ) توحيد المسلمين. (ب) قتال الصليبيين. (ج) التفاوض مع الأعداء. (د) تثبيت النصر.

2. لم كان عليه الصلاة والسلام يخفف في صلاته إذا سمع بكاء الطفل ؟

(أ) حتى لا يشق على أمه. (ب) حتى لا يتعب الصبيان.

(ج) لأن صراخه يذهب الخشوع. (د) لكي لا يتعب الكهول.

3. ما معنى المفردة ( بمصركم ) :

(أ) يذيقونكم. (ب) بمغيثكم من العذاب. (ج) مسرعين. (د) تعب ومشقة.

4. ما الذي يُعد ذروة سنام الإسلام ؟

(أ) العمرة. (ب) الحج. (ج) الصلاة. (د) الجهاد.

5. ما مفهوم الحجاب لغة؟

(أ) يتعلق بالثياب. (ب) الإحتجاب بالمكان.

(ج) ستر المكان والثياب. (د) ستر العورة

6. ما المقصود بظني الدلالة في النصوص الشرعية :

(أ) ما يفيد معنى واحداً قطعياً.

(ب) ما يحتمل أكثر من معنى.

(ج) ما كان مصدره الإسرائيليّات. (د) ما كان في ظاهر النص تعارض.

7. ما الكلمة التي تتضمن حكم مد اللين :

(أ) النبيت. (ب) السحاب. (ج) ورأته. (د) أوحى.

8. من هم الصحابة الذين سمح لهم النبي ﷺ أن يكتبوا الأحاديث في صحائف خاصة بهم :

(أ) علي بن أبي طالب وأبي هريرة. (ب) أبو موسى الأشعري وأبي هريرة.

(ج) عبد الله بن عمرو بن العاص وجابر بن عبد الله. (د) عبد الله بن عمرو بن العاص وأبي هريرة.

9. ما الأثر الإيماني المترتب على استشعار رقابة الله تعالى :

(أ) الصبر والرضا. (ب) العزة والشجاعة. (ج) التضحية والبذل. (د) الاستقامة والانضباط.

10. أي من الآتي لا يُعد من أنواع الصدقة الجارية :

(أ) بناء المساجد. (ب) إكرام الضيف. (ج) حفر آبار المياه. (د) وقف ثمار الأشجار.

**السؤال الثاني: (20 علامة)**

- (أ) علّل ما يلي :
1. رفض العز بن عبد السلام تقبيل يد السلطان.
  2. الأخذ بتفسير الصحابة والسلف الصالح لا يعني الاكتفاء بما ورد عنهم من تفسير.
  3. التخصص في العلم الشرعي والتعمق فيه فرض كفاية.
  4. تقديم التلاوة على التزكية في قوله تعالى: "يَتْلُو عَلَيْكُمْ آيَاتِنَا وَيُزَكِّيكُمْ".
- (ب) هات دليلاً شرعياً على كل مما يأتي :
1. مشروعية اليمين.
  2. تحريم الإقامة على الأحوال وإصلاحها وترك الغزو.
  3. بز الوالدين.
  4. خاطب القرآن الكريم العقل، ثم لفت نظره إلى ما حوله من عناصر الوجود.
  5. رفع مكانة العلماء.
- (ج) وضح فضل الجهاد في سبيل الله تعالى مع ذكر الدليل الشرعي.

**السؤال الثالث: (20 علامة)**

- (أ) فرّق بين الجوامع والسُنن والمسانيد من حيث التطبيق مع ذكر مثال على كل واحد منها.
- (ب) هات مثال على كل مما يأتي :
1. مد جائز منفصل.
  2. يمين منعقدة حكمها مندوب.
  3. علاقة النبي ﷺ مع ربه.
  4. الشرك الأكبر.
  5. ما يندرج تحت قاعدة عامة أو دليل عام.
- (ج) فرق بين المد المتصل والمد اللين من حيث:
1. التعريف.
  2. سبب المد.
  3. حكمه.
  4. مقدار المد.

**السؤال الرابع: (20 علامة)**

- (أ) فرق بين الرقية الشرعية والرقية الشركية من حيث:
1. المفهوم.
  2. الحكم الشرعي.
  3. مثال على كل واحدة منها .
- (ب) عرّف ما يلي :
1. الإسبال المحرم.
  2. الإسرائيليات.
  3. الرياء.
  4. التفقه في الدين.
  5. سدّ الذرائع.
- (ج) ما ألقاب العز بن عبد السلام وسببها ؟

**السؤال الخامس: (20 علامة)**

- (أ) ما المعنى المستفاد من النصوص الشرعية الآتية :
1. قال تعالى : " ولا تلقوا بأيديكم إلى التهلكة " .
  2. قال تعالى : " إن هو إلا وحي يوحى " .
  3. حديث : " إن الرقى والتائم والتولة شرك " .
  4. قال تعالى : " اليوم أكملت لكم دينكم وأتممت عليكم نعمتي ... " .
  5. حديث : " ما ترك قوم الجهاد الأعمهم الله بالعذاب " .
- (ب) أنسب الكتب الآتية إلى أصحابها :
1. الموطأ.
  2. الجامع الصحيح .
  3. السنن.
  4. المسند.
  5. قواعد الأحكام في مصالح الأنام.
- (ج) تحلّى القائد صلاح الدين الأيوبي بصفات عظيمة عدّها ؟

**السؤال السادس: (20 علامة)**

- (أ) هات مثالاً على كل مما يلي :
1. كرم وزهد القائد صلاح الدين الأيوبي.
  2. علاقة النبي ﷺ - مع ربه.
  3. الجزء من جنس العمل.
  4. مدّ بدل.
- (ب) وضح آثار الإيمان على الفرد مع ذكر الأدلة ؟
- (ج) بين فضائل السيدة عائشة رضي الله عنها.
- (6 علامات)
- (8 علامات)
- (6 علامات)

القسم الثاني: يتكون هذا القسم من سؤالين وعلى المشترك أن يجيب عن أحدهما فقط.

**السؤال السابع: (20 علامة)**

- (أ) أكتب الآيات مما تقرر حفظه من قوله تعالى : " وَإِذْ قَالَ رَبُّكَ لِلْمَلَائِكَةِ..... كَانِ مِنَ الْكَافِرِينَ "
- (ب) بين معاني المفردات والتراكيب الآتية :
1. الكتاب.
  2. يفتوك.
  3. وإعتصموا بحبل الله.
  4. البوار.
  5. بسلطان.
- (ج) قال تعالى: " قَالَتْ لَهُمْ رُسُلُهُمْ إِنْ نَحْنُ إِلَّا بَشَرٌ مِثْلُكُمْ وَلَكِنَّ اللَّهَ يَمُنُّ عَلَىٰ مَنْ يَشَاءُ مِنْ عِبَادِهِ وَمَا كَانَ لَنَا أَنْ نَأْتِيَكُمْ بِسُلْطَانٍ إِلَّا بِإِذْنِ اللَّهِ "
- استخرج من الآية الكريمة أحكام التجويد الآتية:
1. مد طبيعي.
  2. لام لفظ الجلالة مفخمة.
  3. لام لفظ جلالة مرققة.
  4. مد متصل.
  5. مد منفصل.
- (5 علامات)
- (5 علامات)
- (10 علامات)

**السؤال الثامن: (20 علامة)**

- (أ) أكتب الآيات مما تقرر حفظه من قوله تعالى: " وَأَنْزَلْنَا إِلَيْكَ الْكِتَابَ بِالْحَقِّ ..... لِقَوْمٍ يُوقِنُونَ "
- (ب) بين معاني المفردات والتراكيب الآتية:
1. مهيمناً عليه.
  2. حُقبا.
  3. السنام.
  4. يزكّيكم.
  5. حبل الله.
- (ج) هات مثالاً لكل من الآتي :
1. مد لازم كلمي.
  2. مد لازم حرفي.
  3. حرف يفخم تارة ويرقق تارة أخرى.
  4. مد متصل واجب.
  5. مد عارض للسكون.
- (5 علامات)
- (5 علامات)
- (10 علامات)

انتهت الأسئلة



امتحان شهادة الدراسة الثانوية العامة  
لعام ٢٠٢١م - الدورة الأولى

اليوم: الأربعاء  
التاريخ: 2021/07/07  
مدة الامتحان: ساعتان ونصف  
مجموع العلامات: (100) علامة

دولة فلسطين  
وزارة التربية والتعليم  
الإدارة العامة للقياس والتقويم والامتحانات  
الفرع: جميع الفروع عدا العلمي والصناعي  
المبحث: تكنولوجيا المعلومات/ النظري  
الورقة: ---  
الجلسة: ---

يتكون هذا الامتحان من (ستة) أسئلة، وعلى المشترك أن يجيب عن (أربعة) منها فقط،  
على أن يكون السؤال الأول (الموضوعي) منها إجبارياً.

السؤال الأول: (40 علامة)


يتكون هذا السؤال من (20) فقرة من نوع اختيار من متعدد، من أربعة بدائل، اختر رمز الإجابة الصحيحة، ثم ضع إشارة (x) في المكان المخصص في دفتر الإجابة:

1. في برنامج الجداول الإلكترونية (MS-Excel)، ما الدالة المستخدمة لمعرفة أقل قيمة من بين مجموعة من القيم؟

(أ) Min (ب) Max (ج) Countlf (د) IF

2. في برنامج الجداول الإلكترونية (MS-Excel)، ماذا ينتج عن تقاطع العمود D مع الصف 5؟

(أ) الخلية 5D (ب) الخلية D5 (ج) الخلية D\*5 (د) الخلية 5\*D

3. في برنامج الجداول الإلكترونية (MS-Excel)، ما استخدام أداة  Function؟

(أ) التصفية (ب) الفرز (ج) الدالات الرياضية (د) الرسوم البيانية

4. في برنامج الجداول الإلكترونية (MS-Excel)، لتغيير لون الخط بشكل تلقائي حسب القيمة المدخلة نستخدم خاصية:

(أ) التنسيق الشرطي (ب) بيانات تلقائية (ج) التحقق من الصحة (د) التدقيق

5. في برنامج قواعد البيانات (MS-Access)، ما نوع العلاقة التي يتم تفكيكها باستخدام جدول وسيط؟

(أ) 1 - 1 (ب) 1 - ∞ (ج) ∞ - ∞ (د) 1 - ∞

6. في برنامج قواعد البيانات (MS-Access)، ماذا يطلق على (مجموعة من العناصر ذات العلاقة وذات المعنى الكامل)؟

(أ) سجل (ب) حقل (ج) ورقة عمل (د) ملف

7. أي من الحقول الآتية نوع بياناتها ليست من نوع نص؟

(أ) اسم الطالب (ب) العنوان (ج) العلامة (د) اسم المبحث

8. في برنامج الجداول الإلكترونية (MS-Excel)، من أي قائمة نختار الخيار (التحقق من صحة البيانات)؟

(أ) بيانات (ب) إدراج (ج) صيغ (د) عرض



9. أي من مواقع التواصل الاجتماعي الآتية، تتيح للمستخدم نشر أفكاره عن طريق تغريدات؟

Facebook (د) Twitter (ج) LinkedIn (ب) YouTube (أ)

10. كم عنواناً موجوداً في شبكة قناعها (255.255.255.0)؟

256 (د) 255 (ج) 1 (ب) 0 (أ)

11. أي من الأوامر الآتية يُستخدم لتتبع مسار رسالة من المصدر إلى الهدف؟

DNS (د) Ping (ج) Ipconfig (ب) Tracert (أ)

12. ماذا يُسمى تنسيق الرسالة في طبقة ربط البيانات؟

Data (ب) بيانات  
Frame (د) إطار  
Packet (أ) حزمة  
Segment (ج) قطعة

13. كم عدد الخانات الثنائية التي يتكون منها العنوان الفيزيائي؟

64 بت (د) 48 بت (ج) 32 بت (ب) 8 بت (أ)

14. أي من التالية يمكن اعتباره عنوان IP صحيح (IPv4)؟

192.268.2.5 (د) 200.12.30.77 (ج) A1.34.1.681 (ب) 192.861.200.1 (أ)

15. ما الأمر المستخدم لفحص الاتصال مع عنوان IP على الشبكة من خلال موجه الأوامر؟

Ipconfig/all (د) CMD (ج) Ping (ب) Tracert (أ)

16. ما النظام الذي يستخدم لتمثيل عنوان الـ MAC في أنظمة التشغيل؟

السادس عشر (د) العشري (ج) الثماني (ب) الثنائي (أ)

17. ما نظام العنونة الذي توفره الطبقة الثانية؟

المنطقي (د) الفيزيائي (ج) العشري (ب) الثنائي (أ)

18. ما مكافئ العدد  $_{16}(3AA)$  في النظام العشري؟

839 (د) 300 (ج) 938 (ب) 23 (أ)

19. ما أول موقع تواصل اجتماعي تم إنشاؤه؟

Google.com (د) Twitter.com (ج) classmates.com (ب) YouTube.com (أ)

20. من الذي أنشأ موقع الفيسبوك؟

مارك زوكربيرغ (د) ستيف جوبز (ج) بيل جيتس (ب) جاك دروسي (أ)

**السؤال الثاني: (20 علامة)**

(4 علامات)

(أ) أوجد قيمة كلاً مما يأتي:

(1) العدد  $16(B5)$  في النظام الثنائي.

(2) العدد  $2(1011010)$  في النظام السادس العشري.

(8 علامات)

(ب) تأمل النافذة الآتية، ثم أجب عما يأتي:

Wireless LAN adapter wireless network connect:

Connection-specific DNS Suffix: .

Link-local IPv6 Address . . . . . : fe80::e9b9:c23f:d19d:3836%12

IPv4 Address. . . . . : 192.168.0.100

Subnet Mask . . . . . : 255.255.255.0

Default Gateway . . . . . : 192.168.0.1

1

2

C:>

(1) ما عنوان IP للجهاز؟

(2) على ماذا يدل السطر المشار إليه بالرقم (1)؟

(3) ما وظيفة ما يشير إليه الرقم (2)؟

(4) ما الأمر الذي أظهر النافذة أعلاه من خلال موجه الأوامر (CMD)؟

(4 علامات)

(ج) ما المقصود بحماية البيانات في الجداول الالكترونية؟ عدد مستويات الحماية في الجداول الالكترونية.

(4 علامات)

(د) عدد أربعة من مميزات مواقع التواصل الاجتماعي.

**السؤال الثالث: (20 علامة)**

(4 علامات)

(أ) ما الفرق بين العنوان المنطقي والعنوان الفيزيائي؟

(8 علامات)

(ب) من خلال دراستك لبرنامج اكسل، تأمل الجدول الالكتروني الآتي، ثم أجب عن الاسئلة التي تليه:

كشف علامات				
المبحث	الفصل الأول	الفصل الثاني	المعدل	النتيجة
التربية الإسلامية	88	86		
اللغة العربية	65	77		
رياضيات	78	80		
اللغة الإنجليزية	40	38		
تنشئة	89	88		
المجموع				

(1) ما اسم الخلية التي تحتوي على مبحث (اللغة العربية)؟

(2) اكتب المعادلة اللازمة لحساب (المعدل) لمبحث (التربية الإسلامية).

(3) اكتب المعادلة اللازمة لحساب مجموع علامات الفصل الأول.

(4) اكتب المعادلة اللازمة لإظهار كلمة Success أو Fail في عمود (النتيجة) لمبحث (التربية الإسلامية)، (إذا كان المعدل أكبر من أو يساوي 50 يكون Success وإلا يكون Fail).

(4 علامات)

(ج) كيف يقوم المحول Switch بتعبئة جدول عناوين MAC؟

(4 علامات)

(د) عدد أربعة من الآثار السلبية لمواقع التواصل الاجتماعي.

**السؤال الرابع: (20 علامة)**

(6 علامات)

(أ) هذا المقصود بكل من الآتية: المصنف، لينكد إن LinkedIn ، بطاقة واجهة الشبكة NIC  
(ب) تمنع الجدول الإلكتروني الآتي الخاص بإحصائيات الإصابات بفيروس كورونا المستجد COVID-19،  
ثم أجب عن الأسئلة التي تليها :

(10 علامات)

	G	F	E	D	C	B	A
المحافظات			شهر 3	شهر 2	شهر 1		
الشمالية			8000	10000	15000		
الوسطى			16000	12000	10000		
الجنوبية			7000	15000	12000		
مجموع الإصابات العام							
المعدل العام للإصابات							
أعلى مجموع إصابات							
أدنى مجموع إصابات							

(1) اكتب المعادلات التي يمكن من خلالها إيجاد:

(أ) مجموع إصابات المحافظات الجنوبية.

(ب) معدل إصابات المحافظات الشمالية.

(ج) أعلى مجموع للإصابات في المحافظات.

(د) أدنى مجموع للإصابات في المحافظات.

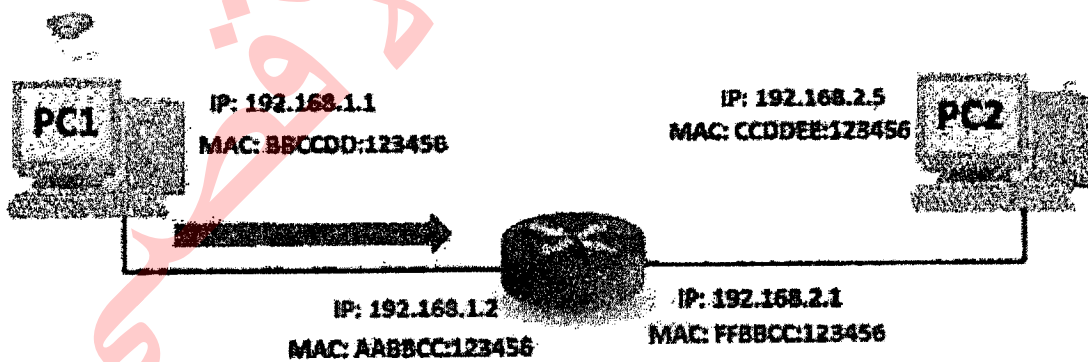
(2) اكتب اسماء خليتين مدمجتين

(ج) ما عنوان MAC؟ وكيف تحصل عليه أجهزة الشبكة؟

(4 علامات)

**السؤال الخامس: (20 علامة)**

(أ) تأمل الشكل الآتي الخاص بإرسال رسالة من الجهاز PC1 إلى الجهاز PC2، ثم أجب عن الأسئلة التي تليه: (7 علامات)



(1) اشرح كيف سيكون مسار الرسالة من الجهاز PC1 إلى واجهة الوجه المحلي؟

(2) إذا علمت أن قناع الشبكة للجهاز الأول (255.255.255.0)؛ فما عدد خانات الجزء الخاص بالشبكة، وما عدد خانات الجزء الخاص بعنوانين الأجهزة.

(ب) لديك البيانات الآتية (B846FA1043D7)، مثل هذه البيانات بالصيغ الثلاث لعنوان فيزيائي (MAC). (3 علامات)

(ج) أذكر مراحل تصميم قواعد بيانات. (5 علامات)

(د) عدد خمسة من استخدامات مواقع التواصل الاجتماعي. (5 علامات)

**السؤال السادس: (20 علامة)**

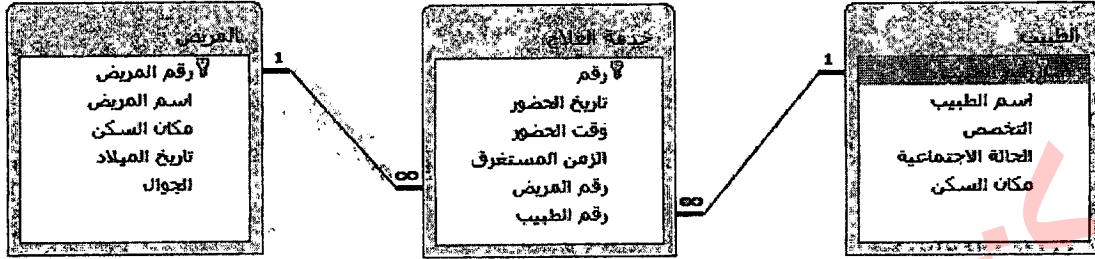
(3 علامات)

أ) حول العدد  $10^{150}$  إلى مكافئه بالنظام السادس عشر.

ب) من خلال دراستك لبرنامج قواعد البيانات (MS-Access)، تأمل الجداول الآتية من قاعدة بيانات (عيادة)، ثم أجب

(7 علامات)

عما يأتي:



1) حدّد المفاتيح الأساسية مع ذكر اسم الجدول الموجود فيه كل مفتاح.

2) حدّد المفاتيح الأجنبية مع ذكر اسم الجدول الموجود فيه كل مفتاح.


3) ما نوع العلاقة بين جدول الطبيب وجدول المريض؟

4) حدّد نوع البيانات المناسب للحقل (اسم الطبيب).

ج) في الشكل الآتي يتم توجيه رسالة بين جهازين في شبكتين مختلفتين حيث يحتوي الموجه على منفذين أحدهما ينتمي

للشبكة الأولى والآخر ينتمي للشبكة الثانية. وضّح كيف سيكون مسار الرسالة من الجهاز (1) إلى الجهاز (2) عبر الموجه

(6 علامات)



(4 علامات)

د) لمواقع التواصل الاجتماعي دور كبير في مجالات الحياة، عدد أربعا من هذه المجالات.

**انتهت الأسئلة**



## امتحان شهادة الدراسة الثانوية العامة لعام ٢٠٢١م - الدورة الثانية

اليوم: الخميس  
التاريخ: 2021/08/19م  
مدة الامتحان: ساعتان ونصف  
مجموع العلامات: (100) علامة

دولة فلسطين  
وزارة التربية والتعليم  
الإدارة العامة للقياس والتقويم والامتحانات  
الفرع: جميع الفروع عدا العلمي والصناعي  
المبحث: تكنولوجيا المعلومات  
الورقة: ---  
الجلسة: ---

ملاحظة: عدد أسئلة الورقة (ثمانية) أسئلة، أجب عن (خمس) منها فقط

يتكون الامتحان من (ستة) أسئلة، وعلى المشترك أن يجيب عن (أربعة) منها فقط،  
على أن يكون السؤال الأول (الموضوعي) منها إجبارياً.

### السؤال الأول: (40 علامة)

يتكون هذا السؤال من (20) فقرة من نوع اختيار من متعدد، من أربعة بدائل، اختر رمز الإجابة الصحيحة، ثم ضع إشارة (x) في المكان المخصص في دفتر الإجابة:

1. ماذا يطلق على العمود في الجدول في قواعد البيانات؟

(أ) سجل (ب) بيانات (ج) حقل (د) معلومات

2. ما التبويب الذي يتم من خلاله إختيار الأمر علاقات لإنشاء رابطة بين الجداول في برنامج الآكسس؟

(أ) الصفحة الرئيسية (ب) أدوات قواعد البيانات (ج) بيانات خارجية (د) إنشاء

3. ما المفتاح الذي يستخدم لإنشاء العلاقة بين جدولين في قاعدة البيانات؟

(أ) المفتاح المرشح (ب) المفتاح المركب (ج) المفتاح المطلق (د) المفتاح الاجنبي

4. ما الإجراء لتأمين جميع الخلايا في ورقة عمل واحدة؟

(أ) حماية خلايا غير محددة (ب) حماية ورقة العمل (ج) حماية المصنف (د) حماية خلايا محددة

5. ما الجزء الأساسي في قاعدة البيانات؟

(أ) الجداول (ب) النماذج (ج) الاستعلامات (د) التقارير

6. ما المجال الذي يتيح للأفراد معرفة ما يجول حولهم دون أدنى جهد في مواقع التواصل؟

(أ) التعليمي (ب) الترفيهي (ج) التجاري (د) الإعلامي

7. ما التبويب الذي من خلاله نقوم بالتحقق من صحة البيانات؟

(أ) بيانات (ب) إدراج (ج) عرض (د) ملف

8. ماذا يطلق على اسم الملف في برنامج الجداول الالكترونية (إكسل)؟

(أ) صفحة (ب) جدول (ج) مصنف (د) مستند

9. ما قطاع الشبكة الأنسب إذا أردنا الحصول على عناوين IP تكفي لـ 305 جهاز حاسوب؟

(أ) 255.255.255.0 (ب) 255.255.0.0 (ج) 256.0.0.0 (د) 255.255.255.1

10. ماذا تعني هذه الأداة  في برنامج الآكسس (MS-Access)؟

(أ) إظهار صورة (ب) إظهار استعلام (ج) إظهار جدول (د) إظهار النموذج

11. للتحويل من النظام الثنائي إلى السادس عشر، نقسم العدد الثنائي إلى مجموعات ذات خانات ..... .

(أ) ثنائية (ب) رباعية (ج) سداسية (د) ثمانية

12. أي من هذه الممارسات تعد غير آمنة عند استخدام مواقع التواصل الاجتماعي؟

(أ) نشر فيديوهات تعليمية (ب) مشاركة بطاقات المعايدة

(ج) التحقق من الأفراد قبل إقامة صداقة معهم (د) نشر صور العائلة

13. ماذا يسمى تنسيق الرسالة في الطبقة الثالثة (طبقة الشبكة)؟

(أ) إطار (ب) قطعة (ج) حزمة (د) بايت

14. ما شكل الشبكة المحلية الذي يقوم المحول (Switch) بربط أجهزتها؟

(أ) نجمية (ب) حلقة (ج) خطية (د) مستطيلة

15. كم بت يتكون منه عنوان الـ IPv4؟

(أ) 16 (ب) 28 (ج) 32 (د) 48

16. في برنامج الجداول الإلكترونية (MS-Excel)، ما الدالة المستخدمة لحساب عدد الخلايا التي تحتوي على بيانات؟

(أ) CountC (ب) Count (ج) Countlf (د) CountA

17. ما مكافئ العدد السادس عشري  $(6C)_{16}$  في النظام الثنائي؟

(أ) 1101011 (ب) 1111010 (ج) 1101111 (د) 1101100

18. أي الأوامر الآتية يُستخدم لفحص الاتصال مع عنوان IP على الشبكة؟

(أ) Ping (ب) Ipconfig/all (ج) Tracert (د) Ipconfig

19. ما اسم موقع التواصل الاجتماعي الذي أنشأه مارك زوكربيرغ في عام 2004؟

(أ) تويتر Twitter (ب) يوتيوب YouTube

(ج) لينكد إن LinkedIn (د) فيس بوك Facebook

20. ما نوع العلاقة بين جدولين، إذا كان كل سجل في الجدول الأول مرتبط بسجل واحد في الجدول الثاني والعكس صحيح؟

(أ) 1:1 (ب) ∞:1 (ج) ∞:∞ (د) 1:∞

**السؤال الثاني: (20 علامة)**

- (أ) وضح المقصود بكلٍ من المصطلحات الآتية:  
التنسيق الشرطي ، بطاقة واجهة الشبكة ، موقع لنكد إن Linked In (6 علامات)
- (ب) عدد ثلاثاً من صفات التصميم الجيد لقواعد البيانات. (6 علامات)
- (ج) قارن ما بين نظامي العنونة المنطقي (IPv4) و الفيزيائي (Mac) وفقاً للمعايير:  
عدد الثنائيات المكونة له، النظام العددي المستخدم لتمثيله. (4 علامات)
- (د) ما قيمة كلاً مما يأتي:  
1- العدد  $(A69)_{16}$  في النظام العشري.  
2- العدد  $(1011110101011)_2$  في النظام السادس عشري. (4 علامات)

**السؤال الثالث: (20 علامة)**

- (أ) علل ما يلي:  
1- كسر علاقة متعدد لمتعدد لعلاقتين من نوع واحد لمتعدد في قواعد البيانات.  
2- تُعدّ مواقع التّواصل الاجتماعي من أكثر المواقع الإلكترونية استخداماً.  
3- نحتاج لكل من العنونة الفيزيائية والمنطقية في شبكة الحاسوب. (6 علامات)
- (ب) من خلال دراستك لبرنامج الجداول الإلكترونية (MS-Excel)، تأمل الجدول الإلكتروني الآتي، ثمّ أجب عن الاسئلة التي تليه:  
(8 علامات)

G	F	E	D	C	B	A	
							1
							2
		6%	600	نور	محمد		3
		4%	450	جميل	خالد		4
		7%	700	خالد	جمال		5
		5%	500	نجار	جميل		6
	مجموع الراتب النهائي			أعلى راتب نهائي			7

- 1- اكتب المعادلة لإيجاد قيمة الضريبة لمحمد نور إذا علمت أن حساب قيمة الضريبة = الراتب قبل الضريبة X نسبة الضريبة.  
2- اكتب المعادلة لإيجاد قيمة الراتب النهائي لمحمد نور إذا علمت أن حساب الراتب النهائي = الراتب قبل الضريبة - قيمة الضريبة.  
3- اكتب المعادلة لإيجاد مجموع الراتب النهائي.  
4- اكتب المعادلة لإيجاد أعلى راتب نهائي.  
(ج) ما هو عنوان IP؟ وكيف يحصل الجهاز عليه؟ (4 علامات)  
(د) وضح كيف ساهمت مواقع التواصل الاجتماعي في التعليم. (علامتان)

### السؤال الرابع: (20 علامة)

(أ) من خلال دراستك لبرنامج قواعد البيانات (MS-Access).


تأمل الجداول الآتية من قاعدة بيانات (مكتب هندسي)، ثم أجب عما يليه:

المشروع				
رقم المشروع	اسم المشروع	تاريخ التأسيس	العنوان	التكلفة الاجمالية
222	بناء عيادة صحية	12/4/2010	نابلس	250,000.00
333	بناء مدرسة	11/5/2012	بيت لحم	260,077.00
444	تعميد طرق	14/6/2011	جنين	101,222.00
555	تمديد مجاري صحية	15/7/2013	سلفيت	70,000.00

مشروع قسم	
رقم القسم	رقم المشروع
101	444
102	222
102	333
103	555

قسم	
رقم القسم	اسم القسم
101	هندسة الطرق
102	هندسة معمارية
103	هندسة صحية
104	هندسة مدنية

1. حدّد المفاتيح الرئيسية في كل جدول، مع ذكر اسم الجدول لكل مفتاح. (3 علامات)
  2. حدّد المفاتيح الأجنبية في قاعدة البيانات السابقة، مع ذكر اسم الجدول لكل مفتاح. (علامتان)
  3. ما نوع العلاقة بين جدول القسم و جدول المشروع؟ (علامتان)
  4. هل يوجد مفتاح مركب؟ إذا كانت الإجابة بنعم فما هو؟ وفي أي جدول؟ (علامتان)
- (ب) أذكر أربعة من الآثار الإيجابية لمواقع التواصل الاجتماعي؟ (4 علامات)
- (ج) أراد محمد أن يرسل رسالة إلى خالد عبر الشبكة، فإذا علمت أن قطاع الشبكة لكلا الجهازين الخاصين بهما هو (255.255.255.0)، أجب عن الأسئلة الآتية: (5 علامات)



1. ما اسم الجهاز الذي يربط بين جهاز محمد وخالد؟
  2. كم عدد الأجهزة التي يمكن ربطها بالشبكة التي ينتمي لها جهاز خالد؟
  3. ما هو عنوان الشبكة التي ينتمي لها جهاز محمد؟
  4. هل جهاز محمد وخالد على نفس الشبكة، مع التوضيح؟
- (د) ما قيمة  $10(189)$  في النظام السادس عشر؟ (علامتان)

### السؤال الخامس: (20 علامة)

(أ) من خلال دراستك لبرنامج قواعد البيانات (MS-Access).

تأمل الجداول الآتية من قاعدة بيانات (دار نشر)، ثم أجب عما يليه:

المؤلف
رقم المؤلف
اسم المؤلف
العنوان

التأليف
الرقم التسلسلي
رقم الكتاب
رقم المؤلف
تاريخ النشر

الكتاب
رقم الكتاب
اسم الكتاب
الوصف
دار النشر

1. ما هي المفاتيح الأساسية في الجداول، مع ذكر اسم الجدول لكل مفتاح؟ (3 علامات)
2. حدّد المفاتيح الأجنبية إن وجدت، مع ذكر اسم الجدول لكل مفتاح. (علامتان)
3. ما هي الجداول المرتبطة بعلاقات مع تبيان نوع العلاقة؟ (علامتان)
4. ما نوع بيانات الحقول (دار النشر، تاريخ النشر)؟ (علامتان)



**تابع السؤال الخامس:**

- (ب) قارن ما بين الأمرين (ipconfig) و (ipconfig/all). (3 علامات)
- (ج) أذكر أربعة من الآثار السلبية لمواقع التواصل الاجتماعي؟ (4 علامات)
- (د) لديك عنوان IP (155.133.14.11) لجهاز وقناع الشبكة (255.255.0.0) اجب عما يلي: (4 علامات)
1. ما عنوان الشبكة.
  2. ما عنوان الجهاز.
  3. كم عنوانا موجودا في هذه الشبكة.
  4. أكتب عنوان جهاز آخر موجود على نفس الشبكة.

**السؤال السادس: (20 علامة)**

- (أ) ما وظيفة كلاً مما يأتي:
- ورقة العمل في Excel، قناع الشبكة Subnet Mask، موقع YouTube.
- (ب) من خلال دراستك لبرنامج قواعد البيانات (MS-Access). تأمل الجداول الآتية من قاعدة بيانات (علامات مدرسية)، ثم أجب عما يأتي:

المبحث	العلامة	الطالب
رقم المبحث اسم المبحث	رقم الطالب رقم المبحث العلامة	رقم الطالب اسم الطالب تاريخ الميلاد العنوان

1. ما هي المفاتيح الأساسية في الجداول، مع ذكر اسم الجدول لكل مفتاح؟ (3 علامات)
2. عدد المفاتيح الاجنبية إن وجدت، مع ذكر اسم الجدول لكل مفتاح. (علامتان)
3. ما هي الجداول المرتبطة بعلاقات مع تبيان نوع العلاقة؟ (علامتان)
- (ج) ارسم تنسيق الرسالة (الإطار) في طبقة ربط البيانات، وعلل احتواء الرسالة على حقل FCS. (4 علامات)
- (د) علل ما يلي: (3 علامات)
1. يستخدم الفيس بوك عدداً كبيراً جداً من المستخدمين.
  2. عدم اختلاف عنوان الـ MAC لجهاز الحاسوب رغم انتقاله من شبكة لأخرى.

**انتهت الأسئلة**

اليوم:  
التاريخ: / / 2021م  
مدة الامتحان: ساعتان  
مجموع العلامات: (100) علامة



امتحان شهادة الدراسة الثانوية العامة  
لعام 2021م - الدورة الاستكمالية

دولة فلسطين  
وزارة التربية والتعليم  
الإدارة العامة للقياس والتقويم والامتحانات  
الفرع: جميع الفروع عدا العلمي والصناعي  
المبحث: تكنولوجيا المعلومات  
الورقة: ---  
الجلسة: ---

يتكون الامتحان من (ستة) أسئلة، وعلى المشترك أن يجيب عن (أربعة) منها فقط،  
على أن يكون السؤال الأول (الموضوعي) منها إجبارياً.

**السؤال الأول: (40 علامة)**

يتكون هذا السؤال من (20) فقرة من نوع اختيار من متعدد، من أربعة بدائل، اختر رمز الإجابة الصحيحة، ثم ضع إشارة (x) في المكان المخصص في دفتر الإجابة:

1. في برنامج الجداول الإلكترونية (MS-Excel)، ما الدالة المستخدمة لمعرفة أعلى قيمة من بين مجموعة من القيم؟

Min (أ) Max (ب) Average (ج) IF (د)

2. في برنامج الجداول الإلكترونية (MS-Excel)، ماذا ينتج عن تقاطع صف مع عمود؟

خلية (أ) مصنف (ب) ورقة (ج) ملف (د)

3. ما الرقم المستخدم في قناع الشبكة، لتحديد الجزء الخاص بعنوان الشبكة؟

0 (أ) 8 (ب) 255 (ج) 256 (د)

4. في برنامج الجداول الإلكترونية (MS-Excel)، ما نوع البيانات الذي تكون فيه الأرقام داخل الخلية على شكل عدد صحيح؟

الكسور Fraction (أ) رقم Number (ب) الأرقام العلمية Scientific (ج) نسبة مئوية Percent (د)

5. في برنامج قواعد البيانات (MS-Access)، ما نوع العلاقة التي يتم تفكيكها باستخدام جدول وسيط؟

1 - 1 (أ) 1 - ∞ (ب) ∞ - ∞ (ج) ∞ - 1 (د)

6. في برنامج قواعد البيانات (MS-Access)، ماذا يطلق على العنصر المحدد الذي يحوي نوع واحد من المعلومات؟

سجل (أ) حقل (ب) ورقة عمل (ج) ملف (د)

7. أي من الحقول الآتية نوع بياناتها ليست من نوع نص؟

اسم الطالب (أ) العنوان (ب) اسم المادة (ج) الطول (د)

8. في برنامج الجداول الإلكترونية (MS-Excel)، من أي قائمة نختار الخيار (التحقق من صحة البيانات)؟

بيانات (أ) إدراج (ب) صيغ (ج) عرض (د)

9. ماذا يُسمى تنسيق الرسالة في طبقة ربط البيانات؟

حزمة Packet (أ) بت bit (ب) قطعة Segment (ج) اطار Frame (د)

10. ما عدد البتات Bits التي يتكون منها عنوان MAC؟

أ) 32      ب) 48      ج) 64      د) 128

11. ما أكبر رقم في النظام السادس عشر؟

أ) 9      ب) 10      ج) F      د) 16

12. ما الأمر المستخدم لفتح موجه سطر الأوامر في نظام التشغيل وندوز؟

أ) IP      ب) Open      ج) CMD      د) Ping

13. ما الجهاز المستخدم لتنظيم مرور البيانات بين الأجهزة على الشبكة المحلية السلكية؟

أ) محول الشبكة Switch      ب) الموجه Router

ج) نقطة الوصول Access point      د) المعيد Repeater

14. أي الأوامر الآتية يُستخدم لتتبع مسار رسالة من المصدر إلى الهدف؟

أ) ipconfig      ب) ip      ج) ping      د) tracert

15. ماذا نحتاج للتنقل بين الشبكات؟

أ) نظام عنوان فيزيائي      ب) نظام عنوان منطقي      ج) نظام عنوان مدمج      د) عنوان MAC

16. ما عدد العناوين التي يدعمها IPv4؟

أ)  $2^8$       ب)  $2^{16}$       ج)  $2^{32}$       د)  $2^{64}$

17. أي من الآتية لا يُمثل عنوان MAC؟

أ) DC-11-FH-43-11-23      ب) CC-DC-DD-43-37-11

ج) 8C-DC-D4-43-37-EF      د) 8C-F1-F2-F3-Fe-EF

18. أي من المواقع الآتية يتيح للمستخدم تصفح مقاطع الفيديو ونشر فيديوهات خاصة؟

أ) يوتيوب YouTube      ب) لينكد إن LinkedIn

ج) تويتر Twitter      د) فيس بوك Facebook

19. ما أول موقع تواصل اجتماعي تم إنشاؤه؟

أ) YouTube.com      ب) classmates.com

ج) Twitter.com      د) Google.com

20. من الذي أنشأ موقع تويتر؟

أ) جاك دروسي      ب) بيل جيتس      ج) ستيف جوبز      د) مارك زوكربيرغ

### السؤال الثاني: (20 علامة)

- (أ) ما وظيفة كلاً مما يأتي: الأمر Ping - قناع الشبكة - مواقع التواصل الاجتماعي.  
(ب) من خلال دراستك لبرنامج اكسل، تأمل الجدول الإلكتروني الآتي، ثم أجب عن الأسئلة التي تليه:

	E	D	C	B	A	
1	مجموع المبيعات	هاتف نقال	كاميرا	حاسوب	العام/ الصنف	
2		70	70	30	2015	
3		81	80	20	2016	
4		90	80	100	2018	
5		معدل المبيعات العام				
6		مجموع المبيعات العام				

1. أكتب المعادلة اللازمة لإيجاد مجموع المبيعات للعام 2015.  
2. أكتب المعادلة اللازمة لإيجاد معدل المبيعات العام.  
3. أكتب المعادلة اللازمة لإيجاد مجموع المبيعات العام.  
4. ما محتويات الخلية A5؟  
(ج) ما عنوان MAC؟ وكيف تحصل عليه أجهزة الشبكة؟  
(د) ما قيمة 10(171) في النظام السادس عشري؟
- (علامتان)  
(علامتان)  
(علامتان)  
(علامتان)  
(4 علامات)  
(علامتان)

### السؤال الثالث: (20 علامة)

- (أ) ما وظيفة كلاً مما يأتي: الرسوم البيانية في برنامج اكسل ، المفتاح الأجنبي ، العنوان الفيزيائية  
(ب) ما أهمية موقع لينكد أن LinkedIn؟  
(ج) الكيانات الآتية تُمثل بعضاً من جداول لقاعدة بيانات لبلدية (نابلس)، تأملها جيداً، ثم أجب:

جدول الخدمة
رقم الخدمة
رقم الموظف
رقم المستفيد
تاريخ الخدمة

جدول الموظفين
رقم الموظف
اسم الموظف
العنوان
إجمالي الراتب
رقم القسم

جدول الأقسام
رقم القسم
اسم القسم
رئيس القسم

1. حدّد نوع بيانات كل حقل من حقول جدول الموظفين؟  
2. استخرج مفتاحاً رئيساً، ومفتاحاً أجنبياً، ومفتاحاً مركباً من الجداول السابقة مع تحديد الجدول الذي يتبع لكل مفتاح.  
(د) لديك جهاز حاسوب في مدينة (القدس) بعنوان (192.168.6.1) يود إرسال رسالة إلى جهاز آخر في مدينة (غزة) بعنوان (192.168.8.2)، علماً بأن قناع الشبكة لكلا الجهازين هو (255.255.255.0).

1. هل الجهازان موجودان في نفس الشبكة؟  
2. ما عنوان IP للجهاز الهدف؟  
3. وضح كيف يمكن إرسال الرسالة بين الجهازين
- (علامة)  
(علامتان)  
(3 علامات)

**السؤال الرابع: (20 علامة)**

(6 علامات)

أ) ما المقصود بكلٍ من الآتية:

- المفتاح المركب - الموجه Router - بطاقة واجهة الشبكة NIC

(6 علامات)

ب) ما المقصود بحماية البيانات في الجداول الالكترونية؟ عدد مستويات الحماية في الجداول الالكترونية.

(4 علامات)

ج) أوجد قيمة كلاً مما يأتي:

1- العدد  $(A5)_{16}$  في النظام العشري.

2- العدد  $(10001)_2$  في النظام السادس عشر.

(4 علامات)

د) عدد أربعاً من ميزات مواقع التواصل الاجتماعي.

**السؤال الخامس: (20 علامة)**

(6 علامات)

أ) ما المقصود بكلٍ من الآتية:

المصنف في الجداول الإلكترونية ، حقل FCS ، بروتوكول اعدادات المضيف الديناميكية DHCP.

(4 علامات)

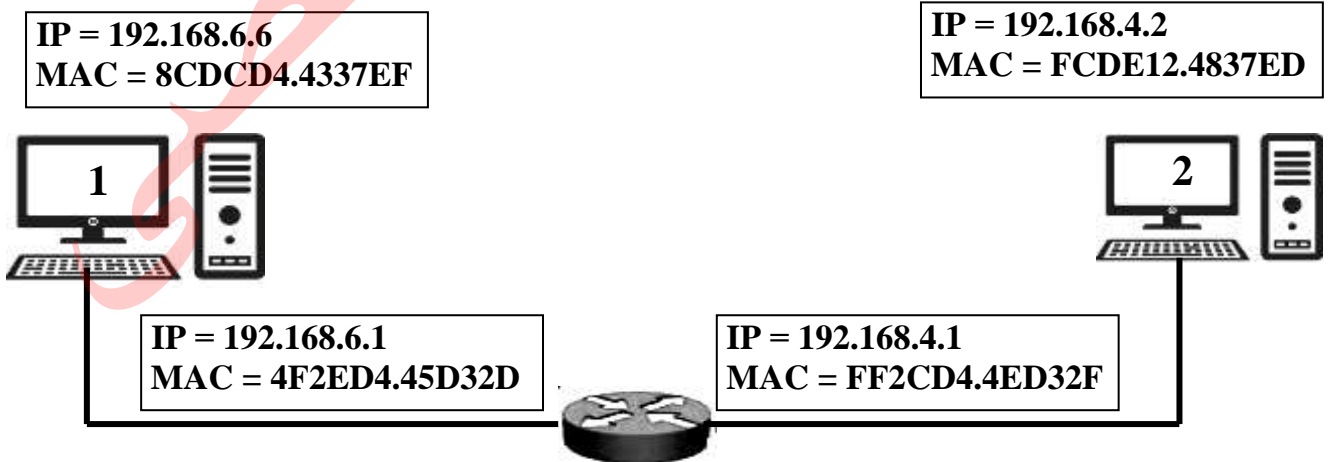
ب) عدد أربعة من أنواع الرسم البياني في برنامج الجداول الإلكترونية.

(4 علامات)

ج) لمواقع التواصل الاجتماعي دور كبير في مجالات الحياة. عدد أربعة من هذه المجالات.

(6 علامات)

د) في الشكل الآتي يتم توجيه رسالة بين جهازين في شبكتين مختلفتين حيث يحتوي الموجه على منفذين أحدهما ينتمي للشبكة الأولى والآخر ينتمي للشبكة الثانية. اشرح كيف سيكون مسار الرسالة من الجهاز (1) إلى الجهاز (2) عبر الموجه مع تحديد عناوين IP و MAC في كل مرحلة.



### السؤال السادس: (20 علامة)

- (أ) يحصل الجهاز على عنوان IP بطريقتين. اذكرهما، ووضح كيف نختار بين الطريقتين. (4 علامات)
- (ب) عدد أربعة من الآثار السلبية لمواقع التواصل الاجتماعي. (4 علامات)
- (ج) علّل: من الأسس التي تُبنى عليها قواعد البيانات عدم تكرار البيانات. (علامتان)
- (د) من خلال دراستك لبرنامج قواعد البيانات MS-Access تأمل النافذة الآتية ثم أجب عما يلي: (6 علامات)



1. ما وظيفة النافذة السابقة؟

2. ماذا يحدث عند النقر على الزر المُشار إليه بالرقم (1)؟

3. ما اسم الجدول المطبق عليه الاستعلام؟

(4 علامات)

(هـ) تأمل النافذة الآتية، ثم أجب عما يأتي:

Wireless LAN adapter wireless network connect:

Connection-specific DNS Suffix: .

Link-local IPv6 Address . . . . . : fe80::e9b9:c23f:d19d:3836%12

IPv4 Address. . . . . : 192.168.0.50

Subnet Mask . . . . . : 255.255.255.0

Default Gateway . . . . . : 192.168.0.1

C:\>

1. ما عنوان IP للجهاز؟

2. على ماذا يدل السطر المُشار إليه بالرقم (1)؟

3. ما وظيفة ما يشير إليه الرقم (2)؟

## انتهت الأسئلة



امتحان شهادة الدراسة الثانوية العامة  
لعام ٢٠٢١ م - الدورة الأولى

ملاحظة: عدد أسئلة الورقة (ثمانية) أسئلة، أجب عن (خمس) منها فقط

القسم الأول: يتكون هذا القسم من (سنة) أسئلة، وعلى المشترك أن يجيب عن (أربعة) منها فقط،  
على أن يكون السؤال الأول (الموضوعي) منها إجبارياً.

السؤال الأول: (٢٠ علامة)

يتكون هذا السؤال من (١٠) فقرات من نوع اختيار من متعدد، من أربعة بدائل، اختر رمز الإجابة الصحيحة، ثم ضع إشارة (×) في المكان المخصص في دفتر الإجابة:

١. لتكن  $\begin{bmatrix} 3 & 1 \\ 0 & 2 \end{bmatrix} = 1$  فما قيمة  $12^a - 21^b$ ؟

- (أ) صفر (ب) ١- (ج) ٣- (د) ٥-

٢. واحدة من العمليات التالية لا يمكن إجراؤها على المصفوفات:

- (أ)  $\begin{bmatrix} 3 \\ 2 \end{bmatrix} + 5$  (ب)  $\begin{bmatrix} 3 \\ 1 \end{bmatrix} \begin{bmatrix} 2 \\ 1 \end{bmatrix}$  (ج)  $\begin{bmatrix} 1 \\ 2 \end{bmatrix} \begin{bmatrix} 3 \\ 2 \end{bmatrix}$  (د)  $2^3 + 3^2$

٣.  $S$ ،  $S$  مصفوفتين حيث  $S = \begin{bmatrix} 3 & -5 \end{bmatrix}$ ، فما الصورة الصحيحة للمصفوفة الصفرية  $W$  في المعادلة  $S + 2W = 0$ ؟

- (أ)  $\begin{bmatrix} 0 & 0 \\ 0 & 0 \end{bmatrix}$  (ب)  $\begin{bmatrix} 0 \\ 0 \end{bmatrix}$  (ج)  $\begin{bmatrix} 0 & 0 \\ 0 & 0 \end{bmatrix}$  (د)  $\begin{bmatrix} 0 \end{bmatrix}$

٤. إذا كان  $h = (s) - 2 = 2$ ، فما قيمة  $h = \frac{(h+1)h - (h-1)h}{h}$ ، فما قيمة  $h$ ؟

- (أ) ٤ (ب) ٣- (ج) ٣ (د) ٤-

٥. إذا كان  $h = (s) = h(3s^2 + 1)$ ،  $h = (1) = 5$ ،  $h = (4) = 2$ ، فما قيمة  $h = (1)$ ؟

- (أ) ١٢ (ب) ٣ (ج) ٢ (د) ٦

٦. يمثل خط الأعداد المجاور إشارة  $h = (s)$ ،  $s \geq 2$ ، فما العبارة الصحيحة التي تعبر عن  $h = (s)$ ؟

- (أ) يوجد قيم عظمى محلية للإقتران فقط (ب) يوجد قيمة صغرى محلية للإقتران فقط  
(ج)  $h = (3)$  قيمة عظمى محلية  $h = (1)$  صغرى محلية (د) لا يوجد قيم قصوى للإقتران  $h = (s)$

٧. إذا كانت العلامات المعيارية المناظرة لدرجات الحرارة في ٥ أيام متتالية كالتالي ل، ل، ل، ل-١، ل-٢، ل-٣، فما قيمة ل؟

- (أ) صفر (ب) ٠,٥ (ج) ٠,٥- (د) ١

٨. إذا كانت  $\begin{bmatrix} 3s-6 \\ 2 \end{bmatrix} = \begin{bmatrix} 6 \\ 2 \end{bmatrix}$  ، فما قيمة / قيم الثابت ب؟

- (أ) ٢ (ب) ٢- (ج)  $2 \pm$  (د) ١٦

٩. إذا كانت  $\begin{bmatrix} 1 \\ 3 \end{bmatrix} = \begin{bmatrix} 2 \\ 3 \end{bmatrix} s$  ، فما قيمة  $\begin{bmatrix} 4 \\ 3 \end{bmatrix} s$  بدلالة ١؟

- (أ)  $\frac{1}{4}$  (ب)  $\frac{1}{3}$  (ج) ١٤ (د) ١٣

١٠. إذا بلغت الفائدة البسيطة لمبلغ ما ٦٣ ديناراً، فما قيمة المبلغ بالدينار إذا كان معدل الفائدة ٧% سنوياً؟

- (أ) ٩٠٠ (ب) ٨٠٠ (ج) ٤٤١ (د) ٧٠٠

السؤال الثاني: (٢٠ علامة)

(أ) لتكن  $\begin{bmatrix} 4 & 3 \\ 2 & 1 \end{bmatrix} = I$  ،  $B = \begin{bmatrix} 1 & 3 \\ 2 & 1 \end{bmatrix}$  ، أجد  $B^{-1} \times I$  . (١٠ علامات)

(ب) استخدم تعريف المشتقة عند نقطة لإيجاد مشتقة الإقتران  $(s) = s^2 + s$  ، عندما  $s = 1$  . (١٠ علامات)

السؤال الثالث: (٢٠ علامة)

(أ) إذا كان  $\begin{bmatrix} 3 \\ 1 \end{bmatrix} = \begin{bmatrix} 5 \\ 2 \end{bmatrix} (s) + \begin{bmatrix} 3 \\ 1 \end{bmatrix} (s) - 2$  ،  $\begin{bmatrix} 6 \\ 1 \end{bmatrix} = \begin{bmatrix} 3 \\ 1 \end{bmatrix} (s) + \begin{bmatrix} 3 \\ 1 \end{bmatrix} (s)$  ، فما قيمة  $\begin{bmatrix} 3 \\ 1 \end{bmatrix} (s) + \begin{bmatrix} 3 \\ 1 \end{bmatrix} (s)$  ؟ (١٠ علامات)

(ب) حل النظام الخطي التالي باستخدام قاعدة كرامير:  
 $2s - 3v = 1$  ،  $2s + 3v = 8$  . (١٠ علامات)

السؤال الرابع: (٢٠ علامة)

(أ) إذا كان  $(s) = s^3 + 3s^2 + 6s + 6$  ، أجد: (١٠ علامات)

(١)  $(s) = 6$

(٢) مشتقة  $(s^3 + 3s^2 + 6s + 6)$  ، عندما  $s = 1$

(ب) احسب قيمة التكامل  $\int \frac{10 - 4s}{(s^2 - 5s + 7)^3} ds$  . (١٠ علامات)

السؤال الخامس: (٢٠ علامة)

(أ) إذا كان  $v = \frac{1}{e}$  ،  $e \neq 0$  ،  $e = s \sqrt{s}$  ، جد  $\frac{ds}{dv}$  ، عندما  $s = 4$  . (١٠ علامات)

(ب) احسب رأس المال الناتج من توظيف مبلغ ٣٠٠٠ دينار في بنك يُعطي فائدة مُعدلها ٨% لمدة ٩ سنوات. (١٠ علامات)

(١) بحساب الربح البسيط.

(٢) بحساب الربح المركب.



## السؤال السادس: (٢٠ علامة)

(أ) إذا كانت علامات ٦٠٠ طالب تتخذ توزيعاً طبيعياً بوسط حسابي ٧٢ ، وانحراف معياري ٨ ، وكانت علامة النجاح ٦٠ أجد:  
(١) عدد الطلبة الذين تقع علاماتهم بين ٦٢ ، ٧٨ . (٢) نسبة الراسبين. (١٠ علامات)

١	١,٥-	١,٢٥-	,٧٥	ع
,٨٤١٢	,٠٦٦٨	,١٠٥٦	,٧٧٣٤	المساحة تحت ع

(١٠ علامات)

(ب) حل المعادلات المصفوفية التالية:

$$(١) \begin{bmatrix} ١- & ٢- \\ ٣ & .٥ \end{bmatrix} \times س٢ = ٢٢$$

$$(٢) \begin{bmatrix} ١٢ & ٦- \\ ٨- & ٤ \end{bmatrix} = [٤ \text{ ص}] \begin{bmatrix} س \\ ٢- \end{bmatrix}$$

القسم الثاني: يتكون هذا القسم من سؤالين وعلى المشترك أن يجيب عن أحدهما فقط.

## السؤال السابع: (٢٠ علامة)

(أ) جد القيم القصوى المحلية للإقتران  $٨(س) = (س٢ - ١٢)$  ،  $س \in \mathbb{R}$  ، وحدد نوعها. (٨ علامات)  
(ب) إذا كان  $٨(س) = ٢٢ - ١س$  ،  $٠ > ١$  ، وكان  $٨(١) = ٢$  ، فما قيمة  $\int_{٤}^{\infty} (س) ds$  . (٦ علامات)

(٦ علامات)

(ج) جد قيمة  $س$  علماً بأن:

$$١٣ = \begin{vmatrix} ١ & س \\ ٢ & ٣ \end{vmatrix} + \begin{vmatrix} ٣ & ٢ \\ س-١ & ١ \end{vmatrix}$$

## السؤال الثامن: (٢٠ علامة)

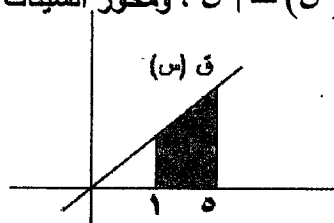
(أ) إذا كان  $٨(س) = (س٢ + ١) \times ٨(س)$  ،  $٨(١) = (١)٨$  ،  $٨(٣) = (٣)٦$  ،  $٨(١) = (١)٤$  ، أجد: (٨ علامات)

(١) متوسط التغير في الإقتران  $٨(س)$  في  $[١ ، ٣]$  . (٢)  $\int_{(١)٨}^{\infty} \left( \frac{٨}{(س)٨} \right) ds$  (٦ علامات)

(٦ علامات)

$$(ب) \text{ جد } \begin{vmatrix} ٤ & ٢- & ١ \\ ١ & ٣- & ٤ \\ ٢ & ١- & ٠٠٥ \end{vmatrix}$$

(ج) إذا كانت مساحة المنطقة المحصورة بين منحنى  $٨(س) = ١س$  ، ومحور السينات والمستقيمين  $س = ١$  ،  $س = ٥$  تساوي ٨ ، فما قيمة الثابت  $١$  ،  $١ < ١$  . (٦ علامات)



انتهت الأسئلة



## امتحان شهادة الدراسة الثانوية العامة عام 2021م - الدورة الثانية

اليوم: الثلاثاء  
التاريخ: ٢٠٢١/٠٨/١٧م  
مدة الامتحان: ساعتان وخمس وأربعون دقيقة  
مجموع العلامات: (١٠٠) علامة

ملاحظة: عدد أسئلة الورقة (ثمانية) أسئلة، أجب عن (خمس) منها فقط

القسم الأول: يتكون هذا القسم من (سنة) أسئلة، وعلى المشترك أن يجيب عن (أربعة) منها فقط، على أن يكون السؤال الأول (الموضوعي) منها إجبارياً.

### السؤال الأول: (٢٠ علامة)

يتكون هذا السؤال من (١٠) فقرات من نوع اختيار من متعدد، من أربعة بدائل، اختر رمز الإجابة الصحيحة، ثم ضع إشارة (×) في المكان المخصص في دفتر الإجابة:

$$١. إذا كانت  $\begin{bmatrix} ١ - ص \\ ٢ \end{bmatrix} = \begin{bmatrix} س \\ س + ٣ \end{bmatrix}$  فما قيمة ص؟$$

- (أ) ١ (ب) صفر (ج) ٢ (د) -١

$$٢. إذا كانت المصفوفة  $\begin{bmatrix} س - ٢ & س \\ ٢ & ٣ \end{bmatrix}$  منفردة فما قيمة س؟$$

- (أ) -٤ (ب) ٤ (ج) ٣ (د) -٣

٣. إذا كانت  $\begin{bmatrix} ١ & ٢ \\ ٣ & ٤ \end{bmatrix}$  مصفوفة من الرتبة  $٢ \times ٢$ ، وعُرفت مدخلاتها بحين أن  $١ هـ ي = ي + هـ$ ، فإن المصفوفة  $\begin{bmatrix} ١ & ٢ \\ ٣ & ٤ \end{bmatrix}$  هي:

- (أ)  $\begin{bmatrix} ٢ & ١ \\ ٤ & ٣ \end{bmatrix}$  (ب)  $\begin{bmatrix} ٣ & ١ \\ ٤ & ٣ \end{bmatrix}$  (ج)  $\begin{bmatrix} ٣ & ٢ \\ ٤ & ٣ \end{bmatrix}$  (د)  $\begin{bmatrix} ٢ & ٣ \\ ٣ & ٤ \end{bmatrix}$

٤. إذا كان  $١ هـ (س) = ٢ س$ ،  $١ هـ (س) = س + ١$ ، فما قيمة  $١ هـ (٢)$ ؟

- (أ) ٤ (ب) ١٦ (ج) ٢٠ (د) ٥

٥. إذا كانت  $\Delta = \frac{٢ هـ - هـ ١}{٤} = ص$ ، هي مقدار التغير في ص =  $١ هـ (س)$  في  $[٥، هـ + ٥]$ ، فما قيمة  $١ هـ (٥)$ ؟

- (أ) ٥ (ب) ٨ (ج)  $\frac{٣}{٤}$  (د) ٢

$$٦. إذا كانت  $ص = \begin{bmatrix} ٦س + ٦س + ٣س \\ ٥س \end{bmatrix}$  فإن  $\frac{٥س}{٥س}$  يساوي:$$

- (أ)  $٦س + ٣س$  (ب)  $٦س + ٦س$  (ج)  $٦س$  (د)  $٦س + ٦س$

٧. عند حل نظام المعادلتين الخطيتين (بواسطة قاعدة كرامير)  $١ هـ = ٢ص + ١$ ،  $١ هـ = ٣ + ص$ ، وجد أن  $١ هـ = \begin{bmatrix} ١ & ١- \\ ٣ & ٢ \end{bmatrix}$

فما هي مصفوفة  $\begin{bmatrix} ١ & ١- \\ ٢ & ٣ \end{bmatrix}$  .

- (أ)  $\begin{bmatrix} ١- & ١ \\ ٢ & ٣ \end{bmatrix}$  (ب)  $\begin{bmatrix} ٢ & ١ \\ ١ & ٣ \end{bmatrix}$  (ج)  $\begin{bmatrix} ٢ & ١- \\ ١ & ٢ \end{bmatrix}$  (د)  $\begin{bmatrix} ٢ & ٢ \\ ١ & ١- \end{bmatrix}$

٨. إذا كانت  $\int_{-1}^3 (3s - 9) ds = 12$  ، فما قيمة  $\int_{-1}^3 (3s - 9) ds$  ؟

- (أ) ١٢- (ب) -٤ (ج) ٤ (د) ١٢

٩. إذا كانت  $\int_1^b (3s - 2) ds = 0$  ، فما قيمة  $b$  ؟

- (أ) ٢ (ب) ١ (ج) ٣ (د) ٥

١٠. استثمر رجل مبلغ ٣٠٠٠ دينار في بنك بفائدة مركبة معدلها السنوي ٨% تضاف مرتين في العام، فما جملة المبلغ بعد ٥ سنوات:

- (أ) ٣٠٠٠ (١,٠٨)<sup>٥</sup> (ب) ٣٠٠٠ (١,٠٤)<sup>١٠</sup> (ج) ٣٠٠٠ (١,٠٤)<sup>٥</sup> (د) ٣٠٠٠ (١,٠٨)<sup>١٠</sup>

### السؤال الثاني: (٢٠ علامة)

(أ) إذا كان  $0 = (s) - s^2$  ، جد  $s^2$  و  $s^3$  ، مستخدماً تعريف المشتقة الأولى عند نقطة. (١٠ علامات)

(ب) جد  $\frac{ds}{ds}$  ، لكل مما يلي: (١٠ علامات)

(١)  $v = (s^2 - s)^4$  ، عندما  $s = 2$

(٢)  $v = 2e - e^2 + 1$  ،  $e = s^2 + 3$  ، عندما  $s = 0$

### السؤال الثالث: (٢٠ علامة)

(أ) إذا كانت  $v = \int_1^9 (s^2 + 3s + 1) ds$  ، جد: (١٠ علامات)

(١) قيمة  $v$

(٢)  $\frac{dv}{ds} = 1$  ، عندما  $s = 1$

(ب) تقدم ٣٥٠ طالب لامتحان عام، وكان توزيع علاماتهم يتبع التوزيع الطبيعي بوسط حسابي ٦٠ وانحراف معياري ١٠ ، جد:

(١) نسبة الطلبة الذين حصلوا على علامة تقل عن ٧٥

(٢) عدد الطلبة الذين حصلوا على علامة تقع بين ٦٥ و ٨٠

٢	١,٥	١	٥,٥	ع
المساحة تحت ع	٩٣٣٢,٩	٨٤١٣,٨	٦٩١٥,٦	

### السؤال الرابع: (٢٠ علامة)

(أ) إذا كانت المصفوفة  $B = \begin{bmatrix} 2 - s & 1 & s \\ 4 & 3 & s - 1 \\ 1 & 2 & 5 \end{bmatrix}$  ، جد  $|B|$  (١٠ علامات)

(ب) إذا كان  $\int_1^5 (3s - 6) ds = 2$  ،  $\int_1^5 (3s - 2) ds = 2$  ،

جد  $\int_1^5 \left( \frac{12}{s} + (3s) \right) ds$  .

## السؤال الخامس: (٢٠ علامة)

(١٠ علامات)

(أ) جد القيم القصوى المحلية للإقتران  $f(x) = 3x^2 - 12x + 5$  ،  $x \in \mathbb{R}$  .

(ب) إذا كانت العلامات المعيارية المقابلة للعلامتين ٨٥ ، ٧٠ هما ١ ، ٢ على الترتيب، احسب العلامة المعيارية للعلامة الخام ٧٥ . (١٠ علامات)

## السؤال السادس: (٢٠ علامة)

(١٠ علامات)

(أ) جد قيمة التكاملات التالية:

$$(1) \int_0^1 (2-3x) dx \quad (2) \int_0^1 \frac{9-2x}{3+x} dx$$

(١٠ علامات)

(ب) حل المعادلة المصفوفية التالية:

$$2x \begin{bmatrix} 2 & 1 \\ 5 & 3 \end{bmatrix} = \begin{bmatrix} 7 & 4 \\ 3 & 1 \end{bmatrix} - \begin{bmatrix} 7 & 5 \\ 4 & 1 \end{bmatrix}$$

القسم الثاني: يتكون هذا القسم من سؤالين وعلى المشترك أن يجيب عن أحدهما فقط.

## السؤال السابع: (٢٠ علامة)

(أ) ما المبلغ الذي استثمره شخص لمدة ٦ سنوات في بنك، يعطي فائدة بسيطة بمعدل ٩% سنوياً، فاعطى مبلغاً جملة ٢٠٧٩ دينار.

(٥ علامات)

(٨ علامات)

(ب) إذا كان  $f(x) = \frac{4x}{x+1} + \sqrt{5}$  ،  $f(1) = 2$  ،  $f(1) = 2$  ، جد:

$$(1) f(1) \quad (2) (f(x) \times f(x))' \text{ ، عندما } x=1$$

(٧ علامات)

(ج) إذا كان  $f(x) = x^2 - 2x + 1$  ،  $f(1) = 0$  ،  $f(1) = 0$  ،  $f(1) = 0$  ، جد:

$$\text{متوسط التغير للإقتران في } [0, 1]$$

## السؤال الثامن: (٢٠ علامة)

(أ) ما المبلغ الذي استثمره شخص لمدة ٩٠ يوم بفائدة بسيطة ٦% ، ليحصل في نهاية المدة على فائدة تجارية ٣٠٠ دينار، ثم احسب الفائدة الصحيحة، علماً بأن السنة عادية.

(٦ علامات)

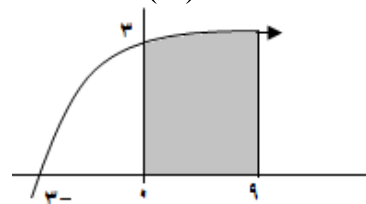
(٨ علامات)

(ب) إذا كانت  $A$  ،  $B$  مصفوفتين بحيث  $(B \times A)^{-1} = \begin{bmatrix} 3 & 2 \\ 2 & 1 \end{bmatrix}$  ، جد:

$$(1) B \times A \quad (2) \text{ المصفوفة } C \text{ حيث } C = B^{-1} (B - A)$$

(ج) جد مساحة المنطقة المحصورة بين منحنى  $f(x) = \sqrt{3x+9}$  ، ومحور السينات والمستقيمين  $x=0$  ،  $x=9$ 

(٦ علامات)



انتهت الأسئلة



## امتحان شهادة الدراسة الثانوية العامة لعام 2021م - الدورة الاستكمالية

اليوم:  
التاريخ: ١٢ / ١٢ / ٢٠٢١م  
مدة الامتحان: ١٥:٢  
مجموع العلامات: (١٠٠) علامة

ملاحظة: عدد أسئلة الورقة (ثمانية) أسئلة، أجب عن (خمسة) منها فقط

القسم الأول: يتكون هذا القسم من (ستة) أسئلة، وعلى المشترك أن يجيب عن (أربعة) منها فقط، على أن يكون السؤال الأول (الموضوعي) منها إجبارياً.

### السؤال الأول: (٢٠ علامة)

يتكون هذا السؤال من (١٠) فقرات من نوع اختيار من متعدد، من أربعة بدائل، اختر رمز الإجابة الصحيحة، ثم ضع إشارة (×) في المكان المخصص في دفتر الإجابة:

١.  $A = \begin{bmatrix} 1 & 2 \\ 3 & 4 \end{bmatrix}$  ،  $B = \begin{bmatrix} 2 & 1 \\ 4 & 3 \end{bmatrix}$  ، فما رتبة المصفوفة  $S$  في المعادلة؟

(أ)  $1 \times 2$  (ب)  $2 \times 1$  (ج)  $2 \times 2$  (د)  $1 \times 1$

٢. ما المصفوفة الناتجة من عملية الضرب التالية  $\begin{bmatrix} 1 & 3 \\ 2 & 4 \end{bmatrix} \begin{bmatrix} 8 \\ 9 \end{bmatrix}$  ؟

(أ)  $\begin{bmatrix} 24 \\ 9 \end{bmatrix}$  (ب)  $\begin{bmatrix} 9 & 24 \end{bmatrix}$  (ج)  $\begin{bmatrix} 8 & 24 \\ 9 & 27 \end{bmatrix}$  (د)  $[33]$

٣. إذا كانت  $A$  مصفوفة مربعة فيها العنصر  $a_{11} = 1$  ، وكانت  $|A| = 0$  ، فإن  $A$  مصفوفة:

(أ) صفرية (ب) محايدة ضربية (ج) منفردة (د) معكوس جمعي لنفسها

٤. الذي يحدد أفضلية تحصيل طالب في مبحثين في امتحان ما هو:

(أ) قيمة العلامة الخام لكلا المبحثين  
(ب) قيمة الوسط الحسابي لعلامات الطلبة في المبحثين  
(ج) قيمة الإنحراف المعياري للعلامات في المبحثين  
(د) قيمة العلامة المعيارية لكل مبحث

٥. إذا كان  $S = 3s^2 - 5s + 7$  ، فما قيمة  $\frac{3s^3}{3s} + \frac{2s^2}{2s} + \frac{5s}{5s}$  ، عندما  $s = 2$  ؟

(أ) ٧ (ب) ٦ (ج) صفر (د) ١٣

٦. إذا كانت  $S = (\pi^2)^s$  ، فما قيمة  $\Delta S$  في  $[0, 1]$  :

(أ) صفر (ب)  $(\pi^2)$  (ج)  $1 - \pi^2$  (د)  $\pi^2 - S$

٧. إذا كان  $S = (S+1)(S+2)$  ، فما قيمة  $S^{-1}$  ؟

(أ) ٥ (ب) صفر (ج) ٢ (د) ٦

٨. ما الإقتران الذي يمثل إقتراناً أصلياً للمشتقة  $h'(s) = 2s^4 + 6s + 2$  ؟

(أ)  $h(s) = 2s^3 + 3s^2 + 1$

(ب)  $h(s) = \frac{2}{5}s^5 + 3s^2 + 1$

(ج)  $h(s) = 2s^3 + 3s^2 + 2$

(د)  $h(s) = 8s + 6$

٩. قيمة  $\left[ \frac{6}{s} \right]_{s=5} = ?$

(أ)  $6s^2 + 2$

(ب)  $\frac{6}{s} + 2$

(ج)  $\frac{12}{s} + 2$

(د)  $6s + 2$

١٠. إذا كان متوسط التغير في  $[1, 3]$  للإقتران  $h(s)$  تساوي ٣٠، فما قيمة  $h'(s)$  ؟

(أ) ٦٠

(ب) ١٥

(ج) ٦٠-

(د) ١٥-

### السؤال الثاني: (٢٠ علامة)

(١٠ علامات)

(أ) إذا كانت  $\begin{vmatrix} 1 & 2-s \\ 1-s & 0 \end{vmatrix} = \begin{vmatrix} 1 & 1 \\ 0 & 6 \end{vmatrix}$ ، فما قيمة  $s$ .

(ب) مدرسة ثانوية فيها ٥٠٠ طالب، أطوالهم تتبع التوزيع الطبيعي بوسط حسابي ١٦٥، وانحراف معياري ١٠ (١٠ علامات)

فما نسبة الطلبة الذين تنحصر أطوالهم بين ١٥٠ و ١٨٠ سم؟ وما عددهم.

ع	١,٥-	,٥	١,٥
المساحة تحت ع	,٩٣٣٢	,٦٩١٥	,٠٦٦٨

### السؤال الثالث: (٢٠ علامة)

(١٠ علامات)

(أ) احسب قيمة التكاملات التالية:

(١)  $\int (s^3 - 1) ds$

(٢)  $\int \frac{2l - 5l + 6}{2 - l} ds, l \neq 2$

(١٠ علامات)

(ب) إذا كان  $h(s) = s^3$ ،  $h'(s) = (s^2 + 1)^5$ ، أجد:

(١)  $h'(h + 9)$

(٢)  $\left( \frac{1+s}{h(s)} \right)$ ، عندما  $s = 1$

### السؤال الرابع: (٢٠ علامة)

(١٠ علامات)

(أ) استثمر مبلغ ٢٠٠٠٠ دينار بمعدل فائدة بسيطة ٦٪ سنوياً، أجد:

(١) الفائدة التجارية والفائدة الصحيحة المترتبة على المبلغ لمدة ٩٠ يوماً.

(٢) عدد الأشهر اللازمة ليعطي فائدة قدرها ٨٠٠ دينار بحساب الربح البسيط.

(١٠ علامات)

(ب) لتكن  $M = \begin{bmatrix} 1 & 2 \\ 3 & 1 \end{bmatrix}$ ،  $B = \begin{bmatrix} s & 4 \\ 5 & 1 \end{bmatrix}$

(١) جد قيمة  $s$  التي تحقق المعادلة  $|B + 2M| = |2M|$  حيث  $M$  المصفوفة المحايدة الضربية

(٢) بين أن  $M^{-1} \times M = I$

**السؤال الخامس: (٢٠ علامة)**

(أ) استخدم تعريف المشتقة عند نقطة لإيجاد مشتقة الإقتران  $g(s) = 8 - s^2$  ، عندما  $s = 3$  (١٠ علامات)

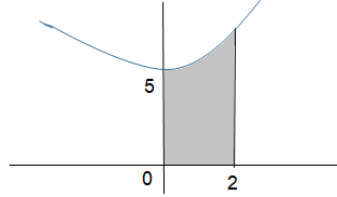
(ب) إذا كان  $g(s) = (1 + s)^2$  ،  $g'(s) = 2s$  ،  $g(4) = 2$  ،  $g'(4) = 8$  ، جد: (١٠ علامات)

$$(1) \int_1^4 g(s) ds \quad (2) \int_1^4 (g(s) - s) ds$$

**السؤال السادس: (٢٠ علامة)**

(أ) أجل النظام الخطي التالي باستخدام قاعدة النظير الضربي  $2x - y = 1$  ،  $2x + y = 8$  (١٠ علامات)

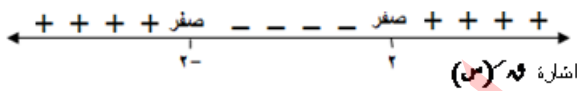
(ب) أجد مساحة المنطقة المحصورة بين منحنى  $g(s) = s^2 + 5$  ومحور السينات والمستقيمين  $s = 0$  ،  $s = 2$  (١٠ علامات)



القسم الثاني: يتكون هذا القسم من سؤالين وعلى المشترك أن يجيب عن أحدهما فقط.

**السؤال السابع: (٢٠ علامة)**

(أ) الشكل الآتي يبين إشارة  $g'(s)$  ، إذا علمت أن  $g(s) = s^3 - 4s$  ، جد: (٨ علامات)



(١) قيمة الثابت  $a$

(٢) القيم القصوى ونوعها

(ب) إذا كان  $g(s) = \int_1^s (s-2) ds$  ، جد: (٦ علامات)

$$(1) \int_0^4 g(s) ds \quad (2) g'(3)$$

(ج) إذا كانت  $v = 2m - 3$  ،  $m = s - 2$  ، فما قيمة  $\frac{dv}{ds}$  عندما  $m = 2$  ،  $s > 0$  (٦ علامات)

**السؤال الثامن: (٢٠ علامة)**

(أ) عند حل نظام معاليتين خطيتين بمتغيرين  $s$  ،  $v$  بقاعدة كرامر كانت  $s = 3$  ،  $|A| = 33$  ،  $|A_s| = 1$  (٦ علامات)

جد قيمة المتغير  $v$

(ب) إذا كان  $g'(s) = s$  ،  $h(s) = 2 - 4s$  ، فما قيمة  $h'(g(s))$  (٨ علامات)

(ج) إذا كان  $\int_0^1 g(s) ds = 1$  ، فما قيمة  $g(1)$  (٦ علامات)

انتهت الأسئلة



امتحان شهادة الدراسة الثانوية العامة  
لعام ٢٠٢١ م - الدورة الأولى

اليوم: السبت  
التاريخ: 2021/ 07 /10 م  
مدة الامتحان: ساعتان ونصف  
مجموع العلامات: (100) علامة

ملاحظة: عدد أسئلة الورقة (ثمانية) أسئلة، أجب عن (خمس) منها فقط

القسم الأول: يتكون هذا القسم من (سنة) أسئلة، وعلى المشترك أن يجيب عن (أربعة) منها فقط، على أن يكون السؤال الأول (الموضوعي) منها إجبارياً.

السؤال الأول: (20 علامة)

يتكون هذا السؤال من (10) فقرات من نوع اختيار من متعدد، من أربعة بدائل، اختر رمز الإجابة الصحيحة، ثم ضع إشارة (x) في المكان المخصص في دفتر الإجابة:

- أي من الآتية تشير الى درجة تطابق المنتج او الخدمة المقدمة لمواصفات التصميم؟  
(أ) جودة التصميم. (ب) جودة المنتج. (ج) جودة التنفيذ. (د) جودة المنشأة.
- أي من وظائف إدارة الموارد البشرية تشير الى منح العاملين المقابل العادل، لقاء الجهد الذي يبذلونه في العمل؟  
(أ) تقييم أداء العاملين. (ب) تحفيز العاملين. (ج) تدريب وتطوير العاملين. (د) تعويض العاملين ومكافأته.
- أي من الآتية يعد من المزايا الاجبارية للتعويضات غير المباشرة؟  
(أ) التأمين ضد إصابات العمل. (ب) التأمين الصحي. (ج) تأمين المواصلات من والى المنشأة. (د) توفير الوجبات الغذائية.
- ماذا يعني انخفاض كمية الجلود المستخدمة في تصنيع الحقائب الجلدية مع ثبات الكمية المنتجة؟  
(أ) كفاءة وفاعلية. (ب) ثبات الإنتاجية. (ج) فاعلية في الإنتاج. (د) كفاءة في الإنتاج.
- ما الراتب الذي يعبر عن كمية السلع والخدمات التي يستطيع شراؤها؟  
(أ) الراتب الحقيقي. (ب) الراتب الاسمي. (ج) الراتب الأساسي. (د) الراتب الإجمالي.
- إذا علمت ان التكلفة الكلية لجهاز تنقية المياه 1200 دينار، ونسبة هامش الربح من التكلفة الكلية للجهاز الواحد 20%، فما سعر بيع الجهاز حسب طريقة التسعير على أساس التكلفة؟  
(أ) 240 دينار. (ب) 960 دينار. (ج) 1440 دينار. (د) 1200 دينار.
- أي من العمليات الإدارية الآتية تشير الى تركيز المستهلك على مثير معين دون غيره بما يتوافق مع حاجاته واهتماماته وخبراته؟  
(أ) التحريف الانتقائي. (ب) الانتباه الانتقائي. (ج) الاستبقاء الانتقائي. (د) استبقاء التنفيذ.
- أين تصنف كويونات التسويق، كجزء من المزيج الترويجي؟  
(أ) ترويج المبيعات. (ب) البيع الشخصي. (ج) التسويق المباشر. (د) الإعلان.
- ماذا يعد التسويق الالكتروني في هذا العصر؟  
(أ) قوة تنافسية. (ب) ميزة تنافسية. (ج) ضرورة تنافسية. (د) كفاية تنافسية.
- في أي مرحلة من مراحل اتخاذ القرار الشرائي، يجب وضع المعايير التي سيتم الاختيار على أساسها؟  
(أ) تقييم القرار. (ب) اتخاذ القرار. (ج) تقييم البدائل. (د) إدراك الحاجة.



**السؤال الثاني: (20 علامة)**

(أ) اقرأ الحالة الدراسية التالية ثم أجب عن الأسئلة التي تليها: (10 علامات)

**مصنع الصمود للمعدات الزراعية**

يدير عادل مصنعاً لإنتاج المعدات والآلات الزراعية، والذي يقع في منطقة الاغوار، ويصنع العديد من الأدوات والمعدات التي تلبى احتياجات المزارع مثل : المحاريث الزراعية، وخزانات المياه، ومعدات التسميد، وأدوات الري، لبي عادل دعوة احدى المؤسسات لحضور دورة تم عقدها لتعزيز صمود المشاريع في الاغوار تحت عنوان " إدارة الجودة الشاملة " ولحرصه على مواكبة التطورات للوصول بمنتجاته الى الحالة المثلى التي تلبى حاجات زبائنه، فكر بتبني تطبيق منهج إدارة الجودة الشاملة، ومن اجل ذلك عقد اجتماعاً مع الموظفين والعمال في المصنع لوضع رؤية ورسالة للمصنع، ورغم ملاحظته تدمير العاملين ورفضهم المشاركة، الا انه ايقن ضرورة تغيير الثقافة التنظيمية للعاملين في المصنع والحاجة الى تمكينهم وتدريبهم بشكل مستمر، فقرر وضع برنامج تدريبي للعاملين، وانشأ قسم خاص لمتابعة الجودة، ووضع نظام لقياس الجودة، وعمل حملة توعوية وتسويقية لهذه الفكرة بين العاملين بهدف توجيههم نحو المشاركة والتعاون وتحمل المسؤولية في سبيل نجاح تبني وتطبيق إدارة الجودة الشاملة، ولاحظ بعد فترة زمنية من التطبيق زيادة في انتماء العاملين ورضاهم وارتفاع انتاجيتهم، وزيادة في مبيعات المصنع، مما ترتب عليه تخفيض في تكاليف الإنتاج وزيادة في الأرباح ، وتحسين سمعة المصنع التي انعكست على كسب مزيد من الزبائن، ونتيجة للتوسع في المصنع أصبح بالإمكان تلبية طلبات السوق المحلية، بل والاسواق الإقليمية والعالمية.

**المطلوب:**

1. ما التحديات التي واجهها عادل في اثناء تطبيق إدارة الجودة الشاملة في المصنع؟
2. ما دور العاملين في تبني إدارة الجودة الشاملة؟
3. ما الإجراءات التي قام عادل بتنفيذها للتغلب على التحديات ونجاح فكرة تطبيق منهج إدارة الجودة الشاملة؟
4. ما فوائد تطبيق فكر ومنهج ادارة الجودة الشاملة في المصنع؟

(ب) قارن بين مرحلتي شركة التسويق والتسويق بالشبكات الاجتماعية من حيث :

1. الاساس الذي بنيت عليه
2. المنافسة
3. الاهتمام بالزبائن

(ج) الجدول الآتي يحتوي على خصائص طرق تقييم الأداء، والمطلوب تصنيفها حسب طريقة التقييم التابعة لها، ونقل كل خاصية الى العمود المناسب لها على دفتر الإجابة. (4 علامات)

الرقم	الخصائص	طرق تقييم الأداء		
		التوزيع الاجباري	الإدارة بالأهداف	الترتيب البسيط
1	تقيّد حرية المُقيّم في التقييم.			
2	ترتيب المرؤوسين تنازلياً من الاحسن الى الأسوأ في الأداء.			
3	أوسع انتشاراً وأسهل تصميماً.			
4	مشاركة المرؤوسين في وضع معايير التقييم.			
5	العدالة والموضوعية وعدم التحيز في التقييم.			
6	تعتمد في تقييم الأداء على ظاهرة التوزيع الطبيعي الاحصائي لأداء			
7	تعد من أقدم طرق التقييم.			
8	تقييم أداء الموظف بناءً على ما انجزه من أهداف متفق عليها.			

**السؤال الثالث: (20 علامة)**

(أ) يتضمن الجدول الآتي مدلولات عناصر النظام الإنتاجي، والمطلوب: حدد كل من عناصر النظام الإنتاجي أمام المدلول المناسب له. (4 علامات)

الرقم	المدلول	مكونات (عناصر) النظام الانتاجي
1	تحويل توليفة المواد الداخلة في العملية الإنتاجية الى منتجات نهائية.	
2	تشمل كل الموارد المادية وغير المادية في المنشأة والمستخدم في العملية الإنتاجية.	
3	ردود فعل المستهلكين تجاه ما تقدمه المنشأة من سلع وخدمات من أجل تحسين جودة هذه المنتجات، لضمان المنافسة الدائمة مع مثيلاتها من المنتجات.	
4	السلع او الخدمات الناتجة عن النظام الإنتاجي.	

(ب) اذكر الخطوات المتسلسلة لعملية اختيار الموارد البشرية في المنشآت؟ (6 علامات)

(ج) اليك مجموعة من متغيرات البيئة الخارجية لمنشآت الاعمال ( البطالة، القيم، التضخم، الاسرة، الضرائب، العادات والتقاليد، الجماعات المرجعية، الدين، الدخل، الزواج ) والمطلوب: تصنيفها حسب تبعيتها لكل نوع من الخصائص البيئية، بوضعها في العمود المناسب في الجدول الآتي ونقلها لدفتري الإجابة. (10 علامات)

الخصائص الاجتماعية	الخصائص الثقافية	الخصائص الاقتصادية

**السؤال الرابع: (20 علامة)**

(أ) يعمل مصنع الرواد في انتاج الحقائب النسائية، فإذا علمت ان متوسط عدد ساعات العمل الشهرية للعامل الواحد بلغت 160 ساعة، بدون تأخر وتوقف وتعطل، وان حجم الطلب على الحقائب النسائية يبلغ 4800 حقيبة شهرياً والمدة الزمنية اللازمة لصناعة الحقيبة الواحدة 30 دقيقة . (5 علامات)

المطلوب: احسب العدد اللازم من العاملين لانتاج الكمية المطلوبة.

(ب) بين أهمية إدارة العمليات الإنتاجية في المنشأة. (5 علامات)

(ج) الجدول الآتي يتضمن مختلف أنواع نماذج الإيرادات التي تحقق من خلالها المنشآت العاملة في التجارة الالكترونية إيراداتها، والمطلوب: توضيح كيفية عمل كل نموذج . (10 علامات)

الرقم	نموذج الإيرادات	كيفية عمله
1	الاشتراكات	
2	رسوم المعاملات	
3	الاحالة	
4	الإعلانات	
5	المبيعات	

**السؤال الخامس: (20 علامة)**

(أ) يحتوى الجدول الآتي على مجموعة من البيانات التي تصف عمليات الانتاج في مصنع يافا للمراوح الكهربائية للعام 2018 م . (10 علامات)

البيان	القيمة / الكمية
عدد المراوح الكهربائية المنتجة	4000 مروحة
سعر بيع المروحة	30 دينار
المواد الاولية المستخدمة ( بلاستيك )	8000 كغم
تكاليف المواد الاولية	20000 دينار
عدد ساعات العمل	7500 ساعة
تكلفة العمل المباشر	50000 دينار
الطاقة المستخدمة	15000 كيلو واط
تكلفة الطاقة المستخدمة	2000 دينار
تكاليف اخرى ( كمية الاموال المستخدمة )	10000 دينار

المطلوب : احسب كلاً من:

1. الانتاجية الكلية.
2. انتاجية ساعة العمل.
3. انتاجية الدينار من الطاقة.
4. انتاجية المواد الاولية.
5. الانتاجية المتعددة ( العمل والطاقة ).

(ب) اليك مجموعة من الحالات المتعلقة بتعويض العاملين، والمطلوب: حدد سبب زيادة الاجر (عمل إضافي، تقييم الوظيفة، غلاء المعيشة، الأقدمية، مكافأة، طبيعة العمل) في كل حالة من الحالات الواردة في الجدول: (6 علامات)

الرقم	الحالة	سبب الزيادة في الاجور
1	حصول الموظف على علاوة بنسبة 2% من الراتب الأساسي تعويضاً عن ارتفاع المستوى العام للأسعار.	
2	زيادة أجور العاملين على ماكينات قص الحجر وتحريك الآلات الثقيلة بنسبة 10% من الراتب الاجمالي.	
3	حصول الموظف احمد على مبلغ إضافي مقابل انجاز مهام بعد انتهاء دوامه الرسمي في المنشأة.	
4	إعطاء المدير المالي راتب 1500 دينار، والموظف المحاسب في قسم المالية 800 دينار.	
5	حصول الموظف على علاوة استثنائية في نهاية العام، تقديراً لجهوده المتميزة في المنشأة.	
6	ازدياد راتب الموظف علاء بعد 10 سنوات من العمل الفعلي في المنشأة ليصبح 800 دينار.	

(ج) بين طريقة عمل كل من أدوات الترويج الالكتروني الآتية: (4 علامات)

الرقم	أدوات الترويج الالكتروني	طريقة عملها
1	التسويق بالخرائط الالكترونية	
2	مراجعات الزبائن	

**السؤال السادس: (20 علامة)**

(أ) ينتج مصنع الكرمل دراجات هوائية تمتاز بالمئات والامان وسهولة الاستخدام ، اذ يعمل المصنع بمعدل 8 ساعات يومياً، وحددت الطاقة المصممة للمصنع لانتاج 5 دراجات في الساعة ، علماً ان الانتاج الفعلي اليومي للمصنع بلغ 28 دراجة هوائية، ووقت تهيئة الآلات للعمل يبلغ 30 دقيقة يومياً، ووقت الصيانة ساعة واحدة يومياً.

المطلوب: احسب كلاً مما يأتي :

(6 علامات)

1. الطاقة المصممة اليومية للمصنع. 2. الطاقة الفعلية للمصنع. 3. معدل كفاءة الطاقة الإنتاجية.

(6 علامات)

(ب) عدد مراحل دورة الترويج الالكتروني بشكل متسلسل.

(8 علامات)

(ج) علل كل من الآتي:

1. التسويق نشاط اوسع من البيع. 2. إدارة الموارد البشرية في المنشآت تحقق ميزة تنافسية لها.

3. يعتبر قياس الإنتاجية في المشاريع الصناعية أكثر سهولة عنها في المشاريع الخدمية.

**القسم الثاني: يتكون هذا القسم من سؤاليين وعلى المشترك أن يجيب عن أحدهما فقط.**

**السؤال السابع: (20 علامة)**

(أ) الجدول الاتي يتضمن مجموعة من أنشطة بعض المنشآت، المطلوب تحديد وحدات قياس الطاقة الإنتاجية او الاستيعابية لكل منشأة حسب النشاط الذي تزاوله.

(5 علامات)

الرقم	نوع النشاط	وحدات قياس الطاقة الإنتاجية أو الاستيعابية
1	المطاعم	
2	الجامعات او المعاهد	
3	الفنادق	
4	المستشفيات	
5	الطائرات	

(6 علامات)

(ب) ما مزايا عملية استقطاب الموارد البشرية للمنشأة من مصادر خارجية؟

(6 علامات)

(ج) وضح عناصر الجودة الواجب توافرها في الخدمة .

(3 علامات)

(د) تتم عملية التوزيع مباشرة من المنتج الى المستهلك او باستخدام مجموعة من مؤسسات التوزيع وهذا يعتمد على عوامل عدة، اذكرها.

**السؤال الثامن: (20 علامة)**

(أ) يحتوي الجدول الاتي على مجموعة من العوامل المؤثرة في التخطيط للموارد البشرية في مصنع الكرمل للتصنيع الغذائي، والمطلوب: تصنيف هذه العوامل فيما إذا كانت من العوامل الداخلية أو الخارجية.

(4 علامات)

الرقم	العامل المؤثر في التخطيط	تصنيف العوامل	
		داخلية	خارجية
1	ارتفاع مؤشر أسعار السلع والخدمات في سلة المستهلك.		
2	التغيرات في الهيكل التنظيمي.		
3	توفر ايدي عاملة خبيرة في التصنيع الغذائي في البلاد.		
4	تحسين تكنولوجيا التغليف والتعليب لمنتجات المصنع .		

(4 علامات)

(ب) وضح تصنيف الأساليب الترويجية حسب التكلفة؟

(6 علامات)

(ج) ما الجوانب الواجب دراستها في المنتج.

(6 علامات)

(د) علل كل مما يأتي:

1. يمتاز التسعير الالكتروني بالشفافية والعدالة لكل من البائع والمشتري.

2. تقييم أداء العاملين يؤدي الى زيادة التزامهم بتنفيذ واجباتهم وتحمل مسؤولياتهم.

3. تعتبر الطاقة الفعلية أكثر واقعية في قياس الطاقة الإنتاجية.

**انتهت الأسئلة**



اليوم: الإثنين  
التاريخ: 2021/ 07 /12  
مدة الامتحان: ساعتان ونصف  
مجموع العلامات: (100) علامة

امتحان شهادة الدراسة الثانوية العامة  
لعام ٢٠٢١م - الدورة الأولى

الفرع: الريادة والأعمال  
المبحث: الإدارة والاقتصاد  
الورقة: الثانية  
الجلسة:

ملاحظة: عدد أسئلة الورقة (ثمانية) أسئلة، أجب عن (خمسة) منها فقط

القسم الأول: يتكون هذا القسم من (سنة) أسئلة، وعلى المشترك أن يجيب عن (أربعة) منها فقط،  
على أن يكون السؤال الأول (الموضوعي) منها إجبارياً.

السؤال الأول: (20 علامة)

- يتكون هذا السؤال من (10) فقرات من نوع اختيار من متعدد، من أربعة بدائل، اختر رمز الإجابة الصحيحة، ثم ضع إشارة (x) في المكان المخصص في دفتر الإجابة:
1. أي من ودائع أموال المصرف الإسلامي الآتية، غير مشاركة في الريح والخسارة؟  
(أ) حسابات الاستثمار المشترك. (ب) حسابات الاستثمار المخصص.  
(ج) حسابات الودائع الجارية. (د) سندات المقارضة.
  2. ما نوع المنشأة التي يُشكل على أساسها المصرف التجاري؟  
(أ) شركة تضامن. (ب) شركة مساهمة عامة. (ج) شركة مساهمة خاصة. (د) شركة اشخاص.
  3. ما مبدأ المالية العامة الذي يشير الى تقديم الخدمة العامة بحيث تصبح متاحة لكل مواطن دون تمييز وحسب حاجته؟  
(أ) عدم المنافسة. (ب) عدم الإبعاد. (ج) المساواة. (د) العدالة الاجتماعية.
  4. ما العلاقة بين العملة والنقود والدخل والثروة؟  
(أ) النقود والعملة مفهومان مترادفان. (ب) هي مفاهيم مترادفة للنقود.  
(ج) الثروة تكون على شكل نقود وعملة. (د) النقود والعملة والدخل، من اشكال الثروة.
  5. إذا علمت ان الناتج المحلي لدولة ما، بلغ 990 مليون دينار، والأجور والرواتب 400 مليون دينار، في حين بلغت الفوائد 420 مليون دينار، والريع 90 مليون دينار، فكم نسبة العائد على عنصر التنظيم؟  
(أ) 8% (ب) 0.8% (ج) 80% (د) 10%
  6. أي من الآتية تعتبر من مصادر الاموال في البنوك التجارية؟  
(أ) سندات حكومية (خزينة). (ب) اصدار سندات.  
(ج) قروض ممنوحة للأفراد. (د) ارصدة لدى مصارف أخرى.
  7. اذا توافرت لديك بيانات الذمة المالية لموظف حكومي ( راتب شهري 900 دينار ، سيارة 10000 دينار، بيت للسكن 40000 دينار، أوراق نقدية 2500 دينار، ايجار شقق سكنية 500 دينار كل شهر، رصيد في البنك 5000 دينار) فما مقدار دخله السنوي؟  
(أ) 16800 دينار. (ب) 74300 دينار. (ج) 67000 دينار. (د) 10800 دينار.
  8. كم تشكل نسبة مصادر التمويل الداخلية من اموال المصرف التجاري؟  
(أ) لا تقل عن 10% (ب) لا تقل عن 50% (ج) لا تزيد عن 10% (د) 100%
  9. إذا علمت ان الناتج المحلي لدولة يساوي 3160 مليون دينار، وان نسب الانفاق الاستهلاكي والحكومي والاستثماري، بلغت 75% من الناتج المحلي، فكم قيمة صافي الصادرات؟  
(أ) 790 مليون دينار. (ب) 2370 مليون دينار. (ج) 3085 مليون دينار. (د) 2923 مليون دينار.
  10. اشترك مهند في عملية مريحة مع احدي البنوك الإسلامية لشراء سيارة بقيمة تمويل (50000) دينار، مدتها 36 شهراً، بنسبة مريحة (6%) سنوياً، وبدون تقديم دفعة مبدئية، فما مقدار القسط الشهري الذي سيدفعه مهند؟  
(أ) 9000 دينار. (ب) 1638.88 دينار. (ج) 3888.88 دينار. (د) 90000 دينار.

**السؤال الثاني: (20 علامة)**

(10 علامات) (أ) اقرأ الحالة الدراسية التالية ثم أجب عن الأسئلة التي تليها:

**صناعة الحجر في فلسطين**

تعتبر صناعة الحجر من الصناعات الاستخراجية الرئيسية في فلسطين حيث يتوافر الحجر الطبيعي الصالح لاستخدامات متعدد في مجالات البناء والانشاءات في العديد من المواقع الفلسطينية حيث تعد جماعين، وقباطية، وقلقيلية، وتقوح، وبيت فجار، وسعير، وبنينعيم، والشيوخ، وبيرزيت، وسرطة من أشهر مواقع إنتاج الحجر في فلسطين، حيث تمثل فلسطين المرتبة 12 عالمياً في إنتاج الحجر، وتؤدي هذه الصناعة دوراً هاماً في تلبية الطلب المحلي لقطاعات الانشاءات من جهة، وفي الصادرات التقليدية الفلسطينية من جهة أخرى والتي تشكل احد مكونات الناتج المحلي الفلسطيني، وتمر عملية استخراج الحجر وصناعته بعدة مراحل كما هو موضح في الجدول:

المرحلة	المنتج	قيمة الإنتاج /كوب / بالدينار
1	حجر مستخرج	920 دينار
2	حجر منقول	1000 دينار
3	حجر مقصوص	2520 دينار
4	حجر منقوش	4600 دينار

المطلوب:

1. ما ترتيب دولة فلسطين عالمياً في إنتاج الحجر؟
2. اذكر خمساً من أشهر مواقع إنتاج الحجر في فلسطين.
3. ما قيمة المنتجات الوسيطة في كل مرحلة من مراحل الإنتاج؟
4. كم تبلغ القيمة المضافة لكل مرحلة إنتاج؟
5. ما قيمة الناتج المحلي الإجمالي بطريقة القيمة المضافة؟

(ب) يحتوي الجدول الاتي أنشطة مصرفية تقدمها المصارف التجارية، والمطلوب: تحديد مُسمى الخدمة (البطاقة الائتمانية، منح الاعتمادات المستندية، حساب التوفير، بطاقة الصراف الآلي، حساب ودائع لأجل، الحوالات النقدية، تسهيلات الشركات) التي يُعبر عنها كل نشاط مصرفي من الأنشطة الواردة في الجدول.

(10 علامات)

الرقم	النشاط المصرفي	مُسمى الخدمة
1	تعهد مكتوب من قبل مصرف التاجر المشتري، بدفع مبلغاً معيناً للبائع متى قدم الوثائق المطلوبة المطابقة للشروط.	
2	نقل النقود أو ارصدة الحسابات من حساب أو مصرف لآخر، ويتقاضى عليها المصرف عمولة.	
3	بطاقة بلاستيكية ذات سقف ائتماني محدد، تصدرها المصارف وتُمكن حاملها من دفع ثمن مشترياته المحلية أو الدولية نقداً أو على أقساط بفائدة.	
4	تعطى لرجال الاعمال والمؤسسات، بهدف التمويل الشخصي أو لسد الحاجات التشغيلية أو الاستثمارية أو التجارية.	
5	حساب مصرفي يتقاضى عليه المودع نسبة معينة من الفوائد شريطة عدم سحبه قبل نهاية المدة المقررة.	

**السؤال الثالث: (20 علامة)**

أ) يحتوي الجدول الآتي على بيانات الحسابات القومية لدولة معينة، خلال سنة ما، علماً أن المبالغ بملايين الدينارين: (10 علامات)

المبالغ بالمليون دينار	البيان
16800	الدخل القومي الاجمالي
2	صافي عوائد الانتاج
8	اهتلاك رأس المال
2 (مليون نسمة)	عدد السكان

المطلوب : احسب كلاً من:

1. الناتج المحلي الاجمالي. 2. صافي الناتج المحلي. 3. صافي الناتج القومي. 4. معدل دخل الفرد من الدخل القومي.

ب) يتضمن الجدول الآتي مدلولات أنواع النقود والمطلوب: تحديد نوع النقود بما يتناسب والمطلوب. (6 علامات)

الرقم	المدلول	أنواع النقود
1	وسائل دفع محوسبة وبعملة مختلفة، يتم تداولها عبر الانترنت ومن خلال تطبيقات وبرامج خاصة لشراء السلع والخدمات.	
2	عملة ورقية تصدر لحاملها من قبل البنك المركزي ليتداولها الناس.	
3	ارصدة الافراد او المؤسسات المودعة لدى البنوك، والتي تستخدم في تسوية ما عليهم من ديون عبر امر المصارف بالمناولة والتقاص من حساباتهم.	
4	قطع نقدية من معادن مختلفة، تكون قيمتها صغيرة ، ومهمتها تسهيل المعاملات قليلة القيمة.	

ج) علل لكل من :

1. المصرف الإسلامي لا غنى له عن التعامل مع المصرف المركزي.
2. تفضيل المصارف التجارية الودائع الادخارية على غيرها من الودائع.

**السؤال الرابع: (20 علامة)**

أ) يحتوي الجدول الآتي على بيانات الدخل المتاح لدولة ما، علماً أن المبالغ مقدرة بملايين الدينارين. (10 علامات)

الحالة	الدخل	الاستهلاك	الادخار	الميل الحدي للادخار	الميل المتوسط للاستهلاك	الميل المتوسط للادخار
1	0				-	-
2	2000					
3	4000					
4	6000					

المطلوب:

1. اكمل الجدول علماً ان الاستهلاك =  $1000 + (0.75 \times \text{الدخل})$ . 2. عند أي حالة تحققت نقطة التعادل، ولماذا؟

ب) عدد مؤسسات الجهاز المصرفي في الدولة.

ج) علل ما يأتي:

1. استخدام النقود كمخزن للقيمة، رغم أنها أقل عائد من الأصول الأخرى.
2. عدم تأثر المصارف الإسلامية بأزمة الرهن العقاري.

**السؤال الخامس: (20 علامة)**

أ) اقترض التاجر خالد من مصرف تجاري مبلغ 20000 دينار، لمدة 48 شهراً، وبفائدة بسيطة معدلها 7% سنوياً، كما تقاضى المصرف عمولة 2%، فخصمت جميع هذه المصروفات من القرض، وسلم المصرف الباقي للتاجر خالد. (10 علامات) المطلوب:

1. ما مقدار فائدة القرض.
2. جد مقدار العمولة.
3. جد مقدار المصروفات المقطوعة.
4. احسب صافي المبلغ الذي استلمه التاجر.
5. احسب المعدل الحقيقي للفائدة.

ب) قارن بين الحاجة العامة والحاجة الخاصة من حيث:

1. معيار الحصول عليها.
2. الجهة التي تحدد أولوية وجودها.
3. القابلية للتنافس.

ج) علل ما يأتي:

1. عدم وجود مصرف مركزي يرأس الجهاز المصرفي في فلسطين.
2. تؤدي الزيادة في الميل المتوسط للاستهلاك الى نقصان الميل المتوسط في الادخار.

**السؤال السادس: (20 علامة)**

أ) يحتوي الجدول الآتي على مدلولات صيغ التمويل في البنوك الاسلامية، والمطلوب: تحديد صيغة التمويل (المزاجحة للأمر بالشراء، المشاركة المتناقصة المنتهية بالتملك، التأجير المنتهي بالتملك، المضاربة، المشاركة الثابتة، المساومة) بما يتناسب ومدلولها: (5 علامات)

الرقم	مدلول صيغ التمويل	صيغة التمويل
1	شراء المصرف لسعة ما، بهدف إعادة بيعها.	
2	يقدم المصرف التمويل، ويقدم الزبون العمل، ويقاسم الأرباح حسب الاتفاق، اما الخسائر فيتحمّلها المصرف فقط .	
3	شراء ما يطلبه الزبون من بضاعة، ثم يبيعها له، بربح متفق عليه عند بدء التعاقد.	
4	شراء أصل ثابت ( عقارات....) وتأجيرها للزبان، حيث يمتلكها الزبون في نهاية مدة الايجار.	
5	تمويل المصرف بشكل جزئي رأس مال المشروع، على ان يصبح المصرف شريكاً في ملكيته، سواء كانت مدة المشروع طويلة أو قصيرة .	

ب) الجدول الآتي يحتوي بيانات انتاج دولة ما من سلعتي التمور و زيت الزيتون ، علما ان سنة الأساس 2016 . (10 علامات)

العام	سعر مُنتج التمور	كمية الإنتاج من التمور	سعر مُنتج زيت الزيتون	كمية الإنتاج من زيت الزيتون
2016م	1500 دينار	30000 طن	2000 دينار	40000 طن
2017م	2000 دينار	40000 طن	3000 دينار	50000 طن
2018م	3000 دينار	60000 طن	4000 دينار	70000 طن

المطلوب :

1. كم يبلغ الناتج المحلي الاسمي لعام 2017 وعام 2018؟
2. كم يبلغ الناتج المحلي الحقيقي للعام 2016 والعام 2017؟
3. ما نسبة النمو في الناتج المحلي الحقيقي لعام 2017؟

ج) فرق بين المالية المحايدة والمالية الوظيفية. (5 علامات)



القسم الثاني: يتكون هذا القسم من سؤالين وعلى المشترك أن يجيب عن أحدهما فقط.

**السؤال السابع: (20 علامة)**

(أ) قارن بين مصادر الأموال الداخلية ومصادر الأموال الخارجية في المصارف التجارية، من حيث : (6 علامات)  
1. الاعتماد عليها.  
2. تفضيل المصرف لها.

(ب) يعمل عمر في تجارة أجهزة الحاسوب، دخل في مضاربة مع احد البنوك الإسلامية العاملة في فلسطين، بحيث يتقاسم الربح بنسبة 65% للمصرف و 35% له، ويقدم المصرف التمويل لهذه الصفقة من أجهزة الحاسوب، وبعد الانتهاء من بيع أجهزة الحاسوب، قدرت المصاريف بـ 5000 دينار، في حين بلغت حجم إيرادات الصفقة 60000 دينار. (6 علامات)  
المطلوب:

1. كم نصيب المصرف من الأرباح؟
2. كم نصيب التاجر عمر من الأرباح؟
3. في حال حققت الصفقة خسارة مقدارها 10000 دينار، فكم نصيب كل منهما من الخسارة.

(ج) عرف كلاً مما يأتي:  
1. الاستهلاك التلقائي. 2. الاستهلاك المستحث. 3. المالية العامة. 4. بانكو. (8 علامات)

**السؤال الثامن: (20 علامة)**

(أ) يحتوي الجدول الآتي على معايير للمقارنة بين أساس العمل في المصارف الإسلامية (الربح)، وأساس العمل في المصارف التجارية (الفائدة/الربا) ، والمطلوب: تحديد الفارق بينهما وفقاً للمعايير المدرجة في الجدول: (6 علامات)

الرقم	مجال المقارنة	المصارف الإسلامية (الربح)	المصارف التجارية (الفائدة/الربا)
1	حجم العائد		
2	الأثر في توزيع الدخل		
3	ارتباطها بنتيجة العمل		

(ب) اذا علمت أن قيمة الناتج المحلي حسب طريقة الدخل لدولة ما، بلغت 90 مليون دينار وتوافرت لك البيانات الواردة في الجدول الآتي: (10 علامات)

مكونات الانفاق	الانفاق / دينار
الانفاق الاستهلاكي للأسرة.	40 مليون
الاستثمارات الكلية.	28 مليون
صافي التجارة الخارجية.	2.5 مليون
الصادرات.	4 مليون

المطلوب: احسب كلاً مما يأتي:

1. قيمة الناتج المحلي حسب طريقة الانفاق .
2. حجم النفقات الحكومية.
3. حجم الواردات .
4. كم تبلغ نسبة كل من قطاعات الانفاق من الناتج المحلي الإجمالي؟

(ج) عرف كلاً من:  
1. الاحتياطي الاجباري.  
2. سندات المقارضة. (4 علامات)

انتهت الأسئلة



## امتحان شهادة الدراسة الثانوية العامة لعام 2021م - الدورة الثانية

اليوم: الثلاثاء  
التاريخ: 2021/ 08 /24 م  
مدة الامتحان: ساعتان ونصف  
مجموع العلامات: (100) علامة

الفرع: الريادة والأعمال  
المبحث: الإدارة والاقتصاد  
الورقة: الأولى  
الجلسة:

ملاحظة: عدد أسئلة الورقة (ثمانية) أسئلة، أجب عن (خمسة) منها فقط

القسم الأول: يتكون هذا القسم من (ستة) أسئلة، وعلى المشترك أن يجيب عن (أربعة) منها فقط، على أن يكون السؤال الأول (الموضوعي) منها إجبارياً.

### السؤال الأول: (20 علامة)

يتكون هذا السؤال من (10) فقرات من نوع اختيار من متعدد، من أربعة بدائل، اختر رمز الإجابة الصحيحة، ثم ضع إشارة (×) في المكان المخصص في دفتر الإجابة:

1. ما المبرر المحتمل الذي لا يسهم في ظهور إدارة الموارد البشرية ؟  
(أ) ظهور النقابات العمالية .  
(ب) انخفاض وعي وثقافة العاملين .  
(ج) زيادة وعي وثقافة العاملين .  
(د) سن قوانين وتشريعات العمل .
2. ما طريقة تقييم الاداء التي يتركز تقييم معظم العاملين حول القيمة الوسيطة؟  
(أ) الترتيب البسيط. (ب) الادارة بالأهداف. (ج) التوزيع الاجباري. (د) معايير التقييم.
3. أي من الإدارات الآتية يسند اليها تصميم وتشغيل ورقابة العمليات التحويلية ؟  
(أ) العمليات الانتاجية. (ب) الموارد البشرية. (ج) التسويق. (د) المالية.
4. ما اداة الترويج الالكتروني المتمثلة بتقييمات الزبائن للمنتجات والتي يدونونها في مواقع التسويق الالكتروني ؟  
(أ) التسويق بالخرائط الالكترونية. (ب) التسويق بالبريد الالكتروني. (ج) التسويق بمراجعات الزبائن. (د) التسويق بمحركات البحث.
5. أي من العمليات الادراكية الآتية يشير الى تفسير المعلومات بطريقة تدعم معتقدات المستهلك وتتوافق مع قدراته العقلية والنفسية واتجاهاته؟  
(أ) الاستنباه الانتقائي. (ب) الانتباه الانتقائي. (ج) التحريف الانتقائي. (د) الانتماء الانتقائي.
6. اذا علمت ان عدد الموظفين المطلوب في منشأة ما لإنجاز الهدف المرسوم (4) موظفين وعدد ساعات العمل الشهرية للفرد الواحد تساوي (160) ساعة، فكم عبء العمل الاجمالي الاسبوعي بالساعة؟  
(أ) 160 ساعة. (ب) 640 ساعة . (ج) 460 ساعة. (د) 164 ساعة.
7. أي من مؤسسات التوزيع الآتية تتعامل بكميات صغيرة وعدد صفقاتها كثيرة وقيمتها قليلة:  
(أ) الوكلاء. (ب) الموزعون. (ج) تجار الجملة. (د) تجار التجزئة.
8. بماذا يتمثل جوهر الانتاجية؟  
(أ) تحسين كفاءة عمليات الانتاج. (ب) استخدام المزيد من الموارد المتاحة. (ج) تقليل الأنشطة وعمليات الإنتاج المستخدمة. (د) استخدام المزيد من الموارد لتحقيق المزيد من المخرجات.
9. ما الطاقة الفعلية لإنتاج الكراسي الخشبية، اذا علمت ان معدل كفاءة الطاقة الانتاجية يساوي (88.88%) والانتاج الفعلي 20 كرسي ؟  
(أ) 20 كرسيًا. (ب) 22.5 كرسيًا. (ج) 2.25 كرسيًا. (د) 225 كرسيًا.
10. أي من الآتية لا يعتبر من مرحلة الانتاج في تطور مفهوم التسويق ؟  
(أ) بيع ما يتم انتاجه. (ب) المنافسة القليلة. (ج) فائض في الاسواق. (د) بدائية الاختيار الاستهلاكي.

**السؤال الثاني: (20 علامة)**

(5 علامات)

أ) أذكر خطوات قرار عملية شراء .

(6 علامات)

ب) علل ما يلي:

1. تدفع العديد من المنشآت بدلات لبعض العاملين فيها .
2. تختلف عناصر النظام الانتاجي حسب طبيعة المنتج .
3. الاسم التجاري من اهم القرارات التي تتخذها المنشأة .

ج) يحتوى الجدول الآتي على مجموعة من المتغيرات الشخصية للمستهلك المطلوب : تصنيفها حسب علاقتها بجوانب الشخصية (الديمغرافية ، الدوافع ، الادراك ، نمط الحياة) . (6 علامات)

الخصائص الشخصية للمستهلك	المتغيرات الشخصية
	1- مستوى الدخل
	2- الحاجة الى الانتماء والتقدير
	3- الاهتمامات
	4- الآراء المتبناة
	5- غريلة البيانات
	6- الشعور بالجوع

د) ما الأمور التي تتبعها ادارة الموارد البشرية عند عدم توافر التوافق بين الوصف والتوصيف الوظيفي من خلال الموظفين داخل المنشأة؟ (3 علامات)

**السؤال الثالث: (20 علامة)**

(6 علامات)

أ) 1. قارن بين طرق التقييم الآتية :

طرق التقييم	المفهوم	اعتماد المعايير
الترتيب البسيط		
قائمة معايير التقييم		

(4 علامات)

2. من اشكال التعويضات في منشآت الأعمال التعويضات غير المباشرة ، وضحها .

(6 علامات)

ب) وضح العلاقة بين الطاقة الانتاجية والارباح .

(4 علامات)

ج) اليك مجموعة من الحالات المتعلقة بتعويض العاملين، المطلوب :حدد سبب زيادة الأجر في كل حالة من الحالات الواردة في الجدول .

الرقم	الحالة	سبب الزيادة في الاجور
1	اعطاء مدير التسويق راتب 1850 دينار اما مندوب المبيعات 1500 دينار .	
2	حصول احد المعلمين على مبلغ اضافي مقابل مشاركته في برنامج تعليم الكبار	
3	حصول الموظف على علاوة استثنائية تقديرا لجهوده المميزة في اخر ثلاث سنوات .	
4	ازدياد راتب المعلمة عبير بعد (20) سنة من العمل الفعلي كمعلمة ليصبح 1250 دينار .	

**السؤال الرابع: (20 علامة)**

- (أ) فيما يلي بيانات التكاليف المرتبطة بجهاز فحص المركبات الميكانيكية وهي كما يأتي:
1. التكلفة الأولية للجهاز الواحد = 2000 دينار .
  2. تكلفة نقل الجهاز الواحد = 4% من التكلفة الأولية للجهاز .
  3. كلفة تركيب وتجميع الجهاز = 8% من التكلفة الأولية للجهاز .
  4. نسبة هامش الربح = 10% من التكلفة الكلية للجهاز الواحد.
- المطلوب : احسب سعر بيع الجهاز شاملا للنقل والتركيب بطريقة التسعير على اساس التكلفة .

- (ب) علل ما يلي :
1. ازدياد الاهتمام بمنهج تطبيق ادارة الجودة الشاملة.
  2. ليس كل تسويق يفضي الى البيع.
  3. تقييم اداء العاملين ليس هدفا بحد ذاته.

- (ج) يتضمن الجدول الآتي عناصر الجودة المحتملة لكل من السلعة او الخدمة والتي يطلبها الزبائن، والمطلوب: تصنيفها فيما اذا كانت من العناصر التي تختص بالسلعة او الخدمة.

(5 علامات)

الرقم	عناصر الجودة	تختص بالسلعة	تختص بالخدمة
1	الاعتمادية واستمرارية اداء المنتج		
2	سرعة الاستجابة عند الطلب		
3	مراعاة الخصوصية		
4	سهولة الصيانة		
5	المتانة		

- (د) وضح مرحلة علاقات التسويق كمرحلة من مراحل نشأة التسويق.

(3 علامات)

**السؤال الخامس: (20 علامة)**

- (أ) يحتوي الجدول الآتي مراحل انتاج التحف الخشبية بدءاً من شراء جذوع الشجر وانتهاءً ببيعها في محلات التجزئة كمجسمات تحف خشبية، والمطلوب: أكمل الجدول الآتي:

(9 علامات)

الرقم	المرحلة	تكلفة المرحلة بالدينار	تكلفة السلعة الوسيطة	القيمة المضافة
1	شراء جذوع الشجر	10		
2	نقل جذوع الشجر			
3	قص الجذوع	20	14	
4	نحت القطع الخشبية	30		10
5	بيع مجسمات خشبية	50		20

- (ب) يحتوي الجدول الآتي على مجموعة من المنتجات، والمطلوب: تصنيفها حسب قابليتها للرقمنة (كاملة الرقمنة / جزئية الرقمنة)

(5 علامات)

الرقم	المنتج	كاملة الرقمنة	جزئية الرقمنة
1	برامج الحاسوب المخزنة على أقراص مدمجة.		
2	الكتب الورقية.		
3	الوجبات السريعة.		
4	استشارات اقتصادية عبر المواقع الالكترونية.		
5	الملابس.		

- (ج) وضح العلاقة بين ادارة الموارد البشرية والادارات التنفيذية الاخرى في المنشأة .

(6 علامات)

**السؤال السادس: (20 علامة)**

أ) يحتوي الجدول الآتي على بيانات خاصة بعمليات إنتاج مصنع الحرية للمكيفات . (6 علامات)

البيان	القيمة/ الكمية	البيان	القيمة/ الكمية
عدد المكيفات المنتجة	4000 مكيف	سعر بيع المكيف	500 دينار
الطاقة المستخدمة	100000 كيلو واط	تكلفة الطاقة المستخدمة	20000 دينار
تكلفة المدخلات	دينار 1000000	المواد الاولية المستخدمة	45000 كغم

المطلوب احسب :

1. الانتاجية الكلية.
2. انتاجية الدينار من الطاقة.
3. انتاجية المواد الاولية.

ب) اليك الحالة الدراسية التالية: (9 علامات)

**" الصحة عنوان "**

اعلنت دولة فلسطين في بداية شهر اذار من عام 2020 حالة الطوارئ لمواجهة انتشار فايروس كورونا او ما يطلق عليه (كوفيد 19) وقد اشادت منظمة الصحة العالمية بالإجراءات التي اتخذتها دولة فلسطين . ومع التزايد في اعداد الاصابات بين المواطنين بسبب سرعة انتشار الطفرات الجديدة وتنوعها اصبح هناك اعراض لدى المصابين تمثلت في ارتفاع درجات الحرارة وفقد حاستي الشم والتذوق وضيق التنفس الامر الذي استدعى دخول المصابين الى المستشفيات لتلقي العلاج وحاجتهم للأوكسجين وبسبب ارتفاع نسبة الاشغال على الاجهزة المنتجة للأوكسجين في المستشفيات اقترح مجموعة من الشباب اطلاق مبادرة بعنوان "الصحة عنوان" على منصات التواصل الاجتماعي هدفت الى توعية المواطنين بالممارسات الصحية السليمة من لبس الكمامات، والتباعد الاجتماعي، وغسل الايدي وذلك من خلال: نشرات توعوية، ومقاطع فيديو، ومقابلات مع مختصين، عبر منصات مختلفة. بالإضافة الى ذلك قاموا بحملة لجمع التبرعات لشراء اجهزة توليد اوكسجين سعة 5 لتر ، و 10 لتر لمساعدة المواطنين المحتاجين لها في اطار المسؤولية المجتمعية .وبعد شهر من اطلاق المبادرة تجاوز عدد اصدقاء الصفحة الى 7000 صديق وعدد زوار الصفحة 12000 مشاهدة وتم جمع تبرعات من المواطنين وفق اصول مالية تضمن الشفافية ،اذ تم شراء 10 اجهزة توليد اوكسجين وتسليمها لمراكز وعيادات صحية متخصصة للقيام بإعارتها لمن يحتاجها وفق الأصول والمعايير الصحية والإدارية، مما اعتبره الشباب المبادرين مؤشراً على نجاح مبادرتهم.

المطلوب: اجب عن الاسئلة التالية:

1. اين تمثلت الحاجة للترويج الالكتروني؟
2. ما الرسالة الترويجية التي تم صياغتها من قبل الشباب المبادرين؟
3. لماذا اختار الشباب المبادرين موقع التواصل الاجتماعي كأداة للترويج الالكتروني؟
4. كيف تقيم نتائج الحملة الترويجية التي تم اطلاقها.

ج) اذكر اهمية التسويق في منشآت الاعمال . (5 علامات)

القسم الثاني: يتكون هذا القسم من سؤالين وعلى المشترك أن يجيب عن أحدهما فقط.

**السؤال السابع: (20 علامة)**

أ) ما المقصود بالآتية : (5 علامات)

1. الطاقة المحجوزة. 2. الكفاءة. 3. منافع المنتج. 4. عنق الزجاجة. 5. تعويض العاملين.

ب) يحتوي الجدول الآتي على مجموعة من المفردات الترويجية ( المجلات ، العينات المجانية ، الملصقات على الحافلات ، التسويق عبر الهاتف ، اللقاءات البيعية ، رعاية الأنشطة ) . المطلوب تصنيفها حسب تبعيتها لعناصر المزيج التسويقي الواردة في الجدول ادناه . (5 علامات)

البيوع الشخصي	الاعلان	التسويق المباشر	ترويج المبيعات	العلاقات العامة

ج) ينتج مصنع العود أنواع مميزة من الاسمدة العضوية ، فاذا علمت ان المصنع يعمل بمعدل 8 ساعات يوميا حيث حددت الطاقة المصممة لإنتاج 100 كيس في الساعة علماً بان وقت تهيئة الآلات للعمل يبلغ 90 دقيقة يوميا، ووقت الصيانة 90 دقيقة يوميا.

المطلوب : احسب كلا مما يلي:

1. الطاقة المصممة اليومية. 2. الطاقة الفعلية.

3. معدل كفاءة الطاقة الانتاجية علما بان الانتاج الفعلي اليومي 400 كيس. (6 علامات)

د) عدد خطوات تقييم الاداء . (4 علامات)

**السؤال الثامن: (20 علامة)**

أ) يحتوي الجدول الآتي على عدد من العوامل المحتملة التأثير في إنتاجية شركة عقارات متخصصة في بناء الشقق السكنية، والمطلوب تصنيف هذه العوامل الى عوامل ( داخلية أو خارجية ) ، مع تحديد نوع التأثير ( زيادة أو نقصان). (6 علامات)

الرقم	العوامل المؤثرة في الانتاجية	المصادر	الأثر على الانتاجية
1	صدور تعليمات من البلدية بتوحيد مواصفات الشقق السكنية.	داخلية / خارجية	زيادة/نقصان
2	توفر مراكز تدريب مهني لعمال البناء.		
3	استخدام عمالة جديدة في مجال البناء.		

ب) ما الفرق بين الاستقطاب والتعيين من حيث: 1. المفهوم. 2. الهدف. (4 علامات)

ج) عدد نماذج الإيرادات التي تحقق من خلالها المنشآت العاملة في التجارة الالكترونية إيراداتها. (5 علامات)

د) قارن بين الوكلاء والموزعون حسب المجالات الواردة في الجدول ادناه. (5 علامات)

الموزعون	الوكلاء	مجال المقارنة
		امتلاك البضاعة
		العائد
		الجهة التي يمثلها

انتهت الأسئلة



## امتحان شهادة الدراسة الثانوية العامة لعام 2021م - الدورة الثانية

اليوم: الأربعاء  
التاريخ: 2021/ 08 /25 م  
مدة الامتحان: ساعتان ونصف  
مجموع العلامات: (100) علامة

ملاحظة: عدد أسئلة الورقة (ثمانية) أسئلة، أجب عن (خمس) منها فقط

القسم الأول: يتكون هذا القسم من (سنة) أسئلة، وعلى المشترك أن يجيب عن (أربعة) منها فقط، على أن يكون السؤال الأول (الموضوعي) منها إجبارياً.

### السؤال الأول: (20 علامة)

يتكون هذا السؤال من (10) فقرات من نوع اختيار من متعدد، من أربعة بدائل، اختر رمز الإجابة الصحيحة، ثم ضع إشارة (×) في المكان المخصص في دفتر الإجابة:

1. ماذا يقصد بحشد المدخرات، كوظيفة من وظائف المصرف؟  
(أ) الحصول على النقود من وحدات الفائض، من خلال الودائع.  
(ب) إعادة ضخ النقود في جسم الاقتصاد.  
(ج) تقديم التسهيلات لمختلف وحدات الاستثمار.  
(د) تحويل النقود من وحدات الفائض الى وحدات العجز.
2. ماذا يحصل لو كانت قيمة النقود المساعدة كسلعة، اعلى من قيمتها كنقد؟  
(أ) قد يصهر بعض الصيارفة النقود لصناعة الحلبي.  
(ب) تظهر النقود المساعدة بكميات كبيرة في السوق.  
(ج) تسهل المعاملات التجارية قليلة القيمة.  
(د) تقل نسبة التضخم في الاقتصاد.
3. أي من الآتية تعتبر من حقوق ملكية المصرف التجاري؟  
(أ) القروض الممنوحة للجمهور. (ب) العقارات المملوكة للمصرف.  
(ج) الاحتياط الاجباري. (د) الشهرة وبراءة الاختراع.
4. ما مصدر الودائع في المصارف المركزية؟  
(أ) المواطنون. (ب) الحكومة.  
(ج) رجال الأعمال. (د) المصارف الأخرى.
5. ما سبب ضعف الدور التنموي للبنوك التجارية في فلسطين؟  
(أ) تقديمها للفائدة أخذاً او عطاء.  
(ب) استخدامها للودائع في استثمارات حقيقية.  
(ج) قيام معاملاتها على أساس المشاركة.  
(د) توزيع المخاطرة على شريحة واسعة من المودعين.
6. ما النقود التي تصدر بموجب أمر مباشر بالصرف؟  
(أ) الورقية. (ب) المعدنية.  
(ج) الالكترونية. (د) المصرفية.
7. ما صيغة التمويل التي تقوم على شراء المصرف لسلعة ما، بهدف إعادة بيعها فيما بعد للزبون؟  
(أ) المساومة. (ب) المرابحة للأمر بالشراء.  
(ج) المشاركة الثابتة. (د) المشاركة المتناقصة.
8. إذا بلغت قيمة الناتج المحلي لدولة (8340) دينار، وكانت نسبة الإنتاج (125%) من الناتج المحلي، فما قيمة المنتجات الوسيطة؟  
(أ) 6255 دينار. (ب) 10425 دينار.  
(ج) 2085 دينار. (د) 8315 دينار.
9. اذا بلغ حجم الدخل (420) مليون دينار، والاستهلاك الثابت (100) مليون دينار، ونسبة الميل الحدي للاستهلاك (65%)، فكم تبلغ قيمة الادخار؟  
(أ) 273 مليون دينار. (ب) 272 مليون دينار.  
(ج) 147 مليون دينار. (د) 47 مليون دينار.
10. ما أثر زيادة تكاليف الإنتاج؟  
(أ) انخفاض الواردات. (ب) زيادة الثروة.  
(ج) انخفاض الناتج المحلي. (د) زيادة الناتج المحلي.

**السؤال الثاني: (20 علامة)**

أ) ما السمات الواجب توافرها في العملة النقدية حتى تستطيع تأدية وظائفها الاقتصادية؟ (8 علامات)

ب) بتاريخ 2016/2/18م اقترض تاجر من مصرف تجاري مبلغ 20000 دينار لمدة 180 يوم، وبفائدة بسيطة معدلها 6% سنويا كما تقاضى المصرف عمولة 3% فخصمت جميع هذه المصروفات من القرض، وسلم المصرف الباقي للتاجر، المطلوب:

1. ما مقدار فائدة القرض. 2. جد مقدار العمولة. 3. جد مقدار المصروفات المقطوعة من القرض. 4. احسب صافي المبلغ الذي استلمه التاجر. 5. احسب المعدل الحقيقي للفائدة.

ج) افترض ان اقتصاد دولة ما ينتج سلعتين (س، ص)، وبأسعار وكميات لسنوات مختلفة، كما في الجدول التالي، علما ان سنة الأساس (2019م): (6 علامات)

الكميات والاسعار				
العام	سعر (س) بالدينار	كمية (س) بالأطنان	سعر (ص) بالدينار	كمية (ص) بالأطنان
2018م	2	100	1	100
2019م	4	150	2	200
2020م	6	200	3	300

المطلوب: 1. كم يبلغ الناتج المحلي الإجمالي الاسمي للسنوات الواردة في الجدول؟ 2. كم يبلغ الناتج المحلي الحقيقي للسنوات الواردة في الجدول؟ 3. ما نسبة النمو في الناتج المحلي الحقيقي لعام 2020م؟

**السؤال الثالث: (20 علامة)**

أ) اتفق أحمد مع أحد المصارف الإسلامية الفلسطينية على تأسيس مشروع مشترك بينهما بموجب عقد مضاربة ، اذ يقدم المصرف مبلغا نقديا (50000) دينار ،ويقوم احمد بإدارة هذا المشروع بخبرته ،بحيث يتقاسم الأرباح بالتساوي، ولنفرض ان المشروع الذي استثمر فيه ،حقق في السنة الأولى من عمله ربحا مقداره (16000)دينار. (6 علامات)

المطلوب:

1. كم نصيب المصرف من الأرباح؟ وكم نصيب أحمد منها؟ 2. في حالة تحقيق المشروع خسارة مقدارها (14000) دينار، فكم يبلغ نصيب كل منهما من الخسائر المحققة؟ ب) اذا علمت أن قيمة الناتج المحلي حسب طريقة الدخل لدولة ما، بلغت (120) مليون دينار ،واعطيت لك البيانات الواردة في الجدول الآتي: (8 علامات)



مكونات الانفاق	الانفاق/دينار
الانفاق الاستهلاكي للأسر.	50 مليون
الاستثمارات الكلية.	30 مليون
صافي التجارة الخارجية.	3 مليون
الواردات	2 مليون

المطلوب: احسب كلا مما يأتي:

1. قيمة الناتج المحلي، حسب طريقة الانفاق.
2. حجم النفقات الحكومية.
3. حجم الصادرات.

(6 علامات)

ج) قارن بين أنواع الحسابات الآتية في المصرف الاسلامي:

حساب الاستثمار المتخصص	حساب التوفير	الحساب الجاري	مجال المقارنة
			أصل العقد
			الهدف من الحساب
			المشاركة في الربح والخسارة
			نسبة المشاركة في الربح
			السحب

السؤال الرابع: (20 علامة)

أ) قارن بين مصادر الأموال الداخلية ومصادر الأموال الخارجية في المصارف التجارية، من حيث ما ورد في الجدول: (6 علامات)

رقم	مجال المقارنة	مصادر الأموال الداخلية	مصادر الأموال الخارجية
1	الاعتماد عليها.		
2	تفضيل المصرف لها.		
3	الأمثلة.		

ب) عرف ما يلي: 1. سندات المقارضة. 2. الودائع الآجلة. 3. الدخل القومي. 4. الاستهلاك الخاص. (8 علامات)

(6 علامات)

ج) علل لكل مما يأتي:

1. سلوك الناس هو المحدد لتعريف ما يعد نقدا وما لا يعد.
2. حاجة المصارف للسيولة الكبيرة.

**السؤال الخامس: (20 علامة)**

أ) تقدم عبد الله بطلب لمصرف إسلامي لشراء (50) طن اسمنت، وذلك بصيغة تمويل المرابحة، وبأقساط شهرية لمدة سنتين، حيث وافق المصرف على ذلك، بضمان رهن محل تجاري، وبنسبة ربح (5%) سنويا، علما ان ثمن الاسمنت في محلات بلدنا فلسطين (4000) دينار، والمطلوب:

(6 علامات)

1. ما مقدار الأرباح التي حققها المصرف؟

2. ما مقدار القسط الشهري الذي سيدفعه عبد الله؟

3. كم يبلغ الثمن الإجمالي لصفقة الاسمنت، علما انه لا يوجد دفعة أولية؟

(6 علامات)

ب) حالة دراسية

كريم موظف حكومي، ورب لأسرة فلسطينية مكونة من أب وام وأربعة من الأبناء، وتحتاج أسرته الى الكثير من الحاجات، فله ابنتان في مدرسة أساسية للإناث وابنته في مدرسة ثانوية، وابنه الأكبر يدرس في إحدى الجامعات الفلسطينية الخاصة، وهو مصاب بمرض السكري، ويصرف الانسولين من المركز الصحي الحكومي، ويحتاج الى مواد غذائية شهريا بقيمة 260 دينار، والى مواصلات واتصالات بقيمة 80 ديناراً، كما يحتاج الى مصاريف خاصة أخرى بقيمة 160 دينار، فاذا افترضنا ان تكلفة الدراسة للفرد الواحد في المدارس الحكومية في مختلف المراحل 800 دينار، وان تكلفة الدراسة الجامعية تقدر سنويا ب 1500 دينار، وان تكلفة فاتورة الانسولين سنويا 280 دينار، علما ان الحاجة العامة يحصل عليها كريم مجانا، ويتقاضى راتبا شهريا قدره 1000 دينار، يخصم منه ضريبة الدخل شهريا بقيمة 40 ديناراً.

المطلوب: بعد قراءة الحالة بتمعن، اجب عن التساؤلات التالية:

1. ما قيمة الحاجات الخاصة التي تحصل عليها اسرة كريم؟

2. كم عدد المقاعد الدراسية التي تحصل عليها اسرة كريم، من حساب المالية العامة؟

3. ما قيمة الحاجات العامة التي تحصل عليها اسرة كريم؟

4. من الذي يغطي تكلفة الحاجة العامة؟

5. ما قيمة مساهمة كريم في تمويل الخزنة العامة للدولة؟

6. كم يستطيع كريم ان يدخر سنويا؟

ج) يحتوي الجدول الآتي على بيانات الدخل المتاح والطلب الاستهلاكي لدولة ما، علما ان المبالغ المقدرة بملايين الدنانير، اذا

(8 علامات)

علمت ان نقطة التعادل تتحقق عند الحالة (د)، أكمل الجدول التالي:

الحالة	الدخل ( Y )	الاستهلاك ( C )	الادخار ( S )	الميل الحدي للاستهلاك ( MPC )	الميل الحدي للادخار ( MPS )
أ	0	90	90-	-----	-----
ب	100				
ج	200	230			
د	300				
هـ	400				
و	500				

**السؤال السادس: (20 علامة)**

أ) يحتوي الجدول الآتي على بيانات للناتج المحلي وبعضاً من مكوناته لدولة معينة، علماً أن المبالغ مقدرة بالمليون دينار وأن حجم الاستثمار بلغ ( 20 ) مليون دينار، وحجم النفقات الحكومية قد بلغت (30) مليون دينار: (8 علامات)

الدخل	الاستهلاك	صافي التجارة الخارجية	مجموع الانفاق	حالة الاقتصاد
0	40	30		120-
160	136		200	
	148	12		30-
200		10	220	
	172	8		10-
240	184			0
260	196		250	

والمطلوب:

1. أكمل الجدول السابق. 2. احسب الميل الحدي للاستهلاك. 3. احسب الميل الحدي للدخار.

ب) قارن بين الحاجات العامة والحاجة الخاصة، من حيث: جهة الانفاق، الهدف، الأمثلة. (6 علامات)

ج) علل لكل مما يأتي: (6 علامات)

1. قيمة الاستهلاك التلقائي موجبة حتى وإن كان الدخل المتاح صفر.

2. لا يتم احتساب المنتجات الأولية أو الوسيطة في الناتج المحلي.

القسم الثاني: يتكون هذا القسم من سؤالين وعلى المشترك أن يجيب عن أحدهما فقط.

**السؤال السابع: (20 علامة)**

أ) صنف الحسابات التالية التي ترد في الميزانية العمومية للبنك التجاري إلى مصادر أموال أو استخدامات. (6 علامات)

الرقم	مصادر الأموال واستخداماتها	مصدر مال	استخدام مال
1	عقارات مملوكة للمصرف		
2	ودائع جارية		
3	اصدار سندات		
4	قروض ممنوحة للأفراد		
5	قرض من البنك المركزي		
6	ودائع لأجل		

ب) بالاعتماد على المعادلة الآتية: الاستهلاك = 500 دينار + (0.75 X الدخل) اجب عن الأسئلة الآتية: (8 علامات)

1. كم يبلغ الاستهلاك الثابت؟

2. كم يبلغ الميل الحدي للاستهلاك؟

3. إذا كان حجم الدخل يساوي 24000 دينار، كم يبلغ حجم الاستهلاك؟

4. إذا كان حجم الدخل يساوي 30000 دينار، كم يبلغ حجم الادخار؟

(ج) صنف الأنشطة الاقتصادية الآتية حسب القطاعات المكونة للناتج المحلي الإجمالي، والجهة المنفقة: (6 علامات)

النشاط الاقتصادي	الجهة المنفقة	قطاع الانفاق
شراء الأغذية والملابس.		
بناء المؤسسات التعليمية العامة.		
شراء سيارات خاصة		
إقامة مشاريع في الخارج.		
دفع رواتب رجال الشرطة.		
تصدير المنتجات الزراعية.		

**السؤال الثامن: (20 علامة)**

(أ) يحتوي الجدول الآتي على حجم الاستهلاك الكلي عند كل مستويات الدخل المتاح لأحدى الدول، علماً بأن المبالغ مقدرة بملايين الدينانير:

(8 علامات)

الحالة	الدخل (Y)	الاستهلاك (C)	الادخار (S)	الميل المتوسط للاستهلاك (APC)	الميل المتوسط للادخار (APS)
أ	0	100	100-		
ب	100	175			
ج	200	250			
د	300	325			
هـ	400	400			
و	500	465			
ز	600	550			
ح	700	625			

المطلوب: أجب عن الأسئلة الآتية:

1. أكمل الجدول السابق.

2. عند الحالة (ب)، فسر الميل المتوسط للاستهلاك، والميل المتوسط للادخار.

(ب) عرف كلا مما يلي: 1. بانكو 2. اهتلاك رأس لمال 3. مستودع القيمة. (6 علامات)

(ج) فرق بين كل من: (6 علامات)

1. مبدأ عدم الابعاد ومبدأ عدم المنافسة.

2. المالية الوظيفية والمالية المحايدة.

انتهت الأسئلة



## امتحان شهادة الدراسة الثانوية العامة لعام 2021م

اليوم:  
التاريخ: / / 2021م  
مدة الامتحان: 3 ساعات  
مجموع العلامات: (200) علامة

الفرع: الريادة والأعمال  
المبحث: الإدارة والاقتصاد  
الورقة: -  
الجلسة:

ملاحظة: عدد أسئلة الورقة (ثمانية) أسئلة، أجب عن (خمسة) منها فقط

القسم الأول: يتكون هذا القسم من (ستة) أسئلة، وعلى المشترك أن يجيب عن (أربعة) منها فقط، على أن يكون السؤال الأول (الموضوعي) منها إجبارياً.

### السؤال الأول: (40 علامة)

يتكون هذا السؤال من (10) فقرات من نوع اختيار من متعدد، من أربعة بدائل، اختر رمز الإجابة الصحيحة، ثم ضع إشارة (×) في المكان المخصص في دفتر الإجابة:

1. أي من الآتية يعتبر من المصادر الخارجية للأموال في المصارف التجارية؟  
(أ) الأموال من ودائع الجمهور  
(ب) رأس المال المدفوع.  
(ج) الاحتياطيات لدى المصرف المركزي.  
(د) صافي الأرباح الناتجة عن استثمارات.
2. ما مصدر التمويل الخارجي للمصرف الإسلامي الذي يقصد به ودائع استثمارية على شكل وثائق تصدر لحاملها بقيمة اسمية محددة؟  
(أ) سندات المقارضة. (ب) الاستثمار المخصص.  
(ج) الاستثمار المشترك  
(د) الودائع الجارية
3. أي مما يأتي ليس هدفاً لتقييم أداء العاملين في المنشأة؟  
(أ) تحفيز العاملين. (ب) تعويض العاملين  
(ج) تعديل سلوكهم.  
(د) التقييم من أجل التقييم.
4. ما قيمة الاستهلاك المستحث إذا كان الاستهلاك الثابت (500) دينار والاستهلاك 735 ديناراً؟  
(أ) 1235 دينار. (ب) 500 دينار.  
(ج) 735 دينار.  
(د) 235 دينار.
5. ماذا يعني انخفاض كمية الخشب المستخدم في تصنيع الخزائن الخشبية مع ثبات الكمية المنتجة؟  
(أ) ثبات الإنتاجية. (ب) فاعلية في الإنتاج.  
(ج) كفاءة في الإنتاج.  
(د) كفاءة وفاعلية.
6. أي مما يأتي لا يعد من المفاهيم الخاطئة في مجال إنتاجية المنشأة؟  
(أ) القوى العاملة هي المحدد الرئيس في إنتاجية المنشأة.  
(ب) بالتكنولوجيا وحدها لا نضمن الحصول على الإنتاجية.  
(ج) مزيد من الضغط على العاملين يؤدي إلى مزيد من الإنتاجية.  
(د) بالتكنولوجيا وحدها نحقق المزيد من الإنتاجية في المنشأة.
7. ما العلاقة بين تكلفة اكتشاف الأخطاء ومراحل تدفق المنتج؟  
(أ) تزداد التكلفة مع مرور المراحل لتدفق المنتج.  
(ب) تقل التكلفة مع مرور المراحل لتدفق المنتج.  
(ج) تبقى التكلفة ثابتة مع مرور المراحل لتدفق المنتج.  
(د) لا علاقة بين تكلفة اكتشاف الخطأ ومراحل تدفق المنتج.
8. ما مرحلة التسويق التي رفعت شعار: (بيع كل ما تم إنتاجه)؟  
(أ) المبيعات. (ب) قسم التسويق.  
(ج) شركة التسويق.  
(د) الإنتاج.
9. أين يتمثل الفارق بين الناتج المحلي والناتج القومي؟  
(أ) في وحدة قياس النقدية المستخدمة.  
(ب) في فترة الاسناد الزمني.  
(ج) في طبيعة السلع نهائية ام وسيطة.  
(د) في جنسية الوحدات الاقتصادية.
10. فيما تتمثل استخدامات المال في المصرف التجاري؟  
(أ) حقوق ملكية المصرف. (ب) اصول المصرف.  
(ج) الاصول المتداولة للمصرف. (د) التزامات المصرف.

**السؤال الثاني: (40 علامة)**

- أ) ما هي العوامل التي أسهمت في ظهور إدارة الموارد البشرية؟ (12 علامة)
- ب) قارن بين الحاجة العامة والحاجة الخاصة من حيث ما ورد في الجدول الآتي: (12 علامة)

الرقم	أوجه المقارنة	الحاجة العامة	الحاجة الخاصة
1	القابلية للاستبعاد		
2	الهدف من الاشباع		
3	جهة الانفاق		

- ج) يعمل مصنع نابلس في إنتاج الصابون ،فاذا علمت ان متوسط عدد ساعات العمل الشهرية بلغ (208) ساعات للعامل الواحد، بدون تأخير وتوقف وتعطل ،وأن حجم الطلب على الصابون يبلغ (10000)كغم شهريا، والمدة الزمنية اللازمة لصناعة الكيلو غرام الواحد (5)دقائق ،والمطلوب :احسب العدد اللازم من العاملين لإنتاج الكمية المطلوبة. (16 علامة)

**السؤال الثالث: (40 علامة)**

- أ) فيما يأتي خطوات عملية اختيار الموظفين مبعثرة : (الاختيار الاولي ،عقد الاختبار التخصصي القرار النهائي للاختيار ،تقديم طلب التوظيف ،دراسة الطلب المقدم ،اجراء المقابلة الوظيفية)،والمطلوب: التوفيق بين الخطوات وإجراءات تنفيذها من خلال كتابة اسم الخطوة ،ثم ترتيبها بشكل متسلسل بوضع رقم الخطوة في عمود الترتيب: (12 علامة)

خطوات الاختيار	الترتيب	الإجراءات والأنشطة المتبعة التي تحتويها
		التأكد من سلامة المرشح، وتمكنه من أداء العمل
		قياس مدى تحقق الحد الأدنى من المعايير التي ينبغي توفرها في المتقدمين لشاغر ما، والوقوف على مدى امتلاكهم للمعارف والمهارات المطلوبة.
		التأكد من مطابقة مؤهلات المرشح في طلب التوظيف مع المواصفات الوظيفية بهدف عمل قائمة مختصرة بالمرشحين.
		فحص المستندات المقدمة و التأكد من سلامتها وصحة البيانات الواردة فيها.
		تعبئة المرشحين النموذج الرسمي للتقدم للوظيفة.
		التعرف على الجوانب الشخصية للمرشح والتأكد بشكل مباشر من أهليته وملاءمته للوظيفة.

- ب) علل لكل مما يأتي: (12 علامة)

1. تمتاز مكملات الأجر والراتب بالديمومة.
2. لا يمكن أن نجزم بأن مكونات السلعة الملموسة صناعية فقط.
3. يختلف قياس الطاقة الإنتاجية من منشأة الى أخرى

(ج) تقدم فارس بطلب لمصرف اسلامي لشراء شقة سكنية في الاغوار وذلك بصيغة تمويل المرابحة وباقساط شهرية لمدة (60) شهرا وبنسبة ربح 5% سنويا ، علما بان سعر الشقة (40000) دولار وان فارس قام بدفع 20% من ثمنها كدفعة اولى.  
المطلوب:

(16 علامة)

1. ما مقدار الارباح التي حققها المصرف.
2. ما مقدار القسط الشهري الذي سيدفعه فارس.
3. كم يبلغ الثمن الاجمالي للشقة.

### السؤال الرابع: (40 علامة)

(أ) عرف كلا مما يلي: 1. الدخل القومي. 2. عنق الزجاجة 3. الطاقة المحجوزة 4. نموذج الاحالة. (12 علامة)  
(ب) التاجر خالد يعمل في تجارة الحديد ، دخل في مضاربة مع احد البنوك الاسلامية بحيث يتقاسمان الربح بنسبة (70%) للمصرف و(30%) له ، اذ يقدم المصرف التمويل لهذه الصفقة من الحديد ، وبعد الانتهاء من بيع الحديد ، قدرت المصاريف بـ (9000) دينار ، في حين بلغت حجم الإيرادات من الصفقة (100000) دينار ، المطلوب :

(12 علامة)

1. كم نصيب المصرف من الارباح؟ وكم نصيب خالد منها؟
2. في حال حققت الصفقة خسارة مقدارها (20000) دينار ، فكم نصيب كل منهما من الخسائر المحققة؟

(16 علامة)

(ج) اقرأ الحالة الدراسية التالية ثم اجب عن الأسئلة:

(الزيت عماد البيت)

تعد شجرة الزيتون مثالا للنبات الفلسطيني على الأرض، حيث يعتز أبناء فلسطين بها، كونها تشكل ارثا وطنيا توارثته الأجيال، يعتني بها المزارعون الفلسطينيون، فيستنبتون أشغالها ويهيئون الأرض لزراعتها ويرعونها رعايتهم لأبنائهم ، لتشكل مصدر دخل لهم ولعائلتهم، ولقطاف ثمارها سواء يدويا أو آليا حكاية اجتماعية تجمع الأهل والأصدقاء ،في جو يسوده التعاون والاخاء والاهازيج الشعبية ،تسمى هذه الأجواء بالعونة او الفرزة ،ويشكل استخراج الذهب الأصفر (زيت الزيتون)الفصل الأخير من حكاية الشجرة التي باركها الله تعالى.

1. استخراج عناصر الإنتاج الواردة في الحالة.
2. ما مخرجات النظام الإنتاجي الواردة في الحالة؟
3. ما المدخلات التي تم توظيفها في الحالة، للوصول الى منتجات يمكن استهلاكها أو بيعها؟
4. ما مراحل عملية الإنتاج الواردة في الحالة؟
5. كيف يمكن استخدام التكنولوجيا في زيادة كفاءة النظام الإنتاجي الوارد في الحالة؟

**السؤال الخامس: (40 علامة)**

(12 علامة)

أ) بين أهمية إدارة العمليات الإنتاجية في المنشأة.

ب) يحتوى الجدول الاتي على بيانات الدخل المتاح علما بان المبالغ مقدره بملايين الدنانير، فاذا علمت ان

(16 علامة)

الاستهلاك =  $1000 + (70\% \times \text{الدخل})$ .

المطلوب : اكمل الجدول ادناه.

الدخل	0	1000	2000	3000	4000	5000
الاستهلاك						
الادخار						
الميل المتوسط للاستهلاك						
الميل المتوسط للادخار						
الميل الحدي للاستهلاك						

(12 علامة)

ج) حدد طريقة عمل كل من أدوات الترويج الآتية:

الرقم	أدوات الترويج الالكتروني	كيفية عمله
1	التسويق بمحركات البحث.	
2	الإعلان بالهاتف المحمول.	
3	التسويق بالوسائط الاجتماعية.	

**السؤال السادس: (40 علامة)**

(10 علامة)

أ) اذكر خمسة من مبادئ إدارة الجودة الشاملة.

(18 علامة)

ب) افترض ان دولة ما تنتج سلعتين (أ، ب)، وكانت الكميات والاسعار كما هي واردة في الجدول الآتي:

الكميات والاسعار				
العام	سعر المنتج (أ)	كمية المنتج (أ) بآلاف الاطنان	سعر المنتج (ب)	كمية المنتج (ب) بآلاف الاطنان
2010م	1دينار	50	2 دينار	80
2011م	2دينار	100	3 دينار	100
2012م	3دينار	150	4 دينار	160

المطلوب: أجب عن الأسئلة الآتية: (اعتبر عام 2010 عام الأساس)

أ. احسب الناتج المحلي الاسمي للدولة للسنوات الواردة في الجدول؟

ب. كم يبلغ الناتج المحلي الحقيقي للدولة، لكافة السنوات الواردة في الجدول؟

(12 علامة)

ج) ما مدلول صيغ التمويل في المصارف الاسلامية الآتية؟

الرقم	صيغة التمويل	مدلول صيغة التمويل
1	المساومة	
2	المشاركة الثابتة	
3	التأجير المنتهي بالتمليك	



القسم الثاني: يتكون هذا القسم من سؤالين وعلى المشترك أن يجيب عن أحدهما فقط.

**السؤال السابع: (40 علامة)**

(16 علامة)

أ) فيما يأتي بيانات التكاليف المرتبطة بأجهزة تنقية المياه، وهي كما يأتي:

1. التكلفة الأولية للجهاز الواحد=2000دينار
2. تكلفة نقل الجهاز الواحد=4% من التكلفة الأولية للجهاز
3. تكلفة تركيب الجهاز وتوصيله بالمياه=8% من التكلفة الأولية للجهاز
4. نسبة هامش الربح=20% من التكلفة الكلية للجهاز الواحد

المطلوب: احسب سعر بيع الجهاز شاملاً للنقل والتركيب والربط بالمياه بطريقة التسعير على أساس التكلفة.

ب) فيما يأتي حسابات ترد في الميزانية العمومية للمصرف التجاري والمطلوب تصنيفها الى (مصادر الاموال) او (استخدامات

(12 علامة)

الاموال) وذلك بوضع الاجابة في مكانها المناسب.

الاجابة المناسبة	رقم	مصادر الاموال واستخدامها
	1	احتياطي اجباري
	2	اذونات خزينة
	3	قروض من مصارف تجارية اخرى
	4	قروض ممنوحة للأفراد
	5	راس المال المدفوع عند التأسيس

(12 علامة)

ج) علل لكل مما يأتي:

1. استخدام النقود كمخزن للقيمة رغم انها اقل عائد من الأصول الأخرى.
2. اختلاف الميل المتوسط للاستهلاك في الدول النامية عنه في الدول المتقدمة.

**السؤال الثامن: (40 علامة)**

(12 علامة)

أ) قارن بين التوزيع الالكتروني الكامل والتوزيع المادي من حيث المجالات المذكورة ادناه:

الرقم	مجال المقارنة	التوزيع الالكتروني الكامل	التوزيع الالكتروني الجزئي
1	سرعة نقل المنتجات		
2	تكلفة توزيع المنتجات		
3	إمكانية الوصول لمناطق اوسع		

ب) اذا علمت ان قيمة الناتج المحلي حسب طريقة الدخول لدولة ما، بلغت (85) مليون دينار، واعطيت لك البيانات الواردة في

(16 علامة)

الجدول الآتي:

مكونات الانفاق	الانفاق/دينار
الانفاق الاستهلاكي للأسر	38 مليون
الاستثمارات الكلية	25 مليون
صافي التجارة الخارجية	1.5 مليون
الواردات	1 مليون

المطلوب: احسب كلا مما يأتي:

1. قيمة الناتج المحلي، حسب طريقة الانفاق.
2. حجم النفقات الحكومية.
3. حجم الصادرات.

(12 علامة)

ج) عدد مزيا الاستقطاب الداخلي؟

**انتهت الأسئلة**



## امتحان شهادة الدراسة الثانوية العامة لعام ٢٠٢١م - الدورة الأولى

اليوم: الأربعاء  
التاريخ: 2021/ 06 / 30م  
مدة الامتحان: ساعتان ونصف  
مجموع العلامات: ( 100 ) علامة

ملاحظة: عدد أسئلة الورقة (ثمانية) أسئلة، أجب عن (خمس) منها فقط

القسم الأول: يتكون هذا القسم من (سنة) أسئلة، وعلى المشترك أن يجيب عن (أربعة) منها فقط، على أن يكون السؤال الأول (الموضوعي) منها إجبارياً.

### السؤال الأول: (20 علامة)

يتكون هذا السؤال من (10) فقرات من نوع اختيار من متعدد، من أربعة بدائل، اختر رمز الإجابة الصحيحة، ثم ضع إشارة (x) في المكان المخصص في دفتر الإجابة:

1. ماذا يطلق على قدرة الفرد على توجيه أفكاره ومشاعره وما يملك من إمكانيات وقدرات لتحقيق الأهداف واستثمارها بشكل أمثل؟  
(أ) الذات. (ب) الاتصال والتواصل. (ج) إدارة الذات. (د) إدارة نطاق العمل.
2. أي من أساليب الشراء الآتية، تتميز بمشاركة أكبر عدد ممكن من الموردين؟  
(أ) المباشر. (ب) المناقصة. (ج) التفاوض. (د) الممارسة.
3. تسمى القدرة على إضافة تفاصيل جديدة، ومتنوعة لفكرة أو حل لمشكلة واجهت المشروع:  
(أ) المرونة. (ب) القبول. (ج) الاستباقية. (د) الطلاقة.
4. كم تبلغ نسبة الاختيار السلبي لعامل في مشروع ما، إذا بلغت نسبة الاختيار الإيجابي له (30%)؟  
(أ) 30%. (ب) 70%. (ج) 1.3%. (د) 1.03%.
5. إذا بلغت درجة التماسك لفريق عمل مكون من (6) أفراد من المروسين، ورئيس العمل (20%)، فكم يبلغ عدد أزواج الاختيار الإيجابي المتبادل في فرقة العمل؟  
(أ) 3 أزواج. (ب) 4 أزواج. (ج) 6 أزواج. (د) 12 زوج.
6. بماذا تسمى المخاطر التي تواجه المشروعات التي لا يقتصر تأثيرها على مشروع معين، أو قطاع ما، بل على النشاط الاقتصادي ككل؟  
(أ) تشغيلية. (ب) تسويقية. (ج) غير منتظمة. (د) منتظمة.
7. في أي خطوة من خطوات الشراء يتم مطابقة العينات المختارة، مع المواصفات الواردة في أمر الشراء للتأكد منها؟  
(أ) المتابعة بعد الشراء. (ب) الفحص. (ج) الاستلام النهائي. (د) التحقق من الحاجة.
8. ما الذي يُعد من مسميات سياسات الشراء في المشروع الصغير؟  
(أ) حسب الطلب. (ب) المستمر. (ج) المزم. (د) الدفعات.
9. على ماذا يعتمد المخزون الدوري في مشروعات الأعمال؟  
(أ) بيئة عمل مستقرة. (ب) التنبؤ بحجم الطلب دون غيره. (ج) فترة الانتظار للطلبات. (د) التنبؤ بحجم الطلب وفترة الانتظار معاً.
10. ما نوع المخاطر لشركة مقاولات في حالة اتباع سلطات الاحتلال الصهيوني سياسات عدائية، تجاه جميع شركات المقاولات الفلسطينية، عبر منع استيراد تقنيات حديثة وصعوبة التخليص الجمركي؟  
(أ) استراتيجية. (ب) عامة. (ج) مالية. (د) تشغيلية.

**السؤال الثاني: (20 علامة)**

(أ) صنف الأنشطة الواردة في الجدول أدناه حسب محاور مصفوفة تحليل العمل، بوضع إشارة (√) في الخانة المناسبة: (7 علامات)

الرقم	العمل او النشاط المحتمل	محاور مصفوفة تحليل الوقت			
		مهم ومستعجل	غير مهم ومستعجل	مهم وغير مستعجل	غير مهم وغير مستعجل
1	الرد على المكالمات الهاتفية.				
2	تطوير علاقات المشروع مع زبائنه.				
3	السعي نحو تغيير ثقافة العاملين في المشروع.				
4	عقد الاجتماع الاسبوعي مع رؤساء الاقسام في المشروع.				
5	استقبال الزوار المعتاد ارتيادهم للمشروع.				
6	التحاق المدير بدورة لإدارة الذات في احد مراكز التنمية البشرية.				
7	بذل جهود لمنع حدوث مشكلات متوقعة في المشروع.				

(ب) 1. يحتوي الجدول الآتي على مجموعة دوافع الشراء لفندق الاستقلال (استهلاك، بيع، تصنيع)، والمطلوب: تحديد دافع الشراء لكل نشاط من أنشطة الفندق. (3 علامات)

الرقم	أنشطة الشراء في الفندق	الدافع
1	شراء قسم التحف في الفندق مطرقات وقطعا تراثية فلسطينية.	
2	شراء كميات مختلفة من الشراشف والبشاكير (البياضات).	
3	شراء قسم الطعام والشراب كميات من الخضروات الطازجة من المزارع الفلسطينية.	

2. رتب خطوات عملية الشراء في المشروع: (4 علامات)

(استلام طلب الشراء، التحقق من الحاجة، دراسة الأسعار المقدمة، الاستلام المبدئي للمواد المشتراة، اصدار أمر الشراء للاستلام النهائي، المتابعة، الفحص والمطابقة للمواد، البحث عن مصدر التوريد المناسب).

(ج) 1. ما المقصود بإدارة المخاطر؟  
2. بين أهمية إدارة المخاطر في المشروع. (6 علامات)

**السؤال الثالث: (20 علامة)**

(أ) من خلال ملاحظتك عمل مدير مدرستك، قم بتصنيف الأنشطة التي يقوم بها، في وقت عمله الرسمي الى أنواع الوقت الاتية: (الوقت الإنتاجي، الوقت التحضيري، الوقت العام، الوقت الابداعي)، بوضعه في خانة الإجابة: (7 علامات)

الرقم	التدابير والاجراءات اللازمة لإدارة المدرسة	الإجابة
1	الأعمال الخاصة بالتخطيط الاستراتيجي لعمل المدرسة.	
2	الوقت المخصص لحضور الحصص عند المعلمين.	
3	وقت حضور مدير المدرسة لندوات عمل في فن القيادة الفاعلة للمدرسة.	
4	توقيف بعض الحصص لعمل صيانة بسيطة للغرف الصفية في اثناء الدوام الرسمي.	
5	عمل مناقصات لشراء القرطاسية والمستلزمات اللازمة للمدرسة قبل بدء عمليات التدريس الفعلية.	
6	الحضور المبكر قبل مجيء الهيئة التدريسية والطلبة بما لا يقل عن (20) دقيقة.	
7	تدريب المعلمين الجدد بالحضور سويا لمشاهدة بعض الحصص لدى معلمين ذوي خبرة في التدريس.	

تابع السؤال الثالث:

- (ب) 1. عدد مزايا نظام الشراء الكفو في المشروع الصغير؟  
 2. بم تفسر: " اختلاف معايير المفاضلة والتقييم بين الموردين من مشروع لآخر".  
 (ج) وضع بالرسم خطوات عملية إدارة المخاطر في المشروع. (علامات 5)  
 (علامتان)  
 (6 علامات)

السؤال الرابع: (20 علامة)

(أ) يتضمن الجدول الآتي مؤشرات محتملة الدلالة على معنى الإبداع أو على معنى الابتكار، والمطلوب: حدد أيها يدل على الإبداع وأيها يدل على الابتكار، بوضع إشارة (√) في المكان المناسب: (7 علامات)

الرقم	مؤشرات محتملة الدلالة على الإبداع أو الابتكار	
	الإبداع	الابتكار
1		فكرة إنتاج شاشات اللمس في أجهزة الهاتف الخليوي.
2		توصل شركة أدوية فلسطينية لفكرة عقار طبي لعلاج بعض الأمراض المزمنة.
3		استخدام بطاقة ذكية لتسهيل أعمال الصرافة وتعني الأفراد عن حمل النقود.
4		الاستفادة من فكرة المشط العادي في إنتاج ماكينة لقص العشب في الحدائق المنزلية.
5		الاهتداء لفكرة حل مشكلات السير في الشوارع المؤدية لمدينة رام الله بطريقة ملفتة للنظر.
6		تحويل فكرة إنتاج طائرة استطلاع زراعية الى نماذج تجريبية ملموسة.
7		طرح فكرة إنتاج جهاز استشعار لمعالجة مشكلة اختناق الاطفال داخل المركبات المغلقة.

- (ب) 1. يملك وسام منجرة الوحدة للأثاث المكتبي، فإذا علمت أن حجم الطلب على منتجاته بلغ (30) مكتبا يوميا، في حين بلغ حجم المخزون الدوري للمنجرة (الحد الأدنى للمخزون في حالة الثبات) 200 مكتب، ولكن توقع وسام زيادة حجم الطلب ليصبح (40) مكتبا يوميا، والمطلوب: أجب عن الأسئلة الآتية:  
 (أ) احسب فترة اصدار أمر الشراء، في حالة افتراض ثبات حجم الطلب على الأثاث.  
 (ب) احسب فترة اصدار أمر الشراء، في حالة افتراض تغير حجم الطلب اليومي الى (40) مكتبا يوميا.  
 2. بين سبب احتفاظ مشروعات الأعمال الآتية بالسلع، ومستلزمات الإنتاج:  
 (المشاريع الخدمائية، المشاريع التجارية، المشاريع الصناعية)  
 (ج) قارن بين المخاطر الداخلية والمخاطر الخارجية، من حيث:  
 1. مصدر الخطر. 2. إمكانية التحكم به. 3. حجم الأثر المتوقع. (علامات 4)  
 (علامات 3)  
 (6 علامات)

السؤال الخامس: (20 علامة)

(أ) فيما يأتي مزايا محتملة لبناء فرق العمل في مشروعات الأعمال، والمطلوب: وضع إشارة (√) امام العبارة التي تشكل ميزة لذلك: (7 علامات)

الرقم	المزايا المحتملة لبناء فرق العمل	الإجابة
1	الاستثمار الأمثل لوقت العمل الرسمي.	
2	السرعة في انجاز الأعمال والكفاءة في تنفيذها.	
3	تبادل المعلومات بحرية وشفافية بين أعضاء فريق العمل.	
4	زيادة المنافسة الفردية بين أعضاء فريق العمل في المشروع.	
5	زيادة الاحساس بالمسؤولية الجماعية تجاه المهام المطلوب تنفيذها.	
6	زيادة واحكام عمليات الرقابة الرسمية في تنفيذ مهام العمل.	
7	تشجيع روح المبادرة وتقديم الاقتراحات المتعلقة بتطوير أنشطة العمل في المشروع.	

## تابع السؤال الخامس:

- ب) 1. فرق بين أسلوب الشراء المباشر، وأسلوب الشراء بالممارسة؟ (4علامات)
2. علل ما يلي: " تعدد أساليب الشراء في مشاريع الأعمال، لتلبية احتياجاتها من المواد". (3 علامات)
- ج) تعمل شركة العربي في استخراج الحجر ولديها العديد من المحاجر في محافظة الخليل، ويتعرض العاملون فيها للعديد من المخاطر المحتملة، على رأسها مخاطر آلات القص والتحميل وانقلاب الآلات بدرجات (وفاة/ إصابة جسيمة /إصابة طفيفة)، علماً بأن التكاليف المرافقة لها، كما في الجدول الآتي : (6 علامات)

الرقم	الخطر المحتمل	احتمالية حدوث الخطر (%)	تعدد (المرات) لخطر (دينار)	قيمة الخطر (دينار)
1	الوفاة	40%	30000	
2	إصابة جسيمة	ص	10000	
3	إصابة طفيفة	30%	5000	

على فرض أن عدد العاملين (25) عاملاً، وقد تم تقدير تكرار المخاطر اعتماداً على السجلات التاريخية للصناعة، فكانت عدد حالات الوفاة نتيجة مخاطر الآلات (عامل واحد) كل سنتين ونصف، وبلغ متوسط تكرار الإصابات الجسيمة (5) حالات كل سنتين ونصف، ومتوسط الإصابة الطفيفة بين العاملين (4) عمال سنوياً، وقسط التأمين نصف السنوي عن إصابة العامل الواحد (200) دينار، في حين بلغت التكلفة السنوية لاتخاذ تدابير وقائية للحماية ضد حوادث العمل (12000) سنوياً.

المطلوب: احسب كلاً مما يأتي :

- أ) قيمة الخطر حسب متوسط التكرار في كل حالة.
- ب) تكلفة اتخاذ الإدارة لإجراء تحمل الخطر، عبر دفع تكاليف إصابات العمل من الميزانية الخاصة للشركة.
- ج) تكلفة اتخاذ الإدارة لإجراء نقل الخطر، عبر التأمين ضد حوادث العمل.
- د) تكلفة اتخاذ الإدارة لإجراء تجنب الخطر، عبر دفع تكاليف اتخاذ تدابير وقائية للحماية ضد حوادث العمل.

## السؤال السادس: (20 علامة)

أ) فيما يأتي نتيجة تفريغ استبيانات تم تطبيقها بهدف تشكيل فريق طوارئ مكون من (6) أفراد: (7 علامات)

اختيار الآخرين للشخص							اختيار الشخص
اسم العامل	علي	محمد	عيسى	ابراهيم	حسين	داود	
علي		+	-	-	+	+	للآخرين.
محمد	+		+				
عيسى	-	+		+	-	-	
ابراهيم		+	+		-	+	
حسين	+			+			
داود							

المطلوب: أجب عن الأسئلة الآتية:

1. من هو العامل الذي يحظى بأكثر عدد من الاختيارات الإيجابية؟
2. من هو العامل الذي تنبذه الجماعة ويحظى بأكثر عدد من الاختيارات السلبية؟
3. جد مكانة الاختيار الإيجابية للعامل علي؟
4. جد مكانة الاختيار السلبية للعامل عيسى؟

تابع السؤال السادس:

5. جد معامل تماسك جماعة العمل في المشروع؟  
 6. ما جماعة العمل التي على الريادي اختيارها كأعضاء فريق؟ ولماذا؟  
 (ب) 1. يتضمن الجدول الآتي مجموعة من الميزات المحتملة للشراء سواء بكميات كبيرة لتخزينها أو حسب الحاجة، لمعمل مخللات،

والمطلوب: كتابة مسمى سياسة الشراء المناسبة: (الشراء بكميات كبيرة، الشراء حسب الحاجة) أمام الميزة التي تنطبق عليها: (4 علامات)

الرقم	الميزات المحتملة لسياسة الشراء	الإجابة
1	شراء الخضروات بما يحقق المحافظة على القيمة الغذائية للمنتج الداخل في التصنيع.	
2	شراء الخضروات بما يسهم في حصول المعمل على الخصم الكمي.	
3	شراء كميات من الخضار بما يضمن استمرارية تدفق العمليات الجارية بخطوط الإنتاج، في حدها الأدنى.	
4	تخفيض نصيب وحدة المنتج النهائي (مخللات)، من مصاريف النقل.	

2. ما الوفورات الاقتصادية التي يحققها المشروع، عبر اتباع سياسة الشراء بالكميات المناسبة؟ (3 علامات)  
 (ج) علل لكل مما يأتي: (6 علامات)  
 1. تكمن صعوبة تحليل المخاطر في تحديد معدل تكرار حدوثها.  
 2. تطرح المشروعات كما هاتلا من السلع والخدمات في الأسواق.

القسم الثاني: يتكون هذا القسم من سؤالين وعلى المشترك أن يجيب عن أحدهما فقط.

السؤال السابع: (20 علامة)

- (أ) 1. تميز الأفكار الإبداعية بمراحل عدة، أذكرها؟ (5 علامات)  
 2. فيما يأتي الأنشطة المتعلقة بقضية الشكوى المتعلقة بانخفاض جودة منتج مشروع المسمية الزراعي، والمطلوب: تحديد الأولوية لكل نشاط من الأنشطة المقترحة لمعالجة المسألة والواردة في الجدول: (5 علامات)

الرقم	النشاط	الأولوية
1	فحص عينة من المنتج.	
2	تغيير في مكونات المنتج.	
3	التأكد من مصدر الشكوى.	
4	عقد اجتماعات مع رؤساء الأقسام.	
5	عمل حملة علاقات عامة مع الزبائن.	

- (ب) ما الشروط المعيارية لنظام التخزين الدوري؟ (6 علامات)  
 (ج) قارن بين النظام المركزي، والنظام اللامركزي في الشراء، من حيث: (4 علامات)  
 (أ) أساس العمل.  
 (ب) الأثر على منتج المشروع.

**السؤال الثامن: (20 علامة)**

(أ) اليك الحالة الدراسية الآتية:

(10 علامات)

يعد التحول الى استخدام مصابيح الاضاءة الذكية من أكبر التطورات الحاصلة في عالم الطاقة في ايامنا هذه والمتمثل في استخدام مصابيح LED حيث يعد (نك) وفريق عمله من الاشخاص الذين لهم الفضل في تطوير اول مصباح LED ضمن مجال الضوء المرئي وهو الاداة التي تضيء حاليا الكثير من شاشات العرض الالكترونية والمنازل وتستخدم في صناعة الساعات واجهزة التلفاز والراديو والآلات الحاسبة والسيارات واشارات المرور واللوحات الالكترونية وغيرها، لقد تم اكتشاف الصمام الثنائي المصدر للأشعة تحت الحمراء قبل اكتشاف الديود المصدر للضوء الاحمر الذي ابتكره (نك) وزملائه وبنى عليه علماء آخرون العديد من الاضافات والتطوير والاعمال الابتكارية حيث حصل فريق منهم عام 2014 م على جائزة نوبل في الفيزياء لقيامهم بتطوير ديود مصدر للضوء الازرق ما آثار سخط (نك) وزملائه وهم الذين اسهموا بشكل كبير في تطوير تقنية LED عند اول اكتشاف قاموا به عام 1962م ورغم ذلك استمر (نك) في ابحاثه ولم يثنه عن الاستمرار بالسير في طريق الابداع وحصل على جائزة الالفية للتكنولوجيا عام 2016م حيث استخدمت الصمامات الباعثة للضوء في الاسواق التجارية بدلا من المصابيح المتوهجة ومؤشر النيون.

**والمطلوب: أجب عن الأسئلة الآتية:**

1. اين تتمثل الفكرة الابداعية في الحالة؟
2. ما أثر ابتكار ضوء LED في حياتنا العملية؟
3. ما المراحل التي مر بها اختراع منتج الليد كمنتج جديد؟
4. ما المراحل التي تمر بها العملية الابداعية؟
5. ما مستويات العمل الابداعي الوارد في الحالة؟
6. برأيك لماذا يعد العمل الذي قام به (نك) وزملاؤه عملا رياديا ابداعيا؟
7. من وجهة نظرك متى تظهر حاجة منشآت الاعمال لمهارات الابداع؟
8. باعتقادك بماذا تمتاز المشروعات الابداعية عن غيرها من المشروعات التقليدية؟

(5 علامات)

(ب) ما المهام والمسؤوليات المنوطة بإدارة التخزين في المشروع الصغير؟

(5 علامات)

(ج) وضح أهمية وجود إدارة متخصصة للقيام بأعمال الشراء في المشروع؟

**انتهت الأسئلة**



## امتحان شهادة الدراسة الثانوية العامة لعام 2021م - الدورة الثانية

اليوم: الإثنين  
التاريخ: 2021/ 08 / 23م  
مدة الامتحان: ساعتان ونصف  
مجموع العلامات: ( 100 ) علامة

دولة فلسطين  
وزارة التربية والتعليم  
الإدارة العامة للقياس والتقويم والامتحانات  
الفرع: الريادة والأعمال  
المبحث: المشاريع الصغيرة  
الورقة: --  
الجلسة: --

ملاحظة: عدد أسئلة الورقة (ثمانية) أسئلة، أجب عن (خمسة) منها فقط

القسم الأول: يتكون هذا القسم من (ستة) أسئلة، وعلى المشترك أن يجيب عن (أربعة) منها فقط، على أن يكون السؤال الأول (الموضوعي) منها إجبارياً.

### السؤال الأول: (20 علامة)

- يتكون هذا السؤال من (10) فقرات من نوع اختيار من متعدد، من أربعة بدائل، اختر رمز الإجابة الصحيحة، ثم ضع إشارة (×) في المكان المخصص في دفتر الإجابة:
1. ماذا يعني أي توزيع لمورد الوقت؟  
 (أ) ضمان النجاح في التنفيذ.  
 (ب) ضمان النجاح في المراقبة والمتابعة.  
 (ج) احتمالية النجاح في تنفيذ المشروع.  
 (د) ضمان فشل عملية التنفيذ.
  2. أي شروط العمل الإبداعي الآتية يشير إلى ضرورة التفكير بالمشكلة بطرق وبدائل مختلفة؟  
 (أ) المرونة. (ب) الإصالة. (ج) الحساسية. (د) الطلاقة.
  3. ما مرحلة الشراء التي يتم فيها التأكد من وصول كميات المواد المشتراة للمشروع في الوقت والمكان المناسبين عبر لجنة الاستلام؟  
 (أ) الاستلام النهائي. (ب) الاستلام المبدئي. (ج) المتابعة بعد الشراء. (د) فحص المواد.
  4. كم يبلغ عدد العلاقات التي تنشأ بين رئيس و8 من المرؤوسين في العمل؟  
 (أ) 490. (ب) 640. (ج) 810. (د) 1080.
  5. كيف يتخذ فريق العمل قرارته في المشروع؟  
 (أ) بالاجماع. (ب) بالأغلبية. (ج) بالتزكية. (د) بالترجيح.
  6. بماذا تسمى المخاطر التي تواجه المشروعات التي لا تؤثر على النشاط الاقتصادي ككل، وقد تكون مرتبطة بجوانب إدارية أو مالية أو تسويقية أو غيرها؟  
 (أ) منتظمة. (ب) تسويقية. (ج) غير منتظمة. (د) تشغيلية.
  7. أي مما يلي يضمن لنا تدفق الإنتاج لفترة أطول ويسهم في الوفاء بتعاقدات المشروع مع زبائنه؟  
 (أ) الشراء حسب الحاجة. (ب) الشراء في الوقت المناسب.  
 (ج) الشراء بكميات كبيرة. (د) الشراء بالسعر والجودة المناسبة.
  8. ما الشيء الذي تسهم فيه عملية الشراء بالكمية المناسبة في المشروع؟  
 (أ) تخفيض كلفة الوحدة الواحدة من المنتجات. (ب) زيادة كلفة الوحدة الواحدة من المنتجات.  
 (ج) زيادة كلفة التخزين للوحدة الواحدة من المنتجات. (د) تخفيض رأس المال المستثمر في المشروع.
  9. ما الهدف من قيام صاحب محل لبيع الفواكه والخضروات بشراء كميات كبيرة من الثوم البلدي في موسمها، وتخزينها؟  
 (أ) تخفيض كلفة البيع. (ب) المضاربة.  
 (ج) تدفق عمليات الشراء. (د) تذبذب تدفق عمليات البيع.
  10. ما نوع المخاطر لشركة مقاولات في حالة ارتفاع كلفة تنفيذ المشروع عن قيمة العطاء الرأسي على الشركة بسبب تضخم أسعار المواد؟  
 (أ) استراتيجية. (ب) عامة. (ج) مالية. (د) تشغيلية.



**السؤال الثاني: (20 علامة)**

- (أ) عدد سبع من مهارات ادارة المشروع الريادي. (7 علامات)
- (ب) 1. يتضمن الجدول الآتي على مجموعة من حالات الشراء لمشروع بيسان في تربية الدواجن وإنتاج الأعلاف العضوية الصحية، والمطلوب: مساعدة بيسان في اختيار أسلوب الشراء المناسب (المباشر، التفاوض، المناقصة) لكل حالة من الحالات الواردة في الجدول: (3 علامات)

الرقم	حالات الشراء	الإجابة
1	شراء مواد ومعدات لا يمكن تحديد مواصفاتها بصورة دقيقة، لإنتاج العلف العضوي.	
2	سعي مالكة المشروع (بيسان) لتحقيق مبادئ العدالة والشفافية بين الموردين في شراء البذور.	
3	شراء مشارب الكترونية، لا تتوفر الا لدى مورد واحد في السوق.	

2. وضح المقصود بكل مما يأتي: (أ) الشراء. (ب) المناقصة الالكترونية. (4 علامات)
- (ج) وضح استراتيجيات التعامل مع الخطر. (6 علامات)

**السؤال الثالث: (20 علامة)**

- (أ) وفق بين الاجراء أو التدبير اللازم لانتاج غاز الاكسجين المستخدم في المستشفيات لاغراض طبية والنوع المناسب له من أنواع الوقت الآتية: (الوقت الانتاجي، الوقت التحضيرى، الوقت العام، الوقت الابداعي)، بوضعه في خانة الاجابة: (7 علامات)

الرقم	التدابير والاجراءات اللازمة لانتاج غاز الاكسجين	الإجابة
1	عزل جميع الأعمال التي تتم بلهب النار بعيداً عن أجهزة الأكسجين بما لا يقل عن (10) أمتار.	
2	الاعمال الخاصة بالتخطيط الاستراتيجي لعمل المصنع.	
3	توقيف بعض الماكينات لعمل صيانة بسيطة لها اثناء العمل.	
4	الوقت المستغرق في دخول الهواء من الغلاف الجوي الى الخزان الاول لبدء عملية فصل الهواء.	
5	تعبئة الاكسجين السائل والنيتروجين في خزانات المبرد تمهيدا لتبخيره في اسطوانات فولاذية صلبة.	
6	الوقت المخصص لتنقية الهواء من المكونات غير المرغوب فيها كالثواب والاتربة العالقة.	
7	تدريب العاملين في محطات الاكسجين لمدة (3) اسابيع قبل التحاقهم بخطوط انتاج الغاز.	

- (ب) 1. إذا علمت أن مصنع سلام للأثاث المنزلي يستخدم (18) لوح من الخشب سببت لإنتاج (6) مكاتب، وأن سعر اللوح الواحد (5) دنانير، ويترتب عليه تكلفة مضافة للتخزين مقدارها (10%)، علما بأن المصنع يتبع سياسة الشراء للخشب بكميات كبيرة، والمطلوب: (أ) احسب تكلفة التخزين. (ب) فسر اجابتك. (4 علامات)
2. عدد مزايا النظام المركزي في الشراء. (3 علامات)
- (ج) يتضمن الجدول الآتي مجموعة من العبارات المحتملة ذات الصلة بمفهوم إدارة المخاطر في مشروعات: تحديد ما يشير منها إلى مفهوم إدارة المخاطر بوضع إشارة (✓) في المكان المناسب: (6 علامات)

الرقم	العبارات المحتملة ذات الصلة بمفهوم إدارة المخاطر	الإجابة
1	منع حدوث المخاطر بالكامل، سواء على المشروع أو منتجاته.	
2	انتظار وقوع الخطر، ومن ثم التعامل معه.	
3	دراسة احتمالية وقوع الخطر، في حالات: النمو والاستقرار والتراجع.	
4	تحمل المشروع تكاليف مواجهة الخطر مهما كان حجمها.	
5	تقتصر على دراسة متغيرات بيئة العمل الداخلية للمشروع.	
6	تتعامل مع المخاطر المنظورة، ذات الأثر على نشاط المشروع.	

**السؤال الرابع: (20 علامة)**

أ) حدد أيًا من الممارسات الإدارية المحتملة الواردة في الجدول، تشجع على الإبداع أو لا في مشروعات الأعمال، بوضع إشارة (✓) في المكان المناسب: (7 علامات)

الرقم	الممارسات الإدارية المحتملة داخل مشروعات الأعمال		الإجابة
	تشجع	لا تشجع	
1	تعيين أشخاص في المشروع كل حسب تخصصه.		
2	إنشاء قسم للبحث والتطوير في المشروع.		
3	إعطاء الموظف المبدع تعويضاً مالياً رمزياً، على أن يسند هذا الإبداع لإدارة المشروع.		
4	إعطاء الحرية للعاملين في كيفية تنفيذ المهام المسندة إليهم.		
5	تلقي الأفكار الإبداعية من العاملين في المشروع دون اكتراث.		
6	إعطاء الإدارة للإبداع والمجهودات الإبداعية المرتبة (ج) في أولويات المشروع.		
7	رعاية إدارة المشروع المشروعات الطلابية الإبداعية، عبر تقديم جوائز لهم.		

(6 علامات)

ب) 1. إذا علمت أن حجم الطلب على منتجات مصنع رشاد للسخانات الشمسية، بلغ (20) سخاناً يومياً، في حين بلغ حجم المخزون الدوري (الحد الأدنى للمخزون في حالة الثبات) 200 سخان، ولكن توقع مدير المصنع، زيادة حجم الطلب الى (25) سخاناً يومياً.

المطلوب: أ) احسب فترة اصدار أمر الشراء، على افتراض ثبات حجم الطلب على السخانات.

ب) احسب فترة اصدار أمر الشراء، في حالة تغير حجم الطلب اليومي الى 25 سخاناً.

ج) ما مقدار الانحراف في المخزون، حالة الاستمرار في سياسة ثبات فترة أمر الشراء.

(علامة واحدة)

2. بم تفسر " نقل بعض المنتجات الراكدة الى مخازن فرعية".

(6 علامات)

ج) عدد خطوات إدارة المخاطر في المشاريع الصغيرة.

**السؤال الخامس: (20 علامة)**

أ) فيما يأتي مجموعة من السمات للشخص المبدع والمطلوب: حدد أي منها يشكل سمة للشخص المبدع بوضع إشارة (✓) امام السمة التي تشكل ذلك: (7 علامات)

الرقم	السمات المحتملة للشخص المبدع	الإجابة
1	المثابرة في العمل.	
2	ينتظر المديح والثناء عليه.	
3	لا يستهويه الغريب الجديد من الأمور.	
4	الصبر والشجاعة وحب المغامرة.	
5	يتصف بنوع من عدم ترتيب الأشياء من حوله.	
6	جدي بعيد كل البعد عن روح الدعابة والفكاهة.	
7	لا يفضل التعامل مع الأشياء المعقدة التي تحتمل أكثر من تفسير.	

**تابع السؤال الخامس:**

ب) 1. يحتوي الجدول الآتي على مجموعة من إجراءات الشراء، لمصنع بلدنا للباطون الجاهز، والمطلوب: التوفيق بين اجراء الشراء، ومسمى الخطوة: (5 علامات)

الرقم	مسمى طلب الشراء	الإجابة	إجراءات الشراء
1	التحقق من الحاجة.		المفاضلة بين أسعار الموردين، لاختيار أنسبها.
2	استلام طلب الشراء.		أخذ تغذية راجعة من الأقسام المستفيدة داخل المصنع.
3	دراسة الأسعار المقدمة.		الوقوف على ضرورة الشراء الفعلية لأقسام المصنع، كما ونوعا.
4	اصدار أمر الشراء.		توجيه رسالة توريد الكترونية أو كتابية، لتوريد الطلبية.
5	البحث عن مصار التوريد.		تلقي قسم الشراء طلبية لشراء (20) طنا من الاسمنت فلسطيني الصنع.

2. بم تفسر : " اختلاف دوافع الشراء لدى المستهلكين". (علامتان)

ج) يعمل مصنع الاتقان في مجال استخراج الحجر الطبيعي وتصنيعه فإذا علمت أن احتمالية تعرض العاملين للخطر حسب الجدول الآتي :

الرقم	الخطر المحتمل	احتمالية حدوث الخطر (%)	تكلفة (تأثير) الخطر (دينار)
1	الوفاة بسبب العمل	4%	40000
2	إصابة جسيمة.	30%	6000
3	إصابة طفيفة.	66%	1600

احسب قيمة الخطر لكل حالة من الحالات الآتية:

أ) حالة الوفاة بسبب العمل (ب) حالة الإصابة الجسيمة. (ج) حالة الإصابة الطفيفة.

**السؤال السادس: (20 علامة)**

أ) فيما يأتي نتيجة تفرغ استبيانات تم تطبيقها بهدف تشكيل فريق طوارئ مكون من (6) أفراد: (7 علامات)

اختيار الآخرين للشخص							اسم العامل	اختيار الشخص للآخرين.
داود	حسين	ابراهيم	عيسى	محمد	علي	علي		
-	+			+		علي	محمد	
			+		+	عيسى	ابراهيم	
-		+		+		حسين	داود	
		+			+			

والمطلوب أجب عن الأسئلة التالية:

1. من هو العامل الذي يحظى بأكثر عدد من الاختيارات الإيجابية؟
  2. من هو العامل الذي تنبذه الجماعة ويحظى بأكثر عدد من الاختيارات السلبية؟
  3. جد مكانة الاختيار الإيجابية للعامل علي؟
  4. جد مكانة الاختيار السلبية للعامل داود؟
  5. جد معامل تماسك جماعة العمل في المشروع؟
  6. ما جماعة العمل التي على الريادي اختيارها كاعضاء فريق؟ ولماذا؟
- (ب) 1. كيف يمكن المفاضلة بين الموردين لشراء احتياجات المشروع الصغير؟  
2. وضح المقصود بكل من الآتية:  
(أ) الحجم الاقتصادي للطبعية. (ب) الشراء بالوقت المناسب.  
(ج) ما آلية ترتيب الأولويات في التعامل مع المخاطر التي تواجه المشروع؟
- (4 علامات)  
(3 علامات)  
(6 علامات)

القسم الثاني: يتكون هذا القسم من سؤالين وعلى المشترك أن يجيب عن أحدهما فقط.

### السؤال السابع: (20 علامة)

- (أ) ما مراحل بناء فرق العمل؟  
(ب) ما العلاقة بين كل من:  
1. المنتج الابداعي والعملية الابداعية؟  
2. الموقف الابداعي والشخصية المبدعة؟  
(ج) اقرأ الحالة الدراسية الآتية :
- (6 علامات)  
(4 علامات)  
(10 علامات)
- يملك حسام مصنعا لإنتاج أكياس التغليف، اذ ينتج أكياس بأنواع وأحجام مختلفة، مصنوعة من البلاستيك والورق والكرتون، ولضمان تدفق خطوط الإنتاج في مصنعه، قرر اسناد مهمة شراء حبيبات البلاستيك والكرتون لمدير دائرة المشتريات، واعطاءه الصلاحيات كافة لشراء حاجة المصنع من موردين محليين أو من مصادر خارجية، في حين أسند مهمة شراء الأصباغ والمقويات والملونات لكل رئيس خط من خطوط انتاجه، بالكف والنوع الذي يراه مناسباً.
- لاحظ مدير المصنع حسام قصور مصنعه في تلبية طلبات زبائنه في بعض خطوط الإنتاج، وتأخر عمليات التسليم لهم علاوة على التكلفة العالية للمنتج، ما أفقد المصنع بعضاً من مزاياه التنافسية في السوق، إضافة الى ازدياد تآكل الزبائن من قلة متانة وضعف جودة منتجات المصنع من أصناف البلاستيك، كالصحن، والكاسات، والأكياس وغيرها وتمثل ذلك بالاتصال المباشر ومن خلال الصفحة الالكترونية الخاصة بتقييم الزبائن لمنتج المصنع.
- المطلوب: أجب عن التساؤلات الآتية:
1. عدد أنظمة الشراء الواردة في الحالة الدراسية.
  2. ما مزايا قيام مدير المصنع بإسناد مهمة الشراء المتعلقة بحبيبات البلاستيك والكرتون لمدير إدارة المشتريات؟
  3. ما الآثار السلبية المحتملة لشراء حبيبات البلاستيك والكرتون، من قبل مدير دائرة المشتريات في المصنع؟
  4. ما الفائدة من توكيل كل خط انتاجي بشراء حاجاته من المواد والمستلزمات بنفسه؟
  5. ما المشاكل التي واجهت المصنع؟ وما الأسباب الكامنة وراءها؟

**السؤال الثامن: (20 علامة)**

أ) ما متطلبات بناء فرق العمل في مشروعات الأعمال؟  
 ب) علل ما يلي:

(6 علامات)

(4 علامات)

1. تخوف بعض الأفراد من اعداد برنامج لتنظيم وقت العمل لديهم.

2. تعد عملية بناء فرق العمل وتنظيمها من المهام القيادية لادارة المشروع.

ج) 1. يتضمن الجدول الآتي أهدافا لنشاط التخزين لمشتل بلادي خضراء، وهي: (استكمال عمليات الإنتاج، ضمان تدفق عمليات الإنتاج، موسمية الطلب، تخفيض كلفة التخزين، والمضاربة)، والمطلوب: اختيار الهدف المناسب، لكل نشاط من أنشطة المشروع:

(6 علامات)

الرقم	نشاط المشروع (المشتل)	هدف التخزين
1	نقل بعض الأشتال المتبقية في المشتل من سنوات سابقة، الى مخازن فرعية.	
2	زراعة بذور وأشتال الزيتون في أوعية، والاحتفاظ بها وبيعها للمزارعين.	
3	زراعة بذور نباتات مختلفة، ضمن دورات متعددة متباعدة في الفترة الزمنية.	
4	تركيب أشتال الزيتون واللوز في فصل الربيع، وتخزينها وبيعها في وقت لاحق.	
5	شراء المشتل كميات من بذور الزيتون واللوزيات في موسمها، وتخزينها لديه في المشتل.	
6	شراء كميات كبيرة من الأسمدة العضوية الحية، وكمها في حفر مخصصة لذلك.	

(4 علامات)

2. بم تفسر: "الحاجة الى إدارة متخصصة للتخزين في مشروعات الأعمال".

انتهت الأسئلة



اليوم:  
التاريخ: 2021/12 /  
مدة الامتحان: ساعتان  
مجموع العلامات: ( 100 ) علامة

## امتحان شهادة الدراسة الثانوية العامة لعام 2021م - الدورة الإستكمالية

ملاحظة: عدد أسئلة الورقة (ثمانية) أسئلة، أجب عن (خمس) منها فقط

القسم الأول: يتكون هذا القسم من (ستة) أسئلة، وعلى المشترك أن يجيب عن (أربعة) منها فقط، على أن يكون السؤال الأول (الموضوعي) منها إجبارياً.

### السؤال الأول: (20 علامة)

يتكون هذا السؤال من (10) فقرات من نوع اختيار من متعدد، من أربعة بدائل، اختر رمز الإجابة الصحيحة، ثم ضع إشارة (×) في المكان المخصص في دفتر الإجابة:

1. ماذا نسمي خطوة الشراء التي يتم فيها الوقوف على ضرورة الشراء الفعلية لأقسام المصنع، كما ونوعاً؟  
(أ) إصدار أمر الشراء. (ب) المتابعة بعد الشراء. (ج) التحقق من الحاجة. (د) دراسة الأسعار المقدمة.
2. يطلق على الوقت الذي يبذله المدير في التخطيط السنوي أو الإستراتيجي لمستقبل المشروع:  
(أ) عام. (ب) إبداعي. (ج) تحضيرى. (د) إنتاجى.
3. إذا علمت أن مصنع الأندلس لإنتاج الألبان، يستخدم (6) لترات من الحليب الطازج لإنتاج (2) كغم من الجبن، وأن سعر الكيلوغرام الواحد من الجبن يساوي (5) دنانير، ويترتب عليه تكلفة مضافة للتخزين مقدارها (10%)، فإن تكلفة التخزين، تساوي:  
(أ) 0.67 دينار. (ب) 1.25 دينار. (ج) 1.5 دينار. (د) 6 دنانير.
4. الثقة بالنفس والمثابرة من سمات الشخص المبدع، وتصنف ضمن السمات:  
(أ) النفسية. (ب) الإجتماعية. (ج) الذهنية. (د) العقلية.
5. ما نوع المخاطر المتعلقة بحصول تذبذب في التدفقات النقدية لعمليات المشروع؟  
(أ) إستراتيجية. (ب) عامة. (ج) تشغيلية. (د) مالية.
6. كم تبلغ نسبة الإختيار السلبي لعامل في مشروع ما إذا بلغت نسبة الإختيار الإيجابية (0.30)؟  
(أ) 30%. (ب) 70%. (ج) 1.3. (د) 1.03.
7. ما المرحلة التي يتم فيها فحص المواد المشتراة فحصاً ظاهرياً، قبل تخزينها؟  
(أ) توصيف المواد. (ب) حفظ المواد. (ج) فحص المواد. (د) استلام المواد.
8. ما تصنيف المخاطر المتعلقة بمزرعة تمور في حالة وجود منافسة سعرية مع منتجات الاحتلال الصهيوني؟  
(أ) خارجية. (ب) تمويلية. (ج) داخلية. (د) تشغيلية.
9. ما أثر تماسك الجماعة في علاقاتها على إنتاجية المشروع؟  
(أ) زيادة الإنتاجية الكلية للمشروع.  
(ب) انخفاض الإنتاجية ككل.  
(ج) قد يكون إيجابياً أو سلبياً حسب نوع التماسك.  
(د) ليس لها أثر على الإنتاجية.
10. أي سياسات الشراء الآتية تضمن توفير مستلزمات عمليات الإنتاج وضمن مستويات أسعار مقبولة ودون تحمل تكاليف إضافية؟  
(أ) الشراء بكميات صغيرة.  
(ب) الشراء بكميات كبيرة.  
(ج) الشراء حسب الحاجة.  
(د) الشراء بالجودة المناسبة.

**السؤال الثاني: (20 علامة)**

(أ) عدد سبع من مهارات إدارة المشروع الريادي. (7 علامات)

(ب) 1. يحتوي الجدول الآتي على مجموعة دوافع الشراء لمصنع يافا للألبان (استهلاك، بيع، تصنيع)، والمطلوب: تحديد دافع الشراء لكل نشاط من أنشطة المصنع الآتية، وذلك بوضع الدافع أمام النشاط المناسب: (3 علامات)

الرقم	أنشطة الشراء في المصنع	الدافع
1	شراء كميات من مواد التعقيم للآلات المستخدمة في بسترة الحليب.	
2	شراء الحليب الطازج بكميات مناسبة، من المزارع الفلسطينية.	
3	شراء كميات من الأعلاف العضوية التي تستخدم في تغذية المواشي، وعرضها في زوايا المصنع.	

(2) علل ما يلي: " يسهم الشراء من الأسواق المحلية في تعزيز وبناء الاقتصاد الوطني". (4 علامات)

(ج) عدد خطوات المتابعة والرقابة على المخاطر. (6 علامات)

**السؤال الثالث: (20 علامة)**

(أ) 1 يتضمن الجدول الآتي مجموعة من الاعتبارات لعمليات الشراء لمصنع الأناقة للأحذية المصنوعة من الجلد الطبيعي، والمطلوب: تحديد وقت الشراء المناسب لكل منها: (قبل الحاجة، عند ظهور الحاجة): (3 علامات)

الرقم	اعتبارات عمليات الشراء في المصنع	الإجابة
1	الخوف من حدوث تقلبات في أسعار الجلود الحيوانية.	
2	الإستفادة من وفرة الجلود الحيوانية، في موسم الأعراس وعيد الأضحى المبارك.	
3	الخوف من إرتفاع كلفة عملية التخزين، وبالتالي إرتفاع أسعار المنتجات من الأحذية.	

(2) عدّد مزايا الشراء بكميات كبيرة في المشروع؟ (4 علامات)

(ب) فيما يأتي أفكار لإنتاج أطباق بلاستيكية والمطلوب: حدد أيها يشكل أفكار تقليدية وأيها يشكل أفكار ابتكارية بوضع إشارة (√) في المكان المناسب:

(7 علامات)

الرقم	الفكرة	الإجابة	
		تقليدية	ابتكارية
1	شراء خدمات خطوط إنتاج حديثة من مصانع أخرى وإنتاج الأطباق والأكواب .		
2	إنتاج الأطباق والأكواب من الكرتون المغلف من الداخل بالبلاستيك.		
3	إنتاج الأطباق والأكواب البديلة (الخضراء).		
4	إنتاج وأطباق وأكواب خفيفة الوزن.		
5	شراء الأطباق والأكواب الجاهزة من مصانع أخرى.		
6	الإتفاق مع مصنع آخر على صناعة الأطباق لصالحها (المصانعة).		
7	الإتفاق مع مصانع من دول أخرى بصناعة الأطباق والأكواب وبيعها للمصنع.		

(ج) فيما يأتي مخاطر قد تحدث في محطة لتعبئة الغاز المنزلي، والمطلوب: تحديد الجهة المسؤولة عن متابعة كل نوع من أنواع المخاطر: (الشؤون المالية، الشؤون القانونية، الموارد البشرية، إدارة الإنتاج، دائرة الهندسة): (6 علامات)

## تابع السؤال الثالث:

الرقم	الخطر في المشروع	الجهة المسؤولة
1	ارتفاع نسبة الديون المعدومة في المشروع .	
2	التأخر في تسليم أسطوانات الغاز المعبئة، حسب العقود المبرمة مع الزبائن.	
3	ارتفاع معدلات ترك العاملين، في قسم تعبئة أسطوانات الغاز.	
4	ارتفاع معدل القضايا المرفوعة بين المحطة والمتعاملين معها في المحاكم النظامية.	
5	ظهور بعض حالات لتسرب الغاز من الأسطوانات ما أدى لحدوث أضرار لدى بعض الزبائن.	
6	خوف إدارة المحطة من عدم تجديد رخصة مزاولة المهنة لوجود المحطة في منطقة مكتظة بالسكان نتيجة للزحف السكاني.	

## السؤال الرابع: (20 علامة)

أ) صنف المؤشرات الدالة على الذات وفق ما يناسبها من مكونات الذات (المعرفة، والمهارة، والوجدان)، بوضع إشارة (√) أمام العبارة التي تمثل ذلك:

(7 علامات)

الرقم	المؤشرات الدالة على الذات	الإجابة		
		المعرفة	الوجدان	المهارة
1	ميول الفرد نحو الإستثمار في وطنه عبر إقامة مشروعه الإستثماري.			
2	شعور الفرد بنجاح مشروعه رغم عراقيل الاحتلال.			
3	امتلاك الفرد خبرات في إعداد دراسات الجدوى لمشاريع استثمارية متنوعة.			
4	إلمام الفرد ببنود قانون تشجيع الإستثمار في فلسطين.			
5	ثقة الفرد بنفسه في تحقيق أهدافه.			
6	إدارة الفرد منندى رجال الأعمال في مدينة الخليل بصورة تطوعية.			
7	حصيلة ما يملكه الفرد من معلومات حول بيئة ومناخ الإستثمار في فلسطين.			

ب) يعمل محل أبو شادي في إنتاج القطايف على مدار العام، وبمختلف أحجامها، فإذا علمت أن حجم الطلب على منتجاته بلغ (500) كغم غرام قطايف يومياً، وهذا يتطلب حجم مخزون من المواد الخام بمقدار (2000) كيلو من المواد الخام، والمطلوب:

(7 علامات)

1. احسب فترة اصدار أمر الشراء .

2. احسب فترة اصدار أمر الشراء، في حالة زاد حجم الطلب الى (1200) كيلو غرام من القطايف.

3. ما مقدار الإنحراف في المخزون، في حالة الاستمرار على ثبات مواعيد اصدار أمر الشراء وتغير حجم الطلب؟ مفسراً إجابتك؟

ج) تعمل شركة العربي في استخراج الحجر ولديها العديد من المحاجر في محافظة الخليل، ويتعرض العاملون فيها للعديد من المخاطر المحتملة، على رأسها مخاطر آلات القص والتحميل وانقلاب الآلات بدرجات (وفاة/ إصابة جسيمة /إصابة طفيفة)،

علماً بأن التكاليف المُرافقة لها، كما في الجدول الآتي :

(6 علامات)



## تابع السؤال الرابع:

الرقم	الخطر المحتمل	احتمالية حدوث الخطر (%)	تكلفة (تأثير) الخطر	قيمة الخطر (دينار)
1	الوفاة .	40%	30000	
2	إصابة جسيمة	ص	10000	
3	إصابة طفيفة..	30%	5000	

على فرض أن عدد العاملين (25) عاملاً ، وقد تم تقدير تكرار المخاطر اعتماداً على السجلات التاريخية للصناعة، فكانت عدد حالات الوفاة نتيجة مخاطر الآلات عامل واحد كل سنتين ونصف، وبلغ متوسط تكرار الإصابات الجسيمة (5) حالات كل 5 سنوات، ومتوسط الإصابة الطفيفة بين العاملين (4) عمال سنوياً، وقسط التأمين نصف السنوي على إصابة العامل الواحد (200 دينار)، في حين بلغت التكلفة السنوية لاتخاذ تدابير وقائية للحماية ضد حوادث العمل (12000) سنوياً.

المطلوب: احسب كلاً مما يأتي:

- 1) قيمة الخطر حسب متوسط التكرار في كل حالة.
- 2) تكلفة اتخاذ الإدارة لإجراء تحمل الخطر، عبر دفع تكاليف إصابات العمل من الميزانية الخاصة للشركة.
- 3) تكلفة اتخاذ الإدارة لإجراء نقل الخطر عبر التأمين ضد حوادث العمل .
- 4) تكلفة اتخاذ الإدارة لإجراء تجنب الخطر، عبر دفع تكاليف اتخاذ تدابير وقائية للحماية ضد حوادث العمل.

## السؤال الخامس: (20 علامة)

أ) 1. يحتوي الجدول الآتي على مجموعة من الأسباب المحتملة لإنشاء إدارة متخصصة في الشراء، في مصنع الياسمين للورق، والمطلوب: وضع إشارة (√) أمام ما يعد سبباً لإنشائها :

الرقم	الأسباب المحتملة لإنشاء إدارة متخصصة بالشراء .	الإجابة
1	وجود طلبيات متنوعة من المطابع على الورق بمختلف أنواعه.	
2	ضياح فرص لعقد صفقات شراء مواد خام تستخدم في إنتاج الورق.	
3	انتشار ثقافة القراءة الإلكترونية في السوق المستهدفة للمصنع.	
4	ارتفاع كلفة فاتورة المشتريات في المصنع.	

2. فرّق بين أسلوب الشراء بالممارسة، وأسلوب الشراء بالمناقصة. (3 علامات)

ب) فيما يأتي مجموعة من السمات لعادل المبدع الذي يملك مخبزاً قديماً ويهوى صيانة الأجهزة والمعدات، وسعى لإنتاج منتجات خضراء بإختراع آلة تعمل على التخلص من إنبعاث الأبخرة الناتجة عن عملية حرق الأخشاب والمطلوب: حدد أي منها يشكل سمة لعادل المبدع بوضع إشارة (√) أمام السمة التي تشكل ذلك:

الرقم	السمات المحتملة لعادل المبدع	الإجابة
1	تستهويه عملية التقليد لمنتجات المخابز الأخرى.	
2	النظر إلى أنشطة المخبز والأعمال التي يقوم بها من مختلف الجوانب.	
3	التشاور مع العاملين في المخبز للوصول إلى منتج منافس في السوق.	
4	القدرة على تحليل المعلومات والسرعة في التوصل للحل.	
5	الجرأة والثقة بالنفس عند اتخاذ قرارات متعلقة بتحسين وتطوير منتجات مخبزه رغم الغموض ما قد يتحمل من التكاليف.	
6	شدة الملاحظة فيما يتعلق بأعمال المخابز الأخرى.	
7	إضفاء طابع الحزم على مناخ العمل في المخبز من خلال إجراءات وتعليمات صارمة في العمل.	

## تابع السؤال الخامس:

(ج) الجدول الآتي يتضمن مفهوم كل من ( تحليل المخاطر، إدارة المخاطر، تحديد المخاطر، متابعة المخاطر )، المطلوب: كتابة المصطلح في المكان المناسب المُعبر عنه:

(6 علامات)

الرقم	خطوات إدارة المخاطر	المصطلح
1	تطبيق منظم لمجموعة من السياسات والإجراءات المتعلقة بتحليل وقياس المخاطر المصاحبة لبيئة العمل، بهدف التحكم بها .	
2	عملية تشخيص المخاطر الحالية والمستقبلية، التي تعيق تحقيق المشروع أهدافه، لتوصيفها وتصنيفها وفقاً لمسبباتها، وذلك باستخدام أدوات ووسائل مختلفة .	
3	قياس وتقييم مدى تأثير المخاطر المحتملة على المشروع، بهدف ضمان اتخاذ القرارات المناسبة التعامل معها .	
4	نشاط منظم ومستمر، يتضمن فحص مدى ملاءمة الاستراتيجية التي تم اختيارها للتعامل مع الاخطار المحتملة، وبيان مدى فاعليتها .	

## السؤال السادس: (20 علامة)

(أ) 1. قارن بين النظام المركزي، والنظام اللامركزي في الشراء وفق المجالات المدرجة في الجدول أدناه:

(6 علامات)

الرقم	مجال المقارنة	النظام المركزي	النظام اللامركزي
1	الوفورات الاقتصادية.		
2	المفاوضة.		
3	كلفة الشراء.		

2. بم تفسر : " اعتماد المفاضلة بين الموردين على طريقة الأهمية النسبية".

(علامة واحدة)

(ب) فيما يأتي نتيجة تفرغ استبيانات تم تطبيقها بهدف تشكيل فريق طوارئ مكون من (4) أفراد:

(7 علامات)

اختيار الآخرين للشخص							
اختيار	اسم العامل	علي	محمد	عيسى	ابراهيم	حسين	داود
الشخص للآخرين.	علي	+	-	-	-	+	+
	محمد	+		+			
	عيسى	-	+		+	-	-
	ابراهيم		+	+		-	+
	حسين	+			+		
	داود						

والمطلوب: أجب عن الأسئلة الآتية:

1. من هو العامل الذي يحظى بأكثر عدد من الإختيارات الإيجابية؟
2. من هو العامل الذي تنبذه الجماعة ويحظى بأكثر عدد من الإختيارات السلبية؟
3. جد مكانة الإختيار الإيجابية للعامل علي؟
4. جد مكانة الإختيار السلبية للعامل عيسى؟

## تابع السؤال السادس:

5. جد معامل تماسك جماعة العمل في المشروع؟

6. ما جماعة العمل التي على الريادي اختيارها كأعضاء فريق؟ ولماذا؟

(6 علامات)

ج) ما الأدوات الممكن استخدامها في تحديد مخاطر المشروع الصغير؟

القسم الثاني: يتكون هذا القسم من سؤالين وعلى المشترك أن يجيب عن أحدهما فقط.

## السؤال السابع: (20 علامة)

(10 علامات)

أ) إليك الحالية الدراسية الآتية:

يحكى أن فتى اسمه يقين كان يبحث عن فرصة عمل، فوجد في رحلة بحثه تاجراً يدعى عمر معلقاً يافطة على باب محله (مطلوب آيد عاملة)، دخل الفتى للمحل طالباً الحصول على الوظيفة، فنظر إليه التاجر فأعجبته بنية جسمه وقال في نفسه: لما لا أوظفه لقطع الأشجار اليابسة في غابتي؟ وإعادة زراعتها بأنواع جديدة مثمرة، فقرر توظيفه للعمل لديه وأعطاه منشاراً حاداً، وطلب إليه التوجه للغابة لقطع الأشجار، ففي اليوم الأول من عمله قطع الفتى (6) شجرات، وفي اليوم الثاني قطع (5) شجرات، وفي اليوم الثالث (4) شجرات، وهكذا حتى أصبح في اليوم السابع غير قادر على قطع شجرة واحدة فجاء التاجر ليرى ما المشكلة؟ وسأل عن سبب نقص إنتاجيته؟ فاستغرب الفتى يقين وقال: (أنا بذلت كل جهدي وعملت بجد وإجتهاد لكن النتيجة كما ترى توقف التاجر عن الكلام برهة قصيرة من الزمن وقال أتذكر أول يوم قطعت فيه (6) شجرات ماذا كان بحوزتك؟ قال الفتى: نعم، ولكن لم أشأ أن أضيع الوقت في شحذ (تمضية) المنشار.

والمطلوب: اجب عن الاسئلة الآتية:

1. ما السبب في انخفاض إنتاجية الفتى يقين؟

2. أين تمثل دفاع الفتى يقين عن ذاته في الحالة؟

3. ما المضيق الرئيسي للوقت في الحالة؟

4. هل التوقف بفترة من الزمن وإعطاء الذات فرصة للتفكير يعد مضيعة للوقت؟ ولماذا؟

5. برأيك: ما أثر تأجيل الفرد لعمل ما في إدارته ووقته وعلى إنتاجيته في العمل؟

6. ما العبر المستفادة من هذه الحالة؟

ب) 1. يحتوي الجدول الآتي على مجموعة من أنشطة ومهام مسؤول التخزين لشركة الفارس، والمطلوب: التوفيق بين أنشطة

(7 علامات)

ومهام مسؤول التخزين، وسمي الوظيفة التخزينية التي تعبر عن النشاط التخزيني :

الرقم	أنشطة ومهام مسؤول التخزين.	الإجابة	مسمى الوظيفة التخزينية
1	استقبال القطع ومستلزمات المركبات التي ترد للورشة وعمل فحص ظاهري لها.		الترميز
2	اجراء فحص دقيق بالكم والنوع لقطع الغيار المستلمة.		الاستلام المبدئي
3	إعطاء رمز (cod) لكل قطعة من القطع المدخلة للمخازن.		الفحص
4	تهيئة الظروف المادية من تهوية واضاءة ورفوف خاصة بالتخزين.		المناولة
5	توفير نظام أو قاعدة بيانات عن المواد المخزنة بالحد الأدنى والحد الأقصى للمواد الموجودة بالمخزن.		الرقابة على ظروف التخزين
6	وضع القطع الثقيلة في أسفل الرفوف والخفيفة أعلاها والقطع كثيرة الطلب في متناول يد مأمور المستودع.		صرف المخزون
7	صرف المواد والقطع المخزنة بطلبات صرف خاصة.		متابعة المخزون

## تابع السؤال السابع:

2. بم تفسر: " الحاجة الى إدارة متخصصة للتخزين في مشروعات الأعمال". (3 علامات)

## السؤال الثامن: (20 علامة)

أ) وضح مراحل الإبداع. (6 علامات)

ب) قارن بين جماعة العمل، وفريق العمل. (4 علامات)

ج) تعمل شركة الأصالة في مجال توريد الأجهزة الإلكترونية، وقامت بطرح عطاء لتوريد طلبية ساعات ضبط الدوام، إذ تقدم لذلك ثلاثة موردين، والجدول الآتي يبين بيانات المفاضلة بينهم: (10 علامات)

الترتيب: أعلى مستوى (10) نقاط، وأدنى مستوى (5) نقاط.			
الموردون	سهولة الاستخدام (0.5)	المزايا الإضافية (0.3)	خدمات ما بعد البيع (0.2)
1- شركة الأوس.	9	7	5
2- شركة الأمل.	6	6	4
3- شركة الأناقة.	7	8	5

والمطلوب: أجب عن الأسئلة الآتية:

1. انشاء جدول مفاضلة بين الموردين.
2. ما القرار الذي تنصح شركة الأصالة باتخاذها لتوريد الساعات؟ ولماذا؟

انتهت الأسئلة



امتحان شهادة الدراسة الثانوية العامة  
لعام 2021م - الدورة الثانية

ملاحظة: عدد أسئلة الورقة (ثمانية) أسئلة، أجب عن (خمسة) منها فقط

القسم الأول: يتكون هذا القسم من (ستة) أسئلة، وعلى المشترك أن يجيب عن (أربعة) منها فقط،  
على أن يكون السؤال الأول (الموضوعي) منها إجبارياً.

السؤال الأول: (20 علامة)

- يتكون هذا السؤال من (10) فقرات من نوع اختيار من متعدد، من أربعة بدائل، اختر رمز الإجابة الصحيحة، ثم ضع إشارة (×) في المكان المخصص في دفتر الإجابة:
1. ما نسبة توزيع رأس المال بين الشركاء (أ، ب، ج) في إحدى شركات التضامن، إذا علمت أن حصصهم في رأس المال تساوي (10000، 15000، 20000) على التوالي؟  
(أ) (20:10:15) (ب) (20:15:10) (ج) (15:10:20) (د) (15:20:10)
  2. ما الشركة ذات رأس المال غير المحدود؟  
(أ) المحاصة (ب) التوصية البسيطة (ج) التوصية بالأسهم (د) القابضة
  3. ما المعيق لاستمرارية شركة الأموال في السوق؟  
(أ) الحجر على احد المساهمين (ب) إشهار إفلاس احد المساهمين (ج) التوقف التام عن تداول أسهمها (د) التعثر في تداول أسهمها
  4. من المخول بإدارة شركة التضامن تحت التصفية الإجبارية؟  
(أ) المدير المالي المعتمد بين الشركاء (ب) المصفي المتفق عليه بين الشركاء (ج) مفوض من المحكمة (د) مراقب الشركات
  5. ما الطرف المدين في قيد إثبات الفائدة على رأس مال الشريك (أ) في إحدى شركات التضامن؟  
(أ) جاري الشريك (أ) (ب) حساب توزيع الأرباح والخسائر (ج) الفائدة على رأس مال الشريك (أ) (د) حساب ملخص الدخل
  6. ما الطرف الدائن في قيد إقفال مكافأة الشريك عاصم في إحدى شركات التضامن؟  
(أ) توزيع الأرباح والخسائر (ب) مكافأة الشريك عاصم (ج) ملخص الدخل (د) جاري الشريك عاصم
  7. أي من الآتية لا يعد من أساليب تخفيض رأس مال شركة التضامن؟  
(أ) تسوية الحسابات الجارية الدائنة (ب) تسوية الحسابات الجارية المدينة (ج) الرد النقدي للشركاء (د) اطفاء الخسائر المدورة
  8. ما الإجراء الأخير لتصفية شركة التضامن؟  
(أ) تسديد حقوق الشركاء (ب) تسديد كل التزامات الشركة (ج) الانتهاء من بيع أصولها (د) الإعلان عن فسخها
  9. كم يبلغ عدد الأسهم العادية لإحدى الشركات المساهمة العامة إذا علمت ان القيمة الدفترية لسهمها (3) دنانير ، وأصولها (3) مليون دينار، والتزاماتها (1.5) مليون دينار؟  
(أ) 500000 سهم (ب) 600000 سهم (ج) 700000 سهم (د) 800000 سهم
  10. ما الجهة المخولة بتحديد شروط إدراج أسهم الشركات المساهمة العامة في السوق المالي الفلسطيني؟  
(أ) البورصة (ب) هيئة سوق رأس المال (ج) مؤسسو الشركة المساهمة العامة (د) مجلس إدارة الشركة المساهمة العامة

**السؤال الثاني: (20 علامة)**

أ) بين أنواع الأسهم العادية في الشركات المساهمة العامة وفقا للمعايير المدرجة في الجدول ادناه: (8 علامات).

المعيار	نوع السهم	1	2
طريقة الدفع			
التداول			

ب) حمزه وبلال شريكان في شركة تضامن ويقتسمان الارباح والخسائر بالتساوي، وبتاريخ 2020/12/31 قررا تصفية شركتهما تصفية اختيارية سريعة، وتم تعيين مصفي للشركة، بمصاريف تصفية وقدرها (10000) دينار، وكانت قائمة المركز المالي في تاريخ التصفية كالآتي :

القيمة	الاصول	القيمة	الالتزامات وحقوق الملكية
30000	الاصول النقدية	5000	رواتب مستحقة
40000	الاصول غير النقدية	5000	دائون
		30000	راس مال الشريك حمزة
		30000	راس مال الشريك بلال
70000	المجموع	70000	المجموع

المطلوب : اعداد قائمة التصفية الفورية للشركة ، علما ان الاصول غير النقدية بيعت بمبلغ وقدره (50000) دينار.

**السؤال الثالث: (20 علامة)**

أ) اذكر أربع خصائص لشركة التوصية بالأسهم.

ب) بتاريخ 2019/1/1 اسست شركة البرق للنقل الدولي المساهمة العامة المحدودة برأس مال وقدره (10) مليون دينار ، موزع على (5) مليون سهم، بقيمة اسمية (2) دينار للسهم الواحد، وبتاريخ 2019/1/10 اكتتب المؤسسون بنسبة (40%) من رأس المال نقدا، وطرح باقي الأسهم للاكتتاب العام على ثلاثة اقساط كما يلي:

- القسط الأول في 2019/2/1 ، بواقع (50%).
- القسط الثاني من 2019/5/15 إلى 2019/6/1 ، بواقع (30%).
- القسط الثالث من 2019/11/15 إلى 2019/12/1 ، بواقع (20%).

وقد سدد المساهمون الاقساط في مواعيدها، عدا المساهم سامر الذي تأخر عن سداد القسط الثاني، ورغم مطالبته فقد استنكف عن السداد وبيعت أسهمه للمساهم الجديد عماد بتاريخ 2019/11/10 وبسعر (2) دينار للسهم الواحد، وترتب عليه فوائد تأخير (200) دينار ، ومصاريف بيع (150) دينار، علما أنه يمتلك (100000) سهم ، وأصدرت الأسهم بتاريخ 2019/12/20.

المطلوب : إثبات القيود اليومية اللازمة.

(16 علامة)

**السؤال الرابع: (20 علامة)**

- (أ) أذكر خمس خصائص لشركات المحاسبة.
- (ب) اتفق الشريكان عنان وحمدان على حساب فائدة لمسحوباتهما من شركتهما التضامنية بمعدل (5%) نصف سنوية، فإذا علمت أن مسحوبات الشريك عنان النقدية قد بلغت (15000) دينار بمتوسط سحب (7) شهور، في حين أن الشريك حمدان قد بلغت مسحوباته النقدية (12000) دينار، بمتوسط سحب (8) شهور .
- المطلوب : إثبات القيود اليومية اللازمة والخاصة بالمسحوبات وفائدتها.

(5 علامات)

**السؤال الخامس: (20 علامة)**

- (أ) اذكر ثلاث طرق لتخفيض رأس مال شركات التضامن.
- (ب) قرر الشركاء نبيل وعيسى وزيد زيادة رأس مال شركتهم التضامنية البالغ (70000) دينار، والموزع بينهم بنسبة (2:2:3) على التوالي ، وذلك باستخدام الأرباح المحتجزة والبالغة (14000) دينار ، علما ان نسبة توزيع الأرباح والخسائر هي ذاتها نسبة توزيع رأس المال .
- المطلوب: إثبات القيود اليومية اللازمة لزيادة رأس المال.
- (ج) طرحت إحدى الشركات المساهمة العامة (800000) سهم بقيمة اسمية (1) دينار للسهم، للاكتتاب العام بتاريخ 2020/5/1 ، و بتاريخ 2020/5/20 اكتتب الجمهور بمليون سهم ، ودفعت القيمة نقدا دفعة واحدة ، فإذا علمت ان المساهم معاذ اكتتب بـ 1600 سهم .
- المطلوب : احسب عدد الأسهم التي سيحصل عليها المساهم معاذ بعد التخصيص .

(6 علامات)

(9 علامات)

(5 علامات)

**السؤال السادس: (20 علامة)**

- (أ) بعد الاطلاع على الحالة أدناه، اجب عن الأسئلة التي تليها.
- مازن وجهاد أصدقاء منذ فترة زمنية ، ولديهما طموح بإنشاء مشروع خاص بهما ، وبعد جهد وتفكير تولدت لديهما فكرة إنشاء معمل لإنتاج طوب البناء ، وبعد دراسة الجدوى اتضح انهما بحاجة إلى رأس مال وقدره (200000) دينار ، مقسم بينهما بالتساوي ، وابرما عقد تكوين شركة بينهما ، وقام الشريك مازن بإيداع حصته في حساب الشركة لدى المصرف ، إلا إن الشريك جهاد لم يكن متوفرا لديه كامل المبلغ ، مما أدى به الى اللجوء لشقيقه علاء والذي عرض عليه الشراكة من طرفه ، فقدم له مبلغ (30000) دينار نقدا، وقد استغرق شهرا حتى أودع المطلوب منه في حساب الشركة لدى المصرف، علما أن جهاد لم يعلم مازن عن اتفائه مع شقيقه ، وبعد انتهاء السنة الأولى من التشغيل ، لم يتم إعلام علاء بنتيجة عمل الشركة ولم يحصل على أية أرباح ، مما دفعه إلى توكيل محام لحل النزاع بينه وبين مازن وجهاد.
1. ما نوع الشركة التي تم تكوينها؟
  2. كم عدد الشركاء في الشركة.
  3. كم تبلغ حصة الشريك جهاد في الشركة.
  4. ما القيود المحاسبية اللازمة لإثبات حصة الشريك مازن في رأس مال الشركة؟
  5. ما القيود المحاسبية اللازمة لإثبات حصة الشريك جهاد في رأس مال الشركة؟
- (ب) إليك البيانات المالية لإحدى الشركات المساهمة العامة كما هي في سجلاتها بتاريخ 2020/12/31.

(10 علامات)

قيمة السهم	السعر في نشرة الإصدار	قيمة التداول	القيمة في عقد التأسيس	القيمة المقدرة من الخبراء
المبلغ بالدينار	9.5	12	1	10

المطلوب :-

1. حدد القيمة الاسمية للسهم.
2. حدد القيمة السوقية للسهم.
3. حدد القيمة الحقيقية للسهم .
4. حدد علاوة الإصدار للسهم .
5. ما القرار المناسب لحامل هذا السهم؟

القسم الثاني: يتكون هذا القسم من سؤالين وعلى المشترك أن يجيب عن أحدهما فقط.

### السؤال السابع: (20 علامة)

(أ) قارن بين الشركة المساهمة العامة وشركة التضامن وفقاً للمعايير المدرجة في الجدول أدناه: - (10 علامات)

الرقم	الشركة	رأس المال	المسؤولية	الوقت اللازم لإجراءات التكوين	العبء الضريبي	إدارة الشركة
1	المساهمة العامة					
2	التضامن					

(ب) إليك حسابات شركة (أ، ب) التضامنية بتاريخ 2020/12/31 علماً ان المبالغ مقدرة بالدينار.

جاري الشريك (أ) دائن (8000)، موردون (20000)، زبائن (15000)، نقدية (30000)، آلات ومعدات (18000)، أثاث (7000)، رأس مال الشريك (أ) (35000)، رأس مال الشريك (ب) (35000)، أوراق مالية (4000)، قرض الشريك (ب) للشركة (6000)، مشتريات (70000)، بضاعة أول المدة (20000)، بضاعة آخر المدة (30000).

المطلوب: إعداد قائمة المركز المالي للشركة كما هي في تاريخ 2020/12/31. (10 علامات)

### السؤال الثامن: (20 علامة)

(أ) حدد نوع التصفية للحالات الافتراضية المدرجة في الجدول أدناه، وذلك بوضع إشارة (✓) في المكان الملائم. (10 علامات)

الرقم	الحالات المفترضة	نوع التصفية	
		إجبارية	اختيارية
1	إيقاف حق الامتياز للشركة بموجب قرار رسمي.		
2	عجز احد الشركاء عن الإيفاء بتسديد حصته في رأس المال، فصدر قراراً رسمياً بتصفيتها.		
3	انتهاء الغرض الذي من أجله أسست الشركة.		
4	انسحاب الشركاء باستثناء شريكا واحداً.		
5	التوافق بين الشركاء على الاندماج في شركة أخرى.		

(ب) حدد طرفاً كل عملية مالية من العمليات الواردة في الجدول أدناه: - (10 علامات)

الرقم	العملية المالية	الطرف المدين	الطرف الدائن
1.	إقبال فائدة قرض الشريك للشركة.		
2.	إقبال الفائدة على الحساب الجاري المدين للشريك.		
3.	إثبات بضاعة آخر المدة.		
4.	إقبال صافي خسارة شركة التضامن.		
5.	إقبال مصاريف التأسيس لشركة مساهمة عامة.		

انتهت الأسئلة





## امتحان شهادة الدراسة الثانوية العامة لعام ٢٠٢١ م - الدورة الأولى

اليوم: الإثنين

التاريخ: 2021/07/05 م

مدة الامتحان: ساعتان ونصف

مجموع العلامات: ( 100 ) علامة

ملاحظة: عدد أسئلة الورقة (ثمانية) أسئلة، أجب عن (خمس) منها فقط

القسم الأول: يتكون هذا القسم من (سنة) أسئلة، وعلى المشترك أن يجيب عن (أربعة) منها فقط، على أن يكون السؤال الأول (الموضوعي) منها إجبارياً.

### السؤال الأول: (20 علامة)

يتكون هذا السؤال من (10) فقرات من نوع اختيار من متعدد، من أربعة بدائل، اختر رمز الإجابة الصحيحة، ثم ضع إشارة (x) في المكان المخصص في دفتر الإجابة:

1. ما الصفة التي لا تنطبق على الشركات المساهمة العامة ؟  
(أ) مسؤولية الملاك غير محدودة (ب) رأس المال يتكون من أسهم (ج) أسهمها قابلة للتداول (د) تعد وحدة محاسبية مستقلة
2. أي شركة من الشركات الآتية تعتبر مؤقتة ؟  
(أ) المساهمة الخاصة (ب) التضامن (ج) التوصية البسيطة (د) المحاصة
3. من هم ملاك الشركة القابضة ؟  
(أ) حملة أسهمها (ب) حملة سنداتهما (ج) مؤسسوها فقط (د) حملة أسهمها وسنداتهما
4. ما الحساب الذي لا يؤثر سلباً على رأس مال الشريك في شركة التضامن ؟  
(أ) المصاريف (ب) المسحوبات (ج) الإيرادات (د) الخسائر
5. ما نسبة توزيع رأس المال بين خالد وعمر على التوالي ، إذا علمت ان حصة عمر تساوي ( 10000 ) دينار ، والتي تعادل ربع رأس مال الشركة ؟  
(أ) (3:1) (ب) (1:3) (ج) (4:1) (د) (1:4)
6. ما الاجراء المحاسبي المناسب عند تقديم اصول وخصوم منشأة فردية كحصة في رأس مال شركة التضامن ؟  
(أ) عدم استبعاد الديون المعدومة من رصيد الذم المدينة للمنشأة .  
(ب) تقييم أصول المنشأة الفردية حسب تكلفتها التاريخية .  
(ج) تتحمل شركة التضامن المسؤولية عن الديون المشكوك في تحصيلها للمنشأة الفردية .  
(د) تنشئ شركة التضامن حساب مخصص للديون المشكوك في تحصيلها للمنشأة الفردية .
7. ما الطرف المدين لقيود اقفال الفائدة على مسحوبات الشريك ( أ ) من البضاعة بسعر الشراء ؟  
(أ) توزيع الأرباح والخسائر (ب) الفائدة على مسحوبات الشريك ( أ )  
(ج) جاري الشريك ( أ ) (د) المشتريات
8. ما العنوان المناسب لحساب توزيع الأرباح والخسائر لشركة (س) التضامنية عن السنة المالية 2020 ؟  
(أ) شركة (س) التضامنية ، ح/ توزيع الأرباح والخسائر ، عن السنة المنتهية بتاريخ 2020/12/31 .  
(ب) شركة (س) التضامنية ، ح/ توزيع الأرباح والخسائر ، كما هو بتاريخ 2020/12/31 .  
(ج) شركة (س) التضامنية ، ح/ توزيع الأرباح والخسائر ، خلال سنة 2020 .  
(د) شركة (س) التضامنية ، ح/ توزيع الأرباح والخسائر ، عن الفترة المالية 2020 .
9. من الجهة المخولة بفرض فوائد على المساهم المتأخر عن السداد لدى الشركات المساهمة العامة ؟  
(أ) المؤسسون (ب) الهيئة التأسيسية (ج) مجلس الإدارة (د) مراقب الشركات
10. ما القاسم المشترك بين المصارف وشركات التأمين ؟  
(أ) عدد المساهمين (ب) أساس التكوين (ج) المسؤولية غير محدودة (د) انعدام الحق في اصدار السندات

**السؤال الثاني: (20 علامة)**

(أ) قارن بين شركات الاموال وفقا للمعايير المدرجة في الجدول ادناه :- (8 علامات)

الرقم	الشركة	الشركاء	اصدار الاوراق المالية	مسؤولية الشريك
1	التوصية بالأسهم			
2	المساهمة الخاصة			

(ب) بتاريخ 2019/7/1 اتفق عامر و يقين وتحسين على تكوين شركة تضامن باسم شركة عامر وشركاه براس مال وقدرة (150000) دينار موزعا بينهم بالتساوي، وسدد الشركاء حصصهم في راس المال فور توقيع العقد كما يلي :-  
\* يقدم الشريك عامر حصته في رأس المال نقدا .

\* يقدم الشريك يقين حصته في راس المال الأصول ( اراضي 20000 دينار ، معدات 18000 دينار ، اثاث 12000 دينار ).  
\* يقدم تحسين أصول وخصوم محله التجاري، ويدفع الفرق نقدا كحصة له في راس المال، علما بان المركز المالي لمحله التجاري كان كالاتي :

المبلغ	الأصول	المبلغ	الخصوم
2000	أوراق قبض	2500	اوراق دفع
1500	مدينون	11000	دائنون
6000	سيارة	45000	رأس المال
49000	اراضي		
58500	مجموع الاصول	58500	مجموع الخصوم وحقوق الملكية

المطلوب :-

(12 علامة)

1. القيود اليومية اللازمة لإثبات راس المال علما بانه تم قبول الميزانية والاصول حسب القيم المقدمة .
2. اعداد قائمة المركز المالي .

**السؤال الثالث: (20 علامة)**

(أ) بعد الاطلاع على الحالة أدناه ، اجب عن الأسئلة التي تليها :- (10 علامات)

" على اثر جائحة كورونا وبتاريخ 2021/4/1 اتفق ادهم وأيهم على انشاء شركة تضامن لإنتاج الكمامات والمعقمات براس مال وقدره (30000) دينار موزع بينهما بالتساوي ، ولم يتم تخصيص رواتب للشركاء ، فكان كل منهم يسحب من النقدية واحتياجاتهما من المعقمات والكمامات بسعر التكلفة ، واتفقا على احتساب فائدة على المسحوبات بواقع(8%) وقد بلغت مسحوباتهما من النقدية (6000،4000) على التوالي ، ومن الكمامات والمعقمات (200،300) على التوالي ، ويمتوسط سحب (6) شهور للنقدية والبضاعة، ونتيجة لزيادة الطلب على منتجات الشركة ونقص السيولة لديها قدم الشريك ادهم قرضا بواقع (10000) دينار بتاريخ 2021/9/1 وبمعدل فائدة سنوية (6%) " .

المطلوب :-

1. بين اثر سحب الشركاء من الشركة على صافي ارباحها .
2. بم تفسر احتساب فائدة على مسحوبات الشركاء .
3. ما القيد المحاسبي اللازم لإثبات مسحوبات ادهم النقدية ؟
4. ما القيد المحاسبي اللازم لإثبات فائدة مسحوبات ايهم من البضاعة ؟
5. ما القيد المحاسبي اللازم لإثبات حصول الشركة على القرض من ادهم ؟
6. ما القيد المحاسبي اللازم لإقفال فائدة قرض الشريك ادهم ؟

ب) تأسست شركة الهدف المساهمة العامة المحدودة براس مال وقدره ( 2 ) مليون دينار بقيمة اسمية دينار واحد لكل سهم ، وغطي الاكتتاب وفقا للاتية :-

- اكتتب المؤسسون بـ 25 % من اسهم الشركة وسددوا القيمة بتاريخ 2019/2/15 .

- اكتتب الجمهور بـ (2) مليون سهم على قسطين متساويين الاول بتاريخ 2019/4/15، والثاني تمت المطالبة به بتاريخ 2019/6/1، علما ان اخر موعد لدفعه هو 2019/6/15، وتقرر رد الزيادة بتاريخ 2019/4/30 ، واصدرت الاسهم بتاريخ 2019/7/15 .

المطلوب :-

(10 علامات)

1. اثبات القيود اليومية اللازمة في دفاتر الشركة .

2. كم سيفقد المساهم وليد من الأسهم التي اكتتب بها بعد عملية التخصيص علما بانه اكتتب بـ (60000) سهم .

### السؤال الرابع: (20 علامة)

أ) حدد اساس التكوين للأنشطة الاقتصادية المفترضة والمدرجة في الجدول ادناه وذلك بوضع اشارة (√) في المكان الملائم .

(8 علامات)

الرقم	النشاط الاقتصادي المفترض	اساس التكوين	
		اشخاص	اموال
1.	انشاء شركة بهدف امتلاك شركات مساهمة متعثرة للنهوض بها اداريا وماليا .		
2.	انشاء شركة من الافراد والمؤسسين لتمكين ودعم الاعمال الريادية .		
3.	اقامة مجموعة من الاشخاص من عائلة فلسطينية شركة لإنتاج الالبان. اسهمها غير قابلة للتداول في السوق المالي .		
4.	اقامة ليث وصديقه شركة لتصدير الاشغال ونباتات الزينة .		

(5 علامات)

ب) رتب اولويات تسديد الالتزامات عند تصفية شركة التضامن والواردة في الجدول ادناه :-

الرقم	الالتزامات	اولويات التسديد
1.	دائنون	
2.	اجور مستحقة	
3.	ضرائب	
4.	مصاريف التصفية	
5.	حقوق الشركاء	

ج) اتفق الشريكان عمار وعلي على زيادة راس مال شركتهما التضامنية بمبلغ ( 60000 ) دينار موزع بينهما بنسبة (1:2)

على التوالي ، وتقرر ان يودع الشريك عمار حصته من الزيادة نقدا في حساب الشركة لدى البنك ، في حين يقدم الشريك علي

حصته آلات بقيمة (12000) دينار والباقي نقدا .

(7 علامات)

المطلوب :- اثبات القيود اليومية اللازمة لزيادة راس المال .

**السؤال الخامس: (20 علامة)**

- (أ) بين المزايا التي تعود على الشركة نتيجة لإدراج وتداول أسهمها في السوق المالي . (4 علامات)  
 (ب) وفق بين المفاهيم والمصطلحات في العمود الأول بما يناسبها من معنى في العمود الثاني وفقاً للجدول أدناه:-- (6 علامات)

الرقم	المفهوم / المصطلح	المعنى	الإجابة
1.	القيمة الاسمية للسهم	قيمة رأس مال الشركة عند الترخيص	
2.	رأس المال المصرح به	قيمة ما تم تسديده من أسهم	
3.	القيمة السوقية للسهم	القيمة التي يطرح بها السهم للاكتتاب	
4.	رأس المال المدفوع	القيمة المدونة على متن السهم او المنصوص عليها في عقد التأسيس	
5.	القيمة الدفترية للسهم	القيمة التي بموجبها يتم تداول السهم من قبل المستثمرين في البورصة	
6.	القيمة الحقيقية للسهم	قيمة السهم من وجهة نظر المستثمر	

- (ج) قررت دلال وليلى تخفيض رأس مال شركتهما التضامنية بقيمة ارسدة حساباتهما الجارية المدينة ( 10000 ) دينار (20000) دينار على التوالي، علماً بأن رأس مال شركتهما يساوي (150000) دينار موزعا بينهما بالتساوي .  
 المطلوب :- (10 علامات)

- اثبات القيود اليومية اللازمة للتخفيض رأس المال .
- نسبة توزيع رأس المال بعد التخفيض .

**السؤال السادس: (20 علامة)**

- (أ) قارن بين الشركات الآتية وفقاً للمجالات المحددة في الجدول أدناه :- (8 علامات)

شركة التوصية البسيطة	شركة التضامن	مجال المقارنة
		مسؤولية الشريك
		نوع الشركاء
		ادارة الشركة
		العبء الضريبي

- (ب) بتاريخ 2020/12/31 بلغت ارسدة الحسابات الجارية المدينة للشريكين خليل وصلاح في سجلات شركتهما التضامنية (8000،6000) على التوالي ، والتي تأسست بتاريخ 2020/4/1 ، علماً ان عقد الشراكة بينهما ينص على احتساب فائدة على الحسابات الجارية المدينة بواقع (4%) نصف سنوية .

- المطلوب :- (8 علامات)

- القيود اليومية اللازمة لإثبات واقفال الفائدة على الحسابات الجارية المدينة .

- (ج) بصفتك مستثمراً في إحدى الشركات المساهمة العامة، فما القرار الذي ستتخذه في كل حالة من الحالات الآتية:-

- (4 علامات)

- القيمة السوقية للسهم (8) دينار، والقيمة الدفترية (3) دينار، وقيمه الحقيقية (6) دينار .
- القيمة السوقية للسهم (6) دينار، والقيمة الدفترية (3) دينار، وقيمه الحقيقية (8) دينار .

القسم الثاني: يتكون هذا القسم من سؤالين وعلى المشترك أن يجيب عن أحدهما فقط.

**السؤال السابع: (20 علامة)**

أ) بتاريخ 2020/7/1 سدد المساهم ليث القسط الثاني لإحدى الشركات المساهمة العامة والبالغ (6000) دينار وفوائد التأخير (40) دينار علما انه مستحق قبل شهر من تاريخ التسديد .

المطلوب :-

(7 علامات)

1. نسبة فوائد التأخير .
2. القيود اليومية اللازمة .

ب) قصي وحامد شريكان في شركة تضامن ويقتسمان الأرباح والخسائر بالتساوي ، وبتاريخ 2018/11/10 قررا تصفية شركتهما تصفية اختيارية سريعة ، حيث تم تعيين مصفى للشركة ، بمصاريف تصفية وقدرها (16000) دينار ، وكانت قائمة المركز المالي في تاريخ التصفية كالاتي :-

القيمة	الاصول	القيمة	الالتزامات وحقوق الملكية
45000	النقدية	20000	موردون
55000	الذمم المدينة	10000	رواتب مستحقة
75000	أ. قبض	15000	قرض الشريك قصي
30000	سيارات	80000	راس مال الشريك قصي
		80000	راس مال الشريك حامد
205000	مجموع الاصول	205000	مجموع الالتزامات وحقوق الملكية

المطلوب :-

(13 علامة)

اعداد قائمة التصفية الفورية للشركة ، اذا علمت ان المتحصلات النقدية من بيع السيارات والذمم المدينة واوراق القبض قد بلغت (60000) دينار .

**السؤال الثامن: (20 علامة)**

أ) قررت مجموعة من المؤسسين انشاء شركة مساهمة عامة تعنى بتطوير اللقاحات الطبية لمواجهة فايروس كورونا ، وتقدموا بطلب تأسيس في الفترة الممتدة من 2020/3/15 الى 2020/7/20، وقد انفقوا ما مجموعه ( 80000 ) دينار كمصاريف تأسيس خلال الفترة المحددة اعلاه ، حيث اقرت لجنة التأسيس بتاريخ 2020/7/20 ما نسبته 90 % من المبالغ التي أنفقوها.

المطلوب :-

(7 علامات)

1. جد المبلغ الذي سيتحمله المؤسسون .
2. القيود اليومية اللازمة لمصاريف التأسيس .

ب) اليك الارصدة المستخرجة من ميزان مراجعة شركة (أ،ب) التضامنية وذلك بعد اجراء التسويات الجردية بتاريخ 2020/12/31 ، (المبالغ بالدينار) :-

المشتريات ( 30000 ) ، المبيعات (60000) دينار ، مردودات المشتريات (500) ، مردودات المبيعات (800) ، بضاعة أول المدة (15000) ، بضاعة آخر المدة (18000) ، فوائد وديعة لدى البنك (2000) ، مصاريف دعابة وإعلان (1000) ، أجور عمال (6000) ، مصاريف اتصالات ومواصلات (1500) ، مصاريف مياه وكهرباء (2000) ، معدات (1800) ، مصاريف استهلاك معدات (1000) ، فائدة مسحوبات الشريك (أ) (800).

المطلوب :- تصوير حساب ملخص الدخل .

(13 علامة)

انتهت الأسئلة

امتحان شهادة الدراسة الثانوية العامة  
لعام 2021م - الدورة الاستكمالية

ملاحظة: عدد أسئلة الورقة (ثمانية) أسئلة، أجب عن (خمس) منها فقط

القسم الأول: يتكون هذا القسم من (ستة) أسئلة، وعلى المشترك أن يجيب عن (أربعة) منها فقط،  
على أن يكون السؤال الأول (الموضوعي) منها إجبارياً.

## السؤال الأول: (20 علامة)

- يتكون هذا السؤال من (10) فقرات من نوع اختيار من متعدد، من أربعة بدائل، اختر رمز الإجابة الصحيحة، ثم ضع إشارة (×) في المكان المخصص في دفتر الإجابة:
1. ما القيمة المعتمدة بالدينار في حالة تقديم الشريك قطعة أرض كحصة له في رأس مال شركة تضامن، علماً أن قيمتها الدفترية 50,000، والسوقية 70,000، والقيمة المتفق عليها مع شريكه 80,000؟  
 (أ) 80,000 (ب) 70,000 (ج) 50,000 (د) 75,000
  2. ما الحساب المشترك بين حساب ملخص الدخل وقائمة المركز المالي؟  
 (أ) مردودات المشتريات (ب) مصاريف المشتريات (ج) بضاعة آخر المدة (د) النقدية
  3. متى يسقط حق الشريك بالمكافأة؟  
 (أ) عند تحقيق الشركة ارباح عالية  
 (ب) عند سحب جزء منها قبل 12/31  
 (ج) عند تحقيق الشركة خسائر صافية  
 (د) عند تركها لنهاية العام
  4. ما الحساب الذي لا يؤدي الى زيادة رأس المال في شركات التضامن؟  
 (أ) الجاري الدائن (ب) الأرباح المحتجزة (ج) الجاري مدين (د) قرض الشريك للشركة
  5. ما نوع الشركاء في شركة التوصية البسيطة؟  
 (أ) مساهمون وموصون (ب) موصون (ج) مساهمون (د) متضامنون وموصون
  6. ما الطرف الدائن لقيود تحميل المساهم المتأخر عن السداد بمصاريف بيع أسهمه؟  
 (أ) د/ المساهم المتأخر عن السداد (ب) د/ مصاريف بيع الأسهم  
 (ج) د/ النقدية (د) د/ ملخص الدخل
  7. ماذا يطلق على القيمة المدونة على وجه الورقة المالية؟  
 (أ) الاسمية (ب) الدفترية (ج) الحقيقية (د) السوقية
  8. ماذا نسمي رأس المال الذي تحصل بموجبها الشركة المساهمة العامة على ترخيص؟  
 (أ) المكتتب به (ب) المصرح به (ج) المدفوع (د) المصدر
  9. ما الطرف المدين في قيد اقفال فائدة قرض الشريك (أ) في احدى شركات التضامن؟  
 (أ) د/ توزيع الأرباح والخسائر (ب) جاري الشريك (أ) (ج) د/ ملخص الدخل (د) النقدية
  10. أي شركة من الشركات الآتية غير ملزمة بإبرام عقداً كتابياً لتكوينها؟  
 (أ) المحاصة (ب) التوصية البسيطة (ج) التضامن (د) التوصية بالأسهم

**السؤال الثاني: (20 علامة)**

- (أ) عدد أربعة اهداف لإعداد قائمة المركز المالي .  
 (ب) في 2020/8/1 اتفق احمد ورائد وسائد على تكوين شركة تضامن برأس مال قدره (70000) دينار موزع بينهم بنسبة ( 2:2:3) وقد أتفق الشركاء على سداد حصصهم كما يلي :-  
 \* يسدد الشريكان احمد ورائد حصتيهما نقدا فور توقيع العقد .  
 \* يسدد الشريك سائد (50%) من حصته نقدا فور توقيع العقد والباقي بعد شهر من التوقيع .  
 المطلوب :

(14 علامة)

1. اثبات القيود اليومية اللازمة .
2. تصوير حساب حصة الشريك سائد في 2020/9/1.
3. أعداد قائمة المركز المالي في 2020/9/1.

**السؤال الثالث: (20 علامة)**

- (أ) وفق بين الحساب والقائمة التي تخصه وفقا للجدول ادناه بوضع إشارة (√) في المكان المناسب للإجابة:- (10علامات)

الرقم	الحساب	القائمة	
		ملخص الدخل	قائمة المركز المالي
		توزيع الأرباح والخسائر	
1.	مصاريف الدعاية والاعلان		
2.	فائدة راس المال		
3.	المشتريات		
4.	مصروف اهتلاك الاثاث		
5.	مردودات المشتريات		
6.	مكافأة الشريك		
7.	الاثاث		
8.	النقدية		
9.	الارباح المحتجزة		
10.	مجمع اهتلاك الاثاث		

- (ب) عمار وياسر شريكان في شركة تضامن رأسمالهما (12000) ، (8000) دينار على التوالي ، وقد نص عقد الشركة على احتساب فائدة سنوية على مسحوبات الشركاء ورأس المال بمعدل (8% ، 4%) على التوالي، وقد كانت مسحوبات الشريكين اثناء العام من النقدية كما يلي :-

- \* مسحوبات عمار (900) دينار ومتوسط فترة سحبها (6) أشهر .  
 \* مسحوبات ياسر (300) دينار ومتوسط فترة سحبها (9) أشهر .

- المطلوب:- تسجيل القيود المحاسبية اللازمة لإثبات واقفال فائدتى المسحوبات ورأس المال لكلا الشريكين. (10 علامات)

**السؤال الرابع: (20 علامة)**

أ) لديك عدد من الحالات المفترضة، والمطلوب تحديد اي منها يشكل سببا لتصفية الشركة ( اجباريا ، او اختياريا ) وذلك بوضع إشارة (√) في المكان المناسب :- (10 علامات)

الرقم	الحالة المفترضة عن الشركة	نوع التصفية	
		اجبارية	اختيارية
1.	اتفاق الشركاء على الاندماج مع شركة اخرى لتغطية مناطق اخرى من خدمات الطاقة النظيفة		
2.	صدور قرار من المحكمة بوقف حق الامتياز والغاءه بسبب الاخلال الجوهرى بالاتفاقيات .		
3.	تمدد سلطات الاحتلال الصهيوني بتعطيل عمل ونشاط الشركة في انتاج الطاقة نتج عنه خسائر جسيمة صعب من استمرار الشركة في عملها الا بخسارة .		
4.	تخلف أحد الشركاء عن الايفاء بتقديم حصته في راس مال الشركة فصدر قرارا من المحكمة بتصفيتها .		
5.	انتهاء حق امتياز الشركة في توليد الطاقة .		

ب) قررت الشركتان نور وفاتن تخفيض رأسمال شركتهما التضامنية بمبلغ ( 30000 ) دينار، والموزع بينهما بالتساوي وذلك من خلال الاتية :-

الحسابات الجارية المدينة ، الشريكة نور ( 4000 ) دينار ، الشريكة فاتن ( 3500 ) دينار .  
الخسائر المدورة (20000) دينار .

تقوم الشركتان بسحب الزيادة في رأسمالهما نقدا .

المطلوب:- اثبات القيود اليومية اللازمة لتخفيض راس المال على ان تبقى حصتيهما في راس المال متساوية. (10علامات)

**السؤال الخامس: (20 علامة)**

أ) عدد ستة اسباب لزيادة رأس مال شركات التضامن.

ب) حاتم وكاظم شريكان في شركة تضامن يقسمان الارباح والخسائر بنسبة (2:3) على التوالي بتاريخ 2020/7/1 قرر الشريكان تصفية شركتهما تصفية اختيارية سريعة وكانت قائمة المركز المالي بتاريخ التصفية على النحو الآتي :-

القيمة	الاصول	القيمة	الالتزامات وحق الملكية
100000	النقدية	30000	ذمم دائنة
360000	الاصول غير النقدية	10000	قروض بنكية
		50000	قرض الشريك حاتم
		120000	راس مال حاتم
		250000	راس مال كاظم
460000	المجموع	460000	المجموع

فاذا علمت ان مصاريف التصفية بلغت ( 30000 ) دينار ، وبيعت الاصول غير النقدية بقيمة (400000) دينار .

المطلوب :-اعداد قائمة التصفية الفورية للشركة (14 علامة)



**السؤال السادس: (20 علامة)**

أ) تحت اي بند من بنود قائمة المركز المالي تدرج الحسابات التالية :- (10 علامات)

الرقم	اسم الحساب	اصول متداولة	اصول ثابتة	التزامات	حقوق ملكية
1.	اوراق الدفع				
2.	زبائن				
3.	النقدية				
4.	المباني				
5.	موردون				
6.	ارباح محتجزة				
7.	اوراق قبض				
8.	خسائر مدورة				
9.	مصاريف مدفوعة مقدما				
10.	راس المال				

ب) فيما يأتي بعض المصرفيات التي انفقتها لجنة تأسيس شركة القدس للخدمات اللوجستية (م.ع.م) وذلك بعد صدور قرار الترخيص للشركة بتاريخ 2020/1/20 م وقرار هيئة التأسيس بالمصاريف التالية :-

م. جدوى اقتصادية	م. عقد التأسيس	م. استشارات قانونية	م. تسجيل الشركة	م. دعاية وعلان
2000 دينار	5000 دينار	1000 دينار	3000 دينار	6000 دينار

المطلوب :- القيود اليومية اللازمة لاثبات واقفال مصاريف التأسيس. (10 علامات)

القسم الثاني: يتكون هذا القسم من سؤالين وعلى المشترك أن يجيب عن أحدهما فقط.

**السؤال السابع: (20 علامة)**

أ) قارن بين فسخ الشركة وتصفيتها وفقا للمجالات المدرجة ادناه :

التصفية	الفسخ	مجال المقارنة
		الشخصية الاعتبارية للشركة
		نشاط الشركة
		الترتيب او الاسبقية

(ب) اقرأ الحالة التالية ثم اجب عن الاسئلة التي تليها :- (11 علامة)

يمتلك المستثمر علاء اسهماً لإحدى الشركات المساهمة العامة، وقد رصد البيانات من السوق المالي كما هي محددة في الجدول أدناه بتاريخ 2018/12/31 :

قيم السهم	السعر في نشرة الإصدار ( الثاني ) / أسهم عادية	قيمة التداول	القيمة في عقد التأسيس	القيمة المقدرة من الخبراء
المبلغ	9.75	14 دينار	1 دينار	12.25 دينار

وقد بلغ عدد الاسهم في الشركة (1) مليون سهم عادي في نشرة الإصدار الاول ، وفي بداية 2019 تم عمل اصدار ثانٍ بـ(100000) سهم عادي ، و(25000) سهم ممتاز وبلغ مجموع اصول الشركة (4) مليون دينار ، ومجموع التزاماتها (850000) دينار علما ان صافي حقوق حملة الاسهم الممتازة يساوي (400000) دينار .

المطلوب

1. حدد القيمة العادلة لسهم الشركة؟
2. احسب القيمة الدفترية للسهم العادي للشركة بعد الإصدار الثاني؟
3. كم تبلغ قيمة علاوة الإصدار للسهم العادي الواحد في الشركة؟
4. على اي اساس يتخذ المستثمر علاء قراره بالبيع أو الشراء لسهم الشركة في السوق المالي؟
5. هل تنصح المستثمر علاء بالبيع أو الشراء لأسهم هذه الشركة، ولماذا؟

### السؤال الثامن: (20 علامة)

(أ) حدد طرفا كل عملية مالية من العمليات الواردة في الجدول ادناه :- (10 علامات)

الرقم	العملية المالية	الطرف المدين	الطرف الدائن
1.	اثبات تقديم الشريك فريد قرضا للشركة.		
2.	مطالبة المساهمين بسداد قيمة القسط الثاني .		
3.	اثبات سحب الشريك هلال كامل مكافأته نهاية العام نقدا .		
4.	اقفال فائدة قرض الشريك للشركة .		
5.	زيادة راس مال الشريك عنان باستخدام حصته من الارباح المحتجزه.		

(ب) طرحت إحدى الشركات المساهمة العامة ( 1) مليون سهم للاكتتاب ، بقيمة اسمية دينار واحد للسهم ، اكتب المؤسسون بـ( 200000 ) سهم بتاريخ 2020/5/1 و طرح الباقي للاكتتاب العام حيث اكتب الجمهور بـ(1) مليون سهم ودفعت القيمة نقدا ودفعة واحدة بتاريخ 2020/5/19.

المطلوب : (10 علامات)

1. اثبات القيود اليومية اللازمة .
2. احسب عدد الاسهم التي سيحصل عليها المساهم فرج الذي اكتتب ب ( 1500 ) سهم .

## انتهت الأسئلة



Reading comprehension: (40 points)

Question Number One: (25 points)

Read the text and do the tasks below:

Are today's young sports stars overpaid? It's an opinion you'll often hear repeated, especially in the world of football. The figures are astonishing. When the Welsh player Gareth Bale joined Real Madrid in 2013, his reported salary was around £250,000 a week or, if you prefer, £13 million a year. So every week he earns as much as the average Real supporter makes in ten years. This may be an extreme example, but there are a lot more footballers around the world earning almost as much.

It's a situation that makes some people very angry, but those who are infuriated by it often forget what players have to do to get to the top, and the risks involved. A new book by Wayne Barton tells the story of some of those who fell on the way up. These are young men who achieved the dream of playing for the famous club Manchester United, but only had short careers, often because of injuries. Take young Tony Gill, for example, who was on his way to becoming a regular first team player when he hurt his leg and was never able to recover, or the young forward Deiniol Graham, who broke his arm and never played professionally again.

**Outstanding, tragic story** The list of these tragedies goes on, but the story that stands out is that of Giuliano Maiorana. At the age of 19, he was playing for an amateur team in Cambridgeshire, England when he was noticed by one of Manchester United's many scouts, who was searching the lower levels of football for promising young players. At first Giuliano thought the offer of a trial for the world-famous Manchester club was a joke. It wasn't – only months later, he played his first match at United's home ground, Old Trafford. He still remembers the mixture of excitement and terror he felt.

Unfortunately, he didn't get on well with the manager, and was soon playing in the reserve team. It was in a reserve match two years later that his knee was badly damaged. Soon, at the age of 24, his career was finished. For seven years after that, he couldn't even watch football. He now works for his family's business back in Cambridge, moving furniture, and says that he now wishes he hadn't been so good at football when he was young.

A. Answer the following questions:

(8 points)

1. What do angry people often forget according to the writer?

a. \_\_\_\_\_ b. \_\_\_\_\_

2. Why do some young players generally have short careers?

\_\_\_\_\_

3. How did Giuliano feel the first time he played for Manchester United?

\_\_\_\_\_

4. What is Giuliano's current work ?

\_\_\_\_\_

B. Decide whether these statements are True or False:

(6 points)

1. Overpaid young sports stars is a common opinion in football world. ( )

2. Bale's weekly salary is as much as the average Real supporter makes in ten years. ( )

3. Wayne Barton's book tells us stories about successful football stars. ( )

4. Giuliano feels happy and proud of what he achieved. ( )

C. Complete the diagram with kinds of injuries from the text above: (6 points)

Tony Gill

Deiniol Graham

Giuliano Maiorana



D. Match the titles with the paragraphs above: (3 points)

- A. Regret being good footballer  
B. Example of football stars' high salary  
C. Justification for footballers' high salaries

E. Write what the following pronouns might refer to: (2 points)

1. his (line 3 ): \_\_\_\_\_  
2. it (line 18 ): \_\_\_\_\_

**Question Number Two: (15 points)**

Read the text and do the tasks below:

Social media can be defined as "any website that allows social interaction". Social media is growing rapidly throughout the world. More adults and teenagers are joining sites such as Facebook, MySpace, and Twitter to interact with friends, family, and strangers.

Social media has many positive effects on the society. Social networking sites like Facebook and Twitter have expanded communication among individuals and kept them socially active. Using these websites can strengthen a person's computer abilities and help people who have difficulty in socializing to be more comfortable and confident interacting via the internet. Social media can help teenagers to search careers and colleges that they could be interested in. In addition, sites like MySpace and Facebook can allow teenagers to share feelings of kindness and caring towards one another.

Despite its positives, there are many negatives associated with social media. Using social media may make a person a good victim to cyber bullying (التتمر الالكتروني). In this age cyber bullying is quite common, it can happen to any young person online, and can cause deep psychosocial outcomes including depression, anxiety, severe isolation, and tragically suicide. Cyber bullying affects society in a negative way because it harms young teenagers' minds and increases crimes. Using social media can also decrease privacy for individuals by exposing their social accounts to security attacks such as hacking, leaking sensitive information, and sending viruses. Furthermore, Social media can lead to health problems such as brain disorders. Addicting social sites may cause people to have a hard time interacting with people face to face.

Although there are many negatives, the positives of social media outweigh the negatives and allow our society to grow.

A. Complete the following sentences from the text above: (3 points)

1. Social media can be seen as \_\_\_\_\_  
2. Cyber bullying affects the society negatively because \_\_\_\_\_ and \_\_\_\_\_

B. Complete the following table about positives and negatives of social media: (8 points)

Some Positives	Some Negatives
1. Increase _____ between people and keeps them socially active.	1. A person may be a victim to _____ which is a bit popular.
2. Make a person's _____ abilities strong.	2. Make privacy less for individuals by _____ to security attacks.
3. Help teenagers to look for _____ and _____ they could be interested in.	3. Health problems such as _____
4. Let teenagers share feelings of _____ and _____ towards others.	4. Difficulty in interacting directly with people as a result of _____.

## C. Choose the correct answer:

(4 points)

- Social media is \_\_\_\_\_ very fast throughout the world.  
A. decreasing B. becoming less C. increasing
- People who face problems in socializing may find social sites more \_\_\_\_\_ to interact.  
A. confusing B. comfortable C. embarrassing
- According to the writer, the positives of social media are \_\_\_\_\_ the negatives.  
A. equal to B. less important than C. more important than
- The pronoun **them** (line 5) refers to \_\_\_\_\_.  
A. individuals B. networking sites C. effects

## Vocabulary: (25 points)

## Question Number Three: (25 points)

يتكون هذا القسم من ستة أسئلة وعلى المشترك أن يجيب عن خمسة منها فقط

## A. Replace the underlined parts of the sentences with words from the box:

(5 points)

judging – stubborn – factor – charity – trend

- The BC is a **non-profit organization** which works to provide educational chances. \_\_\_\_\_
- You can't convince her easily, she's **unwilling to change her mind**. \_\_\_\_\_
- Their general **movement / fashion** is obvious and clear for all. \_\_\_\_\_
- Feeling unsafe is a major **part of reason** to leave the country and travel abroad. \_\_\_\_\_
- We are always **deciding which is acceptable**; 'That's not well – that's right'. \_\_\_\_\_

## B. Complete the sentences with words from the box:

(5 points)

hub – neglect – fees – strangers – humanitarian

- The \_\_\_\_\_ in these institutions are almost very high.
- The UN is sending \_\_\_\_\_ aids to the areas which were affected by the disaster.
- The city has become a \_\_\_\_\_ for Asian markets and a financial center.
- Tom trained his dog to bark at \_\_\_\_\_.
- In order to keep a tidy kitchen, do not \_\_\_\_\_ to wash your dishes.

## C. Complete the sentences using the appropriate prepositions in the box:

(5 points)

for – with – in – of – from

- The school brought in an expert \_\_\_\_\_ careers advice.
- My friend isn't satisfied \_\_\_\_\_ his new job. He complains a lot.
- Trees should be well protected \_\_\_\_\_ storms in winter.
- He was aware \_\_\_\_\_ my presence but he did not greet me.
- This location is suitable \_\_\_\_\_ the new school.

## D. Match prefixes with suitable words then use them to complete the sentences (you can use the same prefix more than once):

(5 points)

mis- / co- / under / over

pays / operation / incidence / confident / use

- Don't be \_\_\_\_\_. You never know when something goes wrong.
- The company \_\_\_\_\_ its workers because of the financial problems it faces.
- \_\_\_\_\_ between schools is the most important thing we need in this critical stage.
- Some people \_\_\_\_\_ modern technology by breaking the privacy of others.
- It was a \_\_\_\_\_ that they were both in Paris on the same day.

**E. Complete the following sentences with the correct phrasal verb from the box: (5 points)**

**cut back / take over / run into / turned out / catches up**

1. Who did you \_\_\_\_\_ on the way home yesterday?
2. When the machines \_\_\_\_\_, we won't be needed to do manual jobs anymore.
3. I didn't realize her first but it \_\_\_\_\_ that we'd been at school together.
4. Government funding is being \_\_\_\_\_ due to economic problems.
5. He just wants to rest and \_\_\_\_\_ with old friends.

**F. Circle the correct answer: (5 points)**

1. This section of (**job description/ job opportunities**) is where the details of the job are set out.
2. My father has been (**on business / in business**) for over 30 years.
3. The fall in dollar value has affected the Lebanese (**up market/ financial market**) very badly.
4. The president was greeted by the queen (**on arrival / in arrival**) at the palace.
5. He threw the rubbish (**on order / on purpose**) knowing it would annoy her.

**Language: (25 points)**

**Section A: (15 points)**

**Question Number Four: (15 points)**

**From this section answer Three only** يتكون هذا القسم من أربعة أسئلة وعلى المشترك أن يجيب عن ثلاثة منها فقط

**A. 1. Complete the sentences with the correct tense of the verbs in brackets: (3 points)**

1. Rula \_\_\_\_\_ since 3 o'clock. She'll take a break in an hour. (study)
2. When Sara came home, she saw that someone \_\_\_\_\_ her apartment. (break into)
3. Ali \_\_\_\_\_ about our new project now, he is busy with something else. (not / think)

**2. Choose the correct answer: (2 points)**

1. They ( **should arrive/ should have arrived** ) on time , but there were no buses or taxis.
2. The flood ( **could / must** ) have damaged all of the farms , but luckily it didn't.

**B. 1. Circle the correct answer: (3 points)**

1. There is too much noise. Can you stop ( **to talk / talking** )?
2. They'd like ( **to celebrate / celebrating** ) their success .
3. They decided ( **not to accept / don't accept** ) any suggestion directly .

**2. Rewrite the following using the words between brackets: (2 points)**

1. We stayed at a very bad hotel. ( **I wish** )

2. Kamal didn't pay attention to his father's advice. ( **He regrets** )

**C. 1. Choose the correct answer: (2 points)**

1. I can't be sure, but this idea ( **will probably / will** ) solve the matter .
2. Mira ( **could / may** ) not be here when you come. I'm not sure!

**2. Report the following questions: (3 points)**

1. "Which way did you choose to go to Jericho?"  
They asked me \_\_\_\_\_
2. "Am I following the instructions well?"  
The secretary asked herself \_\_\_\_\_

**D. Choose the correct answer: (5 points)**

1. Sameer ( **has/ will have** ) an exam every Tuesday, so he must study hard.
2. Jenny ( **might not / could** ) be at the office. I can't reach her at home.

3. Noor feels sick and can't get up. She ( **should see / should have seen** ) a doctor.
4. Amjad left school at the age of 13. He regrets ( **leaving/ had left** ) school.
5. I asked the interviewee if ( **had he worked/ he had worked** ) at schools before.

**Section B: (10 points)**

**Question Number Five: (10 points)**

يتكون هذا القسم من ثلاثة أسئلة وعلى المشترك أن يجيب عن سوالين منها فقط

**A. 1. Circle the correct answer: (3 points)**

1. Don't hesitate, Sami. I ( **think / am thinking** ) you are right.
2. He says he ( **will / is going to** ) get a scholarship to study abroad.
3. They came as soon as I ( **was calling/ called** ) them.

**2. Rewrite the sentences replacing the underlined parts with a causative structure: (2 points)**

1. She'd better ask the jeweler to repair her necklace.

\_\_\_\_\_

2. Huda didn't make the curtains herself so she asked someone to make them.

\_\_\_\_\_

**B. 1. Correct the following sentences (there is One mistake in each sentence): (3 points)**

1. How often is he going to the cinema? \_\_\_\_\_
2. When I got to the airport , I found that the plane has already left. \_\_\_\_\_
3. I'm sure they are going to settle here for another week. \_\_\_\_\_

**2. Add question tags to the sentences below: (2 points)**

1. Nabil's aunt hit him hard , \_\_\_\_\_ ?
2. Their problem won't be solved easily, \_\_\_\_\_ ?

**C. 1. Choose the correct answer: (2 points)**

1. I ( **will attend / am attending** ) a conference next week. I received the invitation card.
2. I felt tired when I got home so I ( **went/ had gone** ) straight to bed.

**2. Report the following pieces of advice: (3 points)**

1. "It is a good idea to respect your parents' opinions."  
My teacher advised me that \_\_\_\_\_
2. "You'd better not borrow others' properties."  
My father warned me against \_\_\_\_\_

**Writing: (10 points)**

**Question Number six: (10 points)**

Choose ONE of the following topics:

أكتب موضوعا واحدا من أحد الموضوعين

1. Your name is Osama , you are 18 years old . You are going to join an English course to develop your writing skill. Write your **personal statement**. You can follow the following pattern:  
Paragraph 1: Why are you applying?  
Paragraph 2: What have you done? e.g subjects, readings and activities show your interests.  
Paragraph 3: Why are you suitable for the course?

2. You are Shadi Ali the Purchasing Manager of Healthcare Company. Write a **business enquiry letter** to Mrs. Sali Alhamedi the Sales Manager of Medical Equipment Company asking about the following points:

List of hygienic products e.g (masks, gloves and hands wash) / the price / how long guarantee / ways of payments / delivery period.

انتهت الأسئلة



**Reading comprehension: (40 points)**

**Question Number One: (25 points)**

**Read the texts and do the tasks below:**

**TEXT A:**

As a parent, I'm becoming increasingly worried about the effect communications technology is having on young people. My fourteen-year-old son seems to spend hours every day texting or chatting online, or updating his social media page. He says he's going to do his homework, but an hour or two later still hasn't started it, and I can't help feeling that he's wasting so much time on this instead of doing useful things, or even just being with his friends and communicating with real people.

Is all this texting affecting young people's ability to use language properly? Is there a danger that they could become addicted to technology? What potential dangers are out there in the online world? I don't know enough about these new technologies to be able to answer questions like these.

**TEXT B:**

Like it or not, today's young people are the connected generation. A recent study in the US found that nearly a quarter of teenagers use social media sites at least ten times a day and 75% own mobile phones. Texting is now the main form of communication for young people. The figures obviously vary between countries, but the one thing we can predict is that they will continue to rise.

Inevitably, this has led to panic among parents, teachers and other adults. But are these fears justified? Not according to Dr Amy Lehane, who has studied exactly how young people are using technology. 'If you look back,' she says, 'you find the same panic reaction from older people to the growth of the telephone or television. Often it comes from a fear of something they don't understand, but our research indicates that young people are quite capable of telling the difference between the online world and the real world, or between the types of language used for texts and job applications. They're also very aware of the possible negative effects of technology: they know, for example, that it's not a good idea to post a message like 'I'm having a party next Saturday' on a public site.'

**A. Decide which of the two texts talks about the following:**

**(4 points)**

1. Parents' questions and enquiries. (Text \_\_\_\_\_)
2. We should learn to trust young people more. (Text \_\_\_\_\_)
3. Facts and numbers about young generation's use of technology. (Text \_\_\_\_\_)
4. Things were different when I was young. (Text \_\_\_\_\_)

**B. Answer the following questions:**

**(6 points)**

1. What annoys parents a lot in general?

2. What does the parent prefer his son to do in his free time?

a. \_\_\_\_\_ b. \_\_\_\_\_

3. How does Dr. Amy explain older people's panic towards young's use of technology?

**C. Decide whether these statements are True or False:**

**(3 points)**

1. The major way for teenagers now to keep in touch is sending short messages. ( )
2. The numbers of using technology are nearly the same between countries. ( )
3. Dr. Amy is against the unjustified fear that older people feel. ( )



**D. Write what the following pronoun and number might refer to: (4 points)**

1. **it** ( text A ): \_\_\_\_\_
2. **75%** ( text B ): \_\_\_\_\_

**E. Complete the missing information in the table from the texts above: (8 points)**

1. The 14-year-old son spends his time in:	a. _____ b. _____ c. _____
2. The US latest study showed that:	a. _____ b. _____
3. Reasons to be positive about the future according to Dr. Amy Lehane	a. _____ b. _____ c. _____

**Question Number Two: (15 points)**

**Read the text and do the tasks below:**

In order for a business to survive in today's world, it is important that we regularly revise what we are doing and how we are doing it. By considering new ideas and new ways of doing things and trying to create , we can improve on our products and services, increase sales, reduce costs and make our processes more effective and efficient. Creativity is the key to increasing profits.

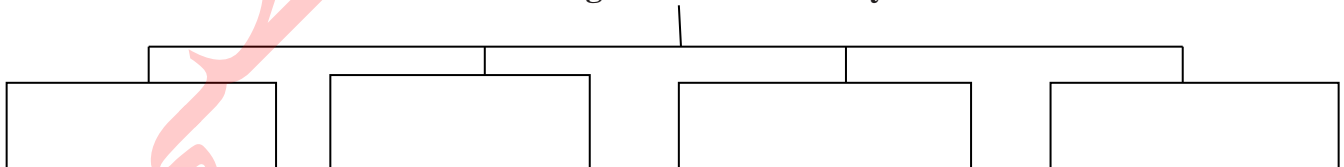
There are several ways a company can be creative with its products and services. In this article, we'll look at two main important ways which are: using the latest technology and responding to customer demands .

Using the latest technologies to improve your products, while they might be impressive, we should not use **them** just because they are available. It is important to consider how the technology can make a difference to our customer or product.

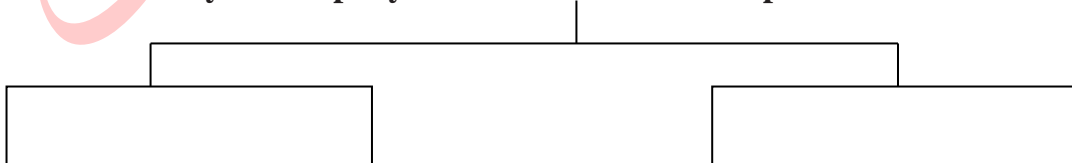
The other way is how to respond to customers' demands by changing what is on offer. By listening to customers' feedback, we can get their opinion on how we are doing and find out about what is that they want. We also need to be aware of changes in customer demands and keep up with times. When fast-food McDonald's restaurants realized that the market wanted healthier choices, they introduced fruit and salads, while removing the ' super-size' option from their menus.

**A. Complete the following diagram: (6 points)**

**1- The results of considering new ideas and ways in business are:**



**2- Ways a company can be creative with its products and services:**



**B. Decide whether these sentences are True or False: (4 points)**

1. It's essential to revise our business regularly to survive it. ( )
2. Latest technologies should be used in business because they're available. ( )
3. Listening to customers' feedback helps in finding out what they want. ( )
4. McDonald's restaurants have not changed their menu since they started. ( )

**C. Circle the correct answer: (2 points)**

**1. The best title of this text is:**

- A. Technology nowadays . B. Creativity in business. C. Business News

**2. The underlined pronoun them (line 9) refers to:**

- A .technologies B. customers C. products

**D. Complete the following sentences with words from the text: (3 points)**

1. We should change what is on offer to respond to customers' \_\_\_\_\_.  
2. We need to be aware of changes in customer demands and keep up with \_\_\_\_\_.

**Vocabulary: (25 points)**

**Question Number Three: (25 points)**

يتكون هذا السؤال من ستة اقسام يجيب الطالب عن خمسة اقسام فقط

**A. Replace the underlined parts of the sentences with words from the box: (5 points)**

**borders - participate - employment - puzzle - set**

1. Many graduates are looking for having or getting a job. \_\_\_\_\_  
2. I only need one more card to make a complete group. \_\_\_\_\_  
3. I don't know the key to this hard thing to explain. \_\_\_\_\_  
4. I hope everyone will take part in this fruitful discussion. \_\_\_\_\_  
5. The country has closed its dividing lines to all foreign nations. \_\_\_\_\_

**B. Complete the sentences with words from the box: (5 points)**

**latter - field - revealed - lack - convinced**

1. The research has \_\_\_\_\_ the highest results of using smart phones among children.  
2. In my opinion, the \_\_\_\_\_ point I mentioned is the most important one.  
3. There is a \_\_\_\_\_ of medicine in the Health Care stores.  
4. Ali's \_\_\_\_\_ of study is Law. He likes it very much.  
5. My father \_\_\_\_\_ me that I should study medicine.

**C. Complete the sentences using the appropriate prepositions in the box: (5 points)**

**for - between - of - from - with**

1. He was satisfied \_\_\_\_\_ his test result as he didn't study well .  
2. He isn't suitable \_\_\_\_\_ this job, he needs to practice more .  
3. You have two forms A and B , you have to choose \_\_\_\_\_ them  
4. This room is safe, enclosed and protected \_\_\_\_\_ the sun heat .  
5. Try to be aware \_\_\_\_\_ your own strengths and weakness while learning English.

**D. Match prefixes with suitable words then use them to complete the sentences (you can use the same prefix more than once): (5 points)**

**mis- / co- / under / over**

**charge / behave / operation / paid / heard**

1. We want to thank you for your \_\_\_\_\_ and continuous support.  
2. Her voice wasn't clear. I was certain I had \_\_\_\_\_ what she said .  
3. Even though Ali is \_\_\_\_\_ at his job, he loves it.  
4. Some small shops often try to \_\_\_\_\_ tourists while shopping.  
5. She only gets angry when students \_\_\_\_\_ in the class.

**E. Circle the correct answer:**

(5 points)

1. Usually we ask for payment ( **on receipt** / **in receipt** ) of the goods.
2. Please send a full CV with your ( **job satisfaction** / **job application** ) .
3. He must sell the house for the current ( **market share** / **market value** ) .
4. Luckily, we managed to get to the airport ( **on time** / **in time** ) to catch our flight.
5. Most details will be sent ( **on request** / **in demand** ) .

**F. Complete the sentences with suitable phrasal verbs from the box:**

(5 points)

**take over - came across - put up - turned out - take off**

1. Sinopharm is \_\_\_\_\_ to be a suitable vaccine for Covid 19 .
2. The plane will \_\_\_\_\_ in a minute . Please be sure that your seatbelts are fastened.
3. Who will \_\_\_\_\_ the leadership of the club next year ?
4. He was visiting the town for few days, so I \_\_\_\_\_ him \_\_\_\_\_ in my apartment.
5. While I was cleaning out my desk, I \_\_\_\_\_ this old picture.

**Language: (25 points)**

**Section A: (15 points)**

**Question Number Four: (15 points)**

**From this section answer Three parts only** يتكون هذا السؤال من اربعة اقسام A, B, C, D أجب عن ثلاثة فقط

**A. 1. Complete the sentences with the correct tense of the verbs in brackets:**

(3 points)

1. How often \_\_\_\_\_ you \_\_\_\_\_ to the cinema?. (go)
2. Majd took a photograph of me while I \_\_\_\_\_ the seeds. (plant)
3. You should go to bed. You \_\_\_\_\_ on computer for over two hours. (play)

**2. Choose the correct answer:**

(2 points)

1. You got here very quickly .You ( **must have** / **could have** ) walked very fast .
2. The patient's condition was getting worse. He ( **must have** / **should have** ) seen a doctor

**B. 1. Circle the correct answer:**

(3 points)

1. Don't stop ( **to try** / **trying** ) to win the competition . You may succeed later.
2. Deema promised her mother ( **not to make** / **not making** ) more mistakes.
3. He can still remember ( **being** / **to be** ) in hospital when he was five.

**2. Rewrite the following using the words between brackets:**

(2 points)

1. Manal hid the cause of the accident. (She wishes)

2. Fareed left his present job before finding a new one. (He regrets)

**C. 1. Choose the correct answer:**

(2 points)

1. I'm ( **going to leave** / **leaving** ) to Canada tomorrow. I've got my plane tickets.
2. I think the boat is ( **going to sink** / **sinking** ), there's a hole in its bottom .

**2. Report the following questions:**

(3 points)

1. " Who do you usually meet on Fridays?"

We asked Sameer \_\_\_\_\_

- 2 "Will you be back soon?"

I asked her \_\_\_\_\_

**D. Choose the correct answer:**

(5 points)

1. You look upset . What ( **do you think** / **are you thinking** ) about?
2. We ( **had discussed** / **discussed** ) his plan before we accepted it.

3. She ( **could have / must have** ) solved the problem if she had tried again.
4. You were about to miss the interview. You ( **could have / shouldn't have** ) got up late.
5. I regret ( **not asking / hadn't asked** ) the doctor about the final report.

**Section B: (10 points)**

**Question Number Five: (10 points)**

يتكون هذا القسم من ثلاثة أسئلة A, B, C وعلى المشترك ان يجيب عن اثنين منها فقط Two only answer from this section

**A. 1. Circle the correct answer: (3 points)**

1. You'd better wear heavy clothes. The weather forecast says it's ( **going to snow / snowing** ).
2. I'm certain Hani ( **won't / will** ) get a visa . His passport isn't available.
3. Take your seats .This evening's concert ( **may / will** ) start in a few minutes .

**2. Rewrite the sentences replacing the underlined parts with a causative structure: (2 points)**

1. Kamal has just asked someone to repair the central heating in his house .

2. How normally do you ask someone to service your car?

**B. 1. Correct the following sentences (there is One mistake in each sentence): (3 points)**

1. What have you done for all day long? \_\_\_\_\_
2. He works in the afternoons but today he takes his son to the doctor. \_\_\_\_\_
3. The new engineer loves to be asked about each project. \_\_\_\_\_

**2. Add question tags to the sentences below: (2 points)**

1. Dina and Muna never wear uniforms, \_\_\_\_\_?
2. She's sent us two invitations, \_\_\_\_\_?

**C. 1. Choose the correct answer: (2 points)**

1. What ( **happens / is happening** ) outside?
2. Fuad ( **may /will** ) win the race for his little training . I doubt it.

**2. Report the following pieces of advice: (3 points)**

1. "It's not a good idea to depend on others."  
My teacher told me that \_\_\_\_\_
2. "Don't over train, it is bad for your health."  
The doctor warned Sameer against \_\_\_\_\_

**Writing: (10 points)**

**Question Number Six: (10 points)**

Choose ONE of the following topics:

اكتب موضوعا واحدا من احد الموضوعين

1. You are **Suzan Ali**, you are interested in embroidery and sewing in general. Write an **application form** to Dar Al-Ibda' Centre applying for a "Hand-made crafts" foundation course.

These notes may help you:

- \*Explain the reasons for choosing this course.
- \*Write about your experience in this field.
- \*Write about how you expect your interest in the subject to develop.

2. You are **Sameer**, you live in Nablus .Write an **enquiry letter** to Oredoo Company asking them about the possibility of training for 3 weeks as a telecommunication engineer.

- \* Explain the purpose of your letter. \*Introduce yourself and give the dates you are interested in.
- \* Offer to provide more details if necessary.

انتهت الأسئلة

الصفحة 5 من 5



### Reading comprehension: (40 points)

#### Question Number One: (25 points)

##### Read the text and do the tasks below:

Most schools claim to prepare students for the world of work, but Milton Secondary School takes the claim very seriously. Before **they** even join the school, future pupils get an informal interview at their primary school to discuss their hopes and preferences for the future.

The emphasis on employment continues during the first two years at Milton, and then in the third year all pupils spend a day doing work experience at a local company. Two years later, this becomes a whole week spent with a company, usually arranged by the students themselves.

Throughout their secondary education, students have professional careers advice, which costs the school over £30,000 a year. Head teacher Harriet Downs believes it's worth **it**, though: 'Teachers aren't trained as careers advisers,' she says, 'so we bring in professional help. It's part of a co-ordinated programme that aims to make students aware of the employment options available, and how to make the most of **them**. It's too late to start talking about work in their final year.'

#### A. Complete the following sentences from the text above: (8 points)

- Future pupils at Milton School get interviews to discuss their \_\_\_\_\_ and \_\_\_\_\_
- Milton School pays £30,000 a year for the professional career advisor; and Harriet Downs thinks it's \_\_\_\_\_
- The co-ordinated programme of Milton School aims to :  
a. \_\_\_\_\_  
b. \_\_\_\_\_
- Milton Secondary School believes that it's too late to talk about work \_\_\_\_\_

#### B. Choose the correct answer: (6 points)

- Students arrange for a week of experience with a company during the \_\_\_\_\_.  
A. last two years                      B. first year                      C. third year
- The emphasis on the first two years is on \_\_\_\_\_.  
A. self-study                      B. employment                      C. experience
- In the third year students spend a \_\_\_\_\_ doing work experience at a local company.  
A. week                      B. month                      C. day

#### C. Decide whether the following statements are True or False: (8 points)

- Milton School really works to prepare students for the world of work. ( )
- Milton School arranges experience weeks for their students with the companies. ( )
- Harriet Downs thinks that they don't need a career advisor. ( )
- According to Milton School, it's unsuitable to talk about work during study years. ( )

#### D. Write what these pronouns may refer to: (3 points)

- they** (line 2) : \_\_\_\_\_
- them** (line 11) : \_\_\_\_\_



**B. Complete the sentences with words from the box:**

(5 points)

reward - panic - mentioned - essential - combination

1. I got into a \_\_\_\_\_ when I found the door was closed .
2. Pink is a \_\_\_\_\_ of red and white .
3. It's important to \_\_\_\_\_ good behavior.
4. Careful preparation for the exam is \_\_\_\_\_.
5. The author \_\_\_\_\_ this point in the previous paragraph .

**C. Complete the sentences using the appropriate prepositions in the box:**

(5 points)

between - from - with - of - for

1. Are you aware \_\_\_\_\_ what's happened that day ?
2. Our teacher isn't satisfied \_\_\_\_\_ our results in the English exam .
3. We don't consider her suitable \_\_\_\_\_ the job, she must improve her communicative skill .
4. If you told them to choose \_\_\_\_\_ working or not, many would choose to relax.
5. Parents always try to protect their children \_\_\_\_\_ the outsider world .

**D. Complete the following sentences with suitable words from the box:**

(5 points)

misbehave - co-writer - underconfident - misunderstood - overcharge

1. Don't buy tickets from strangers outside the stadium. They often \_\_\_\_\_ you.
2. I'm afraid you've completely \_\_\_\_\_ the question .
3. My friend was also a \_\_\_\_\_ of several published articles in this magazine.
4. Don't be \_\_\_\_\_. You can do it!
5. Some children often \_\_\_\_\_ in order to get attention .

**E. Complete the following sentences with the correct phrasal verb from the box:**

(5 points)

cut back / come across / take off / put up / turns out

1. It \_\_\_\_\_ that I was right from the beginning.
2. The plane will \_\_\_\_\_ in half an hour. Be ready.
3. I pay too much for smoking. I should \_\_\_\_\_ my spending.
4. My aunt is visiting the town a few days later, so I will \_\_\_\_\_ her \_\_\_\_\_ in my flat.
5. He didn't expect to \_\_\_\_\_ his friend's name in the newspaper.

**F. Circle the correct answer:**

(5 points)

1. Children's lives are ( **in danger** / **on danger** ) every time they cross this road .
2. All workers have the right of ( **job prospects** / **job security** ) so that their work will continue.
3. People buy and sell national currencies on the ( **financial market** / **market share** ) .
4. The manager was away ( **in business** / **on business** ) for two weeks.
5. The movie is very exciting ,all tickets will go ( **on sale** / **in debt** ) this Friday.

Language: (25 points)

Section A: (15 points)

Question Number Four: (15 points)

يتكون هذا القسم من أربعة اسئلة وعلى المشترك ان يجيب عن ثلاثة منها **From this section answer Three parts**

A. 1. Complete the sentences with the correct tense of the verbs in brackets: (3 points)

1. Amjad \_\_\_\_\_ tea very often . ( not / drink )
2. When I \_\_\_\_\_ home , my children \_\_\_\_\_ on their mobiles. (get/chat)
3. Shadi \_\_\_\_\_ our new flat yet . ( not /see )

2. Choose the correct answer: (2 points)

1. The team lost the final match . They ( **must / should** ) have trained well..
2. They ( **could have / could** ) asked me to help them .

B. 1. Circle the correct answer: (3 points)

1. When there is a problem, they always offer ( **to help / helping** ) others.
2. He doesn't like it when people keep ( **to interrupt / interrupting** ) him.
3. When we felt hungry, we stopped ( **to buy / buying** ) some sandwiches and juice .

2. Rewrite the following: (2 points)

1. Fadi didn't have the right address to send the goods .

He regrets \_\_\_\_\_

2. I didn't see Samir when he was in town .

I wish \_\_\_\_\_

C. 1. Choose the correct answer: (2 points)

1. You'd better take an umbrella. The weather forecast says it is ( **going to rain / raining** ) .
2. The problem is **too** difficult for you to solve . I ( **will / am going to** ) help you if you want .

2. Report the following questions: (3 points)

1. "What have you done so far, Ali?"

I asked Ali \_\_\_\_\_

2. "Can you run all that distance?"

The trainer asked me \_\_\_\_\_

D. Choose the correct answer: (5 points)

1. After they had fought for a long period, the soldiers ( **win / won** ) the last battle.
2. Because he doesn't have a car, I think he ( **could / will** ) be late for the meeting.
3. Someone stole your bike. You ( **should / shouldn't** ) have put it outside .
4. I wish I ( **had seen / seeing** ) Samir when he was in town.
5. The teacher asked Salma why ( **she was staying / was she staying** ) alone.



**Section B: (10 points)**

**Question Number Five: (10 points)**

يتكون هذا القسم من ثلاثة اسئلة على المشترك ان يجيب عن اثنين منها

**A. Circle the correct answer:**

**(5 points)**

1. Rami is digging a hole . He ( **is going to / may** ) plant a palm tree.
2. I saw Qassem as soon as he ( **waved / was waving** ) his hand .
3. What ( **are you doing / do you do** ) on Thursdays ?
4. She'd better have her coat ( **clean / cleaned** ) .
5. Sami has an interview tomorrow, he should get ( **his hair cut / cut his hair** ) .

**B. 1. Correct the following sentences (there is One mistake in each sentence):** **(3 points)**

1. I have my lunch right now so I can't answer you . \_\_\_\_\_
2. The tower is looking very beautiful . You should go and see it. \_\_\_\_\_
3. What are you doing when the teacher called you ? \_\_\_\_\_

**2. Add question tags to the sentences below:**

**(2 points)**

1. Ali usually behaves well , \_\_\_\_\_?
2. Suhad has never lost a match , \_\_\_\_\_?

**C. Choose the correct answer:**

**(5 points)**

1. She can remember ( **being / to be** ) in hospital when she was five .
2. We are completely certain that the party ( **could / will** ) be nice and successful .
3. Everyone advised me ( **to not swim / not to swim** ) in the running water .
4. My teachers warned me against ( **wasting /to waste** ) time with my friends .
5. Ahmad asked me if I knew where ( **the bus station was / was the bus station**).

**Writing: (15 points)**

**Question Number Eight: (15 points)**

**Choose ONE of the following topics:**

اكتب موضوعا واحدا من احد الموضوعين

1. You are Mohammad Ali, you want to apply for a course in Environmental Studies at the International College for Science Research. Write an **Application Form** explaining the following : your reasons for choosing this course, your experience in the field and how you expect your interest in the subject to develop.
2. You are Sameh, the purchasing manager of Al-Itehad machine tools, write **a business letter** to Mr. Khalid, the General manager of Bestelec Ltd, asking for a list of their electronic products, the price, how long guarantee on these products, ways of payment.....etc

انتهت الأسئلة



# مكتبة زهور الأقصى

تصوير مستندات

قرطاسية

ألعاب

هدايا

059-9739185 📞

059-2922263 📞

مكتبة زهور الأقصى

رفح - الشابورة - بجوار مفترق الدخني (جنوباً)