



منطقة جنوب رفح التعليمية

وكالة الغوث الدولية - غزة

مركز التطوير التربوي

منطقة رفح التعليمية

مادة مراجعة في التربية الوطنية والحياتية

للصف الثاني الأساسي

الفصل الدراسي الثاني

إعداد: لجنة الصف الثاني الابتدائي

مشرفة المرحلة

أ.صابرين أبوليلة

2022 / 2021 م

الوحدة الرابعة / نباتات ومزروعات

السؤال الأول : أكمل الفراغ بالكلمة المناسبة مما بين القوسين.

(ثابتة - الحجم - متنوعة - اللون - سيقانها - الجذر - الساق)

1- أزهار نباتات بلادي مفيدة و

2- تختلف ثمار النباتات من حيث الشكل و الطعم و..... و.....

3- من النباتات التي تؤكل جذورها

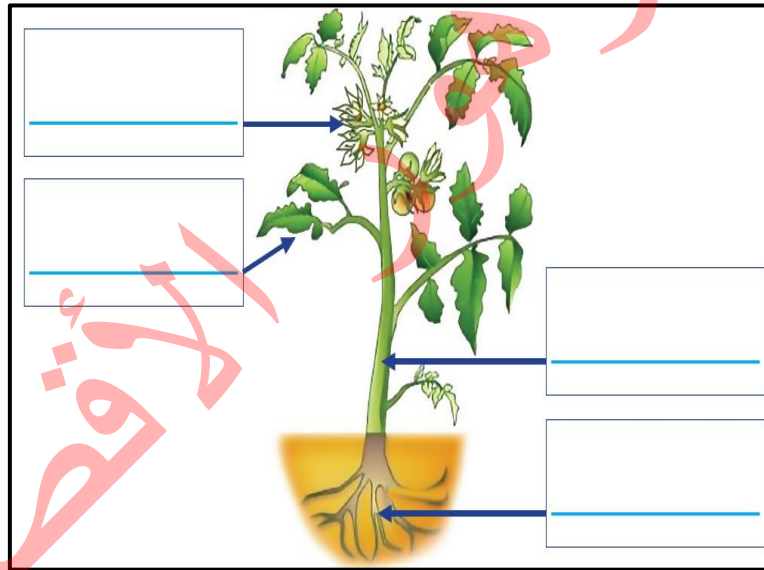
4- البقدونس من النباتات التي تؤكل

5- يحمل أجزاء النبتة فوق سطح الأرض .

6- جذور شعبنا الفلسطيني في الأرض .

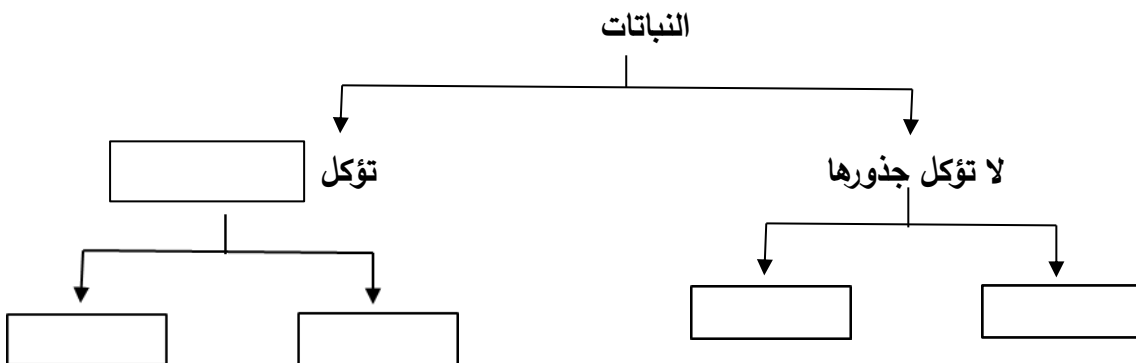
السؤال الثاني : أكتب اسم كل جزء من أجزاء النبتة.

(ساق - ورقة - جذر - زهرة)



السؤال الرابع : أكمل خارطة المفاهيم التالية .

(فجل - نرة - جذورها - ليمون)



السؤال السادس : صنف الكلمات بحسب الجدول .

(كينيا - بطاطا - دوار الشمس - بصل - بندورة - بقدونس - سبانخ - فول)

نباتات لا تؤكل سيقانها	نباتات تؤكل سيقانها

السؤال التاسع : أضع إشارة ✓ تحت صورة النبات الذي تُؤكَلُ أوراقه.



أوراق زيتون



أوراق ملوخيّة



أوراق عنب



السؤال الحادي عشر: صنف الكلمات بحسب الجدول.

(ملوخية - بقدونس - بطاطا - جزر - بصل - عنب - فجل)

نباتات تؤكل سيقانها	نباتات لا تؤكل سيقانها	نباتات تؤكل أوراقها

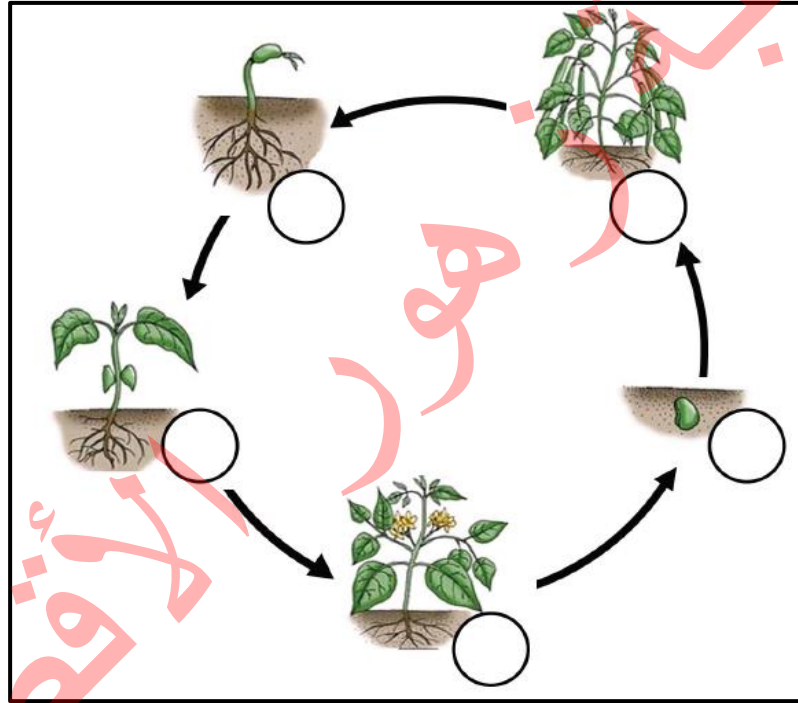
الدرس الثاني / نمو النباتات

السؤال الأول : أكمل الفراغ بالكلمة المناسبة مما بين القوسين.

(التنقيط - الأمطار - الأوراق - طول - ينمو - السهول)

- 1- يزداد النبات عندما ينمو .
- 2- تعتمد الزراعة البعلية في فلسطين على مياه
- 3- من طرق ري المزروعات الري بـ
- 4- عندما النبات يتغير لونه .
- 5- تكثر زراعة نبات الفاصولياء في

السؤال الثاني: أعيّد ترتيب مراحل دورة حياة النبات بوضع الرّقم المناسب في الدائرة



السؤال الثالث: اختر الاجابة الصحيحة مما بين الأقواس .

- 1- يزرع السمسم في بلادي (جبال - سهول - أغوار - صحراء)
- 2- يحتاج النبات لكي ينمو إلى (ماء - هواء - ضوء - كل ما سبق)
- 3- أول مراحل حياة النبات هي (بذرة - شتلة - شجرة - ورقة)
- 4- عندما ينمو النبات يتغير..... (طوله - حجمه - لونه - كل ما سبق)
- 5- أفضل طرق الري للمزروعات هي (الفنوت - الخرطوم - التنقيط - الدلو)

الدرس الثالث / أنواع النباتات

السؤال الأول : ضع علامة (✓) أمام العبارة الصحيحة و علامة (×) أمام العبارة الخاطئة.

- 1- () الرمان من النباتات المعمرة في فلسطين .
- 2- () النباتات الموسمية هي نباتات تعيش سنوات طويلة .
- 3- () من الأشجار التي نأكل ثمارها السرو .
- 4- () الخوخ من النباتات متساقطة الأوراق في فصل الخريف .
- 5- () تتساقط أوراق النباتات في فصل الربيع .
- 6- () تكثر زراعة أشجار الزيتون في جبال فلسطين .

السؤال الثاني: صل اسم النبات بمنطقة زراعته.

عنب	خوخ	حمضيات	موز	خضروات
أريحا	طوباس	الخليل	الجليل	يافا

السؤال الثالث: أصل بين صورة النبات ونوعه.



رُمان



زيتون



صنوبر



لوز



خوخ



خرّوب

نباتات
دائمة
الخضرة

نباتات
متساقطة
الأوراق

السؤال الرابع: صنف حسب الجدول .

(زيتون - خيار - سرو - رمان - خووخ - موز - سنديان - لوز - باذنجان - قمح - صنوبر -

عصا الراعي)

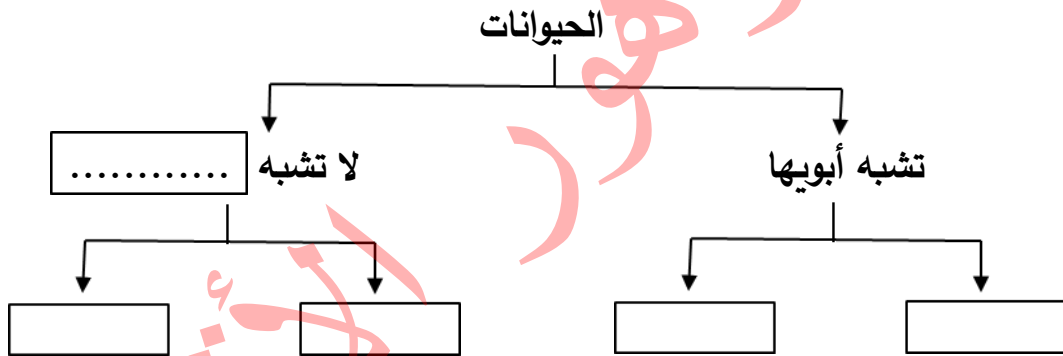
نباتات موسمية	نباتات معمرة

الوحدة الخامسة / حيوانات في بلادي

الدرس الأول / الحيوانات تتغذى وتنمو

السؤال الأول: أكمل الفراغ بالكلمة المناسبة.

(الحصان - أبويها - الفراشة - العصفور - الضفدع)



السؤال الثاني: أكمل الفراغ بالكلمة المناسبة.

1- عندما تنمو الحيوانات فإنها تتغير من حيث و و

2- تحتاج الحيوانات لكي تنمو إلى و و

السؤال الثالث: أضع اسم الحيوان في المكان المناسب في الجدول الآتي.

(أرنب - نمر - فأر - أسد - بقرة - عصفور)

حيوانات آكلة النباتات واللحوم	حيوانات آكلة لحوم	حيوانات آكلة نباتات
.....
.....

الدرس الثاني / الحيوانات تتكاثر

السؤال الأول: أكمل الفراغ.

1. يزداد عدد الحيوانات ب.....
2. لكل حيوان و
3. تختلف بيوض الحيوانات عن بعضه البعض في اللون و..... و
4. يتكاثر الحيوانات عن طريق و
5. يعد الجمل من الحيوانات التي تعيش في صحراء
6. من الحيوانات التي تعتنى بصغارها وتعيش في سهل مرج بن عامر

السؤال الثاني: أختار اسم الحيوان من الصندوق وأضعه في المكان المناسب في الجدول الآتي.

(سمكة - عُصفور - ماعز - فيل - قطة - فراشة)




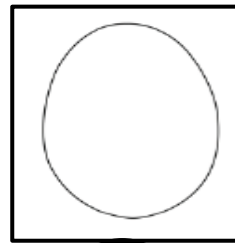



حيوانات تتكاثر بالبيض	حيوانات تتكاثر بالولادة
.....
.....
.....

السؤال الثالث:

أ / رتب مراحل دورة حياة الفراشة .



ب / رتب مراحل دورة حياة الدجاجة .



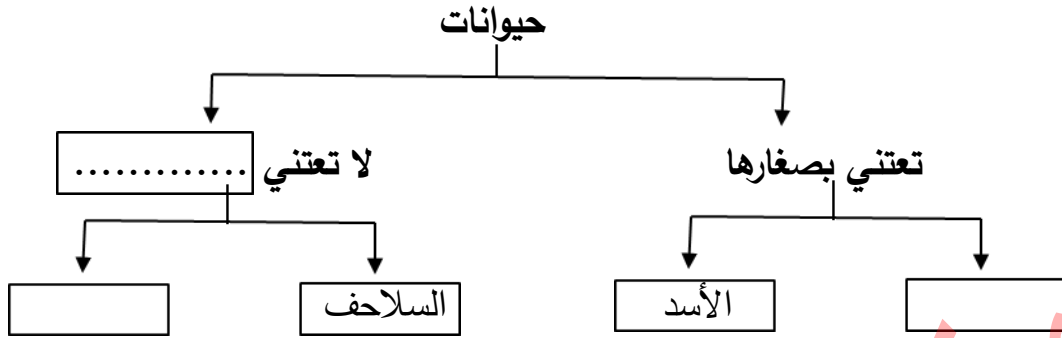
السؤال الرابع: ما رأيك في ..

طالب يأخذ بيض الطيور من أعشاشها.

.....

السؤال الخامس: أكمل الفراغ بالكلمة المناسبة.

(ضفادع - صغارها - الأرنب)



الدرس الثالث / الحيوانات تعيش في جماعات

السؤال الأول: أصل بين الصورة واسم مجموعتها.

جَمَاعَة



الأغنام

سِرْب



النمل

قَطِيع



حمام

السؤال الثاني: صنف حسب الجدول.

(حمام - أبقار - النحل - العصافير - غزلان - سمك - النمل)

حيوانات تعيش في قطيع	حيوانات تعيش في أسراب	حيوانات تعيش في جماعات
.....
.....

الوحدة السادسة / سماء بلادي

الدرس الأول / الشمس

السؤال الأول: أكمل الفراغ بالكلمة المناسبة.

- 1- تعتبر مصدر رئيس للضوء.
- 2- تشرق الشمس من جهة وتغرب من جهة
- 3- نعود من المدرسة عندما تكون الشمس في وسط السماء.
- 4- الشمس الأشياء.
- 5- نرتدي للوقاية من أشعة الشمس.

السؤال الثاني: أذكر السبب.

- 1- ينصح عدم التعرض لأشعة الشمس ظهراً .
.....
- 2- يقل الاعتماد على السخانات الشمسية في فصل الشتاء في فلسطين.
.....

الدرس الثاني / القمر

السؤال الثالث: أصل بين صورة وجه القمر واسمه.

هلال

بدر



السؤال الرابع: ضع علامة (✓) أمام العبارة الصحيحة و علامة (×) أمام العبارة الخاطئة.

- 1- () يكون القمر بدرًا في منتصف الشهر القمري.
- 2- () يكون القمر هلالًا في بداية الشهر القمري فقط.
- 3- () يبقى شكل القمر واحداً على مدار الشهر القمري.
- 4- () يصوم المسلمون في شهر جماد الأول.
- 5- () يحج المسلمون في شهر ذي الحجة.
- 6- () يأتي عيد الفطر في شهر شوال.

الدرس الثالث / الجهات الأربع

السؤال الأول: ضع علامة (√) أمام العبارة الصحيحة و علامة (×) أمام العبارة الخاطئة.

1. () عدد الجهات الاصلية أربعة جهات.
2. () عكا مدينة فلسطينية تقع شمال فلسطين.
3. () تشرف فلسطين من جهة الغرب على البحر الأبيض المتوسط.
4. () يقع خليج العقبة جنوب فلسطين.
5. () يستخدم قبطان السفينة البوصلة لتحديد الاتجاهات.

السؤال الثاني: أكمل الفراغ بالكلمة المناسبة مما بين القوسين.

(أريحا - البوصلة - جنوب - الشمال - الأثرية)

1. تقع صحراء النقب فلسطين
2. الجهات الاصلية الشرق و الغرب والجنوب و.....
3. يجب علينا مساعدة السائحين لمعرفة الأماكن
4. تساعد على تحديد اتجاه القبلة.
5. من المناطق الاثرية التي يزورها السائحين

الأقصى