



منطقة رفح التعليمية

وكالة الغوث الدولية - غزة

مركز التطوير التربوي

منطقة رفح التعليمية

# مادة تدريبية في التربية الوطنية والحياتية

للصف الثاني الأساسي

الفصل الدراسي الثاني

إعداد: لجنة الصف الثاني الابتدائي

مشرفتا المرحلة

أ. صابرين سلامة أبوليلة

أ. منى أحمد عبد الجواد

٢٠١٦ / ٢٠١٧ م

## الوحدة الرابعة / نباتات ومزروعات

السؤال الأول : أكمل الفراغ بالكلمة المناسبة مما بين القوسين.

( ثابتة - الحجم - متنوعة - اللون - سيقانها - الجذر - الساق )

١- أزهار نباتات بلادي مفيدة و .....

٢- تختلف ثمار النباتات من حيث الشكل و الطعم و..... و.....

٣- من النباتات التي تؤكل جذورها .....

٤- البقدونس من النباتات التي تؤكل .....

٥- ..... يحمل أجزاء النبتة فوق سطح الأرض .

٦- جذور شعبنا الفلسطيني ..... في الأرض .

السؤال الثاني : ضع علامة (/) أو (x) أمام العبارات التالية :

١- ( ) تتكون النبتة من ساق وأوراق وجذور وزهرة .

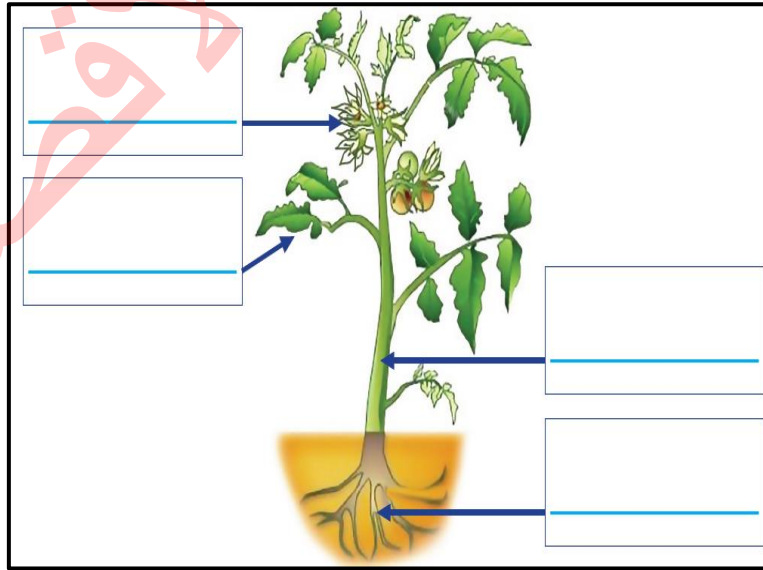
٢- ( ) يزرع نباتات الفجل في منطقتنا .

٣- ( ) يحمل الجذر الأوراق .

٤- ( ) نأكل سيقان دوار الشمس .

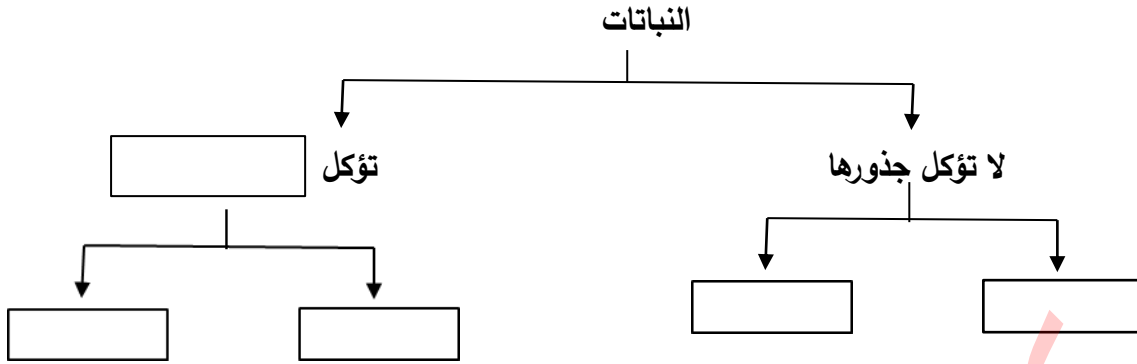
السؤال الثالث : أكتب اسم كل جزء من أجزاء النبتة.

( ساق - ورقة - جذر - زهرة )



السؤال الرابع : أكمل خارطة المفاهيم التالية .

( فجل - نرة - جذورها - ليمون )



السؤال الخامس : ضع دائرة حول صورة الجذر الذي يؤكل.



السؤال السادس : صنف الكلمات بحسب الجدول .

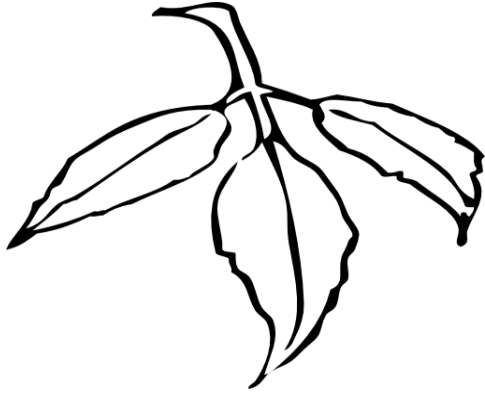
( كينيا - بطاطا - دوار الشمس - بصل - بندورة - بقدونس - سبانخ - فول )

نباتات تؤكل سيقانها	نباتات لا تؤكل سيقانها

السؤال السابع : أكمل الفراغ بالكلمة المناسبة :

- ١- من النباتات التي نأكل سيقانها \_\_\_\_\_ و \_\_\_\_\_ .
- ٢- من النباتات التي نأكل أوراقها \_\_\_\_\_ و \_\_\_\_\_ .
- ٣- نستخدم أوراق العنب في \_\_\_\_\_ .

السؤال الثامن : ألوّن أوراق النباتات الآتية.



السؤال التاسع : صل بين الصورة وما يناسبها :



١- نباتات تأكل جذوره



٢- نباتات تأكل سيقانها



٣- نبات تأكل أوراقه



٤- نبات لا تؤكل أوراقه

السؤال العاشر : ضع علامة ( / ) أو ( × ) أمام العبارات التالية :-

- ١- ( ) نصح المربي من نبات الفراولة .
- ٢- ( ) تشتهر مدينة غزة بصناعة الصابون من زيت الزيتون .
- ٣- ( ) نقاط منتجات الاحتلال .
- ٤- ( ) يجب علينا شراء المنتجات الوطنية .

اذكر السبب :

١- زراعة أشجار الكينا في فلسطين

.....

٢- أوراق بعض النباتات متعددة الفوائد .

.....

السؤال الحادي عشر: صنف الكلمات بحسب الجدول.

( ملوخية - بقدونس - جزر - عنب - فجل )

نباتات لا تؤكل أوراقها	نباتات تؤكل أوراقها

السؤال الثاني عشر: صمم لافتة خاصة بجملة التوعية المتعلقة بدعم المنتجات الوطنية .

.....

السؤال الثالث عشر: أكمل بكلمة ( يعجبني ) أو ( لا يعجبني ) :

- ١- مزارع يهتم بزراعة النباتات المفيدة \_\_\_\_\_
- ٢- أم تستخدم ورق العنب في الطعام \_\_\_\_\_
- ٣- ولد لا يشتري المنتجات الوطنية \_\_\_\_\_
- ٤- أب يشجع أولاده على مقاطعة منتجات الاحتلال \_\_\_\_\_

السؤال الرابع عشر : صحح ما تحته خط .

- ١- الجزء الذي يحمل الأوراق والثمار والأزهار هو الجذر .....
- ٢- من النباتات التي تؤكل جذورها الخس .....
- ٣- نأكل سيقان وأوراق نبات الملوخية .....
- ٤- نستخرج العطور من الساق .....



السؤال الرابع : اختر الاجابة الصحيحة مما بين الأقواس .

- ١- يزرع السمسم في ..... بلادي ( جبال - سهول - أغوار - صحراء )
- ٢- يحتاج النبات لكي ينمو إلى ..... ( ماء - هواء - ضوء - كل ما سبق )
- ٣- أول مراحل حياة النبات هي ..... ( بذرة - شتلة - شجرة - ورقة )
- ٤- عندما ينمو النبات يتغير..... ( طوله - حجمه - لونه - كل ما سبق )
- ٥- أفضل طرق الري للمزروعات هي .....(الفتوات - الخرطوم - التنقيط - الدلو )

السؤال الخامس : حاكم السلوكيات بقول (يعجبني) أو (لا يعجبني) :

- ١- ( ) تلميذ يسقي النباتات و يعتني بها .
- ٢- ( ) تلميذ يقطف أزهار الحديقة .
- ٣- ( ) فلاح يستخدم طريقة التنقيط لري المزروعات .
- ٤- ( ) تلميذ يشارك زملاؤه في تزيين حديقة المدرسة .
- ٥- ( ) يضع المزارع روث الحيوانات لتقويتها .

السؤال السادس : ماذا يحدث لو /

١- وضعنا النبات في غرفة معتمة .

.....

٢- فلاح يسقي النباتات بخرطوم الماء .

.....

السؤال السابع: صحح ما تحته خط .

- ١- الري بالحفر يوفر الماء (.....)
- ٢- الزيتون من النباتات البرية في فلسطين (.....)
- ٣- تشتهر الخليل بزراعة البريقال (.....)
- ٤- تعتمد الزراعة المروية على مياه الأمطار (.....)

الدرس الثالث / أنواع النباتات

السؤال الأول : ضع علامة ( ✓ ) أمام العبارة الصحيحة و علامة ( × ) أمام العبارة الخاطئة.


- ١- ( ) الرمان من النباتات المعمرة في فلسطين .
- ٢- ( ) النباتات الموسمية هي نباتات تعيش سنوات طويلة .
- ٣- ( ) من الأشجار التي نأكل ثمارها السرو .
- ٤- ( ) الخوخ من النباتات متساقطة الأوراق في فصل الخريف.




٥- ( ) تتساقط أوراق النباتات في فصل الربيع .

٦- ( ) تكثر زراعة أشجار الزيتون في جبال فلسطين .


السؤال الثاني: لون النباتات الموسمية.



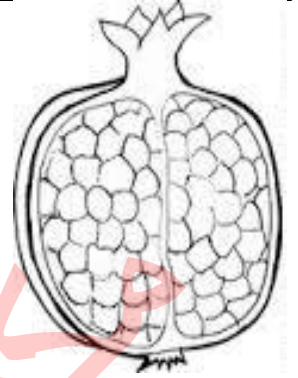
نخيل



فراولة



بطيخ



رمان

السؤال الثالث : اختر الإجابة الصحيحة مما بين القوسين :

١- تكثر زراعة أشجار الموز في \_\_\_\_\_ ( الخليل - أريحا - يافا )

٢- من النباتات الموسمية \_\_\_\_\_ ( نخيل - زيتون - فراولة )

٣- النباتات التي تعيش أكثر من سنة تسمى \_\_\_\_\_ ( معمرة - موسمية - كل ما ذكر )

٤- من الأشجار التي لا تأكل ثمارها \_\_\_\_\_ ( سنديان - سروة - كل ما ذكر )

٥- من النباتات متساقطة الأوراق \_\_\_\_\_ ( سرو - تفاح - برتقال )

السؤال الرابع: أكتب كلمة مُعَمَّرَة أو مَوْسِمِيَّة أمام صورِ النَّبَاتِ الآتية.

زَيْتُون



قَمْح



صَنْوَبَر



عِنَب



بَادُنْجَان



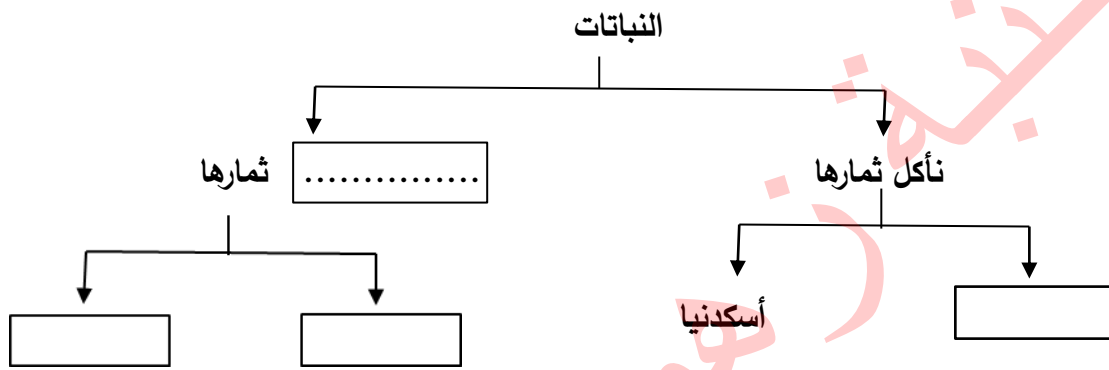


السؤال الخامس : صل

عنب	خوخ	حمضيات	موز	خضروات
أريحا	طوباس	الخليل	الجليل	يافا

السؤال السادس : أكمل بالكلمة المناسبة

( سرو - لا تأكل - موز - سنديان )



السؤال السابع: أصلُ بينِ صورةِ النباتِ ونوعِهِ.



رُمان



صنوبر



خوخ

نباتات  
دائمة  
الخضرة



زيتون



لوز



خروب

نباتات  
متساقطة  
الأوراق

السؤال الثامن: صنف النباتات بوضع إشارة ✓ بحسب الجدول.

أنواع النباتات						اسم النبات
لا تُؤكَلُ ثَمَارُهَا	تُؤكَلُ ثَمَارُهَا	دَائِمَةٌ الْخُصْرَةَ	مُتَساقِطَةٌ الأوراق	مُعَمَّرَةٌ	مَوْسِمِيَّةٌ	
						زَيْتُون
						بندورة
						تَفَّاح
						بَلَوِّط

السؤال التاسع: صنف حسب الجدول .

( زيتون - خيار - سرو - رمان - خوخ - موز - سنديان - لوز - باذنجان - قمح - صنوبر -  
عصا الراعي )

نباتات موسمية	نباتات معمرة

السؤال العاشر : اكتب يعجبني أو لا يعجبني :

- 1- تلميذ لا يغسل الثمار قبل تناولها ( ——— )
- 2- تلميذ يتناول ثمار نباتات لا يعرفها ( ——— )
- 3- تلميذة تساعد أسرتها في تنظيف الأوراق المتساقطة ( ——— )
- 4- يكثر الناس من تناول الحمضيات في فصل الشتاء ( ——— )
- 5- رجل يحب شراء الفاكهة و الخضراوات المعلبة ( ——— )

السؤال الحادي عشر : ماذا يحدث لو /

1- تناول تلميذ ثمار قبل غسلها

.....

2- تلميذ تناول ثمار نباتات لا يعرفها .

.....  
٣- عدم تنوع النباتات في فلسطين .  
.....

### السؤال الثاني عشر : صحح ما تحته خط :

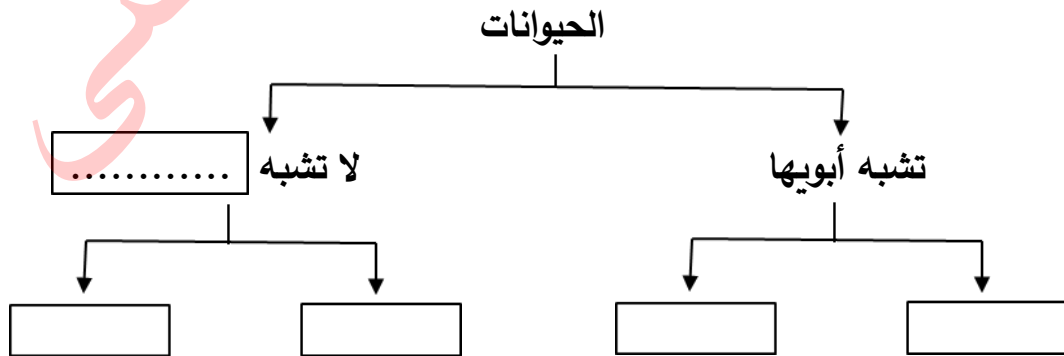
- ١- العنب من النباتات دائمة الخضرة (.....)
  - ٢- الزراعة البعلية تعتمد على مياه الري بالتنقيط (.....)
  - ٣- الزيتون من النباتات متساقطة الأوراق (.....)
  - ٤- النباتات المعمرة تعيش أقل من سنة (.....)
- الوحدة الخامسة / حيوانات في بلادي  
الدرس الأول / الحيوانات تتغذى وتنمو

### السؤال الأول: صل اسم صغير الحيوان بالحيوان المناسب.

مهر	الحصان
فرخ	البقرة
قاعود	الطير
جرو	الكلب
جدي	الماعز
عجل	الجمل

### السؤال الثاني: أكمل الفراغ بالكلمة المناسبة.

( الحصان - أبويها - الفراشة - العصفور - الضفدع )



السؤال الثالث: أكمل الفراغ بالكلمة المناسبة.

- ١- عندما تنمو الحيوانات فإنها تتغير من حيث ..... و ..... و .....
- ٢- تحتاج الحيوانات لكي تنمو إلى ..... و ..... و .....
- ٢- يسمى صغير الماعز بـ .....
- ٤- بعض صغار الحيوانات تشبه ..... وبعضها لا ..... أبويها
- ٥- يسمى الأرنب حيوانات آكلة ..... والأسد من الحيوانات آكلة .....

السؤال الرابع: أصغ اسم الحيوان في المكان المناسب في الجدول الآتي.

( أرنب - نمر - فأر - أسد - بقرة - عصفور )

حيوانات آكلة نباتات	حيوانات آكلة لحوم	حيوانات آكلة النباتات واللحوم
.....	.....	.....
.....	.....	.....

السؤال الخامس: اذكر السبب.

١- وجود نوافذ في حظائر الحيوانات .

.....  
.....

٢- تشاهد بعض الحيوانات ترعى في سهول فلسطين .

.....  
.....

٣- تضع أمي بقايا الطعام في وعاء كبير على باب المنزل .

.....  
.....

السؤال السادس : ضع علامة ( / ) أو ( × ) أمام العبارات :

- ١- ( ) الإوزة من الحيوانات التي تشبه صغارها .
- ٢- ( ) عندما تنمو الحيوانات يتغير طولها فقط .
- ٣- ( ) يسمى صغير الحصان جرو .
- ٤- ( ) يعتبر القنفذ من الحيوانات آكلة اللحوم .
- ٥- ( ) تتغذى البطة على الأسماك و الحبوب .

السؤال السابع : اكتب ( يعجبني ) أو ( لا يعجبني ) :



- ١- ( ولد يسقي الحيوانات ويطعمها . )
- ٢- ( ولد يرمي الحجارة على الطيور . )
- ٣- ( أحمد يخطف فراخ العصافير من أعشاشها . )
- ٤- ( نور تستمتع بمنظر الفراشات في الربيع . )

السؤال الثامن : صحح ما تحته خط .

- ١- النمر من القوارت (.....)
- ٢- يتغذى الأسد على النباتات (.....)
- ٣- صغير الحصان القاعود (.....)
- ٤- القوة زيادة في الحجم والطول (.....)

الدرس الثاني / الحيوانات تتكاثر

السؤال الأول: أ صل بين صورة الحيوان في العمود الأول وصورة صغيره في العمود الثاني:



## السؤال الثاني: أكمل الفراغ.

- ١- يزداد عدد الحيوانات ب.....
- ٢- لكل حيوان ..... و .....
- ٣- تختلف بيوض الحيوانات عن بعضه البعض في اللون و..... و.....
- ٤- يتكاثر الحيوانات عن طريق ..... و .....
- ٥- من الحيوانات التي تتكاثر بالبيض..... و .....
- ٦- تضع إناث ..... البيض و تتركه .
- ٧- من الحيوانات التي تعتني بصغارها ..... و .....
- ٨- يعد الجمل من الحيوانات التي تعيش في صحراء .....
- ٩- تتكاثر الطيور ب.....
- ١٠- من الحيوانات التي تعتني بصغارها وتعيش في سهل مرج بن عامر.....

## السؤال الثالث : ضع علامة ( / ) أو ( × ) أمام العبارات :

- ١- ( ) يكثر الفراش في فصل الربيع .
- ٢- ( ) تضع أنثى الضفدع البيض في الماء وتتركه .
- ٣- ( ) السمكة من الحيوانات التي تتكاثر بالولادة .
- ٤- ( ) يتكاثر التمساح بالبيض .
- ٥- ( ) يزداد عدد الحيوانات بالتكاثر .


## السؤال الرابع: أختار اسم الحيوان من الصندوق وأضعه في المكان المناسب في الجدول الآتي.

( سَمَكَة - عُصْفُور - مَاعِز - فِيل - قِطَّة - فَرَاشَة )


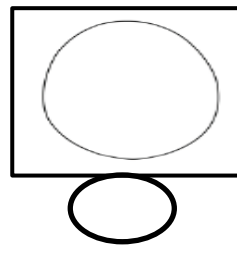


حَيَوَانَاتٌ تَتَكَاثَرُ بِالْبَيْضِ	حَيَوَانَاتٌ تَتَكَاثَرُ بِالْوِلَادَةِ
.....	.....
.....	.....
.....	.....

## السؤال الخامس:

أ / رتب مراحل دورة حياة الفراشة .




ب / رتب مراحل دورة حياة الدجاجة .



السؤال السادس: اكتب اسم المرحلة من دورة حياة الفراشة في المكان المناسب.





السؤال السابع

لا يعنى بصغاره	يعنى بصغاره	يتكاثر بالبيض	يتكاثر بالولادة	الحيوان
				
				
				
				
				



السؤال الثامن: اذكر السبب.

١- لا نأخذ بيض الطيور من أعشاشها .

.....  
.....

٢- تعد تربية الحيوانات مورد رزق كثير من المزارعين في فلسطين .

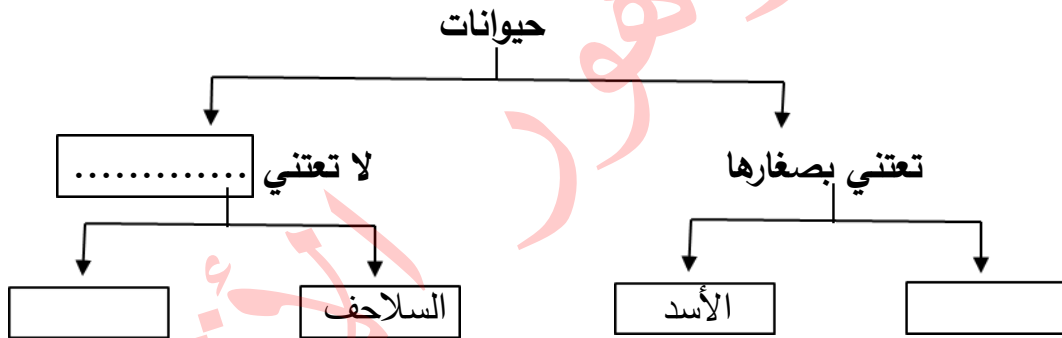
.....  
.....

٣- يكثر الفراش في فصل الربيع .




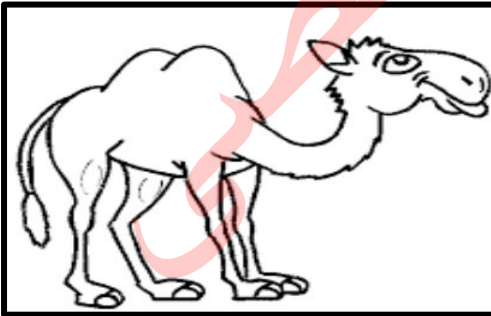
.....  
.....

السؤال التاسع: أكمل الفراغ بالكلمة المناسبة.

( ضفادع - صغارها - الأرنب )



السؤال العاشر: لون الصورة التي تدل على الحيوانات التي تتكاثر بالبيض.



السؤال الحادي عشر : صحح ما تحته خط .

- ١-تكاثر الفراشات بالولادة (.....)
- ٢-المرحلة الثالثة من دورة حياة الفراشة البيضة (.....)
- ٣-من الحيوانات التي تعتني بصغارها السلحفاة (.....)
- ٤-يزداد طول الحيوانات بالتكاثر (.....)

السؤال الثاني عشر : حاكم التصرفات التالية بوضع يعجبني أو ولا يعجبني :

- ١-أحمد يتسلق الأشجار ليجمع بيض الطيور (.....)
  - ٢-خالد يعتني بقطته ويقدم لها الطعام (.....)
  - ٣-هالة تجمع الفراشات الجميلة في علبة لتحتفظ بها (.....)
  - ٤-رجل يصطاد الحيوانات البرية بكثرة فترة تكاثرها (.....)
- الدرس الثالث / الحيوانات تعيش في جماعات

السؤال الأول: أصل بين الصورة واسم مجموعتها .

جَمَاعَة



الأغنام

سِرْب



النمل

قَطِيع



حمام

السؤال الثالث: صنف حسب الجدول.

( حمام - أبقار - النحل - العصافير - غزلان - سمك - النمل )

حيوانات تعيش في قطع	حيوانات تعيش في أسراب	حيوانات تعيش في جماعات
.....	.....	.....
.....	.....	.....

السؤال الرابع : صحح ما تحته خط

- ١- نسمي تجمع النمل قطيع (.....)
- ٢- الغزلان من الحيوانات التي تهجر بحثاً عن الطعام والدفع (.....)
- ٣- نسمي تجمع الفيلة والأبقار جماعة (.....)
- ٤- تعيش الحيوانات في مجموعات لتقتل بعضها البعض (.....)


السؤال الخامس / حاكم التصرفات التالية بوضع يعجبني أو لا يعجبني :

- ١- تلميذ يحبس العصافير في قفص (.....)
- ٢- فلاح يعتني بقطيع الأبقار ويقدم لها الطعام والشراب (.....)
- ٣- رجل يدمر خلايا النحل في حديقته (.....)

الوحدة السادسة / سماء بلادي

الدرس الأول / الشمس

السؤال الأول: أرسمُ شمساً وألونه.



السؤال الثاني: أكمل الفراغ بالكلمة المناسبة.

- ١- تعتبر ..... مصدر رئيس للضوء.
- ٢- تشرق الشمس من جهة ..... وتغرب من جهة .....
- ٣- نعود من المدرسة ..... عندما تكون الشمس في وسط السماء.
- ٤- الشمس ..... الأشياء.
- ٥- نرتدي ..... للوقاية من أشعة الشمس.

السؤال الثالث: أصل صورة الحيوان بظله.



السؤال الرابع: فكر وناقش.

- ١- ينصح بعدم التعرض لأشعة الشمس ظهراً.

.....  
.....

- ٢- يقل الاعتماد على السخانات الشمسية في فصل الشتاء في فلسطين.

.....  
.....

السؤال الخامس : صحح ما تحته خط .

- ١- الطاقة الميكانيكية أفضل أنواع الطاقات (.....)
- ٢- تساهم الطاقة الكهربائية في توفير الوقت والجهد (.....)
- ٣- من مصادر الضوء على الأرض القمر (.....)

٤- يكثر الاعتماد على السخانات الشمسية في فصل الصيف (.....)

السؤال السادس : حاكم التصرفات التالية بوضع أحب أو لا أحب

- ١- تلميذ يرتدي القبعة للوقاية من أشعة الشمس (.....)
- ٢- يلعب خالد مع أصدقائه و الشمس وسط السماء (.....)
- ٣- هند تستخدم السخان الكهربائي لتسخين الشمس (.....)

الدرس الثاني / القمر

السؤال الأول: أكتب اسم الشهر الناقص في الفراغ.

- |       |    |            |    |       |    |
|-------|----|------------|----|-------|----|
| ..... | ٣  | .....      | ٢  | ..... | ١  |
| ..... | ٦  | جماد الأول | ٥  | ..... | ٤  |
| رمضان | ٩  | شعبان      | ٨  | ..... | ٧  |
| ..... | ١٢ | .....      | ١١ | ..... | ١٠ |

السؤال الثاني: أصل بين صورة وجه القمر واسمه.

هلال

بدر



السؤال الثالث: ضع علامة ( √ ) أمام العبارة الصحيحة و علامة ( × ) أمام العبارة الختأ.

- ١- ( ) يكون القمر بدرًا في منتصف الشهر القمري.
- ٢- ( ) يكون القمر هلالاً في بداية الشهر القمري فقط.
- ٣- ( ) يبقى شكل القمر واحداً على مدار الشهر القمري.
- ٤- ( ) يصوم المسلمون في شهر جماد الأول.
- ٥- ( ) يحج المسلمون في شهر ذي الحجة.
- ٦- ( ) يأتي عيد الفطر في شهر شوال.

السؤال الرابع: فكر وناقش.

١- نراقب ظهور الهلال لتحديد موعد بدء شهر رمضان وعيد الفطر.

.....  
 .....

٢- نشعر بالسعادة بحلول عيدي الفطر و الأضحى.

.....  
 .....

السؤال الخامس صحح ما تحته خط :

- ١- عدد شهور السنة القمرية ثلاثة عشر شهراً (.....)
- ٢- يكون القمر في منتصف الشهر هلالاً (.....)
- ٣- يصوم المسلمون في شهر ذو القعدة (.....)
- ٤- ولد الرسول محمد ﷺ في الثاني عشر من شهر ربيع الأول (.....)

السؤال السادس : حاكم التصرفات التالية بوضع يعجبني أو لا يعجبني :

- ١- يهتدي البحارة ليلاً بالقمر و النجوم (.....)
- ٢- يبدأ خالد صيامه عند رؤية الهلال أول أيام شهر رمضان (.....)
- ٣- يصوم المسلمون يوم عاشوراء (.....)
- ٤- يحتفل المسلمون بالاسراء و المعراج و مولد الرسول (.....)

الدرس الثالث / الجهات الأربع

السؤال الأول: اختر الإجابة الصحيحة مما بين القوسين .


( البوصلة - الغرب - القبلة - الشرق )

١- تشرق الشمس من جهة .....

٢- تغرب الشمس من جهة .....

٣- نستخدم ..... لتحديد اتجاه القبلة

السؤال الثاني: لون الوردة الموجودة في اليمين باللون الأصفر والوردة الموجودة باليسار باللون الأحمر:



السؤال الثالث : صحح ما تحته خط

١- نستخدم الميزان في تحديد الجهات الأصلية (.....)

٢- يقع البحر المتوسط شرق فلسطين (.....)

٣- يظهر في خريطة فلسطين ثلاث جهات أصلية (.....)

٤- تغرب الشمس من جهة الشمال (.....)

السؤال الرابع : حاكم التصرفات التالية بوضع يعجبني أو لا يعجبني

١- يستخدم قبطان السفينة البوصلة في رحلاته البحرية (.....)

٢- مسلم يتهم بمعرفة وقت شروق الشمس وغروبها في أيام رمضان (.....)

٣- شركة لا تزود المرشد السياحي بخريطة فلسطين (.....)

الأقصى