

بِسْمِ اللَّهِ الرَّحْمَنِ الرَّحِيمِ



دولة فلسطين  
وزارة التربية والتعليم

# التكنولوجيا

للمف السادس الأساسي

فريق التأليف

د. رشيد الجيوسي  
أيمن العلكوك

م. عارف الحسيني «منسقاً»  
زياد سحلوب

ابراهيم قدح

«مركز المناهج»  
م. معاذ أبو سليقة

رشا عمر



## قررت وزارة التربية والتعليم في دولة فلسطين

تدريس كتاب التكنولوجيا للصف السادس في مدارسها بدءاً من العام الدراسي ٢٠١٣/٢٠١٤ م

### الإشراف العام

رئيس مركز المناهج: د. جهاد زكارنة  
مدير عام المباحث العلمية: رشا عمر

### الدائرة الفنية

إشراف إداري: كمال فحماوي  
تصميم: شروق صعيدي، سمر عوض، إيمان إتييم، سمر عامر  
رسومات: رانية أسعد عامودي  
تحرير لغوي: أ. تحسين يقين

### الفريق الوطني لمنهاج التكنولوجيا

د. محسن عدس «منسقاً»	ياسر مرار	انتصار بصيلة	رشا عمر
احمد سياعرة	امجد المصري	عارف الحسيني	ابراهيم قدح
د. واصل غانم	محمد سلامة	مصعب عبوشي	
مجدي معمر	د. رشيد الجيوسي	ناصر قادوس	

### الطبعة التجريبية المعدلة

٢٠٢٠ م / ١٤٤١ هـ

© جميع حقوق الطبع محفوظة لوزارة التربية والتعليم / مركز المناهج  
مركز المناهج - حي المصيون - شارع المعاهد - أول شارع على اليمين من جهة مركز المدينة  
ص ب ٧١٩ - رام الله - فلسطين  
تلفون: +٩٧٠-٢-٢٩٨٣٢٨٠ ، فاكس: +٩٧٠-٢-٢٩٨٣٢٥٠  
الصفحة الالكترونية: www.pcdc.edu.ps - البريد الالكتروني: pcdd.edu.ps@gmail.com

رأت وزارة التربية والتعليم ضرورة وضع منهاج يراعي الخصوصية الفلسطينية؛ لتحقيق طموحات الشعب الفلسطيني حتى يأخذ مكانه بين الشعوب. فبناء منهاج فلسطيني يعد أساساً مهماً لبناء السيادة الوطنية للشعب الفلسطيني، وأساساً لترسيخ القيم والديمقراطية، وبناء جيل متعلم قادر على التعامل بشكل إيجابي مع متطلبات الحياة، وهو حق إنساني، وأداة لتنمية الموارد البشرية المستدامة التي رسختها مبادئ الخطط الخمسية المتتالية للوزارة.

ومنذ إقرار خطة المنهاج الفلسطيني من قبل المجلس التشريعي عام ١٩٩٨ م عملت الوزارة على تنفيذ بناء المنهاج على عدة مراحل شملت: صياغة الخطوط العريضة، والتحكيم، والتأليف، والإقرار، وفق سياسة الوزارة في إشراك قطاع واسع من التربويين والمؤلفين من معظم قطاعات المجتمع الفلسطيني.

وتكمن أهمية المنهاج في أنه الوسيلة الرئيسية للتعليم التي من خلالها تتحقق أهداف المجتمع؛ لذا تولي الوزارة عناية خاصة بالكتاب المدرسي، كونه يعد عنصراً من عناصر المنهاج الرئيسية، ومصدراً وسيطاً للتعليم، والأداة الأولى بيد المعلم والطالب، بما تشتمل عليه من بيانات ومعلومات عُرضت بأسلوب سهل ومنطقي؛ لتوفير خبرات متنوعة، تتضمن مؤشرات واضحة، تتصل بطرائق التدريس، والوسائل والأنشطة وأساليب التقويم، إضافة إلى عناصر أخرى من وسائل التعلم: الإنترنت، والحاسوب، والثقافة المحلية، والتعلم الأسري، وغيرها من الوسائل المساعدة.

وتتم مراجعة الكتب وتنقيحها وإثراؤها سنوياً بمشاركة التربويين والمعلمين الذين يقومون بتدريسها، كي تتلاءم مع التطورات والمستجدات والتغيرات العلمية والتكنولوجية والمعرفية. فقيمة الكتاب المدرسي الفلسطيني تزداد بمقدار ما تبذل فيه من جهود، ومن مشاركة أكبر عدد ممكن من المتخصصين في مجال إعداد الكتب المدرسية، الذين يحدثون تغييراً جوهرياً في العملية التعليمية من خلال العمليات الواسعة من المراجعة بمنهجية تربوية رسختها مركز المناهج في مجالي التأليف والإخراج في طرفي الوطن الذي يعمل على توحيده.

إن وزارة التربية والتعليم لا يسعها إلا أن تتقدم بجزيل الشكر والتقدير إلى المؤسسات والمنظمات الدولية، والدول العربية والصديقة وبخاصة حكومة بلجيكا؛ لدعمها المالي لمشروع المناهج.

كما أن الوزارة لتفخر بالكفاءات الوطنية التربوية والأكاديمية، التي شاركت في إنجاز هذا العمل الوطني التاريخي من خلال اللجان التربوية، التي تقوم بإعداد الكتب المدرسية، وإثرائها، وتشكرهم على مشاركتهم بجهودهم المميزة، كل حسب موقعه، وتشمل لجان المناهج الوزارية، ومركز المناهج، واللجان الوطنية للخطوط العريضة، والمؤلفين، ولجان الإقرار، والمحريين، والمشاركين بورشات العمل، والمصممين، والرسامين، والمراجعين، والطابعين، والمشاركين في إثراء الكتب المدرسية من الميدان أثناء التطبيق.

وزارة التربية والتعليم

مركز المناهج

الإدارة العامة للمباحث العلمية

نيسان ٢٠١٣ م

هذا هو كتاب التكنولوجيا للصف السادس الأساسي، والذي تم إنجازه استكمالاً لمسيرة تطوير كتب التكنولوجيا، وتحقيقاً للرؤية العامة لمبحث التكنولوجيا في المدارس الفلسطينية المتمثلة في:

«تأهيل طالب قادر على التعامل مع التطور التكنولوجي في القرن الواحد والعشرين ويستطيع العيش والتعلم والعمل بنجاح ومسؤولية في مجتمع متزايد بالتعقيد ومحركه الأساسي هو التكنولوجيا».

يحتوي الكتاب الدراسي الجديد أربعة محاور من أصل ستة محاور رئيسة معتمدة في تأليف المنهاج، ومنها محورين ثابتين في جميع المراحل الأساسية وهي: تفكير بالتكنولوجيا، والاتصالات وتكنولوجيا المعلومات، ومحورين يتناوبان بشكل لولبي خلال سنوات تعليم المنهاج وهما في الصف السادس الأساسي: تكنولوجيا النقل والتحكم الآلي، التكنولوجيا الطبية.

يهدف الكتاب المقرر إلى بناء القدرات التكنولوجية لدى الطلبة، وينقلهم من التعلم النظري إلى التطبيق العملي، ويشجع العمل الجماعي للانطلاق إلى المجتمع بروح بناءة، وهو يركز بمضمونه العام ونشاطاته على كفايات التصميم والتنفيذ، ويعزز النظرة التحليلية ويحفز طرائق متشعبة ومتنوعة في التفكير، وخاصة مهارة حل المشكلات. كما ويتطرق هذا الكتاب إلى بدء التحضير لبناء المهارات الهندسية المختلفة لدى الطلبة، ويعرفهم للمرة الأولى على مبادئ أساسية في الهندسة الميكانيكية والإلكترونية، وذلك بعد أن تعلموا أساسيات علمية في مناهج العلوم العامة، وبالتالي يستطيعون القيام بالتطبيقات التكنولوجية المبنية على المعرفة العلمية وتطور المهارات التقنية.

بالإضافة إلى ذلك يتم التطرق للمرة الأولى في كتاب السادس الأساسي إلى مبادئ عمل الحاسوب برمجياً واعتماده على النظام الرقمي والعد الثنائي، ويأتي هذا المحتوى في إطار التمهيدي للولوج إلى مهارات متقدمة في علوم البرمجيات والتي سوف تأتي في مراحل تعليمية لاحقة.

يعتمد الكتاب بشكل أساسي على النشاطات التفاعلية، وبالإضافة لكونه كتاب محتوى تعليمي، فهو يلعب دور كراسة العمل التي يدون عليها الطالب انطباعاته وملاحظاته العلمية. وعليه، يبدأ هذا الكتاب بتحفيز الطالب على كتابة التقارير العلمية البسيطة وتعزيز منهجيات البحث لدى الطلبة لتصبح ممارسات دائمة في مسيرة تعلم التكنولوجيا.

نقدم لكم نتاج مجهود فريق التأليف، ونعتبره نسخة تجريبية سوف يتم رصد عملية تنفيذها، وإجراء التعديلات اللازمة عليها، وعليه نرجو من الإخوة المعلمين وأبنائنا الطلبة أن يرسلوا للإدارة العامة للمناهج العلمية في وزارة التربية والتعليم كافة المقترحات والملاحظات والتعليقات حتى نتمكن من التعديل والتحديث في السنوات القادمة.

والله ولي التوفيق

فريق التأليف

## المحتويات

### نفكر بالتكنولوجيا

- ٤ \_\_\_\_\_ العالم من عجلات : الدرس الأول:
- ١٢ \_\_\_\_\_ إلكترونيات في بيتي : الدرس الثاني:

#### الوحدة الأولى

### الإتصالات وتكنولوجيا المعلومات

- ٢٢ \_\_\_\_\_ صفر، واحد : الدرس الأول:
- ٣٠ \_\_\_\_\_ منافذ جهاز الحاسوب : الدرس الثاني:
- ٣٦ \_\_\_\_\_ أمن وحماية المعلومات : الدرس الثالث:

#### الوحدة الثانية

### التكنولوجيا الطبية

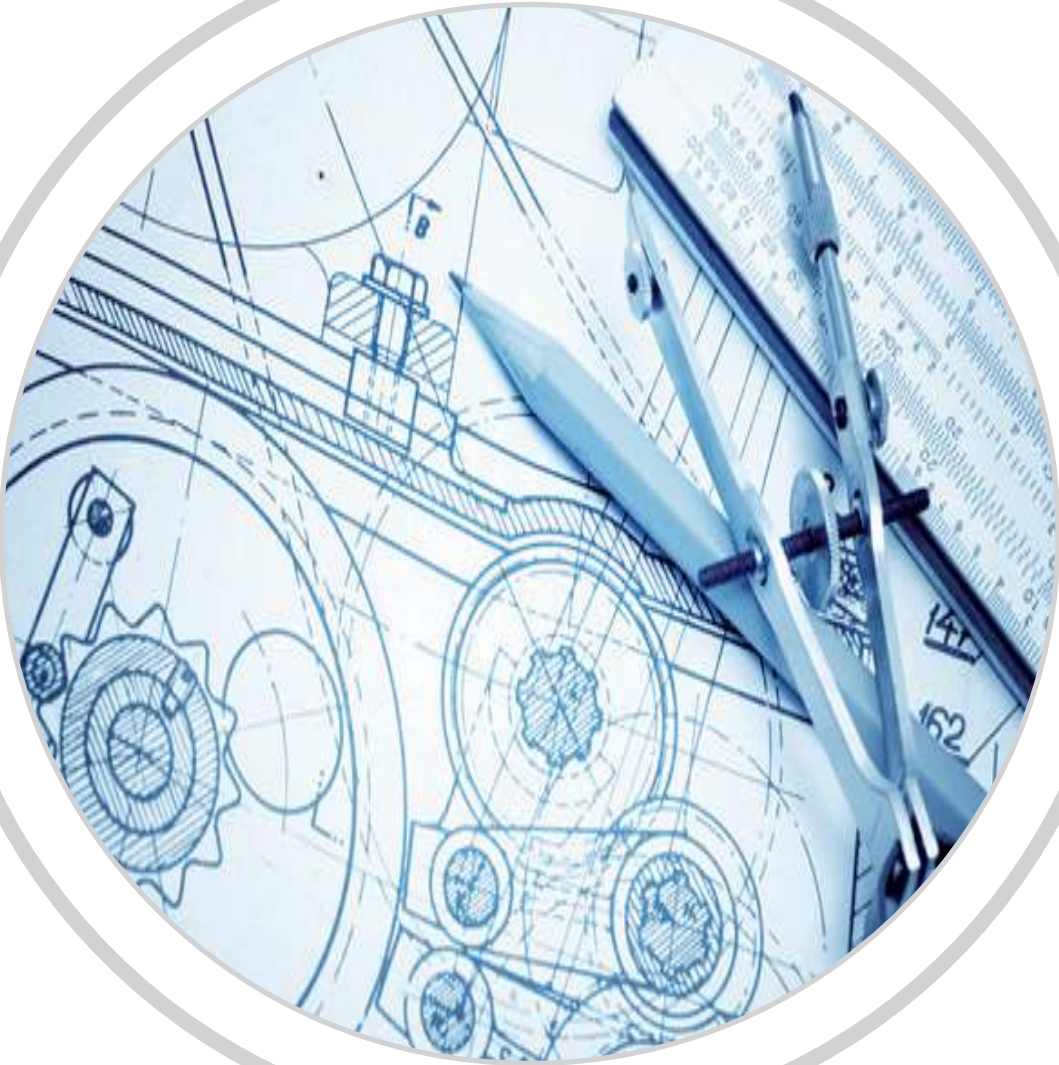
- ٤٦ \_\_\_\_\_ البحث العلمي وتطور صناعة الدواء : الدرس الأول:
- ٥٧ \_\_\_\_\_ تكنولوجيا الأجهزة الطبية : الدرس الثاني:
- ٦٦ \_\_\_\_\_ الأجهزة التعويضية والوسائل المساعدة : الدرس الثالث:

#### الوحدة الثالثة

الوحدة



# نفكر بالتكنولوجيا



استخدم الإنسان أنظمة تكنولوجية بسيطة لحل مشكلاته وتسهيل حياته، وقد اعتمد في تطوير أدواته وقدراته على مشاهداته ومراقبته للطبيعة. وكان لدراسته للكائنات الحية من حوله أثر في تطوير الأنظمة والتجهيزات التي تحاكي آلية حركة بعض الحيوانات والحشرات.



ومع تطور علم الميكانيك، استبدلت الأنظمة البسيطة التي استخدمها الإنسان منذ فجر التاريخ، بأجهزة مركبة تقوم بتنفيذ الأعمال دون الحاجة إلى قوة يبذلها الإنسان للتحريك والتشغيل، فقامت محركات الاحتراق الداخلي والكهرباء بالعمل.

تعرفت سابقاً على بعض الأدوات البسيطة التي يستخدمها الإنسان كالعجلات والبكرة والرافعة، وفي وحدة نفكر بالتكنولوجيا، سوف نستعرض ونبنى سوياً بعض الأنظمة الميكانيكية والإلكترونية التي تطورت اليوم لتصبح عنصراً أساسياً في حياتنا التكنولوجية الحالية.

## أهداف الوحدة:

- 1- التعرف إلى أنظمة تكنولوجية ميكانيكية بسيطة وآليات تطورها.
- 2- ممارسة عملية التصميم والتنفيذ لتطبيقات تكنولوجية مختلفة.
- 3- التعرف إلى علم الإلكترونيات من خلال بناء دوائر إلكترونية بسيطة.



## عالم من عجالات





«لا تخترع العجل!»، اشتهرت هذه الجملة في الأوساط العلمية والهندسية حتى أصبحت مثلاً يُقال لكل من لا يبني علمه وأبحاثه على نتائج من سبقوه، لماذا تم ذكر العجل في هذا المثال؟ وهل لذلك دلالات معينة حسب رأيك؟

ناقش هذه المقولة مع معلمك وزملائك، واكتب أدناه مثلاً واحداً تعرضت له أو سمعت عنه:



### مثال من حياتنا اليومية

.....

.....

.....

### العجل




يعتقد علماء الآثار أن الخطوة الأولى نحو استخدام وسائل مواصلات من صنع الإنسان، بدأت في بلاد ما بين النهرين باختراع الدولاب (العجل) في الحقبة التاريخية المؤرخة بـ ٣٥٠٠ قبل الميلاد.

بدأ استخدام العجلات الحجرية في النقل، ومن ثم تطورت حتى وصلت إلى ما هي عليها اليوم، لا نعرف من نشكر لاختراعه العجل، ولكن هل فكرتم كيف سيكون العالم بدونه!



عجل حجري



زلاجة مع عجلات خشبية





استخدم الإنسان البكرة منذ زمن بعيد، فاستخدم البكرة لانتشال الماء من البئر ولرفع الاحمال الثقيلة. وللتعرف إلى تكنولوجيا الرفع بواسطة البكرة، نفذ النشاط الآتي:




### نشاط: ١:١:١ نصنع بكرة بسيطة



لصناعة بكرة بسيطة نحتاج إلى:


- ١- عجلان بسيطان من البلاستيك.
- ٢- ٧ مشابك للورق.
- ٣- شريط لاصق.
- ٤- علبة طعام معدنية فارغة.
- ٥- حبل بطول مترين.

#### خطوات تنفيذ النشاط



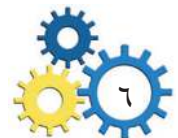
الشكل (١:١)


- ١- افتح مشبكين اثنين على شكل حرف «S». كما في الشكل (١:١)



الشكل (١:٢)


- ٢- اثن وثبت بالشريط اللاصق نصف المشبك على حافة الطاولة، وعلق مشبكاً واحداً مغلقاً في الطرف الآخر للمشبك الأول المفتوح. كما في الشكل (١:٢)





الشكل (١ : ٣)

٣- افتح واربط مشبكين آخرين آخرين حول العجلات البلاستيكية . كما في الشكل (١ : ٣) .  
ادخل طرف المشبك المفتوح إلى الثقب في مركز العجل ، ارفعه إلى فوق واجدل النهايتين سوياً ، ثم اثنهما على شكل علاقة .



الشكل (١ : ٤)

٤- اربط طرف الحبل حول محيط علبة الطعام المعدنية ، اربطه جيداً ثم قص الحبل ، ثبت المشبك الأخير بالحبل حول المحيط . كما في الشكل (١ : ٤) .

٥- امسك الحبل الطويل المتبقي ، اربط طرفه في المشبك الأول المعلق بالطاولة ، مرر الحبل حول البكرة الأولى . كما في الشكل (١ : ٤) .

٦- علق البكرة الثانية بالمشبك الثاني المثبت على الطاولة ، ومرر الحبل من خلالها . كما في الشكل (١ : ٤) .

٧- علق العلبة المعدنية (الثقل) بالبكرة الأولى .

**نظام البكرات جاهز الآن، وقد جاء الوقت لتجريبه.**

امسك العلبة المعدنية وارفعها بيدك ، كم وزنها تقريباً؟ اسحب طرف الحبل وارفع العلبة بواسطة البكرات ، ماذا تلاحظ؟



في المختبر: اكتب ملاحظتك في التقرير التالي:



ملاحظة تجربة:

إنه في يوم ..... الموافق: ..... قمت أنا الطالب/ة: ..... من الصف: .....  
بإجراء تجربة تتعلق ب:.....، وبعد تنفيذ كافة الخطوات المطلوبة لاحظت أن:

.....-١

.....-٢

.....-٣

انقل التقرير إلى ملف إلكتروني ومن ثم إحفظه في مجلد بإسمك على سطح المكتب.

ناقش نتائج التقرير مع معلمك وزملائك.

ما هي البكرة؟



البكرة: هي أداة ميكانيكية على شكل عجل يدور حول محور ثابت، ويلتف حول محيطه حبل أو حزام أو سلسلة معدنية «جنزير». تستخدم البكرات لتغيير اتجاه القوة، أو توصيل الحركة من جهة إلى أخرى، أو توفير الجهد المبذول في رفع الأحمال، ولها أيضاً استخدامات أخرى سوف تتعرف إليها لاحقاً.



نشاط: ٢:١:١ الدراجة الهوائية



أحضِر دراجة هوائية إلى ساحة المدرسة،  
ارفع العجل الخلفي وحرك الدواسة بيدك،  
ماذا تلاحظ؟





حضّر عرض محوسب مع الصور عن آلية نقل الحركة في الدراجة الهوائية.



محرك احتراق داخلي



هل تعلم!

محرك الاحتراق الداخلي:

يتم احتراق الوقود داخل غرف الاحتراق الداخلي في المحرك نفسه. ضغط الغازات الناتجة من الاحتراق يولد الحركة، كما في محرك سيارة.

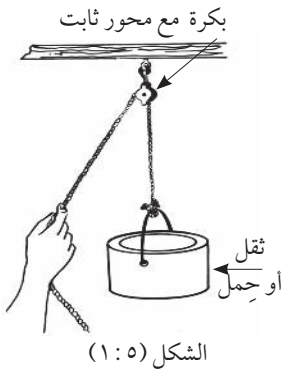
أنظمة متعددة للبكرات والحبال

أنظمة البكرات والحبال عديدة ومتنوعة، يخدم كل واحد منها الهدف الذي من أجله استخدمت البكرة، تمتد الحبال بين البكرات وقد تكون خيطاً رفيعاً أو حبلًا قوياً أو قشاطاً مطاطياً أو حتى سلسلة معدنية (جنزير)، وفي بعض الأحيان تستخدم بكرة واحدة لتحويل الحركة من حركة عمودية إلى أفقية، وبذلك يتم رفع ثقل من الأرض إلى أعلى بنائية مثلاً. وفي أنظمة أخرى يزيد عدد البكرات، وبذلك تقل القوة اللازمة لرفع الثقل.

وهناك العديد من الأنواع لأنظمة البكرات، ولعل أهمها:

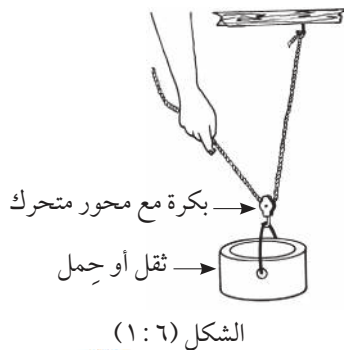
١. النظام الثابت: أي أن للبكرة محوراً ثابتاً في مكانه

ولا يتحرك. كما في الشكل (١: ٥)

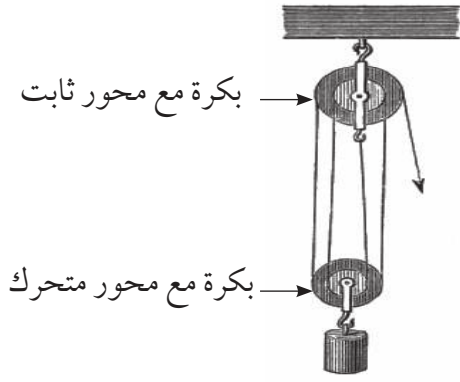


٢. النظام المتحرك: أي أن للبكرة محوراً حراً يمكن أن يتحرك مع

حركة الثقل. كما في الشكل (١: ٦)



٣. النظام المركب: هو مجموع النظامين الثابت والمتحرك كما درست سابقاً في نشاط (نصنع بكرة بسيطة). كما في الشكل (١:٧)

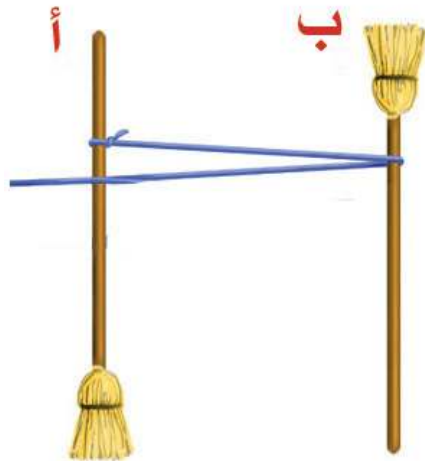


الشكل (١:٧)

تؤثر البكرات في تخفيف الأحمال، فكلما زاد عددها وتم استخدام النظام المركب في توصيلها، يتوزع الحمل عليها، وبالتالي نحتاج إلى بذل قوة أقل في عملية السحب أو الرفع.

ولتجربة فاعلية استخدام أنظمة البكرات وعلاقتها مع مقدار القوة التي تلزمنا لرفع الأحمال، نفذ وزملاءك النشاط الآتي:

### نشاط: ٣:١:١ أنظمة البكرات




الشكل (١:٨)

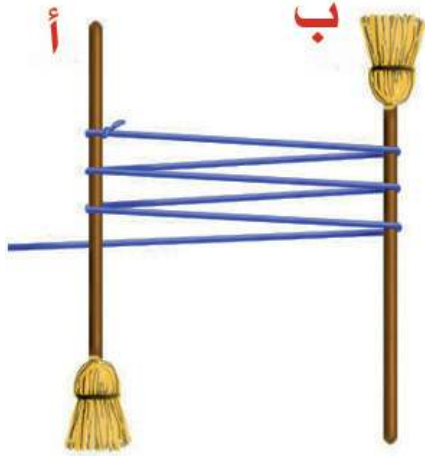
أحضر مكنستين طويلتين وحبل قوي بطول ١٠ متر، وأنبوبين من الكرتون (يمكن الحصول عليها من لفائف الكرتون تحت ورق القصدير)، اطلب من اثنين من زملائك المساعدة في النشاط.

- ١- اطلب من كل واحد من زملائك مسك مكنسة واحدة بكلتا يديه، (سوف نسمي المكنستين «أ» و «ب»).
- ٢- اطلب منهما أن يقفاً مقابل بعضهما البعض على أن تكون المسافة بينهما متراً ونصفاً على الأقل.
- ٣- اربط طرف الحبل بالمكنسة «أ»، أدخل لفافة الكرتون إلى المكنسة «ب» ومد الحبل ليطوقها من فوق اللفافة مرة واحدة فقط. كما في الشكل (١:٨).

٤- اطلب من زملائك أن يمسكوا المكانس بإحكام، وأن يستعملوا كل قوتهم حتى لا يتحركوا من أمكتهم، قف خلف زميلك الذي يمسك المكنسة «أ».



أمسك الحبل وحاول أن تسحبه لتقرب زميلك إلى بعضهما بعضاً! ماذا يحدث؟ هل نجحت؟



الشكل (٩ : ١)

٥- قم بعمل عدة حلقات بين الممكنستين فوق لفائف الكرتون. كما في الشكل (٩ : ١)

أمسك الحبل وحاول أن تسحبه مرة أخرى! ماذا يحدث؟ هل نجحت؟

ماذا تستنتج؟



استنتاج

.....

.....

.....




اسئلة الدرس

- ١- لماذا تستخدم البكرات؟ أذكر ثلاثة أمثلة لها في الحياة اليومية.
- ٢- كيف أثر اختراع العجلات على تسهيل حياة الإنسان؟
- ٣- صمم (ونفذ إن أمكن) نظام بكرات مرَّكب يحوي ثلاث بكرات وحبال، ويقوم برفع ثقل معين، بحيث تلزمننا أقل قوة لرفع الثقل.



## إلكترونيات في بيتي





نسمع كثيراً عن كلمة «إلكترونيات»، وفي أغلب الأحيان يخطر ببالنا جميع الأجهزة الإلكترونية التي تنفذ مهام تقنية معقدة مثل الحاسوب والهاتف المحمول والتلفاز وغيرها، ولكن هل فكرتم من أين بدأ كل ذلك؟



الصمام الثنائي المفرغ

دخلت الإلكترونيات إلى عالمنا مع بداية القرن الماضي، حيث استطاع العالم فلمنج اختراع الصمام الثنائي المفرغ في عام ١٩٠٤م، وكان هذا الاختراع اللبنة الأولى في علم الإلكترونيات.

### في المختبر




ابحث مع زملائك عن علم الإلكترونيات وعن بداياته، وحاول أن تفهم أكثر ما هو الصمام الثنائي المفرغ؟

### نشاط: ١:٢:١ أجهزة إلكترونية:



انظر إلى صور الأجهزة في الجدول، وقرر هل هي أجهزة إلكترونية أم لا؟



بناءً على النشاط السابق، ما هو مفهومك للإلكترونيات؟ حتى نتعرف أكثر على علم الإلكترونيات فلنبدأ بالتطبيق!



## نشاط: ٢:٢:١ بناء دائرة إلكترونية لرفع وخفض شدة الإنارة



مقاومة ١٠٠ أوم


المواد و الأدوات اللازمة:

- ١- لوحة التجارب .
- ٢- مقاومة كهربائية ثابتة ١٠٠ أوم .
- ٣- مقاومة كهربائية متغيرة ٢٢ كيلو أوم .
- ثنائي باعث الضوء LED
- ٥- مصدر فرق الجهد (بطارية أو محوّل تيار مستمر ٩ فولت) .

ولكن حتى تتمكن من بناء الدارة الإلكترونية الاولى ، علينا أن نتعرف إلى مكوناتها:



### لوحة التجارب (Breadboard)



لوحة التجارب

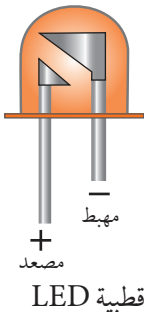
لوحة بلاستيكية يضم نقاط توصيل مجمعة في صفوف وأعمدة . من خلال قاعدة معدنية أسفل الثقوب ، وتستخدم في تجميع الدارات الإلكترونية وتوصيل مكوناتها .




### ثنائي باعث الضوء (LED)

مصدر ضوئي مصنوع من مواد تبعث الضوء عندما يمر فيه تيار كهربائي ، يستخدم كمصباح

إشارة في الأجهزة ، ويعطي هذا الثنائي ضوءاً بألوان مختلفة . ورمزه



قطبية LED



LED



## المقاومة الكهربائية الثابتة



المقاومة الكهربائية

تصنع المقاومة الكهربائية من مواد مقاومة لمرور التيار الكهربائي فيها . وذلك ليتم تقليله والتحكم به . تقاس المقاومة بوحدة الأوم ( $\Omega$ ) .

ورمزها

## المقاومة الكهربائية المتغيرة



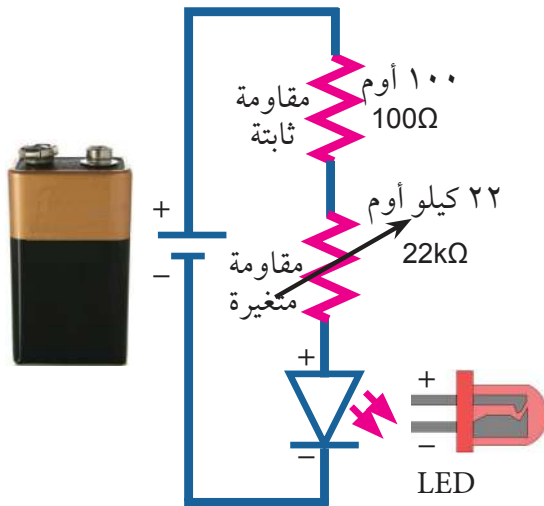
تتغير قيمة المقاومة الكهربائية المتغيرة حسب مقدار تحريك الذراع الواصل إلى نقطتي التقاء المقاومة ، وبالتالي تتغير قيمة التيار الكهربائي الذي يمرّ فيها ، فكلما زادت قيمة المقاومة تقل شدة التيار .



المقاومة المتغيرة

لذا تستخدم في العديد من الأجهزة لرفع وخفض الصوت كما في المذياع ، وغيرها من التطبيقات . ورمزها

وبعد أن تعرفت على القطع الإلكترونية التي سوف نستخدمها في بناء الدارة الإلكترونية، ركب الدارة التالية مع زملائك وبمساعدة معلمك. كما في الشكل (٢:١)



الشكل (٢:١)

- ١ . صل أحد أطراف المقاومة الثابتة والتي قيمتها ١٠٠ أوم مع القطب الموجب لمصدر فرق الجهد (بطارية أو محول ٩ فولت) .
- ٢ . اجمع الطرف الثاني للمقاومة الكهربائية الثابتة مع أحد أطراف المقاومة المتغيرة .
- ٣ . ركب طرف المقاومة المتغيرة الذي في الوسط مع القطب الموجب في باعث الضوء LED
- ٤ . صل القطب السالب في باعث ضوء LED مع القطب السالب لمصدر فرق الجهد (بطارية أو محول ٩ فولت) .

حرك مفتاح المقاومة المتغيرة، ماذا تلاحظ؟



اكتب ملاحظتك في التقرير الآتي:

ملاحظة تجربة:

إنه في يوم ..... الموافق: ..... قمت أنا الطالب/ة: ..... من الصف: .....

بناء دارة إلكترونية تتعلق ب:.....، وبعد تنفيذ كافة الخطوات المطلوبة لاحظت أن:

١-.....


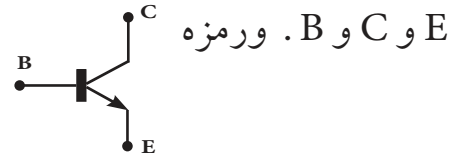
٢-.....

٣-.....

## الترانزستور، رافعة علم الإلكترونيات




يعتبر الترانزستور أحد أهم العناصر الإلكترونية، وهو أداة شبيهة موصلة للتيار الكهربائي، يستخدم في الدارات الإلكترونية كمفتاح أو مضخم للتيار أو الجهد وله ثلاثة أرجل تسمى



أشكال الترانزستورات

في المختبر



١ . ابحث عن صور متعددة للترانزستورات التي تطورت عبر السنوات ، والصق الصور في المكان المخصص :

ترانزستور حديث	أول ترانزستور تم اختراعه

٢ . كيف أثر اختراع الترانزستور على تطور علم الإلكترونيات؟ ناقش الموضوع مع زملائك ومعلمك .

٣ . دلالة تسمية أرجل الترانزستور بـ E، C، B . وما طبيعة عمل كل منها؟

وحتى نتعرف إلى آلية عمل الترانزستور نفذ النشاط الآتي :

في المختبر: نشاط: ٣:٢:١ تركيب دائرة ترانزستور للاستشعار



المواد و الأدوات اللازمة:

١ - أسلاك توصيل .

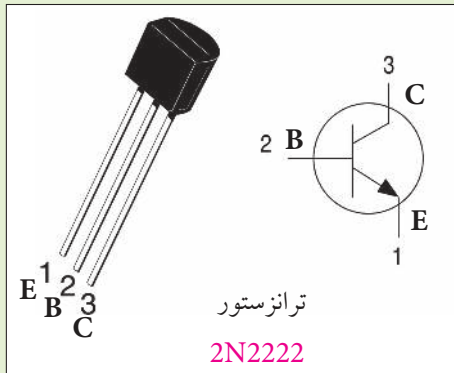
٢ - ترانزستور 2N2222 .

٣ - باعث ضوء LED

٤ - مقاومة ثابتة  $330\Omega$  .

٥ - مقاومة ثابتة  $1K\Omega$  .

٦ - مصدر فرق جهد ٩ فولت .



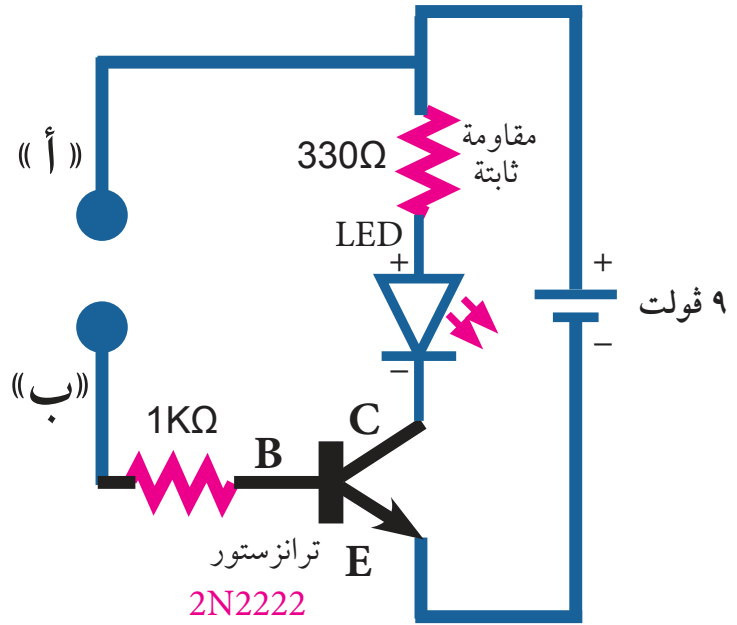
بمساعدة معلمك قم بتوصيل الدارة الإلكترونية ، كما في الشكل (٢ : ٢)



### هل تعلم!

علم الاستشعار:

هو مقدرة الدارات والأنظمة الإلكترونية على تقديم معلومات، مثل الإحساس بدرجة الرطوبة في التربة أو الشعور بقرب إنسان من الباب ليفتح أوتوماتيكياً ويوجد تطبيقات كثيرة أخرى . وتسمى القطعة التي تستشعر «مجس».



الشكل (٢ : ٢)

المس بأصبعيك الأقطاب (الأسلاك) «أ» و «ب»، ماذا تلاحظ؟

أين يمكن استعمال هذا التطبيق في الحياة العملية؟ هل يمكن تطبيقه بالزراعة؟

اكتب ملاحظاتك في التقرير الآتي:

ملاحظة تجربة:

إنه في يوم ..... الموافق: ..... قمت أنا الطالب/ة: ..... من الصف: .....

بناء دارة إلكترونية تتعلق ب:.....، وبعد تنفيذ كافة الخطوات المطلوبة لاحظت أن:

١-.....

٢-.....

٣-.....

## في المختبر:



صوّر حالة الدارة قبل لمس الأقطاب وبعده، ومن ثم انقل التقرير إلى ملف إلكتروني وأضف الصور مع الشرح واحفظه في مجلدك الخاص.



## اسئلة الدرس

- ١- ما وظيفة المقاومة المتغيرة؟ وكيف تتحكم بشدة الضوء؟
- ٢- ما الترانزستور؟ وأين تكمن أهميته بالنسبة لعلم الإلكترونيات؟
- ٣- عدد ثلاثة أجهزة منزلية تستخدمها ويوجد فيها باعث للضوء LED.



## اسئلة الوحدة

- ١- ما البكرة؟ وما هي آلية عملها؟
- ٢- ما الفرق بين البكرة الثابتة والمتحركة من حيث استخدامها في الأنظمة المختلفة؟
- ٣- أكمل الجملة التالية:  
كلما . . . . . عدد البكرات في النظام، . . . . . الثقل، وبالتالي نحتاج إلى قوة . . . . . من أجل الرفع.
- ٤- علل: يعتبر الترانزستور رافعة علم الإلكترونيات.
- ٥- عدد وظائف الترانزستور وأعطِ مثلاً واحداً لكل منها.
- ٦- ما وظيفة المقاومة الثابتة التي تسبق باعث الضوء LED ولماذا نستخدمها؟
- ٧- ما الاستشعار؟ اذكر ثلاث تطبيقات من حياتك اليومية لأنظمة الاستشعار؟



الوحدة

٢

# الاتصالات وتكنولوجيا المعلومات





تستخدم الحواسيب لغايات واهداف مختلفة، حيث تستخدم في العمل وفي التعليم وفي اللعب والتسلية أيضاً، وقد سبق وتعلمنا أن الحاسوب هو جهاز إلكتروني يعمل بالكهرباء قادر على تنفيذ العديد من العمليات والمهام المختلفة، عن طريق استقباله للبيانات من خلال أدوات تسمى ادوات الإدخال، وقيامه بعمليات معالجة، ومن ثم إخراج هذه البيانات المعالجة من خلال أدوات الإخراج المختلفة، حيث تنتقل البيانات من خلال أدوات الإدخال، مثل: الفأرة ولوحة المفاتيح إلى الحاسوب سلكياً أو لاسلكياً. وتقوم القطعة الإلكترونية الداخلية باستقبالها ومعالجتها وتخزينها وإخراج النتائج لنا كما طلبناها، فنشاهدها على الشاشة، ويمكن لنا أن نطبعها على الورق أو أن نرسلها لأية جهة بعيدة عبر شبكة الإنترنت.



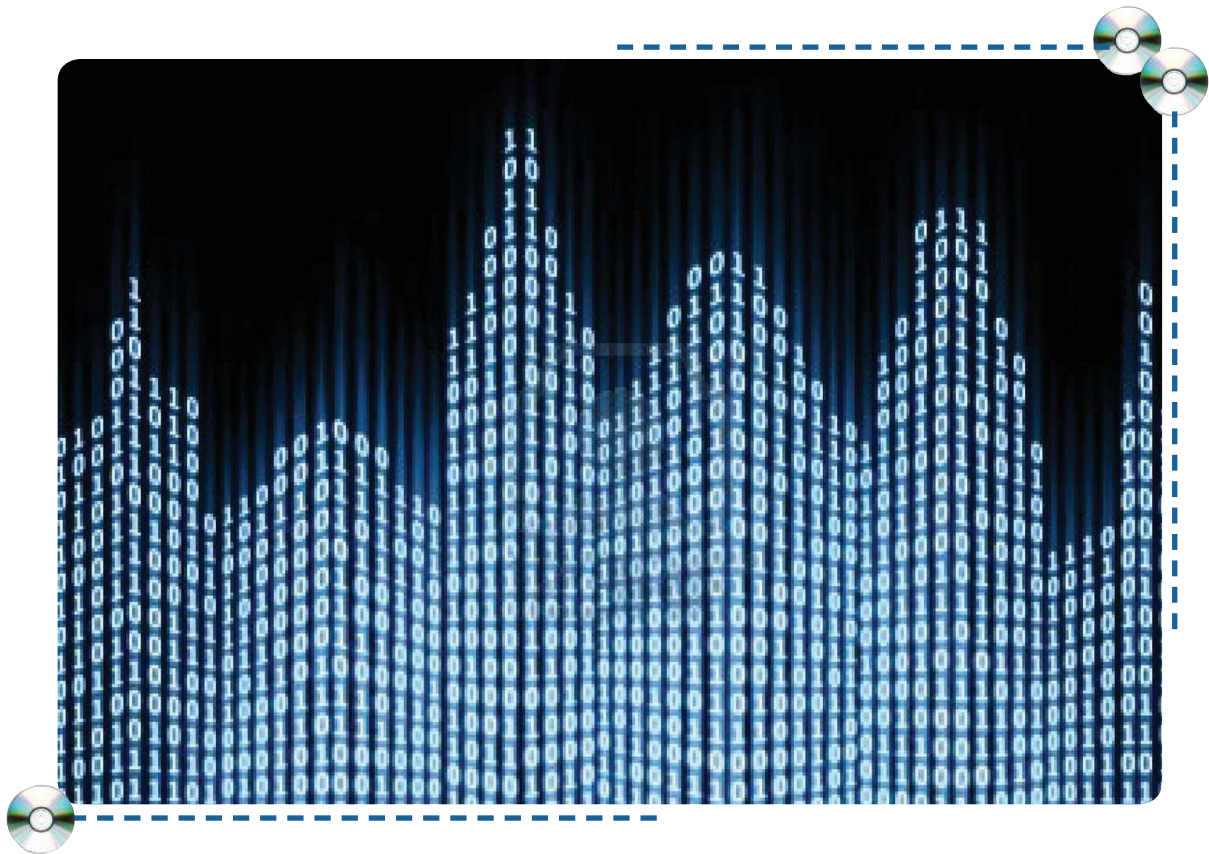
ولكن كيف يقوم الحاسوب بذلك؟ وماذا يحدث عندما نحرك إصبعنا ونضغط على أي مفتاح في لوحة المفاتيح أو ننقر على الفأرة؟ هذا ما سوف نتعرف عليه من خلال الوحدة.

## أهداف الوحدة:



1. التعرف إلى نظام العد الثنائي وتنفيذ تطبيقات عملية حوله.
2. أن يتعرف الطالب بشكل عملي إلى مفهوم الترميز وآلية تدفق البيانات من وإلى الحاسوب.
3. اكتساب مهارات أساسية في الحفاظ على الخصوصية وأمن المعلومات.

# صفر، واحد



## هل تعلم!

استخدم الإنسان منذ القدم النظام العشري في العدّ، حيث كان يستخدم أصابعه العشرة لعدّ الأشياء في محيطه، وكان يستعين بأصابع شخص آخر في حال فاق عدد الأشياء العشرة، حيث كان يمثل كل عشر أصابع من أصابع يده باصبع واحد من أصابع الشخص الآخر، أي ان الشخص الأول يمثل الخانة الأولى (الآحاد) بينما تمثل أصابع الشخص الثاني الخانة الثانية (العشرات) وظل الأمر هكذا إلى أن تم اختراع الكتابة، حيث قام علماء الرياضيات بتحويل هذا النظام إلى صيغة كتابية.

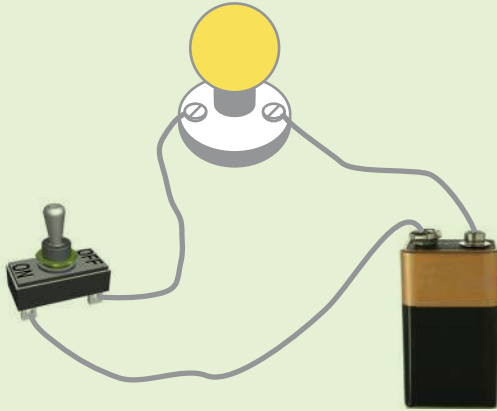
نستخدم في حياتنا اليومية وتعاملاتنا من بيع وشراء وقياس أطوال وحساب مساحات وأحجام نظام العد العشري، والذي يتكون من عشرة أرقام (٠، ١، ٢، ٣، ٤، ٥، ٦، ٧، ٨، ٩)، لكن جهاز الحاسوب يستخدم نظاماً آخر من أنظمة العدّ في عمله، والذي بوساطته يتمكن من تمثيل البيانات وحفظ المعلومات ومعالجتها، وهذا ما سنتعرف عليه خلال الدرس.

## كيف يعمل الحاسوب داخل؟



ولتتعرف إلى النظام الذي يستخدمه الحاسوب في تمثيل وحفظ البيانات نفذ النشاط التالي:

### في المختبر: نشاط ١:٢ النظام الثنائي



الشكل (١)

ركب الدارة الكهربائية البسيطة التالية، والتي تتكون من مصباح كهربائي ومفتاح كهربائي وبطارية (٣ فولت). كما في الشكل (١):

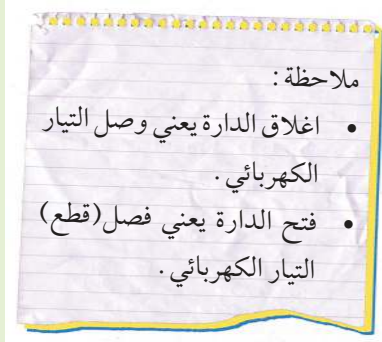
- أغلق المفتاح. ماذا تلاحظ؟

- افتح المفتاح. ماذا تلاحظ؟

## في المختبر:



دون إجاباتك في الجدول أدناه ، ومن ثم قم بإنشاء جدول باستخدام برنامج حاسوب ملائم واحفظ الملف في مجلدك .



حالة المصباح	حالة المفتاح
	مغلق
	مفتوح

من النشاط السابق :

كم حالة يوجد للمصباح؟

ما هي هذه الحالات؟

هل يوجد حالات ممكنة أخرى ، إذا كانت الإجابة نعم اذكرها .

لورمزنا للحالتين السابقتين بالرموز الآتية :

الرمز 0 <=== المصباح مطفأ

الرمز 1 <=== المصباح مضيء

- استخدام الرموز الجديدة لاعادة تعبئة الجدول التالي :

حالة المصباح بالرموز	حالة المفتاح
	مغلق
	مفتوح


نستنتج من النشاط السابق أن الدارة الكهربائية لها حالتان ، وهي إما حالة الفصل ويرمز لها بالرمز (0) وإما حالة الوصل ويرمز لها بالرمز (1) ، وبما أن جهاز الحاسوب يعمل على الطاقة الكهربائية ويستطيع تمييز هاتين الحالتين فقط ، فقد تم اعتماد حالات الدارة الكهربائية في الفصل والوصل (1،0) للتعامل مع البيانات داخل الحاسوب . ولذا فإن تمثيل البيانات داخل الحاسوب يكون باستخدام إحدى هاتين الحالتين ، وقد تم اعتماد الرمز (1،0) لتكوين نظام عددي خاص سمي بالنظام الثنائي .

من هنا نستطيع تعريف النظام الثنائي بأنه أحد أنظمة العد والذي يتكون من رقمين اثنين هما (0، 1). حيث يعبر الرقم (1) عن وجود قيمة كهربائية، ويعبر الرقم (0) عن عدم وجود قيمة كهربائية وهو النظام الذي استخدمه الحاسوب في مبدأ عمله في معالجة وتخزين البيانات.

## نشاط ٢:١:٢ البت والبايت



كل طالب قام بتركيب دائرة كهربائية في النشاط رقم (١)، وفي هذا النشاط يقف ٨ طلاب مع داراتهم بترتيب أفقي أمام بقية الطلاب، ويقوم كل طالب باختيار حالة دارته (0، 1) في خمس محاولات وعلى البقية تسجيل حالة الدارة لكل طالب بتعبئة الجدول الآتي:

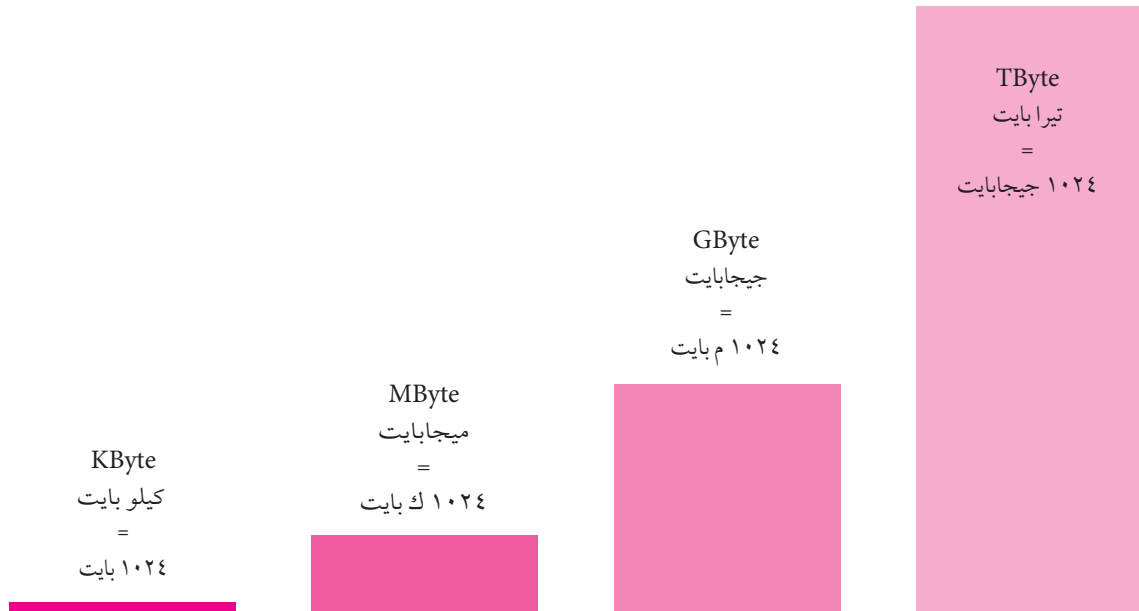
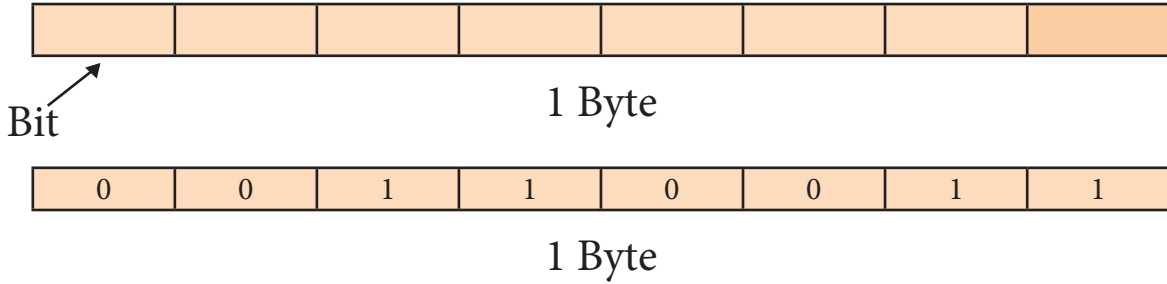


رقم الطالب	الطالب ١	الطالب ٢	الطالب ٣	الطالب ٤	الطالب ٥	الطالب ٦	الطالب ٧	الطالب ٨	رقم التجربة
									تجربة ١
									تجربة ٢
									تجربة ٣
									تجربة ٤
									تجربة ٥

نلاحظ من الجدول السابق أن كل تجربة تتكون من ثمانية أرقام ثنائية إما (0 أو 1)، نسمي كل حالة طالب بـ (البت Bit)، وكل ثماني حالات (٨ بت) لها اسم خاص بها.

\*هل تعرف ماذا نسمي كل مجموعة مكونة من ٨ بت؟

- تسمى الخانة الثنائية بالبت (bit) وكل ٨ بت تشكل ١ بايت (1Byte) ويعتبر البايت الوحدة الأساسية لقياس حجم البيانات المخزنة في الذاكرة.
- مثال على تمثيل بيانات في ١ بايت :



### مضاعفات وحدة البايت

جميع البيانات داخل الحاسوب تمثل باستخدام البايت ، وعلى سبيل المثال فإن الحرف A يمثل بـ (01000001) والرقم ٩ يمثل بـ (00111001)، فعندما نضغط على الحرف A



في لوحة المفاتيح تنتقل عبر الأسلاك ٨ بت بشكل متسلسل أي ١ بايت إلى جهاز الحاسوب حيث تتم عملية معالجة ويظهر على الشاشة الحرف A.

## في المختبر:



ابحث في شبكة الإنترنت عن تمثيل الحرف D في الحاسوب بالنظام الثنائي واكتبه في الفراغ (.....)

إن نظام تمثيل الحروف والأرقام والإشارات الموجودة على لوحة المفاتيح في النظام الثنائي يسمى بنظام ترميز الاسكي ASCII والذي سنتعرف عليه في الدرس الثاني من هذه الوحدة.

## في المختبر: نشاط ٣:١:٢ السعة التخزينية للذاكرة



flash memory

احضر القطع والأدوات الآتية:

١ . شريحة ذاكرة عشوائية (RAM)

٢ . قرص صلب (HDD)

٣ . ذاكرة خارجية (flash memory)

وبمساعدة معلمك قم بتعبئة الجدول الآتي:

نوع الذاكرة	السعة المدونة عليها	السعة بالبايت
القرص صلب		
الذاكرة عشوائية		
الذاكرة خارجية		

## في المختبر: نشاط ٢:٤: سعة ذاكرة حاسوبي

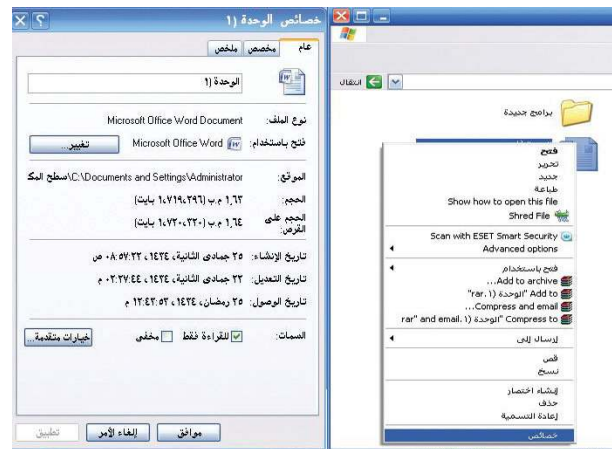


قم بزيارة لمختبر الحاسوب في مدرستك وبمساعدة معلمك ، ومن خلال نظام التشغيل دون معلومات حول الجهاز الذي أمامك :

### فكر:

عند فتح الكثير من البرامج معاً وفي نفس الوقت نلاحظ بطء في أداء الجهاز .

- ١ . حجم الذاكرة العشوائية (RAM): . . . . . الوحدة: . . . . .
- ٢ . سعة القرص الصلب (HDD) : . . . . . الوحدة: . . . . .
- ٣ . حجم أحد الملفات المخزنة على الجهاز . . . . . الوحدة: . . . . .







س ١ : أجب (بنعم) للعبارة الصحيحة و(بلا) للعبارة الخاطئة لكل مما يلي :

- أ . النظام الثماني لا بد أن يحتوي على ثمانية أرقام (٠-٧) .
- ب . البايت (Byte) تتشكل من أربع خانات ثنائية .
- ج . يتم تخزين البيانات داخل الحاسوب على شكل أرقام عشرية .
- د . كلما كان حجم الملف أصغر استهلك مساحة أصغر من ذاكرة الحاسوب .

س ٢ : اذكر نظام العد المستخدم في كل مما يلي :

- أ . عمل جهاز الحاسوب .
- ب . قراءة عداد الكهرباء .

س ٣ : لو فرضنا أن كل حرف من حروف اللغة العربية يحتاج إلى 8 بت لتخزينه في الذاكرة، ما حجم الذاكرة التي تلزم لتخزين كلمة ”القدس“ ، احسب الحجم بوحدة البايت .

## منافذ جهاز الحاسوب



كما أن للبيت مداخله ومخارجه ، كذلك يوجد للحاسوب مداخل ومخارج (منافذ) والتي



شكل (١)

تمكننا من إدخال البيانات وإظهار النتائج ؛ حيث يتم إدخال البيانات بواسطة أدوات إدخال ، مثل لوحة المفاتيح والفأرة وغيرها من أدوات إدخال ، وبعد معالجتها في وحدة المعالجة المركزية يتم حفظ وإخراج المعلومات من خلال أدوات الإخراج ، مثل : شاشة الحاسوب أو الطابعة أو غيرها .

## في المختبر: نشاط ١:٢:٢ آلية عمل الحاسوب



شاهد الفيلم المخصص ” الحاسوب يعلمني ” ثم ناقشه مع زملائك

ويتم وصل أدوات الإدخال والإخراج من خلال منافذ الحاسوب المختلفة . وفي هذا الدرس سوف تتعرف على عدد من المداخل والمخارج الموصولة بالحاسوب من حيث وظائفها وطبيعة الأدوات والأجهزة التي يمكن وصلها بهذه المنافذ .

وللاقترب أكثر من فهمنا للحاسوب ومكوناته سنقارنه بنظام الإشارة الضوئية شكل (٢)

من حيث المدخلات ، والعمليات ، والمخرجات .

• المدخلات : لون الإشارة (بوساطة العين) .

• العمليات : تحليل البيانات (ماذا

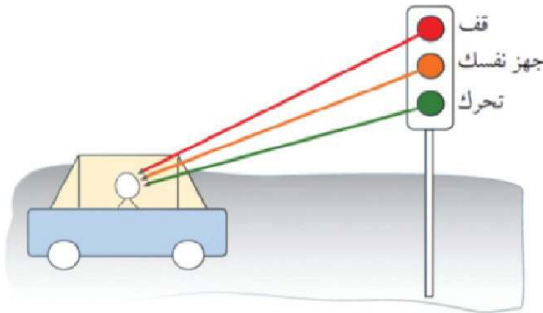
يعني لون الإشارة) بوساطة الدماغ .

• المخرجات : أوامر من الدماغ إلى

الأيدي والأرجل للتحكم بحركة

السيارة (التوقف أو التقدم في

الحركة) .



شكل (٢)

## نشاط ٢:٢:٢ أجزاء النظام



في الشكل (٣) صورة لشخص يقود دراجة، حدد المدخلات والعمليات والمخرجات وحدد أجزاء الجسم التي بوساطتها تتم هذه الأعمال:



- المدخلات: ..... بوساطة: .....
- العمليات: ..... بوساطة: .....
- المخرجات: ..... بوساطة: .....



## مداخل ومخارج الحاسوب


المدخل والمخرج تشكل منافذ الحاسوب للعالم الخارجي وذلك بربط الأدوات المختلفة لنقل البيانات من المستخدم إلى الحاسوب وبالعكس.

## في المختبر: نشاط ٣:٢:٢ منافذ الحاسوب



تعرف إلى منافذ الحاسوب الموجودة في شكل (٤) المجاور وقارنها بما هو موجود (أو غير موجود) في جهازك وعدد بعض الأدوات الممكن توصيلها من خلال هذه المنافذ.

عرفنا من النشاط السابق أن لمنافذ الحاسوب أشكالاً ووظائف مختلفة، الجدول الآتي يستعرض الأكثر استخداماً منها.



شكل (٤) منافذ الحاسوب

ادوات تستخدم المنفذ	الشكل	المدخل/المخرج
		<p>منفذ المتسلسل العام (USB): تستخدم لربط أجهزة الإدخال والإخراج المختلفة مع الحاسوب مثل لوحة المفاتيح، والفأرة، والشاشات والطابعات ووحدات التخزين (ذاكرة فلاش) وعصا الألعاب والماسح الضوئي وغيرها من الملحقات.</p>
		<p>منافذ شبكة: تستخدم لربط الحاسوب بالشبكات مثل شبكة الإنترنت والشبكات المحلية.</p>
		<p>منافذ لنقل الإشارات الصوتية: تستخدم لنقل الصوت من وإلى الحاسوب مثل أجهزة تكبير الصوت (السماعات) والميكروفونات.</p>



منافذ لنقل الإشارات المرئية :  
تستخدم لنقل إشارة الفيديو إلى  
أجهزة العرض المختلفة مثل  
الشاشة أو جهاز العرض المرئي  
وغيرها . أشهر هذه المداخل  
الـ VGA والأحدث منها الـ DVI  
والـ HDMI .

## في المختبر: نشاط ٤:٢:٢ تصنيف منافذ الحاسوب



صنف المنافذ في الجدول السابق حسب الآتي :

١- منافذ إدخال .

٢- منافذ إخراج .

٣- منافذ إدخال وإخراج .

ومن ثم استعمل أحد برامج الحاسوب لرسم جدول يبين توزيع المنافذ حسب التصنيفات السابقة .

## للمناقشة :

هناك منافذ يجري تطويرها باستمرار مثل USB حيث أصبح يوجد منفذ USB2 و USB3 وكذلك منفذ الفيديو حيث يوجد مجموعة من المنافذ (DVI ، VGA ، HDMI) ، ناقش هذا الموضوع مع معلمك ولخص في ملف إلكتروني باختصار أهم الخصائص التي تميز هذه الأنواع عن بعضها ، واحفظ الملف في مجلدك الخاص .



## أسئلة الدرس

١- إذا اعتبرنا أن من الوظائف الأساسية لكل من الحاسوب والإنسان هي معالجة المعلومات .  
حدد أربعة مكونات لمعالجة المعلومات في كل منهما وأكمل الجدول الآتي :

المهمة	الإنسان	الحاسوب
إدخال المعلومات يتم من خلال		
التخزين يتم من خلال		
معالجة المعلومات تتم من خلال		
إخراج المعلومات يتم من خلال		

٢- صنف الوحدات الآتية حسب ما يلي : وحدات إدخال، وحدات إخراج، وحدات إدخال وإخراج  
وإخراج، وذلك بوضع إشارة (✓) في المربع الذي يتفق مع التصنيف المناسب .

الوحدة	وحدة إدخال	وحدة إخراج	وحدة إدخال وإخراج
شاشة لمس .			
الميكروفون .			
عصا التحكم بالألعاب .			
أجهزة الرسم البياني .			
الطابعة .			
جهاز القلم الضوئي .			
السماعات .			
الماسح الضوئي .			
اللوح الإلكتروني .			
الكاميرا الرقمية .			

٣- عدد المنافذ المستخدمة في جهاز الحاسوب الخاص بك .

٤- ما هي ميزات منفذ USB؟



## أمن وحماية المعلومات





تطورت شبكة الإنترنت حيث أصبحت مليئة بالمعلومات بمختلف أنواعها (نصوص وصوت وصور وفيديو)، بالإضافة إلى شبكات التواصل الاجتماعي وبرامج المراسلة الفورية التي قربت المسافات. وليس بالضرورة أن جميع المعلومات مفيدة، حيث أن بعضها مضر ومضلل، والمهم أن نحمي أنفسنا من المحتويات المشبوهة التي تتواجد على شبكة الإنترنت. يتضمن هذا الدرس معلومات وتدريبات تمكننا من استخدام أمن لشبكة الإنترنت وأدواتها.



## الخصوصية



هناك العديد من الأشياء التي ينبغي أن نحافظ على سريتها. مثلاً، لا تخبر الغرباء عن أماكن الأبواب في المنزل، وأين تضع المفاتيح. هناك بيانات عديدة يجب أن تكون سرية في جهاز الحاسب الآلي، ولا يجب أن تخبر أحداً بها في شبكة الإنترنت، قد تلتقي بأناس غرباء جدد لا تعرفهم مسبقاً، ينبغي ألا تخبرهم عن أية معلومات خاصة بك أو بأسرتك. ببساطة، إنك لا تعرف من هذا الشخص الذي يحادثك عبر شبكة الإنترنت، فقد يدعي الشخص بأنه صديق لك. أو يكون لطيفاً معك ولكنه شخصاً مخادعاً يسعى للإضرار بك. فمن المهم ألا نبيح للغرباء عن أية معلومات خاصة. لا تنشر أية بيانات شخصية في المواقع الإلكترونية وشبكات التواصل الاجتماعي. هذه المعلومات ستكون متاحة للجميع لاسيما الغرباء. ننصحك باستشارة أولياء أمرك قبل نشر أية معلومات عنك أو عن أسرتك. من المهم أن نكون بأمان وأن لا تستغل المعلومات المنشورة لهدف مضر.

كيف نحافظ على الخصوصية عند الدخول إلى أنظمة المعلومات الخاصة؟

لضمان الحفاظ على خصوصية

وأمن المعلومات، لا بد من مراعاة  
ثلاثة أمور عند الدخول إلى أنظمة

المعلومات وهي:

تحديد الهوية  
المصادقة على الهوية  
نطاق الصلاحيات

١. تحديد الهوية: كتابة اسم المستخدم وهو اسم فريد من نوعه (مميز) يحدد هويته.

٢. المصادقة على الهوية: عبارة عن كلمة مرور تستخدم للتأكد من هوية الشخص المستخدم، وتكون مقرونة باسمه، وتمثل عملية المصادقة على صحة هويته، وتعتبر إجراءً أولياً للسماح له بالوصول إلى موارد النظام أو الشبكة.

٣. نطاق الصلاحيات: تحديد نطاق الصلاحيات للدخول إلى الموارد المتوفرة في النظام أو الشبكة. فمثلاً في المؤسسات لا يسمح بالدخول لملفات معينة إلا لمجموعة محددة من المسؤولين، وبالتالي فإن صلاحيات الدخول إلى هذه الملفات تعطى لتلك المجموعة فقط. فمن خلال إدخال اسم المستخدم وكلمة المرور يحدد النظام الموارد المتاحة وفق ما نملك من صلاحيات (قراءة فقط، حذف وتعديل).



### نشاط ٢:٣:١: التعريف بالهوية

ماهي الأماكن التي يتوجب عليك فيها التعريف بهويتك، والتحقق منها، ومن ثم يتم إعطائك صلاحيات محددة؟ أكتب قائمة بتلك الأماكن ومن ثم الخطوات الثلاث الواجب القيام بها على شكل خوارزمية. (في ما يلي بعض الأمثلة على هذه الأماكن، حاول الإضافة لها).

الحدث	الخطوة الأولى	الخطوة الثانية	الخطوة الثالثة
سحب النقود من الحساب البنكي			
الشراء بواسطة بطاقة الائتمان			
فتح البريد الإلكتروني			



### الوسائل التقنية للتحقق من الهوية

هنالك العديد من وسائل التقنية التي توفر خاصية التحقق من الهوية، وهذه الوسائل في تطور دائم وتختلف في التعقيد، القدرات والأداء. وهناك ثلاثة أنواع رئيسية للتوثيق:

١- شيء معروف لدى المستخدم (مثل: كلمة المرور).

٢- شيء يملكه المستخدم (مثل البطاقة).

٣- شيء يتصف به المستخدم (مثل الصفات الحيوية)

مثل: البصمة الصوتية وبصمة العين وبصمة الإصبع والتعرف على الوجه.





## كلمات المرور

اسم المستخدم  
User1

كلمة المرور  
\*\*\*\*\*

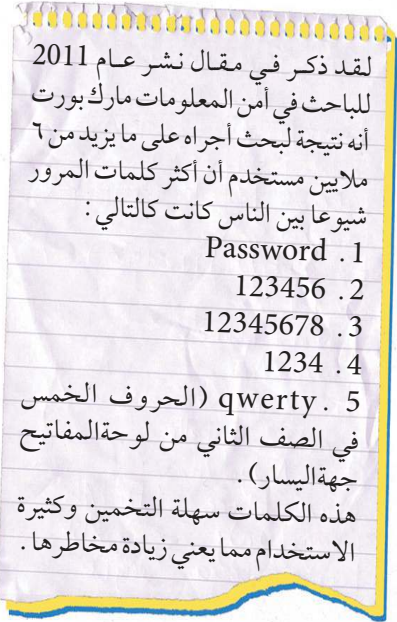
الاحتفاظ بتسجيل الدخول

تسجيل الدخول

الابتعاد عن الدخول إلى حسابك؟

استخدمت كلمات المرور بطريقة أو بأخرى منذ القدم . ومن أهم قصص التراث القديمة التي استخدمت فيها كلمات المرور ، قصة علي بابا والأربعين حرامي ، فهل تذكر هذه القصة؟ اين وردت كلمة المرور في القصة وماهي؟

.....



في عالم الاتصالات والمعلومات تستخدم كلمات المرور عند الدخول إلى أنظمة الحاسوب المختلفة ، فمثلاً لا يمكننا فتح البريد الإلكتروني إلا بإدخال كلمة المرور الخاصة . كما أن الدخول لبعض المواقع والخدمات الإلكترونية تتطلب إدخال هوية المستخدم وكلمة المرور . إن العديد من المشاكل قد تحصل بسبب معرفة الآخرين لكلمة المرور الخاصة بالمستخدم ، لذلك فإن كلمة المرور يجب أن تكون بمأمن وألا نشارك الآخرين في معرفتها حتى لا يتمكنوا من الدخول إلى بريدنا الإلكتروني ، أو حسابنا الخاص .

## في المختبر: نشاط ٢:٣:٢ إنشاء حساب بريد إلكتروني



قم بزيارة مختبر الحاسوب ، وبمساعدة معلمك أنشئ حساب لبريد إلكتروني من خلال أحد المواقع الإلكترونية التي تقدم خدمات البريد ، اختار كلمة مرور محصنة ، خلال تعريفك لحسابك الشخصي ، اكتبها على ورقة خارجية ، كيف سوف تذكر هذه الكلمة . بواسطة بريدك الإلكتروني الجديد قم بإرسال رسالة إلى معلمك .



## نصائح لإدارة كلمة المرور والتأكد من إجراءات الأمان

١ . اختار كلمات مرور لا يمكن تخمينها بسهولة ، لا داعي لاختيار كلمات مرور مثل : رقم الجوال أو الاسم الأول أو اسم العائلة أو المدينة التي تسكن فيها ، فهذه الكلمات يمكن



كشفتها في غضون ثوانٍ. ينبغي أن تكون كلمة المرور معقدة بأن تحتوي كلمة مرورك على  
على أحرف كبيرة وصغيرة وأرقام وعلامات الترقيم. هنالك قاعدة عامة: كلما كانت كلمة  
مرورك طويلة، فهذا أفضل.

٢. لا تستخدم كلمة المرور ذاتها لعدة مواقع إلكترونية. اتبع قاعدة: " كلمة مرور واحدة  
لموقع إلكتروني واحد ". وعند القيام بذلك فإنك ستمنع المتسللين من الدخول بسهولة  
إلى حساباتك الأخرى التي تستخدم فيها كلمة المرور ذاتها.

٣. لا تكشف كلمة مرورك لأي شخص آخر. وإذا كان لا بد من أن تشارك كلمة المرور مع  
شخص آخر، فتأكد من تغييرها فور انتهاء المشاركة معه.

٤. لا تسجل كلمة المرور على ورقة. وإذا فعلت ذلك فلا تترك الورقة على مكتبك، حيث بإمكان  
أي شخص أن يراها. وكذلك تجنب كتابة كلمة المرور على الموقع الذي تستخدمها فيه.  
٥. غير كلمة مرورك بانتظام. القيام بذلك سيجنبك دخول شخص آخر إلى حسابك كنت قد  
أعطيته كلمة المرور مسبقاً.

### في المختبر: نشاط ٢:٣:٣ طرق التحقق من الهوية



ابحث عن أحدث الطرق التي تستخدم للتحقق من الهوية بواسطة محرك البحث،  
وقارنها مع استخدام طريقة كلمات المرور. قم بتحضير عرض شرائح عن هذه الطريقة  
وطرق استخدامها، وارسله عبر البريد الإلكتروني لمعلمك.

### نشاط ٢:٣:٤ إختيار كلمة المرور



لكي نقوم باختيار كلمة مرور قوية وتذكرها بسهولة، يتم اختيار جملة وتصبح كلمة المرور مكونة  
من الحروف الأولى لكلمات هذه الجملة. على سبيل المثال، يسهل عليك تذكر جملة كهذه:

*My brother was born at Nablus Hospital at 6:30pm*

والتي تعني: "وُلد أخي في نابلس الساعة ٦:٣٠ مساءً"

يمكن استخدام هذه الجملة لإنشاء كلمة المرور التالية: *Mbwb@NH@6:30pm*

١. أكتب خوارزمية لاختيار كلمة مرور لهذه الطريقة.

٢. أنشئ كلمة مرور خاصة بك من جملة تستخدمها دائماً وسهلة التذكر.



٣. عند اختيار كلمة مرور، يمكن استعمال الصور لتكون كلمة مرور سهلة التذكر بالنسبة لك وصعبة التخمين للآخرين، اقترح طريقة لذلك.



### نصائح حول استخدام شبكة الإنترنت

- ابتعد عن المواقع المشبوهة. هناك مواقع تنشر مواد ذات طبيعة عدائية أو غير أخلاقية.
- لا تنشر أو ترسل محتوى مسيء للآخرين، سواء بواسطة الرسائل الإلكترونية أو في مواقع الإنترنت.
- لا تقم بالرد حين يرسل لك شخصا ما رسالة مزعجة أو ذات مضمون سييء، ولا تجعل هذا الأمر خاصاً بك فقط، بل أخبر والديك حالاً.
- لا تنشر أية معلومات خاصة عنك أو عن أسرتك.
- لنستخدم الحاسب الآلي بطريقة مفيدة، ولنستمع ونجعل الآخرين يستمتعون معنا أيضاً.



### أسئلة الدرس

**السؤال الأول:** ضع دائرة حول جميع الإجابات الصحيحة:

- ١- حدد الأشياء التي ينبغي أن تكون خاصة: ضع دائرة حول كل الإجابات الصحيحة:
  - أ- اسمك.
  - ب- رقم هاتف المنزل.
  - ج- جواز السفر.
- ٢- حين يقول لك شخص ما كلاماً غير لائق في شبكة الإنترنت، ماذا ينبغي أن تفعل؟
  - أ- إبقاء الأمر خاص بي فقط.
  - ب- الرد بقوة على الشخص.
  - ج- إخبار الوالدين بالأمر.

**السؤال الثاني:** عدد ثلاثة وسائل للتحقق من الهوية عند الدخول لبيانات محمية.



## اسئلة الوحدة:

س ١- ضع دائرة حول رمز الإجابة الصحيحة لكل مما يلي :

(١) خانة ثنائية واحدة يمكنها تخزين قيمة واحدة إما 0 أو 1 :

- أ- البايت .  
ب- الكيلو بايت .  
ج- البت .  
د- النظام الثنائي .

(٢) في نظام عمل الحاسوب القيمة ١ تعني :

- أ- الجهاز معطل .  
ب- عدم وجود قيمة كهربائية .  
ج- وجود قيمة كهربائية .  
د- لا شيء .

(٣) الميجابايت تساوي :

- أ- ١٠٢٤ بايت .  
ب- ١٠٢٤ كيلوبايت .  
ج- ١٠٠٠ جيجا بايت .  
د- ١٠٤٢ تيرا بايت .

(٤) ملف حجمه ٦٤٠ بت ، فإن حجمه بوحدة البايت هو :

- أ- ٤ بايت .  
ب- ٦٤ بايت .  
ج- ٨٠ كيلوبايت .  
د- ٨٠ بايت .

(٥) يتم ربط ادوات الادخال والايخراج مع جهاز الحاسوب من خلال :

- أ- الذاكرة .  
ب- الإنترنت .  
ج- منافذ(مداخل ومخارج)جهاز الحاسوب .  
د- الشاشة .

(٦) من وسائل حماية البيانات :

- أ- بصمة الاصبع .  
ب- بصمة العين .  
ج- كلمة المرور .  
د- جميع ما ذكر .

س ٢- بماذا يمتاز جهاز الحاسوب عن غيره من الأجهزة الإلكترونية؟

س ٣- كيف يمكنك أن تكون بأمان وتتجنب الأشياء السيئة في شبكة الإنترنت؟ (ضع دائرة حول كل الإجابات الصحيحة):

- أ- عدم الذهاب للمواقع المشبوهة .
- ب- تثبيت برامج مكافحة الفيروسات .
- ج- مهاجمة الآخرين بغرف الدردشة .
- د- البوح عن المعلومات الخاصة للغرباء .
- هـ - استشارة الوالدين عند ذهابنا للمواقع الإلكترونية .
- و - إخبار الوالدين حين نستلم رسالة مزعجة أو ذات مضمون سيء .

س ٤- لماذا يجب علينا استخدام كلمة مرور مختلفة لكل موقع؟

س ٥- ما هي الطرق المختلفة لاختيار كلمة مرور سهلة التذكر بالنسبة لنا وصعبة التخمين بالنسبة للآخرين؟

س ٦- ما هي الأنواع الرئيسية المستخدمة للتوثيق؟ أذكر أمثلة لكل منها .

الوحدة

٣

# التكنولوجيا الطبية





منذ القدم وجد أشخاص في كل المجتمعات يقومون بمداواة الناس وتخفيف معاناتهم بالأعشاب وبالوصفات الشعبية . لكن مع الزمن وازدياد عدد السكان وانتشار الأوبئة والأمراض المختلفة ازدادت الحاجة إلى البحث العلمي الهادف إلى تطوير عمليات تشخيص الأمراض واعراضها ، وذلك من أجل تقليل المخاطر وتحديد الدواء المناسب لنوع المرض .

لعبت التكنولوجيا دورا بارزا في التطور الحاصل في المجالات الطبية المختلفة ، حيث تقاطعت مجالات تكنولوجية وهندسية متنوعة مثل الكهرباء والإلكترونيات والميكانيك وتكنولوجيا المعلومات في تطوير ما بات يعرف اليوم باسم بالتكنولوجيا الطبية» .

جعلت التكنولوجيا المصاب بالشلل الرباعي يقبل صفحات الكتاب من خلال حركة عينيه ، والمعاق حركياً يتنقل بسهولة دون مساعدة عبر عربته الكهربائية ، كما جعلت الطفل يقبل على تعاطي الدواء بسعادة عبر لونه الجميل وطعمه اللذيذ . ولعل من أهم إنجازات التكنولوجيا الطبية ما تمثل بالكشف المبكر عن العديد من الأمراض التي ليس لها أعراض واضحة محسوسة .

## أهداف الوحدة:

- ١- توظيف خطوات البحث العلمي في حل المشكلات الطبية .
- ٢- اكتشاف أثر التكنولوجيا في صناعة الدواء .
- ٣- استنتاج دور الأجهزة الطبية المنزلية في تقليل المشاكل الصحية للمرضى .
- ٤- المقارنة بين الأجهزة التعويضية والوسائل المساعدة قديماً وحديثاً .
- ٥- تصميم أجهزة وأدوات طبية بسيطة

## البحث العلمي وتطور صناعة الدواء




تعددت المجالات التي أسهمت فيها التكنولوجيا الطبية في خدمة الإنسان وصحته ، وعلى مرّ السنوات تطورت الأدوات والمنتجات التكنولوجية التي تغطي هذه المجالات . هيا بنا نتعرف بداية على بعض هذه المجالات ، ثم نستنتج تعريفاً مناسباً للتكنولوجيا الطبية وذلك من خلال النشاط التالي :

## تعريف التكنولوجيا الطبية



أولاً: لاحظ الصور الآتية والتي تمثل صوراً لمنتجات تكنولوجية تخدم الطب ، أكتب على الأقل استخدام واحد لكل منها :



ثانياً: مع مرور الزمن تقدم وتطور العلم، ومعه تطورت أدوات التكنولوجيا. أذكر ميزة واحدة لكل تطور فيما يأتي:



٢



١

---



٢



١

---



٢



١

---

من النشاط السابق استنتج تعريفاً مبدئياً للتكنولوجيا الطبية ومجالاتها:

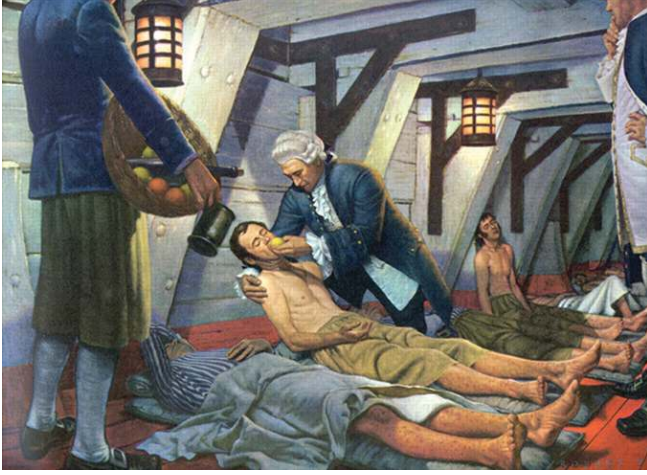
---

---

## الملاحظة والبحث والتطبيق أساس التقدم العلمي!



جيمس لند عالم اسكتلندي، ولد في العام ١٧١٦، وله العديد من الأبحاث العلمية المشهورة في مجال الطب والدواء. وخلال بدايات عمله كان مساعد طبيب على ظهر إحدى سفن البحرية الملكية البريطانية. لاحظ لند أعراض مرض ينتاب البحارة بعد رحلة طويلة تمر عبر رأس الرجاء الصالح إلى الهند، ومن أبرزها نزيف في اللثة، وتساقط الأسنان.



افترض لند أن التغذية هي سبب ما يعاني منه البحارة المرضى؛ لذا اختار ١٢ بحاراً على السفينة كلهم يعانون من أعراض المرض، وقسمهم إلى ست مجموعات، وأضاف لوجبة كل مجموعة منهم نوعاً مميزاً من الطعام أو الشراب. فمنهم من أضاف له جوزة الطيب، ومنهم من أضاف له الخل،

وآخرون عصير التفاح، ومجموعة كان عليها تناول الليمون، وأخرى الكبريت والمجموعة الأخيرة تناولت الكحول. ثم انتظر حتى نهاية الرحلة، فلاحظ أن البحارة الذين تناولوا الليمون قد شفوا تماماً من أعراض المرض. ورغم هذا الاكتشاف المثير، فقد مرت ٤٠ سنة قبل أن تعتمد البحرية البريطانية نتائجه، لتوصي بضرورة وجود الليمون على متن جميع سفنها لتحاشي الإصابة بمرض الإسقربوط.

- ماذا نستفيد من قصة العالم جيمس لند؟
- لماذا قام العالم لند بإعطاء البحارة أنواعاً مختلفة من الطعام والشراب؟
- ما الفائدة من عملية تقسيم البحارة إلى مجموعات؟
- هل الليمون هو العلاج الوحيد لمرض البحارة «الاسقربوط»؟ كيف يمكن التأكد من ذلك؟

## خطوات البحث العلمي

نشاط  
٢:١:٤



أولاً: انتهج العالم جيمس لنذ البحث العلمي في الوصول إلى نتائج موثوقة. بالتعاون مع زميلك رقم الخطوات التي اتبعتها للوصول إلى هذه النتائج حسب الترتيب المنطقي:

- ( ) افتراض أن التغذية هي سبب المرض .
- ( ) شفاء البحارة الذين تناولوا الليمون ، فيما لم يتأثر غيرهم .
- ( ) تقسيم البحارة إلى مجموعات .
- ( ) التساؤل . ما سبب إصابة البحارة بالمرض؟
- ( ) الليمون أحد العلاجات المناسبة للاسقربوط .
- ( ) إعطاء البحارة جرعات محددة من أغذية مختلفة .
- ( ) ملاحظة ظاهرة إصابة البحارة بنزيف اللثة وتساقط الأسنان .
- ( ) متابعة حالة البحارة بعد فترة .

هل تعلم:



ساهم الأطباء في الحضارة العربية الإسلامية أيضاً في رحلة البحث العلمي .

## مستشفى الرازي

نشاط  
٣:١:٣



مع نهاية القرن الثالث الهجري ، أراد الخليفة عضد الدولة بناء بيمارستان (مشفى) في مدينة بغداد ، فاستشار العالم المسلم أبا بكر الرازي في تحديد موقعه . أخذ الرازي قطعاً من اللحم النيئ ، ووضعها في أماكن مختلفة من بغداد ، واخذ يلاحظ سرعة تعفنها وفسادها في تلك الأماكن ، وبعد مدة قصيرة ، فحص قطع اللحم ثم اختار المكان الأنسب لبناء المشفى .

## للمناقشة:



- ناقش أنت وزملاءك طريقة الرازي في اختيار مكان بناء المشفى .
- إلى ماذا استند الرازي في اختيار المكان المناسب لبناء المشفى؟
- ما علاقة ذلك مع اللحم النيئ؟
- ارسم مع زملائك بالمجموعة مخطط البحث العلمي الذي انتهجه الرازي لتحديد مكان المستشفى ، بالطريقة التي تراها مناسبة .

## في المختبر:



قم بإعداد عرض شرائح متحركة حول مخطط البحث وإرساله للمعلم .

## في المختبر:



البيمارستان الصلاحي : انشأ السلطان صلاح الدين الأيوبي بيمارستان (مشفى) في مدينة القدس ، ابحث في شبكة الإنترنت وفي مصادر المعرفة المختلفة حول هذا الموضوع ، وحضر تقريراً عن :  
أ- تاريخه ونشأته .




ب- اهم استخداماته في مدينة القدس .  
ج- ناقش مع زملائك : كيف أصبحت مدينة القدس عاصمة طبية ؟

## التكنولوجيا وصناعة الدواء:



تعتبر صناعة الدواء أحد أبرز المجالات التي تعتمد على البحث العلمي ، والتجريب مع توظيف مستمر لأحدث تقنيات التكنولوجيا الطبية .

يمر الدواء بمراحل متعددة من لحظة اكتشافه، إلى حين توفيره للمريض، ويشارك في رحلة الدواء العشرات من الباحثين والعلماء، حيث تتم صناعة الدواء من مصادر مختلفة منها النباتية



والعشبية والحيوانية ومن الأملاح المعدنية والمواد الكيميائية التي يجري تحديد نسبها والمادة الفعالة فيها لمعالجة المرض باستخدام تقنيات تكنولوجية حديثة ساهمت في تطور صناعة الدواء.

## التجربة خير برهان:

بعد رحلة ميلاد المادة الأساسية المكونة للدواء، والتي كما تعلمنا قد تكون طبيعية أو مصنعة كيميائياً. تبدأ مرحلة تجريب الدواء قبل تعميمه. . ويتم ذلك على الحيوان أولاً ثم يتم التجريب على البشر.

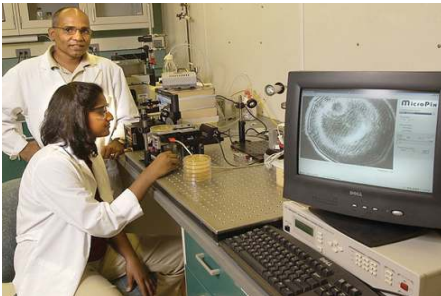


هل تعلم:

كان أبو بكر الرازي العالم العربي الإسلامي من أوائل من أجرى التجارب العلمية على القرود، فكان يعطي القرود جرعات من الدواء، ثم يلاحظ تأثيره عليه، فإن نجح طبق تجربته على الإنسان.

## أولاً: التجريب على الحيوان:

يتم اختيار حيوانات مثل الفئران، القرود وتقسيمها إلى مجموعتين، يتم حقن إحداها بالدواء، وملاحظة تأثيره عليها وللخروج بالنتائج.



لاحظ دور الحاسوب والبرمجيات المختلفة في إظهار النتائج، وحفظها لمقارنتها مع نتائج أخرى لاحقاً.



## ثانياً: التجريب على البشر

لا يجوز أبداً التجريب على الإنسان قبل فترة كافية من التجريب على الحيوان .

في البداية يتم التجريب على عدد قليل نسبياً من الأصحاء المتطوعين (٢٠-١٠٠) لضمان أن لا يؤثر الدواء على سلامتهم أو تكون له أعراض جانبية .

المرحلة التالية تتم في المشفى تحت إشراف طبي مباشر. وقد يصل عدد المتطوعين من المرضى إلى ٦٠٠ مريض متطوع . ثم يزداد العدد ليصل إلى آلاف المتطوعين، وذلك قبل أن يحصل الدواء على الاعتماد اللازم للاستخدام .

وقد أدى التطور التكنولوجي المتسارع إلى فرض رقابة دائمة على الدواء بعد تسويقه، ورصد أي أعراض جانبية، أو نتائج غير مرغوبة في أي مكان في العالم، وذلك عن طريق لجان متخصصة في كل بلد .

### للبحث:



كان للعديد من العلماء العرب والمسلمين دور هام في تطور صناعة الدواء، ومصادره المختلفة. وظلت مؤلفاتهم مرجعاً لقرون طويلة ولا تزال. ابحث مع زملائك وبشكل مجموعات، ولتكتب كل مجموعة تقريراً عن إنجازات واحد منهم.

## صناعة الدواء



بعد اعتماد الدواء والحصول على الترخيص اللازم للتسويق، يأتي دور التكنولوجيا في عملية تصنيع الدواء.

فالأجهزة الحديثة المستخدمة في التصنيع، تزيد من جودة، وسلامة الدواء المنتج، كما أنها تسرع من عملية الإنتاج، وتقلل التكلفة من خلال تقليل الأيدي العاملة.

ومن أهم مراحل تصنيع الدواء:

- ١- اختبار المادة الخام التي تصل للمصنع من خلال أجهزة إلكترونية خاصة.
- ٢- إضافة اللون والرائحة التي تجعل الدواء مقبولاً.
- ٣- توجيه المادة إلى الفرع المناسب لمعالجتها: (الأفران، العجانات، الخلاطات).
- ٤- تغليف الدواء بطريقة سليمة تعمل على حمايته من الضوء وحرارة الشمس.



### في المختبر: صناعة الدواء



لاحظ مراحل صناعة الدواء من خلال مشاهدة الفيلم. حضر مخطط بمساعدة أحد برامج الحاسوب لمراحل صناعة الدواء السائل. قم بزيارة مصنع لتصنيع الدواء إن أمكن.

## التكنولوجيا والأشكال الصيدلانية للدواء



عملت التكنولوجيا على تسهيل تناول الدواء وزيادة سرعة فعاليته في الجسم ، وذلك بتوفير عدة اشكال تعتمد على طريقة توصيلها إلى جسم الإنسان ، فمنها الحقن في الوريد بواسطة الإبرة . ومن هذه الاشكال ما يتم توصيلها عن طريق القناة الهضمية . ويكون الدواء إما شرابا أو حبوبا أو كبسولات أو غيرها . ومنها ما يتم توصيلها عن طريق الجهاز التنفسي كالبخاخات وكذلك الأدوية التي يتم توصيلها عن طريق الشرج او المهبل ، وهي على شكل تحاميل أو محاليل ، وأدوية يتم تقديمها عن طريق الجلد كالمراهم والكريمات والمحاليل والبودرة والمعاجين . ويختلف تناول الدواء حسب الفئات العمرية المختلفة ، فالطفل مثلاً يحتاج إلى دواء ذي لون جميل ، وطعم حلو ، وطريقة سهلة لتناوله ، وتوجد في مصانع الأدوية أقسام خاصة لاختبار الدواء وإضافة اللون والرائحة والطعم المحبب ، ليتقبله الأطفال .

### أشكال الأدوية مختلفة

نشاط  
٤:١٣

تأمل الصورة الآتية . و صنف الأدوية حسب طريقة تناولها .



هناك أنواع أخرى . . حاول البحث عنها . . وألصق صورها في كراستك .

### للمناقشة



أحسّت هدى بصداع شديد ، فأسرعت إلى الثلاجة ، واختارت علبة الدواء الذي كتبه لها الطبيب من قبل عندما أحسّت بالأعراض نفسها . رآها أخوها أحمد فأمسك بيدها وقال : انتظري . ثم أمسك علبة الدواء وراح يبحث عن شيء فيها . ترى . . ما الذي كان يبحث عنه أحمد . . ولماذا؟



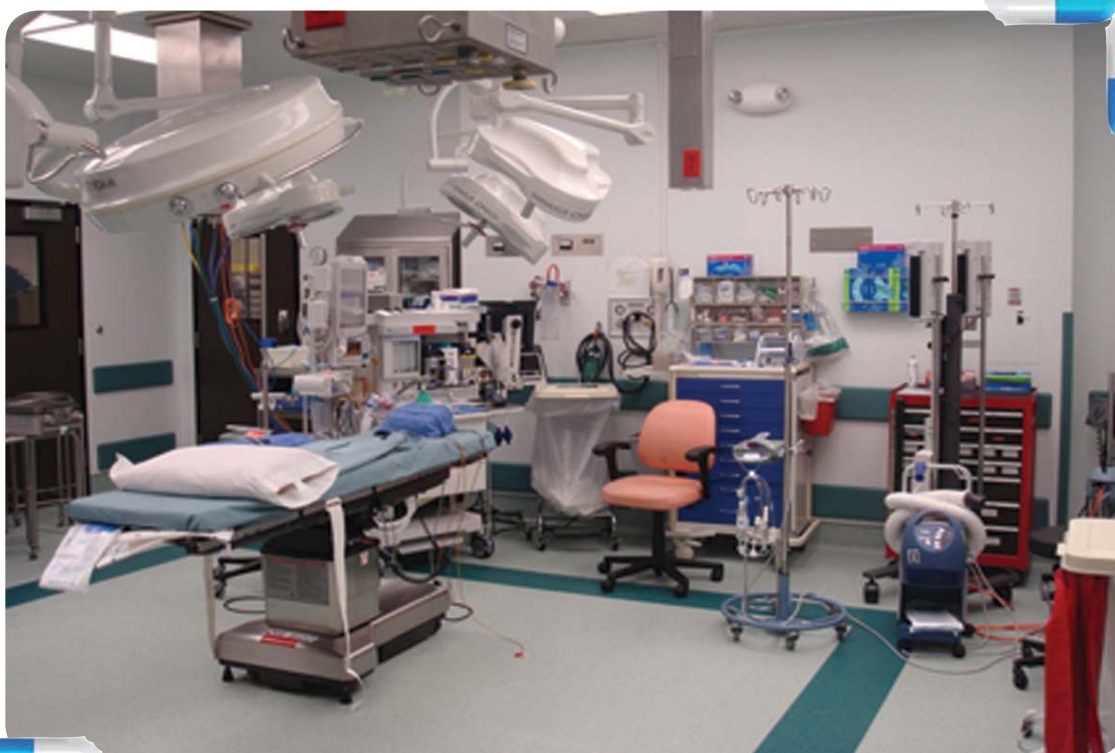
- ١) اكتب أسماء بعض المجالات الطبية التي تميزت بتوظيف التكنولوجيا والاستفادة من التطور العلمي .
- ٢) عدّد خطوات البحث العلمي المتبعة لحل مشكلة ما .
- ٣) صل بين العمودين (أ) و(ب) بما يتوافق مع خطوات البحث العلمي الذي قام به العالم لند .

ب
ظاهرة إصابة البحارة بنزيف اللثة وتساقط الأسنان
ما سبب إصابة البحارة بالمرض؟
التغذية هي سبب المرض .
تقسيم البحارة إلى مجموعات .
إعطاء البحارة أنواع محددة من الغذاء .
متابعة حالة البحارة بعد فترة .
شفاء البحارة الذين تناولوا الليمون ، فيما لم يتأثر غيرهم .
الليمون أحد العلاجات المناسبة للاستقربوط .

أ
ملاحظة النتائج
السؤال المطروح لتحديد المشكلة
الإجابات المتوقعة (الافتراضات)
الاستنتاج
إجراءات الحل
الإحساس بالمشكلة

- ٤) يمرّ الدواء بعدة مراحل لتجريبه قبل اعتماده للاستخدام . ناقش هذه العبارة .
- ٥) علل : تجريب الدواء على الحيوان قبل تجريبه على الإنسان .
- ٦) ما سبب تنوع أشكال الدواء؟

## تكنولوجيا الأجهزة الطبية



تلعب الأجهزة الطبية المنزلية دوراً هاماً في الكشف المبكر عن الأمراض ، والعمل على علاجها قبل أن تنتشر وتتسبب في مشاكل صحية خطيرة . وقد عملت التكنولوجيا عبر العقود الماضية على تطوير العديد من الأجهزة الطبية المنزلية ، فأصبحت في متناول الجميع ، فما المقصود بالأجهزة الطبية المنزلية؟ وإلى أي مدى يتم استخدامها لتقليل المشاكل الصحية؟

هل تعلم: 

يعتبر أبو القاسم الزهراوي ، الذي عاش في العصر الذهبي لدولة الأندلس رائد تصميم الأدوات الجراحية . والعديد من الأجهزة الطبية المبنية على دراسة علمية لأعضاء الجسم الداخلية والخارجية . والتي لا زالت تستخدم حتى يومنا هذا .

## الأجهزة الطبية المنزلية

وللتعرف إلى أهم الأجهزة الطبية في المنازل ، سوف نستعرض بعض هذه الأجهزة:

### أولاً: جهاز قياس الحرارة الطبي (الثيرمومتر)

يستخدم مقياس الحرارة (الثيرمومتر) لقياس درجة حرارة جسم الإنسان ، وهناك أنواع أخرى

لقياس درجات حرارة المواد المختلفة ، والطقس .

ويتركب من غلاف زجاجي سميك يوجد بداخله

أنبوبة شعيرية ، في نهايتها مستودع يحتوي زئبق أو

كحول . ويقسم تدريج الترمومتر الطبي إلى درجات

تبدأ من ٣٥ س و حتى ٤٢ س .



لماذا كانت درجة حرارة التي يقيسها الثيرمومتر الطبي محصورة بين ٣٥ و ٤٢ .

## الثيرمومتر الإلكتروني الرقمي



وقد تطورت أجهزة مقياس الحرارة مع تطور التكنولوجيا، وكان من أبرز التطورات أن الدارات الإلكترونية استخدمت بدلاً من الزئبق أو الكحول في القياس، وأصبح استخدامه أسهل وقراءته أكثر سرعة.

## أشكال ميزان الحرارة الطبي

نشاط  
١:٢:٣



لاحظ الصور التالية، ثم استنتج سبب تعدد طرق قياس درجة الحرارة.



للبحث:



توجد طرق أخرى لقياس درجة الحرارة، أذكر واحدة منها.

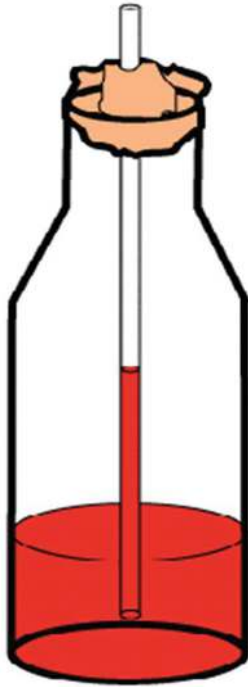
وحتى تفهم آلية عمل ميزان الحرارة الكحولي ، ننفذ النشاط الآتي :



## اصنع ميزان حرارة بسيطاً

### ● الأدوات اللازمة :

ماء-كحول منزلي-زجاجة بلاستيك صغيرة-صبغة طعام-شفافة-ملتينة



### ● خطوات العمل :

- ١- ضع كمية متساوية من الماء مع الكحول في الزجاجة البلاستيكية .
- ٢- أضف نقطتين من صبغة الطعام ثم هزّ الزجاجة لتختلط مكوناتها .
- ٣- يجب أن يملأ السائل ربع الزجاجة فقط .
- ٤- ضع الشفافة داخل الزجاجة بحيث تكون قريبة من القاع .
- ٥- أغلق فتحة الزجاجة باستخدام الملتينة .

الآن أصبح مقياس الحرارة جاهزاً للعمل .

ضع مقياس الحرارة في أماكن مختلفة: تحت أشعة الشمس المباشرة، في الظل، في الظل سجل ملاحظاتك . مع تحليل النتائج .



## ثانياً: جهاز قياس ضغط الدم

تعتبر أمراض ضغط الدم على درجة عالية من الخطورة، لأنها قد لا تكتشف مبكراً، مما قد يؤدي إلى تلف القلب، والكلى . والعديد من أعضاء جسم الإنسان . وقد تطورت أجهزة قياس ضغط الدم لتزداد دقة، وسهولة في الاستخدام، وأصبحت في متناول الجميع . وتعتمد فكرة عمل الجهاز على قياس قوة دفع الدم داخل الشرايين .



ويعتبر القياس 80 /120 هو الضغط الطبيعي للشخص السليم، وهناك نوعان من الضغط: الضغط الانقباضي: ينتج في أثناء انقباض القلب لضخ الدم إلى الخارج . ويمثله الرقم في الأعلى .

الضغط الانبساطي: ينتج عندما ينبسط القلب ويرتاح بين النبضات . ويمثله الرقم في الأسفل .

هل تعلم:

- وحدة قياس ضغط الدم هي ملمتر زئبق .

- تبدأ الخطورة في قياس ضغط الدم إذا زاد الانقباضي عن 140 والانبساطي عن 100 للشباب في الظروف الطبيعية لكن هذه الأرقام قد تتغير حسب الجنس والسن .

### قياس ضغط الدم

نشاط  
3:2:3

- قم بزيارة أقرب صيدلية لمنزلك، واطلب بلطف قياس ضغط دمك ثم سجل القياس .
- راقب جيداً ما يقوم به الصيدلي، واستعد لوصف الجهاز المستخدم أمام زملائك .



### في المختبر: للبحث:



ابحث في الشبكة متى تم اكتشاف ضغط الدم أول مرة؟ وكيف تطورت أدواته؟

## تطور جهاز قياس ضغط الدم:

١- بدأت أجهزة القياس الحديثة باستخدام ساعة تدرّيج.



٢- تطورت أجهزة القياس لتستخدم التدرّيج الزئبقي وبالتالي أصبحت أكثر دقة في القراءة.



٣- أصبحت أجهزة قياس الضغط الرقمية أكثر انتشاراً وأسهل استخداماً.



### في المختبر: نشاط: ٤:٢:٤ ضغط الدم ونشاط الجسم

مستخدماً مقياس الضغط الرقمي قم بإجراء بعض الحركات مثل الوقوف والجلوس قبل أن تسجل قياس الضغط.

استخدم أحد برامج الجداول في الحاسوب، وسجل قراءاتك. ماذا تلاحظ؟

## ثالثاً: أجهزة خاصة بمرض السكر



هل تعلم:

- تتراوح نسبة السكر الطبيعية في دم الإنسان بين ٧٠-١١٠ ملغم/٪.

- يساعد الأنسولين السكر على الدخول إلى خلايا الجسم.

مرض السكر الشائع ينتج عن ارتفاع نسبة السكر في الدم بسبب نقص إفراز هرمون الأنسولين الذي يفرزه البنكرياس.

هناك نوعان من الأجهزة التي تتعامل مع هذا المرض:

١- أجهزة قياس مستوى السكر في الدم.

٢- أجهزة التعايش مع مرض السكر.

هل تعلم:

كانت طريقة تشخيص مرض السكر طريقة، حيث كان النمل هو الحكم على إصابة الشخص بمرض السكر، ويتم ذلك من خلال تعريض عينة من البول للشخص المراد فحصه للنمل فإذا أقبل عليه كان هذا دليلاً على وجود السكر في البول. ولكن النمل لم يستطع أبداً تحديد نسبة زيادة السكر في الدم.



## أجهزة قياس مستوى السكر في الدم

لم تعد هناك حاجة لزيارة المشفى، أو مختبر التحاليل الطبية للوصول إلى قياس نسبة السكر في الدم. فالأجهزة المنزلية أصبحت في متناول الجميع، مع سهولة فائقة في الاستخدام، ولكن هذا ليس بديلاً عن زيارة الطبيب المختص بشكل دوري لمتابعة حالة المريض.

١- جهاز الجلو كوميتير



هو جهاز رقمي يمكن من خلاله قياس مستوى السكر خلال دقيقتين، وبدرجة مقبولة من الدقة. وله أشكال مختلفة.

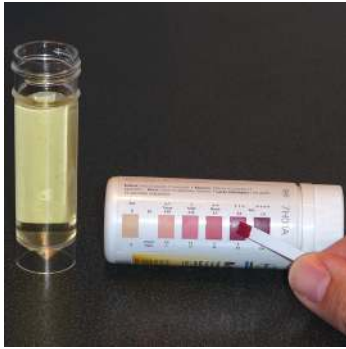
## طريقة استخدام الجلوكوميتر:




٢- يوضع الدم على شريط الجهاز  
ويتم أخذ قراءة الجهاز



١- يتم وخز الأصبع بإبرة خاصة معقمة



٢- شرائط الكشف: وهي عبارة عن شرائط بلاستيكية مقسمة إلى مناطق، لكل منها لون مميز. حيث يتم غمس الشريط في عينة البول، ثم الانتظار قليلاً، ومراقبة تغير لونه ومقارنته بالألوان على علبة الأشرطة، للاستدلال على وجود السكر.



## أجهزة حديثة

نشاط  
٥:٢:٣

تم تطوير أجهزة حديثة لقياس مستوى السكر في الدم دون أخذ عينة من الدم أو البول. ابحث عن أحد هذه الابتكارات وأعرض صورتها على زملائك في الصف.

## لكل إنسان مستوى مختلف من السكر

نشاط  
٦:٢:٣

راقب قياس مستوى السكر في الدم الذي سيقوم به معلمك لبعض الطلبة، وسجل ملاحظاتك من خلال مقارنة القراءات المختلفة.

أجهزة التعايش مع مرض السكري

يجب أن يحصل المريض بالسكر على الأنسولين ليعيش بصورة طبيعية، وقد تطورت وسائل تزويد المريض بالأنسولين كثيراً خلال السنوات الماضية.

## ١ أقلام الأنسولين



قلم مزود بإبرة مطلية بمادة تمنع الإحساس بالألم ، يحتوي بداخله على كمية من الأنسولين ، وتعتبر أقلام الأنسولين أكثر سهولة في الاستخدام : كما أنها دقيقة في تحديد الجرعة . إضافة إلى ملاءمتها للاستخدام للمكفوفين .

## ٢ مضخة الأنسولين



تطورت طرق التعايش مع مرض السكري كثيراً خلال الأعوام الماضية ، ولعل من أهم انجازات التكنولوجيا في هذا المجال ما يعرف بمضخة الأنسولين ، التي تزود المريض بجرعات مناسبة من الأنسولين بشكل مستمر ، ويمكن تهيئتها لتلائم حالة كل مريض .

## في المختبر: نشاط: ٧:٢:٤ التكنولوجيا ومرض السكر



بواسطة شبكة الإنترنت :

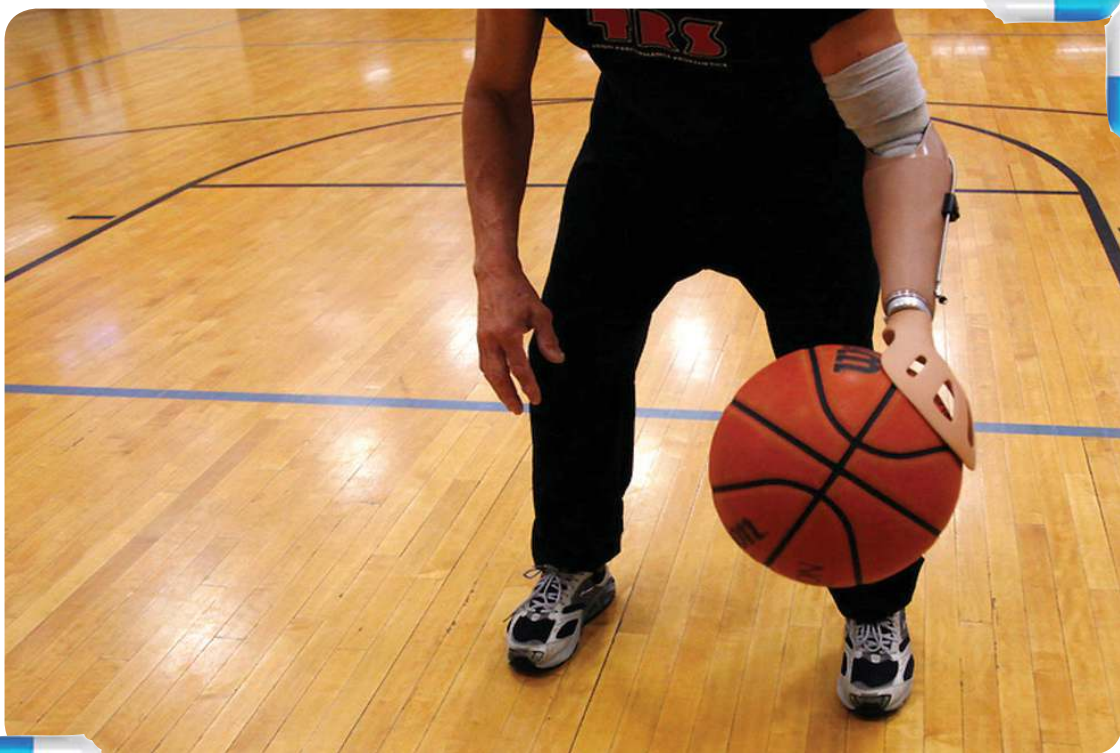
- ١ : قارن بين الطريقة القديمة والحديثة في تزويد الجسم بالأنسولين ، موضحاً دور التكنولوجيا في هذا التطور .
- ٢ : ابحث عن آليات جديدة متطورة لمعالجة مرضى السكر بشكل نهائي .

## أسئلة الدرس



- ١) الكشف عن الأمراض مبكراً يؤدي إلى سهولة معالجتها . ناقش هذه العبارة بالاستعانة بأمثلة .
- ٢) عدد أنواع مقياس الحرارة مع توضيح مميزات كل منها .
- ٣) وضح فكرة عمل جهاز مقياس الحرارة الطبي (الثيرمو متر) .
- ٤) ما المقصود بالمقياس ١١٠ / ١٥٠ ملمتر زئبقي . وهل يشكل إنذاراً بالخطر للإنسان .
- ٥) عدد الطرق التي يتم من خلالها المحافظة على مستوى السكر الطبيعي في الدم .

## الأجهزة التعويضية والوسائل المساعدة



لعل من أهم اسهامات التكنولوجيا في حياة الإنسان تعويض ما قد يفقده من أطراف ، أو تقويم ما قد يصاب لديه من أعضاء ، والمساعدة عندما يعجز عن القيام بما يجب عليه ليتنقل ، ويتواصل ، ويتعلم .

ومع تطور العلوم والتكنولوجيا ، تطورت الأجهزة والوسائل الطبية ، فأصبحت أخف وزناً ، وافضل شكلاً ، وأكثر كفاءة . فما المقصود بالأجهزة التعويضية؟ وما أشكالها؟ وأهمية كل منها؟

حتى نبدأ مسيرة اكتشاف اهمية الاجهزة التعويضية ، اقرأ الحوار التالي ثم علق :  
سأل المعلم طلابه : هل تعتقدون أن التكنولوجيا قد أسهمت في تحسين ظروف الإنسان ، وتسهيل حياته؟ قالت هدى على الفور وهي تتقدم عبر كرسيها المتحرك : بالطبع يا معلمي ، وإلا لما تمكنت من الحضور بنفسني إلى المدرسة دون مساعدة من أحد . وأشارت بيدها إلى



الكرسي ذي العجلات ، وهي تربت عليه بيد حانية ، وكأنه صديق حميم . قال المعلم : صدقت يا هدى . الكرسي ذو العجلات قد حل مشكلتك ، ولكن ماذا بالنسبة لمن فقد يده أو كلتا يديه . ماذا سيفعل؟

وللإجابة على التساؤلات ننفذ النشاط الآتي :

## دور التكنولوجيا في تحسين ظروف الإنسان



لنبدأ بتوزيع الأدوات التالية في أماكن مختلفة داخل غرفة الصف :

راديو صغير - كتاب - حذاء مع رباط - قلم رصاص - كوب من الماء - مجموعة من العيدان الخشبية -



- باستخدام العيدان الخشبية فقط دعونا نتعامل مع الأدوات :
- نقلب صفحات الكتاب . . نحكم رباط الحذاء . . نشغل المذياع . . نشرب الماء الذي في الكوب . . نكتب بقلم الرصاص . ثم نسجل ملاحظتنا .
- الآن لنحاول مع زملائنا الإجابة عن التساؤلات الآتية :
- ما العمليات التي نجحنا في أدائها؟
  - ماذا نفعل لكي ننجز العمليات التي لم تتمكن من تنفيذها؟
  - كيف يمكن تثبيت العيدان الخشبية بأفضل طريقة لتمكين من التقاط الأشياء .

## الأجهزة التعويضية:

وتنقسم إلى قسمين : الأطراف الصناعية ، الأجهزة التقويمية :

### ١ الأطراف الاصطناعية :

عرف الإنسان الأطراف الاصطناعية منذ عهود ، حيث أكتشف مؤخرأ في أحد المقابر الفرعونية قدم اصطناعية بدائية يعود تاريخها لمئات السنين .

وقد كانت الأطراف الاصطناعية في الماضي مقتصرة على قدم خشبية ، أو يد تنتهي بخطاف حديدي كما اعتدنا رؤية في قصص القراصنة القديمة .

ورغم أن اليد البشرية تتميز بخصائص من المستحيل تعويضها فهي تحس بالضغط والحرارة ، وتصلح نفسها بنفسها حين التعرض لكسور بسيطة أو خدوش ، وتساهم في تنظيم حرارة الجسم من خلال إفراز العرق . إلا أن الأطراف الاصطناعية لازالت تتطور ، كما أن الأبحاث العلمية ما زالت مستمرة في هذا المجال .





والأطراف قد تكون يداً، ذراعاً، قدماً، أو ساقاً ويدخل في تركيبها مواد مختلفة .  
 حاول أن تستنتج المواد التي تصنع منها هذه الأطراف .  
 مما سبق نستنتج أن الأطراف الاصطناعية هي : أجهزة يمكن إضافتها لتعويض جزء مفقود في  
 الجسم لمساعدة المصاب على الوقوف والمشي وتناول الأشياء .  
 في بدايات التسعينات ، بدأ إنتاج الأطراف الصناعية الآلية التي تعمل بالغاز المضغوط ، وبعدها  
 بسنوات قليلة تم استخدام مواتير كهربية صغيرة قبل أن تتأثر هذه الصناعة بالتطور التكنولوجي  
 المتسارع في مجال الروبوت والتقنيات الحديثة . وتتنافس الدول المتقدمة في إنتاجها .  
 قارن بين الأطراف الاصطناعية في الصورتين من حيث : طريقة التثبيت ، والمواد المستخدمة .



## تصميم نموذج قدم اصطناعية بسيطة

نشاط  
٢:٣:٣

● المواد والأدوات :



حذاء قديم - مجموعة من ورق الجرائد - غراء - ماء - عصا قصيرة - زجاجة عصير كبيرة فارغة .

● خطوات العمل

- ١- قم بحشو الحذاء بورق الجرائد .
- ٢- بلل ورق الجرائد بالماء .
- ٣- أضف الغراء مع التحريك .

هل تعلم:

أنشئت العديد من المصانع لتجهيز الأطراف الاصطناعية في فلسطين أشهرها في مدينة قلقيلية، ومدينة غزة، كما توجد وحدة لصناعة الأطراف في مدينة جنين.

- ٤- اغرس العصا الخشبية مكان الساق في الحذاء.
  - ٥- ثبت العصا بورق الجرائد والغراء.
  - ٦- ثبت نصف الزجاجاة في مقدمة العصا.
- على ماذا حصلت؟ اكتب تعليقك.
- ملاحظة: يمكنك إظهار إبداعاتك باختيار مواد أخرى.
- ٢ الأجهزة والوسائل التقييمية:

تعرف الأجهزة التقييمية بأنها: الأجهزة التي تستخدم لمساعدة وتقويم أعضاء الجسم التي تعاني من ضعف أو إصابة أو تشوه تحول دون قيامها بوظائفها الطبيعية. وذلك بهدف تحسين قدرتها، وهي في الأغلب مؤقتة.



### الأجهزة التقييمية

ما وظيفة كل من الأجهزة التقييمية التالية:



### الأجهزة والوسائل المساعدة

وسائل وأجهزة يستخدمها ذوو الإحتياجات الخاصة لتساعدهم على الحركة والتنقل والسمع والتعليم والتواصل، ومنها:

### أولاً: وسائل مساعدة للمعاقين حركياً

لعبت التكنولوجيا دوراً هاماً في تطوير وسهولة الحركة والتنقل للمعاقين حركياً، وذلك بتصميم العديد من الوسائل المساعدة، والتي تطورت بشكل مستمر من





حيث المواد المستخدمة، وسهولة الاستخدام، إضافة إلى توظيف التحكم الآلي في الكراسي المتحركة، وأصبح من حق المعاق حركياً ممارسة حياته الطبيعية بل والمشاركة في النشاطات الرياضية.

## تطور الكراسي المتحركة

نشاط  
٤،٣:٣



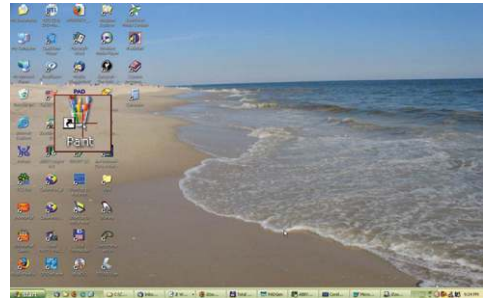
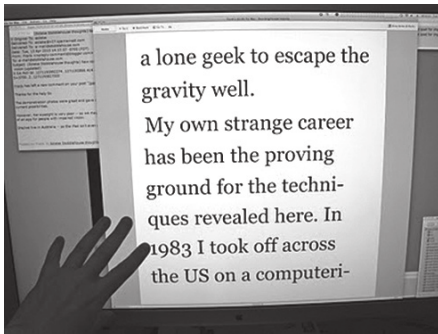
بين أوجه التطور التكنولوجي في صناعة الكراسي المتحركة من خلال الصور الآتية:



## ثانياً: وسائل مساعدة للمكفوفين

من حق الكفيف أن يتعلم، ومن واجب المبصر أن يوظف التكنولوجيا بكل إمكاناتها لتسهيل تعليم الكفيف. وستعرف فيما يلي على أشهر الوسائل المساعدة للكفيف وضعيف البصر.

١ أداة مكبر الشاشة: وهي موجودة ضمن أدوات معظم أنظمة التشغيل المعروفة، وتعمل على تكبير جزء من الشاشة، وتستخدم لضعاف البصر.



٢ البرامج الناطقة: والتي تقوم بقراءة ما يتحرك عليه مؤشر الفأرة، وتتيح للكفيف الاطلاع على مواقع الإنترنت المختلفة.

## في المختبر: نشاط: ٤:٣:٥ تطبيقات محوسبة للمكفوفين وضعاف البصر



قم بتشغيل برنامج مكبر الشاشة والتطبيق الناطق للمكفوفين ، وتعرف على طريقة عملها .

### ٣ وسائل الكتابة والقراءة بلغة برايل



a	b	c	d	e	f	g
h	i	j	k	l	m	n
o	p	q	r	s	t	u
v	w	x	y	z		

### تصمم لوحة كتابة للكفيف

نشاط  
٦:٣:٣



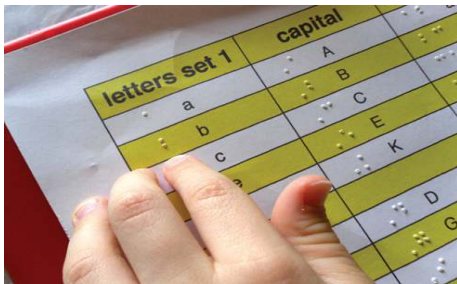
انظر الشكل المجاور للتعرف إلى تمثيل الأحرف الإنجليزية بلغة برايل .

لاحظ أن كل حرف يتم تمثيله بـ ٦ نقاط . بعضها مسطح ، والبعض الآخر بارز . وبهذه الطريقة يتم التمييز بين الأحرف .

### ● خطوات العمل :

١- قم بكتابة اسمك بلغة برايل بمساعدة الجدول أعلاه .

٢- الصق الورقة عل قطعة من الكلكل .



٣- قم بتخريم النقاط السوداء في كل حرف بواسطة الضغط عليها بقلم الرصاص .

r	a	s	h	a
⦿ ⦿ ⦿	⦿ ⦿ ⦿	⦿ ⦿ ⦿	⦿ ⦿ ⦿	⦿ ⦿ ⦿

٤- حاول اغماض أعينك والمس التتوءات ،

هل تمكنت من القراءة؟



ما أفضل طريقة لإظهار النقاط البارزة (كتابة الأحرف).

للمناقشة:



ناقش وظيفة كل من الوسائل المساعدة الآتية :



القدم المسطحة



تعتبر ظاهرة القدم المسطحة من الظواهر الأكثر انتشارا، حيث لا يتم توزيع ثقل الجسم على القدم المسطحة بالشكل السليم . مما قد يسبب الألم والتعب للشخص صاحب القدم المسطحة عند المشي وعند القفز أيضا، وهي من أهم أسباب إعفاء هؤلاء الأشخاص من العمل في الخدمة العسكرية .

تصميم قوس للقدم المسطحة:

نشاط  
٧:٣:٣



باستخدام «الصلصال» صمم مجسم لقوس قدم لأحد الأشخاص الذين يعانون من مشكلة القدم المسطحة .  
ولنخبر صانع الأحذية بما نريد .

## أسئلة الدرس

- ١ عرف الأجهزة التعويضية ، مع ذكر أمثلة متنوعة .
- ٢ ما الهدف من استخدام الأجهزة التعويضية؟
- ٣ عدد الخطوات التي تسبق إنتاج الأجهزة التعويضية .
- ٤ عدد بعض الوسائل المساعدة المستخدمة لتعليم المكفوفين .
- ٥ وضح تأثير الأجهزة التعويضية والوسائل المساعدة على الفرد ، وعلى المجتمع .
- ٦ صنف الأجهزة والأدوات التالية [طرف اصطناعي - وسيلة مساعدة - جهاز تقويم] مع تحديد العضو المستفيد .

	النوع: العضو:		النوع: العضو:
	النوع: العضو:		النوع: العضو:
	النوع: العضو:		النوع: العضو:



## أسئلة الوحدة

- ١- ما المقصود بالتكنولوجيا الطبية؟
- ٢- كيف يمكن أن تسهم التكنولوجيا الطبية في المجالات التالية؟
  - أ- تقديم دواء آمن للمرضى مع تقليل نسبة الخطر من استخدامه .
  - ب- الكشف المبكر عن بعض الأمراض .
  - ج- مساعدة مصابي الحروب ممن فقدوا بعض أطرافهم .
  - د- مساعدة المعاقين حركياً .
  - هـ- مساعدة المعاقين سمعياً .
- ٣- رتب الخطوات التالية لإنتاج الدواء بوضع الرقم المناسب إلى اليمين :
  - ( ) الرقابة المستمرة على الدواء المستخدم .
  - ( ) تحديد تاريخ صلاحية الدواء .
  - ( ) التجريب على الحيوان .
  - ( ) إضافة اللون والرائحة الجذابة للدواء .
  - ( ) استخلاص الدواء من أحد مصادره .
  - ( ) التجريب على الإنسان تحت رعاية طبية .
  - ( ) تصنيع الدواء بأشكاله المختلفة .
- ٤- عدد طرق تجريب الدواء .
- ٥- ما وظيفة كل من الأجهزة التالية :



- ٦- عدد أقسام الأجهزة التعويضية مع أمثلة .
- ٧- عدد ثلاثة من الوسائل المساعدة للمكفوفين في مجال تسهيل التعلم .

## المشاركون في ورشات عمل كتاب التكنولوجيا للصف السادس:

أحمد أبو علبة	احمد شحاده
عطايا عابد	محمد مسلماني
إسماعيل الحلو	هاني حمامة
أيمن العلكوك	محمد عواد
محمود برغوت	وليد بدوي
عبد الرحيم يونس	اسماء عيد
أحمد الفرا	سناء صباح
رمزي شقفة	مطبعة رمضان
عبد الباسط المصري	مها النتشة
غسان رشيد	إكرام التكروري
رشيد جيو سي	امال صبيح
محمد صافي	فداء عبد ربه
محمد سلامة	نور عبداوي
مجدي معمر	سماهر غياظة
رشا عمر	عبد الرحمن نور
ابراهيم قدح	سامر محمود
معاذ أبو سليقة	اسامة العيسى
جهاد حماد	اسامة طرييه
وهيب الداھوك	مهند حسين
حسن أبو طويلة	محمد أبو حطب
عبد الرؤوف المناعمة	زياد سلوب
نابغة أبو شهلا	سمر حجه
أسامة زيادة	بسام زبيدات

تم بحمد الله