

وكالة الغوث الدولية - الأونروا  
دائرة التربية والتعليم - غزة  
مركز التطوير التربوي  
وحدة التطوير المهني والمنهاج



# بطاقات التعلم الذاتي الدراسات الاجتماعية



الفصل الدراسي الأول / بطاقات شهر سبتمبر

للعام الدراسي 2021/2020م





الوحدة الأولى / الدرس الأول / قارة آسيا وامتداد الدولة الإسلامية فيها  
خطوط الطول ودوائر العرض

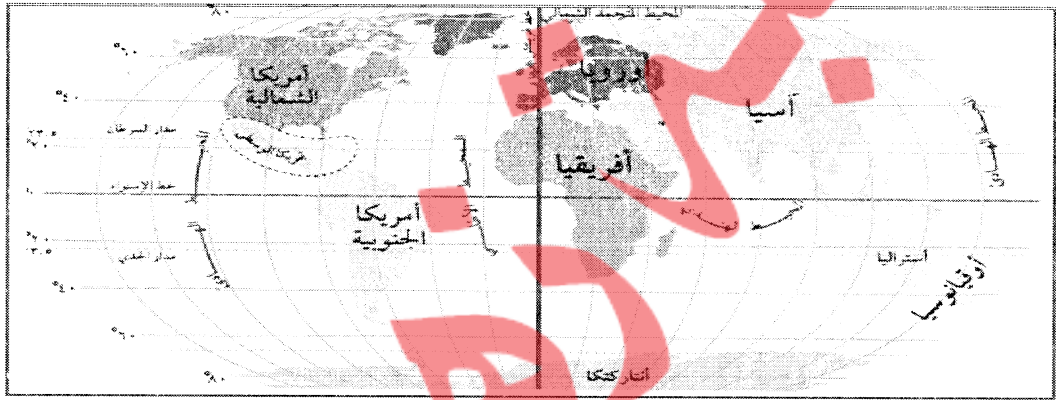
بطاقة (١)

الأهداف

- ١- يسمي قارات العالم.
- ٢- يوقع قارات العالم على خريطة العالم الصماء.
- ٣- يميز بين خطوط الطول ودوائر العرض.
- ٤- يستنتج أهمية خطوط الطول ودوائر العرض.

عزيمي الطالب: تأمل خريطة قارات العالم، وسمي القارات التي تراها:

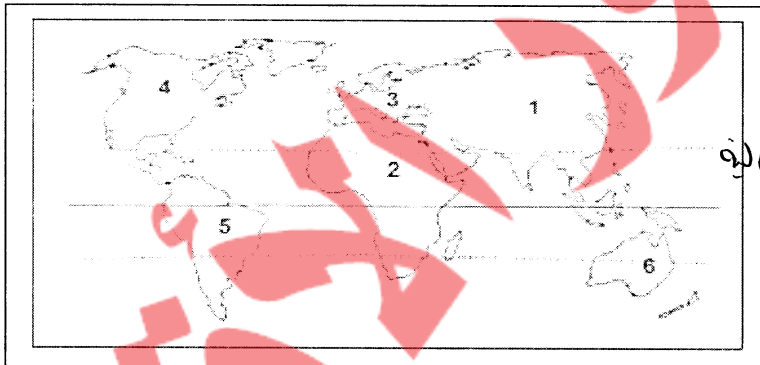
نشاط ١



خريطة قارات العالم

عزيمي الطالب: تأمل خريطة قارات العالم السابقة، ثم اكتب ما تشير إليه الأرقام فيما يأتي:

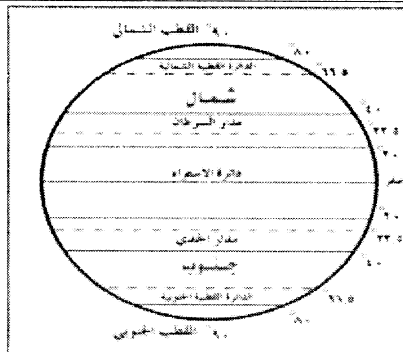
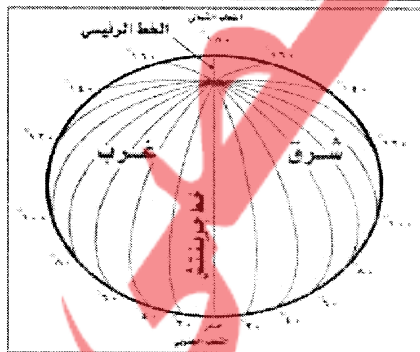
نشاط ٢



١. قارة ..... آسيا ..... ٢. قارة ..... أوقيانوسيا .....
٣. قارة ..... أوروبا ..... ٤. قارة ..... أفريقيا .....
٥. قارة ..... آسيا ..... ٦. قارة ..... أمريكا الشمالية .....

عزيمي الطالب: تأمل رسم خطوط الطول ودوائر العرض، ثم أجب حسب المطلوب:

نشاط ٣



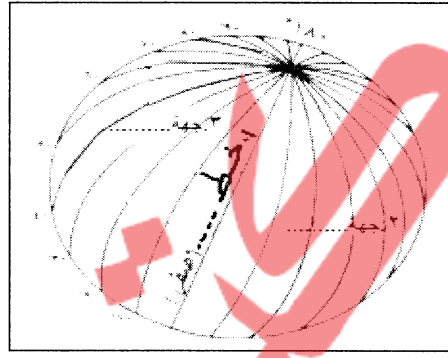
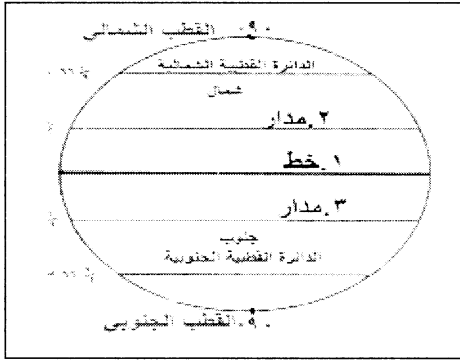
( أ ) أجب عن الأسئلة التالية:

- كم عدد كل خطوط الطول؟  
..... ٣٦٠ ..... خط
- كم عدد كل دوائر العرض؟  
..... ١٨٠ ..... دائرة

١ بطاقات التعلم الذاتي في الدراسات الاجتماعية للصف السابع الأساسي الفصل أول ٢٠٢٠/٢٠٢١م - غزة



ب ) اكتب ما تشير إليه الأرقام فيما يأتي:



- دوائر الجرض .....  
 ١. خط الاستواء .....  
 ٢. مدار الكسوف .....  
 ٣. مدار الجسيم .....  
 القطب الشمالي .....  
 القطب الجنوبي .....

- خطوط الطول .....  
 ١. خط غرينتش .....  
 ٢. جهة الشرق .....  
 ٣. جهة الغرب .....

ج ) اقرأ الفقرة التالية، ثم أجب:

" خطوط الطول ودوائر العرض هي خطوط وهمية رسمها العلماء على الخرائط والمجسمات بهدف تحديد الموقع الفلكي، والوقت حيث يستفاد من خطوط الطول في معرفة الوقت، ومن دوائر العرض في دراسة المناخ "

١. اكتب ما تدل عليه العبارة التالية :  
 (خطوط الطول ودوائر العرض) خطوط وهمية رسمها العلماء على الخرائط والمجسمات بهدف تحديد الموقع الفلكي والوقت.

٢. اختر الإجابة الصحيحة مما بين القوسين:  
 تكمن أهمية دراسة دوائر العرض في تحديد ( الوقت - المناخ - الحدود )

٣. بم تفسر:

• أهمية خطوط الطول.

الجواب: الوقت على الكرة الأرضية

د) قارن بين خطوط الطول ودوائر العرض بحسب الجدول الموضح فيما يأتي:

م	وجه المقارنة	خطوط الطول	دوائر العرض
١.	تعريفها	خطوط وهمية رسمها العلماء على الخرائط	دوائر العرض هي خطوط وهمية رسمها العلماء على الخرائط
٢.	عددتها	٣٦٠	١٨٠
٣.	أهمها	خط غرينتش	خط الاستواء
٤.	أهميتها	تحديد الوقت	تحديد المناخ



الوحدة الأولى /الدرس الأول قارة آسيا وامتداد الدولة الإسلامية فيها  
مظاهر السطح وتأثيرها في مناخ القارة

بطاقة (٣)

الأهداف

١. يفسر تنوع مظاهر السطح في قارة آسيا.
٢. يتعرف على مظاهر السطح في قارة آسيا.
٣. يعين على خريطة قارة آسيا أهم التضاريس.
٤. يذكر أقسام السهول في قارة آسيا.
٥. يستنتج العوامل المؤثرة في مناخ قارة آسيا.
٦. يصف مناخ فلسطين.

نشاط ١ عزيزي الطالب اقرأ النص التالي، ثم أجب:

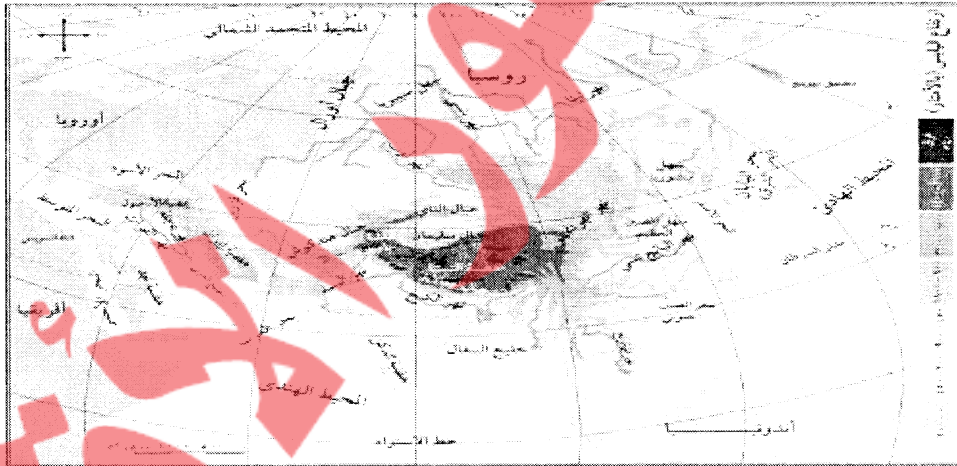
" أدى تنوع التضاريس في قارة آسيا وامتدادها إلى تنوع مظاهر السطح والمناخ فيها ، فهي تشمل الجبال والهضاب والسهول. .. "

ما النتائج المترتبة على:

- اتساع قارة آسيا وامتدادها من الشمال والجنوب والشرق والغرب؟

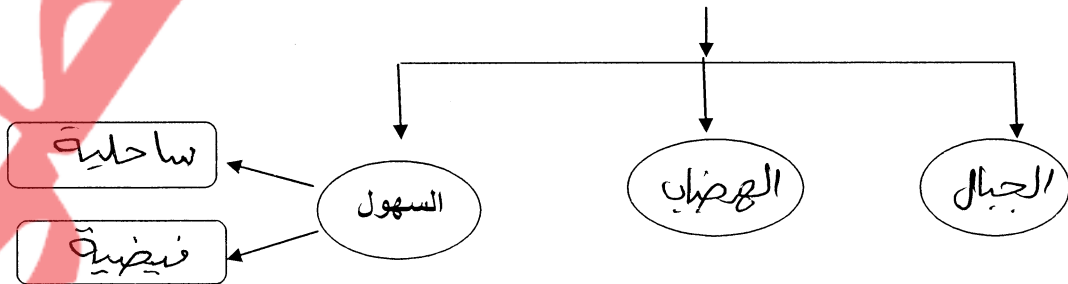
النتيجة /..... تنوع المناخ .. مظاهر السطح فيها ..

نشاط ٢ السؤال الأول: تأمل خريطة قارة آسيا الطبيعية، ثم أكمل بحسب المخطط:



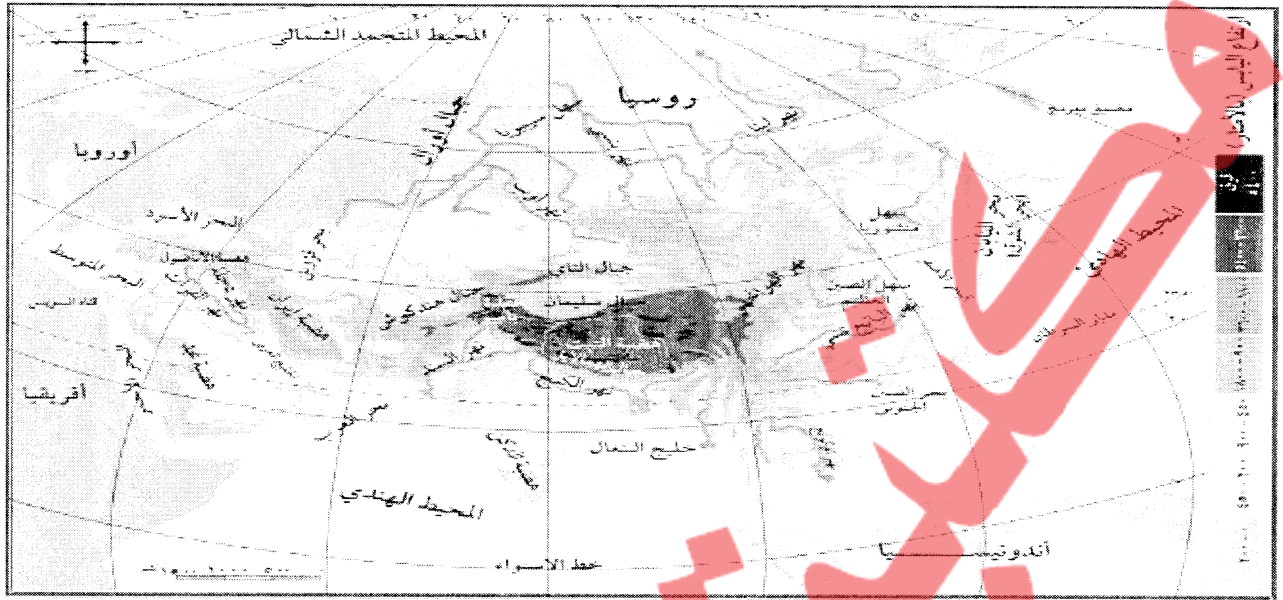
خريطة قارة آسيا الطبيعية

مظاهر السطح في قارة آسيا



١ بطاقات التعلم الذاتي في الدراسات الاجتماعية للصف السابع الأساسي الفصل أول ٢٠٢٠/٢٠٢١م - غزة

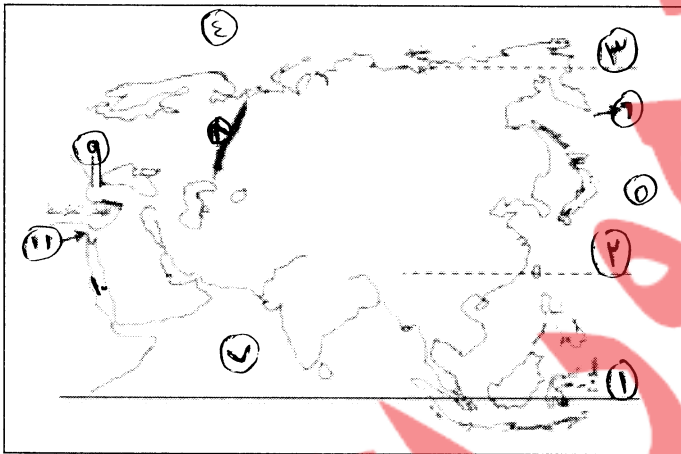
نشاط ٤ : استعن بخريطة قارة آسيا الطبيعية، ثم حدد على الخارطة الصماء حسب المطلوب:



خريطة قارة آسيا الطبيعية

السؤال الأول: أجب عما يلي:

١. خط ..... الإيبواء.....
٢. مدار ..... المسمى طاند.....
٣. الدائرة ..... القطب الشمالي.....
٤. المحيط المتجمد الشمالي
٥. المحيط الهادي
٦. مضيق بيرنج
٧. المحيط الهندي
٨. سلسلة جبال أورال
٩. مضيق البسفور
١٠. البحر الأحمر
١١. قناة السويس.....



السؤال الثاني: اختر الإجابة الصحيحة مما بين القوسين فيما يأتي: -  
( مضيق بيرنج - سلسلة جبال أورال - البحر الأحمر وقناة السويس )

١. (سلسلة جبال أورال) يفصل قارة آسيا عن قارة أوروبا.
٢. (مضيق بيرنج) يفصل بين قارتي آسيا وأمريكا الشمالية.
٣. (البحر الأحمر) يفصل قارة آسيا عن قارة إفريقيا.

نشاط ٥ اختر الإجابة الصحيحة مما بين القوسين فيما يأتي: -

١. تقع فلسطين بالنسبة لقارة آسيا في جهة (الجنوب الغربي) - الجنوب الشرقي - الشمال الغربي - الشمال الشرقي
٢. تقع فلسطين على الساحل ..... للبحر المتوسط (الغربي) - (الشرقي) - الشمالي - الجنوبي
٣. تبلغ مساحة فلسطين ..... (٢٧.٠٢٧ كم<sup>٢</sup>) - (٢٧.٠٢٧ كم<sup>٢</sup>) - (٢٧.٠٢٧ كم<sup>٢</sup>)

٢ بطاقات التعلم الذاتي في الدراسات الاجتماعية للصف السابع الأساسي الفصل أول ٢٠٢٠/٢٠٢١م - غزة

السؤال الثاني: // اكتب ما تدل عليه العبارة التالية :-  
- (الرياح الغربية الجارية) رياح سريعة تتراوح سرعتها ما بين ١٠٠ - ٣٥٠ كم / في الساعة مصحوبة بأمطار غزيرة.

السؤال الثالث: // بم تفسر :-  
المناطق الشمالية في آسيا باردة صيفاً وشتاءً؟  
السبب / سبب قربها من القطب الشمالي

نشاط ٦ عزيزي الطالب: تأمل النص، ثم أجب عما يلي:

يمتاز مناخ فلسطين في قارة آسيا بالاعتدال بشكل عام، حيث تسقط أمطارها شتاءً بسبب المنخفضات الجوية أما صيفاً فمناخها حار جاف.

السؤال الأول: قارن بين مناخ قارة آسيا في فصل الشتاء وفصل الصيف بحسب الجدول فيما يلي:

م	وجه المقارنة	صيفاً	شتاءً
١	درجة الحرارة	مرتفعة	منخفضة
٢	الأمطار	تسقط الأمطار في شرق القارة و وسطها وجنوبها	تسقط الأمطار على السواحل الغربية في القارة

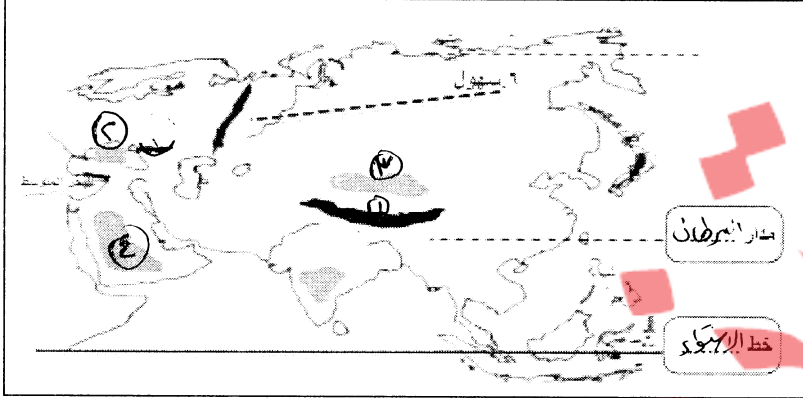
بم تفسر:  
سقوط الأمطار على فلسطين في فصل الشتاء؟

السبب / سبب قرب المنخفضات الجوية.

السؤال الثاني: اختر من المجموعة [ أ ] ما يناسبها من المجموعة [ ب ] فيما يأتي:

- [ أ ]  
١. أعلى قمة جبلية في العالم وتوجد في دولة نيبال  
٢. أعلى هضاب العالم وتوجد في دولة الصين  
٣. توجد هضبة الأناضول... في تركيا  
٤. توجد هضبة نجد... في المملكة العربية السعودية  
٥. أعلى قمم جبال فلسطين جبل
- [ ب ]  
( ٣ ) التبت.  
( ١ ) إفرست.  
( ٤ ) نجد.  
( ٣ ) الأناضول.  
( ٥ ) الجرمق

نشاط ٣ عزيزي الطالب: استعن بخريطة قارة آسيا الطبيعية السابقة، لتحديد على الخريطة الصماء:



١. جبال الهملايا  
٢. هضبة الأناضول  
٣. هضبة التبت  
٤. هضبة نجد  
٥. مدار السرطان.....  
٦. سهول... الساجالية  
٧. خط... اللابسيو

نشاط ٤ عزيزي الطالب اقرأ النص التالي، ثم أجب:

" تقسم السهول إلى سهول ساحلية تشرف على المسطحات المائية مثل السهل الساحلي الفلسطيني، والسهول الفيضية على ضفاف الأنهار التي تشكل مناطق زراعية خصبة، نشأت على ضفافها الحضارات القديمة".

اكتب ما تدل عليه العبارات التالية :

١. ( سهول ساحلية ) السهول المشرفة على المسطحات المائية، مثل السهل الساحلي الفلسطيني.  
٢. ( سهول فيضية ) السهول التي تمتد على ضفاف الأنهار، وتشكل مناطق زراعية خصبة.

نشاط ٥ عزيزي الطالب تأمل النص التالي و ثم أجب:

مناخ القارة: يتنوع مناخ قارة آسيا بصورة عامة، فترتفع درجات الحرارة صيفاً في المناطق الجنوبية، وتنخفض في أجزائها الشمالية القريبة من القطب الشمالي، وتسقط الأمطار الصيفية في شرق القارة، ووسطها، وجنوبها، وتعرض القارة لرياح نشطة تكون مصحوبة بأمطار غزيرة تُسمى الأعاصير المدارية. وشتاءً تنخفض الحرارة في جميع أجزاء القارة، لكن تبقى الأجزاء الشمالية الأكثر برودة، وتسقط الأمطار على القارة مركزة على السواحل الغربية.

اختر الإجابة الصحيحة مما بين القوسين فيما يأتي: -

- ( الشمالية - الشرقية - الجنوبية - الغربية )  
( الجنوبية - الغربية - الشرقية - الشمالية )  
( شرقها - وسطها - جنوبها - جميع ما سبق )

١. ترتفع درجات الحرارة صيفاً في قارة آسيا في المناطق  
٢. أكثر الجهات برودة في قارة آسيا هي الأجزاء  
٣. تسقط الأمطار الصيفية على قارة آسيا في

٢ بطاقات التعلم الذاتي في الدراسات الاجتماعية للصف السابع الأساسي الفصل أول ٢٠٢٠/٢٠٢١ م - غزة





الأهداف

١. يفسر دلالة الصور في الكتاب المدرسي .
٢. يحدد مساحة قارة آسيا وعدد سكانها .
٣. يبين أهمية البحر الميت .
٤. يستنتج تعدد الموانئ الطبيعية في قارة آسيا .
٥. يعين على خريطة صماء لقارة آسيا أهم التناقضات التي تتميز بها القارة .
٦. يذكر أهم النشاطات الاقتصادية في قارة آسيا .

عزيمي الطالب: تأمل الظواهر الطبيعية، ثم أجب:

نشاط ١

السؤال الأول:- ضع رقم الظواهر الطبيعية الموجودة في الصور، فيما بين القوسين:-

- (٤) صحراء الربع الخالي .
- (٣) سهول سيبيريا .
- (١) قمة إفرست .
- (٣) البحر الميت .



عزيمي الطالب / هل تعلم أن:

نشاط ٢

قارة آسيا تحتل المرتبة الأولى من حيث عدد السكان والمساحة حيث بلغ عدد سكانها حسب إحصائية ٢٠١٩ م ٤ مليارات ٥٨٦ مليون نسمة وتبلغ مساحتها حوالي ٤٤ مليون كم<sup>٢</sup>.

السؤال الثاني:- اختر الإجابة الصحيحة مما بين القوسين فيما يلي:-

- (الأولى) - الثانية - الثالثة ( )  
(١٨) - ٣٤ - (٤٤)

١. تأتي قارة آسيا من حيث عدد السكان والمساحة في المرتبة
٢. تبلغ مساحة قارة آسيا حوالي ...م.م.م..... مليون كم<sup>٢</sup>

عزيمي الطالب / هل تعلم أن :

نشاط ٣

أكثر بحار العالم ملوحة في يقع في قارة آسيا وهو البحر الميت الذي يقع بين الأردن وفلسطين، وتصل ملوحة مياهه إلى ٣٤% .


السؤال الثالث:- صحح ما تحته خط :

- (...البحر الميت...)  
(...الأردن...)  
(...٣٤...)

١. أكثر بحار العالم ملوحة هو البحر المتوسط .
٢. يقع البحر الميت بين فلسطين و سوريا.
٣. تصل نسبة ملوحة مياه البحر الميت حوالي ٤٣%.

## نشاط ٤ عزيزي الطالب استنتج شكل سواحل قارة آسيا:

السؤال الأول: // ظلل بقلمك الرصاص سواحل قارة آسيا، على خريطة قارة آسيا الصماء فيما يأتي:-



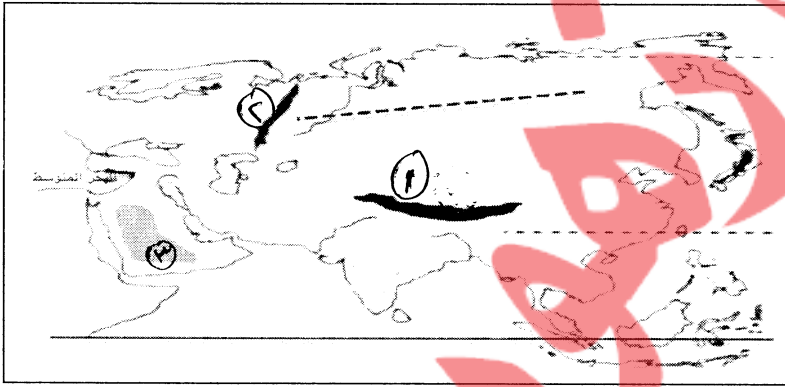
عزيزي الطالب/هل لاحظت أثناء التظليل طول سواحل قارة آسيا وكثرة تعرجاتها وبالتالي تعدد موانئها الطبيعية .

السؤال الثاني: // بم تفسر:-

- صلاحية سواحل قارة آسيا لإقامة الموانئ الطبيعية .

السبب / .. بسبب كثرة التعرجات في السواحل ..

نشاط ٥ السؤال الأول: تأمل خريطة قارة آسيا الطبيعية السابقة ثم حدد على الخريطة الصماء ما يلي:



١. قمة افرست
٢. سهول سيبيريا
٣. صحراء الربع الخالي

تحتوي قارة آسيا على العديد من التناقضات مثل احتوائها على قمة افرست أعلى منطقة في العالم و أخفض بقاع الأرض منطقة أريحا والبحر الميت و تحتوي على أبرد مناطق العالم في سيبيريا و أعلاها حرارة في صحراء الربع الخالي كما يوجد فيها أقدم عاصمة وهي دمشق و أقدم مدينة وهي أريحا .

السؤال الثاني: // اختر من المجموعة [ أ ] ما يناسبها من المجموعة [ ب ] فيما يأتي:-

- |                            |                            |
|----------------------------|----------------------------|
| [ أ ]                      | [ ب ]                      |
| ١. أعلى بقاع الأرض هي      | ( ٢ ) البحر الميت .        |
| ٢. أخفض بقاع الأرض هي      | ( ١ ) قمة افرست .          |
| ٣. أبرد مناطق العالم هي    | ( ٣ ) صحراء الربع الخالي . |
| ٤. أكثر مناطق العالم حرارة | ( ٢ ) سهول سيبيريا         |
| ٥. أقدم عاصمة في التاريخ   | ( ٥ ) دمشق                 |



الوحدة الأولى /الدرس الأول / قارة آسيا وامتداد الدولة الإسلامية فيها  
الفتوحات الإسلامية في قارة آسيا خلال العصرين الأموي والعباسي

بطاقة (٥)

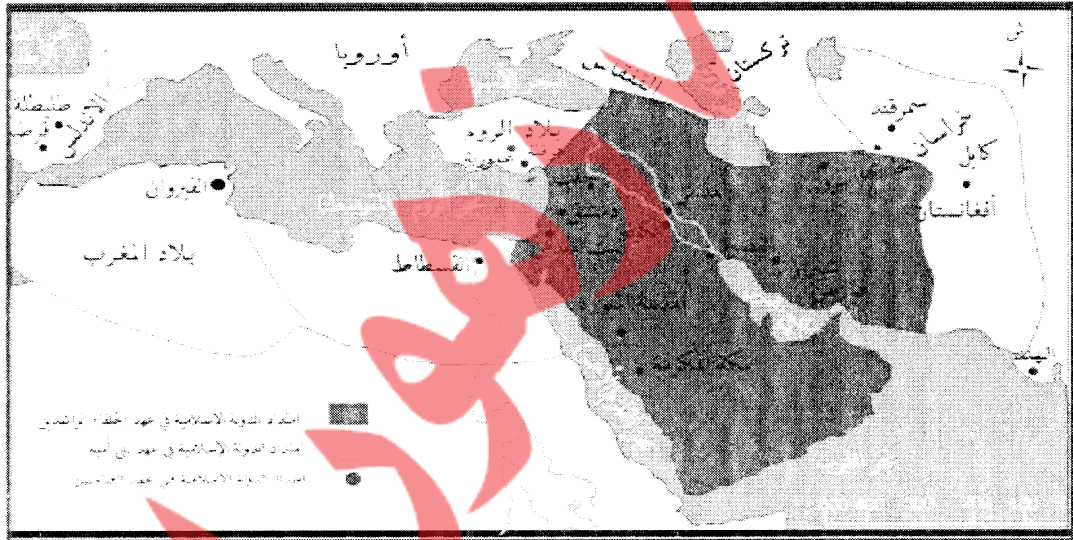


الأهداف


١. يحدد على الخريطة المناطق التي فتحها المسلمون في قارة آسيا.
٢. يذكر الأسماء الحالية للمناطق التي فتحها المسلمون في قارة آسيا.
٣. يذكر المناطق التي فتحها القائد قتيبة بن مسلم ومحمد بن القاسم في المنطقة الشرقية.
٤. يحدد المناطق التي فتحت في المنطقة الشمالية في عهد الخليفة معاوية بن أبي سفيان.
٥. يعدد الأعمال التي قام بها العباسيون في قارة آسيا.

عزيري الطالب: تأمل خريطة الفتوحات الإسلامية، ثم حدد على الخارطة الصماء امتداد الدولة الإسلامية في العهود التالية:

نشاط ١



الفتوحات الإسلامية



١. الخلفاء الراشدين ( باللون الأخضر )
٢. الدولة الأموية ( باللون الأصفر )
٣. الدولة العباسية ( باللون الأحمر )

١ بطاقات التعلم الذاتي في الدراسات الاجتماعية للصف السابع الأساسي الفصل أول ٢٠٢٠/٢٠٢١م - غزة

عزيزي الطالب: هل تعلم أن قارة آسيا تمتلك ٣٢% من مساحة الأراضي الزراعية وهي الأولى عالمياً في إنتاج العديد من المحاصيل منها الأرز والشاي وتمتلك العديد من الثروات المعدنية مثل: البترول والذهب وقد شهدت بعض دولها تطوراً في الصناعة مثل: اليابان والصين وكوريا الجنوبية وماليزيا.

السؤال الثالث: اختر الإجابة الصحيحة مما بين القوسين فيما يلي:

١. كل ما يلي من المحاصيل الزراعية التي تشتهر بها قارة آسيا عدا (الأرز - الشاي - البن - أ + ب معاً)
٢. من الثروات المعدنية التي تشتهر بها قارة آسيا (البترول - الذهب - الحديد - أ + ب معاً)
٣. كل ما يلي من الدول الصناعية في قارة آسيا عدا (الصين - اليابان - تنزانيا - ماليزيا)
٤. تمتلك قارة آسيا ..... من مساحة الأراضي الزراعية في العالم (٣٠% - ٣٢% - ٣٤% - ٣٦%)

السؤال الأول: // مَنْ أكون: -

١. (...البيزنطي...) الخليفة الأموي الذي فتحت في عهده معظم أرمينيا.
٢. (...فخستان...) / (...كهنسبا...) القائد المسلمين اللذان توليا الفتوحات الإسلامية على الجهة الشرقية في آسيا، ووصلت فتوحاتها حدود الصين والهند.

السؤال الثاني: // بم تفسر: -

- تحصين مناطق (الثغور)؟

السبب / لئلا يسكن المسلمون فيها حكامهم

نشاط ٢ عزيزي الطالب: تأمل النص التالي، ثم أجب:

" كانت الفتوحات الإسلامية في قارة آسيا في العصر الأموي في منطقتين هما: المنطقة الشرقية التي تشمل بلاد ما وراء النهر (نهر جيحون) وبلاد السند وهي المنطقة الواقعة شرقي إيران ومن المناطق التي فتحت بخارى، وسمرقند (أوزباكستان)، وبلخ (أفغانستان)، ومرو (تركمنستان)"

- اختر من المجموعة [ أ ] ما يناسبها من المجموعة [ ب ] فيما يأتي: -

- [ أ ]  
١. بلاد السند  
٢. مرو  
٣. بلخ
- [ ب ]  
( ٣ ) أفغانستان.  
( ١ ) المنطقة الواقعة شرق إيران.  
( ٢ ) تركمنستان.

نشاط ٣ عزيزي الطالب تأمل النص، ثم أجب:

كانت الفتوحات الإسلامية في قارة آسيا في العصر الأموي في منطقتين، هما: المنطقة الشرقية التي تشمل بلاد ما وراء النهر (نهر جيحون)، وبلاد السند، وهي المنطقة الواقعة شرقي إيران، ونولى قيادة الفتح في المنطقة الشرقية قتيبة بن مسلم الباهلي، ومحمد بن القاسم الثقفي، وتم فتح معظم المدن الرئيسة في تلك المناطق، مثل بخارى، وسمرقند (أوزباكستان)، وبلخ (أفغانستان)، ومرو (تركمنستان)، والوصول إلى حدود الصين والهند، وكانت فتوحاتهما هذه أقصى اتساع وصلت إليه حدود الدولة الإسلامية في تلك المنطقة.

- اختر الإجابة الصحيحة مما بين القوسين فيما يلي: -

١. كانت الفتوحات الإسلامية في قارة آسيا في الجهة ( الشرقية والشمالية - الشرقية والجنوبية - الشمالية والجنوبية )  
٢. المقصود بما وراء النهر هو نهر ( النيل - الفرات - دجلة - جيحون )  
٣. أقصى اتساع وصلت إليه حدود الدولة الإسلامية هو حدود ( الصين - الهند - إيران (أ+ب) )  
٤. انتشر الإسلام في مناطق كثيرة من قارة آسيا عن طريق ( الفتوحات الإسلامية - التجار - الدعاة - جميع ما سبق )

نشاط ٤ عزيزي الطالب/ تأمل النص، ثم أجب:

المنطقة الشمالية التي كانت تحت الحكم البيزنطي، تمكن المسلمون في عهد معاوية بن أبي سفيان من فتح معظم أرمينيا، وقد ساهم التجار والدعاة المسلمون في نشر الإسلام في مناطق أخرى كثيرة من القارة.

- اختر الإجابة الصحيحة مما بين القوسين فيما يلي: -

١. كانت الجهة الشمالية في قارة آسيا تحت الحكم ( الفارسي - اليوناني - البيزنطي )  
٢. كل ما يلي من المدن التي فتحت في العهد العباسي في قارة آسيا عدا ( طرطوس - عمورية - بخارى )

٢ بطاقات التعلم الذاتي في الدراسات الاجتماعية للصف السابع الأساسي الفصل أول ٢٠٢٠/٢٠٢١م - غزة



الوحدة الأولى / الدرس الثاني / قارة إفريقيا وامتداد الدولة الإسلامية فيها  
مظاهر السطح في قارة إفريقيا

بطاقة (٧)

الأهداف

١. يصف مظهر السطح الغالب على قارة إفريقيا.
٢. يعين على خريطة إفريقيا الصماء أهم تضاريس القارة (الهضاب، الجبال، السهول).
٣. يميز بين السهول الساحلية والنهرية لقارة إفريقيا.
٤. يعدد أهم أنهار قارة إفريقيا.
٥. يبين أثر الموقع الفلكي في مناخ قارة إفريقيا.
٦. يصف مناخ قارة إفريقيا من حيث الحرارة والأمطار صيفاً وشتاءً.

نشاط ١ السؤال الأول: تأمل خريطة قارة إفريقيا الطبيعية التالية، ثم أجب:



خريطة قارة إفريقيا

- ضع خطاً تحت الإجابة الصحيحة مما بين القوسين فيما يلي:  
١. يغلب على مظهر قارة إفريقيا الطابع

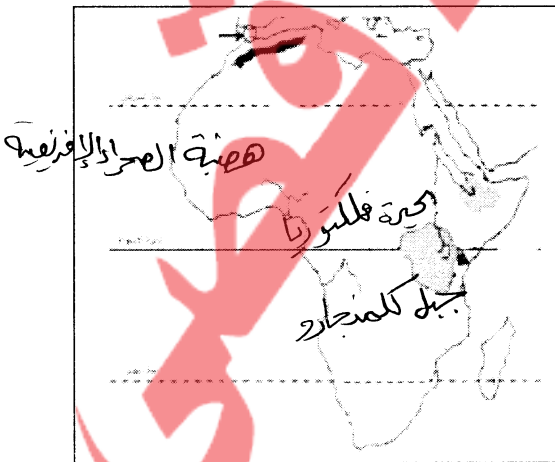
( الجبلي - الهضبي - السهلي )

٢. دائرة العرض الرئيسية التي تمر من وسط قارة إفريقيا

( مدار الجدي - خط الاستواء - مدار السرطان )

نشاط ٢ عزيزي الطالب: تأمل خريطة قارة إفريقيا الطبيعية السابقة، ثم حدد على الخارطة الصماء ما يلي:

١. هضبة الصحراء الإفريقية الكبرى
٢. هضبة أثيوبيا
٣. جبال أطلس
٤. جبل كلمنجارو
٥. بحيرة فكتوريا



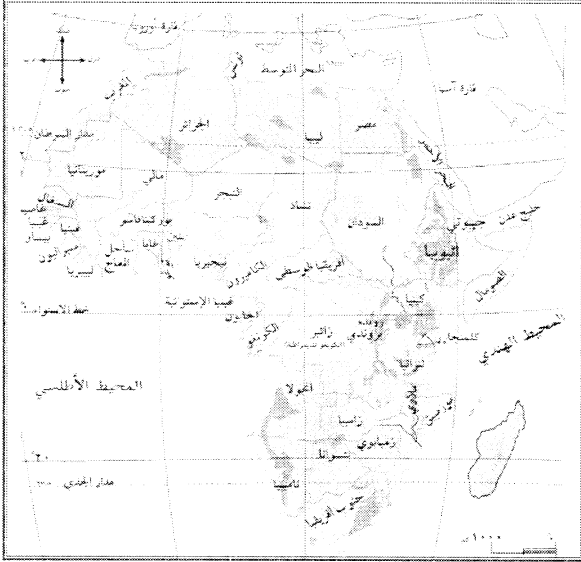
١ بطاقات التعلم الذاتي في الدراسات الاجتماعية للصف السابع الأساسي الفصل أول ٢٠٢٠/٢٠٢١م - غزة

الأهداف

١. يحدد الموقع الفلكي لقارة إفريقيا.
٢. يحدد الموقع الجغرافي لقارة إفريقيا.



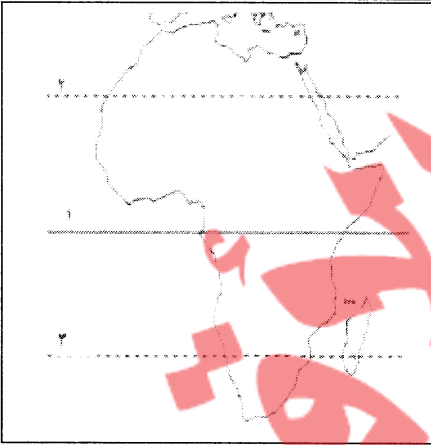
نشاط ١ عزيزي الطالب: تأمل خريطة قارة إفريقيا، ثم أجب عما يأتي:



خريطة قارة إفريقيا

- " تمتد قارة إفريقيا بين دائرتي عرض ٣٧° شمال خط الاستواء و ٣٥° إلى الجنوب منه، وتمتد بين خطي طول ١٧° غرب خط جرينتش و ٥١° شرقاً "
١. احسب عدد دوائر العرض وخطوط الطول التي تمتد عليها قارة إفريقيا: -
  - \* عدد دوائر العرض = ..... دائرة.
  - \* عدد خطوط الطول = ..... خط.
  ٢. اختر: دوائر العرض التي تمر في قارة إفريقيا هي: ( خط الاستواء - مدار السرطان - مدار الجدي ) (جميع ما سبق)
  ٣. أكمل: خط الطول الرئيس الذي يمر في قارة إفريقيا هو خط ..... المسمى .....

نشاط ٢ السؤال الأول: تأمل خريطة قارة إفريقيا الطبيعية السابقة، ثم حدد على الخريطة الصماء ما يلي:



١. خط ..... الاستواء.
٢. مدار ..... السرطان.
٣. مدار ..... الجدي.
٤. البحر المتوسط
٥. مضيق جبل طارق
٦. المحيط الأطلسي
٧. المحيط الهندي
٨. البحر الأحمر
٩. قناة السويس

السؤال الثاني: // ضع خطاً تحت الإجابة الصحيحة مما بين القوسين فيما يلي: -

١. تقع قارة إفريقيا إلى الجنوب الغربي من قارة ( آسيا - أوروبا - أوراسيا )
٢. المضيق الذي يفصل قارة إفريقيا عن أوروبا ( باب المنذب - هرمز - جبل طارق )
٣. يفصل قارة آسيا عن إفريقيا ( البحر المتوسط - البحر الأحمر - قناة السويس - ب + ج )





أدى امتداد خط الاستواء، ومداري السرطان والجدي من قارة إفريقيا إلى تعاكس الفصول الأربعة فيها.

ما النتائج المترتبة على:

- امتداد خط الاستواء ومداري السرطان والجدي من قارة إفريقيا؟

النتيجة / .. بجاكس العصور اللديج؟ خيها

مناخ القارة: في القسم الشمالي، ترتفع الحرارة صيفاً، وتعتدل قرب السواحل، وتسقط الأمطار الموسمية الصيفية على حوض السودان، ووسطه، وعلى هضبة الحبشة، أما شتاء فتتخفف درجات الحرارة في الأجزاء الشمالية، وتسقط الأمطار الشتوية على سواحل البحر المتوسط. أما في الأقسام الجنوبية صيفاً، فترتفع الحرارة؛ بسبب تعامد الشمس على مدار الجدي، وتسقط الأمطار الموسمية الصيفية على السواحل الشرقية والجنوبية للقارة، وتتنخفض الحرارة شتاء بشكل عام.

السؤال الأول: // قارن بين مناخ قارة آسيا في فصل الشتاء وفصل الصيف بحسب الجدول فيما يلي :-

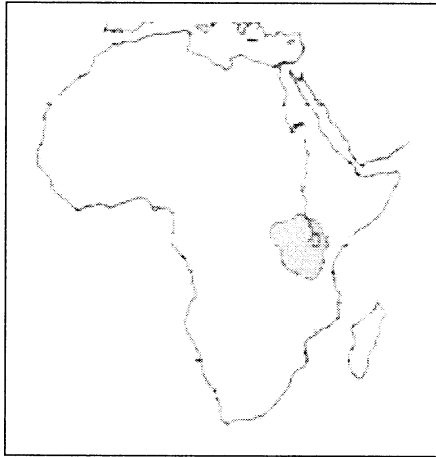
م	وجه المقارنة	صيفاً	شتاءً
١	القسم الشمالي	ترتفع الحرارة صيفاً	انخفاض درجات الحرارة
٢	القسم الجنوبي	تساقط الأمطار الموسمية الصيفية	ارتفاع درجات الحرارة

السؤال الثاني: // بم تفسر: -

- ارتفاع درجة الحرارة صيفاً على الأقسام الجنوبية في قارة إفريقيا؟

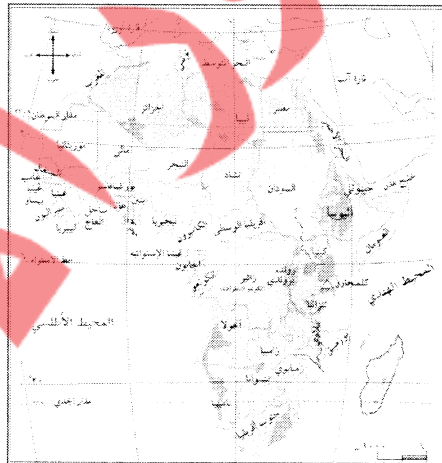
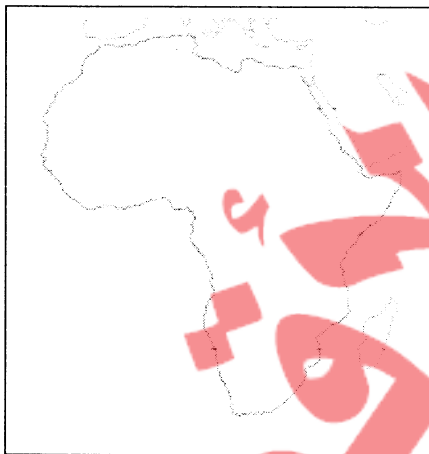
السبب / .. بجاكس العصور اللديج؟ خيها

- السؤال الأول:** // ضع خطاً تحت الإجابة الصحيحة مما بين القوسين فيما يلي: -
١. سهول تمتد على ضفاف الأنهار ( الساحلية - الداخلية - الفيضية )
٢. السهول الساحلية هي التي تمتد على سواحل ( البحار - المحيطات - جميع ما سبق )



- السؤال الثاني:** // ظلل على خريطة قارة أفريقيا بقلمك: -
- أ. السهول الساحلية (بقلم الرصاص)
- ب. السهول الداخلية (بقلم الجاف)

**السؤال الأول:** استعن بخريطة قارة إفريقيا الطبيعية، ثم حدد على خريطة نشاط ٤ قارة إفريقيا الصماء ما يأتي:



خريطة قارة إفريقيا

١. نهر النيل
٢. خط الاستواء
٣. مدار السرطان
٤. مدار الجدي

**السؤال الثاني:** // اختر من المجموعة [ أ ] ما يناسبها من المجموعة [ ب ] فيما يأتي: -

- [ أ ]
١. أعلى جبل في قارة إفريقيا يبلغ ارتفاعه (٥٨٩٥م) ويقع في دولة تنزانيا
٢. أكبر هضاب العالم مساحة هي هضبة
٣. أطول نهر في قارة إفريقيا ويبلغ طوله ٦٨٥٣ كم
٤. الرياح التي تتسبب بسقوط الأمطار صيفاً على السواحل الشرقية لأفريقيا.
- [ ب ]
١. كلمنجارو.
٢. الموسمية.
٣. النيل.
٤. الصحراء الإفريقية.

٢ بطاقات التعلم الذاتي في الدراسات الاجتماعية للصف السابع الأساسي الفصل أول ٢٠٢٠/٢٠٢١م - غزة



قارة إفريقيا هي القارة الثانية من حيث المساحة حيث تبلغ مساحتها ٣٠ مليون كم ٢، ويبلغ عدد سكانها حوالي مليار و ٣٠٥ مليون نسمة حسب احصائية ٢٠١٩ م، ويتوزع سكانها على السواحل وفي المناطق الداخلية وتأخذ شكل المثلث الذي يتسع في الشمال ويضيق في الجنوب، و توجد بها أكبر هضاب العالم مساحة، وهي هضبة الصحراء الأفريقية الكبرى.

- ضع خطأ تحت الإجابة الصحيحة مما بين القوسين فيما يلي:-

١. تبلغ مساحة قارة إفريقيا ..... مليون كم ٢ ( ٣٠ - ٤٤ - ٢٠ )  
 ٢. يتسع شكل القارة في الشمال ويضيق في ( الشرق - الجنوب - الغرب )  
 ٣. أكبر هضاب العالم مساحة هي هضبة ( التبت - الدكن - الصحراء الإفريقية )



خريطة قارة إفريقيا

نشاط ٣ تأمل خريطة قارة إفريقيا واستنتج:

نشاط ٣

١. هل سواحلها مستقيمة، أم متعرجة؟  مستقيمة،  متعرجة؟

٢. بم تفسر:-

- قلة الموانئ الطبيعية في قارة إفريقيا .

السبب / لأن سواحلها مسطحة وقلة الموانئ الطبيعية.

نشاط ٤ عزيزي الطالب تأمل النص، ثم أجب:

وعلى الرغم من وجود كثير من الموارد الطبيعية في قارة إفريقيا، مثل السمك، والنفط، والسكر، والحبوب، إلا أنها لا تزال غير مطورة من الناحية الاقتصادية بسبب الصراعات، والحروب الأهلية، والجفاف، والتصحر، والأمراض، والفقر. وقد عانت القارة خلال فترة الاستعمار الأوروبي الحاد من خسارة الرقبة (الانحلال بالشمس) الذي استنزف موارد القارة البشرية.

السؤال الأول: بم تفسر:-

١. على الرغم من غنى قارة إفريقيا بالثروات الطبيعية، إلا أنها تُعد من قارات العالم غير المتطورة.

السبب / بسبب الصراعات والحروب الأهلية والجفاف والتصحر والأمراض والفقر.

٢. تناقص عدد السكان في قارة إفريقيا في فترة الاستعمار الأوروبي الحديث.

السبب / لأنها عانت من تجارة الرقبة.

السؤال الثاني: اختر الإجابة مما بين القوسين فيما يلي:-

١. الحق المنافي للرق والعبودية ( الحرية - المساواة - الأمان - جميع ما سبق )  
 ٢. من أنماط العبودية في وقتنا الحالي ( عمل الأطفال - الزواج المبكر - العمل العبودي والجبري - جميع ما سبق )

٢ بطاقات التعلم الذاتي في الدراسات الاجتماعية للصف السابع الأساسي الفصل أول ٢٠٢٠/٢٠٢١ م - غزة



الأهداف

1. يستنتج التحديات التي تعاني منها القارة الإفريقية، ويقترح حلولاً لها.
2. يحدد مساحة وعدد سكان قارة إفريقيا.
3. يستنتج أسباب قلة موانئ قارة إفريقيا.
4. يفسر ضعف التطور الاقتصادي لقارة إفريقيا.
5. يبين موقف الإسلام والمواثيق الدولية كالإعلان العالمي لحقوق الإنسان من الرق و العبودية

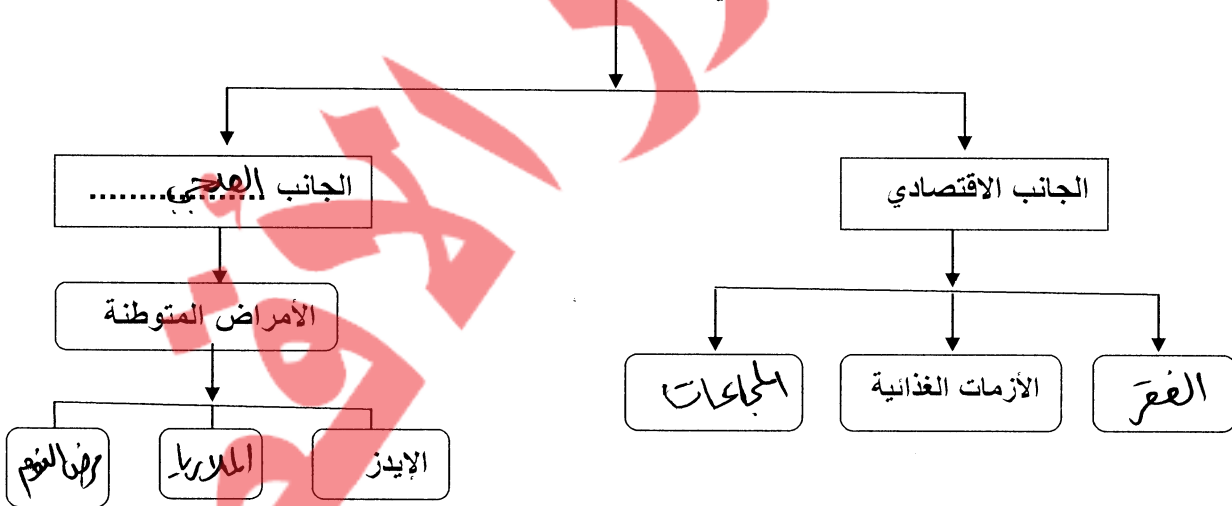
عزيزي الطالب: تأمل النص التالي ثم أجب:

نشاط ١

على الرغم من اتساع مساحة قارة إفريقيا، وامتلاكها لعدد من الثروات الطبيعية، إلا أنها تعاني تحديات مختلفة، أبرزها التصحر الذي يهدد أراضيها الصالحة للزراعة، وكذلك المقتصر، والمجاعات، والأزمات الغذائية، ولا تقتصر معاناة القارة الإفريقية على الجانب الاقتصادي فقط، وإنما تمتد لتشمل جوانب أخرى مهمة، وبخاصة في النواحي الصحية التي تؤثر على عمليات التنمية، ومن أبرز المشكلات الصحية انتشار عدد من الأمراض المتوطنة، مثل الإيدز، والملاريا، ومرض النوم، وهي من عوائق التنمية الخطيرة بإفريقيا، وتعكف الدول الإفريقية أموالاً طائلة للقضاء عليها.

السؤال الأول: // أكمل المخطط بحسب المطلوب:

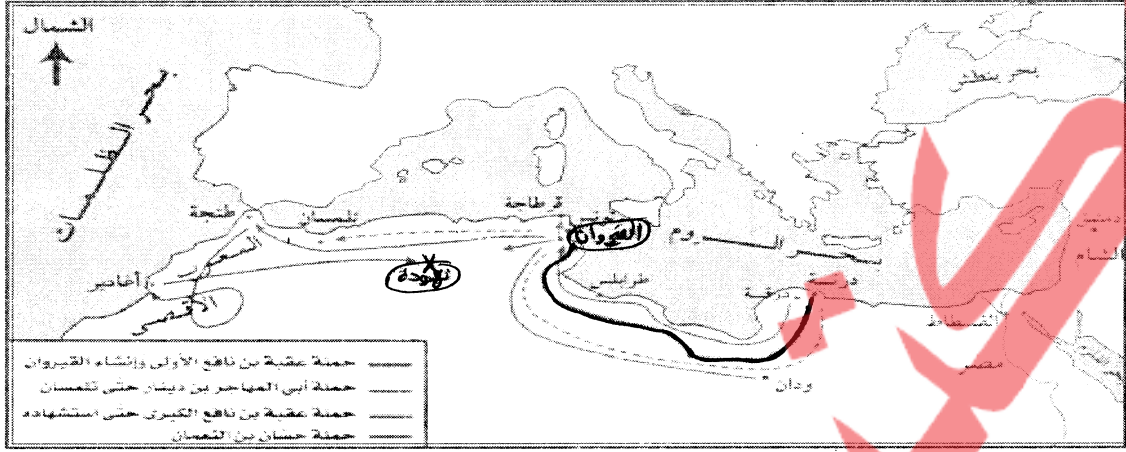
التحديات التي تواجه القارة الأفريقية



السؤال الثاني: // اقترح حلولاً للتحديات التي تعاني منها القارة الإفريقية بحسب الجدول فيما يأتي:

المشكلة	الحلول المقترحة
1 التصحر	إيقاف قطع الأشجار / إيقاف الرعي الجائر / تنظيم حملات الري
2 الأزمات الغذائية	ترسيب الاستثمار للموارد الطبيعية - استغلال الثروة السمكية
3 الأمراض المتوطنة	استخدام الأدوية، والقاحات بحد صحيح - الحفاظ على النظافة

١ بطاقات التعلم الذاتي في الدراسات الاجتماعية للصف السابع الأساسي الفصل أول ٢٠٢٠/٢٠٢١م - غزة

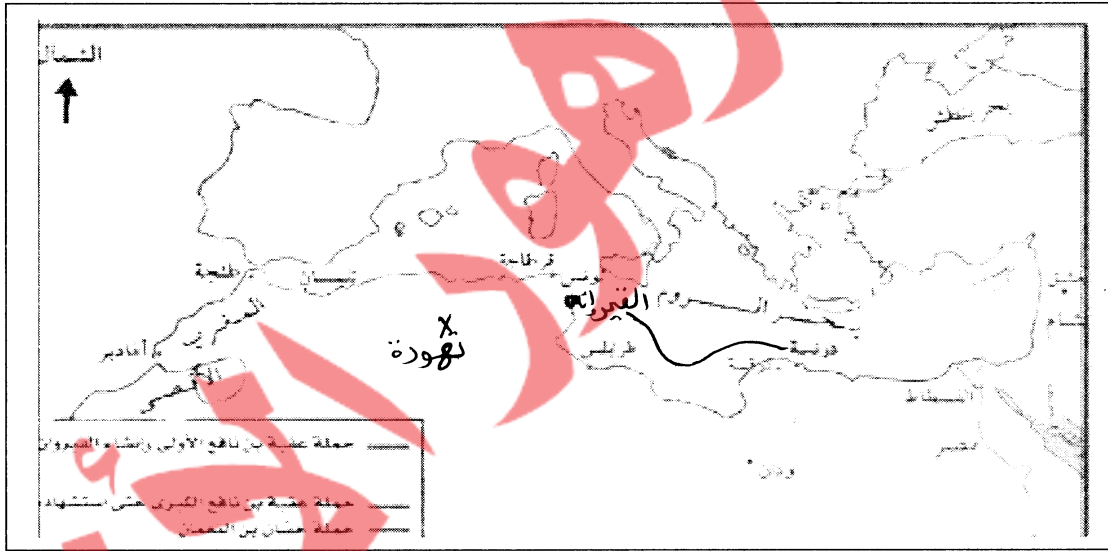


امتداد الدولة الإسلامية في قارة إفريقيا

### السؤال الأول: //

أ. تتبع "بقلمك الرصاص" خط سير فتوحات عقبة بن نافع.

ب. وقع على الخريطة ( مدينة القيروان، مدينة تهودة، المحيط الأطلسي )



### السؤال الثاني: // مَن أكون: -

١. (..... عقبة بن نافع.....) قائد مسلم، عمل على تثبيت الحكم الإسلامي في إفريقيا، وقام ببناء مدينة القيروان.
٢. (جيساب بن زين العفالي) قائد مسلم، تمكن من الانتصار على البربر والاستيلاء على معظم المغرب.



الوحدة الأولى / الدرس الثاني / قارة إفريقيا وامتداد الدولة الإسلامية فيها  
الفتوحات الإسلامية في قارة إفريقيا

بطاقة (٩)

الأهداف

١. يفسر المدة الزمنية الطويلة التي استغرقها المسلمون لفتح المغرب.
٢. يفسر بناء المسلمين لمدينة القيروان.
٣. يتتبع خط سير فتوحات عقبة بن نافع وحسان بن النعمان على خريطة الدولة الإسلامية.
٤. يتبين كيفية كسب ولاية المغرب للمسلمين البربر إلى جانبهم.
٥. يسمي طرق انتشار الإسلام في قارة إفريقيا.

نشاط ١ عزيزي الطالب: تأمل النص التالي، ثم أجب:

استغرق فتح المسلمين للمغرب حوالي ثمانين عامًا تقريبًا، وهي مدة طويلة، مقارنة بالفتوحات الإسلامية في المناطق الأخرى؛ ويرجع ذلك إلى مساحة هذه المنطقة الكبيرة، وصعوبة تضاريسها الجغرافية، وشراسة سكان البربر في القتال، ولكن سياسة المسلمين المتسامحة مع السكان، أدت إلى اعتناقهم الدين الإسلامي، واندماجهم في الحضارة العربية الإسلامية.

السؤال الأول: - ضع إشارة ( ✓ ) أمام العبارة الصحيحة و إشارة ( X ) أمام العبارة غير الصحيحة :-

١. ( ✓ ) استغرق فتح المسلمين للمغرب حوالي ٨٠ عام.

٢. ( X ) تم الاستيلاء على معظم المغرب خلال مدة قصيرة .

٣. ( ✓ ) التسامح الإسلامي أدى لاعتناق أهل المغرب الإسلام .

السؤال الثاني: - بم تفسر :-

- استغرق فتح المسلمين للمغرب فترة طويلة، مقارنة بالمناطق الأخرى.

السبب /

بسبب كبر مساحتها وصعوبة تضاريسها وشمسة سكانها البربر في القتال.

- اندماج البربر في الحضارة العربية الإسلامية.

السبب /

بسبب سياسة المسلمين المتسامحة مع السكان البربر.

نشاط ٢ عزيزي الطالب هل تعلم:

أن أول قائد مسلم خاض فتح شمال قارة إفريقيا هو عقبة بن نافع وقد قام ببناء مدينة القيروان لتكون قاعدة عسكرية للمسلمين هناك.

بم تفسر :-

- بناء عقبة بن نافع لمدينة القيروان.

السبب / لتكون قاعدة عسكرية للمسلمين في قارة إفريقيا.



عمل ولادة المغرب المسلمون على كسب البربر إلى جانبهم عن طريق نشر الإسلام بينهم، وحسبهم للحيش الإسلامي، ويعني قنباة؛ لعلمهم الدين الإسلامي، فأدت هذه السياسة التسامحة إلى إقبالهم على الدخول في الإسلام، وتعم اللغة العربية، والانضمام للحيش الإسلامي، فاندمجوا في الدولة الإسلامية، وصار للمغرب العربي طائفة العربي الإسلامي المعروف به حتى اليوم. وعن طرق التجار والدعاة المسلمين، انتشر الإسلام في مناطق كثيرة من قارة إفريقيا، مثل بحيرنا، والسغال، ومالي، وغيرها.

- كيف كسب ولادة المغرب المسلمون البربر إلى جانبهم؟

١. صمم البربر للحيش الإسلامي.
٢. يقبلون عقباة؛ لعلمهم الدين الإسلامي.
٣. نشر الإسلام بينهم.

ما النتيجة المترتبة على:-

- سياسة التسامح لولادة المغرب المسلمون تجاه السكان البربر؟

النتيجة / أجتاهم السلام البربر للمزيد الإسلامي

- طرق انتشار الإسلام في قارة أفريقيا:-

- أ. دعا البربر للغة العربية.
- ب. رضخهم للحيش الإسلامي.
- ج. سبواهم إلى أسبحة التسامح تجاه البربر.



الوحدة الأولى / الدرس الثالث / قارة أوروبا وامتداد الدولة الإسلامية فيها  
الموقع الفلكي والجغرافي لقارة أوروبا

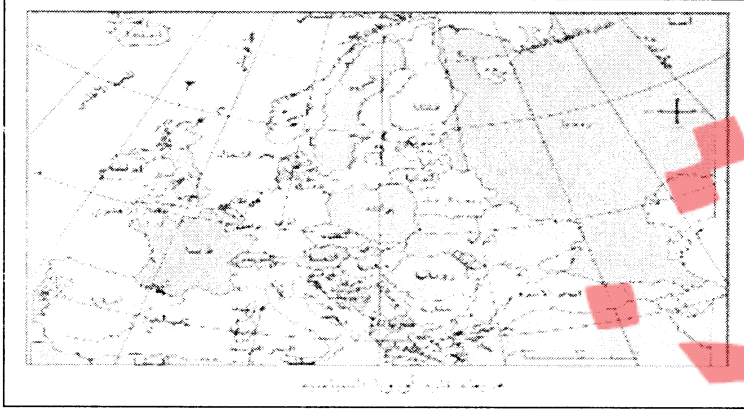
بطاقة (١٠)



الاهداف

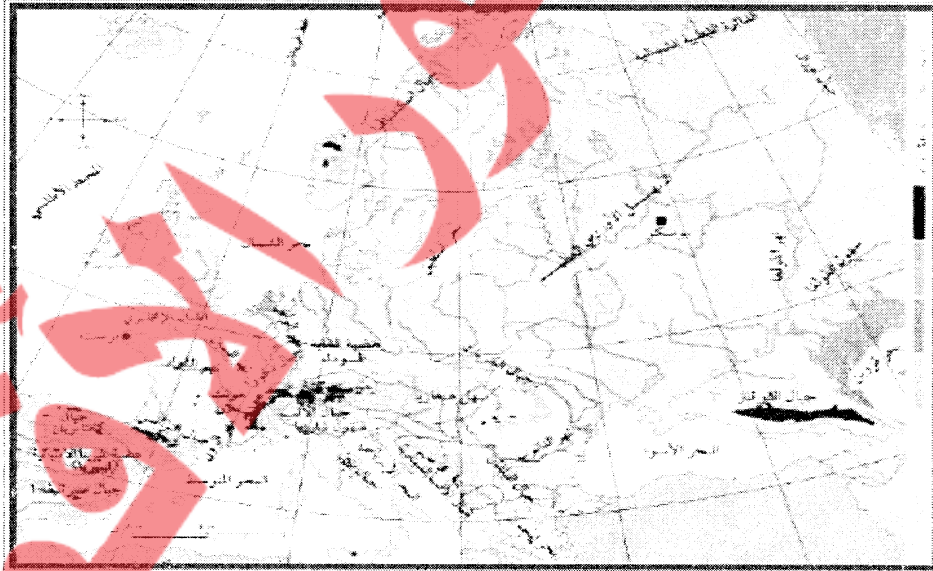
١. يعدد الدول الأوروبية المكونة لقارة أوروبا.
٢. يحدد الموقع الفلكي لقارة أوروبا.
٣. يحدد الموقع الجغرافي لقارة أوروبا.

نشاط ١ عزيزي الطالب: تأمل خريطة قارة أوروبا السياسية التالية، ثم أذكر أسماء بعض الدول الأوروبية



الدولة	الدولة
فرنسا	ألمانيا
البرتغال	إسبانيا
سويسرا	إيطاليا
بلغاريا	الهند
بولندا	أوكرانيا

نشاط ٢ عزيزي الطالب: تأمل خريطة قارة أوروبا الطبيعية التالية، ثم أجب عما يأتي:

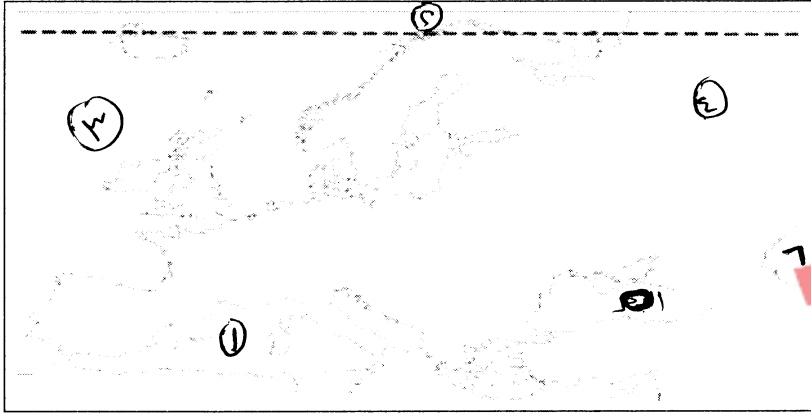


خريطة قارة أوروبا الطبيعية

- " إذا علمت أن قارة أوروبا فلكياً تمتد بين دائرتي عرض  $34^{\circ}$  -  $80^{\circ}$  شمال خط الاستواء، وبين خطي طول  $10^{\circ}$  غرب خط غرينتش -  $60^{\circ}$  إلى الشرق منه ".  
أ. احسب عدد دوائر العرض وخطوط الطول التي تمتد عندها قارة أوروبا.  
ب. عدد دوائر العرض = ..... إلى ..... دائرة.  
ج. عدد خطوط الطول = ..... إلى ..... خط.
- ١ بطاقات التعلم الذاتي في الدراسات الاجتماعية للصف السابع الأساسي الفصل أول ٢٠٢٠/٢٠٢١ م - غزة



نشاط ٣ عزيزي الطالب: تأمل خريطة قارة أوروبا الطبيعية، ثم حدد على خريطة قارة أوروبا الصماء:



١. البحر الأبيض المتوسط
٢. المحيط المتجمد الشمالي
٣. المحيط الأطلسي
٤. سلسلة جبال أورال
٥. البحر الأسود
٦. بحر قزوين

٢ بطاقات التعلم الذاتي في الدراسات الاجتماعية للصف السابع الأساسي الفصل أول ٢٠٢٠/٢٠٢١م - غزة

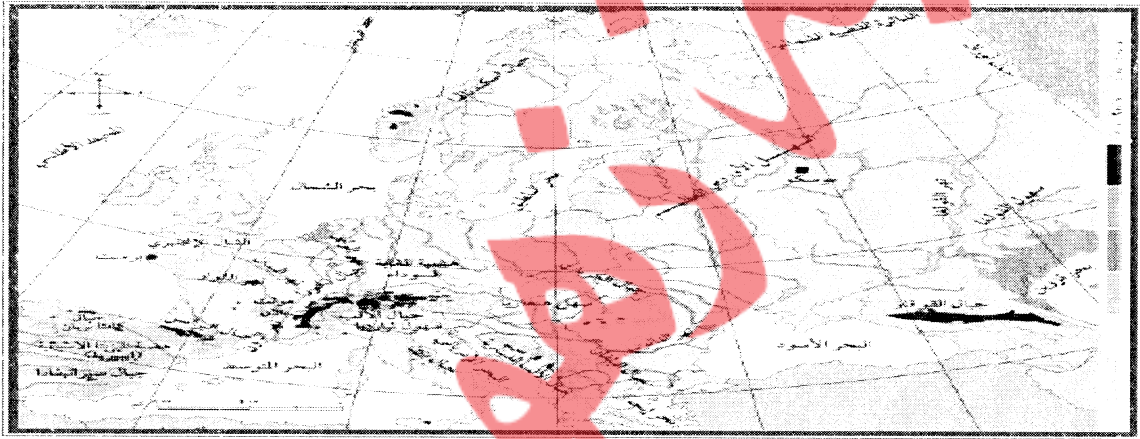
لتحميل المزيد زوروا موقع زهور الأقصى [www.zohoralqsa.com](http://www.zohoralqsa.com)



#### الأهداف

١. يتعرف على مظاهر السطح في قارة أوروبا.
٢. يتبين مميزات السهل الأوروبي العظيم في قارة أوروبا.
٣. يحدد جبال قارة أوروبا على الخريطة.
٤. يسمي أهم هضاب قارة أوروبا.
٥. يوازن بين درجات الحرارة في قارة أوروبا صيفاً وشتاءً.

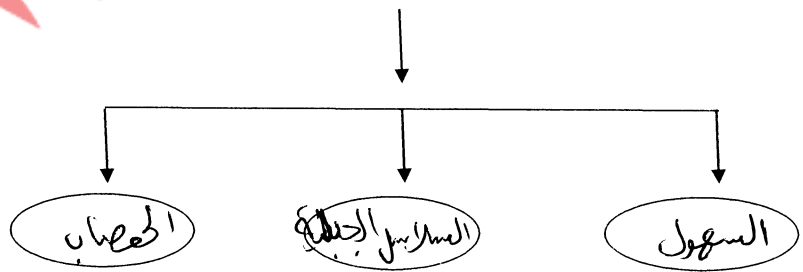
نشاط ١ عزيزي الطالب: تأمل خريطة قارة أوروبا الطبيعية، ثم أجب:



خريطة قارة أوروبا الطبيعية

- أكمل مظاهر السطح السائدة في قارة أوروبا:

مظاهر السطح في قارة أوروبا



نشاط عزيزي الطالب استعن بالخريطة السابقة لتجيب عن الأسئلة التالية:

السؤال الأول: // اكتب ما تدل عليه العبارة الآتية: -  
- (السهول الأوروبية العظمى) تمتد من السواحل الغربية للقارة حتى سلسلة جبال الأورال شرقاً، ويتخلله بعض الأنهار.

١ بطاقات التعلم الذاتي في الدراسات الاجتماعية للصف السابع الأساسي الفصل أول ٢٠٢٠/٢٠٢١م - غزة

- السؤال الثاني: // ضع خطأ تحت الإجابة الصحيحة فيما بين القوسين مما يلي: -
١. المظهر التضاريسي السائد في قارة أوروبا ( السهول - الجبال - الهضاب - الصحاري )
  ٢. من أنهار قارة أوروبا ويبلغ طوله ٢٨٥٠ كم ( المسيسيبي - النيل - الدانوب - الأمازون )

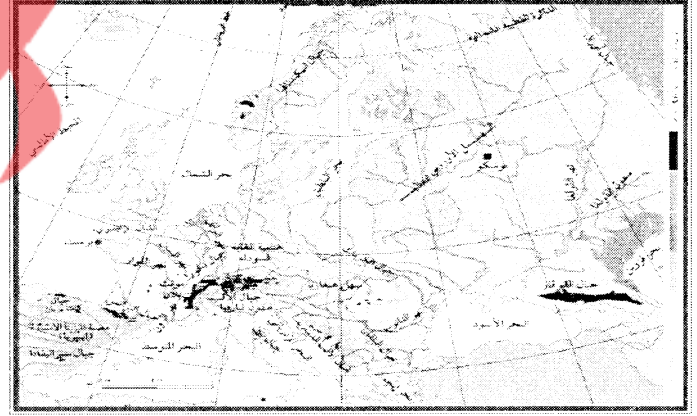
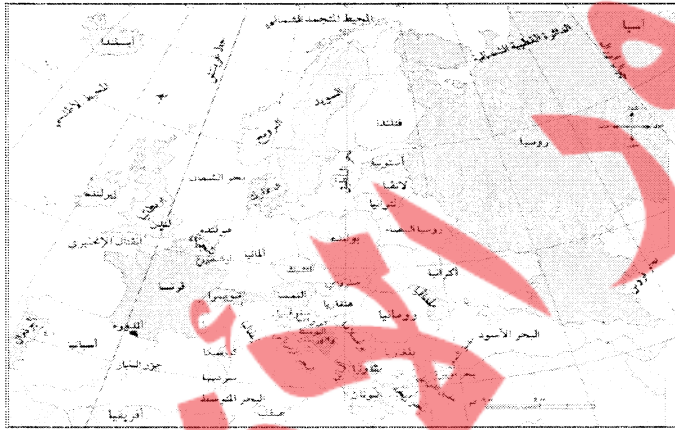
نشاط ٣ عزيزي الطالب تأمل خريطة قارة أوروبا الطبيعية، ثم حدد على الخارطة الصماء ما يلي:



١. سلسلة جبال ألبيرات.....
٢. جبال البيلجاين.....
٣. جبل جويت بلان في فرنسا
٤. جبال البرانس..... بين فرنسا وإسبانيا
٥. نهر الدانوب.....

عزيزي الطالب طابق بين الخريطة الطبيعية لقارة أوروبا و الخريطة السياسية لتتوصل لإجابة السؤال التالي:

نشاط ٤



ضع رقم مظهر السطح من العمود [ أ ] أمام الدولة التي يوجد فيها من العمود [ ب ] فيما يأتي: -

- [ ب ]
- ٣ ( ألمانيا )
  - ١ ( فرنسا )
  - ٣ ( إسبانيا )

- [ أ ]
١. يوجد جبل مونت بلان (القمة البيضاء)
  ٢. هضبة المزيثا
  ٣. هضبة الغابة السوداء

٢ بطاقات التعلم الذاتي في الدراسات الاجتماعية للصف السابع الأساسي الفصل أول ٢٠٢٠/٢٠٢١م - غزة

مناخ القارة، ترتفع درجات الحرارة صيفاً، كلما اتجهنا من الشمال إلى الجنوب، ومن الغرب إلى الشرق، وتنفذ الأمطار على معظم أجزاء القارة، باستثناء المناطق الحولية المعتدلة على الحر المتوسط التي تتميز بحدتها في هذا الفصل، وتتنقص درجات الحرارة شتاءً، كلما اتجهنا من الجنوب إلى الشمال، ومن الغرب إلى الشرق، وتنفذ الأمطار وتلوج على جميع أجزاء القارة، وتزداد كميتها كلما اتجهنا إلى الغرب.

السؤال الأول: // قارن بين مناخ قارة أوروبا في فصل الشتاء وفصل الصيف بحسب الجدول فيما يلي:-

م	وجه المقارنة	صيفاً	شتاءً
١	درجة الحرارة	ترتفع	تتخفض
٢	الأمطار	تسقط على معظم أجزاء القارة الجنوبية	تسقط الأمطار الثلوج على جميع أجزاء القارة

السؤال الثاني: // ضع علامة ( ✓ ) أمام العبارة الصحيحة و إشارة ( x ) أمام العبارة غير الصحيحة :-

١. ( X ) تنخفض درجات الحرارة كلما اتجهنا من الجنوب إلى الشمال، ومن الغرب إلى الشرق في قارة أوروبا شتاءً.
٢. ( ✓ ) تكون الحرارة في شمال قارة أوروبا أعلى من جنوبها في فصل الصيف.
٣. ( ✓ ) تسقط الثلوج على قارة أوروبا شتاءً وتزداد كميتها كلما اتجهنا إلى الغرب.



الأهداف

١. يعدد أهم المشاكل التي تعاني منها القارة الأوروبية.
٢. يبين موقف الدول الأوروبية من تدفق الهجرة غير الشرعية.
٣. يحدد مساحة وعدد سكان قارة أوروبا.
٤. يصف التطور الاقتصادي والصناعي في قارة أوروبا.
٥. يستنتج أسباب تشكل الموانئ الطبيعية في أوروبا.

نشاط ١ عزيزي الطالب: تأمل النص التالي، ثم أجب:

على الرغم من أن كثير من المهاجرين غير الشرعيين ينوون في طريقتهم إلى أوروبا، بحثاً عن حياة كريمة، لكن دول القارة العجوز ليست خالية من المشاكل؛ إذ يواجه بعضها تحديات كبيرة، منها تراجع معدلات نمو المواليد، وارتفاع نسبة كبار السن؛ بسبب تفضيل شعوبها الزواج المتأخر، وإحجاب عدد قليل من الأطفال، منها ألمانيا، وبينما تحاول القارة الأوروبية السيطرة على تدفق اللاجئين والمهاجرين؛ لدواعٍ سياسية، وأمنية، وحضارية، لكنها تحتاج إليهم؛ لزيادة نسبة سكانها؛ لدواعٍ اقتصادية؛ بسبب معاناتها من الشيخوخة.

السؤال الأول- اذكر أهم المشاكل التي تعاني منها القارة الأوروبية.

١. تراجع معدلات نمو المواليد.....
٢. ارتفاع نسبة كبار السن، وإحجاب عدد قليل من الأطفال.....
٣. تدفق اللاجئين، والمهاجرين.....

نشاط ٢ استعن بالنص السابق للإجابة عن الأسئلة التالية :

السؤال الأول: // بين موقف الدول الأوروبية من تدفق الهجرة غير الشرعية.

١. تحاول الدول الأوروبية السيطرة على تدفق اللاجئين.....
٢. تتقبل من الإصفيارات التي تدفق المهاجرين.....
٣. عجز إعطاء الجنسية للمهاجرين.....

السؤال الثالث: // بم تفسر: -

- بالرغم من محاولات القارة الأوروبية السيطرة على تدفق المهاجرين لدواعٍ مختلفة لكنها تحتاج إليهم.

السبب / لزيادة نسبة سكانها، لدواعٍ اقتصادية.

قارة أوروبا تبلغ مساحتها ١٠.٥ مليون كم ٢ ، وأن عدد سكانها يبلغ ٧٤٥ مليون نسمة حسب إحصائية ٢٠١٩ م، وبذلك تعتبر أعلى القارات في معدل الكثافة السكانية وبالرغم من ذلك إلا أنها تعاني من مشكلة التناقص في أعداد السكان، بسبب تأخر سن الزواج وارتفاع نسبة كبار السن فيها.

السؤال الأول: ضع خطأ تحت الإجابة الصحيحة فيما بين القوسين مما يلي:-

( ٣٠ - ٤٤ - ١٠.٥ )  
( ٧٣٠ - ٧٤٥ - ٤٧٠ )

١. تبلغ مساحة قارة أوروبا .. مليون كم ٢  
٢. يبلغ عدد سكان قارة أوروبا .. مليون نسمة

السؤال الثاني: بم تفسر:-

- تعاني قارة أوروبا حالياً من مشكلة التناقص في أعداد السكان.  
السبب / بسبب تراجع معدلات المواليد وارتفاع نسبة كبار السن وتأخر سن الزواج.

نشاط ٤ عزيزي الطالب تأمل النص التالي ثم اجب:

تمتاز قارة أوروبا بتطورها في مختلف المجالات الاقتصادية، فهي القارة التي بدأت فيها الثورة الصناعية، ومنها انتشرت إلى العالم، وتعد ألمانيا وفرنسا وبريطانيا من أشهر دولها وهي القارة التي استعمرت العالم العربي ومنها فلسطين التي وقعت تحت الانتداب البريطاني ( ١٩٢٢ - ١٩٤٨ م ).

السؤال الأول: // ضع خطأ تحت الإجابة الصحيحة فيما بين القوسين مما يلي :-

( فرنسا - ألمانيا - بريطانيا - السنغال )  
( أفريقيا - أوقيانوسيا - أوروبا - أمريكا الجنوبية )  
( الفرنسي - البريطاني - الألماني - الإيطالي )

١. جميع ما يلي من دول قارة أوروبا عدا  
٢. القارة التي استعمرت الوطن العربي  
٣. وقعت فلسطين تحت الانتداب

السؤال الثاني: // بم تفسر:-

- تمتاز قارة أوروبا بتطورها في مختلف المجالات الاقتصادية.  
السبب / بسبب قيام الثورة الصناعية فيها



خريطة قارة أوروبا الطبيعية

نشاطه عزيزي الطالب:

تأمل خريطة قارة أوروبا واستنتج.  
تفسير كثرة الموانئ الطبيعية في القارة .

التفسير: بسبب كثرة الموانئ الطبيعية.

فيها يتدخل اليابس مع الماء.



السؤال الثاني: // مَنْ أكون: -

- (جيسالرجون الجافقي) والى الأندلس، توغل داخل فرنسا، استشهد في معركة بلاط الشهداء.

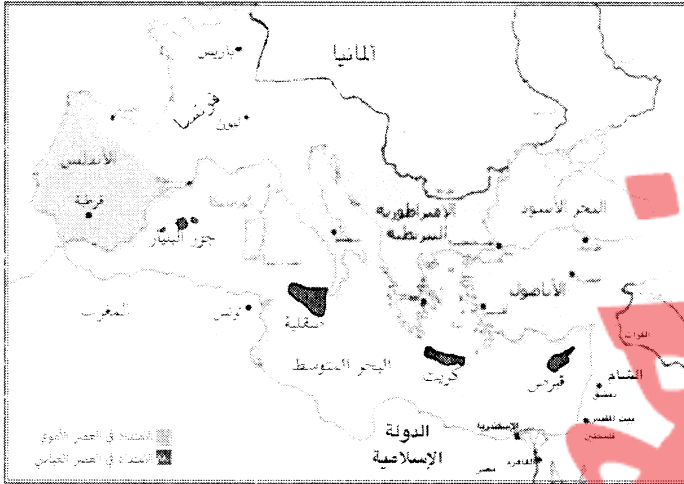
السؤال الثالث: //

أ. ما النتائج المترتبة على: -

- معركة بلاط الشهداء ١١٤هـ/٧٣٢م إلى الأندلس عبد الرحمن الجافقي  
النتيجة / .....  
ب- ماذا يحدث لو: -

- انتصر المسلمون في معركة بلاط الشهداء ١١٤هـ/٧٣٢م  
يحدث / .....  
م. لتتوقف الفتح الإسلامي في قارة أوروبا

نشاط ٣ عزيزي الطالب تأمل خريطة امتداد الدولة الإسلامية في أوروبا ثم أجب:



امتداد الدولة الإسلامية في قارة أوروبا

١ - اختر:

- من جزر البحر المتوسط التي فتحها المسلمون في  
العصر العباسي في قارة أوروبا جزيرة.....  
( كريت - صقلية - البليار - جميع ما سبق )

نشاط ٤ عزيزي الطالب تأمل النص التالي ثم أجب:

وقد انفراد بني أمية في حكم الأندلس وتشكيل مارة إسلامية مستقلة عن الخلافة المركزية في بغداد،  
ونذا فقد اقتضت الفتح في العصر العباسي على بعض جزر البحر المتوسط، ومنها كريت، وصقلية،  
وجزر البليار، وغيرها، هذا وقد تحولت جزيرة صقلية خلال الحكم الإسلامي إلى بلد تسوده الحضارة  
العربية الإسلامية؛ إذ أسلم عدد كبير من سكانها الصقليين، ولا تزال الآثار الإسلامية من مساجد وقصور  
وحصون باقية فيها إلى هذه الأيام.

بم تغسر: اقتصر الفتح العباسية في قارة أوروبا على جزر البحر المتوسط؟

السبب / .....  
سبب قيام بني أمية بتشكيل مارة إسلامية مستقلة عن الخلافة في بغداد

ما النتيجة المترتبة على: -

- فتح المسلمين لجزيرة صقلية ٢١٢هـ/٨٢٨م؟

النتيجة / تحولت جزيرة صقلية إلى بلد تسوده الحضارة العربية الإسلامية

٢ بطاقات التعلم الذاتي في الدراسات الاجتماعية للنصف السابع الأساسي الفصل أول ٢٠٢٠/٢٠٢١م - غزة






الأهداف

١. يبين المظاهر الحضارية والاجتماعية في الأندلس.
٢. يعدد أهم الأعمال التي قام بها الأمير عبد الرحمن الداخل في الأندلس.
٣. يعدد المنشآت العمرانية التي أقامها المسلمون في الأندلس.
٤. يوضح طبقات المجتمع الأندلسي في عهد الدولة الإسلامية.

نشاط ١ عزيزي الطالب: تأمل الصور التالية، ثم أجب:



١. صورة مدينة الزهراء التي بناها عبد الرحمن الناصر قرطبة.
٢. صورة مدينة إشبيلية التي بناها عبد الرحمن الناصر قرطبة.
٣. مدلول الصورتين من ناحية حضارية: - أ. ت. الأندلسيون أقاموا حضارة راقية ومتميزة أسسها لهم الأندلسيون.

نشاط ٢ عزيزي الطالب تأمل النص التالي، ثم أجب عن الأسئلة التالية:

لجأ الأمير عبد الرحمن الداخل، الملقب بصقر قریش إلى الأندلس بعد سيطرة الدولة العباسية على الحكم؛ إذ استطاع أن يسيطر عليها سنة ١٣٨هـ/٧٥٦م، وأقام فيها إمارة (دولة) وراثية، سُميت باسم الدولة الأموية في الأندلس، التي قامت بتطوير نظمها الإدارية، والعسكرية، والاقتصادية، والعمل على تنشيط الحركة العلمية، فأصبحت الأندلس منارة للعلم والعلماء.

السؤال الأول: // ضع خطأ تحت الإجابة الصحيحة فيما بين القوسين مما يلي: -

١. مؤسس الدولة الأموية في الأندلس ويلقب بصقر قریش (عبد الرحمن الداخل) - عبد الرحمن الغافقي - موسى بن نصير - طارق بن زياد
  ٢. نظام الحكم الذي أقامه الأمويون في الأندلس (ملكي) - ديمقراطي - وراثي - جمهوري
- السؤال الثاني: // ضع علامة (✓) أمام العبارة الصحيحة و إشارة (x) أمام العبارة غير الصحيحة فيما يلي: -

١. (✓) انفصلت الأندلس بقيادة عبد الرحمن الداخل عن الدولة العباسية.
٢. (x) قامت الدولة الأموية في الأندلس بتطوير الأنظمة الإدارية والعسكرية والاقتصادية.
٣. (✓) أقام الأمويون في بلاد الأندلس حضارة راقية ومتميزة أثارها باقية إلى يومنا هذا.

عزيزي الطالب تأمل النص التالي، ثم أجب:

أقدم المسلسلون في الأندلس كثيرا من المنشآت العمرانية التي لا يزال كثير من آثارها موجودة إلى اليوم، كمسجد قرطبة، ومدينة الجوهراء، وقصر الحمراء، وغيرها.

- من المنشآت العمرانية التي لا يزال كثير من آثارها موجودة إلى اليوم في الأندلس: -

١. مسجد قرطبة
٢. مدينة الجوهراء
٣. قصر الحمراء

نشاط ٤ عزيزي الطالب تأمل النص التالي ثم أجب:

وأما المجتمع الأندلسي، فأصبح مكون من خليط من العناصر السكانية التي تميزه عن غيره من المجتمعات الأخرى، فبناك المسلسلون من العرب والبربر، كما نشأت طبقة اجتماعية جديدة هي طبقة المولدس الذي ولدوا في الأندلس من آباء مسيحيين، ومهات إسبانيات، ثم الإسبان الذي ظلوا على ديانتهم المسيحية، ولكنهم تعلموا اللغة العربية، وعبر منهم أدباء وشعراء وعلماء، وأخيرا الأوروبيون الذين كانوا يأتون للأندلس لأسباب مختلفة، وأخذ عليهم لغة الصقالبة، فعاش كل هؤلاء في ظل مجتمع واحد، وقيام واحد بسورده السامح، فكثير حصاره راحه مسورة عن غيرها من حصارات المناطق الأخرى.

السؤال الأول: -

اكتب ما تدل عليه العبارات التالية مستعينا بالمفاهيم التالية :

( الصقالبة - المولدين - الإسبان - الموالي )

١. (المهات المولدين....) طبقة اجتماعية نشأت في الأندلس، حيث ولدوا من آباء مسلمين ومهات إسبانيات.
٢. (الإسبان.....) هم الذين ظلوا على ديانتهم المسيحية ولكنهم تعلموا اللغة العربية وكان منهم الأدباء والشعراء والعلماء.
٣. (الأوروبيون.....) الأوروبيون الذين كانوا يأتون للأندلس لأسباب مختلفة.

السؤال الثاني: -

- " يتكون المجتمع الأندلسي من خليط من العناصر السكانية، تميزه عن غيره من المجتمعات الأخرى "

- صنف التركيب السكاني في المجتمع الأندلسي.

١. المهات المولدين... من العرب والبربر
٢. طبقة المولدين
٣. طبقة الإسبان
٤. طبقة الأوروبيون

السؤال الثالث: / ارجم تفسر: -

- كانت الأندلس منارة للعلم والعلماء؟

السبب / بسبب قيام الدولة الصقلية التي قاعدت بتطوير نظم الدولة الادارية والعسكرية والاقتصادية

والفعل على نسط الحرية العلمية

٢ بطاقات التعلم الذاتي في الدراسات الاجتماعية للصف السابع الأساسي الفصل أول ٢٠٢٠/٢٠٢١م - غزة